

آزمون فصل سوم (اشکال هندسی) ریاضی پایه دوم دبستان

تاریخ:

آموزگار:

دبستان:

نام و نام خانوادگی:



جاهای خالی را کامل کنید.

مربع ضلع و گوشه دارد.


مثلث گوشه و ضلع دارد.

دایره ضلع و گوشه دارد.

مستطیل گوشه و ضلع دارد.







هر ساعت چه زمانی را نشان می دهد.




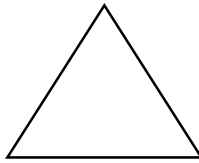
الگوی زیر را تا شکل پنجم ادامه بده.



روی هر ساعت عدد بنویس و با توجه به زمان عقربه بکش.



نام شکل های زیر را بنویس.



دو شکل رو به رو چه تفاوت و چه شباهتی به هم دارند؟



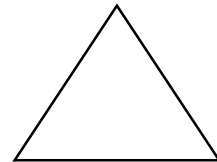

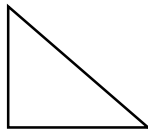
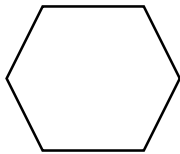
شباهت:

.....

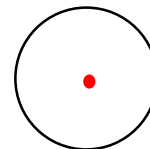
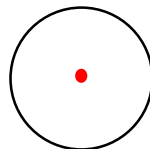
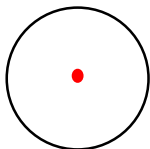
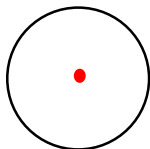

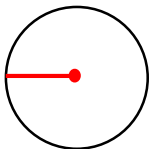
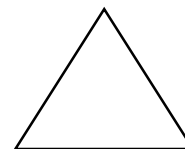
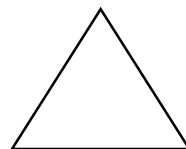
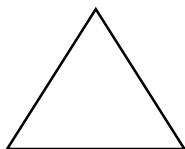
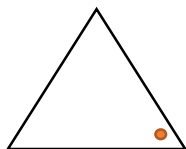
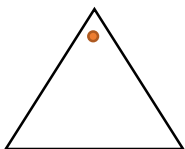
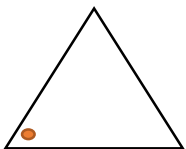
تفاوت:

.....

هر کدام از شکل های زیر را به دو قسمت مساوی تقسیم کن.



الگوهای زیر را ماند نمونه ادامه بده.



باز خورد آموزگار:

