

نوبت دوم

۳۱

به نام خدا

ارزشیابی مستمر

ریاضی سوم دبستان

آبان ۱۹

صفحات: ۱ تا ۵۸

۱ با توجه به شکل، به سوالات زیر پاسخ دهید. (۲ نمره)



الف) این عدد چند رقمی است؟

ب) این عدد را به حروف بنویسید.

ج) ارزش مکانی کدام رقم از همه بیش تر است؟

د) ارزش مکانی صفر چیست؟

۲ یک کشاورز دیروز از زمین خود ۷۶۴ کیلو سیب زمینی و امروز ۲۱۸ کیلو سیب زمینی برداشت.

او دیروز و امروز چند کیلو سیب زمینی برداشت کرده است؟ دیروز چند کیلو سیب زمینی بیش تر از امروز


برداشته است؟ (۱ نمره)

۳ در جاهای خالی، عددهای مناسب بنویسید. (۵/۱ نمره)

$$\begin{array}{r} \bigcirc \bigcirc ۶ \\ - ۳ ۲ \bigcirc \\ \hline ۳ ۵ ۸ \end{array}$$

$$\begin{array}{r} ۲ ۵ ۷ \\ + ۶ ۴ \bigcirc \\ \hline \bigcirc \bigcirc ۰ \end{array}$$

۴ کامل کنید. (۵/۱ نمره)



نام:

نام:

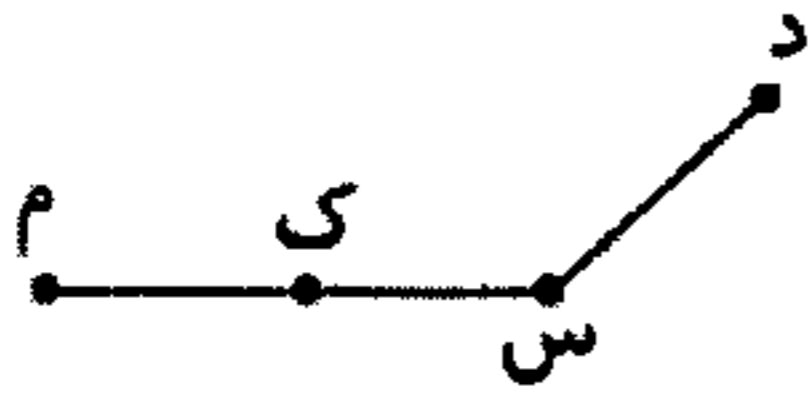
نام:

تعداد قطر:

تعداد قطر:

تعداد قطر:


۵ در شکل زیر، ۴ پاره خط نام ببرید. (۱ نمره)



۶ در شکل زیر، خط خمیده‌ی باز را سبز، خط‌های خمیده‌ی بسته را قرمز، خط شکسته‌ی باز را قهوه‌ای و خط‌های راست را آبی کنید. (۵/۱ نمره)



۷ با عددهای ۵، ۷، ۱۰ بزرگ‌ترین و کوچک‌ترین عدد چهار رقمی را بنویسید و اختلاف آن‌ها را به دست آورید، سپس پاسخ خود را امتحان کنید. (۲ نمره)



۸ در جاهای خالی، علامت $<=>$ بگذارید. (۱ نمره)

۳ کیلومتر و ۷۰۲ متر ۳۰۷۲ متر

۱۰۰-۲۱۰۰ ۱۰۰۱+۹۹۹

۳ چهار تا ۶ دو تا

عددهای دو رقمی عددهای چهار رقمی

۹ در جاهای خالی، عددهای مناسب بنویسید. (۲ نمره)




۵۳۰۷ متر برابر است با کیلومتر و متر.

۸ کیلومتر و ۴ متر برابر است با متر.

۲ تا ۵۰۰ متر برابر است با کیلومتر.

۱۰ برای تساوی $۴ \times ۵ = \square$ شکل بکشید و حاصل ضرب را بنویسید. (۱ نمره)

۱۱ تساوی ضربی را که محور نشان می‌دهد، بنویسید. (نمره ۰/۷۵)



..... × =

تساوی ضرب را روی محور نشان دهید. (نمره ۰/۷۵)



$3 \times 4 = \dots\dots\dots$

۱۲ برای عبارت زیر، شکل بکشید و برای شکل زیر، عبارت مناسب بنویسید. (نمره ۱/۵)

۳ هفت تا می‌شود ۲۱ تا.




۱۳ صبا می‌خواست پسته‌های خود را در سه ردیف پنج‌تایی قرار دهد:

ولی در ردیف سوم، ۲ پسته کم آورد. صبا چند پسته دارد؟ (نمره ۱)

۱۴ فاصله‌ی خانه‌ی سینا تا مدرسه ۴ کیلومتر است. اگر سینا ۲۶۰۰ متر را طی کرده باشد، چند کیلومتر و

چند متر دیگر، باید طی کند؟ (نمره ۱/۵)



نیاز به تلاش بیشتر	متوسط	خوب	عالی
۱	۲	۳	۴