

جمهوری اسلامی ایران
وزارت آموزش و پرورش
اداره کل آموزش و پرورش خراسان رضوی

دفترچه سؤالات

آزمون سنجش تلاش تحصیلی

پایه هفتم (دوره اول متوسطه)

سال تحصیلی ۹۶-۱۳۹۵



تعداد سؤال: ۷۵ شروع آزمون: ساعت ۱۳ (بعد از ظهر) مدت پاسخ گویی: ۹۰ دقیقه

نام و نام خانوادگی دانش آموز: شماره دانش آموز:

مواد امتحانی	تعداد سؤال	از شماره	تا شماره
قرآن	۵	۱	۵
پیام‌های آسمانی	۷	۶	۱۲
عربی	۸	۱۳	۲۰
ریاضی	۱۵	۲۱	۳۵
ادبیات فارسی	۱۵	۳۶	۵۰
علوم تجربی	۱۵	۵۱	۶۵
مطالعات اجتماعی	۱۰	۶۶	۷۵

*توجه: به پاسخ‌های نادرست نمره منفی تعلق نمی‌گیرد.

استفاده از ماشین حساب مجاز نیست.

تاریخ برگزاری: ۱۳۹۵/۹/۱۶

مرحله اول - نوبت عصر

قرآن

- ۱- معنای کلمات «لَعَلَّ - نَهَار» به ترتیب در کدام گزینه آمده است؟
 (۱) به‌سوی - شب (۲) امید است - روز (۳) روز - به‌سوی (۴) روز - امید است
- ۲- کدام یک از ترکیب‌ها و عبارات قرآنی زیر درست ترجمه نشده است؟
 (۱) الرَّحْمَنِ الرَّحِيمِ: بخشنده مهربان (۲) يَا أَيُّهَا النَّاسُ: ای مردم
 (۳) إِلَهُكُمْ: خدای آن‌ها (۴) فَأَعْبُدْهُ: پس عبادت کن او را
- ۳- بر اساس عبارات قرآنی «إِنَّا أَنْزَلْنَاهُ قُرْآنًا عَرَبِيًّا لَعَلَّكُمْ تَعْقِلُونَ» دلیل نازل شدن قرآن به زبان عربی چیست؟
 (۱) تفکر (۲) ایمان (۳) اطاعت (۴) رستگاری
- ۴- ترجمه صحیح کلمه «السَّمَاوَاتِ» در آیه «وَلِلَّهِ غَيْبُ السَّمَاوَاتِ وَالْأَرْضِ» کدام است؟
 (۱) زمین (۲) آسمان‌ها (۳) آسمان (۴) جهان
- ۵- با توجه به نکته معنایی بکار رفته در ترکیب «قَالَ يَا قَوْمِ= قَالَ يَا قَوْمِي» ترجمه کدام یک از گزینه‌ها درست است؟
 (۱) بگو ای گروه من (۲) گفت ای خویشان (۳) بگو ای قوم (۴) گفت ای قوم من

پیام‌های آسمان

- ۶- کدام آیه نشان‌دهنده نتیجه شکرگزاری است؟
 (۱) هُوَ أَرْحَمُ الرَّاحِمِينَ (۲) لَئِنْ شَكَرْتُمْ لَأَزِيدَنَّكُمْ
 (۳) ادْعُونِي أَسْتَجِبْ لَكُمْ (۴) وَهُوَ مَعَكُمْ أَيْنَمَا كُنْتُمْ
- ۷- در کدام یک از نمونه‌های زیر شکر نعمت به درستی به‌جا نیامده است؟
 (۱) سعید به دوستش در یادگیری درس کمک می‌کند. (۲) علی در مسابقات ورزشی شرکت می‌کند.
 (۳) مریم به پدر و مادرش احترام می‌گذارد. (۴) سارا خود را با بازی‌های مخرب رایانه‌ای سرگرم می‌کند.
- ۸- با توجه به آیه «بَلْ إِنْ تَصْبِرُوا وَتَتَّقُوا وَيَأْتُوكُمْ مِنْ فُورِهِمْ هَذَا يُمدِّدْكُمْ رَبُّكُمْ بِخَمْسَةِ آلَافٍ مِنَ الْمَلَائِكَةِ مُسَوِّمِينَ» شرط یاری خداوند چیست؟
 (۱) پیروی از پیامبران (۲) صبر و تقوی (۳) دوری از گناه (۴) عبادت
- ۹- کدام جمله صحیح است؟
 (۱) خداوند همه دعاها را در این دنیا مستجاب می‌کند. (۲) انسان قادر به رفع همه نیازهای زندگی خود است.
 (۳) جهاد یکی از ساده‌ترین راه‌ها برای جلب یاری خدا است. (۴) ترک محرمات و انجام واجبات همان یاری دین خداست.
- ۱۰- پیام آیه «الَّذِينَ تَتَوَفَّيهِمُ الْمَلَائِكَةُ طَيِّبِينَ يَقُولُونَ سَلَامٌ عَلَيْكُمْ ادْخُلُوا الْجَنَّةَ بِمَا كُنْتُمْ تَعْمَلُونَ» چیست؟
 (۱) فرشتگان جان ستمکاران را می‌گیرند. (۲) کافران به فکر توشه آخرت خود نیستند.
 (۳) مرگ برای پرهیزگاران به معنی آغاز سختی‌هاست. (۴) مؤمنان پاداش کارهای نیک خود را دریافت می‌کنند.
- ۱۱- اگر بخواهید بر اساس رفتار امام سجاد (ع) خود را برای سفر آخرت آماده کنید کدام یک از کارهای زیر را انتخاب می‌کنید؟
 (۱) صدقه دادن (۲) خوش‌اخلاقی
 (۳) نیکی به پدر و مادر (۴) محکم کردن روابط خویشاوندی
- ۱۲- کدام گزینه آیه مقابل را کامل می‌کند؟ «وَمَا أَرْسَلْنَاكَ إِلَّا...»
 (۱) أُسْوَةً حَسَنَةً (۲) خُلُقٍ عَظِيمٍ
 (۳) رَحْمَةً لِّلْعَالَمِينَ (۴) أَنْفُسِكُمْ

عربی

۱۳- کدام گزینه با سایر گزینه‌ها از نظر معنا ناهم‌هنگ است؟

- (۱) هذِهِ (۲) ذلِكَ
(۳) تِلْكَ (۴) طَلَبَ

۱۴- برای جای خالی کدام گزینه مناسب است؟ هذَانِ..... نَظِيفَانِ

- (۱) البِنْتَانِ (۲) الصَّفَانِ
(۳) المرأتَانِ (۴) الأمانِ

۱۵- گزینه مناسب برای جای خالی را انتخاب کنید: «.....موتُ الأحياء»

- (۱) الطَّلَبُ (۲) العِلْمُ
(۳) الجُهْلُ (۴) الإحْسَانُ

۱۶- صحیح‌ترین ترجمه برای کلمه‌ای که زیر آن خط کشیده شده است، کدام است؟ «كَمْ فَصَلًا فِي السَّنَةِ؟»

- (۱) چرا (۲) چند
(۳) چه (۴) چیست

۱۷- ترجمه‌ی کدام گزینه درست نیست؟

- (۱) رُبَّ: چه بسا (۲) رأي: نظر (۳) كُل: همه (۴) كُرسی: روزگار

۱۸- گزینه مناسب برای تصویر داده شده، کدام است؟

- (۱) المرأَةُ خَلَفَ الشجرة (۲) السیارةُ جَنَبَ الشجرة
(۳) البنْتُ فی السیارة (۴) الحقیبةُ عَلی الأَرْضِ



۱۹- کدام توضیح برای کلمه‌ی داده شده صحیح است؟

- (۱) اللغَةُ الرسمىةُ فی ایران: العربیةُ
(۲) زمانٌ طویلٌ: لحظةٌ
(۳) أشجارٌ کثیرةٌ هُناک: البستانُ (۴) أيامٌ الأسبوع: سبتةٌ

۲۰- متضاد کلمه‌ی «وَرَاءَ» کدام مورد است؟

- (۱) أَمَامَ (۲) فَوْقَ
(۳) تَحْتَ (۴) عَلی

ریاضی

۲۱- منبع آبی به شکل استوانه داریم که در حال حاضر نصف آن آب دارد. با ریختن آب $\frac{1}{4}$ باقیمانده منبع را پر می‌کنیم. مشخص کنید چه کسری از منبع آب دارد؟

- (۱) $\frac{1}{4}$ (۲) $\frac{3}{4}$ (۳) $\frac{1}{2}$ (۴) $\frac{1}{6}$

۲۲- اگر $0 \times \Delta = 32$ باشد همه پاسخ‌های ممکن برای 0 و Δ چند حالت است؟ (جابجایی جزء حالت‌ها نیست و 0 و Δ عدد‌های طبیعی هستند)

- (۱) یک حالت (۲) دو حالت (۳) سه حالت (۴) چهار حالت

۲۳- چند عدد طبیعی با ویژگی‌های زیر وجود دارد؟

- (الف) بزرگ‌تر از ۱۵ باشد (ب) کوچک‌تر از ۳۵ باشد (ج) فرد باشد (د) بر ۳ بخش پذیر باشد
(۱) ۲۰ (۲) ۳ (۳) ۹ (۴) ۵

۲۴- مجموع دو عدد متوالی ۲۳ است آن دو عدد برابرند یا...

- (۱) ۸ و ۱۵ (۲) ۱۲ و ۱۳ (۳) ۱۱ و ۱۲ (۴) ۱۳ و ۱۰

۲۵- حاصل عبارت $\frac{5}{7} \times \frac{7}{9} \times \frac{9}{11} \times \dots \times \frac{99}{101}$ برابر است با:

- (۱) ۱ (۲) $\frac{5}{7}$ (۳) $\frac{5}{101}$ (۴) $\frac{99}{101}$

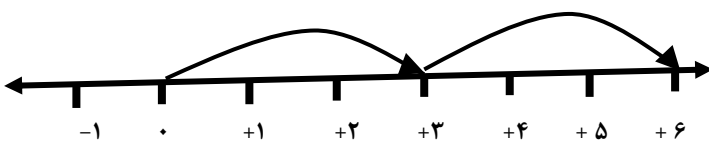
۲۶- یک میوه فروش ۲۰۰ کیلو سیب را به قیمت کیلویی ۱۵۰۰ تومان خرید و ۵۰۰۰۰ تومان بابت کرایه پرداخت کرد. اگر همه ۲۰۰ کیلو سیب را به قیمت ۴۵۰۰۰۰ تومان بفروشد، در هر کیلو چند تومان سود کرده است؟

- (۱) ۲۰۰ (۲) ۵۰۰ (۳) ۱۵۰۰ (۴) ۱۰۰

۲۷- در کدام گزینه عبارت داده شده نادرست است؟

- (۱) قرینه قرینه هر عدد با خود آن عدد برابر است
 (۲) عدد ۱- بزرگترین عدد صحیح منفی است
 (۳) اگر دو عدد صحیح منفی را در هم ضرب کنیم، حاصل عددی منفی است
 (۴) حاصل جمع هر عدد با قرینه اش مساوی صفر است

۲۸- کدام گزینه ضرب متناظر با محور مقابل است؟



- (۱) $3 \times (-2)$ (۲) $2 \times (+3)$ (۳) $(-2) \times (-2)$ (۴) $1 \times (+3)$

۲۹- مقایسه اعداد در کدام گزینه درست انجام شده است؟

- (۱) $0 < 1 < -10 < -3$ (۲) $-10 < -3 < 0 < 1$ (۳) $0 < 1 < -3 < -10$ (۴) $0 < 1 < -10 < -3$

۳۰- حاصل عبارت $-7 + [(-2) \times (-5)]$ برابر است با...

- (۱) ۳ (۲) ۱ (۳) -۶ (۴) ۶

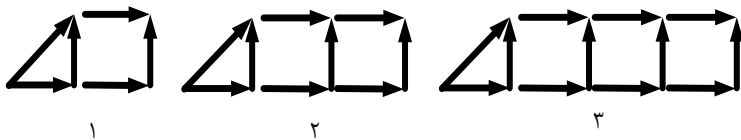
۳۱- دمای هوای اردبیل ۵ درجه از دمای هوای تبریز سردتر است. اگر دمای هوای تبریز ۲ درجه بالای صفر باشد، دمای هوای اردبیل چند درجه است؟

- (۱) -۵ (۲) -۲ (۳) +۲ (۴) -۳

۳۲- در عبارت مقابل کدام یک از عددهای زیر در جای خالی قرار بگیرد تا تساوی درست شود؟ $7 + \square = -10$

- (۱) ۳ (۲) -۳ (۳) -۱۷ (۴) ۱۷

۳۳- با توجه به شکل های مقابل شکل دهم از چند فلش ساخته شده است؟



- (۱) ۲۷ (۲) ۳۳ (۳) ۳۰ (۴) ۳۶

۳۴- کدام یک از عبارت های جبری زیر ساده تر می شود؟

- (۱) $2a + 3b$ (۲) $x + 2y$ (۳) $t - 2t$ (۴) $1 + t$

۳۵- اگر $x = 3$ مقدار عددی عبارت $5x - 10$ کدام گزینه ی زیر است؟

- (۱) ۱۵ (۲) -۱۰ (۳) -۵ (۴) ۵

ادبیات فارسی

- ۳۶- معنای واژه‌های (فراز - به‌رغم - مویه) به ترتیب در کدام گزینه آمده است؟
 (۱) بلندی - وارونه - نام ابزار
 (۲) بالا - غم‌انگیز - موی مجعد
 (۳) بالا - برخلاف - ناله
 (۴) پایین - عدد - گریه
- ۳۷- معنای واژه‌های «اساس - غوغا - تقصیر - تبسم» به ترتیب در کدام گزینه آمده است؟
 (۱) باروبنه - آشوب - اذیت کردن - لبخند زدن
 (۲) بنیاد - غمگین بودن - مقصر بودن - شاد بودن
 (۳) بنیاد - همه‌مه - تحمل کردن - شاد بودن
 (۴) بنیاد - آشوب - کوتاهی - لبخند زدن
- ۳۸- واژگان کدام گزینه از نظر املائی درست نوشته شده‌اند؟ (تشدید جزو غلط املائی به‌شمار نمی‌رود)
 (۱) همه شب دیده بر هم نیسته و مصحف عزیز برکنار گرفته و طایفه‌ای گرد ما خفته.
 (۲) آب، این روح مذاب امید و زندگی، ضلال و نیرومند و شتابان می‌رفت.
 (۳) کژال به دنبال او زمین را خویش می‌کشید. هه‌ژار آن سمت قروه بود.
 (۴) دوره‌ای که بزرگ‌ترها معمولاً با حصرت و آه از آن یاد می‌کنند.
- ۳۹- در کدام گزینه غلط املائی وجود ندارد؟ (تشدید جزو غلط املائی به‌شمار نمی‌رود)
 (۱) ای هست کن اثاث هستی / کوله ز درت درازدستی
 (۲) شبنم از روی برگ گل برخاست / گفت می‌خواهم آفتاب شوم
 (۳) عظمت و جلال و جازبه خالق را با همه وجودم لمس می‌کردم.
 (۴) این‌ها چرا سلاح و پاکدامنی و صداقت جوانان را نمی‌بینند.
- ۴۰- هم‌خانواده «منظور» در کدام گزینه نادرست است؟
 (۱) نظارت (۲) ناظر (۳) نظرات (۴) منظوم
- ۴۱- مؤلفان کتاب‌های (به هوای گل سرخ - کوچه‌باغ آسمان - کویر - در کوچه آفتاب) به ترتیب در کدام گزینه آمده است؟
 (۱) قیصر امین پور - طاهره ایبید - دکتر علی شریعتی - محمدجواد محبت
 (۲) طاهره ایبید - محمدجواد محبت - دکتر علی شریعتی - قیصر امین پور
 (۳) دکتر علی شریعتی - قیصر امین پور - طاهره ایبید - محمدجواد محبت
 (۴) طاهره ایبید - قیصر امین پور - دکتر علی شریعتی - محمدجواد محبت
- ۴۲- نقش واژه‌های مشخص شده در مصراع «زنگ تفریح را که زنجره زد» به ترتیب در کدام گزینه است؟
 (۱) مفعول - نهاد - فعل
 (۲) مفعول - فعل - نهاد
 (۳) فعل - نهاد - مفعول
 (۴) نهاد - مفعول - فعل
- ۴۳- کدام گزینه از نظر پیام و مفهوم جمله با دیگر گزینه‌ها تفاوت دارد؟
 (۱) از ظلمت خود رهایی‌ام ده / با نور خود آشنایی‌ام ده
 (۲) هریک از بچه‌ها به سویی رفت / و معلم دوباره تنها شد
 (۳) با بهاری که می‌رسد از راه / سبزه شو تازه شو بهاری شو
 (۴) مثل یک شاخه گل جوانه بزن / مثل یک چشمه‌سار جاری شو
- ۴۴- آرایه «مراعات نظیر» در کدام گزینه دیده می‌شود؟
 (۱) توی گلدسته‌های یک گنبد / روز و شب زائر حرم باشیم
 (۲) هم تو به عنایت الهی / آن‌جا قدمم رسان که خواهی
 (۳) با خودش زیر لب چنین می‌گفت / آرزوهایتان چه رنگین است
 (۴) بچه‌ها در کلاس جنگل سبز / جمع بودند دور هم خوشحال
- ۴۵- در همه بیت‌های آرایه «تشخیص» به کار رفته است به‌جز بیت...
 (۱) با نسیمی که زندگی در اوست / باز چشم جوانه‌ای وا شد
 (۲) زندگی بر تو می‌زند لبخند / هست وقت شکفتنت امروز
 (۳) بهتر از هرچه هست در دنیا / با خدا راز گفتنت امروز
 (۴) بر درختی شکوفه‌ای خندید / در کتابی بهار معنا شد

- ۴۶- با توجه به متن درس «زیبایی شکفتن» کدام گزینه جمله زیر را کامل می کند؟
اگر نیروی جوانی را با همراه سازیم به شکوفایی خواهیم رسید.
- (۱) تمیزی و پاکیزگی (۲) آراستگی و پاکدلی (۳) چالاکي و باهوشي (۴) تفکر و تأمل
- ۴۷- مفهوم کنایی کدام گزینه به درستی بیان نشده است؟
(۱) جان پدر، تو نیز اگر بختی به از آن که در پوستین خلق افتی (غیبت کردن)
(۲) کژال نیمه راه بود که خشکش زد (تشنه و ناتوان شد)
(۳) تا معلم ز گرد راه رسید (به محض این که وارد شد)
(۴) سری به طبیعت روستا زدم (از طبیعت روستا دیدن کردم)
- ۴۸- کدام گزینه از عبارت زیر، دریافت نمی شود؟
«کودکان پر نشاط گل بوته ها و نوجوانان امیدوار ذرت ها در گوش نسیم آمین می گفتند»
(۱) بوته های گل به کودک تشبیه شده اند
(۲) همه موجودات خداوند را ستایش می کنند
(۳) نویسنده به پدیده های خلقت جان بخشیده است
(۴) عبارت بالا به بیان بازی های کودکان می پردازد
- ۴۹- کدام گزینه، درست معنا شده است؟
(۱) کژال مویه کنان راه رفته را برگشت: کژال ناراحت و خشمگین راه پیموده شده را برگشت
(۲) نیروی جوانی و شادابی را با بصیرت همراه کنیم: نیروی جوانی را با صبر و تحمل همراه کنیم
(۳) چشمه های معرفت از درون من سر باز خواهند کرد: به آگاهی و شناخت خواهیم رسید
(۴) جانی ده که کار آن جهان سازیم: عمری به ما ببخش که توشه آخرتمان شود
- ۵۰- کدام گزینه کامل کننده مصراع داده شده زیر است؟
گفت: پیغمبر هر آن کو سر نهفت / ...
(۱) در دنیا و آخرت سعادت مند خواهد شد.
(۲) می تواند در ثواب کارهای خوب دیگران شریک شود.
(۳) به آرزو و مراد خود خواهد رسید.
(۴) باعث شادی و نشاط او خواهد شد.

علوم تجربی

- ۵۱- چگالی کدام یک بیشتر است یک کلید آهنی و یک شاخه تیر آهنی؟ چرا؟
(۱) یک کلید آهنی - زیرا حجم کمتری دارد.
(۲) یک شاخه تیر آهن - زیرا حجم بیشتری دارد.
(۳) هر دو مساویند - زیرا از یک جنس است.
(۴) یک شاخه تیر آهن - زیرا جرم بیشتری دارد.
- ۵۲- مهم ترین تفاوت گرافیت و گوگرد در چیست؟
(۱) رسانایی جریان برق (۲) شکننده بودن (۳) براق بودن (۴) جامد بودن
- ۵۳- بهترین راه مطالعه درستی یا نادرستی پیش بینی کدام است؟
(۱) سؤال کردن و تلاش برای یافتن پاسخ آن
(۲) فرضیه سازی
(۳) طراحی و انجام آزمایش
(۴) بکار بستن مهارت ها
- ۵۴- انجام کدام فعالیت زیر ثابت می کند که داخل یک گلوله خمیری حتماً یک ساچمه فولادی قرار دارد؟
(۱) بستن یک مدار الکتریکی
(۲) فرو کردن چوب خلال دندان در گلوله
(۳) نزدیک کردن آهن ربا به گلوله
(۴) اندازه گیری جرم گلوله با ترازو
- ۵۵- دانش آموزان یک گروه برای اندازه گیری تعداد ضربان قلب به کمک زمان سنج سه بار این کار را تکرار می کنند و میانگین آن را به دست می آورند. به نظر شما هدف این دانش آموزان از سه بار تکرار و محاسبه میانگین چیست؟
(۱) نوشتن نتیجه اندازه گیری
(۲) بالا بردن دقت اندازه گیری
(۳) همکاری گروهی
(۴) بالا بردن زمان انجام آزمایش

۵۶- کدام یک از جملات زیر درست نیست؟

- (۱) هر ماده از تعداد معینی اتم تشکیل شده است. (۲) مواد از ذرات بسیار ریزی ساخته شده اند.
(۳) با مشاهده مستقیم می توان خواص اتم ها را کشف کرد. (۴) برخی مواد از اتم های یکسانی تشکیل شده اند.

۵۷- از بین گزینه های داده شده کدام ماده دارای ویژگی زیر است؟ «جامد مولکولی غیرقابل حل در آب»

- (۱) براده آهن (۲) اتانول (الکل) (۳) گوگرد (۴) نمک


۵۸- کدام کمیت فیزیکی زیر با یکای اندازه گیری داده شده تناسب دارد؟

- (۱) وزن - کیلوگرم (۲) چگالی - کیلوگرم بر سانتی متر
(۳) استحکام - نیوتون (۴) حجم - سانتی مترمربع

۵۹- مولکول های کدام ماده از تعداد اتم بیشتری تشکیل شده است؟

- (۱) کلر (۲) گاز کربن دی اکسید (۳) آب (۴) گوگرد

۶۰- ساختار اتمی کدام عنصر زیر درست بیان نشده است؟



- (۱) الف (۲) ب (۳) ج (۴) د

۶۱- جسمی را می کشیم و رها می کنیم، مشاهده می کنیم ماده به حالت اولیه خود بازمی گردد. این مسئله کدام خاصیت ماده را نشان می دهد؟

- (۱) استحکام (۲) انعطاف پذیری (۳) شکنندگی (۴) چکش خواری

۶۲- اینکه در منازل، ظروف شیشه ای سس و ترشی را می توان شست و حبوبات را داخل آن نگهداشت به کدام روش محافظت از منابع طبیعی اشاره دارد؟

- (۱) کاهش مصرف (۲) بازیافت (۳) مصرف دوباره (۴) استفاده از اندوخته طبیعی

۶۳- ترتیب استخراج فلز آهن در کدام گزینه درست آمده است؟

- (۱) استخراج - خالص سازی - حرارت دادن در کوره به همراه کربن - قالب زدن
(۲) استخراج - حرارت دادن در کوره - خالص سازی - قالب زدن به همراه کربن
(۳) استخراج - حرارت دادن در کوره - قالب زدن به همراه کربن - خالص سازی
(۴) خالص سازی - قالب زدن - حرارت دادن به همراه کربن - استخراج

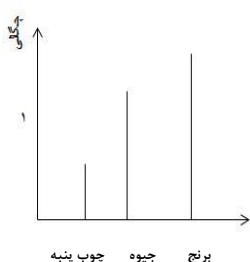
۶۴- مخلوط آهک و خاک رس چه ماده ای را به وجود می آورد؟

- (۱) بتن (۲) سفال (۳) سیمان (۴) شیشه

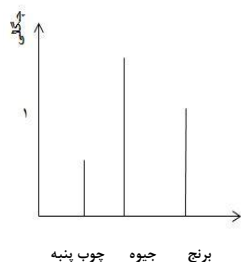
۶۵- اگر چگالی آب ۱ گرم بر سانتی متر مکعب فرض شود با توجه به شکل کدام نمودار چگالی مواد داخل بشر را به درستی نشان می دهد؟



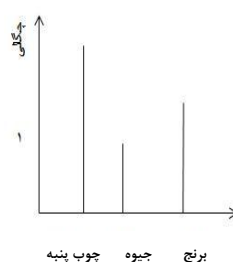
چوب پنبه
آب
برنج
جیوه



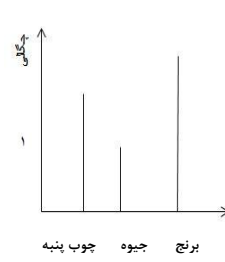
(۴)



(۳)



(۲)



(۱)

مطالعات اجتماعی

- ۶۶- «ایستادن در صف نانوائی» جزء کدام دسته از مقررات است؟
 (۱) قانون اساسی (۲) اجتماعی (۳) اخلاقی (۴) مذهبی
- ۶۷- «بزار و تجهیزات کار» جزء کدام یک از عوامل تولید هستند؟
 (۱) منابع طبیعی (۲) نیروی انسانی (۳) خدمات (۴) سرمایه
- ۶۸- وظیفه جمعیت هلال احمر چیست؟
 (۱) کمک مردم در زمان وقوع حوادث طبیعی و جنگ (۲) تهیه وسایل نقلیه و ارتباطی
 (۳) برخورد با فعالیت‌های غیر قانونی (۴) رفع نیازهای مردم
- ۶۹- کدام گزینه نشان‌دهنده مسئولیت فرد در جامعه است؟
 (۱) توجه به درس معلم (۲) داشتن شناسنامه (۳) رعایت بهداشت (۴) تلاش برای پیشرفت کشور
- ۷۰- با توجه به انواع مختلف بیمه (اجباری- اختیاری)، کدام بیمه با سایر بیمه‌ها تفاوت دارد؟
 (۱) بیمه دانش‌آموزی (۲) بیمه سرنشین خودرو (۳) بیمه آتش‌سوزی (۴) بیمه حوادث ناشی از کار
- ۷۱- به فردی که وظایف و تکالیف خود را خوب انجام دهد، چه می‌گویند؟
 (۱) فداکار (۲) مسئولیت‌پذیر (۳) منظم (۴) معتقد
- ۷۲- توزیع کالا در لغت به چه معنایی است؟
 (۱) مصرف کالا (۲) فروش کالا (۳) پخش کردن کالا (۴) تبلیغ کالا
- ۷۳- معنای کلمه استاندارد چیست؟
 (۱) نمونه قابل قبول (۲) پرهیز از اسراف
 (۳) نوشتن قانون و مقررات (۴) آزمایش وسایل و کالا
- ۷۴- فقهای شورای نگهبان توسط چه کسی انتخاب می‌شوند؟
 (۱) مجلس خبرگان (۲) شورای اسلامی (۳) رئیس قوه قضاییه (۴) رهبری
- ۷۵- کدام جمله در مورد حقوق انسان‌ها، درست نیست؟
 (۱) ما در استفاده از حقوق خود، آزادی مطلق نداریم.
 (۲) ما در استفاده از حقوق خود، قوانین الهی را نادیده می‌گیریم.
 (۳) ما تا آنجا می‌توانیم حق خود را اعمال کنیم که مغایر قانون نباشد.
 (۴) ما نمی‌توانیم با اعمال حق خود، سبب خسارت دیگران شویم.