




گزینہ دو

مؤسسہ آموزشی فرهنگی

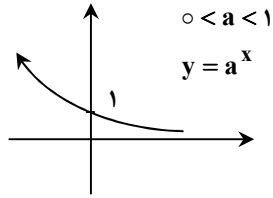
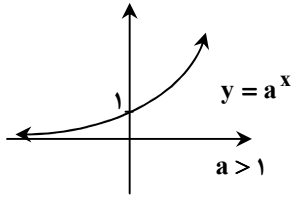
www.konkur.in

ریاضی

(فصل ۶)

توابع نمایی: 

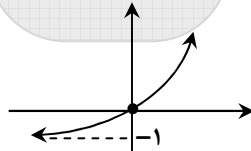
هر تابع به صورت $y = a^x$ که a عددی حقیقی و $a \neq 1$ و $a > 0$ و x متغیر است. یک تابع نمایی نامیده می‌شود. دامنه توابع نمایی تمام اعداد حقیقی و برد آن \mathbb{R}^+ است.



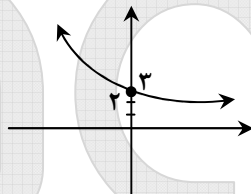
در این حالت اکیداً صعودی است. در این حالت اکیداً نزولی است.

مثال: نمودار توابع زیر را رسم کنید.

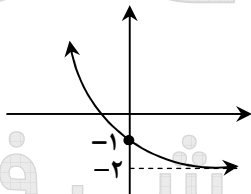
$$y = 2^x - 1$$



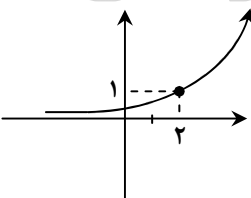
$$y = \left(\frac{1}{3}\right)^x + 2$$



$$y = 3^{-x} - 2$$

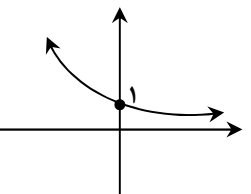


$$y = 3^{x-2}$$



$$y = \frac{\left(\frac{1}{6}\right)^x}{5^{-x}}$$

$$y = \frac{6^{-x}}{5^{-x}} = \left(\frac{6}{5}\right)^{-x} = \left(\frac{5}{6}\right)^x$$



خواص تابع نمایی:

۱) $a^x \cdot a^y = a^{x+y}$

۲) $\frac{a^x}{a^y} = a^{x-y}$

۳) $(a^x)^y = a^{xy}$

مثال: اگر سرعت تکثیر سلول‌ها براساس یک تابع نمایی قابل مدل‌سازی باشد، و بعد از ۲ ساعت تعداد سلول‌ها ۱۲ و بعد از ۴ ساعت ۴۸ باشد، تعداد سلول‌ها ۷ ساعت پس از شروع تکثیر چقدر است؟
 حل:

اگر سرعت رشد سلول‌ها را با تابع $y = ka^t$ مدل‌سازی کنیم، داریم:

$$\left. \begin{aligned} y(2) &= ka^2 = 12 \\ y(4) &= ka^4 = 48 \end{aligned} \right\} \Rightarrow a^2 = 4 \xrightarrow{a>0} a = 2 \rightarrow k = 3$$

$$\rightarrow y(t) = 3 \times 2^t \rightarrow y(7) = 3 \times 2^7 = 384$$

دقت کنید که علت استفاده از ضریب k آن است که سلول‌ها با یک مقدار اولیه شروع به افزایش می‌کنند. این مقدار اولیه را در لحظه $t = 0$ ، k در نظر گرفتیم.

مثال: معادلات یا نامعادلات زیر را حل کنید.

الف) $\left(\frac{1}{5\sqrt{5}}\right)^x = 125^{2x-1}$

$$5^{-\frac{3}{2}x} = 5^{6x-3} \Rightarrow 6x-3 = -\frac{3}{2}x \Rightarrow 6x + \frac{3}{2}x = 3 \Rightarrow \frac{15}{2}x = 3 \Rightarrow x = \frac{6}{15} = \frac{2}{5}$$

ب) $9^x = 2 \times 3^{x+2} - 45$

$$3^{2x} - 2 \times 9 \times 3^x + 45 = 0 \Rightarrow (3^x)^2 - 18(3^x) + 45 = 0 \Rightarrow (3^x - 15)(3^x - 3) = 0 \begin{cases} 3^x = 15 \rightarrow x = \log_3 15 \\ 3^x = 3 \rightarrow x = 1 \end{cases}$$

ج) $(3 - \sqrt{8})^{x^2} \geq (3 + \sqrt{8})^x$

$$(3 - \sqrt{8})^x \times \frac{(3 + \sqrt{8})}{3 + \sqrt{8}} = \frac{1}{3 + \sqrt{8}}$$

$$\left(\frac{1}{3 + \sqrt{8}}\right)^{x^2} \geq (3 + \sqrt{8})^x \Rightarrow (3 + \sqrt{8})^{-x^2} \geq (3 + \sqrt{8})^x$$

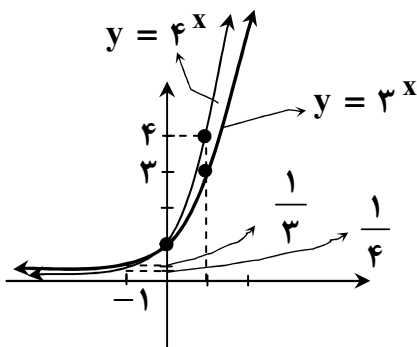
چون $3 + \sqrt{8} > 1$ است، پس این تابع صعودی است، لذا لازم است:

$$-x^2 \geq x \Rightarrow x^2 + x \leq 0 \Rightarrow -1 \leq x \leq 0$$

مثال: دامنه‌ی تابع $f(x) = \sqrt{3^x - 4^x}$ کدام است؟

حل:

باید $3^x - 4^x \geq 0$ باشد، پس باید $3^x \geq 4^x$ باشد. چون $4 > 3$ است، پس تابع 4^x برای $x \geq 0$ سریع‌تر از تابع 3^x بزرگ می‌شود و برای $x < 0$ سریعتر از تابع 3^x کوچک می‌شود.



پس برای $x \leq 0$ ، $3^x \geq 4^x$ است، لذا دامنه‌ی تابع $D = (-\infty, 0]$ است.

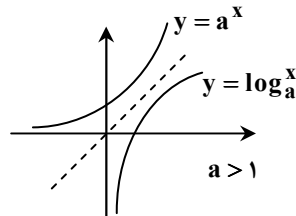
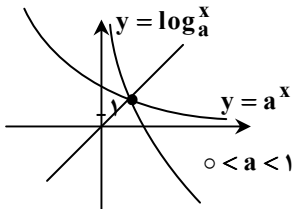
توابع لگاریتمی:

چون تابع نمایی $y = a^x$ ($a > 0, a \neq 1$) تابعی یک به یک است، لذا معکوس پذیر است. معکوس تابع نمایی، تابع لگاریتمی نامیده می شود.

$$y = a^x \Rightarrow x = \log_a^y \Rightarrow f^{-1}(x) = \log_a^x$$

دامنه تابع لگاریتمی: $D_f = \{x > 0 \mid a > 0, a \neq 1\}$

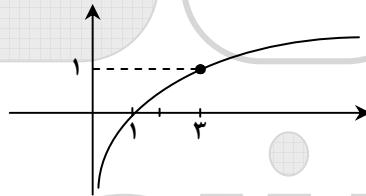
برد توابع لگاریتمی \mathbb{R} است.



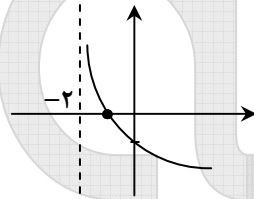
اگر پایه لگاریتم را ذکر نکردند، آن را ۱۰ در نظر می گیریم.

مثال: نمودار توابع زیر را رسم کنید.

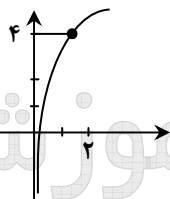
الف) $y = \log_{\frac{1}{2}}^x$



ب) $y = \log_{\frac{1}{2}}^{\frac{x+2}{2}}$



ج) $y = \log_{\frac{1}{2}}^x + 2$



مثال: دامنه توابع زیر را بیابید.

الف) $f(x) = \sqrt{\log \frac{5x - x^2}{4}}$

$$\log \frac{5x - x^2}{4} \geq 0 \Rightarrow \frac{5x - x^2}{4} \geq 1 \Rightarrow x^2 - 5x + 4 \leq 0 \Rightarrow (x-1)(x-4) \leq 0 \Rightarrow 1 \leq x \leq 4$$

دقت کنید که شرط $\frac{5x - x^2}{4} \geq 1$ ، شرط $\frac{5x - x^2}{4} > 0$ را هم تأمین می کند.

ب) $f(x) = \log_{1+x}^{9-x^2} \rightarrow \left. \begin{array}{l} 9 - x^2 > 0 \Rightarrow -3 < x < 3 \\ 1 + x > 0, 1 + x \neq 1 \Rightarrow x > -1, x \neq 0 \end{array} \right\} \Rightarrow D = (-1, 2) - \{0\}$

$$f(x) = \sqrt{\log \log \log^{x-2}}$$

$$\begin{aligned} \text{ج) } \log \log \log^{x-2} \geq 0 &\rightarrow \log \log^{(x-2)} \geq 1 \cdot 0 = 1 \Rightarrow \log^{(x-2)} \geq 1 \cdot 1 = 1 \\ &\Rightarrow x-2 \geq 1 \cdot 1 \Rightarrow x \geq 1 \cdot 1 + 2 \Rightarrow D = [1 \cdot 1 + 2, \infty) \end{aligned}$$

خواص لگاریتم:

$$۱) \log_a^x = \log_a^y \Rightarrow x = y$$

$$۲) \log_a^1 = 0 \quad \text{و} \quad \log_a^a = 1$$

$$۳) \log_a^x + \log_a^y = \log_a^{xy}$$

$$۴) \log_a^x - \log_a^y = \log_a^{\frac{x}{y}}$$

$$۵) \log_a^{x^m} = \frac{m}{n} \log_a^x$$

$$۶) \log_y^x = \frac{\log_a^x}{\log_a^y}$$

$$\text{در حالت کلی: } \log_b^a \times \log_c^b \times \log_d^c = \log_d^a$$

این قضیه به تعداد نامحدودی لگاریتم قابل تعمیم است.

$$\text{نتیجه: } \log_y^x = \frac{1}{\log_x^y}$$

$$۶) x \log_a^y = y \log_a^x$$

اگر لگاریتم دو عدد باهم برابر باشند، خود دو عدد نیز برابرند. تساوی فوق با لگاریتم گرفتن از دو طرف اثبات می‌شود.

$$۷) a^{\log_a^x} = x$$

$$۸) \log_a^x > y : \begin{cases} x > a^y & a > 1 \\ x < a^y & 0 < a < 1 \end{cases} \quad (x > 0, y \in \mathbb{R})$$

مثال: اگر $\log_{12}^2 = a$ آن گاه $\log_{\sqrt{3}}^{16}$ کدام است؟

کحل:

$$\log_{12}^2 = a \rightarrow \log_{12}^{12} = \frac{1}{a} = \log_{12}^{2 \times 6} = \log_{12}^2 + \log_{12}^6 = 1 + \log_{12}^6 = \frac{1}{a} \Rightarrow \log_{12}^6 = \frac{1}{a} - 1$$

$$\log_{\sqrt{3}}^{16} = \log_{\sqrt{3}}^{4^2} = \frac{2}{\frac{1}{2}} \log_{\sqrt{3}}^4 = 4 \log_{\sqrt{3}}^4 = 4 \left(\frac{1}{a} - 1 \right) = \frac{4(1-a)}{a}$$

مثال: اگر $\log^2 = 0.301$ باشد، \log^{25} چقدر است؟

کحل:

$$\log^{25} = 2 \log^5 = 2 \log^{\frac{10}{2}} = 2(\log^{10} - \log^2) = 2(1 - \log^2) = 2(1 - 0.301) = 1.398$$

مثال: لگاریتم عددی در پایه ۹ از لگاریتم عکس مجذور آن در پایه ۹ به اندازه‌ی $\frac{4}{5}$ واحد بیش‌تر است. آن عدد کدام است؟

کحل:

$$\log_9^x = \log_9^{x^{\frac{1}{2}}} + \frac{4}{5} \Rightarrow \log_9^x - \log_9^{x^{\frac{1}{2}}} = \frac{4}{5}$$

$$\Rightarrow \log_9^{x^{\frac{x}{2}}} = \frac{4}{5} \Rightarrow \log_{3^2}^{x^{\frac{x}{2}}} = \frac{4}{5} \Rightarrow \frac{x}{2} \log_3^x = \frac{4}{5} \Rightarrow \log_3^x = \frac{4}{5} \Rightarrow x = 3^{\frac{4}{5}} = 27$$

مثال: اگر $\log_b^a = \frac{2}{3}$ آن گاه $\log_{\sqrt{b}}^{ab^2}$ کدام است؟

حـل:

$$\log_{\sqrt{b}}^{ab^2} = \log_{\sqrt{b}}^a + \log_{\sqrt{b}}^{b^2} = \log_{b^{\frac{1}{2}}}^a + \log_{b^{\frac{1}{2}}}^{b^2} = \frac{1}{\frac{1}{2}} \log_b^a + \frac{2}{\frac{1}{2}} \log_b^b = 2 \log_b^a + 4 \log_b^b = 2 \log_b^a + 4 = 2 \times \frac{2}{3} + 4 = \frac{4}{3} + 4 = \frac{16}{3}$$

مثال: حاصل عبارات زیر را به دست آورید.

الف) $\Delta (2 \log_{\Delta}^{\Delta} + 3 \log_{\Delta}^{\Delta})$

$$\Delta \log_{\Delta}^{\Delta} + \log_{\Delta}^{\Delta 27} = \Delta \log_{\Delta}^{\Delta \times 27} = \Delta \times 27 = 108$$

ب) $[\log_{\frac{1}{2}}^{\frac{1}{2}}] + [\log_{\frac{1}{2}}^{\frac{1}{2}}]$

$$\left. \begin{array}{l} \log_{\frac{1}{2}}^{\frac{1}{2}} = 0 \\ \log_{\frac{1}{2}}^{\frac{1}{2}} = 1 \end{array} \right\} \Rightarrow 0 < \log_{\frac{1}{2}}^{\frac{1}{2}} < 1 \Rightarrow [\log_{\frac{1}{2}}^{\frac{1}{2}}] = 0$$

$$\log_{\frac{1}{2}}^{\frac{1}{2}} = 2 \Rightarrow \log_{\frac{1}{2}}^{\frac{1}{4}} = 3 \Rightarrow 2 < \log_{\frac{1}{2}}^{\frac{1}{2}} < 3 \Rightarrow [\log_{\frac{1}{2}}^{\frac{1}{2}}] = 2 \Rightarrow [\log_{\frac{1}{2}}^{\frac{1}{2}}] + [\log_{\frac{1}{2}}^{\frac{1}{2}}] = 2$$

ج) $(\frac{1}{2})^{-2 + \log_{\sqrt{5}}^{\frac{1}{5}}}$

$$\begin{aligned} (\frac{1}{2})^{-2 + \log_{\sqrt{5}}^{\frac{1}{5}}} &= (\frac{1}{2})^{-2 + \frac{1}{2} \log_5^{\frac{1}{5}}} = (\frac{1}{2})^{-2 + \frac{1}{2} \log_5^{\frac{1}{5 \times 5}}} = (\frac{1}{2})^{-2 + \frac{1}{2} \log_5^{\frac{1}{25}}} \\ &= (\frac{1}{2})^{-2 + \frac{1}{2} (\log_5^{\frac{1}{5}} + \log_5^{\frac{1}{5}})} = (\frac{1}{2})^{-2 + \frac{1}{2} (\frac{1}{2} + \frac{1}{2})} = (\frac{1}{2})^{-2 + \frac{1}{2} \times 1} = (\frac{1}{2})^{-\frac{3}{2}} = (\frac{1}{2})^{\frac{3}{2}} \end{aligned}$$

$$= (\frac{1}{2})^{-\log_5^{\frac{1}{5}}} = \Delta \log_5^{\frac{1}{5}} = 5^{-1} = \frac{1}{5}$$

د) $|\log_{\frac{1}{2}}^{\frac{1}{2}}| + \log_{\frac{1}{2}}^{\frac{1}{2}}$

$$|\log_{\frac{1}{2}}^{\frac{1}{2}}| + \log_{\frac{1}{2}}^{\frac{1}{2}} = \frac{1}{-1} \log_{\frac{1}{2}}^{\frac{1}{2}} + \frac{-1}{\frac{1}{2}} \log_{\frac{1}{2}}^{\frac{1}{2}} = 3 - \frac{1}{2} = \frac{11}{2}$$

هـ) $\log_x^{\frac{\sqrt{x}}{\sqrt{x}}}$

$$\log_x^{\frac{\frac{1}{2} + \frac{1}{2}}{\frac{1}{2} + \frac{1}{2}}} = \log_x^{\frac{\frac{5}{2}}{\frac{5}{2}}} = \frac{3}{\frac{5}{2}} \log_x^x = \frac{2}{3}$$

مثال: مجموعه جواب معادلات یا نامعادلات زیر را بیابید.

الف) $\Delta^x = 3^{1-x}$

از دو طرف پایه ۳ لگاریتم می گیریم:

$$\log_3^{\Delta^x} = \log_3^{3^{1-x}} \Rightarrow x \log_3^{\Delta} = (1-x) \log_3^3 = (1-x) \Rightarrow x(\log_3^{\Delta} + 1) = 1 \rightarrow x(\log_3^{\Delta} + \log_3^3) \Rightarrow x = \frac{1}{\log_3^{\Delta} + 3} = \log_3^{\frac{1}{\Delta}}$$

ب) $\log_{\frac{1}{5}}^{\frac{x+3}{5}} < -1$

$$\frac{x+3}{5} < 10^{-1} = \frac{1}{10} \Rightarrow x+3 < \frac{5}{10} = \frac{1}{2} \Rightarrow x < \frac{1}{2} - 3 = -\frac{5}{2}$$

ج) $\log^{x-1} + \log^{x+1} = \log^2$

$$\log^{(x-1)(x+1)} = \log^2 \Rightarrow x^2 - 1 = 2 \Rightarrow x^2 = 3 \Rightarrow x = \pm\sqrt{3}$$

با توجه به دامنه $\log x$ ، فقط $x = \sqrt{3}$ قابل قبول است.

د) $x^{\log_{\Delta} x} = 625$

از ۲ طرف در پایه ۵ لگاریتم می‌گیریم:

$$\log_{\Delta}(x^{\log_{\Delta} x}) = \log_{\Delta} 625 = \log_{\Delta} 5^4 = 4$$

$$\log_{\Delta}^x \times \log_{\Delta}^x = (\log_{\Delta}^x)^2 = 4 \Rightarrow \log_{\Delta}^x = \pm 2 \begin{cases} x = 25 \\ x = \frac{1}{25} \end{cases}$$

هـ) $\log_{\frac{1}{9}}^{\frac{x-1}{2}} < \log_{\frac{1}{2}}^2$

$$\log_{\frac{1}{9}}^{\frac{x-1}{2}} < \log_{\frac{1}{2}}^2 = -1 \Rightarrow \frac{x-1}{2} > \left(\frac{1}{9}\right)^{-1} = 9 \Rightarrow x-1 > 18 \Rightarrow x > 19$$

و) $\log(3x-1) = (\log 5)^2 - (\log 2)^2$

$$\log^{3x-1} = (\log^5 - \log^2)(\log^5 + \log^2) = (\log^{\frac{5}{2}} \times \log^{\frac{7}{2}}) = \log^{\frac{5}{2}} \Rightarrow 3x-1 = \frac{5}{2} \Rightarrow x = \frac{7}{6}$$

ن) $\log_x^2 + \log_x^{2x+9} = 2$

$$\log_x^{2(2x+9)} = 2 \Rightarrow 6x + 18 = x^2 \rightarrow x^2 - 6x - 18 = 0 \Rightarrow (x-9)(x+2) = 0 \begin{cases} x = -2 \\ x = 9 \end{cases}$$

با توجه به دامنه \log^x که باید $x > 0$ باشد، فقط $x = 9$ قابل قبول است.

ی) $x^{1+\log_x^2} = 10^2$

$$\log_x^{(1+\log_x^2)} = \log_{10} 10^2 = 2$$

$$(1+\log_x^2) \log_x^2 = 2 \rightarrow (\log_x^2)^2 + (\log_x^2) - 2 = 0 \rightarrow (\log_x^2 + 2)(\log_x^2 - 1) = 0$$

$$\Rightarrow \log_x^2 = -2, 1 \Rightarrow x = 10^{-2}, 10$$

مثال: کدام عبارت صحیح است؟

$$\log_{\frac{1}{2}}^2 > \log_{\frac{1}{2}}^{\frac{2}{3}} \quad (4)$$

$$\log_{\frac{2}{3}}^2 > \log_{\frac{2}{3}}^{\frac{5}{3}} \quad (3)$$

$$\log_{\frac{1}{2}}^2 > \log_{\frac{1}{2}}^{\frac{2}{3}} \quad (2)$$

$$\log_{\frac{1}{2}}^{\frac{1}{100}} > \log_{\frac{1}{2}}^{\frac{1}{1000}} \quad (1)$$

کحل:

توابع لگاریتمی برای پایه‌های بزرگ‌تر از ۱ صعودی و برای پایه‌های کوچک‌تر از ۱ نزولی‌اند. پس عبارت زیر به علت نزولی بودن لگاریتم صحیح است: (به همین دلیل گزینه ۴ غلط است)

$$\log_{\frac{1}{2}}^{\frac{1}{100}} > \log_{\frac{1}{2}}^{\frac{1}{1000}}$$

در گزینه‌ی ۲، $0 < \log_{\frac{1}{2}}^2 < 1$ و $0 < \log_{\frac{1}{2}}^{\frac{2}{3}} < 1$ است. و در گزینه‌ی ۳: $\log_{\frac{2}{3}}^2 > 0$ و $\log_{\frac{2}{3}}^{\frac{5}{3}} < 0$ است.

مثال: اگر $\log^2 = 0.301$ باشد، عدد 5^{30} چند رقمی است؟


حل:

برای آن که بدانیم عدد چند رقمی است، ابتدا از آن لگاریتم می‌گیریم:

$$\log 5^{30} = 30 \cdot \log 5 = 30 \cdot \log 2^{\frac{1}{2}} = 30 \cdot (\log 10 - \log 2) = 30 \cdot (1 - \log 2) = 20.97$$

عدد 10^{n-1} ، عددی n رقمی است. حال کلیه اعداد n رقمی بین 10^{n-1} و 10^n قرار دارند، لذا لگاریتم یک عدد n رقمی بین $n-1$ و n است. لذا: اگر عدد A ، n رقمی باشد، $n = \lfloor \log A \rfloor + 1$ می‌باشد.

پس برای یافتن تعداد ارقام یک عدد پس از آن که از آن لگاریتم گرفتیم، از حاصل براکت گرفته و با یک جمع می‌کنیم. لذا این عدد: $21 = \lfloor 20.97 \rfloor + 1$ رقمی است.



کُنْزِیْشِه دُو

مؤسسه آموزشی فرهنگی

www.konkur.in