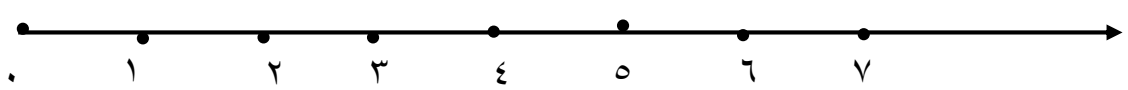
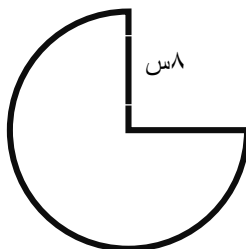


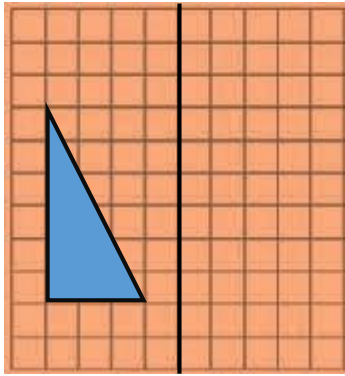
دبستان دفترانه ی شهید علانیان کاشان

نام و نام خانوادگی : آزمون ریاضی کلاس پنجم (نوبت دوم) اردیبهشت ۹۵

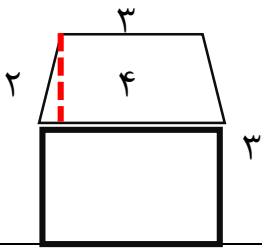
۱	<p>برای نمایش تغییرات قیمت نفت در ماههای مختلف کدام نمودار مناسب است؟</p> <p>الف) نمودار دایره ای <input type="checkbox"/> ب) نمودار خطی <input type="checkbox"/> ج) نمودار خط شکسته <input type="checkbox"/> د) نمودار ستونی <input type="checkbox"/></p>
۲	<p>متوازی الاضلاعی که دو قطر عمود برهم و چهار خط تقارن دارد کدام است؟</p> <p>الف) مستطیل <input type="checkbox"/> ب) ذوزنقه <input type="checkbox"/> ج) مربع <input type="checkbox"/> د) لوزی <input type="checkbox"/></p>
۳	<p>$0/25$ برابر کدام گزینه است؟</p> <p>الف) $\frac{2}{3}$ <input type="checkbox"/> ب) $\frac{3}{4}$ <input type="checkbox"/> ج) $\frac{2}{8}$ <input type="checkbox"/> د) $\frac{1}{2}$ <input type="checkbox"/></p>
۴	<p>کدام یک مقدار بیش تری را نشان می دهد؟</p> <p>الف) 2265 سانتی متر مکعب <input type="checkbox"/> ب) $1\frac{3}{4}$ لیتر <input type="checkbox"/> ج) $2/28$ لیتر <input type="checkbox"/> د) همه برابرند <input type="checkbox"/></p>
۵	<p>الگوها را ادامه دهید.</p> <p>..... و و و 450 میلیون و 300 میلیون و 150 میلیون</p> <p>..... و و و $3/2$ و 3 و $2/8$</p>
۶	<p>در جاهای خالی علامت $>= <$ بگذارید.</p> <p>$0/801$ <input type="checkbox"/> شش دهم $0/70$ <input type="checkbox"/> $0/7$ $3\frac{3}{7}$ <input type="checkbox"/> 4 $3\frac{1}{2}$ <input type="checkbox"/> $3\frac{4}{8}$</p>
۷	<p>جاهای خالی را بنویس.</p> <p>الف) 14 میلیون با 9 میلیون می شود</p> <p>ب) عدد 600000 از تا 600 تشکیل شده است .</p> <p>ج) از تقسیم محیط دایره بر قطر عدد به دست آمده برابر است که عددی نامیده می شود.</p>
۸	<p>پدر امین صبح ساعت $11 \square 12$ در دفتر کارش حاضر است و ساعت $19 \square 8$ از آنجا خارج شد. او چه مدتی در محل کارش حضور دارد؟</p>
۹	<p>جمع $3 + 2\frac{3}{5} =$ را روی محور نشان دهید.</p> 

	<p>۱۰ برای دوخت یک کت $2\frac{1}{5}$ متر و برای دوختن یک شلوار $1\frac{1}{3}$ متر پارچه لازم است. الف) برای دوختن یک کت و شلوار چندمتر پارچه لازم است؟ ب) اگر ۵ متر پارچه تهیه کرده باشیم . بعد از دوخت کت و شلوار چندمتر پارچه باقی می ماند؟</p>	۱۰
	<p>۱۱ میانگین عددهای $\frac{21}{3}$ ، $\frac{16}{8}$ ، $\frac{17}{7}$ ، $\frac{16}{2}$ را به دست آورید.</p>	۱۱
	<p>۱۲ طول و عرض و ارتفاع استخری ۱۰ و ۵ و ۳۰ متر است . حجم این استخر چندمتر مکعب و چندلیتر است؟</p>	۱۲
	<p>۱۳ در جاهای خالی عدد مناسب بنویس .</p> $\frac{4}{7} = \frac{\quad}{35} \quad \frac{4}{5} \times \dots = \frac{8}{35}$ $678 - \dots = 192$	۱۳
	<p>۱۴ فروشنده ای کتاب های خود را با ۲۰٪ تخفیف می فروشد.عاطفه کتابی را به قیمت ۲۴۰۰۰ تومان خریده است . قیمت کتاب قبل از تخفیف چندتومان بوده است؟</p>	۱۴
	<p>۱۵ محیط شکل زیر را پیدا کنید.(عدد پی = ۳)</p>	۱۵

۱۶ قرینه ی شکل را باتوجه به خط داده شده رسم کن.



۱۷ مساحت شکل زیر را پیدا کنید.



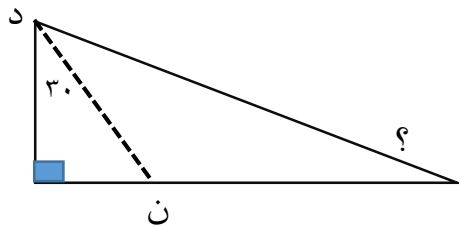
۱۸ عبارت های زیر را حل کنید.

$$\frac{4}{6} \div 8 =$$

$$\frac{2}{6} \times \frac{5}{7} =$$

$$0.87 \times 7 / 24 =$$

۱۹ اگر نیم خط «دن» نیم ساز زاویه باشد اندازه ی زاویه ای که با «؟» مشخص شده چقدر است؟

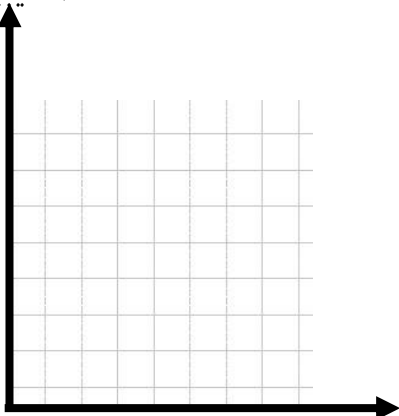


۲۰ تعداد غایبین در دبستانی درجدول مشخص شده است .

تعداد غایبین

زمان	هفته ی اول	هفته ی دوم	هفته ی سوم	هفته ی چهارم
تعداد غایبین	۵	۱	۷	۳

نمودار خط شکسته ی آن را رسم کنید.



زمان