

تاریخ:...../...../.....

آزمون ریاضی

نام:

نمره ی پایانی:.....

ششم دبستان

نام خانوادگی:

goftani-ha.blog.ir

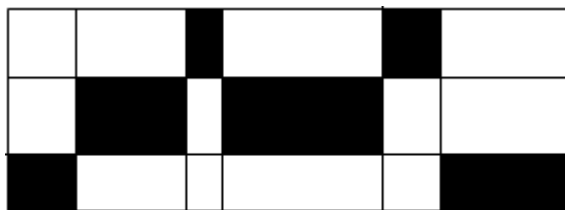
تیزهوشان

کلاس:

۱- نصف ثلث ربع پول علی ۱۰۰۰ تومان است. نصف ربع کل پول او چه قدر کم تر از ۱۲۰/۰۰۰ ریال است؟

۱- ۳ هزار تومان    ۲- نود هزار ریال    ۳- ۴۰ هزار ریال    ۴- ۱۰ هزار تومان

۲- چه کسری از شکل زیر رنگی است؟



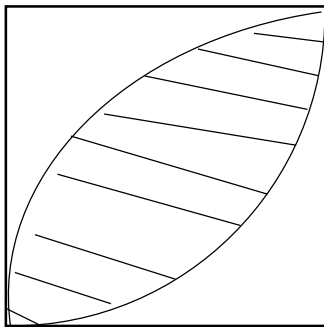
۱- ثلث شکل

۲- نصف شکل

۳- ربع شکل

۴- خمس شکل

۳- مساحت قسمت رنگی را پیدا کنید.



۲

۱- ۲/۲۸

۲- ۴/۵۶

۳- ۳/۱۴

۴- ۶/۲۸

۴- بین دو کسر  $\frac{2}{5}$  و  $\frac{3}{5}$  کدام کسر قرار نمی گیرد.

۴-  $\frac{1}{2}$

۳-  $\frac{1}{3}$

۲-  $\frac{7}{15}$

۱-  $\frac{8}{15}$

۵- مسعود  $\frac{2}{5}$  پولش را کیف و  $\frac{1}{3}$  آن را کفش و  $\frac{1}{4}$  بقیه پولش را به وحید داد و ۱۲۰۰۰

تومان برایش باقی ماند. پول مسعود در ابتدا چه قدر بوده است؟

120000(4)

90000(3)

60000(2)

40000(1)

۶- چند مثلث داخل یک شش ضلعی وجود دارد؟

سه-۱      چهار-۲      پنج-۳      شش-۴

۷- واحد استاندارد اندازه گیری طول ..... است.

۱- متر      ۲- میلی متر      ۳- سانتی متر      ۴- کیلومتر

۸- با استفاده از ارقام ۱ تا ۵ چند عدد سه رقمی غیر تکراری می توان نوشت؟

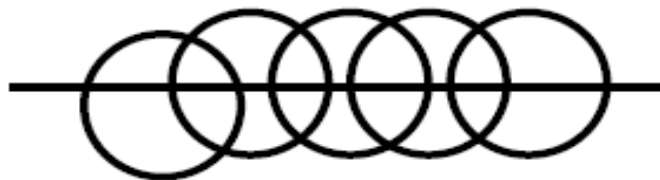
۱-۱۲۰      ۲-۶۰      ۳-۳۰      ۴-۲۴

۹- حاصل جمع کسر مقابل را به صورت اعشاری بنویسید. (انمره)

$$? = \frac{7}{3} + \frac{5}{3}$$

۱-  $\frac{1}{0.28}$       ۲-  $\frac{10}{28}$       ۳-  $\frac{0}{97}$       ۴-  $\frac{0}{972}$

سوال اضافه ی نمره:



-در شکل بالا چند پاره خط وجود دارد؟

۱-۲۴      ۲-۴۵      ۳-۹۰      ۴-۴۰

خیلی خوب      خوب      متوسط      نیاز به تلاش بیشتر