
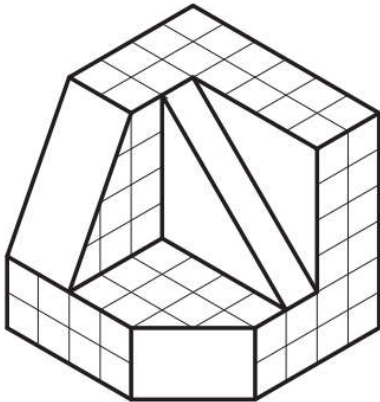
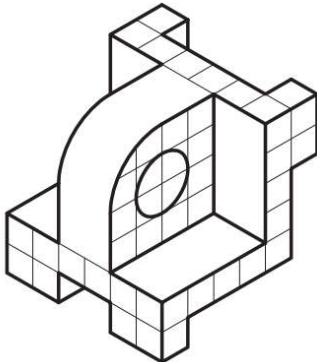


مدت آزمون : 120 دقیقه	دبیر: میثم شهر آشوب	سوالات آزمون عملی نقشه کشی 1
تعداد صفحات : 1	تاریخ آزمون :	هنرستان کار دانش امام علی (ع)
نام و نام خانوادگی هنرجو :		نوبت دی ماه سال تحصیلی 94-95

هر گونه ردوبدل کردن وسایل نقشه کشی بین هنرجویان عزیز ممنوع بوده و مصداق بارز تقلب محسوب میشود.

3	<p>پاره خط AB را به هفت قسمت مساوی تقسیم کنید و روش کار را شرح دهید.</p>  <p>طول پاره خط را 9 سانتی متر در نظر بگیرید .</p>	1
3	<p>یک دایره رسم کنید و آنرا به پنج قسمت مساوی تقسیم کنید. مراحل کار را به صورت کامل توضیح دهید.</p>	2
2	<p>یک جدول مشخصات (title) رسم کنید و تمام قسمت های آن را پر کنید با فرض ترسیم یک برش ساده به نام K-K و اندازه ده برابر کوچکتر از ابعاد شکل اصلی</p>	3
4.5	<p>پرسپکتیو زیر را با مقیاس دو برابر رسم نمایید. هر مربع را یک سانتی متر مربع در نظر بگیرید.</p> 	4
7.5	<p>تصویر سه نمای شکل زیر را رسم کنید. هر مربع را یک سانتی متر مربع در نظر بگیرید.</p> 	5