

یسمه تعالی

نام و نام خانوادگی:.....

آزمون ریاضی پایه دوم
ویژه آبان ماه

۱

فرزندم نوشتن عددها را ادامه بده.

۵۴-۵۵-۵۶-۵۷-.....-.....-.....-.....-.....-.....-.....-.....-.....

پنجاه و چهار-پنجاه و پنج-پنجاه و شش-.....-.....-.....-.....-.....-.....-.....-.....

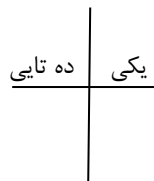

۲

کلم با رقمهای ۴ و ۷ عددهای دو رقمی بنویس.

.....

۳

عزیزم اول دسته های دهتایی درست کن سپس جدول را کامل کن.



با عدد:.....

با حروف:.....

۴

فرزندم برای عدد ۶ هفت جمع بنویس.

$2+4=6$ $.....+.....=6$ $....+.....=6$
 $....+.....=6$ $.....+.....=6$ $.....+.....=6$ $.....+.....=6$



۵

کوچکترین عدد یک رقمی و بزرگترین عدد یک رقمی است.
کوچکترین عدد دورقمی و بزرگترین عدد دورقمی است.

۶

پسر خوب با رنگ کردن و یا خط زدن مربع ها حاصل جمع و تفریق زیر را حساب کن.

۹		
+ ۶		
—		
۱۶		
- ۸		

  <p>.....</p>	<p>گلم زیر هر شکل بنویس ساعت چند است.</p>	۷
	<p>علی ۱۹ کتاب داستان و علمی دارد اگر ۷ تا از کتابهایش علمی باشد چند تا از کتابها داستانی است؟ (بارسم شکل)</p>	۸
	<p>۴۶ یعنیدسته ی دهتایی ویکی. ۳۵ یعنیدسته ی دهتایی ویکی. ۲ دسته ی دهتایی و ۸ یکی می شود.....</p>	۹
$\begin{array}{r} 28 \\ + 34 \\ \hline \end{array}$ $\begin{array}{r} 56 \\ - 25 \\ \hline \end{array}$	<p>فرزندم حاصل جمع و تفریق های زیر را به صورت دو مرحله ای حساب کن.</p>	۱۰
$49 \rightarrow \dots\dots$ $+32 \rightarrow +\dots\dots$ <hr/> <hr/>	<p>عزیزم حاصل جمع و تفریق زیر را به صورت تقریبی حساب کن.</p> $77 \rightarrow \dots\dots$ $-51 \rightarrow -\dots\dots$ <hr/> <hr/>	۱۱

عزیزانم

موفق و پیروز باشید.