

به نام خدا

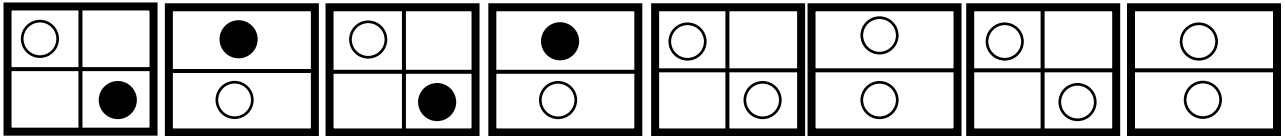
آزمون بخش سوم ریاضی پایه اول

تاریخ:

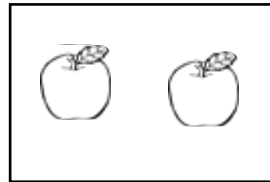


دبستان:

نام و نام خانوادگی:

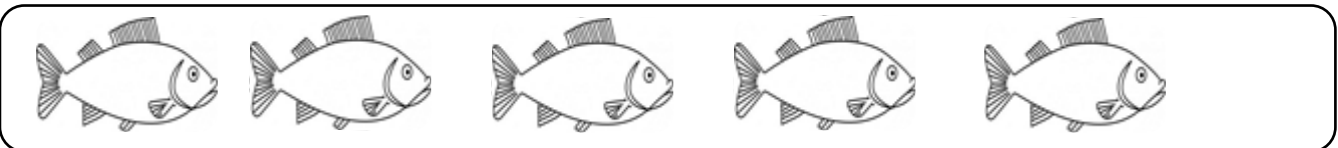
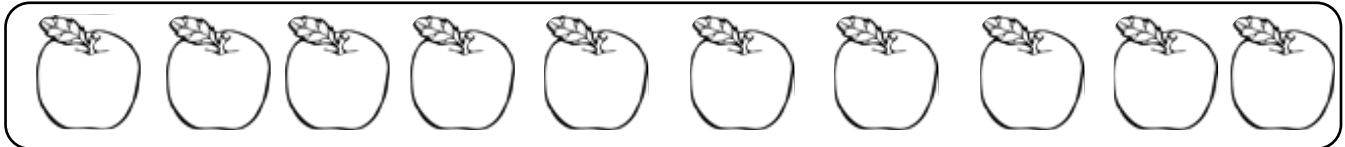

۱. مانند نمونه ادامه بده.



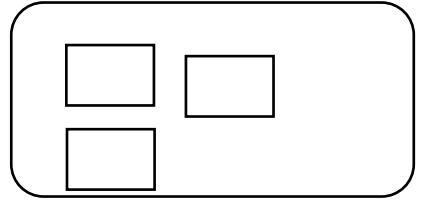
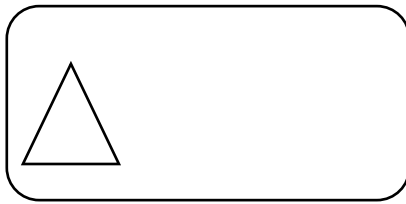
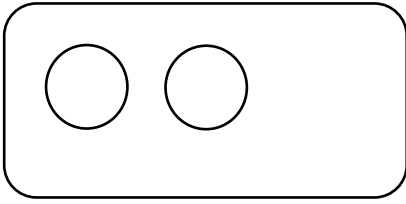
۲. به اندازه ی تعداد شکل های هر دو دسته ، انگشت ها را رنگ بزن.



۳. برای شکل های هر ردیف با رنگ آمیزی الگو بساز.

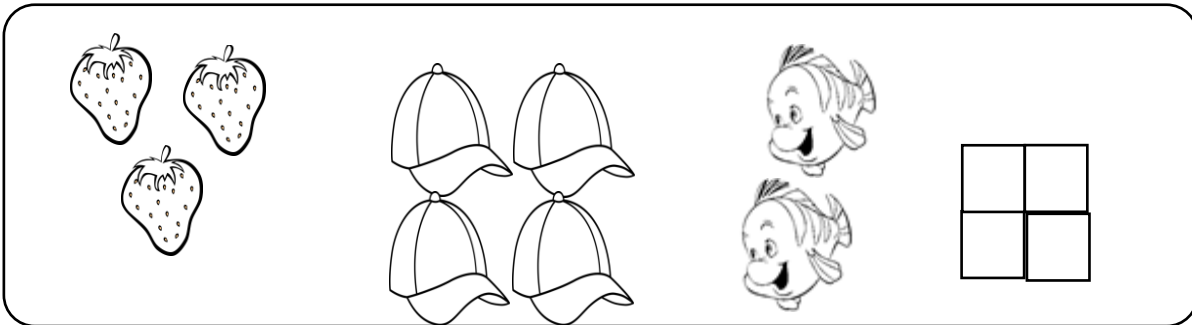


۴. تعداد شکل های هر دسته را بشمار و دو شکل دیگر برای هر دسته بکش.



۵. با استفاده از شابلون یک شکل بکش و با آن شکل یک نقاشی زیبا بکش.

۶. به تعداد هر شکل خانه های جلوی آن گردی بکش.



باز خورد آموزگار: