


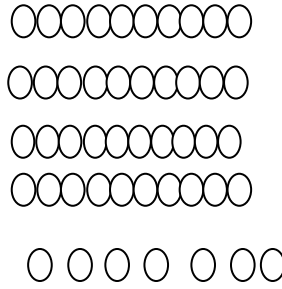
۱- ماهی سیزدهم را در هر ردیف رنگ کن.

۲- اعداد نوشته نشده را بنویس .
 ۹-۱۰- -۱۲- -۱۴- -۱۶- -۱۸- -۲۰- -۲۲- -۲۴- -۲۶- -۲۸- -۳۰-

۳- هر شکل چه عددی را نشان می دهد .



یکی	ده تایی
.....
.....



یکی	ده تایی
.....
.....

با حروف

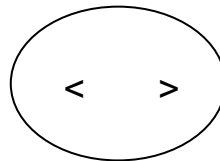
با حروف



۴- از ۳۵ تا ۴۷ را بنویس .

۵- پاسخ بده و دور علامت < > خط بکش .

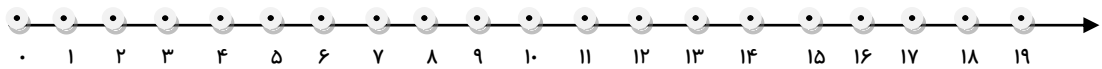
$$۵ + ۵ + ۲۰ = \square$$



$$۵ + ۵ + ۵ + ۶ = \square$$

$$۷ + ۶ + ۴ = \dots$$

۶- جمع را روی محور نشان بده و پاسخ آن را بنویس .



۷- پاسخ تفریق ها را بنویس .

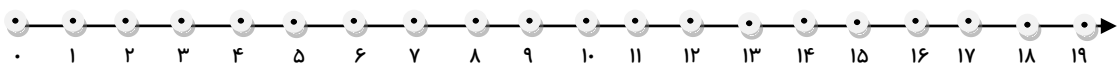
$$۷ - ۷ = \dots$$

$$۹ - ۳ = \dots$$

$$۴ - ۱ = \dots$$

۸- مسنله را با کک محور حل کن .

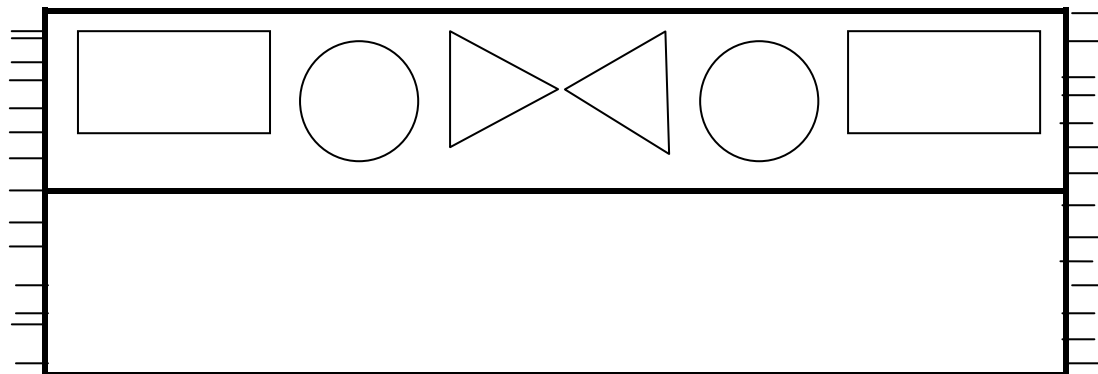
رضا ۱۶ پسته داشت. ۸ پسته را به علی داد. ۸ پسته را هم به امین داد. چند پسته برای خودش باقی مانده است ؟





۱۰. نیمه ی دیگر فرش را هم مثل نیمه ی داده شده بکش .

پس از کشیدن شکل ها دایره ها را آبی و مثلث ها را نارنجی و مستطیل ها را قرمز کن .



۱۱- کدام سنگین تر است علامت × بزن .



هندوانه

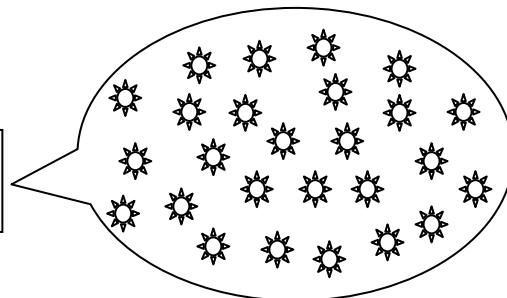



عینک



مداد رنگی

۱۲- ابتدا دسته ی ده تایی درست کن و سپس به تعداد شکل ها چوب خط بکش .



اهداف ریاضی این آزمون			
نیاز به تلاش بیشتر	قابل قبول	خوب	خیلی خوب
			موقعیت یابی سوال ۱
			شناخت اعداد و نمادها: شمارش و مفهوم عدد و نماد آن عدد های دو رقمی و مقایسه ی اعداد سوال ۵ تا ۲
			عملیات جمع و تفریق روی اعداد سوال های ۵ تا ۷
			حل مسئله : راهبردها و مربع شگفت انگیز و حل سوال ۸
			استفاده از ابزار سوال ۹ و ۱۰
			هندسه شامل اشکال هندسی و الگوهای هندسی و تقارن سوال های ۱۰
			اندازه گیری : طول و زمان و جرم سوال ۱۱
			آمار و نمودار سوال ۱۲
			جمع بندی نهایی