
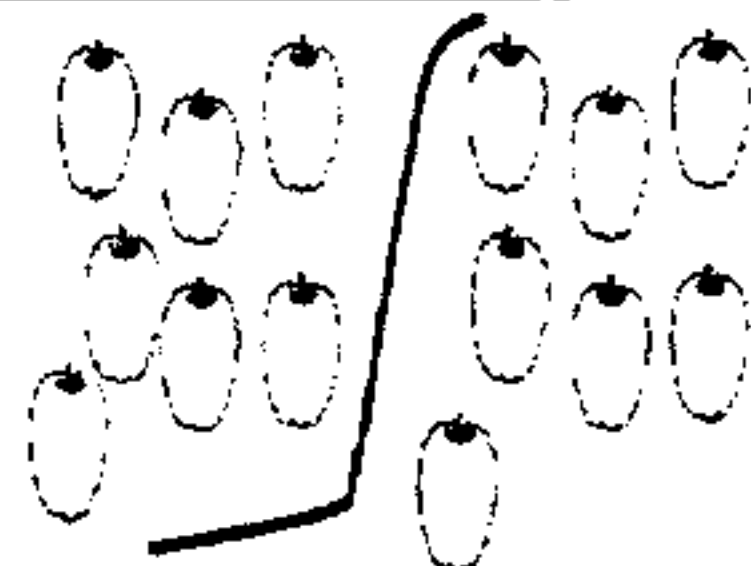
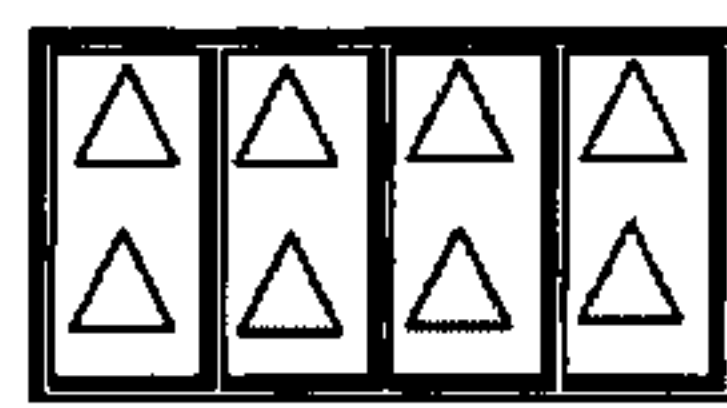
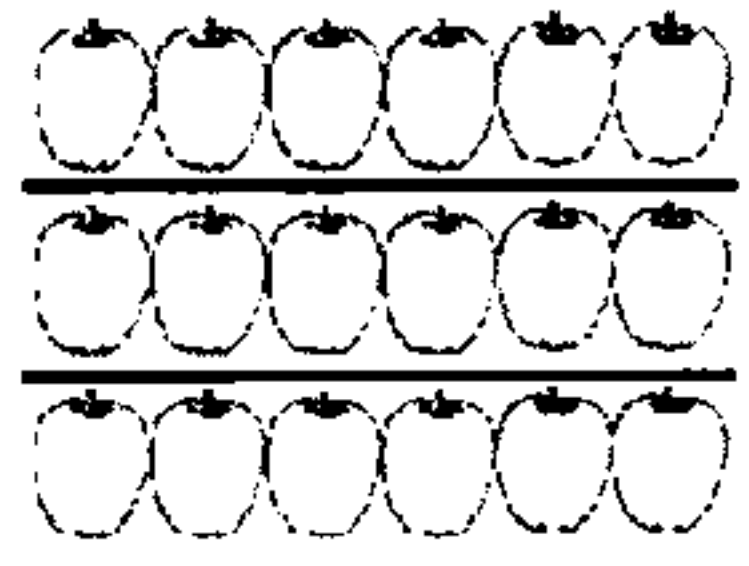
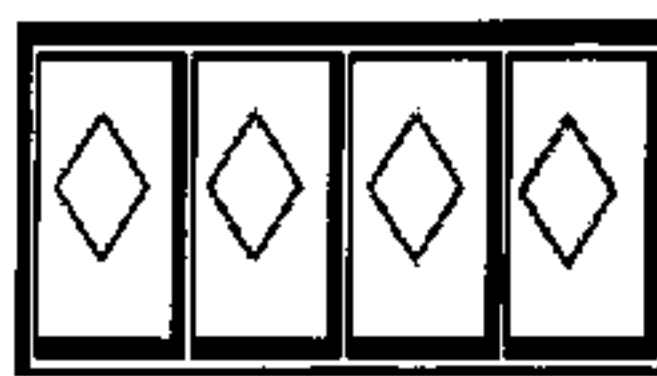


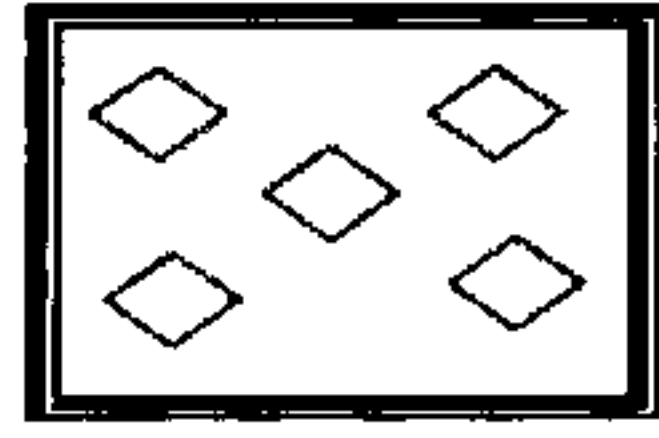


پایگاه سوالات امتحانی

www.soall-emtehani.mihanblog.com

محل آزمون: کلاس	دبستان شهید مقصودی ورزنه	آزمون عملکردی ریاضی: ضرب	
نام آموزگار: جواد بوجاری	نام و نام خانوادگی:	موضوع: تلفیق ریاضی با هنر	
هدف: تقویت مفهوم ضرب و مهارت حل کردن آن			
وسيله: مداد - پاک کن - برگه آزمون			
زمان: ۲۵ دقیقه			
دستور کار: دانش آموز عزیزم، زیر هر یک از تصاویر زیر، عبارت ریاضی ضرب آن را بنویس و بعد آن را رنگ آمیزی کن.			
			
			
بسم، حالا حاصل ضرب‌های زیر را در جای مناسب خود قرار بده.			
<div style="display: flex; justify-content: space-around; align-items: center;"> ۴۰ ۱۸ ۵۶ ۱۱ ۰ ۱۶ ۳۶ ۸۱ ۲۰ ۱۵ ۱۲ ۲۵ </div>			
$۳ \times ۵ =$	$۶ \times ۶ =$	$۴ \times ۵ =$	$۳ \times ۴ =$
$۱۱ \times ۱ =$	$۵ \times ۵ =$	$۸ \times ۵ =$	$۱۲ \times ۰ =$
$۷ \times ۸ =$	$۳ \times ۶ =$	$۹ \times ۹ =$	$۴ \times ۴ =$

معیارها			انتظارات	
نیاز به تلاش بیشتر	در حد انتظار	خوب	خیلی خوب	
			عبارات مفهوم ضرب را درست نوشته است	
			حاصل ضرب‌ها را در جای مناسب قرار داده است	
			فعالیت را در زمان معین انجام داده است	
			کار خود را تمیز و خوش خط انجام داده است	

باز خورد معلم:

.....

.....