




نمره	سوال	ردیف														
	یک عدد مرکب بنویسید .	۱														
	<p data-bbox="804 282 1422 331">هر کدام از ساعت های زیر چه زمانی را نشان می دهند ؟</p> <div style="display: flex; justify-content: space-around; align-items: center;">    </div>	۲														
	<p data-bbox="1118 857 1422 907">الگوهای زیر را ادامه دهید .</p> <table border="1" style="width: 100%; text-align: center;"> <tr> <td>۲۰`</td> <td>۲۵`</td> <td>۳۰`</td> <td></td> <td></td> <td></td> <td></td> </tr> <tr> <td>۲:۲۰`</td> <td>۲:۴۰`</td> <td>۳</td> <td>۳:۲۰`</td> <td></td> <td></td> <td></td> </tr> </table>	۲۰`	۲۵`	۳۰`					۲:۲۰`	۲:۴۰`	۳	۳:۲۰`				۳
۲۰`	۲۵`	۳۰`														
۲:۲۰`	۲:۴۰`	۳	۳:۲۰`													
	<p data-bbox="919 1252 1422 1301">الگوهای عددی مربوط به زمان رو ادامه دهید .</p> <table border="1" style="width: 100%; text-align: center;"> <tr> <td>۵۸"</td> <td>۵۹"</td> <td>۱`</td> <td>۱`:۱"</td> <td>۱`:۲"</td> <td></td> <td></td> </tr> <tr> <td>۲:۲۰`:۳۰"</td> <td>۲:۲۰`:۴۰"</td> <td>۲:۲۱`</td> <td>۲:۲۱`:۲۰"</td> <td></td> <td></td> <td></td> </tr> </table>	۵۸"	۵۹"	۱`	۱`:۱"	۱`:۲"			۲:۲۰`:۳۰"	۲:۲۰`:۴۰"	۲:۲۱`	۲:۲۱`:۲۰"				۴
۵۸"	۵۹"	۱`	۱`:۱"	۱`:۲"												
۲:۲۰`:۳۰"	۲:۲۰`:۴۰"	۲:۲۱`	۲:۲۱`:۲۰"													
	<p data-bbox="236 1615 1422 1738">ساعت عدد ۷:۴۵` را نشان می دهد . زنگ تفریح قرار است ۳۵` دیگر به صدا در بیاید . حساب کنید زنگ تفریح در چه ساعتی می خورد ؟</p>	۵														
	<p data-bbox="201 1827 1422 1951">ساعت عدد ۱۳:۴۵` را نشان می دهد . حدود ۱:۳۰` پیش مدرسه تعطیل شده است . حساب کنید مدرسه در ه ساعتی تعطیل شده است ؟</p>	۶														