

تعدادی نوعی سری اول - سعی نکنیم

۱- تا با نماد شیمیایی عناصر زیر را بنویسید.

= Mn

= C

اکسیرن =

آهن =

= Bi

= Mg

کلسیم =

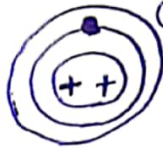
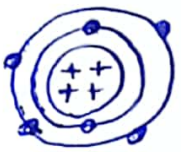
مس =

۲- سه مورد از نمادهای فلزها را بنویسید. همچنین دالتهون را بنویسید. توجه کنید که فلزها از آن‌ها امروزیه قابل تبدیل هستند

الف)

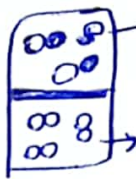
ب)

ج)



۳- در هر مورد مشخص کنید با ارجح چیست؟ (کاتیون، آنیون، قی)

مثال:



فالن - کاتیون



فالن - آنیون

۴- در هر شکل مشخص کنید: عنصر - ترکیب (در فالت - فالت)



۵- در هر ترکیب به ترتیب چیدمان و پیدایش وجود دارد!

