







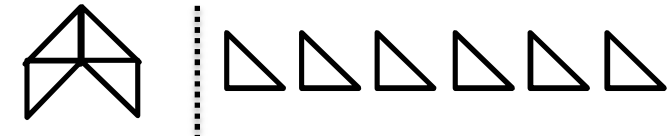
## آزمون ریاضی پایه چهارم (فصل اول و دوم)

نام و نام خانوادگی :

شماره کلاسی :

تاریخ آزمون :

سوالات	ردیف																											
<p style="text-align: right;">تعداد پنج ضلعی های شکل نهم چقدر است ؟</p> <div style="display: flex; justify-content: space-around; align-items: center;"> <div style="text-align: center;">  <p>شکل (۱)</p> </div> <div style="text-align: center;">  <p>شکل (۲)</p> </div> <div style="text-align: center;">  <p>شکل (۳)</p> </div> <div style="text-align: center;"> <p>؟</p> <p>شکل (۹)</p> </div> </div>	۱																											
<p style="text-align: right;">الگوی عددی زیر را ادامه دهید :</p> <p>۳۴۵۰۰ ، ۳۵۰۰۰ ، ۳۵۵۰۰ ، ..... ، ..... ، ..... ، .....</p>	۲																											
<p style="text-align: right;">عدد ۲۴۳۱۵۲۰۶۷ را در جدول ارزش مکانی قرار دهید و آن را با حروف بنویسید .</p> <table style="width: 100%; border-collapse: collapse; margin-top: 10px;"> <tr> <td style="text-align: center; width: 10%;">یکها</td> <td style="text-align: center; width: 10%;">هزارها</td> <td style="text-align: center; width: 10%;">میلیون</td> <td colspan="6"></td> </tr> <tr> <td style="text-align: center;">ی</td> <td style="text-align: center;">د</td> <td style="text-align: center;">ص</td> <td style="text-align: center;">ی</td> <td style="text-align: center;">د</td> <td style="text-align: center;">ص</td> <td style="text-align: center;">ی</td> <td style="text-align: center;">د</td> <td style="text-align: center;">ص</td> </tr> <tr> <td style="border: 1px solid black; height: 20px;"></td> <td style="border: 1px solid black; height: 20px;"></td> <td style="border: 1px solid black; height: 20px;"></td> <td style="border: 1px solid black; height: 20px;"></td> <td style="border: 1px solid black; height: 20px;"></td> <td style="border: 1px solid black; height: 20px;"></td> <td style="border: 1px solid black; height: 20px;"></td> <td style="border: 1px solid black; height: 20px;"></td> <td style="border: 1px solid black; height: 20px;"></td> </tr> </table> <p>با حروف : .....</p>	یکها	هزارها	میلیون							ی	د	ص	ی	د	ص	ی	د	ص										۳
یکها	هزارها	میلیون																										
ی	د	ص	ی	د	ص	ی	د	ص																				
<p style="text-align: right;">ماشین ورودی و خروجی زیر را کامل کنید .</p> <div style="display: flex; align-items: center; justify-content: center; margin-top: 20px;"> <div style="border: 1px solid black; padding: 5px; margin-right: 10px;"> <table style="width: 100%; border-collapse: collapse;"> <tr><td style="text-align: center;">۴</td></tr> <tr><td style="height: 30px;"></td></tr> <tr><td style="height: 30px;"></td></tr> </table> </div> <div style="font-size: 2em; margin-right: 10px;">→</div> <div style="margin-right: 10px;"><math>\times 6</math></div> <div style="font-size: 2em; margin-right: 10px;">→</div> <div style="border: 1px solid black; padding: 5px; margin-right: 10px;"> <table style="width: 100%; border-collapse: collapse;"> <tr><td style="height: 30px;"></td></tr> <tr><td style="text-align: center;">۳۰</td></tr> <tr><td style="height: 30px;"></td></tr> </table> </div> <div style="font-size: 2em; margin-right: 10px;">→</div> <div style="margin-right: 10px;"><math>+ 100</math></div> <div style="font-size: 2em; margin-right: 10px;">→</div> <div style="border: 1px solid black; padding: 5px;"> <table style="width: 100%; border-collapse: collapse;"> <tr><td style="height: 30px;"></td></tr> <tr><td style="height: 30px;"></td></tr> <tr><td style="text-align: center;">۱۴۸</td></tr> </table> </div> </div>	۴				۳۰				۱۴۸	۴																		
۴																												
۳۰																												
۱۴۸																												
<p>محمد ۷۵۰۰۰۰ تومان پول دارد . اگر اول با پولهایش یک دوچرخه ۳۰۰۰۰۰ تومانی بخرد ، چقدر برایش باقی خواهد ماند ؟</p>	۵																											
<p style="text-align: right;">چه کسری از شکل های زیر رنگی است ؟</p> <div style="display: flex; justify-content: space-around; align-items: center; margin-top: 20px;"> <div style="text-align: center;">  </div> <div style="text-align: center;">  </div> </div>	۶																											
<p style="text-align: right;">ساعت زیر چه عدد مخلوطی را نشان می دهد ؟</p> <div style="text-align: center; margin-top: 20px;">  </div>	۷																											

	<p>عدد مخلوط شکل زیر را بنویسید .</p>	<p>۸</p>
$\frac{6}{8} + \frac{1}{8} =$	<p>حاصل جمع های زیر را بدست آورید .</p> $\frac{7}{15} + \frac{7}{15} =$	<p>۹</p>
$\frac{9}{12} - \frac{3}{12} =$	<p>حاصل تفریق های زیر را بدست آورید .</p> $\frac{4}{5} - \frac{2}{5} =$	<p>۱۰</p>
<p>کشاورزی <math>\frac{1}{3}</math> مزرعه ی خود را گندم و <math>\frac{1}{6}</math> آن را جو کاشته است . چه کسری از زمین او باقی مانده است ؟</p>		<p>۱۱</p>
$\frac{3}{6} + \frac{2}{12} =$	<p>حاصل عبارت های زیر را بدست آورید .</p> $\frac{4}{5} + \frac{7}{25} =$	<p>۱۲</p>
$3 \times \frac{2}{12} =$	<p>حاصل ضرب های زیر را بدست آورید .</p> $8 \times \frac{5}{56} =$	<p>۱۳</p>
<p>جاهای خالی را با یکی از کلمه های ( خمس ، ثلث ، ربع و نصف ) پر کنید .</p>		<p>۱۴</p>

نیاز به تلاش بیشتر

قابل قبول

خوب

خیلی خوب

**نظر کلی آموزگار :**