

آزمون هفت‌ت‌نهمی

پیش‌نما

الف


آزمون‌های تمرینی - تستی

پایه پنجم (۵)

لطفاً با لبخند آزمون را شروع کنید

زمان پاسخ‌گویی: ۶۰ دقیقه

تعداد سوال: ۶۰



کتاب
گروه
آموزش



ریاضی

علوم تجربی

مطالعات
اجتماعی

ادبیات
فارسی

تاریخ و
مطالعات
هنر

۲

مرحله دوم

سه‌شنبه ۱۵ اردیبهشت ۱۳۹۷



یاد بگیریم و یاد بدهیم

با سلام و درودی فراوان به دانش آموزان عزیز

آزمون‌های پیش‌رو جهت مرور مطالب درسی و آشنایی با تست‌زنی و طبق برنامه‌ریزی انجام شده‌ی روزهای آزمون‌ی ساغر، در سایت و کانال آموزشی ساغر قرار داده خواهند شد. از این‌که همراه با گروه آموزشی ساغر هستید، سپاسگزاریم.

برای هر کاری هدفی وجود دارد و هدف ما پیشرفت و موفقیت شماست...

تهیه و تنظیم سوالات:

مدیریت گروه و وبسایت آموزشی ساغر – احمد فرقدان

www.Sagharedu.ir

ترتیب سوالات آزمون مرحله‌ی دوم پایه‌ی پنجم

ردیف	نام درس	صفحات کتاب	تعداد سوالات	از شماره	تا شماره	زمان پاسخگویی
۱	قرآن و هدیه‌های آسمان	درس‌های ۱ تا ۴	۸	۱	۸	۶۰ دقیقه
۲	ادبیات فارسی	درس‌های ۱ تا ۴	۱۵	۹	۲۳	
۳	مطالعات اجتماعی	درس‌های ۱ تا ۵	۷	۲۴	۳۰	
۴	علوم تجربی	درس‌های ۱ تا ۳	۱۵	۳۱	۴۵	
۵	ریاضی	فصل ۱ و فصل ۲: تا سر ضرب کسرها	۱۵	۴۶	۶۰	
	جمع کل		۶۰			

(آزمون نمره منفی دارد)

قرآن و هدیه‌های آسمان

۱- کدام گزینه ترجمه‌ی مناسب‌تری برای عبارت شریفه‌ی «و هُدًى و رَحْمَةً لِّلْمُؤْمِنِينَ» است؟

- (۱) هدایت و رحمتی برای مؤمنان
 (۲) هدایت و رحمتی برای نیکوکاران
 (۳) هدایت می‌کند با مهربانی مؤمنان را.
 (۴) هدایت می‌کند با مهربانی نیکوکاران را.

۲- در کدام‌یک از گزینه‌های زیر، متضاد کلمه در مقابل آن درست نوشته شده است؟

- (۱) خَالِقٌ: خَلَقَ (۲) لَيْلٌ: نَهَارٌ (۳) شَمْسٌ: قَمَرٌ (۴) رَبٌّ: اللهُ

۳- عبارت شریفه‌ی «وَأَوْفُوا بِالْعَهْدِ» ما را به چه امری دعوت می‌کند؟

- (۱) عهد دوستی بستن
 (۲) عمل کردن به قول
 (۳) عهد نبستن با دشمنان
 (۴) یادآوری عهد به یکدیگر

۴- عبارت شریفه‌ی «أَعْلَمُ أَنَّ اللَّهَ عَلَىٰ كُلِّ شَيْءٍ قَدِيرٌ» کدام ویژگی خداوند را بیان کرده است؟

- (۱) قدرت خداوند (۲) علم خداوند (۳) رزاقیت خداوند (۴) رحمانیت خداوند

۵- گزینه‌ی صحیح کدام است؟

- (۱) استفاده از وسیله‌ای که شک داریم مال خودمان است یا نه اشکال ندارد.
 (۲) استفاده از وسیله‌ای که پیدا کردیم و صاحبش را پیدا نکردیم اشکال ندارد.
 (۳) استفاده از وسیله‌ی دیگران بدون اجازه حتی به مقدار خیلی کم اشکال دارد.
 (۴) استفاده از وسایل دیگران که به درد نمی‌خورد بدون اجازه اشکال ندارد.

۶- کدام‌یک از اعمال زیر جزء گناهان زبان است؟

- (۱) ناشکری کردن (۲) ظن بد داشتن (۳) عصبانی شدن (۴) مسخره نکردن

۷- منظور از کلمه‌ی نعمت در عبارت شریفه‌ی «الْيَوْمَ أَكْمَلْتُ لَكُمْ دِينَكُمْ وَأَتَمَمْتُ عَلَيْكُمْ نِعْمَتِي» چیست؟

- (۱) پیامبر (ص) (۲) رسالت پیامبر (ص) (۳) ولایت اهل بیت (ع) (۴) امام علی (ع)

۸- با عیب‌جویی از دیگران و به دنبال عیب دیگران گشتن، خطر ارتکاب کدام گناه برای ما پیش می‌آید؟

- (۱) بدزبانی (۲) دروغ (۳) غیبت (۴) بی‌احترامی به دیگران

فارسی

۹- در کدام مورد واژگان مترادف به کار رفته است؟

- (۱) از پی توست این همه امید و بیم
 (۲) جز در تو قبله نخواهیم ساخت
 (۳) کرد کوتاه، شاخه‌ی پیچان تاک
 (۴) بیا که با هم تدبیر و چاره اندیشیم

۱۰- در کدام گزینه «وند» به کار رفته است؟

- (۱) کارخانه (۲) گلزار (۳) گلاب (۴) قندشکن

۱۱- کدام یک از موارد زیر، مصداق گوش دادن است؟

- (۱) صدای بوق ماشینی به گوش می‌رسد.
 (۲) برای شنیدن صدای آبشار در زیر آن می‌نشیند.
 (۳) شنیدن صدای آژیر آتش‌نشانی و آمبولانس
 (۴) شنیدن صدای بلبل از روی درخت جلوی خانه

۱۲- مفهوم کدام واژه به درستی بیان نشده است؟

- (۱) انسان دوست: کسی که دیگران را دوست می‌دارد.
 (۲) خدادوست: کسی که خدا را دوست می‌دارد.
 (۳) میهن‌دوست: کسی که میهن او را خیلی دوست دارد.
 (۴) هنردوست: کسی که هنر را دوست می‌دارد.

۱۳- کدام گزینه با «چیرگی» مترادف نیست؟

- (۱) برتری (۲) تدبیر (۳) چیره‌شدن (۴) تسلط

۱۴- کدام یک ضرب‌المثل نیست؟

- (۱) بادآورده را باد می‌برد.
 (۲) گوش به زنگ است.
 (۳) از این ستون به آن ستون فرج است.
 (۴) جیک‌جیک مستونت بود، فکر زمستونت نبود.

۱۵- در کدام گزینه هر دو گروه کلمه با یکدیگر مترادف نیستند؟

- (۱) (بستان، باغ) - (انجم، ستارگان)
 (۲) (فضل، بخشش) - (لطف، نیکویی)
 (۳) (پدیدآوردگان، به‌وجود آوردندگان) - (لیل، نهار)
 (۴) (تأمل کردن، اندیشیدن) - (نغمه، آواز خوش)

۱۶- کدام یک از موارد زیر از کلمه‌ای که غلط املائی دارد، استفاده شده است؟

- (۱) یارشو، ای مونس غم‌خوارگان
 (۲) هیس گوش بده! به آفریده‌های ساکت خدا
 (۳) دانشمند بلند آوازی ایرانی
 (۴) کوه‌ها منبع خیر و برکت هستند.

۱۷- واژه‌های کدام گزینه، ساده‌اند؟

- (۱) شب‌رو، کتابخانه، رختخواب
 (۲) چوب‌لباسی، دوستداران، بستنی
 (۳) کتاب، صحرا، سپاس
 (۴) مالمال، دلجویی، چشمداشت

۱۸- در متن زیر چند غلط املائی وجود دارد؟

«آیا می‌توانی صدای حشرهایی را که زیر زمین می‌جنبند بشنوی؟ صدای ماهی‌های طالب را چطور؟ علف‌ها و

برگ‌ها در نصیم فقط تکان می‌خورند. صدای روشنایی روز را چطور؟»

- (۱) ۲ (۲) ۱ (۳) ۴ (۴) ۳

۱۹- کدام گزینه نادرست است؟

- (۱) در بیت «به نام خدایی که جان آفرید / سخن گفتن اندر زبان آفرید»
 (۲) کلمات «دانا، فاضل، توانا» صفت هستند.
 (۳) زمان خاطره، مکان خاطره، نویسنده‌ی خاطره در نوشتن خاطره تأثیری ندارد.
 (۴) کلمات «کزین، روبه، رهنمای، پیرهن، گر» مخفف‌اند.

۲۰- در کدام یک از گزینه‌های زیر دو مورد تشبیه به کار رفته است؟

- (۱) همان‌گه، بیایم چو ابر سیاه
 (۲) دل سام شد چون بهشت برین
 (۳) تنش، مانند نقره، سفید و رویش، چون گل، زیباست.
 (۴) علم باشد کلید هر گنجی

۲۱- در کدام گزینه، آرایه‌ی جان‌بخشی (تشخیص) وجود ندارد؟

- (۱) در بهاران زمین تشنه‌ی ما / جامه‌ی سبز از تو می‌پوشد
 (۲) گفت ای غنچه‌های خوب چرا / لب‌تان را ز خنده می‌بندید
 (۳) پس پدر کی ز جبهه می‌آید / باز کودک ز مادرش پرسید
 (۴) یکی از کاج‌ها به خود لرزید / خم شد و روی دیگری افتاد

۲۲- بیت «دلای! معاش چنان کن که گر بلغزد پای / فرشته‌ات به دو دست دعا نگه دارد» از چند جمله تشکیل شده است؟

- (۱) ۳ (۲) ۴ (۳) ۲ (۴) ۵

۲۳- متضاد کلمات «شهرت، نمایان، اشتیاق» به ترتیب در کدام گزینه آمده است؟

- (۱) گم‌نامی، پنهان، بی‌میل
 (۲) ناآشنا، آشکار، رغبت
 (۳) سرشناس، پنهان، باعلاقه
 (۴) غریب، روشن، بی‌رغیب

مطالعات اجتماعی

۲۴- کدام مورد یک گروه به حساب می‌آید؟

- (۱) افراد منتظر در بانک
 (۲) افراد در صف نانوايي
 (۳) دانش‌آموزان شرکت‌کننده در سرود مدرسه
 (۴) خریداران در فروشگاه

۲۵- کدام مورد نمی‌تواند موجب مهاجرت جمعیت از یک مکان باشد؟

- (۱) خشکسالی (۲) بیمارستان مجهز (۳) شغل زیاد (۴) وجود کارخانه‌ها

۲۶- مهم‌ترین منبع آب شیرین کدام است؟

- (۱) قنات (۲) چاه (۳) رود (۴) چشمه

۲۷- مواد اولیه برای تولید مواد شیمیایی در کارخانه‌های پتروشیمی چیست؟

- (۱) نفت و رنگ (۲) زغال سنگ (۳) نفت و گاز (۴) کود شیمیایی و مواد شوینده

۲۸- کدام مورد از صادرات استان گیلان نمی‌باشد؟

- (۱) چای (۲) پسته (۳) برنج (۴) زیتون

۲۹- هدایت‌گر کشتی چه نام دارد؟

- (۱) خلبان (۲) راهبر (۳) لوکوموتیوران (۴) کاپیتان

۳۰- کدام مورد، وظیفه‌ی قوه‌ی مقننه است؟

- (۱) رسیدگی به اختلافات مردم
 (۲) اجرای قوانین
 (۳) تأمین آسایش و رفاه برای مردم
 (۴) قانون‌گذاری

علوم تجربی

- ۳۱- برای بررسی درستی یا نادرستی فرضیه کدام یک انجام می‌شود؟
 (۱) آزمایش (۲) ارائه‌ی فرضیه‌ی جدید (۳) ارائه‌ی نظریه (۴) تکرار مشاهده و پرسش
- ۳۲- در کدام مرحله از فعالیت‌های علمی، تقریباً تمامی مهارت‌های شخصی استفاده می‌شود؟
 (۱) مشاهده (۲) پیش‌بینی (۳) آزمایش (۴) برقراری ارتباط
- ۳۳- نوع تغییر ایجادشده در کدام گزینه با بقیه موارد متفاوت است؟
 (۱) پف کردن خمیر نان (۲) تبدیل انگور به سرکه (۳) تبدیل آب به یخ (۴) ترش شدن شیر
- ۳۴- کدام مورد در انجام تغییرات شیمیایی تأثیر کم‌تری دارد؟
 (۱) گرما (۲) اکسیژن (۳) فشار هوا (۴) نور
- ۳۵- در کدام یک از گزینه‌های زیر از عدسی استفاده نشده است؟
 (۱) میکروسکوپ (۲) تلسکوپ (۳) عینک (۴) چراغ مطالعه
- ۳۶- با کدام یک نمی‌توان تصویر جسم را بزرگ‌تر دید؟
 (۱) عدسیبرآمده (۲) آینه‌ی تخت (۳) لیوان پر از آب (۴) قطره‌ی آب
- ۳۷- در کدام یک فسیل تشکیل نمی‌شود؟
 (۱) درون مواد مذاب آتشفشان (۲) درون شیرهی گیاهان (۳) درون سنگ‌های رسوبی (۴) در یخچال‌های قطبی
- ۳۸- کدام گزینه مناسب‌ترین مکان و شرایط برای دفن شدن سریع جانداران برای تشکیل فسیل است؟
 (۱) رسوبات دریایی (۲) شیرهی گیاهان (۳) یخ‌های قطبی (۴) خاک دشت‌ها
- ۳۹- کدام گزینه در مورد فسیل‌های قدیمی‌تر درست است؟
 (۱) معمولاً تنوع بیشتری دارند. (۲) در لایه‌های رسوبی پایین‌تر قرار می‌گیرند. (۳) مربوط به جانوران کامل‌ترند. (۴) دارای سازگاری بیشتری با محیط هستند.
- ۴۰- کدام مورد از کاربردهای فسیل‌ها نیست؟
 (۱) بررسی آب‌وهوای گذشته‌ی زمین (۲) تشخیص محل معادن مواد دریایی (۳) تعیین مواد موجود در پوسته‌ی زمین (۴) معین کردن مرز خشکی‌ها و دریا‌های قدیمی
- ۴۱- از نظر ارادی و غیرارادی بودن کدام ماهیچه با بقیه تفاوت بیشتری دارد؟
 (۱) قلب (۲) معده (۳) دیافراگم (در تنفس نقش دارد) (۴) روده
- ۴۲- کدام یک از استخوان‌ها از نظر شکل با بقیه تفاوت بیشتری دارد؟
 (۱) ران (۲) بازو (۳) دنده (۴) درشت نی (ساق پا)
- ۴۳- کدام یک برای محکم‌شدن استخوان‌ها مفید نیست؟
 (۱) ورزش (۲) خوردن کلسیم (۳) خوردن شیر (۴) تصویرگرفتن از محل شکستگی

۴۴- کدام مماهیچه در هضم غذا نقشی ندارد؟

- (۱) مری (۲) نای (۳) زبان (۴) معده

۴۵- کدام استخوان به صورت یک تکه نیست؟

- (۱) ران (۲) بازو (۳) مهره (۴) جمجمه

ریاضی

۴۶- یک عدد دورقمی، ۷ برابر مجموع رقم‌هایش می‌باشد. اگر جای رقم‌های آن عدد را عوض کنیم، ۱۸ واحد از آن کم می‌شود. آن عدد کدام است؟

- (۱) ۳۲ (۲) ۴۲ (۳) ۲۷ (۴) ۱۶

۴۷- یک ساعت رومیزی در هر شبانه‌روز ۹ دقیقه تندتر کار می‌کند. پس از چند شبانه‌روز، این ساعت دوباره وقت صحیح را نشان می‌دهد؟

- (۱) ۱۶۰ (۲) ۸۰ (۳) ۶۰ (۴) ۱۲۰

۴۸- از میان اعداد زیر کدام یک بر ۲، ۵، ۳ و ۹ بخش پذیر هستند؟

- (۱) ۲۳۰۴۰ (۲) ۱۷۵۲ (۳) ۶۹۷۹ (۴) ۱۵۴۰

۴۹- کدام کسر بین دو کسر $\frac{1}{5}$ و $\frac{1}{3}$ قرار دارد؟

- (۱) $\frac{5}{30}$ (۲) $\frac{8}{30}$ (۳) $\frac{6}{15}$ (۴) $\frac{5}{10}$

۵۰- خمس ربع ثلث نصف عدد ۳۶۰ چقدر می‌شود؟

- (۱) ۶ (۲) ۵ (۳) ۴ (۴) ۳

۵۱- اتوبوسی ۴۸ مسافر داشت در یک ایستگاه $\frac{1}{3}$ آن‌ها پیاده شدند و به اندازه $\frac{1}{3}$ باقی‌مانده سوار شدند. حالا اتوبوس چند مسافر دارد؟

- (۱) ۴۸ (۲) ۳۶ (۳) ۲۶ (۴) ۵۰

۵۲- کدام یک از کسرهای زیر از بقیه کوچک‌تر است؟

- (۱) $\frac{1}{5}$ (۲) $\frac{2}{5}$ (۳) $\frac{2}{3}$ (۴) $\frac{3}{3}$

۵۳- اختلاف دو کسر داده شده در کدام گزینه بزرگ‌تر از بقیه است؟

- (۱) $\frac{1}{6}, \frac{2}{6}$ (۲) $\frac{9}{7}, \frac{10}{7}$ (۳) $\frac{5}{4}, \frac{6}{4}$ (۴) $\frac{14}{3}, \frac{15}{3}$

۵۴- نسبت پول دو نفر ۴ به ۳ است. اگر اختلاف پول آن‌ها ۶۴ هزار تومان باشد مجموع پول آن‌ها چند تومان است؟

- (۱) ۲۵۶ هزار تومان
 (۲) ۱۹۲ هزار تومان
 (۳) ۸۴۴ هزار تومان
 (۴) ۴۴۸ هزار تومان

۵۵- طول شمعی ۷ سانتی‌متر است. اگر این شمع در موقع سوختن هر ۴ دقیقه ۳ میلی‌متر کوتاه شود، چند ساعت طول می‌کشد تا کل شمع بسوزد؟

- (۱) ۵
 (۲) ۷
 (۳) ۶
 (۴) ۱۲

۵۶- ۲۵٪ عددی برابر است با نصف عدد ۴۱۰، آن عدد کدام است؟

- (۱) ۸۲۰
 (۲) ۲۷۰
 (۳) ۵۴۰
 (۴) ۳۵۰




۵۷- قیمت بنزین از ۴۰۰ تومان به ۱۰۰۰ تومان افزایش یافته است. چند درصد به قیمت بنزین افزوده شده است؟

- (۱) ۱۰۰٪
 (۲) ۱۲۰٪
 (۳) ۱۵۰٪
 (۴) ۱۷۰٪


۵۸- ساده شده‌ی کسر $\frac{۷۷ \times ۲۲ \times ۱۶۹ \times ۲۵}{۱۳ \times ۵۰ \times ۱۴ \times ۱۲۱}$ کدام مورد است؟

- (۱) $\frac{۷}{۱۱}$
 (۲) $\frac{۱۳}{۲}$
 (۳) $\frac{۱}{۲}$
 (۴) $\frac{۲۵}{۱۳}$


۵۹- اگر دو شکل روبه‌رو را برهم منطبق کنیم چه شکلی به دست می‌آید؟




(۲)



(۱)



(۴)



(۳)

۶۰- اگر عدد ۱۲۳ را ۹۹ بار در خودش ضرب کنیم، رقم یکان حاصل ضرب، کدام گزینه خواهد بود؟

- (۱) ۱
 (۲) ۳
 (۳) ۹
 (۴) ۷

روزهای آزمون ساغر

برنامه‌ی قرارگیری آزمون‌های تمرینی - تستی در کانال و سایت آموزشی ساغر

(سوالات شبیه‌ساز آزمون‌های تیزهوشان و نمونه‌دولتی)

ویژه‌ی پایه‌های مختلف تحصیلی (از پایه سوم تا نهم)

پایه تحصیلی							زمان آزمون	
نهم	هشتم	هفتم	ششم	پنجم	چهارم	سوم	تاریخ	روز
			مرحله ۱			مرحله ۱	۹۶ / ۲ / ۲	شنبه
مرحله ۱				مرحله ۱	مرحله ۱		۹۶ / ۲ / ۳	یکشنبه
		مرحله ۱	مرحله ۲				۹۶ / ۲ / ۴	دوشنبه
	مرحله ۱			مرحله ۲			۹۶ / ۲ / ۵	سه‌شنبه
مرحله ۲			مرحله ۳			مرحله ۲	۹۶ / ۲ / ۶	چهارشنبه
				مرحله ۳	مرحله ۲		۹۶ / ۲ / ۷	پنجشنبه
		مرحله ۲	مرحله ۴				۹۶ / ۲ / ۸	جمعه
مرحله ۳			مرحله ۵	مرحله ۴			۹۶ / ۲ / ۹	شنبه
	مرحله ۲		مرحله ۶			مرحله ۳	۹۶ / ۲ / ۱۰	یکشنبه
			مرحله ۷	مرحله ۵	مرحله ۳		۹۶ / ۲ / ۱۱	دوشنبه
مرحله ۴		مرحله ۳	مرحله ۸				۹۶ / ۲ / ۱۲	سه‌شنبه
							۹۶ / ۲ / ۱۳	چهارشنبه
آزمون تیزهوشان ششم به هفتم							۹۶ / ۲ / ۱۴	پنجشنبه
آزمون تیزهوشان نهم به دهم							۹۶ / ۲ / ۱۵	جمعه

- طبق برنامه‌ریزی انجام شده فایل PDF دفترچه سوالات همراه با پاسخنامه به صورت روزانه در سایت و کانال آموزشی ساغر قرار داده خواهد شد.

مدیریت گروه آموزشی ساغر - احمد فرقان

www.sagharedu.ir

کانال تلگرام: [telegram.me/sagharedu](https://t.me/sagharedu)

پاسخنامه‌ی آزمون تمرینی – تستی ساغر (مرحله‌ی دوم پایه پنجم)

پاسخ‌های خود را با پاسخ‌های صحیح مطابقت داده و اشکالات خود را با مطالعه بیشتر، رفع نمایید.

پاسخنامه کلیدی

ردیف	۱	۲	۳	۴	ردیف	۱	۲	۳	۴	ردیف	۱	۲	۳	۴
۱	*				۲۱			*		۴۱			*	
۲		*			۲۲		*			۴۲			*	
۳		*			۲۳	*				۴۳				*
۴	*				۲۴			*		۴۴		*		
۵			*		۲۵	*				۴۵				*
۶	*				۲۶			*		۴۶		*		
۷			*		۲۷			*		۴۷		*		
۸			*		۲۸		*			۴۸	*			
۹				*	۲۹				*	۴۹		*		
۱۰		*			۳۰				*	۵۰				*
۱۱		*			۳۱	*				۵۱	*			
۱۲			*		۳۲			*		۵۲	*			
۱۳		*			۳۳			*		۵۳				*
۱۴		*			۳۴			*		۵۴				*
۱۵			*		۳۵				*	۵۵			*	
۱۶			*		۳۶		*			۵۶	*			
۱۷			*		۳۷	*				۵۷			*	
۱۸				*	۳۸			*		۵۸		*		
۱۹			*		۳۹		*			۵۹	*			
۲۰			*		۴۰			*		۶۰	*			

وب سایت آموزشی
ساغر

کمک آموزشی معلمان

نمونه سوالات امتحانی

آزمون های آنلاین

آزمون های ساغر

کانون معلمان ساغر

روان شناسی و مشاوره

فروشگاه آموزشی ساغر

دستان شاهد پیران

وب سایت آموزشی ساغر

www.sagharedu.ir

ارائه مطالب کمک آموزشی (ویژه دانش آموزان و دبیران گرامی)

تهیه و تنظیم نمونه سوالات امتحانی (به صورت ماهانه)

ارائه جزوه و سوالات درس به درس آموزشی

طراحی پیک های آدینه و بسته های عیدانه

برگزاری آزمون های برنامه ریزی شده

برگزاری آزمون های آنلاین

مدیریت گروه آموزشی ساغر - احمد فرقدان

0265-094-0912-@info@sagharedu.ir

@sagharedu

@sagharedu.ir

در تمامی امور تحصیلی همراه شما هستیم ...

کاری از
گروه آموزشی



مدیریت گروه آموزشی ساغر - احمد فرقدان

0912 094 0265

به روش ساغر

۳۳۳
برنامه ریزی + تمرین تست

[www.sagharedu.ir]

خرای تهیه کتاب نه سایت آموزشی ساغر مراجعه نمایید.



قابل استفاده برای دانش آموزان تمامی مقاطع تحصیلی
کمک به مطالعه و تست زنی منظم و مدیریت زمان
امکان ثبت برنامه ها به صورت روزانه و هفتگی
ارزیابی عملکرد به صورت روزانه و هفتگی

مؤلف: احمد فرقدان



منتشر شد!

قابل استفاده برای دانش آموزان تمامی مقاطع تحصیلی
کمک به مطالعه و تست زنی منظم و مدیریت زمان
امکان ثبت برنامه ها به صورت روزانه و هفتگی
ارزیابی عملکرد به صورت روزانه و هفتگی

5000 5410 9350 @ info@sagharedu.ir @sagharedu.ir @sagharedu



فرونتگاه آموزشی ساغر



امکان خرید آنلاین و ارسال به سراسر کشور

[www.sagharedu.ir]

مدیریت گروه آموزشی ساغر - احمد فرقدان