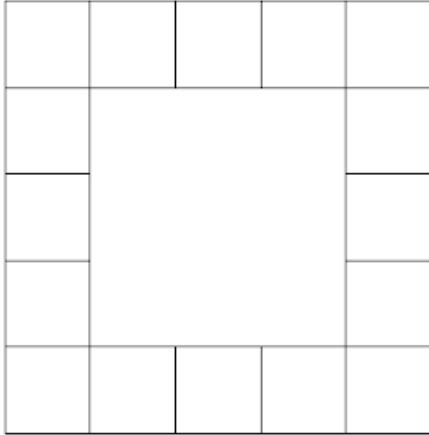
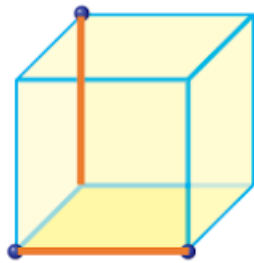




۲. حجمی از هر طرف به صورت زیر دیده می‌شود. برای ساخت آن حداقل به چند مکعب نیاز است؟

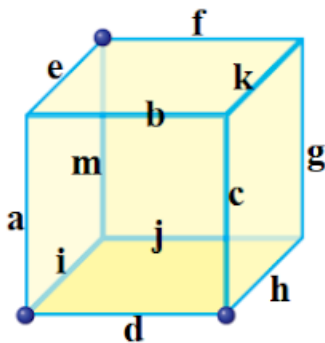


24



۳. در کتاب تکمیلی صفحه‌های ۸۹ و ۹۰ دستورات a, b, c و d را توضیح داده است. مکعب روبرو را در نظر بگیرید. دستور cdbaccab را روی آن اجرا کنید.

در انتها کدام یک از یال‌های مکعب قرمز رنگ هستند. یال‌های abcd جلوی مکعب هستند.



به عنوان مثال اگر جواب شما یال‌های m و c است.

بنویسید mc یا cm با حروف کوچک بدون فاصله!

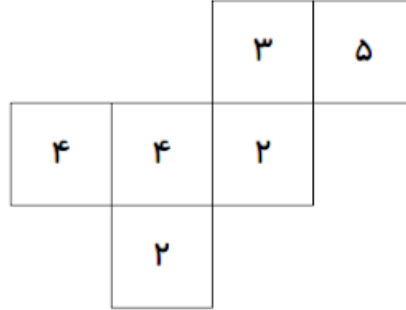
ej, je



سوال 4

2 points

۴. اگر با شکل زیر یک مکعب بسازیم، بزرگ‌ترین مجموع تعداد اعداد سه وجه با راس مشترک چه قدر می‌شود؟



12

سوال 5

1 point

۵. نام یک حیوان دو یا سه حرفی بگویید که بقیه به نظرتان نگفته باشند... تنها یک کلمه و با حروف فارسی ارسال کنید... اگر جوابتان منحصر به فرد باشد امتیاز می‌گیرید.

هر حیوان منحصر به فرد که نوشته باشید

Page 2 of 2

Back

Submit

Never submit passwords through Google Forms.

This content is neither created nor endorsed by Google. [Report Abuse](#) - [Terms of Service](#) - [Privacy Policy](#).

Google Forms

