

اداره کل آموزش و پرورش
 معاونت آموزش متوسطه
 اداره آموزش دوره اول متوسطه

آزمون پیشرفت تحصیلی

پایه هفتم

دانش پیامزید که آموختن آن پاداش دارد و جستجوی آن عبادت است.

امام محمد باقر(ع)

نام درس	تعداد سوال	شماره سوال	زمان بندی
ادبیات فارسی	۱۰	۱-۱۰	۱۰
عربی	۱۰	۱۱-۲۰	۱۰
پیام‌های آسمان و قرآن	۱۰	۲۱-۳۰	۱۰
ریاضی	۱۵	۳۱-۴۵	۲۰
علوم تجربی	۱۵	۴۶-۶۰	۲۰
مطالعات اجتماعی	۱۰	۶۱-۷۰	۱۰
زبان انگلیسی	۱۰	۷۱-۸۰	۱۰
جمع	۸۰	۱-۸۰	۹۰

پاسخ اشتباه نمره منفی دارد

تاریخ: آذر ماه ۱۳۹۳

سال تحصیلی: ۱۳۹۳-۹۴

کد ۱

فارسی

۱- معنای لغوی کدام واژه‌ی مشخص شده نادرست است؟

- ۱) هم قصه‌ی نانموده ، دانی: پنهان
- ۲) اینها چرا صلاح و پاکدامنی و پارسایی و صداقت جوانان را نمی‌بینند؟ دوستی
- ۳) فارغ از سنگ بچه‌ها باشیم: آسوده
- ۴) کمی بعد دست و پایش از تقلا افتاد. تلاش

۲- معنای درست هر یک از واژه‌های « اعجاز ، غیرت ، مقتدر » به ترتیب کدام است؟

- ۱) شگفتی - تعصب - جوانمرد
- ۲) شگفت‌زده - حساسیت - پایدار
- ۳) معجزه - مردانگی - سربلندی
- ۴) انجام دادن کار شگفت - آبرو - توانا

۳- در کدام گزینه غلط املایی وجود دارد؟

- ۱) دانه آرام بر زمین غلتید
 - ۲) روشن و گرم و زندگی پرداز
 - ۳) توی گلدسته‌های یک گنبد
 - ۴) شبینم از روی برگ گل برخواست
- رفت و انشای کوچکش را خواند
آسمان مثل یک تبسم شد
روز و شب زائر حرم باشیم
گفت: می‌خواهم آفتاب شوم

۴- در گروه کلمات زیر چند غلط املایی وجود دارد؟

- عنایت الهی، خواب قفلت، تقصیر و کوتاهی ، جاذبه‌ی خالق، مهارت دل نشین، حصرت و آه، زُل زد، مسحف عزیز، روح مُذاب، سبزه‌های معصوم
- ۱) دو مورد
 - ۲) سه مورد
 - ۳) چهار مورد
 - ۴) پنج مورد

۵- مؤلف کدام اثر درست ذکر نشده است؟

- ۱) مثل چشمه مثل رود: قیصر امین‌پور
- ۲) به هوای گل سرخ: طاهره ایبند
- ۳) مثنوی گلشن راز: خواجه عبدالله انصاری
- ۴) مخزن‌الاسرار: نظامی

۶- در کدام گزینه آرایه‌ی «تشبیه» وجود دارد؟

- ۱) برگ درختان سبز در نظر هوشیار
 - ۲) از ظلمت خود رهایی‌ام ده
 - ۳) جوجه‌ی کوچک پرستو گفت
 - ۴) بهتر از هرچه هست در دنیا
- هر ورقش دفتری است معرفت کردگار
با نور خود آشنایی‌ام ده
کاش با باد رهسپار شوم
با خدا راز گفتنت امروز

۷- توضیح همه گزینه‌ها درست است به جز گزینه‌ی

- ۱) از تشبیه برای زیبایی و تأثیرگذاری سخن و نوشته استفاده می‌شود.
- ۲) «فعل» بخش اصلی معنای جمله و انتقال دهنده‌ی پیام است.
- ۳) هرگاه ویژگی‌های انسان را به غیر انسان نسبت دهیم به آن «تشخیص» می‌گویند.
- ۴) وقتی بخوایم مقصود و منظور خود را زیباتر بیان کنیم، از زبان بهره می‌گیریم.

۸- در کدام گزینه «مفعول» درست ذکر نشده است؟

- ۱) رزمندگان، دشمن را از خاک ما بیرون انداختند. دشمن
- ۲) ایمان و پاکدامنی‌تان را حفظ کنید. ایمان و پاکدامنی‌تان
- ۳) زنگ تفریح را که زنجره زد. زنجره
- ۴) مینا نامه را خواند. نامه

۹- متن زیر از انواع جمله‌ها بهره‌مند است به جز جمله‌ی
 «آیا منظور از خوش بودن در این شعر، خنده‌های بیهوده و خوش‌گذرانی و به قول بعضی الکی خوش بودن است؟ «نه» خوشی واقعی دل‌های دیگران را شاد کردن و گره از کار دیگران گشودن است. آه، ای کاش عقلِ بی درد اینها را می‌فهمید!»

(۱) امری (۲) خبری (۳) عاطفی (۴) پرسشی

۱۰- مفهوم کلی بیت زیر با کدام گزینه تناسب معنایی ندارد؟

«جهان جمله فروغ روی حق دان / حق اندر وی ز پیدایی است پنهان»

(۱) به نزد آن که جانش در تجلی است
 (۲) کدام برگ درخت است اگر نظر داری
 (۳) در جهان هر جا که هست آرایشی
 (۴) جهان و کار جهان هیچ بر هیچ است

همه عالم کتاب حق تعالی است
 که سرّ صنع (= آفرینش) الهی بر او نه مکتوب است
 پرتو از روی جهان آرای توست
 هزار بار من این نکته کرده‌ام تحقیق

عربی

۱۱- کدام گزینه نادرست ترجمه شده است؟

(۱) العالم بلا عَمَلٍ كالشَّجَرِ بلا ثَمَرٍ ← عالم بدون عمل مانند درخت بدون میوه است.
 (۲) مُجَالَسَةُ الْعُلَمَاءِ عِبَادَةٌ ← همنشینی کردن دانشمندان برای ما عبادت است.
 (۳) ذَلِكُ الشَّاعِرِ نَاجِحٌ ← آن شاعر، موفق است.
 (۴) آدَبُ الْمَرْءِ خَيْرٌ مِنْ دُهْبِهِ ← ادب انسان بهتر از طلایش است.

۱۲- ترجمه درست عبارت در کدام گزینه است؟ «لَهَذَا الصَّفَفِ ، نَافِذَتَانِ جَمِيلَتَانِ»

(۱) آن کلاس، دو درب زیبا دارد.
 (۲) این کلاس، دو پنجره زیبا دارد.
 (۳) برای این کلاس زیبا، دو پنجره است.
 (۴) این کلاس زیبا، دو پنجره دارد.

۱۳- ترجمه درست را انتخاب کنید. «عَدَاوَةُ الْعَاقِلِ خَيْرٌ مِنْ صَدَاقَةِ الْجَاهِلِ»

(۱) دشمنی عاقل بهتر از دوستی نادان است.
 (۲) دشمن عاقل بهتر از دوست نادان است.
 (۳) دشمنی کردن با عاقل بهتر از دوستی کردن با نادان است.
 (۴) دشمنی عاقل برای دوستی نادان بهتر است.

۱۴- جای خالی را با کلمه مناسب پر کنید: «..... کلام جوابه سکوت»

(۱) رَبِّ (۲) رَبِّ (۳) رَبِّ (۴) رَبِّ

۱۵- پاسخ صحیح را انتخاب نمایید. «هل انت معلم؟»

(۱) نعم، انت معلم (۲) لا، انت معلم (۳) نعم، نحن معلمون (۴) لا، انا طالب

۱۶- در کدام گزینه جمع سالم به کار رفته است؟

(۱) هذه حدائق جميلة
 (۲) اولئك اللعابات الفائزات.
 (۳) خیر الامور اوسطها
 (۴) الولد الصالح فخر للوالدين

۱۷- گزینه درست را انتخاب کنید.

(۱) هذا المدرسة كبيرة
 (۲) تلك الكاتبة، نظيفة
 (۳) هذان الطالبان، مسروران
 (۴) هاتان المجاهدون، صابرون

۱۸- جای خالی را پر کنید. ما المشكىل ؟ ما المشكىل ؟

(۱) هو (۲) هي (۳) انت (۴) انت

۱۹- پاسخ صحیح را بیابید. «من اين انت ؟»

(۱) انت ایرانی (۲) انت مصری (۳) انا ایرانی (۴) انا مصریة

۲۰- کدام گزینه نادرست است؟

- (۱) هولاء اللاعبون ، فائزون
(۲) اولئک اللعابت ، فائزات
(۳) عباس و هاشم ، مسرورون
(۴) هاتان الوردتان ، جميلتان

پیام های آسمان و قرآن

۲۱- « هُدَى » به چه معنی است؟

- (۱) اسم یکی از پیامبران الهی
(۲) اسم دختر یکی از پیامبران الهی
(۳) هدایت
(۴) نام پرنده‌ای به نام هبهد

۲۲- کدام یک جزو آداب باطنی تلاوت قرآن کریم است؟

- (۱) سعی کنیم هنگام قرائت ، به معنای آیات نیز توجه کنیم .
(۲) وضو بگیریم
(۳) با صوت زیبا تلاوت کنیم .
(۴) هنگام قرائت ، در مقابل قرآن ، مؤدب بنشینیم .

۲۳- « عَلَى كُلِّ شَيْءٍ » به چه معناست؟

- (۱) روی هر چیز
(۲) بر هر چیز
(۳) علی امام هر چیز
(۴) زیر هر چیز

۲۴- با توجه به آیه « وَ مَا تَوْفِيقِي إِلَّا بِاللَّهِ » موفقیت تنها با یاری چه کسی ممکن است؟

- (۱) خدا
(۲) توفیق
(۳) پدر و مادر
(۴) معلم

۲۵- با شکرگزاری چه نتایجی برای ما به دست می‌آید؟

- (۱) خداوند از ما راضی می‌شود و می‌گوییم اَلْحَمْدُ لِلَّهِ
(۲) خداوند بهشت را به ما خواهد داد
(۳) زبانمان همیشه به شکر باز خواهد بود می‌گوییم اَلْحَمْدُ لِلَّهِ
(۴) خداوند از ما راضی شده و نعمت‌های بیشتری به ما خواهد داد

۲۶- چرا معاذبن جبل دچار فشار قبر شد؟

- (۱) به خاطر پرخاشگری
(۲) نیکی نکردن به پدر و مادر
(۳) بداخلاقی با خانواده
(۴) صدقه ندادن

۲۷- چرا افراد با ایمان از مرگ هراسی ندارند؟

- (۱) زیرا پاداششان جز نیکی نیست .
(۲) زیرا به خدا ایمان دارند .
(۳) چون می‌دانند که با فرشتگان خداوند روبه‌رو خواهند شد .
(۴) زیرا می‌دانند که در زندگی جدید نیز در آرامش و راحتی هستند .

۲۸- بر طبق فرمایش امام صادق (ع) چه کسانی در دنیا هرگز فقیر و تهیدست نمی‌شوند؟

- (۱) هر کس پیوند خود را با بستگانش محکم کند .
(۲) کسانی که روزشان را با صدقه شروع کنند .
(۳) با پدر و مادرش بسیار خوشرفتار و مهربان باشد .
(۴) گزینه ۱ و ۳ صحیح است .

۲۹- کدام جمله صحیح است ؟

- (۱) پیامبر هیچ وقت کارهای شخصی خود را به دیگران نمی‌سپرد حتی درخواست برای چوب خلال دندان .
(۲) پیامبر گاهی کارهای شخصی خود را از دیگران می‌خواست .
(۳) پیامبر هیچ وقت کارهای مردم را به خود آنها واگذار نمی‌کرد .
(۴) پیامبر هیچ وقت کارهای شخصی دیگران را انجام نمی‌داد زیرا این کار را ناشایست می‌دانست .

۳۰- بنا به فرمایش امام صادق (ع) صدقه دادن موجب چه چیزی می‌شود؟

- (۱) نجات از مرگ بد ، ایمان کامل
(۲) ایمان کامل ، رهایی از هفتاد نوع بلاست
(۳) نجات از مرگ بد و پرهیزگاری
(۴) نجات از مرگ بد ، رهایی از هفتاد نوع بلاست

ریاضی

۳۱- با رقم‌های ۴ و ۵ و ۸ چند عدد ۳ رقمی بزرگ‌تر از ۵۰۰ می‌توان نوشت که از هر ۳ رقم استفاده کرد؟

- (۱) ۴ (۲) ۶ (۳) ۸ (۴) ۹

۳۲- تویی از ارتفاع ۲۷ متری سطح زمین رها می‌شود و در هر بار پس از زمین خوردن به اندازه ثلث مسیر قبل بالا برمی‌گردد اگر توپ را پس از سومین برخورد با زمین بگیریم توپ چه مسافتی را طی کرده است؟

- (۱) ۴۵ (۲) ۵۱ (۳) ۳۷ (۴) ۴۰

۳۳- با انگشتان یک دست به چند صورت می‌توان عدد ۳ را نشان داد؟

- (۱) ۸ (۲) ۹ (۳) ۱۰ (۴) ۱۱

۳۴- مجموع ۳ عدد زوج متوالی کدام می‌تواند باشد؟

- (۱) ۲۱ (۲) ۳۲ (۳) ۴۶ (۴) ۳۶

۳۵- قرینه نقطه ۷ - نسبت به نقطه ۳ + کدام است؟

- (۱) ۷ + (۲) ۱۰ + (۳) ۱۳ - (۴) ۱۳ +

۳۶- حاصل عبارت $(5 \times 2 \div 2 - 3) - 3$ برابر است با:

- (۱) ۳ (۲) ۱۲ - (۳) ۳ - (۴) ۱۲

۳۷- میانگین عددهای صحیح بین ۹ - و ۱۲ + برابر کدام گزینه است؟

- (۱) $10\frac{1}{5}$ (۲) ۱۱ (۳) $1\frac{1}{5}$ (۴) ۱۰

۳۸- جای \square چه عددی را قرار دهیم تا تساوی برقرار شود؟

$$9 - 8 - 8(8 - 7 - 7(6 - 6(5 - 5(4 - 4(3 - 3(2 - 2(\square)))))) = 1$$

- (۱) ۱ (۲) صفر (۳) ۱ - (۴) ۲

۳۹- حاصل عبارت $(73 - 13) \dots (293 - 73)$ برابر است با:

- (۱) ۲۶۰۳۵۴۰۰۰ (۲) ۲۶۰۰۰۰۰۰۰۰ (۳) $260 \times 240 \times 220 \times \dots \times 60$ (۴) صفر

۴۰- حاصل عبارت $\frac{3}{(1 \times 4)} + \frac{3}{(4 \times 7)} + \frac{3}{(7 \times 10)} + \dots + \frac{3}{(31 \times 34)}$ برابر است با:

- (۱) $\frac{3}{34}$ (۲) $\frac{1}{34}$ (۳) $\frac{33}{34}$ (۴) $\frac{34}{33}$

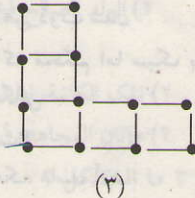
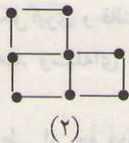
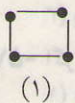
۴۱- کدام عبارت جبری را می‌توان ساده کرد؟

- (۱) $2 + 2x$ (۲) $3x + y$ (۳) $5ab - ba$ (۴) $ab + 3b$

۴۲- معادله $(x - 4)(2x - 2)(x + 5) = 0$ چند جواب دارد؟

- (۱) ۲ (۲) ۱ (۳) ۳ (۴) هیچ

۴۳- در دنباله‌ی شکلی مقابل که با چوب کبریت ساخته‌ایم دقت کنید با ۷۶ چوب کبریت شکل چندام ساخته می‌شود؟



- (۱) یازدهم
(۲) دهم
(۳) دوازدهم
(۴) سیزدهم

۴۴- سن پدری پنج برابر سن پسرش است ۸ سال بعد سن پدر سه برابر سن پسر خواهد شد. سن فعلی پسر کدام است؟

- (۱) ۶ (۲) ۱۲ (۳) ۱۰ (۴) ۸

۴۵- اگر $a + b = 3$, $b + c = 5$, $a + c = 8$ باشد حاصل $a + b + c$ برابر است با:

- (۱) ۱۶ (۲) ۸ (۳) ۰ (۴) ۳۲

علوم تجربی

۴۶- مهم ترین نکته در علم کدام است؟

- (۱) مشاهده دقیق (۲) استفاده از ابزارهای اندازه گیری دقیق
(۳) تفسیر دقیق و علمی داده ها و نتایج تحقیق (۴) پرسیدن سوال و یافتن جواب

۴۷- در تبدیل سوخت هسته ای برای فعالیت های صلح آمیز کدام شاخه ی علم به کار گرفته شده است؟

- (۱) شیمی و فیزیک (۲) زمین شناسی و زیست شناسی
(۳) شیمی و زیست شناسی (۴) گزینه ۱ و ۲

۴۸- اگر مکعبی داشته باشیم به جرم ۲ کیلوگرم و به ابعاد $10 \times 20 \times 40$ سانتی متر، چگالی آن چقدر است؟

- (۱) $\frac{1}{4}$ کیلوگرم بر سانتی متر مکعب (۲) ۴ گرم بر سانتی متر مکعب
(۳) 0.25 گرم بر سانتی متر مکعب (۴) ۴ کیلوگرم بر متر مکعب





۴۹- دقت اندازه گیری به چه چیزهایی بستگی دارد؟

- (۱) دقت شخصی اندازه گیر (۲) دقت وسیله اندازه گیر (۳) زمان اندازه گیری (۴) گزینه های ۱ و ۲

۵۰- کدام توصیف زیر صحیح است؟

- (۱) اتم ها با چشم مسلح نیز دیده نمی شوند. (۲) اتم ها را نمی توان به طور مستقیم مشاهده کرد.
(۳) اتم ها را می توان به طور غیرمستقیم بررسی کرد. (۴) هر سه گزینه درست است.

۵۱- کدام یک عنصر را نشان می دهد؟

- (۱)  (۲)  (۳)  (۴) 

۵۲- کدام ماده هم در اثر گرما و هم در اثر وارد کردن فشار تغییر حجم بیشتری پیدا می کند؟

- (۱) جیوه (۲) الکل (۳) اکسیژن (۴) آلومینیوم

۵۳- کدام ماده از اتم های یکسان ساخته شده است؟

- (۱) آب (۲) اکسیژن (۳) گوگرد (۴) مس

۵۴- کدام ماده سختی بیشتری دارد؟

- (۱) مس (۲) چوب (۳) الماس (۴) آلومینیوم

۵۵- آلیاژ فولاد زنگ نزن از چه موادی تشکیل شده است؟

- (۱) کربن، کروم و آهن (۲) قلع، مس و آهن (۳) روی، کربن و آهن (۴) نیکل، کروم و آهن

۵۶- چرا سنگ معدن آهن را در کوره های بلند همراه با زغال کک (کربن) حرارت می دهند؟

- (۱) برای خالص سازی سنگ معدن (۲) برای جداسازی اتم های اکسیژن از سنگ معدن آهن
(۳) برای شکل گیری و قالب گیری آهن ذوب شدن (۴) هر سه گزینه

۵۷- اگر بخواهید وسیله ای بسازید که محکم اما سبک باشد باید به کدام ویژگی ماده توجه شود؟

- (۱) جرم (۲) چگالی (۳) انعطاف پذیری (۴) سختی

۵۸- بتن مخلوطی از چه موادی است؟

- (۱) سیمان، ماسه، آب (۲) آهک، ماسه، آب (۳) سیمان، ماسه، آهک (۴) آب، آهک، ماسه

۵۹- ماده اولیه ظروف چینی کدام یک از مواد زیر است؟

- (۱) شن (۲) ماسه (۳) خاک رس (۴) سیمان

- ۶۰- از فلز آهن خالص در کدام یک می توان استفاده کرد؟
 (۱) تیر آهن در ساخت اسکلت ساختمان
 (۲) ورقه های آهنی در ساخت خودروها
 (۳) ورقه های آهنی در لوازم آشپزخانه
 (۴) هیچ کدام

مطالعات اجتماعی

- ۶۱- مهم ترین حق انسانها کدام اند؟
 (۱) حق داشتن غذا، لباس و مسکن
 (۲) حق برخورداری از سواد و تحصیل
 (۳) حق حیات یا زندگی
 (۴) حق داشتن رفاه و امنیت
- ۶۲- به وظایفی که هر یک از ما برعهده داریم و انتظار می رود آنها را انجام دهیم چه می گویند؟
 (۱) حق
 (۲) مسئولیت
 (۳) حقوق طبیعی
 (۴) حقوق متقابل
- ۶۳- مهم ترین علل به وجود آمدن مقررات در جامعه کدام گزینه است؟
 (۱) ایجاد عدالت
 (۲) حفظ حقوق افراد
 (۳) برقراری نظم
 (۴) برقراری نظم و حفظ حقوق افراد
- ۶۴- حقوق دان های شورای نگهبان از طرف به مجلس معرفی می شوند.
 (۱) رهبر
 (۲) قوه قضائیه
 (۳) رئیس مجلس شورای اسلامی
 (۴) مجلس خبرگان
- ۶۵- نقش کدام یک از عوامل زیر در تولید مهم تر است؟
 (۱) منابع طبیعی
 (۲) سرمایه
 (۳) نیروی انسانی
 (۴) امکانات
- ۶۶- استفاده از کالا و خدمات به منظور رفع نیازها را چه می گویند؟
 (۱) مصرف
 (۲) تولید
 (۳) توزیع
 (۴) استاندارد
- ۶۷- فعالیت های اقتصادی مربوط به کدام یک از ویژگی های جغرافیایی زیر است؟
 (۱) انسانی
 (۲) سیاسی
 (۳) اجتماعی
 (۴) طبیعی
- ۶۸- اگر در یک نقشه با مقیاس خطی $20 \text{ km} \rightarrow 1 \text{ cm}$ فاصله ی دو شهر کرج و تهران 3 cm باشد، فاصله حقیقی این دو شهر در روی زمین چند کیلومتر است؟
 (۱) 40 km
 (۲) 60 km
 (۳) 12 km
 (۴) 6 km
- ۶۹- ایجاد فرهنگ سرا و خانه های سلامت از وظایف کدام سازمان می باشد؟
 (۱) بیمه
 (۲) هلال احمر
 (۳) شهرداری
 (۴) نیروی انتظامی
- ۷۰- کوه های آذربایجان در قرار گرفته اند؟
 (۱) شمال شرقی
 (۲) شمال
 (۳) جنوب غربی
 (۴) شمال غربی

زبان انگلیسی

- ۷۱- علی برای ورود به سایت مدرسه باید نام کاربری (username) را کاملا به حروف بزرگ و کلمه عبور (password) را تماما با حروف کوچک تایپ کند. او این کار را چهار بار انجام داد تا موفق شد به نظر شما کدام یک از موارد زیر درست است؟

- | | |
|------------------------|----------------------|
| 1) password : Ba93dOrw | Username : A12MwZf11 |
| 2) password : ba93dorw | Username : A12MwZf11 |
| 3) password : ba93dorw | Username : A12MWZF11 |
| 4) password : ba93Dorw | Username : A12mWZF11 |

- ۷۲- دبیر زبان از دانش آموزان خواسته که اسامیشان را به انگلیسی بالای برگه بنویسند . به نظر شما

- کدام یک از بچه ها کارش را درست انجام داده است؟
- | | |
|------------------------|-------------------------|
| 1) Alireza Javadi | 2) AmirHossein Naseri |
| 3) Mohammad KamaliPoor | 4) Hassan Adabi tehrani |

- 73- به نظر شما کدام یک از بچه ها پاسخ معلم را به درستی نداده است؟
 Teacher : What's your first name ?
 Student : My first name is
- 1) Amir 2) Nader 3) Ahmad 4) Forootan
- 74- علی از دوستش خواست تا براساس پیامک زیر برایش کارت عضویت در آموزشگاه زبان صادر کند.
 کدام یک از کارت های شناسایی زیر درست است؟
 My name is Ali Javid. Im thirteen years old.
 My phone number is 37586954
- | | |
|--------------------------|--------------------------|
| 1) Arman Language school | 2) Arman Language school |
| First name : javid | First name : Ali |
| Last name : Ali | Last name : javid |
| Age : 13 | Age : 13 |
| Phone Number : 37586954 | Phone Number : 37586954 |
| 3) Arman Language school | 4) Arman Language school |
| First name : Ali | First name : javid |
| Last name : javid | Last name : Ali |
| Age : 30 | Age : 30 |
| Phone Number : 37586954 | Phone Number : 37586954 |
- 75- A : How old is your mother ? B: She is years old .
- 1) eleven 2) twelve 3) five 4) forty
- 76- A : B : Razavi , R - a - z - a - v - i
- 1) How do you spell your name ? 2) Who is that girl ?
- 3) What's your first name ? 4) Can I help you ?
- 77- با توجه به اطلاعات زیر گزینه صحیح را انتخاب کنید .
 نام : ناهید نام خانوادگی : نظری
 متولد : ۱۳۸۱/۸/۳
- A : When's your birthday, Nahid? B: Its in
- 1) Tir 2) Mehr 3) Khordad 4) Aban
- 78- دبیر زبان کلاس هفتم از سر گروه های درسی خواسته تا اسامی هر گروه را به ترتیب حروف الفبا بنویسند . کدام گروه این کار را به درستی انجام نداده است ؟
- | | | | |
|--------|---------|--------|--------|
| 1) | 2) | 3) | 4) |
| Abdi | Ebadi | Alavi | Babak |
| Bahari | Fardi | Ansari | Karimi |
| Davari | Hamedi | Irani | Souri |
| Fadaee | Sadeghi | Moradi | Omrani |
- 79- A: Who's that? B: She's mrs. Amini.
- 1) man 2) woman 3) girl 4) teachers
- 80- Twelve plus six is
- 1) eighteen 2) eleven 3) fourteen 4) six