





نام و نام خانوادگی:	بسمه تعالی هنرستان رسالت (سرخنکلاته)	مدت امتحان: ۵۰ دقیقه طراح: اسماعیلی
رشته: گرافیک کامپیوتری پایه دوم	طراحی امور گرافیکی (فتوشاپ)	تاریخ امتحان: ۱۳۹۳//

ردیف	سوالات
۱	خطوط برای نمایش " آرامش " در یک اثر به کار گرفته می شوند؟ الف) افقی (ب) عمودی (ج) منحنی (د) مایل
۲	کدام شکل هندسی " سیال و متحرک " است؟ الف) دایره (ب) مربع (ج) مثلث (د) لوزی
۳	بافتی که در عکس قابل مشاهده می باشد، بافت می گویند. الف) ترسیمی (ب) تصویری (ج) لامسه ای (د) حقیقی
۴	هویت یک مکعب بر روی صفحه دوبعدی ، به وسیله ی کدام یک از عوامل زیر تعریف می شود؟ الف) سطح (ب) تیرگی و روشنی (ج) نور (د) خط
۵	نمایش حجم سه بعدی یک منظره روی صفحه ی دو بعدی را می گویند. الف) سه بعدی (ب) پرسپکتیو (ج) ترسیم (د) سه نما
۶	کدام شکل ، پرواز را تداعی می کند؟ الف)  (ب)  (ج)  (د) 
۷	در شکل مقابل از چه خطوطی بیشتر استفاده شده است؟ الف) عمودی (ب) شکسته (ج) افقی (د) منحنی 
۸	اثر یک شیئی نوک تیز بر صفحه تأثیرپذیر را میگویند؟ الف) نقطه (ب) سطح (ج) خط (د) حرکت
۹	در هنرهای تجسمی رابطه مناسب بین عناصر موجود در یک اثر را می گویند؟ الف) تناسب (ب) تعادل (ج) تقارن (د) ترکیب
۱۰	کدام حالت تعادل ، می تواند فعال و پر تحرک و پویاست؟ الف) غیر متقارن (ب) متقارن (ج) شعاعی (د) ایستا
۱۱	تغییر شکل ماه چه ریتمی دارد؟ الف) تکاملی (ب) متناوب (ج) موجی (د) یکنواخت
۱۲	سازماندهی و چیدمان عناصر در " مرکز " یک محدوده یا کادر است؟ الف) ترکیب قرینه (ب) ترکیب متمرکز (ج) ترکیب بندی (د) ترکیب غیر قرینه

نام و نام خانوادگی:	بسمه تعالی	مدت امتحان: ۵۰ دقیقه
رشته: گرافیک کامپیوتری پایه دوم	هنرستان رسالت (سرخنکلاته)	طراح: اسماعیلی
	طراحی امور گرافیکی (فتوشاپ)	تاریخ امتحان: ۱۳۹۳//

۱۳	از ترکیب دو رنگ مکمل چه رنگی به دست می آید؟ الف) قهوه ای ب) خاکستری تیره ج) سیاه د) خاکستری	۲
۱۴	از قرار گرفتن یک رنگ خالص در کنار رنگ های ناخالص کدام کنتراست بوجود می آید؟ الف) کنتراست ته رنگ ب) کنتراست مکمل ج) کنتراست کیفیت د) کنتراست کمیت	۲
۱۵	هر چه شماره ی " H " مداد بالاتر باشد مغز مداد و تیرگی ایجاد شده به وسیله ی آن خواهد بود؟ الف) سخت تر-بیشتر ب) نرم تر- کمتر ج) سخت تر- کمتر د) نرم تر- بیشتر	۲
۱۶	این شکل نماد نرمی، لطافت، تکرار و آرامش روحانی و آسمانی می باشد؟ الف) مربع ب) دایره ج) هندسی د) مثلث	۲
۱۷	محدوده ای را که هنرمند برای ارائه و اجرای اثر خود بر می گزیند..... میگویند؟ الف) کادر ب) کمپوزیسیون ج) هماهنگی د) ریتم	۲
۱۸	رنگ " زرد " با کدام شکل زیر هماهنگی دارد؟ الف) دایره ب) مربع ج) مثلث د) بیضی	۲
۱۹	رنگ " قرمز " با کدام شکل زیر هماهنگی دارد؟ الف) دایره ب) مربع ج) مثلث د) بیضی	۲
۲۰	کدام گزینه تعریف "خط عمودی" است؟ الف) تحرک و عدم سکون ب) خشونت و ترس ج) ایستایی د) سکون	۲
۲۱	خطوط "مورب" نشانگر چه حالتی می باشند؟ الف) آرامش و سکون ب) تحرک و پویایی ج) نرمی و لطافت د) نا امنی و آزرده گی	۲
۲۲	تناسب در اندازه ها قوانین خاصی دارد که به آن می گویند؟ الف) تناسب طلایی ب) تعادل ج) ترکیب د) تقارن	۲
۲۳	برای نمایش حجم ، کدام عوامل مورد استفاده قرار می گیرد؟ الف) پرسپکتیو ب) بافت ج) سایه روشن د) موارد الف و ج	۲
۲۴	در شکل مقابل از چه تقارنی استفاده شده است؟ الف) تقارن یک جانبه ب) تقارن دو جانبه ج) تقارن شعاعی د) تقارن غیر شعاعی	۲
۲۵	شکلی که دارای دو بعد باشد چه نام دارد؟ الف) خط ب) نقطه ج) سطح د) حجم	۲



نام و نام خانوادگی:	بسمه تعالی	مدت امتحان: ۵۰ دقیقه
رشته: گرافیک کامپیوتری پایه دوم	هنرستان رسالت (سرخکلاته)	طراح: اسماعیلی
	طراحی امور گرافیکی (فتوشاپ)	تاریخ امتحان: ۱۳۹۳//

۲	شکلی که دارای سه بعد باشد چه نام دارد؟ الف) خط ب) نقطه ج) سطح د) حجم
۲	فیلترهای گروه Blur تصویر را.....؟ الف) محو می کنند. ب) بهم می ریزند. ج) کریستالی می کنند. د) واضح می کنند.
۲	کدام یک از مجموعه فرمت های زیر برای انتشار تصاویر در وب به کار می رود؟ الف) TIF-GIF-EPS ب) TIF-EPS-PDF ج) PNG-JPG-GIF د) PNG-TIF-EPS
۲	با استفاده از کدام ابزار Select می توان یک مربع از یک تصویر را انتخاب کرد؟ الف) Magic wand ب) Magnetic lasso ج) Marquee د) Lasso
۲	کدام فرمت در فتوشاپ، تمام لایه ها را به صورت مجزا ذخیره می کند؟ الف) GIF ب) PSD ج) JPG د) PNG
۲	کدام یک از گزینه های زیر یک شکل را از حالت انتخاب خارج می کند؟ الف) Inverse ب) Deselect ج) Reselect د) Similar
۲	توسط کدام گزینه می توان اندازه ی تصاویر را تغییر داد؟ الف) New ب) Canvas size ج) Image size د) Picture size
۲	منظور از Saturation یا اشباع رنگ چیست؟ الف) میزان تیرگی ب) میزان روشنی ج) میزان رنگ خام د) میزان رنگ
۲	Adjustment از منوی Image بر تصویر اثر می گذارد؟ الف) سایز و رنگ ب) سایز ج) رنگ د) ابعاد
۲	لایه فعال لایه ای است که.....؟ الف) در کنار آن نماد چشم قرار دارد. ب) در کنار آن نماد زنجیر قرار دارد. ج) بر روی سایر لایه ها قرار دارد. د) کادر لایه پر رنگ تر باشد.
۲ مجموعه ای از دستورهای ذخیره شده اند که می توان آن ها را بر روی فایل های دیگر اجرا کرد؟ الف) File ب) Save ج) Action د) Save az
۲	توسط کدام ابزار می توان قسمتی از یک تصویر را پاک کرد؟ الف) Pen Tool ب) Duplicate ج) Apply Image د) Eraser
۲	برای واضح کردن لبه های یک تصویر یا بخش هایی از آن، از چه ابزاری استفاده می کنیم؟ الف) Sharpen ب) Blur ج) Dodge د) Smudge

نام و نام خانوادگی:	بسمه تعالی	مدت امتحان: ۵۰ دقیقه
رشته: گرافیک کامپیوتری پایه دوم	هنرستان رسالت (سرخنگلاته)	طراح: اسماعیلی
	طراحی امور گرافیکی (فتوشاپ)	تاریخ امتحان: ۱۳۹۳//

۲	کلید میانبر دستور Open کدام است؟	الف) Ctrl+O ب) Ctrl+S ج) Alt+O د) Alt+P
۲	کدام گزینه از لایه یا عکس مورد نظر شما کپی می‌گیرد؟	الف) Apply Image ب) Duplicate ج) Ctrl+D د) Ctrl+V
۲	کدام یک از گروه‌های فیلتری زیر به تصویر مورد نظر یک جلوه هنری می‌دهد؟	الف) Distort ب) Artistic ج) Sketch د) Crystallize
۲	کدام یک از گروه‌های فیلتری زیر تصویر را به صورت دانه دانه تبدیل می‌کنند؟	الف) Distort ب) Artistic ج) Sketch د) Crystallize
۲	چنانچه بخواهیم خروجی یک فایل را بر روی صفحه وب منتشر نماییم دقت تصویر را چه عددی در نظر می‌گیریم؟	الف) ۱۰۰ Dpi ب) ۹۶ Dpi ج) ۷۲ Dpi د) ۳۰۰ Dpi
۲	در یک تصویر با مد رنگی RGB چند کانال وجود دارد؟	الف) ۲ ب) ۳ ج) ۴ د) ۵
۲	ابزار برش تصویر چه نام دارد؟	الف) Crop ب) Move ج) Zoom د) Hand
۲	برای چاپ یک تصویر Resolution آن را چه عددی انتخاب می‌کنیم؟	الف) ۱۰۰ Dpi ب) ۹۶ Dpi ج) ۷۲ Dpi د) ۳۰۰ Dpi
۲	کدام گزینه برای تغییر اندازه و چرخش محدوده انتخاب استفاده می‌شود؟	الف) Ctrl+T ب) Shift+T ج) Ctrl+M د) Ctrl+M
۲	با کدام ابزار یک مسیر ترسیم می‌شود؟	الف) Line Tool ب) Type Tool ج) Pen Tool د) Hand Tool
۲	با استفاده از کدام دستور زیر می‌توان تصویر مورد نظر را به یک تصویر سیاه و سفید با کنتراست بالا تبدیل کرد؟	الف) Invert ب) Threshold ج) Equalize د) Replace Color
۲	با کدامیک از دستورهای زیر می‌توان قسمتی از تصویر را کج کرد؟	الف) Skew ب) Perspective ج) Distort د) Flip