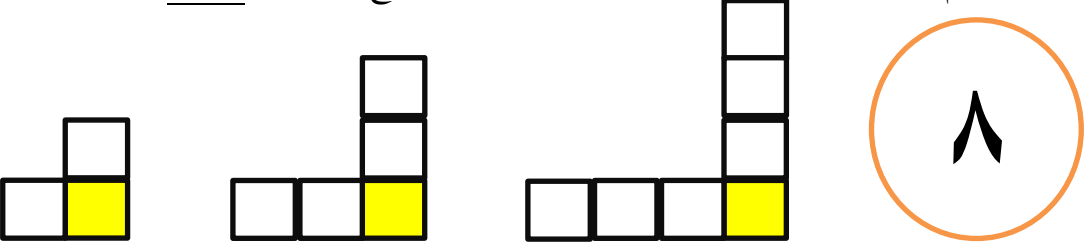
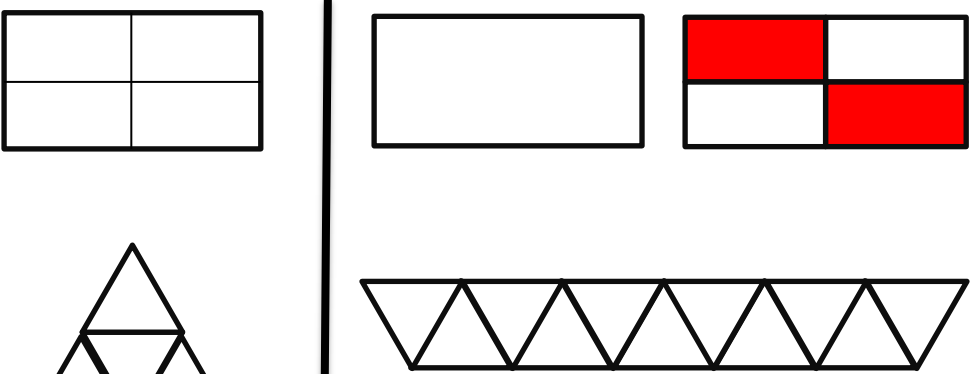


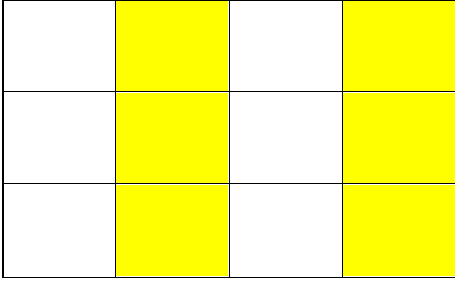

من دانش آموز پایه چهارم دبستان هستم.


من همراه همکلاسی هایم و با کمک آموزگارم توانستم فصل دوم کتاب ریاضی را که در مورد بود تمام کنم. حالا که این فصل دوست داشتی از ریاضی را تمام کرده ایم ، می خواهیم به آموزگار پرتلاشم نشان دهیم که درس هایم را به خوبی یاد گرفته ام.

امیدوارم که موفق باشم.



امتیاز	متن سئوالات	ردیف						
<input type="checkbox"/> خ <input type="checkbox"/> خ <input type="checkbox"/> ق <input type="checkbox"/> ن	<p>ریاضی دان کوچک جدول زیر را کامل کن.</p> <table border="1" data-bbox="300 689 1406 875"> <thead> <tr> <th>حروف</th> <th>عدد</th> </tr> </thead> <tbody> <tr> <td></td> <td>۶۱ ۴۵۰ ۰۳۰</td> </tr> <tr> <td>بیست و سه میلیون و چهارصد هزار و پنجاه</td> <td></td> </tr> </tbody> </table>	حروف	عدد		۶۱ ۴۵۰ ۰۳۰	بیست و سه میلیون و چهارصد هزار و پنجاه		۱
حروف	عدد							
	۶۱ ۴۵۰ ۰۳۰							
بیست و سه میلیون و چهارصد هزار و پنجاه								
<input type="checkbox"/> خ <input type="checkbox"/> خ <input type="checkbox"/> ق <input type="checkbox"/> ن	<p>دانش آموز گلم با نوشتن راه حل مناسب برای الگوی زیر، تعداد مربع های شکل هشتم را پیدا کن.</p> 	۲						
<input type="checkbox"/> خ <input type="checkbox"/> خ <input type="checkbox"/> ق <input type="checkbox"/> ن	<p>عدد مخلوط هر شکل را با توجه به واحد داده شده بنویس.</p> 	۳						

<input type="checkbox"/> خ <input type="checkbox"/> خ <input type="checkbox"/> ق <input type="checkbox"/> ن	<p>دانش آموز باهوش برای شکل زیر سه تساوی بنویس.</p>  <p>..... = =</p>	۴
<input type="checkbox"/> خ <input type="checkbox"/> خ <input type="checkbox"/> ق <input type="checkbox"/> ن	<p>حاصل عبارت‌های زیر را به دست آورید.</p> $\frac{2}{8} + \frac{1}{4}$ $\frac{6}{7} - \frac{2}{14}$ $2 \times \frac{3}{8}$	۵
<input type="checkbox"/> خ <input type="checkbox"/> خ <input type="checkbox"/> ق <input type="checkbox"/> ن	<p>در جای خالی عدد مناسب را بنویس تا کسرها با هم برابر شوند.</p> $\frac{3}{9} = \frac{1}{\quad}$ $\frac{\quad}{5} = \frac{10}{25}$ $\frac{7}{9} = \frac{\quad}{27}$	۶
<input type="checkbox"/> خ <input type="checkbox"/> خ <input type="checkbox"/> ق <input type="checkbox"/> ن	<p>در جاهای خالی علامت $< = >$ قرار دهید.</p> $\frac{4}{5} \bigcirc \frac{3}{5}$ $\frac{5}{8} \bigcirc \frac{5}{9}$ $\frac{3}{15} \bigcirc \frac{4}{5}$ $\frac{5}{5} \bigcirc \frac{1}{2}$	۷
	<p>خمس شکل زیر را رنگ بزنید.</p> 	۸



خود ارزیابی:

نظر اولیا:

نظر معلم: