

آزمون هفت‌ت‌نهم‌بلی

پیش‌نما

الف


آزمون‌های تمرینی - تستی

پایه چهارم (۴)

لطفاً با لبخند آزمون را شروع کنید

زمان پاسخ‌گویی: ۶۰ دقیقه

تعداد سوال: ۶۰



کتاب
گروه
آموزش



ریاضی

علوم تجربی

مطالعات
اجتماعی

ادبیات
فارسی

قرآن و
مطالعات
اسلامی

۱

مرحله اول

یکشنبه ۳ اردیبهشت ۱۳۹۷



یاد بگیریم و یاد بدهیم

با سلام و درودی فراوان به دانش آموزان عزیز

آزمون‌های پیش‌رو جهت مرور مطالب درسی و آشنایی با تست‌زنی و طبق برنامه‌ریزی انجام شده‌ی روزهای آزمون‌ی ساغر، در سایت و کانال آموزشی ساغر قرار داده خواهند شد. از این‌که همراه با گروه آموزشی ساغر هستید، سپاسگزاریم.

برای هر کاری هدفی وجود دارد و هدف ما پیشرفت و موفقیت شماست...

تهیه و تنظیم سوالات:

مدیریت گروه و وبسایت آموزشی ساغر – احمد فرقدان

www.Sagharedu.ir

ترتیب سوالات آزمون مرحله‌ی اول پایه چهارم

ردیف	نام درس	صفحات کتاب	تعداد سوالات	از شماره	تا شماره	زمان پاسخگویی
۱	قرآن و هدیه‌های آسمان	درس‌های ۱ تا ۴	۸	۱	۸	۶۰ دقیقه
۲	ادبیات فارسی	درس‌های ۱ تا ۴	۱۵	۹	۲۳	
۳	مطالعات اجتماعی	درس‌های ۱ تا ۵	۷	۲۴	۳۰	
۴	علوم تجربی	درس‌های ۱ تا ۳	۱۵	۳۱	۴۵	
۵	ریاضی	فصل ۱ و فصل ۲: تا سر تساوی کسرها	۱۵	۴۶	۶۰	
	جمع کل		۶۰			

(آزمون نمره منفی دارد)

قرآن و هدیه‌های آسمان

- ۱- معنای کلمات «یوم - عالمین» به ترتیب در کدام گزینه آمده است؟
 (۱) روز - جهانیان (۲) شب - دانشمندان (۳) روز - دانشمندان (۴) ظهر - جهانیان
- ۲- اگر ترکیب «رَبِّ الْعَالَمِينَ» در آخر سطر بیاید، هنگام وقف چگونه خوانده می‌شود؟
 (۱) رَبِّ الْعَالَمِينَ (۲) رَبِّ الْعَالَمِی (۳) رَبِّ الْعَالَمِينَ (۴) رَبِّ الْعَالَمِينَ
- ۳- پیام عبارت شریفه‌ی «وَاللَّهُ بِمَا تَعْمَلُونَ بَصِيرٌ» در کدام گزینه آمده است؟
 (۱) خداوند تواناست. (۲) خداوند ناظر بر تمام اعمال ماست.
 (۳) خداوند به همه‌ی موجودات روزی می‌دهد. (۴) خداوند همه‌ی موجودات را دوست دارد.
- ۴- دانه‌ی گیاه به چه وسیله‌ای از عوامل تأثیرگذار بر رشدش استفاده می‌کند؟
 (۱) انسان به دانه کمک می‌کند تا بتواند رشد کند. (۲) خداوند توانایی استفاده از آن‌ها را در دانه گذاشته است.
 (۳) دانه برای رشد، نیاز به توانایی خاصی ندارد. (۴) خاک به دانه کمک می‌کند تا بتواند رشد کند.
- ۵- کدام یک از گزینه‌های زیر از معجزات حضرت موسی (ع) است؟
 (۱) درآوردن شتر از کوه (۲) تبدیل عصا به مار (۳) دو نیم کردن ماه (۴) سخن گفتن در گهواره
- ۶- اولین مسجدی که توسط پیامبر (ص) ساخته شد، چه نام دارد و در کجا بنا شده است؟
 (۱) مسجدالنبی - مدینه (۲) مسجدالحرام - مکه
 (۳) مسجد قبا - در نزدیکی مدینه (۴) مسجد قبا - در نزدیکی مکه
- ۷- عبارت شریفه‌ی «يَا بَنِي آدَمَ خُذُوا زِينَتَكُمْ عِندَ كُلِّ مَسْجِدٍ» با کدام یک از گزینه‌های زیر ارتباط دارد؟
 (۱) همه‌ی نمازهایمان را در مسجد بخوانیم. (۲) هنگام نماز خواندن لباس تمیز بپوشیم.
 (۳) با ظاهری تمیز و آراسته به مسجد برویم. (۴) مسجد را پاکیزه و تمیز نگه داریم.
- ۸- کدام یک از گزینه‌های زیر صحیح است؟
 (۱) در نماز آیات، حمد و توحید را به پنج قسمت تقسیم می‌کنیم.
 (۲) در نماز آیات، ده رکوع و ده قنوت به جا می‌آوریم.
 (۳) در نماز آیات در هر رکعت، پنج رکوع به جا می‌آوریم.
 (۴) در نماز آیات در هر رکعت، پنج رکوع و سجده به جا می‌آوریم.

فارسی

- ۹- در عبارت زیر چند غلط املائی وجود دارد؟
 «دشت‌ها جامعه‌ی سبز می‌پوشند و پرستوهای جوان، ساختن و پرداختن لانه را به اهده می‌گیرند و مردم این شگفتی‌ها را نزاره می‌کنند و پی به قدرط خداوند بزرگ می‌برند.»
 (۱) دو (۲) سه (۳) چهار (۴) پنج

۱۰- معنی کدام واژه‌ها نادرست است؟

- (۱) (هم‌نوع: هم‌جنس)، (هم‌بازی: دوست)
 (۲) (واضح: روشن)، (نیاکان: گذشتگان)
 (۳) (مسدود: بسته‌شده)، (نغمه: سرود)
 (۴) (صفا: صمیمیت)، (فروغ: خاموشی)

۱۱- در کدام گزینه واژه‌ی «سعدی» به صورت مضاف‌الیه به کار نرفته است؟

- (۱) سعدی اهل شیراز بوده است.
 (۲) بوستان سعدی پر از حکایت است.
 (۳) مردم شعرهای سعدی را دوست دارند.
 (۴) آقای اسلامی کتاب‌های سعدی را مطالعه می‌کند.

۱۲- مفهوم بیت «خدا در رنگ و بوی گل، نهان است / بهار و باغ و گل از او نشان است» به کدام بیت زیر نزدیک است؟

- (۱) گفتم این شرط آدمیت نیست / مرغ تسبیح‌گوی و من خاموش
 (۲) به مادر گفتم: «آخر این خدا کیست؟ / که هم در خانه‌ی ما هست و هم نیست»
 (۳) خدا در پاکی و نیکی است فرزند / بود در روشنایی‌ها خداوند
 (۴) برگ درختان سبز در نظر هوشیار / هر ورقش دفتری است معرفت کردگار

۱۳- کدام گزینه نادرست است؟

- (۱) زیرک و هوشیار مترادف هستند.
 (۲) قریب و غریب متشابه‌اند.
 (۳) اسرار و قافله جمع هستند.
 (۴) دانا و دانشمند هم‌خانواده‌اند.

۱۴- کدام گزینه جمع است؟

- (۱) اوایل (۲) طبیعت (۳) جنگل (۴) غوک

۱۵- کدام گزینه با توجه به معنی واژه‌ها درست نیست؟

- (۱) دشواری: سختی (۲) سپری شدن: گذشتن (۳) آغاز: پایان (۴) نهادن: قرار دادن

۱۶- در کدام گزینه تمام کلمه‌ها هم‌خانواده نیستند؟

- (۱) ناظر، منظور، نظاره (۲) لطیف، لطف، الطاف (۳) جمع، جامع، جمیع (۴) اعتدال، معدّل، معمول

۱۷- املای کدام واژه با توجه به معنی آن درست است؟

- (۱) لوجه: گویش (۲) مختصر: کوتاه (۳) تفولیت: بچگی (۴) مهروم: بی‌نصیب

۱۸- کدام رابطه در عبارتهای زیر نادرست بیان شده است؟

- (۱) حاکم به هوش و فهم پسر آفرین گفت. (مترادف)
 (۲) زندگی ترکیب شادی با غم است. (متضاد)
 (۳) چو عضوی به درد آورد روزگار (تشبیه)
 (۴) بزرگی و عظمت خداوند معلوم است. (مترادف)

۱۹- در کدام گزینه هیچ‌کدام از کلمات جمع نیستند؟

- (۱) اجلاس، معابر، محلات (۲) کاشان، کاروان، شادان (۳) درختان، جوانان، مناظر (۴) سواران، کوه‌ها، اخبار

۲۰- معنای واژه در کدام گزینه درست آمده است؟

- (۱) طعمه: شکارچی (۲) جست: پیدا کرد (۳) حیل‌ساز: روباه (۴) پرفریب: نیرنگ باز

۲۱- در کدام گزینه نهاد حذف شده است؟

- (۱) نماز صبحگاهت را شنیدم. (۲) خدا در رنگ و بوی گل نهان است.
(۳) بشنو از من، کودک من (۴) به! چه زیبا بود باران!

۲۲- معنای کدام واژه نادرست است؟

- (۱) برگرفت: برداشت (۲) زاغک: زاغ کوچک (۳) روبهک: حیل‌گر (۴) مرغان: پرندگان

۲۳- کدام یک از جملات زیر ضرب‌المثل نیست؟

- (۱) جوینده یابنده بود. (۲) جوجه را آخر پاییز می‌شمارند.
(۳) کوه به کوه نمی‌رسد، آدم به آدم می‌رسد. (۴) سایه تون سنگین شده است.

مطالعات اجتهاعی

۲۴- کدام مورد صحیح نیست؟

- (۱) همسایه‌ها بهتر است از حال یکدیگر باخبر باشند.
(۲) ما در خانه‌ی خود می‌توانیم هر کاری که بخواهیم انجام دهیم. ولی در کوچه و خیابان باید مراعات کنیم.
(۳) زباله‌ها را باید در جای مخصوص خود قرار داد.
(۴) در ساعات ظهر یا آخر شب نباید بازی‌های پر سر و صدا انجام داد.

۲۵- کدام یک از موارد زیر جزء وظایف ما برای مراقبت از بوستان نیست؟

- (۱) آسیب نرساندن به وسایل ورزشی (۲) نچیدن گل
(۳) قرار دادن زباله‌ها در جای مخصوص (۴) یاد گرفتن نظم

۲۶- در کدام یک از موارد زیر به مقررات مربوط به رعایت حقوق همسایه‌ها اشاره نشده است؟

- (۱) سروصدا نکردن در آپارتمان (۲) همکاری در برگزاری جشن‌ها محله
(۳) عدم پارک ماشین مقابل پل یا درب پارکینگ (۴) عدم همدردی و کمک به همسایه‌ها

۲۷- کدام یک از مکان‌های زیر یکی از محل‌های اجتماع مردم محله است؟

- (۱) مسجد (۲) مدرسه (۳) مغازه (۴) سینما

۲۸- نمازگزاران و امام جماعت رو به چه جایی نماز می‌خوانند؟

- (۱) نمازخانه (۲) درب مسجد (۳) قبله (۴) مؤذن

۲۹- برای فهمیدن بهتر نقشه به کدام مورد زیر باید دقت کرد؟

- (۱) رنگ‌های روی نقشه (۲) علامت‌های روی نقشه (۳) مکان‌های روی نقشه (۴) راهنمای روی نقشه

۳۰- مقدار پولی که برای خرید کالاهای مورد نیاز خرج می‌کنید، چه نام دارد؟

- (۱) هزینه (۲) درآمد (۳) مخارج (۴) پس‌انداز

علوم تجربی

۳۱- در ساختن حباب‌ها برای این‌که فرضیه کروی بودن همه‌ی حباب‌های خروجی از دستگاه حباب‌ساز اثبات شود، باید کدام مرحله‌ی تحقیق علمی را انجام شود؟

- (۱) فرضیه‌سازی (۲) بیان نظریه (۳) آزمایش (۴) نتیجه‌گیری

۳۲- در تابستان، کدام‌یک از لباس‌های خیس زیر در معرض آفتاب سریع‌تر خشک می‌شوند؟

- (۱) لباس‌های سفید (۲) لباس‌های آبی (۳) لباس‌های سیاه (۴) لباس‌های قرمز

۳۳- اگر برای ماشین پدر خود در فصل تابستان قرار باشد روکش صندلی خریداری کنید، چه رنگی را پیشنهاد می‌کنید؟

- (۱) سفید (۲) نوک‌مدادی (۳) مشکی (۴) طوسی

۳۴- کدام‌یک مخلوط نیست؟

- (۱) آب‌نمک (۲) گاز اکسیژن (۳) سالاد (۴) هوا

۳۵- نوشابه‌ی گازدار، جزو کدام گروه محلول‌ها است؟

- (۱) جامد در مایع (۲) گاز در مایع (۳) مایع در مایع (۴) مخلوط‌ها

۳۶- برای جداکردن اجزای مخلوط‌های (آب و روغن - آب و نمک)، به ترتیب کدام راه‌ها را پیشنهاد می‌کنید؟

- (۱) تقطیر - تبلور (۲) تبلور - سرریز کردن (۳) سرریز کردن - تبلور (۴) صاف کردن - تقطیر

۳۷- کدام گزینه در مورد محلول‌ها صحیح نمی‌باشد؟

- (۱) محلول‌ها نیز خود یک مخلوط هستند.
 (۲) محلول‌های جامد در مایع با کاغذ صافی جدا می‌شوند.
 (۳) اجزای آن‌ها به راحتی قابل تشخیص نمی‌باشد.
 (۴) محلول‌ها یا همان مخلوط یکنواخت، دارای دو جزء حلال و حل‌شونده هستند.

۳۸- از کدام‌یک از حلال‌های زیر، بیش‌ترین استفاده را می‌بریم؟

- (۱) الکل (۲) آب (۳) بنزین (۴) آستن

۳۹- در بوق ماشین، کدام تبدیل انرژی صورت می‌گیرد؟

- (۱) الکتریکی به مکانیکی (۲) الکتریکی به صوتی (۳) صوتی به الکتریکی (۴) شیمیایی به صوتی

۴۰- تبدیل انرژی کدام دو وسیله، عکس هم‌دیگر است؟

- (۱) میکروفون - دهنی تلفن (۲) میکروفون - بلندگو (۳) بلندگو - گوشی تلفن (۴) زنگ برقی - زنگ دستی

۴۱- کدام‌یک از عبارات‌های زیر نادرست می‌باشد؟

- (۱) انرژی موجود در یک جسم، می‌تواند شیمیایی باشد.
 (۲) انرژی خود به خود به وجود نمی‌آید.
 (۳) انرژی می‌تواند از جسمی به جسم دیگر منتقل شود.
 (۴) انرژی موجود در توپ در حال حرکت روی زمین، انرژی‌ای گرمایی است.

۴۲- کرم شب تاب، کدام تبدیل انرژی را برای درخشیدن دارد؟

- (۱) شیمیایی به گرمایی (۲) حرکتی به نورانی (۳) شیمیایی به نوران (۴) حرکتی به شیمیایی

۴۳- مقدار انرژی جنبشی، به چه عواملی بستگی دارد؟

- (۱) جرم و وزن (۲) جرم و سرعت (۳) جرم و ارتفاع (۴) سرعت و ارتفاع

۴۴- کدام انرژی به راحتی به انرژی‌های دیگر قابل تبدیل است؟

- (۱) انرژی حرکتی (۲) انرژی الکتریکی (۳) انرژی نورانی (۴) انرژی شیمیایی

۴۵- تبدیل انرژی در کدام وسیله، با سایر گزینه‌ها متفاوت است؟

- (۱) یخچال (۲) کولر (۳) همزن برقی (۴) اتومبیل

ریاضی

۴۶- کوچک‌ترین عدد ۵ رقمی که مجموع ارقامش ۵ باشد، کدام است؟

- (۱) ۱۰۱۱۲ (۲) ۱۰۰۱۳ (۳) ۱۰۰۲۲ (۴) ۱۰۰۰۴

۴۷- چند عدد ۳ رقمی داریم؟

- (۱) ۹۰۰ (۲) ۹۰۰۰ (۳) ۹۹۹ (۴) ۹۹۰

۴۸- کوچک‌ترین عدد ۵ رقمی فرد که ارقام آن تکراری نباشد، کدام است؟

- (۱) ۱۲۳۴۵ (۲) ۱۰۲۳۴ (۳) ۱۰۲۴۳ (۴) ۱۰۲۳۵

۴، ۷، ۱۱، ۱۶، ۲۲، ؟

۴۹- عدد بعدی در الگوی عددی مقابل، کدام است؟

- (۱) ۲۵ (۲) ۲۸ (۳) ۲۹ (۴) ۳۰

۵۰- با ارقام ۲، ۴، ۳، ۷ و ۵، چند عدد سه رقمی زوج می‌توان نوشت؟

- (۱) ۴۰ (۲) ۵۰ (۳) ۲۴ (۴) ۳۲

۵۱- برای نوشتن اعداد ۱ تا ۷۵، چندبار از رقم ۶ استفاده می‌کنیم؟

- (۱) ۱۶ (۲) ۱۷ (۳) ۱۸ (۴) ۱۹

۵۲- اختلاف بزرگ‌ترین و کوچک‌ترین عدد ۵ رقمی زوج که با ارقام ۰، ۵، ۳، ۷ و ۶ بدون تکرار ارقام می‌توان

نوشت، کدام است؟

- (۱) ۴۵۹۵۴ (۲) ۴۰۷۷۰ (۳) ۴۵۹۶۳ (۴) ۴۰۸۲۴

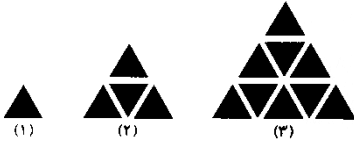
۵۳- با توجه به الگوی عددی (؟، ۷۶۰، ۷۸۰، ۸۱۰، ۸۵۰، ۹۰۰)، کدام عدد در سری اعداد داده شده نخواهد بود؟

- (۱) ۷۵۰ (۲) ۷۴۰ (۳) ۷۳۰ (۴) ۷۶۰

۵۴- چند عدد ۳ رقمی می‌توان نوشت که جمع ارقامش ۷ باشد؟

- (۱) ۲۸ (۲) ۲۰ (۳) ۱۶ (۴) ۱۸

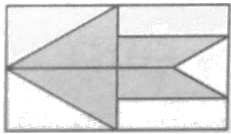
۵۵- با توجه به الگوی داده شده، تعداد مثلث‌ها در شکل هفتم چند تا است؟



- (۱) ۱۶ (۲) ۲۸ (۳) ۴۹ (۴) ۴۲

۵۶- ارزش مکانی یکان میلیون در عدد ۲۸۶۷۱۵۳۴ چند برابر ارزش مکانی کوچک‌ترین رقم است؟

- (۱) ۲ (۲) ۸ (۳) ۸۰۰۰ (۴) ۲۰۰۰۰۰۰



۵۷- در شکل مقابل، مساحت قسمت رنگی، چه کسری از مساحت مستطیل است؟

- (۱) $\frac{4}{10}$ (۲) $\frac{7}{16}$ (۳) $\frac{6}{8}$ (۴) $\frac{8}{18}$

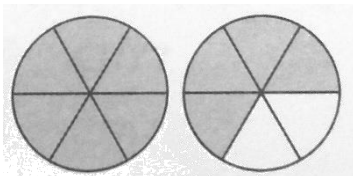
۵۸- اگر وسط یکی از اضلاع مربع را به دو رأس غیرمجاور با آن وصل کنیم، مساحت مثلث حاصل، چه کسری از

مساحت مربع است؟

- (۱) $\frac{1}{2}$ (۲) $\frac{1}{3}$ (۳) $\frac{1}{4}$ (۴) $\frac{2}{3}$

۵۹- مرتبه‌ی رقم ۵ در کوچک‌ترین عدد ۷ رقمی که تصویرش در آینه با خودش برابر است، چیست؟

- (۱) صدگان (۲) یکان هزار (۳) دهگان هزار (۴) دهگان



۶۰- شکل مقابل، کدام کسر را نمایش می‌دهد؟

- (۱) $\frac{10}{12}$ (۲) $\frac{5}{6}$ (۳) $\frac{5}{3}$ (۴) هر سه گزینه درست است.

روزهای آزمون ساغر

برنامه‌ی قرارگیری آزمون‌های تمرینی - تستی در کانال و سایت آموزشی ساغر

(سوالات شبیه‌ساز آزمون‌های تیزهوشان و نمونه‌دولتی)

ویژه‌ی پایه‌های مختلف تحصیلی (از پایه سوم تا نهم)

پایه تحصیلی							زمان آزمون	
نهم	هشتم	هفتم	ششم	پنجم	چهارم	سوم	تاریخ	روز
			مرحله ۱			مرحله ۱	۹۶ / ۲ / ۲	شنبه
مرحله ۱				مرحله ۱	مرحله ۱		۹۶ / ۲ / ۳	یکشنبه
		مرحله ۱	مرحله ۲				۹۶ / ۲ / ۴	دوشنبه
	مرحله ۱			مرحله ۲			۹۶ / ۲ / ۵	سه‌شنبه
مرحله ۲			مرحله ۳			مرحله ۲	۹۶ / ۲ / ۶	چهارشنبه
				مرحله ۳	مرحله ۲		۹۶ / ۲ / ۷	پنجشنبه
		مرحله ۲	مرحله ۴				۹۶ / ۲ / ۸	جمعه
مرحله ۳			مرحله ۵	مرحله ۴			۹۶ / ۲ / ۹	شنبه
	مرحله ۲		مرحله ۶			مرحله ۳	۹۶ / ۲ / ۱۰	یکشنبه
			مرحله ۷	مرحله ۵	مرحله ۳		۹۶ / ۲ / ۱۱	دوشنبه
مرحله ۴		مرحله ۳	مرحله ۸				۹۶ / ۲ / ۱۲	سه‌شنبه
							۹۶ / ۲ / ۱۳	چهارشنبه
آزمون تیزهوشان ششم به هفتم							۹۶ / ۲ / ۱۴	پنجشنبه
آزمون تیزهوشان نهم به دهم							۹۶ / ۲ / ۱۵	جمعه

- طبق برنامه‌ریزی انجام شده فایل PDF دفترچه سوالات همراه با پاسخنامه به صورت روزانه در سایت و کانال آموزشی ساغر قرار داده خواهد شد.

مدیریت گروه آموزشی ساغر - احمد فرقدان

www.sagharedu.ir

کانال تلگرام: [telegram.me/sagharedu](https://t.me/sagharedu)

پاسخنامه‌ی آزمون تمرینی – تستی ساغر (مرحله‌ی اول پایه چهارم)

پاسخ‌های خود را با پاسخ‌های صحیح مطابقت داده و اشکالات خود را با مطالعه بیشتر، رفع نمایید.

پاسخنامه کلیدی

ردیف	۱	۲	۳	۴	ردیف	۱	۲	۳	۴	ردیف	۱	۲	۳	۴
۱	*				۲۱	*				۴۱				*
۲			*		۲۲			*		۴۲			*	
۳		*			۲۳				*	۴۳		*		
۴				*	۲۴		*			۴۴		*		
۵		*			۲۵				*	۴۵				*
۶			*		۲۶				*	۴۶				*
۷			*		۲۷	*				۴۷	*			
۸			*		۲۸			*		۴۸				*
۹			*		۲۹				*	۴۹			*	
۱۰				*	۳۰			*		۵۰		*		
۱۱	*				۳۱			*		۵۱		*		
۱۲				*	۳۲			*		۵۲	*			
۱۳			*		۳۳	*				۵۳		*		
۱۴	*				۳۴		*			۵۴	*			
۱۵			*		۳۵		*			۵۵			*	
۱۶				*	۳۶			*		۵۶			*	
۱۷		*			۳۷		*			۵۷		*		
۱۸			*		۳۸		*			۵۸	*			
۱۹		*			۳۹		*			۵۹		*		
۲۰				*	۴۰		*			۶۰				*

وب سایت آموزشی
ساغر

کمک آموزشی معلمان

نمونه سوالات امتحانی

آزمون های آنلاین

آزمون های ساغر

کانون معلمان ساغر

روان شناسی و مشاوره

فروشگاه آموزشی ساغر

دستان شاهد پیران

وب سایت آموزشی ساغر

www.sagharedu.ir

ارائه مطالب کمک آموزشی (ویژه دانش آموزان و دبیران گرامی)

تهیه و تنظیم نمونه سوالات امتحانی (به صورت ماهانه)

ارائه جزوه و سوالات درس به درس آموزشی

طراحی پیک های آدینه و بسته های عیدانه

برگزاری آزمون های برنامه ریزی شده

برگزاری آزمون های آنلاین

مدیریت گروه آموزشی ساغر - احمد فرقدان

0265-094-0912 @info@sagharedu.ir

@sagharedu

@sagharedu.ir

در تمامی امور تحصیلی همراه شما هستیم ...

کاری از
گروه آموزشی



مدیریت گروه آموزشی ساغر - احمد فرقدان

0912 094 0265

به روش ساغر

۳۳۳
برنامه ریزی + تمرین تست

[www.sagharedu.ir]

خرای تهیه کتاب نه سایت آموزشی ساغر مراجعه نمایید.



۳۳۳
به روش ساغر
برنامه ریزی + تمرین تست

قابل استفاده برای دانش آموزان تمامی مقاطع تحصیلی
کمک به مطالعه و تست زنی منظم و مدیریت زمان
امکان ثبت برنامه ها به صورت روزانه و هفتگی
ارزیابی عملکرد به صورت روزانه و هفتگی

مؤلف: احمد فرقدان



منتشر شد!

قابل استفاده برای دانش آموزان تمامی مقاطع تحصیلی
کمک به مطالعه و تست زنی منظم و مدیریت زمان
امکان ثبت برنامه ها به صورت روزانه و هفتگی
ارزیابی عملکرد به صورت روزانه و هفتگی

5000 5410 9350 @ info@sagharedu.ir @sagharedu.ir @sagharedu



فروتنگاه آموزشی ساغر



امکان خرید آنلاین و ارسال به سراسر کشور

[www.sagharedu.ir]

مدیریت گروه آموزشی ساغر - احمد فرقدان