

«به نام خالق زیبایی ها»

نام: مدیریت آموزش و پرورش منطقه ۴ تهران مدت آزمون: ۷۰ دقیقه

نام خانوادگی: آزمون هماهنگ درس مطالعات اجتماعی پایه ششم ابتدایی تاریخ: ۱۳۹۶/۳/۱

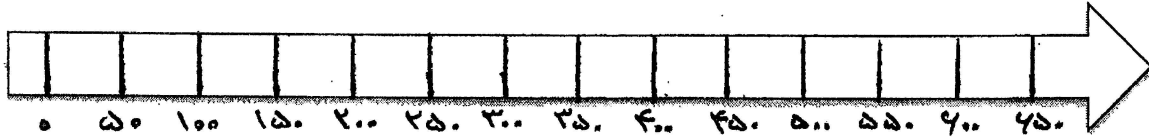
کلاس: خرداد ماه سال تحصیلی ۹۵-۹۶ نوبت: صبح صفحه: ۱

الف	پاسخ صحیح را با علامت (x) مشخص کنید.
۱	یکی از نکات مهم در تصمیم گیری ها این است که از فکر و تجربه ی دیگران استفاده کنیم. به این کار می گویند. <input type="radio"/> الف) مشورت <input type="radio"/> ب) تصمیم گیری <input type="radio"/> ج) نتیجه گیری <input type="radio"/> د) پیش بینی
۲	کدام گزینه از عوامل طبیعی مؤثر در کشاورزی است؟ <input type="radio"/> الف) سرمایه <input type="radio"/> ب) آب و هوا <input type="radio"/> ج) نیروی کار <input type="radio"/> د) مواد
۳	مسلمانان فن کاغذسازی را از کدام کشور یاد گرفتند؟ <input type="radio"/> الف) هند <input type="radio"/> ب) چین <input type="radio"/> ج) ژاپن <input type="radio"/> د) انگلیس
۴	معادن اورانیوم در استان است. <input type="radio"/> الف) کرمان <input type="radio"/> ب) سیستان و بلوچستان <input type="radio"/> ج) بوشهر <input type="radio"/> د) یزد
ب	در جاهای خالی کلمات مناسب بنویسید.
۱	به پیشروی آب دریاها در خشکی می گویند.
۲	انرژی های تمام نمی شوند و همواره می توان از آنها استفاده کرد.
۳	دانشگاه معروف در اهواز که در زمان ساسانیان تأسیس شد، نام داشت.
۴	به کشت و پرورش گیاهانی که بعد از کاشت دانه، حداکثر تا یکسال محصول می دهند می گویند.
ج	به سؤالات پاسخ کوتاه دهید.
۱	دومورد از بناهای تاریخی شهر اصفهان را بنویسید.
۲	بزرگترین جزیره خلیج فارس چه نام دارد؟



۳ با توجه به خط زمان، ابوریحان بیرونی (۴۴۰-۳۶۲) در چه قرنی می زیسته است؟

نیمه..... قرن..... تانیمه..... قرن.....



نادرست	درست

د) جملات درست و نادرست را مشخص کنید.

۱) سامانیان مذهب شیعه را مذهب رسمی کشور اعلام کردند.

۲) وابستگی زیاد از حد به دوست، آرامش روانی افراد را برهم می زند.

۳) امروزه بازیهای گروهی در بین بچه ها رواج دارد.

۴) در موزه مردم شناسی، انواع لباسهای محلی به نمایش گذاشته شده است.

م به سؤالات پاسخ کامل دهید.

علت ها

معلول (نتیجه)

علت حمله
نظامی عراق به
ایران

[]


[]

۱ جدول را کامل کنید.

۲ ۳ مورد از کالاهای صادراتی مهم ایران در دوره صفویه را نام ببرید.

۳ برای رفتن به ورزشگاهها چه مقرراتی را باید رعایت کرد؟ (۲ مورد)

۴ مواردی که باید هنگام انتخاب لباس به آن دقت داشته باشیم، چیست؟ (۲ مورد)



۵ برای حفظ محیط زیست استفاده از برق حرارتی بهتر است یا برق آبی؟ چرا؟

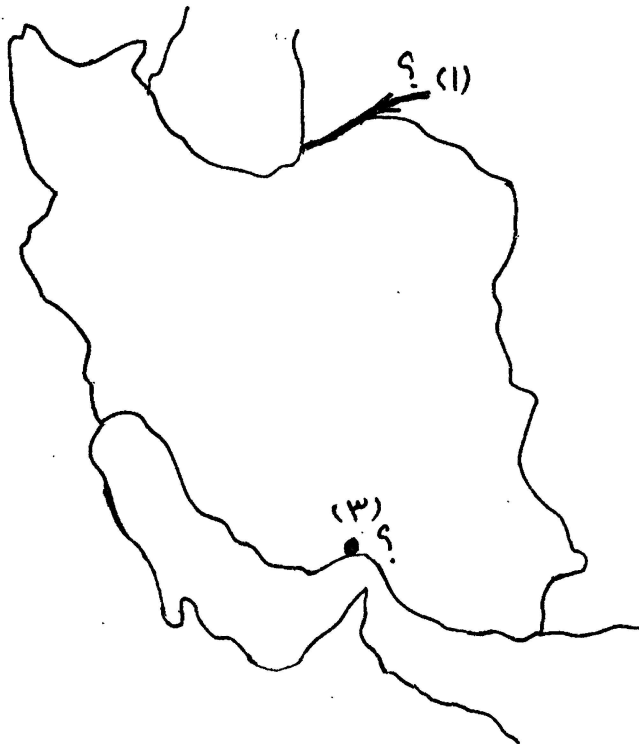
۶ استعمارگر کیست؟

۵ موارد خواسته شده را روی نقشه بنویسید.

۱ نام رود مرزی ایران با ترکمنستان :

۲ روی نقشه نام خلیج فارس و دریای عمان را بنویس..

۳ نام بندری که روی نقشه با علامت (?) مشخص شده است را بنویسید.



" موفق و سربلند باشید. "



نوبت صبح

پاسخنامه (۲) مطالعات اجتماعی

الف (۱- الف ۲- ب ۳- ب ۴- د

ب (۱- خلیج ۲- نو(قابل تجدید) ۳- جندی شاپور ۴- زراعت

ج (۱- کاخ عالی قاپو- میدان نقش جهان (میدان امام) - مسجد شیخ لطف اله - مسجد جامع عباسی (مسجد امام)

۲- جزیره قشم

۳- نیمه دوم قرن ۴ تا نیمه اول قرن ۵

د (۱- نادرست ۲- درست ۳- نادرست ۴- درست

م (۱- قطع منافع کشورهای استعمارگر پس از انقلاب اسلامی در ایران - عدم آمادگی کافی نیروهای نظامی ایران برای دفاع -

حمایت ایران از مظلومان، خصوصاً مردم فلسطین - (۲ مورد کافی است)

۲- ابریشم - پارچه های زربفت - سنگ های قیمتی - خشکبار

۳- برای تهیه بلیت، ثوبت را درصاف رعایت کنیم. - از مسخره کردن یک تیم یا هواداران آن خودداری کنیم. -

از اموال عمومی حفاظت کنیم. - با نظم و آرامش به سالن ها وارد یا خارج شویم. -

با انتظامات یا کارکنان ورزشگاه ها همکاری کنیم. (۲ مورد کافی است)

۴- با باورهای دینی ما تناسب داشته باشد - کیفیت خوب و قیمت مناسب داشته باشد.

۵- برق آبی بهتر است. زیرا برق حرارتی از سوزاندن سوخت های فسیلی به دست می آید، که محیط زیست را آلوده می کند.

اما برق آبی آلودگی ایجاد نمی کند.

۶- اگر کشوری به بهانه آباد کردن، در کشورهای دیگر دخالت و نفوذ کنند تا منابع و ثروت آن کشور را غارت کنند به آن کشور

استعمار گر می گویند.



ی (۱- اترک ۳- بندر عباس

