




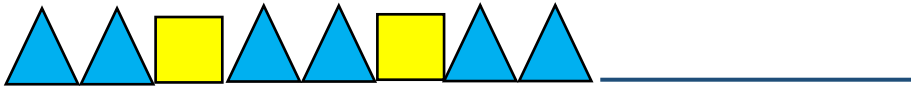
بسمه تعالی

نمونه سوال فصل ۲ ریاضی اول

امیرمنصور بنی اسدی



الگوها را ادامه بده

۱



به تعداد شکل های سمت چپ از سمت راست رنگ بزن


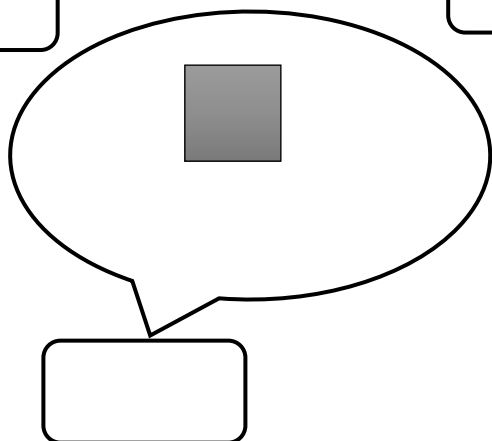
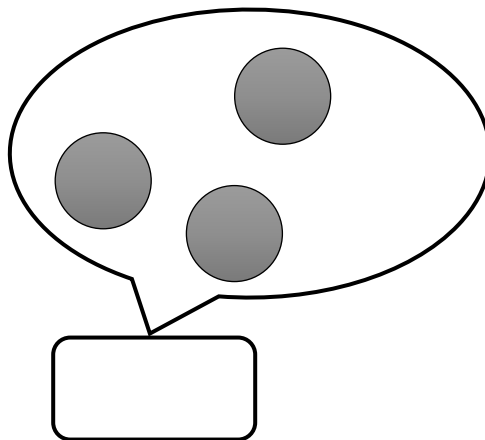

۲



جدول را با شکل مناسب کامل کن

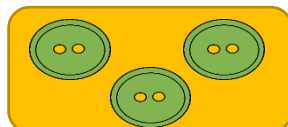

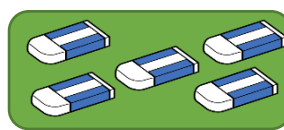
۳

۲ تا شکل به هر دسته اضافه کن و چوب خط آن را خانه‌های خالی زیرش بکش.



۴

تعداد شکل‌های هر دسته را بگو و با انگشتان دست نشان بده. کدام دسته یکی بیشتر و کدام یکی کمتر است؟



۵

هر کیک را به یک بشقاب وصل کن و بگو آیا تعداد بشقابها برای کیکها کافی است؟



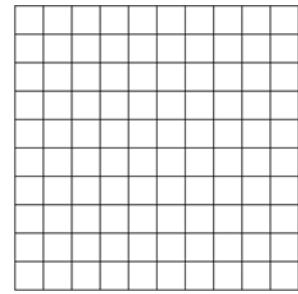
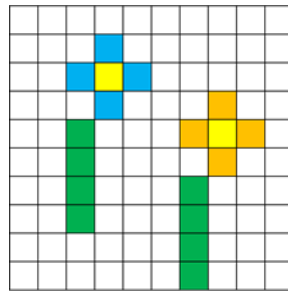
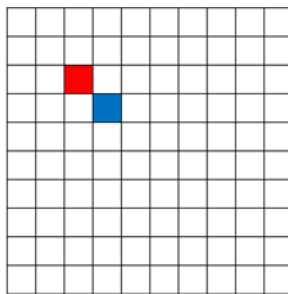
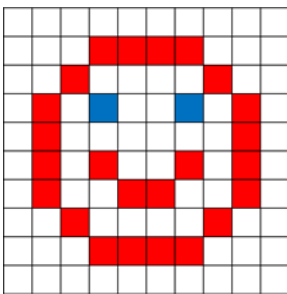
۶

الگو را ادامه بده و دو شکل بعدی هر الگو را بکش.




۷

شکل سمت چپ را در سمت راست نقاشی کن.




۸

شکل مناسب را در جای خالی نقاشی کن و مربع شگفت انگیز بساز.



۹

الگوی شطرنجی را ادامه بده.



۱۰

موفق باشی عزیزم