







	به نام خدا	نام و نام خانوادگی نام خانوادگی تاریخ مدت آزمون
--	------------	--

بارم	سوال	ردیف
( )	<p>۱ کدام ماشین جلوی خانه است؟</p> 	
( )	<p>۲ به این الگو نگاه کنید. کدام گزینه با این الگو مطابقت دارد؟</p> 	
( )	<p>۳ به این الگو نگاه کنید. کدام گزینه با این الگو مطابقت دارد؟</p> 	

( ) به شکل زیر نگاه کن. کدام جدول تعداد طاس ها و کلید ها را نشان می دهد؟ ۴



	X	X	X	X
	X	X		


	X	X	X
	X	X	X

( ) ماهی در کجا قرار دارد؟ ۵




داخل تنگ     خارج تنگ     راست تنگ


( ) کدام سیب سمت راست است؟ ۶








( ) کدام ابر بالای خورشید است؟ ۷



( ) به شکل زیر نگاه کن. کدام جدول تعداد خرس های قطبی و ماشین ها را نشان می دهد؟ ۸



	X	X	X	X
	X	X	X	

	X	X	X	X	X
	X	X	X		

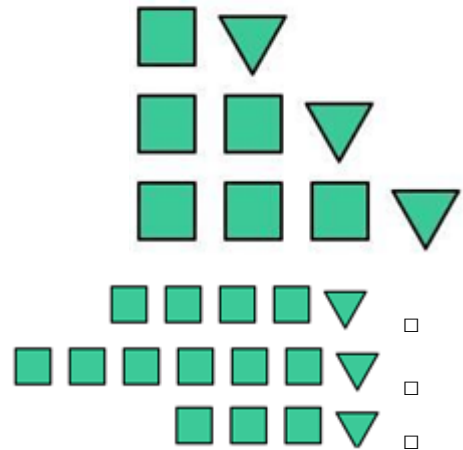
( ) کدام کرم روی قارچ است؟ ۹



( )

به این الگو نگاه کنید. کدام گزینه در ادامه می آید؟

۱۰



( )



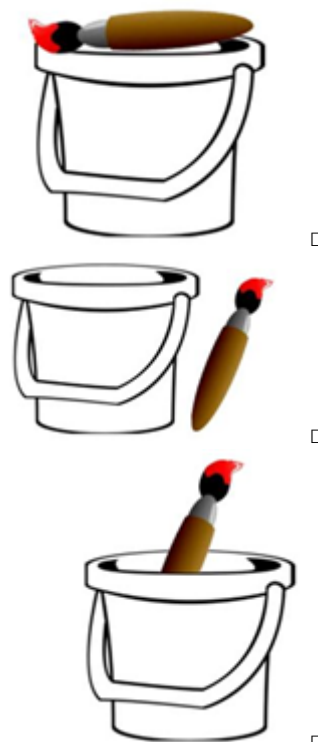

به شکل زیر نگاه کن. کدام جدول تعداد کلوجه ها و جارختی ها را نشان می دهد؟

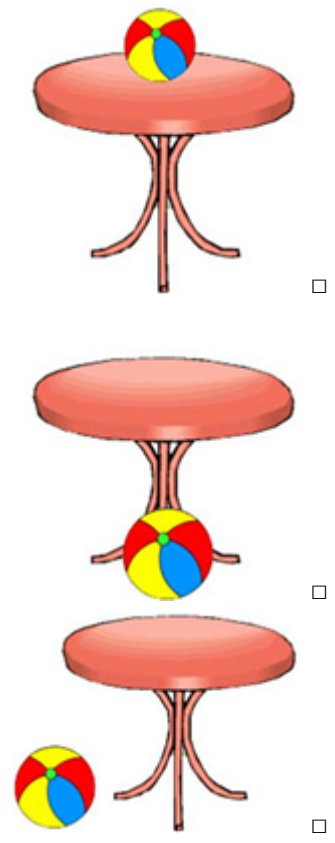
۱۱




	X	X	X	X
	X			



<p>( )</p>	<p>به این الگو نگاه کنید. کدام الگو با این الگو مطابقت دارد؟</p>	<p>۱۲</p>
<p>( )</p>	<p>به این الگو نگاه کنید. کدام گزینه با این الگو مطابقت دارد؟</p>	<p>۱۳</p>
<p>( )</p>	<p>محمد بدنال شیرینی می گشت و پیدا کرد. او می خواست بدانند چه تعداد از هر شیرینی وجود دارد، بنابراین او جدولی از شیرینی هایی که پیدا کرد تهیه کرد. جدول او کدام است؟</p>	<p>۱۴</p>
<p>( )</p>	<p>به این الگو نگاه کنید. کدام گزینه در ادامه می آید؟</p>	<p>۱۵</p>



		
( )	<p>به این الگو نگاه کنید. کدام گزینه در ادامه می آید؟</p> 	۱۶
( )	<p>کدام قلم مو داخل قوطی رنگ است؟</p> 	۱۷
( )	<p>کدام پرنده به سمت چپ پرواز می کند؟</p> 	۱۸
( )	<p>کدام توپ زیر میز است؟</p>	۱۹



۲۰ به تصویر نگاه کن. کدام جدول تعداد میز ها و تلویزیون ها را نشان می دهد؟



	X	X	X	X	X
	X	X			

	X	X	X
	X	X	

( )