


- راهبرد رسم شکل
- راهبرد الگوسازی
- راهبرد حذف حالت‌های نامطلوب
- راهبرد الگویابی
- راهبرد حدس و آزمایش
- راهبرد زیرمسئله
- راهبرد حل مسئله ساده‌تر
- راهبرد روش‌های نمادین

فصل ۱

راهبردهای حل مسئله



کشیدن یک شکل مناسب می تواند به حل مسئله کمک کند یا به طور کامل آن را حل کند؛ به طوری که نیازی به نوشتن عملیات و محاسبه نباشد. گاهی ممکن است شکل را فقط تصور کنید و آن را رسم نکنید. منظور از رسم شکل، نقاشی نیست؛ بلکه می توانید برای این کار شکل های ساده بکشید.

۱- یک باغچه مستطیل شکل به طول ۱۰ و عرض ۵ متر است. اگر به فاصله یک متر از ضلع های باغچه دورتا دور آن را

نرده بکشیم، چند متر نرده احتیاج داریم؟

ابتدا یک مستطیل رسم کنید.

دور آن به فاصله یک متر از هر ضلع خط بکشید.

یک مستطیل جدید به وجود می آید. طول و عرض این مستطیل چقدر است؟



۲- تویی از ارتفاع ۱۸ متری سطح زمین رها می شود و پس از زمین خوردن، نصف ارتفاع قبلی خود بالا می آید. این توپ

از لحظه رها شدن تا سومین مرتبه ای که به زمین می خورد، چند متر حرکت کرده است؟



۳- قورباغه ای می خواهد از یک دیوار عمودی بالا برود. او با هر جهش ۳ متر بالا می رود و هر بار ۲ متر سُر می خورد و

پایین می آید. اگر ارتفاع دیوار ۹ متر باشد، او با چند جهش به بالای دیوار می رسد؟





برای حل بعضی از مسئله‌ها باید همه حالت‌های ممکن را بنویسید. برای اینکه هیچ حالتی از قلم نیفتد، لازم است آنها را با نظم، الگو و ترتیبی مشخص بنویسید. الگوسازی به شما کمک می‌کند تا مطمئن شوید همه حالت‌ها را نوشته‌اید. بنابراین در مسئله‌هایی که لازم است همه جواب‌ها و پاسخ‌های ممکن را بنویسید، می‌توانید از این راهبرد استفاده کنید. با توجه به نظم و ترتیبی که می‌سازید، به این راهبرد تفکر نظام‌دار نیز می‌گویند.

۱- دو عدد طبیعی^۱ پیدا کنید که حاصل ضرب آنها ۲۴ و حاصل جمع آنها کمترین مقدار باشد. جدول را با یک نظم و ترتیب کامل کنید.

اولین عدد	دومین عدد	حاصل جمع
۱	۲۴	۲۵
۲	۱۲	

کوچک‌ترین عدد طبیعی چیست؟

حاصل ضرب آن در چه عددی ۲۴ می‌شود؟

اکنون عدد طبیعی بعدی را در نظر بگیرید و به همین ترتیب عددها را پیدا کنید.

۲- با انگشتان یک دست به ۵ صورت می‌توان عدد ۱ را نشان داد. به چند صورت می‌توان عدد ۲ را نشان داد؟



۳- با رقم‌های ۷، ۲ و ۵ تمام عددهای سه رقمی ممکن را بنویسید (در عددهای شما می‌تواند رقم‌های تکراری هم باشد).

۴- تعداد زیادی سکه‌های ۵۰ و ۱۰۰ تومانی داریم. به چند حالت می‌توان کرایه ۵۰۰ تومانی تاکسی را پرداخت کرد؟



۱- عددهای ... ۳، ۲، ۱ را عددهای طبیعی می‌نامند.



به شرایط و اطلاعات مسئله توجه کنید و حالت‌های نامطلوب و نادرست را کنار بگذارید؛ آنگاه پاسخ مسئله یا همان حالت‌های مطلوب به دست می‌آیند. برای پیدا کردن تمام حالت‌های ممکن می‌توانید از راهبرد الگوسازی استفاده کنید. ابتدا فهرستی از تمام حالت‌ها به دست آورید؛ سپس با توجه به شرایط گفته شده در مسئله، حالت‌های نامطلوب را حذف کنید.

- ۱- مجموع سن سه نفر ۱۴ سال و حاصل ضرب سن آنها 70 است. سن بزرگ‌ترین نفر چقدر است؟
ابتدا با راهبرد الگوسازی همه حالت‌هایی را که ضرب سه عدد طبیعی برابر 70 می‌شود، بنویسید.
به این جدول چه ستونی باید اضافه کنید تا حالت‌های نامطلوب حذف و فقط حالت مطلوب باقی بماند؟

نفر سوم	نفر دوم	نفر اول

- ۲- دوست شما یک عدد حسابی^۱ کوچک‌تر از 100 را در نظر گرفت. شما باید با طرح چند سؤال، عدد موردنظر را پیدا کنید. او فقط می‌تواند به سؤال‌های شما بله و خیر بگوید. چگونه می‌توان عدد مورد نظر را پیدا کرد؟
در واقع از 0 تا 99 ، 100 عدد وجود دارد که فقط یکی مطلوب و مورد نظر است و باقی عددها نامطلوب‌اند. با این توضیح کدام یک از سؤال‌های زیر مناسب‌تر است؟ چرا؟
- آیا عدد موردنظر شما 27 است؟
 - آیا عدد موردنظر شما زوج است؟
 - آیا عدد موردنظر شما یک رقمی است؟
 - آیا عدد موردنظر شما از 50 بزرگ‌تر است؟
- با توجه به پاسخی که به سؤال‌های بالا دادید، یک روش طرح سؤال همراه با نظم و ترتیب بیان کنید که بتوان با پرسیدن آنها به عدد موردنظر رسید.

۱- عددهای $0, 1, 2, 3, \dots$ را عددهای حسابی می‌نامند.

در ریاضی با دو نوع الگوی عددی یا هندسی روبه‌رو می‌شویم. کشف الگو، رابطه و نظم موجود در بین دنباله‌های عددی یا هندسی کمک می‌کند تا بتوانید خواسته مسئله را به دست آورید. این راهبرد در مسئله‌هایی کاربرد دارد که بین شکل‌ها یا عددها، الگو و رابطه خاصی وجود داشته باشد.

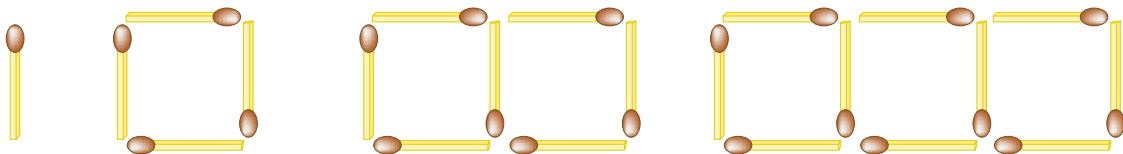
۱- سه عدد بعدی الگوهای زیر را بنویسید. رابطه بین عددها را توضیح دهید.

_____ و _____ و _____ و ۱۰ و ۷ و ۴ و ۱
 عددها سه تا سه تا اضافه می‌شوند.

_____ و _____ و ۱۶ و ۹ و ۴ و ۱

_____ و _____ و ۸ و ۱۶ و ۳۲ و ۶۴

۲- شکل دهم با چند چوب کبریت ساخته می‌شود؟ چرا؟



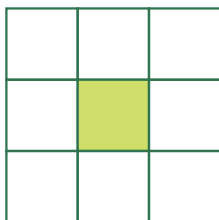
شکل (۱)

شکل (۲)

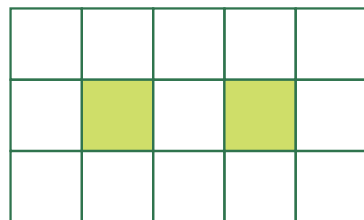
شکل (۳)

شکل (۴)

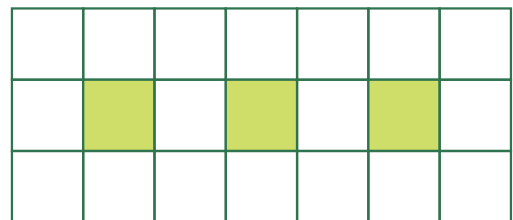
۳- اگر شکل‌ها به همین ترتیب ادامه پیدا کند، چه کسری از شکل شماره ۶، رنگی است؟



شکل (۱)



شکل (۲)



شکل (۳)



ممکن است حلّ یک مسئله، روش و راه حلّ مستقیمی نداشته باشد یا راه رسیدن به جواب آن طولانی و دشوار باشد. شما می‌توانید با یک روش منطقی و منظم پاسخ احتمالی مسئله را حدس بزنید؛ سپس با توجه به شرایط گفته شده در مسئله، حدس خود را بررسی کنید و با توجه به نتیجه به دست آمده حدس بعدی را بزنید تا کم کم به پاسخ مسئله نزدیک شوید. برای نشان دادن حدس‌ها و آزمایش‌های خود راه حل مناسبی پیدا کنید.

۱- ۲۰ دستگاه دوچرخه و سه‌چرخه در یک پارکینگ وجود دارد. اگر تعداد کلّ چرخ‌های آنها ۴۵ عدد باشد، چند دوچرخه و چند سه‌چرخه در پارکینگ وجود دارد؟

تعداد دوچرخه	تعداد سه‌چرخه	بررسی و آزمایش
۱۰	۱۰	



در حدس اول تعداد دوچرخه‌ها را ۱۰ و تعداد سه‌چرخه‌ها را هم ۱۰ عدد در نظر بگیرید. با کامل کردن ردیف اول جدول حدس خود را بررسی و آزمایش کنید. با توجه به نتیجه بررسی، باید تعداد سه‌چرخه‌ها را بیشتر کرد یا دوچرخه‌ها را؟ چرا؟

۲- دو زاویه متمم‌اند. یکی از این زاویه‌ها ۳ برابر زاویه دیگر است. اندازه هر زاویه را پیدا کنید.

$$3 \times \blacksquare + 10 = 31$$

$$3 \times 10 + 10 = 40$$

۳- به جای \blacksquare چه عددی می‌توان قرار داد؟

به جای \blacksquare عددهای مختلفی را حدس بزنید، از عدد ۱۰ شروع کنید.



مسئله پیچیده و چند مرحله‌ای را به چند مسئله ساده تبدیل کنید. فهرستی از این زیرمسئله‌ها را درست کنید؛ سپس به ترتیب به آنها پاسخ دهید. اگر ترتیب زیرمسئله‌ها را درست تشخیص داده باشید، حل هر زیرمسئله به حل مسئله بعدی کمک می‌کند تا در نهایت به خواسته اصلی مسئله برسید.

۱- پس‌انداز هفتگی محمد، ۳۰۰۰ تومان است. او حساب کرد ۵ هفته پس‌انداز او، نصف قیمت کیفی است که دوست دارد بخرد. قیمت کیف چقدر است؟

الف) پس‌انداز ۵ هفته چقدر می‌شود؟

ب) اگر این عدد نصف قیمت کیف باشد، قیمت کیف چقدر است؟

۲- طول، عرض و عمق یک استخر به ترتیب ۱۲، ۶ و ۳ متر است. می‌خواهند کف و دیوارهای این استخر را رنگ کنند. اگر برای هر متر مربع $\frac{۱}{۳}$ کیلوگرم رنگ لازم باشد، برای رنگ کردن استخر چند کیلوگرم رنگ نیاز است؟



۳- میوه فروشی، امروز ۴۰ کیلوگرم سیب به قیمت هر کیلوگرم ۲۵۰۰ تومان و ۸۰ کیلوگرم پرتقال به قیمت هر کیلوگرم ۱۵۰۰ تومان خرید. او هر کیلوگرم سیب را ۳۰۰۰ تومان و هر کیلوگرم پرتقال را ۲۰۰۰ تومان فروخت. این میوه‌فروش، از این کار خود چقدر سود برده است؟





برای حل بعضی از مسئله‌ها، ابتدا مسئله‌ای ساده‌تر را که با مسئله اصلی در ارتباط است، حل می‌کنیم. سپس با استفاده از نتیجه و پاسخ مسئله ساده شده، جواب مسئله اصلی را به دست می‌آوریم. برای ساده کردن مسئله می‌توان از عددهای تقریبی یا عددهای کوچک‌تر استفاده کرد. برای نتیجه‌گیری و پیدا کردن پاسخ مسئله اصلی از راهبرد الگویابی استفاده می‌کنیم و الگوی کشف شده در مسئله ساده را به مسئله اصلی مرتبط می‌کنیم.

۱- قطر خورشید 1392530 کیلومتر و قطر کره زمین $12756/6$ کیلومتر است. قطر خورشید تقریباً چند برابر قطر زمین

است؟

برای ساده شدن مسئله بهتر است از عددهای تقریبی استفاده کنید. $1392530 \approx 1000,000$

خلاصه مسئله ساده شده را بنویسید و پاسخ دهید. $12756/6 \approx$



$$\frac{1}{2} + \frac{1}{4} + \frac{1}{8} + \frac{1}{16} + \dots + \frac{1}{1024}$$

۲- حاصل عبارت مقابل را به دست آورید.

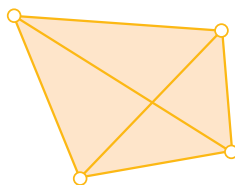
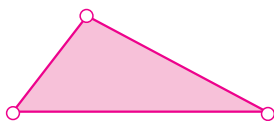
به جای حل کردن عبارت بالا، ابتدا ساده شده این مسئله را حل کنید.

در پاسخ‌ها چه الگو و رابطه‌ای تشخیص می‌دهید که به کمک آن بتوانید پاسخ مسئله اصلی را بدون محاسبه بنویسید؟

۳- اگر 10° نقطه را که هیچ سه‌تای آنها روی یک خط نیستند، دو به دو به هم وصل کنیم؛ چند پاره خط به وجود می‌آید؟

تعداد پاره خط‌ها در واقع مجموع تعداد ضلع‌ها و تعداد قطر‌هاست.

یک الگو پیدا کنید و برای 10° نقطه نتیجه‌گیری کنید.



بسیاری از مسئله‌ها را می‌توانیم به کمک نمادهای جبری به یک معادله تبدیل کنیم. از فصل سوم به بعد می‌توانید از این راهبرد نیز برای حل مسئله استفاده کنید. در بعضی از مسئله‌ها هم می‌توانیم از مدل‌سازی هندسی استفاده کنیم. تبدیل مسئله به یک شکل هندسی و حل هندسی آن نیز نوعی روش نمادین یا مدل‌سازی به‌شمار می‌رود.

۱- احمد ۳۰۰۰ تومان پول داشت. او ۴ دفتر خرید و ۲۰۰۰ تومان برایش باقی‌ماند. قیمت هر دفتر چقدر است؟

$$4 \times \square + 2000 = 3000$$

متن این سؤال را می‌توانید با تساوی مقابل نشان دهید.

مربع نشان دهنده چه چیزی است؟

اکنون می‌توانید عددی را که باید در مربع قرار گیرد، حدس بزنید و آزمایش کنید.

(در فصل سوم، این مسئله را به روش دیگر حل خواهید کرد.)

۲- فاطمه کتاب داستانی را در ۶ ساعت مطالعه کرد و ۱۰ صفحه از آن باقی‌ماند. اگر این کتاب ۱۰۰ صفحه داشته باشد، فاطمه

به‌طور متوسط در هر ساعت چند صفحه از آن را مطالعه کرده است؟

۳- یک سالن مستطیل شکل است. می‌خواهند در مکانی از سقف این سالن دریچه کولر قرار دهند؛ به طوری که از ۴ گوشه

آن به یک اندازه باشد. محل دریچه را تعیین کنید.





در حل این مسئله‌ها از راهبردهایی که آموخته‌اید، استفاده کنید. ممکن است در حل مسئله‌ای راه جدیدی به ذهن شما برسد که با راهبردهای آموزش داده شده متفاوت باشد. برای حل مسئله‌ها می‌توانید از ماشین حساب استفاده کنید. درباره راهبردهای مختلف با هم کلاسی‌های خود گفت‌وگو کنید. ممکن است یک مسئله با چند راهبرد حل شود، یا چند نفر از یک راهبرد استفاده کنند؛ ولی شیوه به کار بردن آنها متفاوت باشد. برای مثال چند نفر یک مسئله را با راهبرد رسم شکل حل می‌کنند؛ اما ممکن است نحوه شکل کشیدن آنها متفاوت باشد. در یک کلاس ریاضی خوب و فعال، تنوع راهبرد و راه حل وجود دارد.

۱- $\frac{1}{3}$ دانش‌آموزان کلاسی بسکتبال و $\frac{1}{8}$ دانش‌آموزان آن کلاس فوتبال بازی می‌کنند. سایر دانش‌آموزان که تعدادشان ۱۴ نفر است، بازی آنها را تماشا می‌کنند. این کلاس چند دانش‌آموز دارد؟

۲- مساحت مربعی به ضلع 100 سانتی‌متر، 1 متر مربع است. اگر از ضلع مربع 10 درصد کم کنیم، مساحت مربع چند درصد کم می‌شود؟



۳- کشاورزی زمین خود را به نسبت‌های زیر بذر پاشی کرده است :
گندم : 45% جو : $37/5\%$ ذرت : $17/5\%$
اگر مساحت زمین او 15 هکتار باشد، مساحت زیر کشت هر بذر را حساب کنید.

$$1 \frac{1}{2} \times 1 \frac{1}{3} \times 1 \frac{1}{4} \times \dots \times 1 \frac{1}{100} =$$

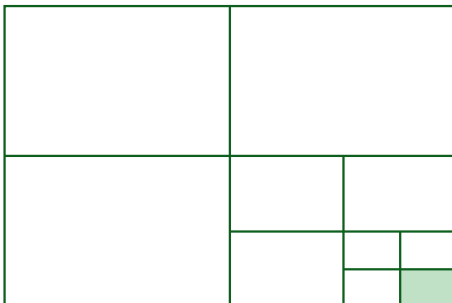
۴- حاصل عبارت روبه‌رو را پیدا کنید.



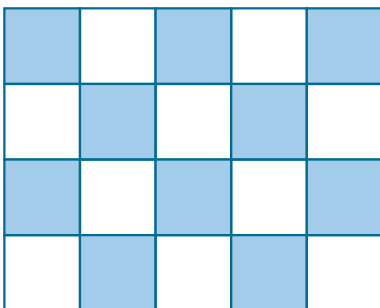
۵- در یک کارگاه تولید کفش، ۴۹۶۰ جفت کفش تولید شده است. $\frac{۳}{۸}$ آنها پسرانه و بقیه دخترانه است. اگر قیمت هر جفت کفش پسرانه ۲۷۰۰۰ تومان و قیمت هر جفت کفش دخترانه ۳۴۰۰۰ تومان باشد، درآمد این کارگاه چقدر است؟

۶- سارا یک بازی روی صفحه شطرنجی انجام می دهد. مهره او روی خانه $[۲]$ است. او ابتدا مهره اش را ۳ خانه به سمت راست، سپس ۴ خانه به سمت بالا و در انتها ۲ خانه به سمت چپ آورد. در حال حاضر مهره سارا روی کدام خانه قرار دارد؟

۷- چه کسری از شکل زیر رنگی است؟ توضیح دهید.



۸- اگر دیوارهای یک استخر با طرح زیر کاشی کاری شده باشد، چه کسری از دیوار کاشی آبی دارد؟



۹- به چند حالت حاصل ضرب ۲ عدد طبیعی ۳۶ می‌شود؟ در کدام حالت حاصل جمع، کمترین مقدار است؟

۱۰- عددی را ۵ برابر و ۳ واحد از آن کم کردیم، حاصل ۳۲ شد. عدد موردنظر چند است؟

در این قسمت برای خود فهرستی از راهبردهای حل مسئله تهیه کنید تا در هنگام حل فعالیت‌ها و مسئله‌های کتاب از آن استفاده کنید. هنگام حل مسئله می‌توانید از ماشین حساب نیز استفاده کنید.