

آزمون فصل پنجم (اندازه گیری) پایه دوم دبستان

نام و نام خانوادگی:


دبستان:

آموزگار:

تاریخ:



اندازه شکل های زیر را با خط کش بگیریید و بنویسید.





به جای عدد مناسب قرار دهید.

$$70 + \square = 92$$

$$\square + 35 = 55$$

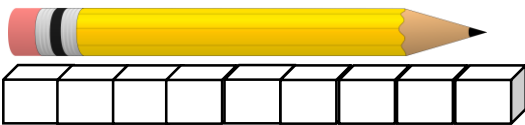
$$\square - 22 = 20$$

$$90 - \square = 45$$


در یک مزرعه روی هم ۵ تا خروس و گاو هستند آن ها روی هم ۱۴ پا دارند، حدس می زنید در این مزرعه چند خروس و چند گاو وجود داشته باشد؟



اندازه این مداد بین و چینه است.
یعنی از چینه بیشتر و از کمتر است.



یک مربع بکش که اندازه ی هر ضلع آن ۳ سانتی متر باشد.



جاهای خالی را کامل کن.

هر یک سانتی متر یعنی میلی متر

۲۰ سانتی متر یعنی میلی متر

۱۸ سانتی متر یعنی میلی متر

اندازه مداد علی ۱۸ سانتی متر است و اندازه جا مدادیش ۲۵ سانتی متر است، آیا مداد در جامدای قرار می گیرد؟

با خط کش خط هایی به طول ۴، ۵ و ۶ سانتی متر رسم کنید.



مربع شگفت انگیز را کامل کن.

۱	۵	۷		۲	۶	۴	۹	۳
۳		۶	۹	۴		۸	۵	
۴	۹		۳	۷	۵		۶	۱
۹	۶	۳	۵	۸	۴		۱	۲
	۸	۱	۷	۳	۹	۶		۵
۵		۴	۱	۶	۲	۹	۳	۸
۷	۱	۲	۴	۹		۵	۸	
۸	۴		۶		۷	۳	۲	۹
۶		۹	۲	۵	۸	۱	۷	



باز خورد آموزگار: