


مدرسه رازی	آزمون ریاضی ششم	به نام خدای مهربان
نام و نام خانوادگی ..... تاریخ : ..... / ..... / .....		
۱- جاهای خالی را کامل کنید .	۲- شماره ی هر ماه را بنویس .	
هر سال چند ماه دارد ؟ .....	ماه یازدهم .....	
هر فصل چند ماه دارد ؟ .....	ماه ششم .....	
هر سال چند فصل دارد ؟ .....	ماه سوم .....	
۳- در جاهای خالی علامت مناسب بگذارید .		
۷۵۳۲۵ <input type="text"/> ۴۸۵۰	۳۲۱۱۰ <input type="text"/> ۴۲۰	۱۷۰۰۰۰ <input type="text"/> ۴۷۰۰۰
۴- اعداد زیر را با رقم و حروف بنویسید .		
۷۵۴۳۲	سی و شش هزار و صد و چهل و پنج .....	
۸۰۰۵۰	هشت هزار و بیست .....	
۶۴۹۰	شصت و سه هزار و دویست و نه .....	
۵- ضرب کنید.		
$97 \times 10 =$	$7 \times 8 =$	$\begin{array}{r} 70 \\ \times 5 \\ \hline \end{array}$
$8 \times 8 =$	$32 \times 10 =$	
$99 \times 0 =$	$9 \times 9 =$	
۶- جاهای خالی را کامل کنید .		
.....	۲۹۰ یعنی .....	۴۶ ده تایی می شود .....
.....	۸۰۰ یعنی .....	۷۸ ده تایی می شود .....
۷- با اعداد داده شده یک عدد زوج و یک عدد فرد بنویسید .		
۶ - ۳ - ۴	زوج .....	فرد .....
۸- روزهای فرد را بنویسید .		
.....	.....	.....

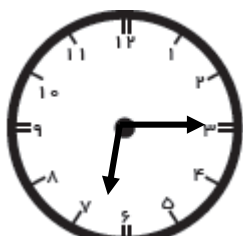
۹- اعداد را به لاتین بنویس .

۲	۵	۶	۴۹	۵۰


۱۰- برای شکل زیر یک تساوی تقسیم بنویس .



۱۱- ساعت چند است ؟



.....



.....

۱۳- جمع کنید .

۷۵۳ و ۱۶۴

۱۲- تفریق کنید .

۲۶۴ و ۹۰۸

۱۵- اعداد را به تومان تبدیل کنید .

..... تومان      ۵۰۰۰ ریال

..... تومان      ۱۰۰۰۰ ریال

۱۶- مساله حل کنید .

علی ۹۸۰ تومان دارد. او یک مداد ۴۵۵ تومان خرید. چند تومان برایش مانده است ؟