



فصل

منابع آب و خاک

فضانوردان، زمین را یک سیاره آبی و بسیار زیبا توصیف کرده‌اند. آب با حالت‌های جامد، مایع و گاز، باعث تغییرات وسیعی در لایه سطحی و پیرامون کره زمین می‌شود. آب، نماد زندگی است و در سفری پایان‌ناپذیر بین سنگ کره و هوا کره، سبب تغییر پوسته زمین، فرسایش، تغییرات اقلیمی و... می‌شود.

آیا می‌توان بدون آب به زندگی ادامه داد؟ سطح زمین بدون آب، چه منظره‌ای خواهد داشت؟ در آینده نزدیک، با افزایش روزافزون جمعیت و توسعه کشاورزی و صنعت، گرم شدن کره زمین و... بشر با چه چالش‌هایی برای تأمین آب شیرین روبه‌رو خواهد شد؟

آیا می‌توان بدون خاک به زندگی ادامه داد؟ خاک، چه نقشی در زندگی گیاهان و جانوران دارد؟ آیا می‌دانید خاک، چگونه و از چه موادی تشکیل می‌شود؟



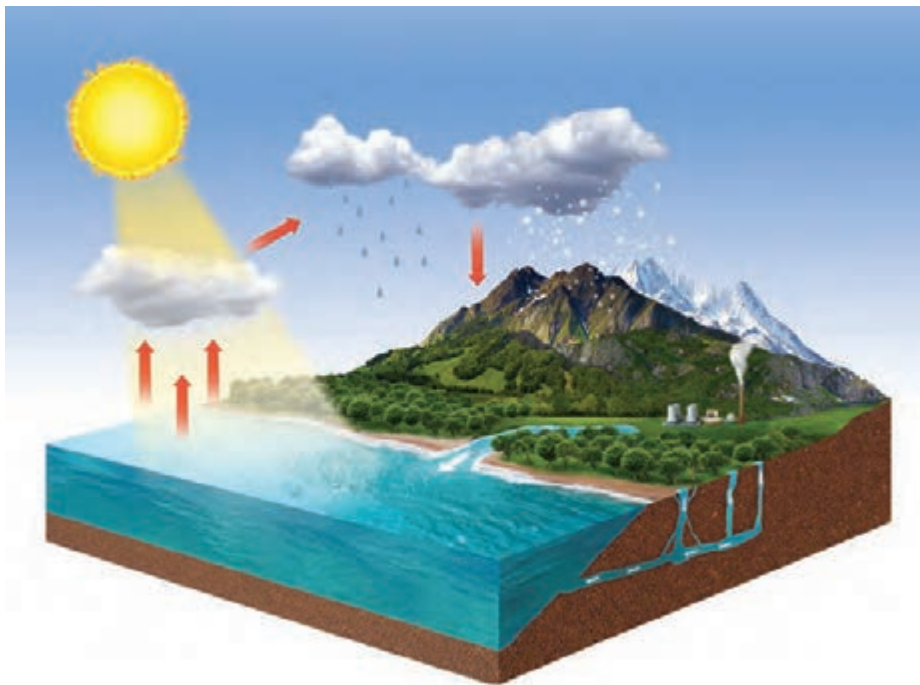


فرسایش



فرونشست زمین

زندگی انسان و سایر جانداران، بدون آب امکان پذیر نیست. آب مورد نیاز، از منابع آب‌های سطحی و زیرزمینی تأمین می‌شود. بارش‌های جوی در تأمین این منابع، نقش اساسی دارند. بخشی از بارش‌ها در یک حوضه آبریز، قبل از رسیدن به سطح زمین، توسط شاخ و برگ گیاهان گرفته می‌شود و برگاب را به وجود می‌آورد (شکل ۱-۳-الف) که مقداری از آن به صورت تبخیر، مجدداً به هوا کره برمی‌گردد. بخشی دیگر که به سطح زمین می‌رسد، یا تبخیر می‌شود، یا به صورت رواناب، به سوی مناطق پست‌تر حوضه آبریز جریان می‌یابد. بخشی از رواناب به داخل زمین، نفوذ و منابع آب زیرزمینی را تغذیه می‌کند. بخش عمده آب زیرزمینی، سرانجام از طریق چشمه، چاه یا قنات، مجدد به سطح زمین راه می‌یابد (شکل ۱-۳-ب).



ب) چرخه آب

با هم بیندیشید

- چه عواملی بر مقدار برگاب و رواناب مؤثرند؟
- تبخیر در چه بخش‌هایی از چرخه آب صورت می‌گیرد؟



الف) نمایی از برگاب

شکل ۱-۳

آب جاری، با آنکه در مقایسه با حجم کل آب کره، بسیار ناچیز است اما، در تغییرات سطح زمین و تشکیل منابع آب جهت مصارف گوناگونی همچون آب آشامیدنی، کشاورزی، صنعت، تولید برق و ... اهمیت زیادی دارد.

● شکل روبه‌رو، شش حوضه آبریز اصلی ایران را نشان می‌دهد. با جستجو در منابع معتبر، یک یا دو رودخانه اصلی در هر حوضه را مشخص کنید.

جمع‌آوری اطلاعات



آبدهی: سرعت حرکت آب در نقاط مختلف یک رود، متغیر است. اندازه‌گیری سرعت آب و آبدهی رود، به صورت روزانه و یا در دوره‌های زمانی طولانی‌تر و به روش‌های مختلف انجام می‌شود. با تعیین سرعت آب در یک رود یا آبراهه و اندازه‌گیری سطح مقطع آن، می‌توان مقدار آبدهی (دبی) را با استفاده از رابطه زیر محاسبه کرد (شکل ۲-۳).

$$Q = A \times V$$



Q : دبی برحسب متر مکعب بر ثانیه
 A : مساحت سطح مقطع جریان آب برحسب متر مربع
 V : سرعت جریان آب برحسب متر بر ثانیه
 به بیان دیگر آبدهی (دبی) عبارت است از، حجم آبی که در واحد زمان (ثانیه) از مقطع عرضی رودخانه عبور می‌کند.

شکل ۲-۳. ایستگاه اندازه‌گیری آبدهی رود

● آب در رودی با سطح مقطع ۱۰۰ مترمربع، و با سرعت متوسط ۲ متر بر ثانیه در جریان است. آبدهی رود را محاسبه کنید.

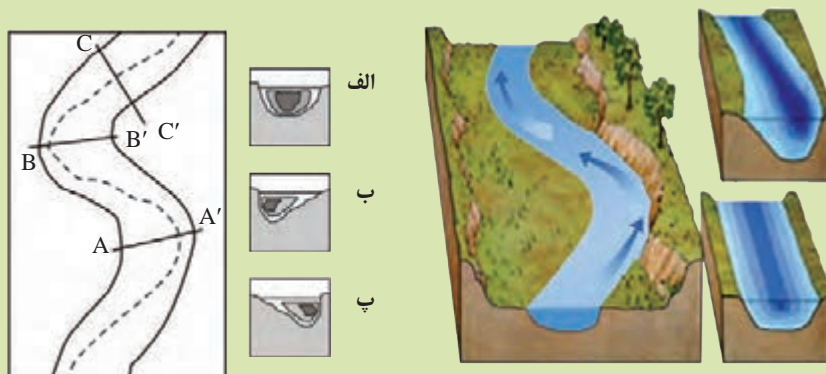
● اگر این رود به یک تالاب منتهی شود، در طی یک هفته، چند متر مکعب آب را وارد تالاب می‌کند؟

پیوند با ریاضی

آبدهی رود، در بهار، به علت ذوب برف‌ها و افزایش بارندگی، افزایش می‌یابد. در ادامه در طول تابستان، معمولاً آبدهی رود کاهش می‌یابد. در مناطق مرطوب، که مقدار بارندگی زیاد و تبخیر، کم است، رودها از نوع دائمی هستند. در این رودها، بخشی از آب که همیشه جریان دارد، آبدهی پایه را تشکیل می‌دهد. آب این رودها، در زمانی که بارندگی نیست، از ذوب برف و یخ نواحی مرتفع و یا از ورود آب‌های زیرزمینی به داخل آنها تأمین می‌شود. در مناطق گرم و خشک که مقدار بارندگی کم و تبخیر زیاد است، بیشتر رودها، موقتی و فصلی هستند.

فکر کنید

- ۱- مقدار رسوب‌گذاری و فرسایش را در نقاط A و A' مقایسه کنید.
- ۲- هر یک از نیم‌رخ‌های الف و ب و پ مربوط به کدام مقطع رود می‌باشد؟



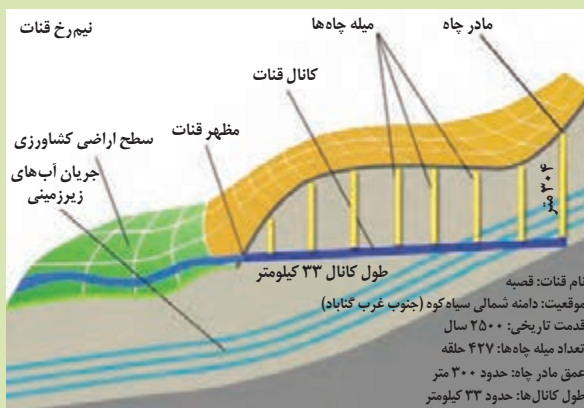
مقاطع مختلف رود

آب زیرزمینی

انسان‌های نخستین، از آب زیرزمینی برای آشامیدن و پختن غذا استفاده می‌کردند. به تدریج، با گذشت زمان از این آب، برای کشاورزی و گردش آسیاب‌ها نیز بهره می‌بردند. مردم ایران زمین، از قدیم، آب‌های زیرزمینی را با احداث قنات به سطح زمین می‌آوردند و به روستاها و شهرهای خود می‌رساندند. آب زیرزمینی، آبی است که در منافذ و فضاهای خالی لایه‌های نزدیک به سطح زمین جمع می‌شود و از طریق چاه، چشمه و قنات، قابل بهره‌برداری می‌گردد.

جمع‌آوری اطلاعات

- قدیمی‌ترین قنات جهان، در کدام استان کشور قرار دارد و نام آن چیست؟
- حدود ۴۰۰۰۰ رشته قنات در کشور ما وجود دارد. بیشترین تعداد قنات، در کدام یک از شش حوضه آبریز اصلی ایران حفر شده‌اند؟ دلیل آن چیست؟



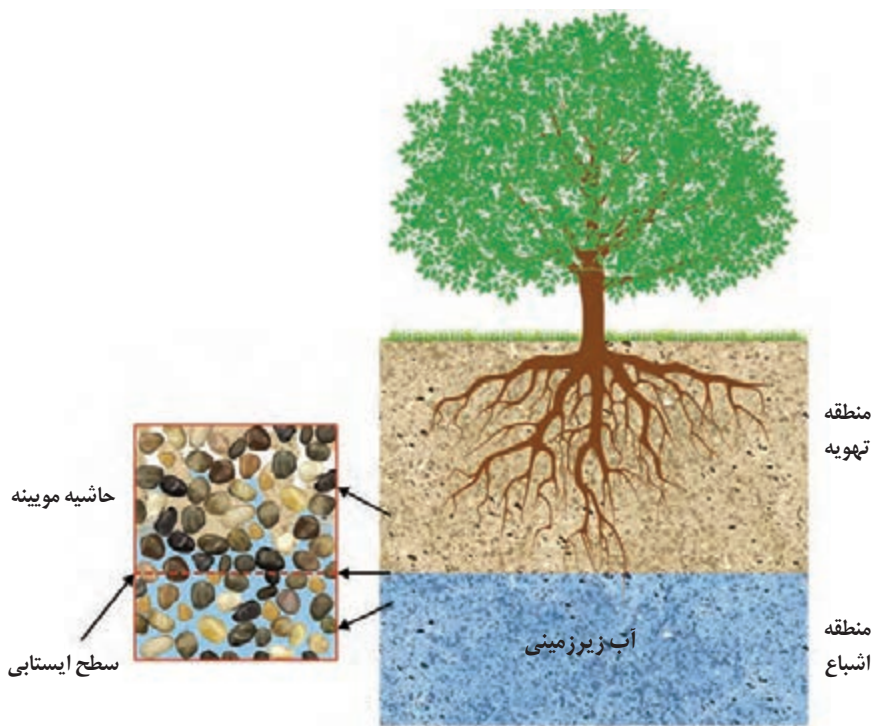
دانشمندان علوم زمین

● برخی از دانشمندان ایرانی در مورد آب‌های زیرزمینی، نظرات ارزنده‌ای ارائه کرده‌اند. ابوبکر محمد بن الحسن الحاسب کرجی (قرن چهارم و پنجم هـ.ق) کتابی با عنوان «استخراج آب‌های پنهانی» درباره منشأ و روش‌های استخراج آب زیرزمینی نوشته است. ابوریحان بیرونی (قرن چهارم و پنجم هـ.ق) در کتاب «آثار الباقیه» منشأ آب چشمه‌ها و علت تغییر مقدار آب آنها را ذکر کرده است. وی خروج آب از چاه‌های آرتزین را براساس قانون ظروف مرتبطه بیان کرده است. ابوحاتم مظفر اسفرازی (قرن پنجم و ششم هـ.ق) در «رساله آثار علوی» مطالبی درباره شکل‌گیری چشمه‌ها و رودها، نفوذ آب به داخل زمین، تغییر کیفیت آب به دلیل وجود کانی‌های قابل حل در مسیر آب، عنوان کرده است.



آب زیرزمینی قابل بهره‌برداری، گرچه فقط حجم کمی از آب کره را تشکیل می‌دهد، ولی همین مقدار، بزرگ‌ترین ذخیره آب شیرین قابل بهره‌برداری در خشکی‌ها است.

سطح ایستابی: در هنگام نفوذ آب به داخل زمین، بخشی از آب نفوذی به سطح ذرات خاک یا سنگ می‌چسبد، به طوری که منافذ و فضاهای خالی، توسط آب و هوا پر می‌شود و منطقه تهویه شکل می‌گیرد. بخشی از آب نفوذی، به طرف عمق بیشتر حرکت می‌کند تا به سنگ بستر برسد، و منطقه اشباع را ایجاد می‌کند. تمام فضاهای خالی منطقه اشباع، توسط آب پر شده است. سطح بالایی این منطقه، سطح ایستابی است (شکل ۳-۳).



شکل ۳-۳- توزیع عمقی آب زیرزمینی و تشکیل سطح ایستابی

پیوند با فیزیک

- چه نیرویی باعث تشکیل حاشیه مویینه می‌شود؟
- اندازه ذرات خاک، چه تأثیری بر ضخامت حاشیه مویینه دارد؟
- هنگامی که عمق سطح ایستابی کم باشد به طوری که حاشیه مویینه، به سطح زمین برسد، چه اتفاقی می‌افتد و چه مشکلاتی ایجاد می‌کند؟

عمق سطح ایستابی در مناطق مختلف، متفاوت است. در بعضی مناطق ممکن است تا صدها متر برسد. سطح ایستابی، تقریباً از توپوگرافی (عارضه‌نگاری*) سطح زمین تبعیت می‌کند. هنگامی که سطح ایستابی با سطح زمین برخورد کند، آب زیرزمینی به صورت چشمه و گاهی



به صورت برکه در سطح زمین ظاهر می شود و در صورتی که سطح ایستابی بر سطح زمین منطبق شود یا در نزدیک آن قرار گیرد، باتلاق یا شورزار تشکیل می شود (شکل ۳-۴).

شکل ۳-۴. تشکیل برکه با آب زیرزمینی

یادآوری


- در سال های گذشته در مورد عمق سطح ایستابی خوانده بودید. چه عواملی بر تغییرات سطح ایستابی مؤثر است؟
- در مورد عوامل مؤثر بر تغییرات عمق سطح ایستابی در استان محل زندگی خود مطالبی تهیه کرده و در کلاس ارائه دهید.

تخلخل و نفوذپذیری: برای تشکیل آبخوان، لازم است رسوبات و سنگ ها، دارای فضاهای خالی باشند. این فضاهای خالی یا منافذ اولیه هستند که از ابتدای تشکیل در آنها وجود داشته اند، یا پس از تشکیل سنگ به صورت ثانویه بر اثر شکستگی، هوازدگی، انحلال یا عوامل دیگر در آن به وجود آمده اند. درصد فضاهای خالی (تخلخل) رسوب یا سنگ، طبق رابطه زیر، محاسبه می شود.

$$\text{درصد تخلخل} = \frac{\text{حجم فضاهای خالی (m}^3\text{)}}{\text{حجم کل (m}^3\text{)}} \times 100$$

پیوند با ریاضی

- بر اثر بهره برداری از یک آبخوان در یک دشت به مساحت $10^6 \times 200$ متر مربع و تخلخل 30% ، سطح ایستابی 10 متر افت کرده است. چه حجمی از آب تخلیه شده است؟
- چنانچه این حجم آب در طی 30 روز پمپاژ شده باشد، میانگین آبدهی چاه ها چقدر بوده است؟



شکل ۳-۵. تخلخل و نفوذپذیری

هر چه درصد تخلخل خاک یا سنگ بیشتر باشد، آب بیشتری را می تواند در خود نگه دارد. اما لزوماً باعث عبور آب نمی شود. مثلاً سنگ پاه بسیار متخلخل است اما، آب از آن عبور نمی کند. رس ها بسیار متخلخل اند، ولی به علت ریز بودن ذرات، نفوذپذیری بسیار اندکی دارند. میزان نفوذپذیری خاک به میزان ارتباط و اندازه منافذ بستگی دارد. برخی خاک ها، دارای تخلخل زیاد و نفوذپذیری کم هستند و عبور آب از درون آنها، به دشواری صورت می گیرد. درصد تخلخل آبخوان، بیانگر مقدار آبی است که می تواند در آن ذخیره شود و نفوذپذیری، نشانگر توانایی آبخوان در انتقال و هدایت آب می باشد.

● در سال‌های گذشته، با آبخوان و انواع آن آشنا شدید. در این باره به پرسش‌های زیر پاسخ دهید:

۱- آبخوان چیست؟

۲- در شکل زیر، نوع آبخوان‌های الف و ب را مشخص کنید.

۳- چاه‌های شماره ۱ و ۲ چه تفاوتی با یکدیگر دارند؟

۴- کدام چاه از نوع آرتیزین است؟



آبخوان: سنگ‌ها و رسوبات مختلف از نظر تشکیل آبخوان و میزان آبدهی، ویژگی‌های متفاوتی دارند. آبرفت‌ها و سنگ‌های آهکی حفره‌دار (آهک کارستی) قابلیت تشکیل آبخوان را دارند ولی، شیل‌ها، سنگ‌های دگرگونی و آذرین، آبخوان خوبی تشکیل نمی‌دهند به طوری که، معمولاً یا چشمه‌ای در آنها به وجود نمی‌آید یا در صورت تشکیل، چشمه‌هایی با آبدهی بسیار کم و فصلی دارند. در حالی که در سنگ‌های آهکی حفره‌دار، معمولاً چشمه‌های پر آب و دائمی ایجاد می‌شود (شکل ۳-۶). افزون بر آن، عواملی مانند شرایط آب و هوایی، میزان نفوذپذیری، تخلخل، شیب زمین و ساختمان زمین‌شناسی محل بر نوع آبخوان تأثیر دارد. اگر چاهی در یک لایه آبدار آزاد حفر شود، تراز آب در چاه، نمایانگر سطح ایستابی و در لایه آبدار تحت فشار، سطح پیزومتریک است.



ب) چشمه کارستی گاماسیاب نهند



الف) چشمه کارستی طاق بستان کرمانشاه

شکل ۳-۶

حرکت آب زیرزمینی: آب برای حرکت در داخل زمین، نیاز به انرژی دارد. آب زیرزمینی به طور کلی، از مکانی با انرژی بیشتر (سطح ایستابی بالاتر) به مکانی با انرژی کمتر در مسیری منحنی شکل حرکت می‌کند. این حرکت خیلی کندتر از حرکت آب در رودخانه است. حرکت آب در داخل آبخوان، از کمتر از یک متر تا صدها متر در روز تغییر می‌کند.

ترکیب آب زیرزمینی: ترکیب آب زیرزمینی از محلی به محل دیگر تغییر می‌کند. آب زیرزمینی، به‌طور عمده، حاوی کلریدها، سولفات‌ها و بی‌کربنات‌های کلسیم، منیزیم، سدیم، پتاسیم و آهن است. بسیاری از عناصر و مواد دیگر نیز به مقدار بسیار کم در آب زیرزمینی وجود دارد. غلظت نمک‌های حل‌شده در آب زیرزمینی به جنس کانی‌ها و سنگ‌ها، سرعت نفوذ آب، دما و مسافت طی‌شده توسط آب بستگی دارد. آب، ضمن حرکت آهسته در زیر زمین، فرصت زیادی برای انحلال کانی‌های مسیر خود دارد. مقدار نمک‌های محلول در آب زیرزمینی موجود در سنگ‌های آذرین و دگرگونی، به‌طور معمول کم و برای آشامیدن مطلوب است. سنگ‌های تبخیری مانند سنگ نمک و سنگ گچ، انحلال‌پذیری زیادی دارند و از این رو، آب این‌گونه آبخوان‌ها، عموماً دارای املاح فراوان هستند. آب موجود در سنگ‌های کربناتی، معمولاً از نوع آب‌های سخت است، یعنی درصد یون‌های کلسیم و منیزیم بیشتری دارد. این‌گونه آب‌ها، به‌خوبی با صابون کف نمی‌کنند و رسوباتی را در لوله‌ها و ظرف‌ها ته‌نشین می‌کنند، به همین جهت، استفاده از آنها در صنعت و آشامیدن دارای محدودیت‌هایی است.

لایه‌های آبدار موجود در رسوبات رودخانه‌ای و آبرفتی به‌طور معمول، حاوی آب شیرین هستند. در نواحی خشک، مانند مناطق کویری ایران، در برخی نقاط، شوری آب چنان زیاد است که برای بسیاری از موارد، نامناسب است.

گفت‌وگو کنید

- در مناطق خشک، هر چقدر بهره‌برداری از آب‌های زیرزمینی بیشتر باشد، کیفیت آب، نامطلوب‌تر است. دلیل آن را توضیح دهید.
- در شهرهایی که نزدیک سواحل دریاها قرار دارند با پایین آمدن سطح ایستابی، چه مشکلاتی را ایجاد می‌کند؟

پیوند با شیمی

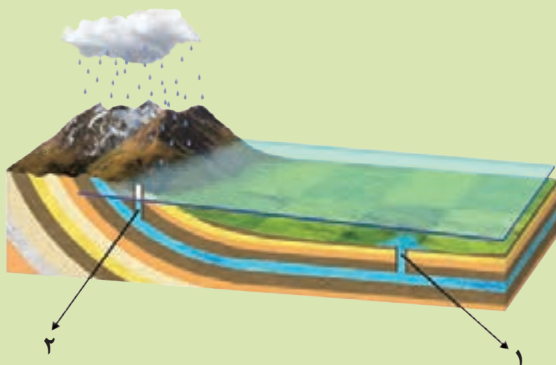
- سختی آب، به علت نمک‌های محلول در آن است. یون‌های کلسیم و منیزیم، به عنوان فراوان‌ترین یون‌های موجود در آب، ملاک تعیین سختی آب هستند.

$$TH = 2/5 Ca^{2+} + 4/1 Mg^{2+} \quad \text{TH: سختی کل (میلی گرم در لیتر)}$$

- نمونه‌آبی دارای ۵۰ میلی‌گرم در لیتر، یون کلسیم و ۳۵ میلی‌گرم در لیتر، یون منیزیم است. سختی کل آب چقدر است؟ تحقیق کنید که آیا این آب برای شرب مناسب است؟

فکر کنید

- مقدار املاح موجود در آب دو چاه ۱ و ۲، در شکل زیر را با هم مقایسه کنید.

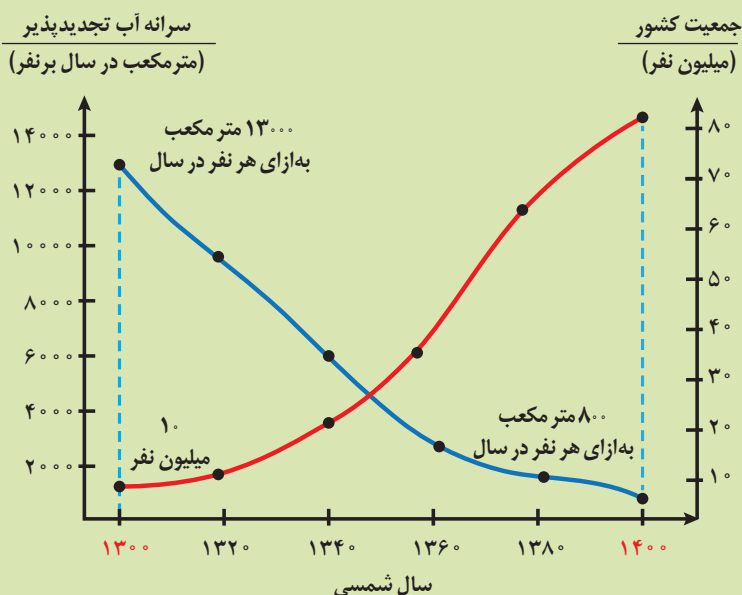


تجدیدپذیری آب: در مدیریت منابع آب، ذخایر آب به دو دسته تجدیدپذیر و تجدیدناپذیر تقسیم می‌شوند. آب تجدیدپذیر، آبی است که در مقیاس زمانی معین، پس از مصرف انسان، از طریق چرخه آب، جایگزین می‌شود. بخشی از ذخایر آب که پس از مصرف، جایگزین نمی‌شود، آب تجدیدناپذیر است. برای جلوگیری از ایجاد بحران آب، باید میزان بهره‌برداری از منابع آب، کمتر از میزان تغذیه آن منابع باشد. عدم رعایت این مورد، در طی سال‌های گذشته، منجر به کاهش شدید ذخایر آب زیرزمینی کشور ما شده است. بنابراین توجه به میزان مصرف منابع آبی کشور، بسیار مهم و حیاتی است. امروزه در برخی از کشورهای کم‌آب، بهره‌برداری از آب‌های فسیلی مطرح شده است.

آب‌های فسیلی: به آب‌هایی گفته می‌شود که در طی چند هزار سال گذشته در اعماق زیاد محبوس شده‌اند و در چرخه آب قرار ندارند.

تفسیر کنید

● نمودار زیر، تغییرات سرانه آب تجدیدپذیر و جمعیت کشور در صد سال اخیر را نشان می‌دهد. نمودار را تفسیر کنید.



بیان (ترازنامه) آب: محاسبه بیان آب یک لایه آبدار، از بسیاری جهات، مشابه بررسی بیان هزینه یک خانواده یا هر واحد اقتصادی است که کمک می‌کند تا میزان درآمد و هزینه‌ها با هم مقایسه شوند. در مدیریت و بهره‌برداری از منابع آب نیز، برای آنکه نوسانات حجم ذخیره منابع آب یک منطقه تعیین شود، بیان آب محاسبه می‌شود.

توازن آب بر اساس اصل بقای جرم است. بین مقدار آب ورودی (I) به آبخوان و آب خروجی از آن (O) و تغییراتی که در حجم ذخیره آب به وقوع می‌پیوندد (ΔS)، رابطه زیر برقرار است:

$$\Delta S = I - O$$

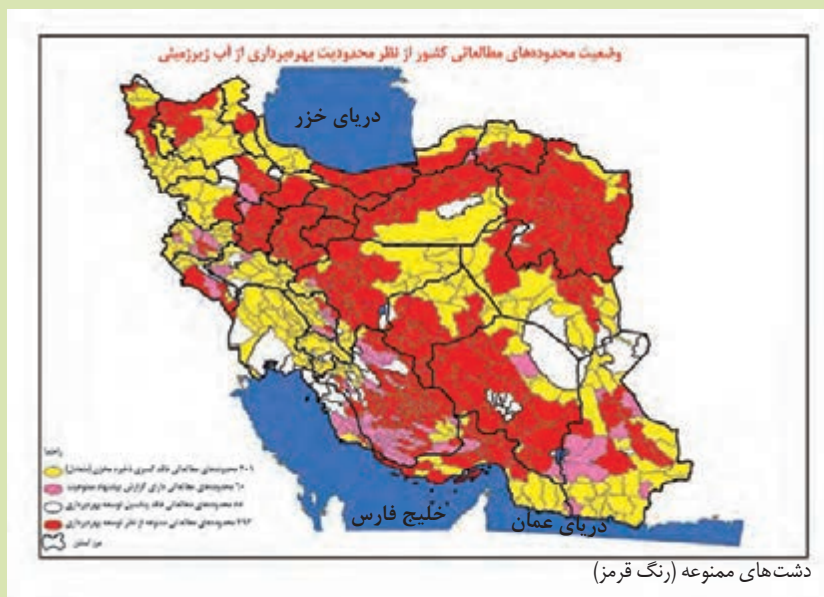
به عبارتی، تغییراتی که در حجم آب داخل آبخوان اتفاق می‌افتد، با اختلاف آب ورودی و خروجی از آن برابر است. اگر مقدار آب ورودی به آبخوان، بیشتر از مقدار آب خروجی باشد، بیان، مثبت و اگر کمتر از آن باشد، بیان، منفی است.

در طی سال‌های گذشته به علت بهره‌برداری زیاد از منابع آبی، بیابان منابع آب در کل کشور و در بیش از ۶۰٪ دشت کشور، منفی بوده است. بر این اساس، بسیاری از دشت‌های کشور از نظر توسعه بهره‌برداری آب‌های زیرزمینی، به عنوان دشت ممنوعه اعلام شده است.

جمع‌آوری اطلاعات

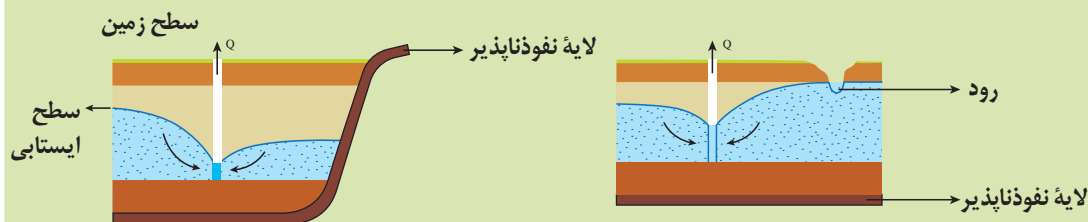
در منابع معتبر جستجو کنید و به پرسش‌های زیر پاسخ دهید:

- پرمصرف‌ترین و کم‌مصرف‌ترین استان کشور از نظر مصرف آب تجدیدنپذیر، کدام استان‌ها هستند؟
- آیا محل سکونت شما در محدوده دشت‌های ممنوعه واقع شده است؟



گفت‌وگو کنید

- ۱- شکل‌های زیر، گسترش مخروط افت چاه در اثر بهره‌برداری و تلاقی آن با یک لایه نفوذناپذیر و یک رود را نشان می‌دهد. در مورد تأثیر آنها بر روی شکل مخروط افت و میزان آب ورودی به چاه گفت‌وگو کنید.
- ۲- اگر مخروط افت چاه با یک منبع آلاینده مانند یک چاه فاضلاب برخورد کند، چه اتفاقی می‌افتد؟





الف) فرونشست ناگهانی



ب) فرونشست تدریجی

شکل ۳-۷

فرونشست زمین: یکی از پیامدهای برداشت بی‌رویه آب زیرزمینی، فرونشست زمین است. این وضعیت در بسیاری از دشت‌های کشور ما که با بیلان منفی آب زیرزمینی روبه‌رو هستند، مشاهده می‌شود.

فرونشست زمین یا به صورت سریع، به شکل فروچاله ایجاد می‌شود (شکل ۳-۷ الف) و یا آرام و نامحسوس به صورت نشست سطح وسیعی از منطقه و ایجاد ترک و شکاف در سطح زمین نمایان می‌شود (شکل ۳-۷ ب). فرونشست زمین می‌تواند خسارت‌های فراوان به زیربناها و انواع سازه‌ها و زمین‌های کشاورزی وارد کند. برای کاهش میزان فرونشست زمین، باید بهره‌برداری از منابع آب زیرزمینی کاهش یابد و با تغذیه مصنوعی آبخوان‌ها تقویت شوند.

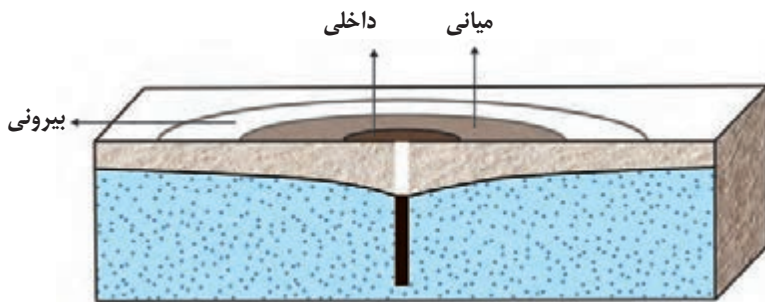
فکر کنید

- فرونشست دشت‌ها، چه پدیده‌های مخربی را می‌تواند به همراه داشته باشد؟
- تغذیه مصنوعی چیست و چگونه انجام می‌شود؟

آلودگی منابع آب زیرزمینی: کیفیت آب زیرزمینی، بستگی به مقدار املاح موجود در آن دارد. افزون بر املاح آب، برخی آلودگی‌ها توسط انسان به آن وارد می‌شود. منابع آلاینده آب زیرزمینی، به صورت نقطه‌ای و یا غیرنقطه‌ای هستند. در حالت نقطه‌ای، مواد آلوده کننده از یک نقطه مشخص، مانند یک چاه فاضلاب (چاه جذبی)، به طور مستقیم وارد آب زیرزمینی می‌شوند. در حالت غیر نقطه‌ای، مواد آلوده کننده به وسیله رواناب‌های آلوده از سطح مراتع، و یا زمین‌های کشاورزی به زمین نفوذ کرده و وارد آب زیرزمینی می‌شوند.

حریم منابع آب: کیفیت منابع آب زیرزمینی به وسیله کودهای کشاورزی، فاضلاب‌های صنعتی و شهری و همچنین کمیّت آنها از طریق بهره‌برداری زیاد، در معرض تهدید است. بنابراین حفاظت از این منابع، دارای اهمیت زیادی است. یکی از روش‌های حفاظت از منابع آب زیرزمینی، تعیین حریم برای آنها است. بر این اساس، حریم کمی و کیفی تعریف می‌شود. حریم کمی، براساس شعاع

تأثیر دو چاه در نظر گرفته می‌شود که حدود ۵۰۰ متر است. حریم کیفی چاه‌های تأمین کننده آب شرب، به صورت پهنه‌های حفاظتی تعریف می‌شود. منظور از پهنه‌های حفاظتی، محدوده‌ای در اطراف چاه است که آلاینده قبل از رسیدن به چاه از بین می‌رود. پهنه‌های حفاظتی، معمولاً شامل سه بخش داخلی، میانی و بیرونی است (شکل ۳-۸).



شکل ۳-۸- پهنه‌های حریم چاه

جدول زیر را کامل کنید.

ردیف	حریم	فعالیت‌های ممنوع
۱	بیرونی	
۲	میانی	
۳	داخلی	

منابع خاک

در کتاب‌های درسی علوم تجربی آموختید که خاک، حاصل هوازگی و خرد شدن سنگ‌ها است (شکل ۹-۳). خاک، محیط مناسبی برای کشت گیاهان و محلی برای زندگی برخی موجودات زنده است. خاک به‌عنوان سطحی‌ترین قشر زمین و بستر تولید محصول کشاورزی شناخته می‌شود که به‌طور دائمی در معرض تغییرات فیزیکی، شیمیایی و زیستی است.




شکل ۹-۳- خرد شدن سنگ‌ها

یادآوری

- در گذشته، با هوازگی و انواع آن آشنا شدید. در این باره به پرسش‌های زیر پاسخ دهید:
 - ۱- جنبه‌های مثبت و منفی هوازگی را بیان کنید.
 - ۲- عوامل مؤثر بر هوازگی فیزیکی و شیمیایی کدام‌اند؟
 - ۳- هر یک از تصاویر زیر، کدام نوع هوازگی را نشان می‌دهد؟



پ



ب



الف

خاک، از دو بخش آلی (هوموس) و معدنی تشکیل شده است. بخش معدنی، شامل برخی کانی‌ها مانند کانی‌های رسی و کوارتز که حاوی عناصری از قبیل نیتروژن، فسفر، کلسیم و... می‌باشد، البته عوامل تشکیل و ترکیب خاک‌ها، متغیر است و به عواملی مانند نوع سنگ مادر، شیب زمین، فعالیت جانداران و اقلیم منطقه بستگی دارد.

ذرات تشکیل دهنده خاک، برحسب اندازه، به سه دسته اصلی درشت دانه (خاک‌های شنی)، متوسط دانه (ماسه و لای) و ریزدانه (خاک‌های رسی) تقسیم می‌شوند. معمولاً خاک‌های طبیعی، ترکیبی از آنها است.

مقدار آبی که خاک‌ها می‌توانند از خود عبور دهند، بستگی به اندازه ذرات خاک دارد. هرچه ذرات خاک، ریزتر باشد، آب بیشتری را در خود نگه می‌دارد و مقدار کمتری را عبور می‌دهد. خاک رس، بسیار ریزدانه است، بنابراین فضای بین ذرات آن بسیار کوچک است به طوری که گردش آب و هوا به خوبی صورت نمی‌گیرد و برای رشد گیاهان مناسب نیست. در خاک‌های شنی، آب به راحتی از میان ذرات عبور می‌کند یعنی، زهکشی خوبی دارد، اما برای رشد گیاهان مناسب نمی‌باشد، چون آب و مواد مغذی را در خود نگه نمی‌دارد. مخلوط مناسب خاک ماسه‌ای و رسی و استفاده از کود مناسب یا گیاخاک، ترکیب مناسبی است که موجب حاصلخیزی خاک می‌شود. به طور کلی، خاک لوم که ترکیبی از ماسه، لای و رس است، خاک دلخواه کشاورزان و باغبان‌ها می‌باشد.

نیم رخ خاک: به مقطع عمودی خاک از سطح زمین تا سنگ بستر که افق‌های مختلف خاک در آن قابل مشاهده می‌باشد، نیم رخ خاک می‌گویند. معمولاً در نیم رخ خاک، افق‌های زیر وجود دارد (شکل ۱۰-۳).



شکل ۱۰-۳- افق‌های خاک و سنگ بستر

افق A، بالاترین لایه خاک است. ریشه گیاهان در آن رشد می کنند. این افق، معمولاً حاوی گیاهک (هوموس) به همراه ماسه و رس است. وجود مواد آلی باعث رنگ خاکستری تا سیاه این افق می شود. در افق B یا خاک میانی، رس، ماسه، شن، املاح شسته شده از افق A و مقدار کمی گیاهک وجود دارد. افق C، خاک زیرین است و در آن، مواد سنگی به میزان کم، تخریب و تجزیه شده اند، در نتیجه سنگ اولیه تغییر زیادی نکرده و به صورت قطعات خرد شده است. در زیر این افق، سنگ بستر قرار دارد که تخریب و یا تجزیه ای در آن صورت نگرفته است. اگرچه این افق ها در بسیاری از نیم رخ خاک ها مشاهده می شود ولی، خاک های مناطق مختلف از نظر رنگ، بافت، ضخامت و ترکیب شیمیایی متفاوت هستند. خاک حاصل از تخریب سیلیکات ها و سنگ های فسفاتی، از نظر کشاورزی و صنعتی ارزش زیادی دارد. در صورتی که خاک های حاصل از تخریب سنگ ها دارای کانی های مقاوم (مانند کوارتز) که غالباً شنی و ماسه ای می باشند، فاقد ارزش کشاورزی هستند. در کشاورزی، خاکی را حاصلخیز می گویند که موجب رشد بیشتر گیاه شود مانند مناطق گرم و مرطوب که هوازگی شیمیایی اهمیت بیشتری دارد.

فرایند تشکیل خاک، بسیار کند است. در شرایط طبیعی، به طور میانگین ۳۰۰ سال زمان لازم است تا خاکی به ضخامت ۲۵ میلی متر تشکیل شود.

فکر کنید

• درباره خاک مناطق مختلف آب و هوایی، جدول زیر را با کلمات (کم، زیاد) کامل کنید.

ضخامت خاک	مقدار گیاهک	خاک مناطق
	زیاد	معتدل
زیاد		استوایی
	کم	قطبی
کم		بیابانی

• بیشترین محصولات کشاورزی از مناطق معتدل به دست می آید. علت این امر چیست؟

فرسایش: فرسایش، فرایندی مداوم است که طی آن، ذرات خاک از بستر اصلی خود جدا و به کمک عوامل انتقال دهنده به مکان دیگری حمل می شود. فعالیت های انسانی آن را کاهش یا افزایش می دهد اما نمی تواند آن را کاملاً متوقف کند. مقدار فرسایش پذیری خاک، معمولاً در ایام مختلف سال، ثابت نیست.

فرسایش به طور طبیعی و توسط عواملی مانند آب های جاری، باد، یخچال، نیروی جاذبه و آب های زیرزمینی و بدون دخالت انسان و به آرامی، یا با سرعت زیاد انجام می شود. فعالیت های انسانی مانند کشاورزی، معدن کاری، جاده سازی و سایر فعالیت های عمرانی، فرسایش طبیعی را تشدید می کنند. افزون بر انسان، سایر جانداران نیز، در افزایش این فرسایش ها نقش دارند.

● در هر یک از تصاویر زیر، که نمونه‌هایی از فرسایش زمین را نشان می‌دهد، کدام عامل فرسایشی، دخالت بیشتری دارد؟



الف



ب

گفت و گو کنید

• درباره نقش فعالیت‌های انسان در افزایش و کاهش فرسایش خاک گفت و گو کنید.



شکل ۱۱-۳- فرسایش خندقی

فرسایش آبی: در نقاطی که آب بر روی خاک بدون پوشش گیاهی، در جریان باشد، مقداری از ذرات خاک از بستر، جدا و با آب حمل می‌شوند. مهم‌ترین ویژگی بارندگی که در فرسایش زمین مؤثر می‌باشد، شدت و مدت بارش است. هنگامی که جریان آب، شدت پیدا کند، باعث فرسایش خندقی و از بین رفتن زمین‌های با ارزش کشاورزی می‌شود. پیدایش خندق‌ها، علاوه بر آنکه از ارزش زمین‌های کشاورزی می‌کاهد، باعث تخریب جاده‌ها، پل‌ها و ساختمان‌ها می‌شود. در اغلب شرایط می‌توان با ساخت کانال و ایجاد پوشش گیاهی، انرژی جریان آب را کاهش داد (شکل ۱۱-۳).

فکر کنید

• هر یک از پیامدهای زیر، مربوط به کدام نوع بارندگی (آرام و کوتاه - آرام و طولانی - شدید و کوتاه - شدید و طولانی) است؟
نفوذ آب به آبخوان - فرسایش خاک - وقوع سیل - ایجاد رواناب

قدرت فرساینده‌ی رواناب، بستگی به سرعت و میزان مواد معلق موجود در رواناب دارد. هر چه سرعت رواناب، جرم و میزان مواد معلق بیشتر باشد، انرژی جنبشی آب، و در نتیجه، قدرت فرساینده‌ی آن بیشتر می‌شود. قدرت فرساینده‌ی آب خالص، کمتر از آب دارای مواد معلق است. وقتی میزان مواد معلق، بیشتر از توان حمل رواناب باشد و یا از سرعت آب جاری کاسته شود، رسوب‌گذاری رود شروع می‌گردد.

جمع‌آوری اطلاعات

در مورد فرسایش خاک و عوامل مؤثر بر آن، اطلاعاتی جمع‌آوری کنید و به پرسش‌های زیر پاسخ دهید.

- ۱- برای افزایش نفوذپذیری خاک، به منظور کاهش رواناب، چه اقدامی می‌توان انجام داد؟
- ۲- آتش‌زدن زمین‌های کشاورزی، پس از برداشت محصول، چه تأثیری بر فرسایش خاک دارد؟

فرسایش خاک، باعث کاهش سطح زیر کشت و کاهش حاصلخیزی زمین‌ها می‌شود. همچنین با ته‌نشینی مواد در آبراهه‌ها و مخازن سدها و کاهش ظرفیت آب‌گیری آنها، خسارت‌های فراوانی را ایجاد می‌کند.

● به علت بهره‌برداری غیر اصولی و نادرست بشر تاکنون، میلیون‌ها هکتار از جنگل‌ها، مراتع و زمین‌های کشاورزی به زمین‌های بایر تبدیل شده است، فرسایش انسانی، یکی از مشکلات جهانی است. طبق تخمین سازمان خواربار جهانی (فائو) هر سال بیش از ۷۵ میلیارد تن خاک از سطح خشکی‌ها فرسایش می‌یابد. در کشور ما، آثار و علائم فرسایش در اکثر نقاط دیده می‌شود.

حفاظت آب و خاک: آب و خاک برای هر کشور، به عنوان سرمایه‌های ارزشمند، اهمیت فراوان دارد زیرا، آب و خاک از عوامل ضروری برای رشد گیاه و افزایش محصولات کشاورزی، باغی و جنگلی است. حفاظت از منابع آب به منظور استفاده بهینه از این منابع و رسیدن به توسعه پایدار است. حفاظت آب و خاک در جلوگیری از آلودگی هوا و فرسایش خاک، تأثیر فراوانی دارد. هدف از حفاظت خاک، جلوگیری از تخریب تدریجی خاک است. زمانی این هدف تحقق می‌یابد که سرعت فرسایش خاک، کمتر از سرعت تشکیل آن باشد.



● **هیدروژئولوژی:** مطالعه در زمینه چگونگی حرکت آب در درون زمین، اکتشاف و شناخت ویژگی‌های آب‌های زیرزمینی، نحوه بهره‌برداری و فعالیت‌های عمرانی و معدنی مرتبط با آب‌های زیرزمینی در علم هیدروژئولوژی انجام می‌شود.

● **رسوب‌شناسی:** مواد حاصل از فرسایش کوه‌ها

توسط عوامل فرسایشی همچون آب، باد و یخ به مناطق پست یا حوضه رسوبی انتقال یافته و در آنجا بر روی هم انباشته می‌شوند. این مواد، پس از سخت شدن، به سنگ‌های رسوبی تبدیل می‌شوند. در رسوب‌شناسی و سنگ‌شناسی رسوبی، فرایندهای انتقال، ته‌نشینی و تبدیل رسوبات به سنگ‌های رسوبی مطالعه می‌شود.

متخصصین این رشته در سازمان‌ها و شرکت‌های تابعه وزارت نیرو، وزارت جهاد کشاورزی، صنعت، معدن و تجارت، سازمان محیط زیست، شرکت‌های مهندسی مشاور مرتبط با تأمین و انتقال



فرسایش زمین و تشکیل دره توسط آب و باد

آب، سدسازی و تونل‌سازی، وزارت راه و شهرسازی، شهرداری‌ها و... می‌توانند در هدایت پروژه‌های عمرانی و پژوهشی کمک شایانی داشته باشند.

علم،
زندگی،
کار آفرینی



دریاچه پشت سد کارون - ۳

۴ فصل

زمین شناسی و سازه‌های مهندسی

انسان از گذشته‌های دور، بناهایی ساخته است که هنوز هم پس از گذشت هزاران سال، باقی مانده‌اند. ستون‌های بزرگ تخت جمشید، بناهای پُغازنبیل، اهرام مصر، دیوار چین و قنات‌های باستانی با وجود گذشت سال‌ها، هنوز هم پابرجا هستند و دانش مهندسی را در عهد باستان نشان می‌دهند. به‌راستی، چه عواملی باعث شده است تا این بناها همچنان پابرجا بمانند؟ در ساخت آنها، از چه مصالحی استفاده شده است؟ جاده‌ها، راه‌آهن، پل‌ها، تونل‌ها، خطوط انتقال نفت، گاز و آب، سدها، کارخانه‌ها، ساختمان‌های بلند، برج‌های مخابراتی مانند برج میلاد و همه سازه‌های مهندسی، از موادی ساخته می‌شوند که از زمین به‌دست می‌آیند.

بارها در رسانه‌ها، اخبار مربوط به انواع ریزش سنگ در جاده‌های کوهستانی، تخریب ساختمان‌ها و سازه‌های سنگین به دلیل گودبرداری، ریزش تونل‌ها، فرار آب از سدها و تخریب بدنه آنها، ریزش پل‌ها و ... را شنیده‌اید.

یکی از مسائل اصلی در ساخت و نگهداری سازه‌ها، پایداری زمین است. در ساخت سازه‌ها، مسائل مختلف زمین‌شناسی مطرح است که باید مورد مطالعه قرار گیرد. یکی از وظایف مهم زمین‌شناس، تشخیص احتمال وقوع فرایندهای مخرب و ارائه روش‌های مقابله با آنها است به نحوی که، آسیبی به تأسیسات و سازه‌های مهندسی وارد نشود.





سکوی نفتی - خلیج فارس



تونل نیایش - تهران

مکان‌یابی سازه‌ها

قبل از اجرای پروژه‌های عمرانی مانند سد، نیروگاه، بزرگراه، پل، مجتمع‌های تجاری و مسکونی، برج‌ها و ... که سازه نامیده می‌شوند، انجام مطالعات زمین‌شناسی سنگ بستر آنها، ضروری است. در این مطالعات، ناهمواری‌های سطح زمین، استحکام سنگ‌ها، نفوذپذیری، پایداری دامنه‌ها در برابر ریزش و جنس مصالح به کار رفته در سازه مورد بررسی قرار می‌گیرد. مورفولوژی (شکل‌شناسی) و پستی و بلندی‌های محل احداث سازه، در پایداری آن تأثیر قابل توجهی دارد.



● شکل روبه‌رو، دره V شکل است؛ با توجه به مورفولوژی منطقه، آیا احداث پل بر روی آن را مناسب می‌دانید؟

بیشتر
بیندیشید

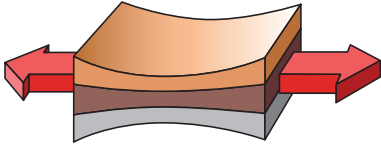
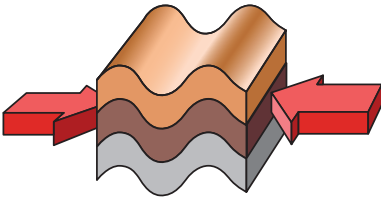

یکی از عوامل مهم در مکان‌یابی ساختگاه سازه‌ها، مقاومت زمین پی آنها در برابر نیروهای وارده است. به عنوان مثال، در پشت یک سد، فشار زیادی از طرف آب به لایه‌های زیرین، تکیه‌گاه و همچنین بدنه سد، وارد می‌شود. سد نیز، وزن زیادی دارد که گاه به چندین میلیون تن می‌رسد. بنابراین، سنگ‌های پی سد، باید در برابر تنش‌های ناشی از وزن سد، مقاوم باشند و دچار گسیختگی و نشست نشوند.

تنش

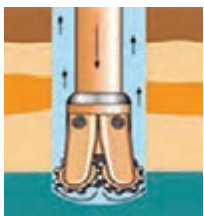
هرگاه سنگ، تحت تأثیر نیرویی از خارج قرار گیرد، در داخل سنگ نیز، نیرویی بر واحد سطح وارد می‌شود که تنش نامیده می‌شود. تنش‌های وارده بر یک سنگ یا خاک، ممکن است به صورت کششی، فشاری یا برشی یا ترکیبی از آنها باشند. تنش‌های وارده بر سنگ‌ها و خاک‌ها، باعث تغییر شکل آنها می‌شود.

$$\text{تنش} = \frac{\text{نیرو (N)}}{\text{سطح (m}^2\text{)}}$$

جدول ۴-۱- انواع تنش

نوع تنش	اثر بر روی سنگ	تغییر شکل
کششی	گسستگی سنگ	
فشاری	متراکم شدن سنگ	
برشی	بریدن سنگ	

مقاومت سنگ، عبارت است از حداکثر تنش یا ترکیبی از تنش‌ها که سنگ می‌تواند تحمل کند، بدون آنکه بشکند. هر چه مقاومت سنگ، در مقابل این تنش‌ها، کمتر باشد، سنگ ناپایدارتر است و سطوح شکست بیشتری در آن ایجاد می‌شود. از این رو، شکستگی سنگ‌ها و ایجاد درزه‌ها، باعث ناپایداری سنگ یا خاک در پی سازه‌ها می‌شوند. در مطالعات آغازین یک پروژه، به منظور نمونه برداری از خاک یا سنگ پی سازه، گمانه‌ها یا چال‌های باریک و عمیقی در نقاط مختلف محل احداث سازه حفر می‌شود. نمونه‌های سنگ یا خاک برداشت شده، به آزمایشگاه‌های تخصصی ارسال می‌شود و مقدار مقاومت سنگ و خاک در برابر تنش‌های وارده را مورد بررسی قرار می‌دهند (شکل ۴-۱).



پ) سر مته حفاری



ب) دستگاه حفاری گمانه



الف) مغزه‌گیری با گمانه‌های اکتشافی

شکل ۴-۱

مواد جامد بر اثر تنش، تغییر شکل می‌دهند. مقدار و نوع تغییر شکل ایجاد شده، به رفتار آنها در برابر تنش بستگی دارد (شکل ۴-۲).



پ) شکننده



ب) خمیرسان



الف) کش‌سان

شکل ۴-۲

برخی از اجسام، مانند سنگ‌ها از خود رفتار کش‌سان (الاستیک) نشان می‌دهند. بدین معنی که با اعمال تنش، سنگ‌ها دچار تغییر شکل می‌شوند و با رفع تنش، به حالت اولیه خود بازمی‌گردند. اما، اگر تنش ناگهانی و از حد مقاومت سنگ بیشتر شود، سنگ دچار شکستگی می‌شود و درزه‌ها و گسل‌ها را به وجود می‌آورد. برخی از سنگ‌ها از خود رفتار خمیرسان (پلاستیک) نشان می‌دهند یعنی، پس از رفع تنش، سنگ‌های تغییر شکل یافته، به طور کامل به حالت اولیه خود برنمی‌گردند.



ب) رفتار شکننده سنگ‌ها



الف) رفتار پلاستیک سنگ‌ها

شکل ۴-۳ انواع رفتار سنگ‌ها در برابر تنش

مقاومت انواع سنگ‌ها در برابر تنش وارده، متفاوت است. سنگ‌های آذرین، می‌توانند تکیه‌گاه مناسبی برای سازه‌ها باشند؛ مانند پی سنگ سد امیر کبیر که از جنس سنگ گابرو است. بعضی از سنگ‌های دگرگونی، مانند کوارتزیت و هورنفلس که مقاومت بیشتری دارند، می‌توانند تکیه‌گاه مناسبی برای سازه‌های سنگین باشند و برخی دیگر از آنها مانند شیست‌ها که سست و ضعیف هستند، برای پی‌سازه‌ها مناسب نیستند. برخی از سنگ‌های رسوبی، مانند ماسه سنگ‌ها، استحکام لازم برای ساخت سازه را دارند اما، سنگ‌های تبخیری مانند سنگ گچ، ژئیس نمک (به دلیل انحلال پذیری) و شیل‌ها (به دلیل تورق و سست بودن) در برابر تنش مقاوم نیستند.

نفوذپذیری

یکی دیگر از عوامل مؤثر در مکان‌یابی سازه‌ها، نفوذپذیری خاک و سنگ است. سنگ‌های کربناتی، به سنگ‌های رسوبی گفته می‌شود که بیش از ۵۰ درصد آنها کانی‌های کربناتی (کلسیت و دولومیت) باشد. این سنگ‌ها، اغلب درزه‌دار هستند. با گذشت زمان و در جریان آب‌های نفوذی، بخش‌هایی از این سنگ‌ها در آب، حل و در آن حفره‌هایی تشکیل می‌دهند. پیشرفت عمل انحلال، ممکن است منجر به تشکیل حفره‌های انحلالی بزرگ در این سنگ‌ها و ایجاد غارها شود (شکل ۴-۴).



ب) تشکیل حفره‌های انحلالی



الف) کارستی شدن

شکل ۴-۴

سنگ آهک ضخیم لایه که فاقد حفرات انحلالی باشد، پی و تکیه‌گاه خوبی برای احداث سازه می‌باشد اما، در صورتی که سنگ آهک، دارای حفرات انحلالی باشد، می‌تواند مشکلات جدی از قبیل فرار آب یا نشست زمین را به همراه داشته باشد. انحلال پذیری سنگ‌های تبخیری (سنگ گچ و سنگ نمک)، بیش از سنگ‌های آهکی است. بنابراین حفره‌ها و غارهای انحلالی در این سنگ‌ها، سریع‌تر از دیگر سنگ‌ها ایجاد می‌شود. اگر سد بر روی لایه‌هایی از سنگ گچ احداث شود، ممکن است پس از چند سال، حفرات انحلالی در سنگ، ایجاد و باعث فرار آب از مخزن سد و همچنین ناپایداری بدنه سد شود.

مکان مناسب برای ساخت سد

سد، سازه‌ای است که به منظور ذخیره آب، مهار سیلاب، تأمین آب شرب و کشاورزی و همچنین تولید نیروی الکتریسیته احداث می‌شود. بعضی از سدها چند منظوره‌اند، یعنی به طور هم زمان چند هدف را تأمین می‌کنند. سدها، از نظر نوع مصالح ساختمانی به کار رفته، به دو دسته خاکی و بتنی تقسیم می‌شوند. مهم‌ترین عامل در تعیین نوع سد و محل احداث آن، شرایط زمین‌شناسی منطقه و مصالح مورد نیاز است.

● در مورد نزدیک‌ترین سد به محل سکونت خود، اطلاعاتی جمع‌آوری کنید و به موارد زیر

پاسخ دهید:

۱- هدف از احداث سد

۲- نوع سد

۳- جنس سنگ پی سد



جمع‌آوری اطلاعات

بیشتر بدانید

● سد کربیت (کوریت)، یک سد تاریخی است که در شهرستان طیس و در کیلومتر ۵۶ جاده طیس-دیپوک واقع شده است. این سد که در سال ۷۲۹ شمسی احداث شده، با ارتفاع ۶۰ متر، تا اوایل قرن بیستم، بلندترین سد جهان بوده است.

این سد، بزرگ‌ترین سد قوسی جهان به مدت ۵۵۰ سال بوده است. نکته جالب‌تر آنکه این سد، با عرض تاج یک متر، هنوز هم عنوان نازک‌ترین سد جهان را دارد.

آجرهای مربعی شکل، سنگ و ساروج، آهک و خاک رس، از عمده‌ترین مصالح به کار رفته در ساخت سد است.

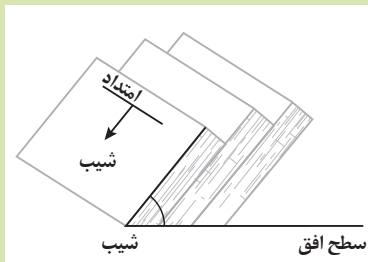


در مطالعات زمین‌شناسی سد، وضعیت مخزن، تکیه‌گاه‌ها و پی سد (شکل ۵-۴) از نظر پایداری و فرار آب مورد بررسی قرار می‌گیرد. برای آنکه فرار آب از مخزن سد صورت نگیرد باید دیواره‌ها و کف مخزن نفوذناپذیر باشند یا از نفوذپذیری بسیار کمی برخوردار باشند.



شکل ۵-۴- نمایی از بخش‌های مختلف یک سد


● برای بررسی موقعیت لایه‌ها از مشخصات امتداد و شیب استفاده می‌شود.




امتداد لایه عبارت است از محل برخورد سطح لایه با سطح افق و با جهت جغرافیایی بیان می‌شود. شیب لایه، مقدار زاویه‌ای

است که سطح لایه با سطح افق می‌سازد.


● شرایط مختلفی از وضعیت شیب و امتداد لایه‌های سنگی و موقعیت انتخابی برای ساختگاه سد، در شکل زیر نمایش داده شده است. با در نظر گرفتن فرار آب و پایداری بدنه سد، حالت مطلوب و حالت نامطلوب را برای احداث سد مشخص کنید.




(پ)



(الف)



(ت)



(ب)

با هم بیندیشید

● قرار گرفتن سنگ‌های تبخیری مانند لایه‌های نمک در محدوده دریاچه سدها، معمولاً باعث تغییر نامطلوب کیفیت آب مخزن می‌شود. در سال‌های اخیر، وجود لایه‌های گچی و نمکی در محدوده مخزن چند سد، باعث مشکلاتی در کیفیت آب مخزن آنها شده است.

جمع‌آوری اطلاعات

- در مورد علت فرار آب از مخزن سد لار اطلاعات جمع‌آوری کنید و در کلاس ارائه دهید.

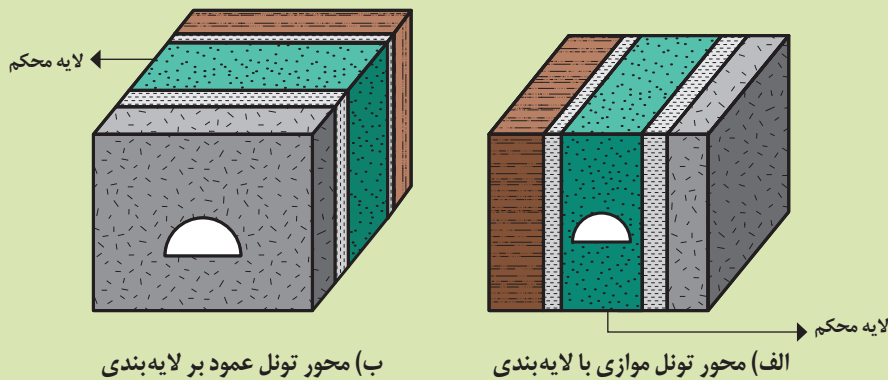
رسوباتی که از طریق رودها به مخزن سدها حمل می‌شوند، به تدریج از ظرفیت مخزن می‌کاهند. بعضی از سدهای کشور، بر اثر انباشته شدن از رسوبات، بخش قابل توجهی از کارایی خود را از دست داده‌اند. برای رفع این مشکل، در فواصل زمانی لازم عمل لایروبی صورت می‌گیرد.

مکان مناسب برای ساخت تونل و فضاهای زیرزمینی

برخی از فعالیت‌های عمرانی و معدنی در زیر زمین صورت می‌گیرد. این فعالیت‌ها، نیاز به فضای زیرزمینی دارد. حفاری‌های زیرزمینی به صورت تونل و مغار است. تونل‌ها، به منظور حمل و نقل، انتقال آب، انتقال فاضلاب یا استخراج مواد معدنی مورد استفاده قرار می‌گیرند. مغارها، فضاهای زیرزمینی بزرگ‌تری هستند که برای ایجاد تأسیسات زیرزمینی مانند نیروگاه‌ها، ایستگاه‌های مترو، ذخیره نفت و یا موارد دیگر استفاده می‌شوند.

این‌گونه سازه‌ها، باید در زمین‌هایی با مقاومت کافی احداث شوند. بنابراین زمین‌شناس، باید مطالعات خود را بر شناسایی مناطقی با کمترین خردشدگی، هوازدگی یا نشست آب، متمرکز کند.

- با توجه به شکل‌های زیر، احداث تونل در کدام مناسب‌تر است؟ دلیل خود را بیان کنید.



با هم
ببندیشید

کاوش کنید

- دلیل ناپایداری تونل در زیر سطح ایستایی را بررسی کنید.

وجود آب‌های زیر زمینی، بر ایمنی و پایداری سازه‌های سطحی مانند سدها و سازه‌های زیرزمینی مانند تونل‌ها در زمان ساخت و بهره‌برداری مؤثرند. جریان و فشار آب زیرزمینی، از عوامل مهم ناپایداری تونل‌ها و فضاهای زیرزمینی است. بخش بزرگی از مشکلات و خسارت‌ها در پروژه‌های

عمرانی و معدنی، ناشی از برخورد با آب‌های زیرزمینی بوده است، در برخی موارد، پروژه‌هایی به علت این مشکلات، تکمیل نشده و متوقف شده‌اند. بنابراین، برآورد میزان و کنترل جریان آب زیرزمینی در تونل‌ها، ترانشه‌ها (شکل ۴-۶ الف) و زمین زیر سازه و حتی درون سازه‌هایی مانند سدها، بسیار مهم است. به طور کلی، تونل‌هایی که در بالای سطح ایستابی قرار می‌گیرند، از پایداری بیشتری برخوردار هستند. در شرایطی که سنگ‌های داخل تونل از نظر پایداری و نشست آب، وضعیت مطلوبی نداشته باشند، دیواره و سقف تونل با محافظی از بتن یا سایر مصالح پوشیده می‌شود (شکل ۴-۶ ب).



ب) پوشش داخلی تونل به وسیله قطعات بتن



الف) ترانشه

شکل ۴-۶

مکان مناسب برای ساخت سازه‌های دریایی

همیشه سازه‌ها بر روی خشکی بنا نمی‌شوند. کشور ما از جنوب و شمال به دریا منتهی می‌شود. از سوی دیگر، بخشی از ذخایر عظیم نفت ایران از بستر دریا استخراج می‌شوند. سازه‌های دریایی، مانند اسکله‌ها، پایانه‌های نفتی، تونل‌های زیردریایی، پل‌ها و جاده‌ها، در سواحل دریا یا در دریا احداث می‌شوند (شکل ۴-۷). در شمال و جنوب ایران، سازه‌های دریایی فراوانی احداث شده‌اند. در مکان‌یابی این سازه‌ها مانند سازه‌های خشکی، باید مطالعات زمین‌شناسی به طور ویژه مورد توجه قرار گیرد. افزون بر آن، توجه به جریان‌های دریایی و ویژگی‌های فیزیکی و شیمیایی آب دریا نیز ضروری می‌باشد.



ب) پل دریایی در ژابن

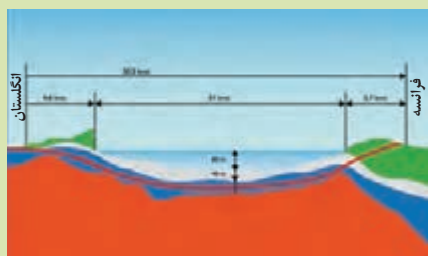


الف) پایانه نفتی خارک

شکل ۴-۷

۱- ترانشه (ژرف ناوه): به فرورفتگی مصنوعی یا طبیعی در سطح زمین گفته می‌شود که ژرفای آن از پهنایش بیشتر (طول و عمیق) است. برای اهدافی مانند انتقال آب، جاده‌سازی، قرار دادن لوله‌های نفت و... احداث می‌شود.

بیشتر بدانید



● تونل/کانال مانس با بیش از ۵۰ کیلومتر طول که بندر پادو کاله فرانسه را به شهرک فوکستون انگلستان متصل می کند، در زیر بستر دریا حفر شده است.

این تونل ۴۰ متر پایین تر از کف دریا (بیش از ۱۰۰ متر پایین تر از سطح تراز دریا) ساخته شده است. ساخت این تونل زیرآبی، مدت زمان مسافرت از پاریس به لندن را کاهش داده است. تونل مانس که به آن تونل کانال نیز گفته می شود، انگلستان را از طریق خشکی به دیگر کشورهای اروپایی متصل کرده است. مانس که انجمن مهندسان عمران آمریکا آن را یکی از عجایب هفت گانه دنیای مدرن نامیده است، دارای دو خط ریلی و یک تونل جانبی برای خودروها است. این پروژه در زمان اجرا، با صرف ۲۲/۵ میلیارد دلار، پرهزینه ترین طرح مهندسی تاریخ به شمار می رفت.

پایداری سازه ها



(الف)



(ب)

شکل ۸-۴. پایدارسازی شیب به روش (الف) دیوار حائل، (ب) دیوار حائل گابیونی (تور سنگی)

کشور ما، در یکی از کمربندهای لرزه خیز جهان واقع شده است و گسل های فعال در بیشتر مناطق آن وجود دارند. این گسل ها و زمین لرزه های احتمالی می توانند پایداری سازه های مختلف را تهدید کنند. از این رو زمین شناسان، در مطالعات مکان یابی سازه ها با استفاده از عکس های هوایی و ماهواره ای و بازدیدهای صحرائی، این گسل ها را شناسایی می کنند و با استفاده از داده های ثبت شده توسط دستگاه های لرزه نگاری و اطلاعات تاریخی زمین لرزه ها، احتمال فعالیت مجدد گسل ها و وقوع زمین لرزه و تأثیر آن بر سازه ها را مشخص می کنند. این اطلاعات در اختیار مهندسان عمران قرار می گیرد تا طراحی سازه را بر آن اساس انجام دهند. افزون بر این، پایداری محل احداث سازه در برابر **حرکات دامنه ای**^۱ از مواردی است که در مطالعات مکان یابی سازه ها، مورد توجه زمین شناسان است.

یکی از خطراتی که سازه ها را در مناطق شیب دار و کوهستانی تهدید می کند، خطر ریزش کوه و سقوط مواد در دامنه های پرشیب است. هر ساله اخبار زیادی مبنی بر ریزش کوه و مسدود شدن جاده ها و خطوط ریلی مناطق کوهستانی می شنویم. امروزه، با اقداماتی مانند ایجاد انواع دیوار حائل، زهکشی برای تخلیه آب اضافی، ایجاد پوشش گیاهی و میخ کوبی، دامنه ها را پایدار می کنند. (شکل ۸-۴)

۱- حرکات دامنه ای شامل: ریزش، لغزش، خزش، جریان گلی و ... است.

لغزش و سقوط توده‌های بزرگ سنگ و خاک در دیواره مخزن سدها، تا به حال، باعث خرابی‌های عمده‌ای در سدهای بزرگ جهان شده است.

لغزش توده‌های سنگ و خاک، افزون بر ایجاد امواج خطرناک در مخزن، باعث کاهش ظرفیت و عمر مفید مخزن می‌شود. با انتخاب محل مناسب برای ایجاد سد و پایدارسازی دیواره‌های مخزن سد، می‌توان از چنین اتفاقاتی جلوگیری کرد.

گفت‌وگو کنید

- در پایداری دامنه‌ها، پوشش گیاهی، تأثیر مثبت و منفی دارد. در این مورد توضیح دهید.
- یکی از روش‌های پایدارسازی دامنه‌ها و ترانشه‌ها، میخ کوبی است که در شکل زیر نشان داده شده است. در مورد این روش‌ها در کلاس بحث کنید.



پایدارسازی شیب به روش میخ کوبی

مصالح مورد نیاز برای احداث سازه‌ها

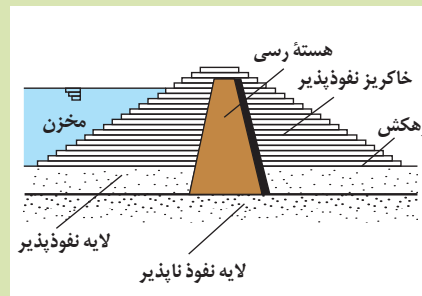
در احداث سازه‌ها، از مواد سازنده زمین، مانند خاک، شن، ماسه و سنگ استفاده می‌شود. مواد مورد نیاز برای هر سازه، باید دارای مقاومت، نفوذپذیری و اندازه دانه‌های مشخصی باشد که توسط آزمایش‌های لازم در آزمایشگاه‌های مکانیک خاک و سنگ مشخص می‌شوند.

مصالح به کار رفته در سازه‌های مختلف، متفاوت است؛ به عنوان مثال در سدهای بتنی از سیمان، ماسه، شن، میلگرد و در سدهای خاکی از خاک رس، ماسه، شن و قلوه سنگ استفاده می‌شود.

● به چه دلیل از هسته رسی برای ساخت سدهای خاکی استفاده می‌شود؟



سد خاکی



هسته رسی یک سد خاکی

رفتار خاک‌ها و سنگ‌ها در سازه‌ها

طبقه‌بندی مهندسی خاک‌ها، بر مبنای دانه‌بندی، درجه خمیری بودن و مقدار مواد آلی آنها انجام می‌شود. بر مبنای دانه‌بندی، خاک‌ها به دو دسته ریزدانه و درشت دانه تقسیم می‌شوند. در خاک‌های ریزدانه، مانند رس و لای، اندازه ذرات، کوچک‌تر از 0.075 میلی‌متر و در خاک‌های درشت دانه، مانند ماسه و شن، اندازه ذرات، بزرگ‌تر از 0.075 میلی‌متر است. از خاک‌های دانه ریز و دانه درشت، در بسیاری از سازه‌ها مانند بدنه سدهای خاکی، زیرسازی جاده‌ها و باند فرودگاه‌ها استفاده می‌شود. پایداری خاک‌های ریزدانه، به میزان رطوبت آنها بستگی دارد. هر چقدر رطوبت خاک‌های ریز دانه بیشتر باشد، پایداری آنها کمتر می‌شود. اگر رطوبت در این خاک‌ها، از حدی بیشتر شود، خاک به حالت خمیری در می‌آید و تحت تأثیر وزن خود روان می‌شود. لغزش خاک‌ها در دامنه‌ها و ترانشه‌ها، به‌ویژه در ماه‌های مرطوب سال، ناشی از این پدیده است (شکل ۹-۴).

● در حرکات دامنه‌ای، تفاوت زمین لغزش با ریزش چیست؟



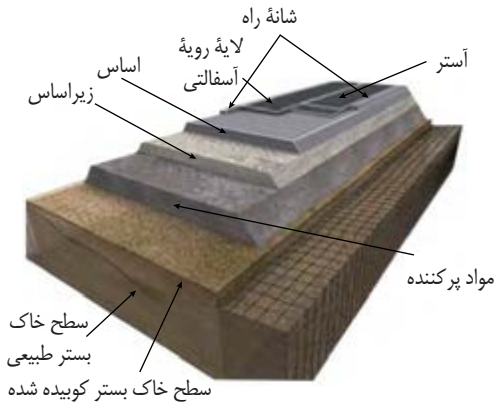
شکل ۹-۴- زمین لغزش در یک جاده

جمع‌آوری اطلاعات

● یک کلوخ را روی سطح صافی قرار دهید و به تدریج روی آن آب بریزید و رطوبت آن را به تدریج افزایش دهید. تغییر شکل آن را در مراحل مختلف مشاهده کنید و اطلاعات خود را در کلاس ارائه دهید.

کاربرد مصالح خاک و خرده سنگی در راه‌سازی

سطح طبیعی زمین، برای رفت و آمد وسایل نقلیه مناسب نیست زیرا، در مقابل عوامل جوی مانند بارش، تغییرات دما و نیروهای وارده از چرخ خودروها مقاومت کافی ندارد، به همین دلیل برای احداث جاده از مصالح خاک در بخش زیرسازی و روسازی استفاده می‌شود که هر کدام از دو بخش تشکیل شده است. زیرسازی از دو بخش زیر اساس و اساس و روسازی از دو بخش آستر و رویه تشکیل می‌شود (شکل ۴-۱۰).



ب) بخش زیر اساس و اساس



الف) لایه‌های مختلف راه بر روی بستر طبیعی

شکل ۴-۱۰

در بخش زیر اساس که به عنوان لایه‌ی زهکش عمل می‌کند، از مخلوط شن و ماسه یا سنگ شکسته استفاده می‌شود. لایه‌های آستر و رویه که بایستی مقاوم باشند، از جنس آسفالت می‌باشند که مخلوطی از شن، ماسه و قیر است. یکی از کاربردهای مصالح خرده سنگی، در زیر سازی و تکیه‌گاه ریل‌های راه آهن است. این قطعات سنگی یا **بالاست**، علاوه بر نگهداری ریل‌ها و توزیع بار چرخ‌ها، عمل زهکشی را نیز به عهده دارند. بالاست مورد نیاز خطوط راه آهن، معمولاً از خرد کردن سنگی که از معدن استخراج می‌شود، به دست می‌آید (شکل ۴-۱۱).



شکل ۴-۱۱- بالاست در زیر سازی جاده ریلی

• **زمین‌شناسی مهندسی:** شاخه‌ای از زمین‌شناسی است که رفتار و ویژگی‌های مواد سطحی زمین از نظر مقاومت در برابر فشارهای وارده و امکان ساخت یک سازه را در محلی خاص از زمین بررسی می‌کند. این علم، نقش بسیار مهمی در انتخاب مناسب‌ترین محل، برای ساخت سازه‌ها دارد.

متخصصین زمین‌شناسی مهندسی، در سازمان زمین‌شناسی و اکتشافات معدنی کشور، آزمایشگاه‌های مکانیک خاک و سنگ، وزارت نیرو، وزارت راه و شهرسازی، صنعت، معدن و تجارت و شهرداری‌ها، می‌توانند نقش مهمی در هدایت پروژه‌های عمرانی داشته باشند.

