

آزمون فصل هفتم ریاضی (کسر و احتمال) پایه دوم

نام و نام خانوادگی:

دبستان:

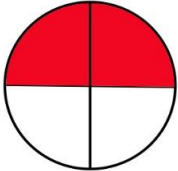
آموزگار:

تاریخ:



۱. عدد ۲۴ یعنی ۲ ده تایی و ..... قسمت از ده قسمت  
 عدد ۸۷ یعنی ۸ ده تایی و ..... قسمت از ..... قسمت  
 عدد ..... یعنی ۴ ده تایی و ۶ قسمت از ده قسمت

۲. برای شکل های زیر کسر بنویس.



۳. برای کسرهای زیر شکل بکش.

$$\frac{2}{3}$$

$$\frac{1}{4}$$

$$\frac{3}{5}$$

۴. الگوهای عددی زیر را ادامه بده.

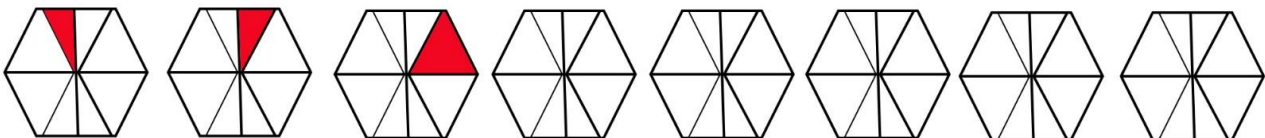
$$930 - 830 - 730 -$$

$$480 - 500 - 520 -$$




۵. در یک ظرف میوه ۷ تا سیب و ۹ پرتقال است.  
 ..... میوه از ۱۶ میوه سیب است.  
 ..... میوه از ..... میوه پرتقال است.

۶. الگوی شکل را با رنگ زدن ادامه بده.



۷. ماهیگیری یک بار تور خود را به دریا انداخت و ۱۵۲ ماهی گرفت او بار دوم ۹۷ ماهی گرفت او روی هم چند ماهی گرفته است.




تایی ..... دسته ..... تایی

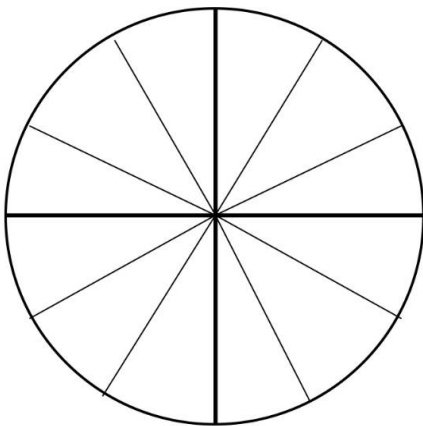


تایی ..... دسته ..... تایی

۸. جاهای خالی را کامل کن.



تایی ..... دسته ..... تایی



۹. صفحه ی چرخنده ی زیر را به صورت زیر رنگ آمیزی کن.

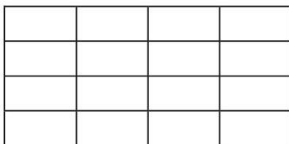
۶ قسمت از ۱۲ قسمت را قرمز بزن

۴ قسمت از ۱۲ قسمت را آبی رنگ بزن


۲ قسمت از ۱۲ قسمت را زرد رنگ بزن.

احتمال ایستادن عقربه روی کدام رنگ بیشتر است.

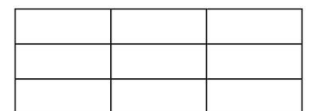
۱۰. با توجه به جمله ها از شکل ها رنگ بزن.



۸ قسمت از ۱۶ قسمت



۵ قسمت از ۱۰ قسمت



۳ قسمت از ۹ قسمت


باز خورد آموزگار: