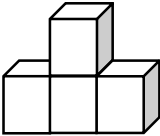
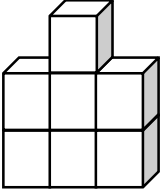
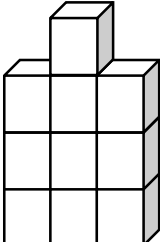


ارزشیای ریاضی ششم - عدد و الگوهای عددی

ردیف	سوال	نمره																					
۱	روش تشخیص اعداد زوج را با مثال توضیح دهید؟																						
۲	روش تشخیص اعداد فرد را با مثال توضیح دهید؟																						
۳	با اعداد ۲، ۹، ۵، ۶ و ۳ بزرگترین و کوچکترین اعداد زوج و فرد را بنویسید. (بدون تکرار) بزرگترین عدد زوج: بزرگترین عدد فرد: کوچکترین عدد زوج: کوچکترین عدد فرد:																						
۴	الگوهای عددی زیر را ادامه دهید.																						
	<table border="1" style="width: 100%; text-align: center;"> <tbody> <tr> <td>۴۰</td> <td>۸۰</td> <td>۱۲۰</td> <td>.....</td> <td>.....</td> <td>.....</td> <td>.....</td> </tr> <tr> <td>۱۰۱۰</td> <td>۱۰۲۰</td> <td>۱۰۳۰</td> <td>.....</td> <td>.....</td> <td>.....</td> <td>.....</td> </tr> <tr> <td>۱۰</td> <td>۲۰</td> <td>۴۰</td> <td>۸۰</td> <td>.....</td> <td>.....</td> <td>.....</td> </tr> </tbody> </table>	۴۰	۸۰	۱۲۰	۱۰۱۰	۱۰۲۰	۱۰۳۰	۱۰	۲۰	۴۰	۸۰	
۴۰	۸۰	۱۲۰																	
۱۰۱۰	۱۰۲۰	۱۰۳۰																	
۱۰	۲۰	۴۰	۸۰																	
۵	برای اعداد زوج و اعداد فرد الگو رسم کنید.																						
۶	در جاهای خالی عبارت مناسب بنویسید. حاصل جمع یک عدد زوج و یک عدد فرد، عددی است. حاصل جمع دو عدد زوج، عددی است. حاصل جمع دو عدد فرد، عددی است.																						
۷	مضرب های اعداد چگونگی به دست می آیند؟ توضیح دهید.																						
۸	مضرب هفتم عدد ۸، است. - مضرب نهم عدد ۳، است. مضرب چهارم عدد ۶، است. - مضرب ششم عدد ۵، است																						

ارزشیای ریاضی ششم - عدد و الگوهای عددی

نمره	سوال	ردیف
	<p>با توجه به الگوی زیر، شکل پنجم الگو با چند مکعب ساخته می شود؟</p> <div style="display: flex; justify-content: space-around; align-items: center;"> <div style="text-align: center;">  <p>شکل (۱)</p> </div> <div style="text-align: center;">  <p>شکل (۲)</p> </div> <div style="text-align: center;">  <p>شکل (۳)</p> </div> </div> <p>شکل چندم با ۳۱ مکعب ساخته می شود؟</p>	۹
	<p>علی در صف ۳۳ نفره مدرسه، نفر وسط است. با توجه به این موضوع به سوالات زیر پاسخ دهید.</p> <p>الف) علی نفر چندم صف است؟</p> <p>ب) قبل از علی چند نفر در صف قرار دارند؟</p> <p>ج) اگر ۵ نفر از ابتدای صف و ۵ نفر از انتهای صف خارج شوند، علی نفر چندم خواهد شد؟</p> <p>د) اگر دو نفر به ابتدای صف اضافه شوند، علی نفر چندم صف خواهد شد؟</p>	۱۰
	<p>۳ عدد ۵ رقمی بنویسید که رقم دهگان آن ها فرد باشد.</p>	۱۱
	<p>۲ عدد ۴ رقمی پیدا کنید که اگر آن ها را با ۱۲۷ جمع کنیم حاصل زوج باشد.</p>	۱۲
	<p>عددی ۴ رقمی را با ۱۲۵۸ جمع کردیم که حاصل آن یک عدد فرد شد. شما هم دو عدد بنویسید که اگر با ۱۲۵۸ جمع کنیم، حاصل عددی فرد باشد.</p>	۱۳