

نام و نام خانوادگی:

به نام خداوند مهربان آفرین

پایه: اول آبان ۹۴

kelaskocholo.blogfa.com



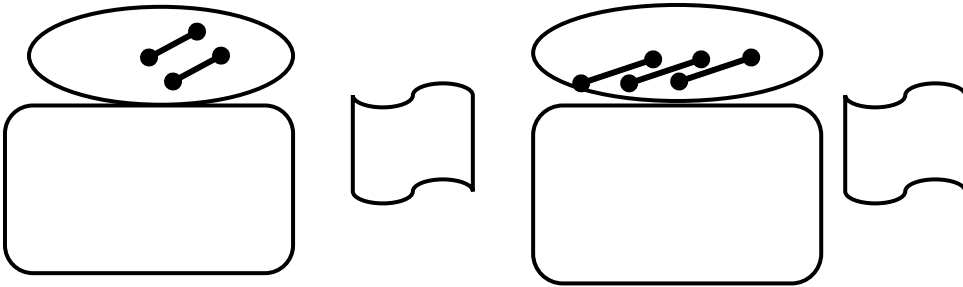
دستان: شهدای امیر سلیمانی

درس: ریاضی

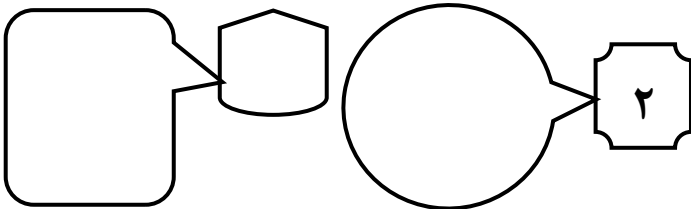
۱- گم، جدول زیر را کامل کن.

	* * * *	
		* * * *	
			* * * *
* * * *		


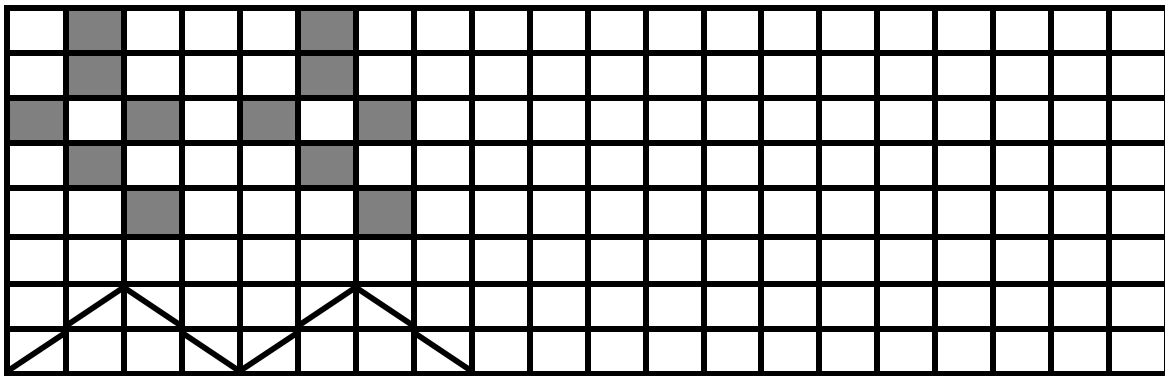
۲- ماه نازم، با میله های داده شده در هر دسته به دنخواه شکل بساز و شکلی که ساخته ای از چند میله تشکیل شده چوب خط بکش.



۳- شمع فروزانم، ما قبل عدد داده شده را بنویس و برای هر عدد شکل بکش.




۴- پروانه ام، الگو را ادامه بده و شکلی که تکرار می شود در ستون سمت راست بکش. در جای خالی به دنخواه الگو بکش و مانند الگوی بالا عمل کن.

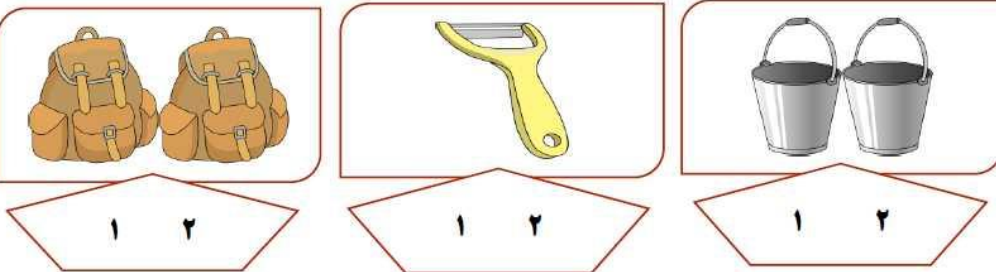


۵- ریاضیدانم الگو را ادامه بده.

۶- هر شکل چه عددی را نشان می دهد، در کردی سمت چپ عدد و در کردی سمت راست چوب خط بکش.

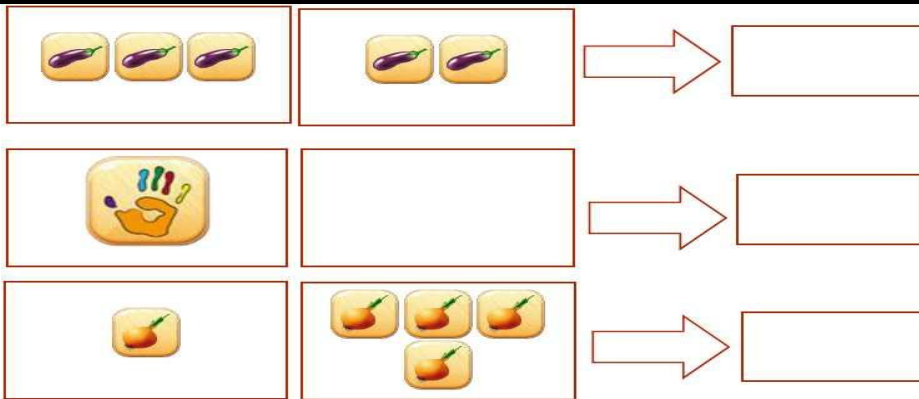


۷- دور عدد مناسب را خط بکش.



۸- شکل های زیر روی هم چندتا می شوند، با کشیدن

چوب خط نشان بده.



۹- نازم، ۱۲ اختلاف تصویر را پیدا کن.



فرزندم در انجام این دو صفحه از ساعت تا ساعت طول داد. تمرینات را خودش به تنهایی انجام داد.
در تمرین مجبور به توضیحات زیادی شدم.

با توجه به انجام کار و رعایت نظم و درست نویسی می توانم بگویم.
بسیار خوب خوب متوسط نیاز به تلاش بیشتر کار دارد.

توضیحات معلم: