


۱- اوج شکوفایی شهر اصفهان مربوط به چه دوره‌ای است؟ و چرا این شهر به نصف جهان

معروف شده است؟



۲- میدان نقش جهان به فرمان چه کسی ساخته شده است؟

۳- به نوشته‌های روی سنگ، کاشی و مانند آن چه می‌گویند؟



۴- تفاوت مسجد امام و شیخ لطف الله در چیست؟

۵- حضرت علی (ع) می‌فرماید: انسان باید هر روزش را به چند قسمت تقسیم کند؟

۶- به چه برنامه‌ای متعادل می‌گویند؟

۷- استفاده از لغت‌نامه چه فایده‌ای دارد؟

۸- در چه مواردی به لغت‌نامه مراجعه می‌کنید؟





۹- مانند نمونه کامل کنید.

جمله	نهاد	مفعول	فاعل
زهرا درس می‌خواند.			
باد برگ‌ها را جارو کرد.			
کتاب بوستان علم است.			

۱۰- سه کلمه بنویسید که در پایان آن «گین» باشد.



۱۱- نام سه وسیله که دارای موتور الکتریکی هستند، بنویسید.



۱۲- کار موتور الکتریکی چیست؟

۱۳- چند راه برای استفاده از اوقات فراغت پیشنهاد دهید.

- ۱۴- در یک نظرسنجی در یک کلاس، ۱۵ نفر به ورزش بسکتبال علاقه دارند و ۸ نفر به این ورزش علاقه ندارند. نسبت افرادی که به بسکتبال علاقه دارند به افرادی که به این ورزش علاقه ندارند، مثل به یا کسر (.....) است.
- ۱۵- نسبت قد مهسا به مریم ۳ به ۷ و نسبت قد مریم به شیوا ۵ به ۸ است.
- نسبت قد مهسا به شیوا چیست؟

- ۱۶- آشپزی برای تهیه‌ی نوعی غذا ۵ عدد تخم‌مرغ را با ۲ کیلو گوجه‌فرنگی مخلوط می‌کند. او با ۲۰ عدد تخم‌مرغ چند کیلوگرم گوجه‌فرنگی مصرف می‌کند؟
- برای ۱۲ کیلوگرم گوجه‌فرنگی به چند عدد تخم‌مرغ نیاز دارد؟



- ۱۷- قنادی برای پخت نوعی شیرینی ۳ کیلوگرم آرد را با ۲ کیلوگرم شکر و ۱ کیلوگرم روغن مخلوط می‌کند. نسبت شکر به کل مواد چه قدر است؟



- ۱۸- در یک روز پارسا می‌تواند ۵ صفحه از کتابش را بخواند، اما کیان در یک روز ۳ صفحه از کتابش را مطالعه می‌کند. اگر پارسا ۱۲۰ صفحه از کتابش را بخواند. کیان چند صفحه از کتابش را خوانده است؟

- ۱۹- قبل از حل مسئله، ترتیبی را که می‌خواهید مسئله را حل کنید، مشخص کنید و بنویسید.

$$1) \frac{1\frac{5}{6} - \frac{3}{4}}{2\frac{3}{8} - \frac{2}{3}} =$$

حاصل کسره‌های زیر را به دست آورید.

الف. حل و محاسبه‌ی صورت کسر

ب. محاسبه‌ی مخرج کسر

پ. تقسیم صورت کسر بر مخرج کسر

الف. محاسبه‌ی صورت

ب. محاسبه‌ی مخرج

پ. تقسیم صورت بر مخرج

- ۲۰- قیمت ۸ مداد ۴۸۰۰ تومان است.

۱۲ مداد چند تومان است؟

$$2) \frac{1\frac{3}{4} + 1\frac{1}{3}}{6 \times \frac{5}{12}} =$$

