

به نام خدا

آزمون بخش دوم ریاضی پایه اول

تاریخ:

آموزگار:

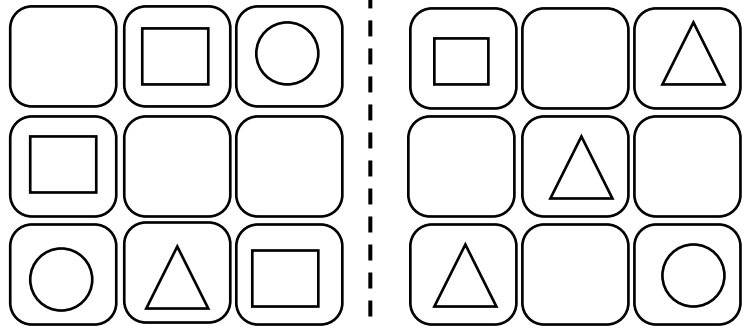
دبستان:

نام و نام خانوادگی:

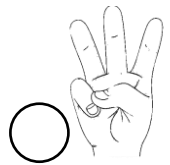

۱. به اندازه ی شکل های سمت چپ ، در سمت راست شکل بکش.

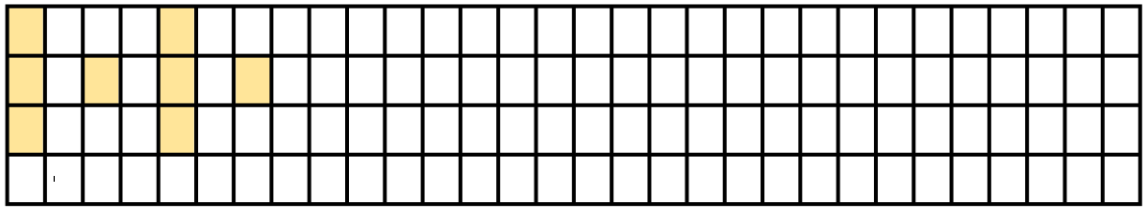


۲. جدول های زیر را با شکل مناسب کامل کن.


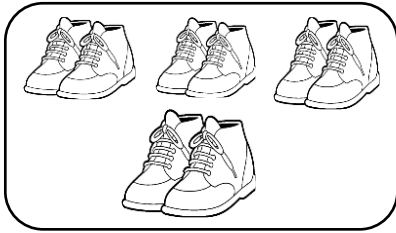
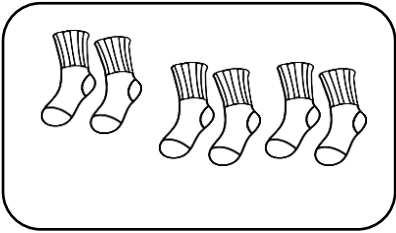


۳. فرزندم ، اگر یک شکل به شکل های هر دسته اضافه کنیم، چه عددی را نشان می دهد علامت بزن.





۵. در هر دسته هر شکل از سمت چپ را به یک شکل از سمت راست وصل کن.



ارزشیابی آموزگار

خ.خ	خ	ف.ق	ن.ت
<input type="checkbox"/>	<input type="checkbox"/>	<input type="checkbox"/>	<input type="checkbox"/>
<input type="checkbox"/>	<input type="checkbox"/>	<input type="checkbox"/>	<input type="checkbox"/>
<input type="checkbox"/>	<input type="checkbox"/>	<input type="checkbox"/>	<input type="checkbox"/>
<input type="checkbox"/>	<input type="checkbox"/>	<input type="checkbox"/>	<input type="checkbox"/>
<input type="checkbox"/>	<input type="checkbox"/>	<input type="checkbox"/>	<input type="checkbox"/>

- مفهوم چپ و راست را درک می کند.
- مربع شگفت انگیز را حل می کند.
- تعداد اشیای یک دسته را می شمارد.
- بین اعضای دو مجموعه تناظر برقرار می کند.
- الگویابی را به درستی درک و حل می کند.

همراه با اولی ها