

۱. طناب یکنواختی به طول L مطابق شکل بر روی میزی قرار دارد. ارتفاع میز بیشتر از طول طناب است. فرض کنید جرم واحد طول طناب λ و ضریب اصطکاک ایستایی و جنبشی یکسان باشد. اگر طول قسمت آویزان b باشد طناب در آستانه لغزش قرار می‌گیرد. طناب از این حالت شروع به حرکت می‌کند. و فاصله نقطه‌ی انتهایی بخش آویخته از O در هر لحظه y است. کمیت‌های زیر را حساب کنید.

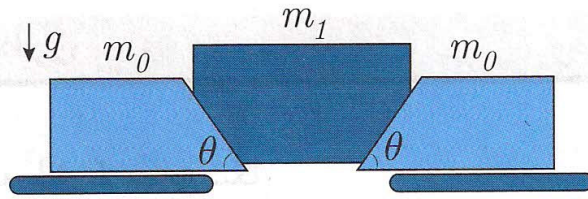
- الف) نیروی اصطکاک به صورت تابعی از y
- ب) شتاب انتهایی پایینی طناب به صورت تابعی از y
- ج) انرژی پتانسیل گرانشی دستگاه به صورت تابعی از y . مبدأ انرژی پتانسیل گرانشی را نقطه‌ی O بگیرید.
- د) سرعت نقطه‌ی انتهایی طناب

راهنمایی:

۱. انرژی پتانسیل طناب همگنی که به شکل یک پاره خط است، برابر است با انرژی پتانسیل جسمی به همان جرم که در مرکز هندسی طناب قرار گرفته باشد.
۲. مساحت سطح زیر نمودار نیرو بر حسب جابه‌جایی برابر است با کاری که نیرو انجام داده است. «۱۰ نمره»

۲. دو جرم مشابه M_0 مطابق شکل روی دو سطح افقی قرار دارند. فرض کنید که این جرم‌ها از سطح بلند نمی‌شوند. ضریب اصطکاک ایستایی و جنبشی آن‌ها با سطح افقی را μ بگیرید. جرم M_1 را روی آن‌ها قرار می‌دهیم. اصطکاک بین جرم‌های M_0 و M_1 قابل چشم‌پوشی است.

- الف) اگر M_1 با شتاب a پایین بیاید، اندازه شتاب جرم‌های M_0 چقدر می‌شود؟
- ب) با μ و M_0 معین، به اندازه‌ی مقادیر مختلف θ ، چه شرطی روی M_1 باشد تا دستگاه ساکن بماند؟
- ج) فرض کنید جرم M_1 حرکت می‌کند شتاب آن را به دست آورید.



«۱۰ نمره»

۳ یک ظرف استوانه‌ای روباز پر از مایع است. روی سطح جانبی استوانه روزنه کوچکی ایجاد می‌کنیم. با تقریب‌های مناسب سرعت خروج مایع از روزنه $v = \sqrt{2gh}$ است که در آن h فاصله روزنه از سطح مایع و g شتاب گرانش است.

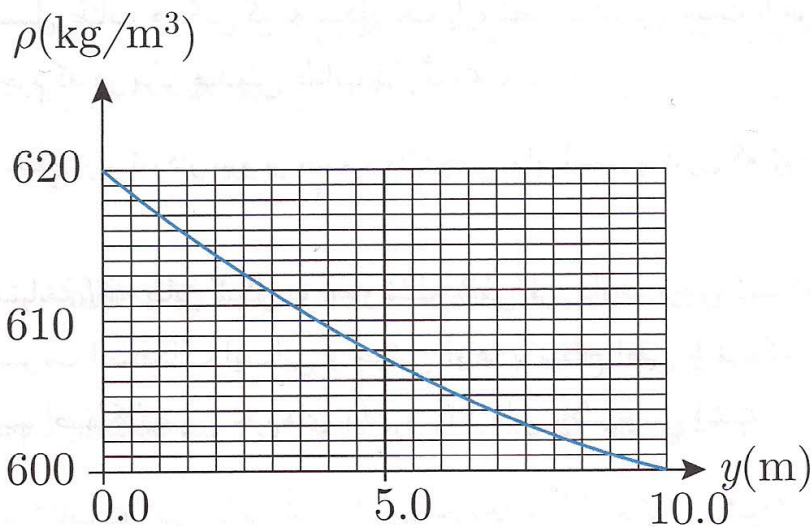
فرض کنید دو روزنه با مساحت‌های یکسان A روی سطح جانبی ظرف و در یک امتداد قائم وجود دارد. فاصله‌های این دو روزنه از سطح مایع به ترتیب h_1 و h_2 است. برای این‌که با خروج مایع از این روزنه‌ها ارتفاع مایع در ظرف تغییر نکند، مایع وارد ظرف می‌کنیم.

الف) آهنگ ورود مایع به ظرف که مثلاً بر حسب مترمکعب بر ثانیه سنجیده می‌شود، دبی ورودی نام دارد. دبی ورودی مایع، D چقدر باشد تا ارتفاع مایع در ظرف ثابت بماند؟

ب) مایعی که از دو روزنه خارج می‌شود در نقطه‌ای به فاصله افقی x و فاصله قائم y از سطح مایع همدیگر را قطع می‌کنند. x و y را به دست آورید.

«۱۰ نمره»

۴ در یک مخزن روباز تا ارتفاع ده متر، مایعی ریخته‌ایم. محور y را رو به بالا و مبدأ آن را منطبق بر ته مخزن بگیرید. چگالی مایع بر حسب ارتفاع در شکل داده شده است. فشار هوا را $P_0 = 1.0 \times 10^5 \text{ Pa}$ و شتاب گرانش را $g = 9.8 \text{ m/s}^2$ بگیرید. فشار مایع را در $y = 0$ و $y = 5 \text{ m}$ پیدا کنید.



«۱۰ نمره»

۵ اگر یک رشته فولادی به سطح مقطع A را به نقطه‌ی ثابتی ببندیم و سر دیگر را با نیروی F



بکشیم، به نسبت $\sigma = \frac{F}{A}$ تنش کششی می‌گوییم. اگر تنش کششی از مقدار معینی بیشتر شود، رشته می‌برد.

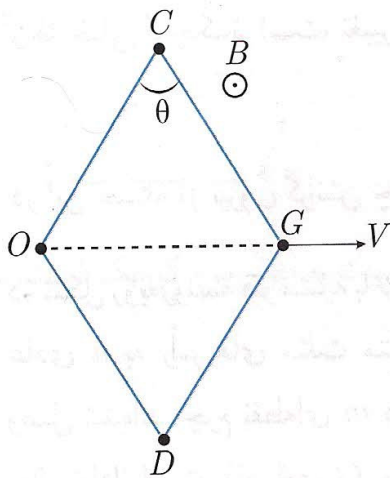
یک مخزن گاز، کره‌ای به شعاع $R = 5.0\text{m}$ است که از ورقه‌های فولادی به ضخامت $t = 2.0\text{cm}$ ساخته شده است. بر طبق استانداردهای جهانی حداکثر تنش کششی مجاز در تأسیسات فولادی $\sigma_{\max} = 1.5 \times 10^8\text{Pa}$ است.

الف) گاز نیم‌کره‌ی بالایی مخزن را در نظر بگیرید. با توجه به تعادل گاز، نیروها وارد بر این قسمت از گاز را بنویسید و از آنجا نیرویی را که گاز بر نیم‌کره‌ی بالایی مخزن وارد می‌کند به دست آورید.

ب) اگر فشار گاز مخزن را زیاد کنیم، سرانجام مخزن شکافته می‌شود. حداکثر فشار مجاز گاز چقدر باشد تا تنش کششی در دایره‌ی عظیمه از حداکثر تنش کششی مجاز بیشتر نشود؟

فشار هوا $P_0 = 1.0 \times 10^5\text{Pa}$ است و از نیروی وزن در برابر نیروهای دیگر چشم‌پوشی کنید.

«۱۰ نمره»



۶ قاب لوزی شکل روبه‌رو از ۴ میله‌ی رسانا به جرم ناچیز ساخته شده است. طول هر میله a و مقاومت الکتریکی هر کدام R است. قاب در یک میدان مغناطیسی ثابت و قائم قرار دارد. سطح قاب افقی است و اضلاع به هم لولاشده‌اند. لولای رأس O ثابت است و سایر لولاها می‌توانند بدون اصطکاک حرکت کنند. مطابق شکل رأس G را با نیروی F در جهت قطر OG می‌کشیم به طوری که رأس G با سرعت ثابت v حرکت می‌کند. زاویه‌ی θ از وضعیت $\theta = 60^\circ$ به وضعیت $\theta = 120^\circ$ درمی‌آید. لحظه‌ی $t = 0$ زمان شروع حرکت نقطه G است.

الف) جهت جریان القایی در ضلع OC را در ضمن این حرکت معلوم کنید.

ب) مساحت قاب را بر حسب t حساب کنید.

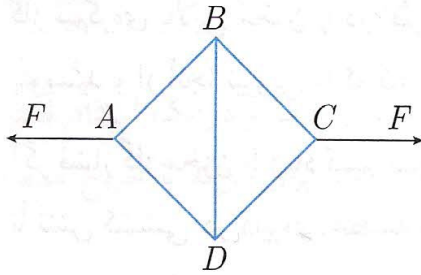
ج) نیروی محرکه‌ی القایی را در لحظه‌ی t حساب کنید.

د) نیروی الکترومغناطیسی وارد بر یک ضلع قاب در لحظه‌ی t را حساب کنید.

ه) با استفاده از پایستگی انرژی، نیروی $F(t)$ را حساب کنید.

«۱۰ نمره»

۷ اگر نیروی کششی یا فشاری F بر میله‌ای به طول L و سطح مقطع S و در راستای آن وارد شود، طول میله به اندازه ΔL زیاد و یا کم می‌شود. آزمایش نشان می‌دهد برای F کمتر از یک مقدار معین رابطه‌ی $\frac{\Delta L}{L} = \frac{F}{S}$ برقرار است که در آن γ یک ضرب ثابت است و مدول یانگ نام دارد. برای یک طناب به طول L و سطح مقطع S نیز که نیروی کششی F بر آن وارد می‌شود، افزایش طول ΔL طناب از همان رابطه به دست می‌آید. مطابق شکل یک کلاف مربع به ضلع L با طنابی به سطح مقطع S ساخته شده و قطر BD یک میله با همان سطح مقطع



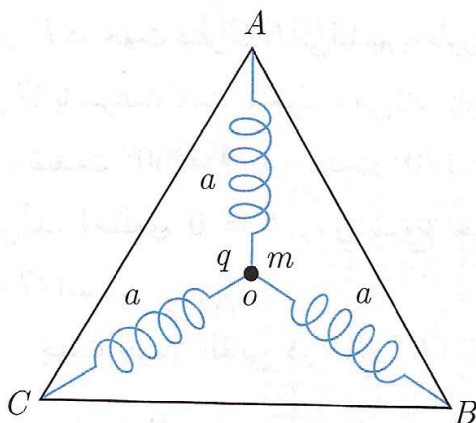
است. این کلاف روی سطح افقی است و به دو رأس A و C نیروی F در راستای قطر AC وارد می‌شود. مدول یانگ طناب و میله را برابر بگیرید. از رابطه‌ی $(1+x)^\alpha = 1 + \alpha x$ برای حالتی که x خیلی از ۱ کوچک‌تر است استفاده کنید.

الف) نیروها را در هر ضلع مربع و میله معین کنید. در اینجا از تغییر طول‌ها چشم‌پوشید.

ب) با نیروهایی که در بند الف حساب کرده‌اید، با فرض این‌که تغییر طول طناب و میله نسبت به طول آن‌ها خیلی کوچک‌تر است، تغییر طول قطر AC را به دست آورید.

«۱۰ نمره»

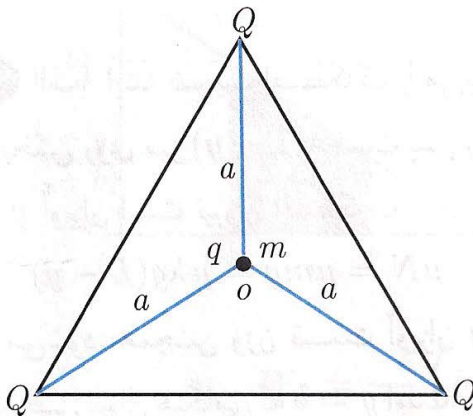
۸ در این مسئله از نیروی گرانش چشم‌پوشی کنید.



الف) در شکل روبه‌رو، سه فنر مشابه با ضریب K و طول عادی a به رأس‌های مثلث متساوی‌الاضلاعی وصل شده‌اند. جرم نقطه‌ای m در مرکز مثلث در حال تعادل است. فاصله‌ی O ، مرکز مثلث، از هر رأس a است. جرم m را در امتداد پاره خط OA به اندازه‌ی x به رأس A نزدیک می‌کنیم. $\epsilon = \frac{x}{a}$ خیلی کوچک‌تر از ۱ است. با استفاده از تقریب

$$(1 + \epsilon)^\alpha \simeq 1 + \alpha \epsilon$$

و چشم‌پوشی از جملات از مرتبه ϵ^2 و بالاتر، نیروی بازگرداننده فنرها را محاسبه کنید و با مقایسه این نیروی بازگرداننده با نیروی بازگرداننده یک فنر، بسامد نوسان کم‌دامنه جرم m و حول نقطه O را به دست آورید.




ب) بار q به جرم m در مرکز یک مثلث متساوی الاضلاع قرار دارد و از سه بار مشابه Q ، که با بار q هم علامت هستند، به فاصله a است. بار q را در جهت OA به اندازه x به باری که در رأس A قرار دارد نزدیک می‌کنیم. $\frac{x}{a}$ خیلی کوچک‌تر از ۱ است. با استفاده از همان تقریب‌های قسمت (الف)، و با این فرض که بار q از صفحه‌ی مثلث خارج نمی‌شود، نیروی بازگرداننده را حساب کنید و بسامد نوسان کم‌دامنه آن را به دست آورید.

ج) فرض کنید بار q که در مرکز مثلث است، به اندازه y در راستای عمود بر صفحه‌ی مثلث جابه‌جا شود. $\frac{y}{a}$ خیلی کوچک‌تر از ۱ است. جهت و اندازه‌ی نیروی وارد بر q را با همان تقریب‌های ذکر شده به دست آورید.

«۱۰ نمره»

۹) در یک طناب افقی که با نیروی ثابت F کشیده شده است، موج عرضی $y = A \sin(kx - \omega t)$ منتشر می‌شود. در شکل نیرویی که در یک نقطه، قسمت چپ طناب به قسمت راست آن وارد می‌کند که نشان داده شده است. برای زاویه‌های کوچک θ داریم $\sin \theta \simeq \tan \theta$.



الف) با توجه به این که نیروی F مماس بر طناب و دامنه‌ی موج نسبت به طول موج کوچک است، مؤلفه‌ی y نیروی وارد بر قسمت راست طناب را به دست آورید.

ب) مؤلفه‌ی y سرعت طناب را در این نقطه به دست آورید.

ج) توانی که قسمت چپ طناب به طرف راست آن می‌فرستد را حساب کنید.

د) با فرض این که نقطه‌ی $x = 0$ گره است، موج برهم‌نهی شده را بنویسید. این موج از انتهای بسته‌ی طناب بازتاب می‌کند و در طناب موج ایستاده درست می‌شود.

ه) توانی را که در این موج برهم‌نهی شده از سمت چپ به سمت راست می‌رود به دست آورید.

و) توانی را که از گره‌ها و شکم‌ها می‌گذرد حساب کنید.

ز) در یک لحظه‌ی معین، در چه نقاطی، اندازه‌ی توان عبوری بیشینه است؟

«۱۰ نمره»