

آزمون فصل اول ریاضی پایه دوم

تاریخ:

آموزگار:

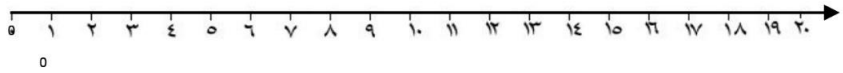
دبستان:

نام و نام خانوادگی:

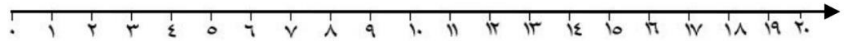


۱. حاصل عبارت های زیر را با استفاده از محور بدست بیاور.



$$۸+۳+۵=$$



$$۱۷-۴+۳=$$



۲. الگوی عددی را با رسم شکل کامل کن.

				
۴	8			



۳. در شمارش ۹ تا ۹ تا در چندمین مرحله به عدد ۳۶ میرسیم؟

۴. در یک اتوبوس ۲۱ مسافر بود ، در ایستگاه اول ۱۰ نفر سوار و ۴ نفر پیاده شدند و در ایستگاه دوم ۷ نفر پیاده و ۲ نفر سوار

شدند، حالا چند مسافر در اتوبوس وجود دارد؟



۵. جاهای خالی را کامل کن.

۶۶				
	شصت و هفت		هفتاد	

۶. حاصل جمع و تفریق های زیر را بدست آورید.

$$\boxed{۶} + \boxed{۲} + \boxed{۳} = \boxed{\phantom{00}}$$

$$\boxed{۷} - \boxed{۴} + \boxed{۹} = \boxed{\phantom{00}}$$





$$\boxed{۴۰} + \boxed{۲۰} - \boxed{۱۰} + \boxed{۵} = \boxed{\phantom{00}}$$

$$\boxed{۷۰} + \boxed{۵۰} - \boxed{۵} + \boxed{۵} = \boxed{\phantom{00}}$$



۷. حسین ۴ مداد قرمز و ۹ مداد سیاه و ۶ مداد زرد دارد، او چند مداد دارد؟  
اگر از هر رنگ ۲ عدد به سعید بدهد چند تا مداد برایش باقی می ماند؟

۸. حاصل جمع کدام دو عدد یک رقمی ۷ می شود و حاصل تفریق آن ها ۳ می شود آن را رنگ کن.



۹. برای عدد ۳۴ شکل بکش و آن را در جدول قرار بده.

یکی	ده تایی



۱۰. عددهای روی کارت ها را به ترتیب از کم تر به بیشتر مرتب کن.

$$\boxed{۲۹} \quad \boxed{۱۴} \quad \boxed{۶۷}$$

$$\boxed{۱۸} \quad \boxed{۴۵} \quad \boxed{۷۱}$$

$$\boxed{\phantom{00}} < \boxed{\phantom{00}} < \boxed{\phantom{00}}$$

$$\boxed{\phantom{00}} < \boxed{\phantom{00}} < \boxed{\phantom{00}}$$



باز خورد آموزگار:
