

۰/۰۵

۰/۵

۵۰۰۰

۵۰۰ - ۱ سانتی متر چند میلی متر است ؟

۲ - کدام گزینه صحیح است ؟

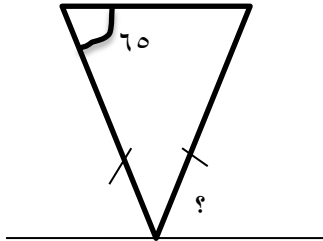
$$۲/۰۹ \text{ میلی متر} = \frac{۲۰۹}{۱۰۰۰} \text{ سانتی متر}$$

$$۵۷۰ \text{ سانتی متر} = ۵۷۰ \text{ متر}$$

$$۵۶۰۰۰ \text{ میلی متر} = ۵/۶ \text{ متر}$$

$$۱۴۴۰۰ \text{ متر} = ۱۴۴/۴ \text{ کیلومتر}$$

۳ - اندازه ی زاویه ی خواسته شده چند درجه است ؟



۷۰

۶۵

۶۰

۵۰

۷۲۰

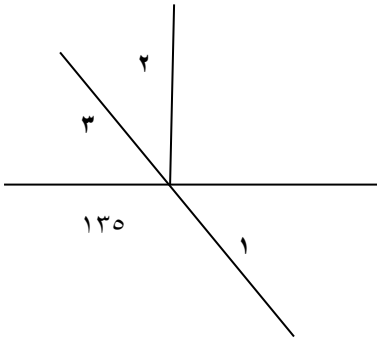
۶۸۰

۵۴۰

۴۸۰

۴ - مجموع زوایای داخلی یک ۶ ضلعی برابر است با :

۵ - با توجه به شکل زاویه ی ۲ ، چند درجه است ؟



۴۵

۵۰

۶۵

۶۸

۶ - اگر به زاویه ای ۴۰ درجه اضافه کنیم حاصل برابر مکمل زاویه ی ۱۱۰ می شود ، آن زاویه :

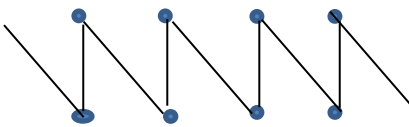
۷۰

۴۰

۳۰

۲۰

۷ - تعداد نیم خط ها در شکل مقابل عبارت است از :



۱۶

۸

۴

۲

$$\frac{۱}{۳۶۰}$$

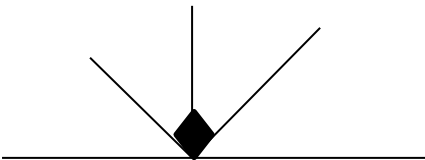
$$\frac{۱}{۱۸۰}$$

$$\frac{۱}{۴۵}$$

$$\frac{۱}{۹۰}$$

۸ - واحد اندازه گیری زاویه چه کسری از یک دایره ی کامل است ؟

۹ - در شکل مقابل چند زاویه ی متمم وجود دارد ؟



۲

۳

۴

۶

۵۴

۴۸

۴۴

۱۰ - تعداد قطرهای یک ۱۱ ضلعی چند تا است ؟

۱۱ - هر یک از زاویه های داخلی یک دوازده ضلعی منتظم چند درجه است ؟

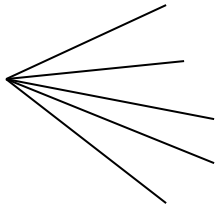
۱۲۰

۱۵۰

۱۶۰

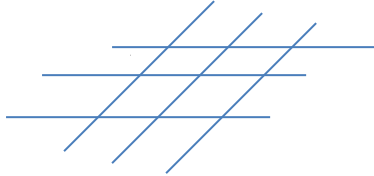
۱۸۰

۱۲ - در شکل مقابل چند زاویه ی تند وجود دارد ؟



۸ ۹ ۱۰ ۱۱

۱۳ - در شکل مقابل چند زاویه ی متقابل به رأس وجود دارد ؟



۳۲ ۳۶
۴۶ ۵۰

۱۴ - اختلاف دو زاویه ی متمم ۲۲ درجه است. نیمساز زاویه ی بزرگتر چند درجه است ؟

۴۴ ۳۸ ۲۸ ۲۲

۱۵ - گرد شده ی عدد $\frac{35}{961}$ با تقریب کم تر از $\frac{1}{10}$ کدام گزینه است ؟

$\frac{35}{96}$ $\frac{35}{96}$ ۳۵ ۳۶

۱۶ - اگر حاصل عبارت $\frac{1}{2} + \frac{1}{3} + 7 \frac{18}{30}$ را از راه تقریبی محاسبه می کنیم ، نزدیک ترین پاسخ کدام است ؟

۱۰ ۱۳ ۱۱ ۱۲

۱۷ - جرم یک گوسفند را پس از اندازه گیری با تقریب کم تر از ۱۰ گرد شده و ۷۰ کیلو گرم بیان کردند ، جرم این گوسفند کدام مورد زیر نمی تواند باشد ؟

۷۱ $\frac{69}{53}$ ۷۵ $\frac{65}{5}$

۱۸ - پاسخ تقریبی عبارت $\frac{1}{3} - \frac{1}{3} \times \frac{1}{3}$ کدام گزینه ی زیر است ؟

$\frac{1}{3}$ $\frac{1}{2}$ $\frac{1}{4}$ $\frac{1}{51}$

۱۹ - با چه تقریبی عدد $\frac{135}{5}$ را گرد کنیم تا حاصل ۱۴۰ شود ؟

با تقریب کم تر از $\frac{1}{10}$ با تقریب کم تر از ۱۰ با تقریب کم تر از ۱ با تقریب کم تر از ۱۰۰

۲۰ - قطع شده ی عدد $\frac{3}{5}$ با تقریب کم تر از $\frac{1}{10}$ کدام مورد زیر است ؟

$\frac{1}{11}$ $\frac{1}{6}$ $\frac{1}{5}$ $\frac{1}{7}$

قربون چشات فقط ۲ خط قبل از خواب
بخونی

هم کفایت می کنه ها.

سهیلی

۹۳/۱۰/۳۰