



آزمون فصل ششم ریاضی پایه دوم

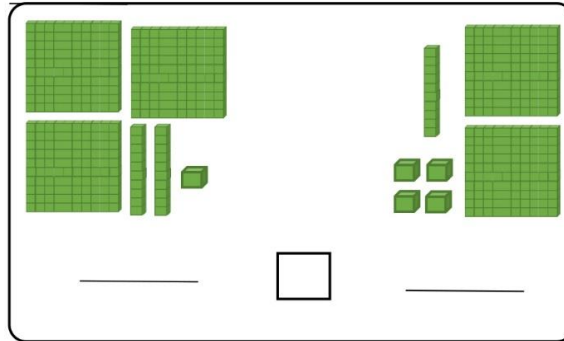
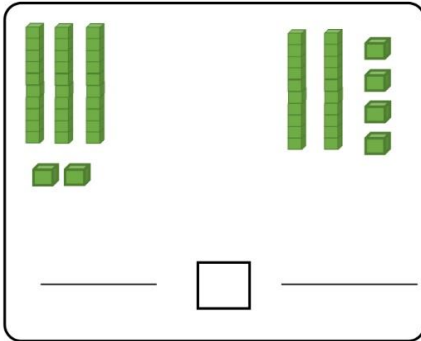
نام و نام خانوادگی:

دبستان:

آموزگار:

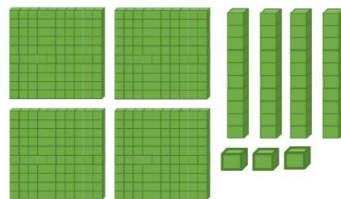
تاریخ:

دانش آموز دانا! ابتدا برای شکل ها عدد مناسب بنویس سپس آن ها را مقایسه کن.



با توجه به شکل جدول را کامل کن.

صدگان	دهگان	یکان



به حروف:.....

به عدد:.....



حاصل جمع و تفریق های زیر را بنویسید.

$800 + 100 =$

$500 - 300 =$

$600 + 100 =$

$400 - 200 =$

الگوها را کامل کن.

100 - 200 - 300 - - - - - -

900 - 800 - 700 - - - - - -

۳۵۴

۸۷۴

۱۴۷



سیصد و چهل و دو

پانصد و هشتاد و دو

نهصد و نود و دو

به حروف و عدد بنویس.

مریم می خواهد یک عروسک بخرد قیمت عروسک ۷۵۰ تومان است مریم ۳۵۰ تومان دارد، مریم چند تومان پول برای خرید

عروسک کم دارد؟



باز شده ی عددهای زیر را بنویس.

۹۸۷

۷۰۳

۳۲۹

۶۸۰



حاصل جمع و تفریق زیر را پیدا کنید.

$$\begin{array}{r} ۳۴۷ \\ + ۴۱۲ \\ \hline \end{array}$$

$$\begin{array}{r} ۹۷۳ \\ - ۸۶۳ \\ \hline \end{array}$$

برای جمع زیر یک مساله بنویس و جواب آن را پیدا کن.

$$\begin{array}{r} ۳۴۲ \\ + ۲۱۳ \\ \hline \end{array}$$

عدد های زیر را از کوچک به بزرگ مرتب کن و بنویس.

۷۷۰ - ۲۲۳ - ۴۴۰ - ۱۰۰ - ۸۰۰ - ۹۷۰

Tarahisoal2

بازخورد آموزگار: