

خودسنجی ۱۴۹ش

زهرا جوکار: مدرس، مشاور و برنامه ریز کنکور هنر

۱- والتر گروپیوس در کدام زمینه فعالیت داشته است؟

۱- نقاشی

۲- معماری

۳- موسیقی

۴- چاپ

۲- کدامیک از هنرمندان نامبرده طراح و پوسترساز می باشد؟

۱- جون پاپک

۲- یان ترپ

۳- میلتون گلیزر

۴- رابرت اسمیتسن

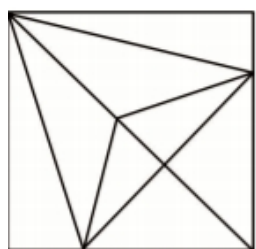
۳- کره ای از تمام رأس های یک مکعب مستطیل به ابعاد $\sqrt{5}$ و ۲ و ۶ و ۵ گذشته است. سطح این کره چند برابر π است؟

۱- ۶۴

۲- ۸۱

۳- ۱۴۴

۴- ۱۳۶



۴- در شکل مقابل چند مثلث متمایز قابل شمارش است؟

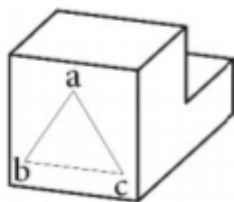
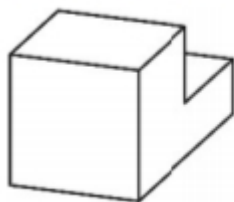
۱- ۱۷

۲- ۱۸

۳- ۱۹

۴- ۲۰

۵- با توجه به حجم مقابل اگر سوراخی با دهانه ی abc تا انتهای جسم (از چپ تا راست) ایجاد شود



جمعا چند پاره خط به حجم اضافه می شود؟

۱- ۱۵

۲- ۱۴

۳- ۱۳

۴- ۱۲



۶- فیلم مقابل از سینمای ایران بر اساس کدام یک از آثار زیر ساخته شده است؟

- ۱- چهار صد ضربه ۲- ولگردان ۳- بچه های بهشت ۴- دزد دوچرخه

۷- در هنگام اجرای تراژدی در یونان باستان، بازیگران اصلی در کجا قرار می گرفتند؟

- ۱- اسکنه ۲- ارکسترا ۳- پریاکتوا ۴- اودیتوریوم

۸- مد فریژین همانند کدام گزینه است؟

- ۱- گام ماژوری که درجه ی سوم آن نیم پرده ی کروماتیک بم تر شود .
 ۲- گام ماژوری که درجه ی ششم آن نیم پرده ی کروماتیک بم تر شود .
 ۳- گام مینور هارمونیک که درجه ی دوم آن نیم پرده ی کروماتیک بم تر شود .
 ۴- گام مینوری که درجه ی دوم آن نیم پرده ی کروماتیک بم تر شود .

۹- شابلن های مورد استفاده در هنر و معماری معمولاً از چه جنسی هستند؟

- ۱- پی، وی، سی ۲- پلی اتیلن ۳- پلکسی گلاس ۴- فایبر گلاس

۱۰- ابزار مورد استفاده در چاپ دستی که انواع چرمی، پارچه ای و فلزی دارد و با آن کلیشه را مرکبی می کنند، کدام است؟

- ۱- استنسیل ۲- اسکوئیچی ۳- تامپون ۴- پرس سیلندری

