


به نام خدای مهربان

آزمون ریاضی ششم

مدرسه

نام و نام خانوادگی

تاریخ : / /




۱- قیمت کدام جنس گران تر است ؟

.....

۲۲۵۰۰ تومان

۳۶۹۰۰ تومان

۲ - قیمت اجناس را به حروف بنویس .



۵۳۷۸۰ ریال

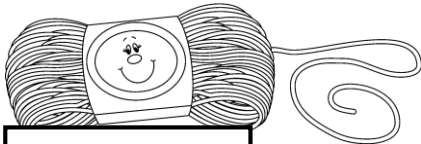
۸۰۷۵۰ ریال



..... به حروف

..... به حروف

۳- مساله حل کنید .



۸۲۵ تومان

زهرا ۹۵۰ تومان دارد ، او می خواهد این کاموا را بخرد .

چقدر باید از فروشنده پس بگیرد ؟

۴- ضرب های زیر را انجام دهید .

$۳۲ \times ۱ =$

$۷ \times ۰ =$

۶۳

$۸ \times ۱۰ =$

$۳۲ \times ۱۰ =$

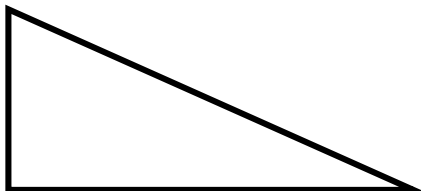
$\times ۳$

$۹۷ \times ۰ =$

$۵ \times ۵ =$

$\underline{\hspace{2cm}}$

۵- با استفاده از خط کش اضلاع شکل زیر را اندازه بگیرید و بنویسید .



۶- اعداد زیر را به لاتین بنویس .

۲۲

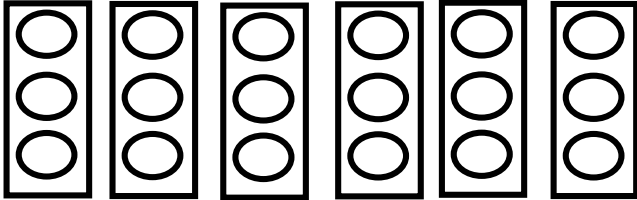
۱۰۰

۷۰

۴۹

۵۰

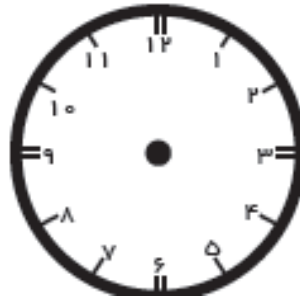
۷- برای شکل زیر یک تساوی ضرب و تقسیم بنویس .



۸- با توجه به زمان داده شده ، عقربه های ساعت را بکشید .



۳:۳۰




۵:۵۵

۹ - با مقدار پول داده شده کدام جنس را می توان خرید .



۵۰۰۰ ریال



۶۰۰۰ ریال

۱۰ - مساله حل کنید .

آرزو در سال ۷۸ بدنیا آمده است . آرزو چند سال دارد ؟