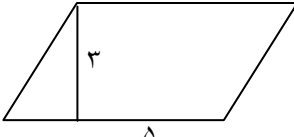
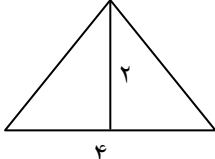

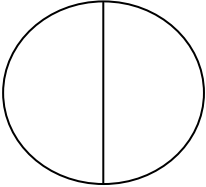


ردیف	پایگاه نمونه سوال امتحانی www.soall-emtehani.mihanblog.com	بارم
۱	در کدام شکل خط تقارن وجود ندارد؟ الف (مستطیل ب (دایره ج (متوازی الاضلاع د (مربع	۰.۵
۲	در جای خالی کلمه ی مناسب قرار دهید . (هر مورد ۰.۵ نمره دارد) در هر مستطیل قطر ها همدیگر را می کنند . زاویه ی راست از زاویه ی بزرگتر است . واحد اندازه گیری مایعات نام دارد . در هر متوازی الاضلاع ضلعهای روبرو با هم هستند .	۲
۳	با حروف بنویسید ۴۹۷۹۲۰۳۸۶	۰.۵
۴	تقسیم های زیر را انجام داده و درستی هر یک از آنها را بدست آورید . $\begin{array}{r} ۱۵۶ \\ ۳ \overline{) ۱۵۶} \end{array}$ $\begin{array}{r} ۵۳۱۲ \\ ۲۶ \overline{) ۵۳۱۲} \end{array}$	۲
۵	با استفاده از دو خط عمود برهم یک <u>لوزی</u> رسم کنید که طول یک قطر آن ۳ سانتی متر و طول قطر دیگر آن ۲ سانتی متر باشد .	۱/۵
۶	اندازه ی یک ضلع زمین والیبال ۱۲ متر و ضلع دیگر آن ۸ متر است . محیط این زمین والیبال چند متر است ؟	۱
۷	کسر زیر را ساده کنید . $\frac{۳۶}{۹۶} =$	۱
۸	در جای خالی عدد مناسب قرار دهید . $\frac{۳}{۶} = \frac{\square}{۱۸}$ $\frac{۳۶}{۱۸} = \frac{۴}{\square}$	۱
۹	جمع و تفریق کسرهای زیر را انجام دهید . $\frac{۹}{۱۴} - \frac{۲}{۷} =$ $\frac{۳}{۴} + \frac{۱}{۱۲} =$	۱/۵
۱۰	مساحت شکل های زیر را بدست آورید .   	۳

۱	در یک کارگاه لباس دوزی برای دوخت ۲۷ دست لباس ۶۷۵۰۰ تومان پول دریافت کرده است ، دستمزد یک لباس چقدر است ؟	۱۱
۱	دور اعدادی که بر ۲ بخش پذیر هستند خط بکشید . ۷ - ۱۰ - ۱۵ - ۱۸ - ۲۱ - ۲۴ - ۳۰	۱۲
۱	برای کسر شکل زیر ۲ کسر مساوی بنویسید . 	۱۳
۱	با رقم های (۹ - ۵ - ۴ - ۸ - ۲) کوچکترین و بزرگترین عدد پنج رقمی را بنویسید که بر ۲ بخش پذیر باشد . بزرگترین عدد پنج رقمی کوچکترین عدد پنج رقمی	۱۴
۱	دانش آموزان کلاس چهارم دبستان سمیه در نظر دارند ، نماز خانه ی مدرسه را به ترتیب روزهای هفته تمیز کنند نمودار ستونی آن را رسم نمایید . روز شنبه ۵ نفر روز یکشنبه ۴ نفر روز دوشنبه ۵ نفر روز سه شنبه ۶ نفر روز چهارشنبه ۳ نفر روز پنجشنبه ۷ نفر	۱۵
۱	تساوی زیر را انجام دهید . $(۱۵۲ - ۷۵) + ۳۸ =$	۱۶