


نیکلای یوری سوویچ واسیلیف

آندره آکساندروویچ بهگوروف

۱۰۲۴۹

مسأله‌های المپیادهای ریاضی در شوروی



ترجمه پرویز شهریاری

پیش‌گفتار

بسیار پیش آمده است که علاقه‌مندی به ریاضیات، ضمن برخورد با مسأله‌های جالب آغاز شده است. از این گونه مسأله‌ها، در کتاب‌های درسی، نشریه‌های ریاضی، کتاب‌های جنب درسی و کتاب‌های مربوط به معماها و سرگرمی‌های ریاضی هم وجود دارد. ولی، المپیادهای ریاضی (از المپیادهای مدرسه‌ای و ناحیه‌ای گرفته تا المپیادهای جهانی)، سرچشمه‌ای غنی از مسأله‌های پرکشش و جالب بوده است.

در این کتاب، مجموعه کامل مسأله‌های دور نهایی المپیادهای ریاضی سراسری روسیه و اتحاد شوروی سابق، از آغاز سال‌های ۶۰ آمده است. مسأله‌ها را از آغاز تا پایان با شماره ردیف آورده‌ایم. ولی در آغاز هر المپیاد، مسأله‌های مربوط به کلاس‌های مختلف را (کلاس‌های هشتم، نهم و دهم) مشخص کرده‌ایم.*
مسأله‌های المپیادهای ۱۹۶۱ تا ۱۹۷۹ را به‌طور کامل حل کرده‌ایم و برای مسأله‌های المپیادهای سال‌های بعد راهنمایی‌های کوتاهی داده‌ایم.

(*) در اتحاد شوروی سابق (و روسیه کنونی) دوره دبیرستان در سال دهم تحصیل تمام می‌شود و، بنابراین، کلاس‌های هشتم، نهم و دهم، به معنای سه سال آخر دبیرستان است.



نشر توسعه



انتشارات فرانس: خیابان دانشگاه - کوچه میترا - شماره ۷ تلفن: ۶۴۶۹۹۶۵

مسأله‌های المپیادهای ریاضی در شوروی

نیکلای بوری سوویچ و اسیلی یف - آندره الکساندروویچ یه‌گوروف

ترجمه پرویز شهریاری

چاپ سوم: ۱۳۷۵ - ۲۲۰۰ نسخه

چاپ و صحافی: چاپخانه رامین

همه حقوق محفوظ است.

شابک: ۹۶۲-۵۵۰۹-۲۳-۲

مسئله‌های نخستین المپیادهای سال‌های ۶۰ (که المپیادهای سراسری روسیه نامیده می‌شدند)، به‌طور نسبی ساده‌اند، با وجود این، در بین آن‌ها هم، به مسئله‌هایی برمی‌خوریم که جنبهٔ معنائی دارند و پیدا کردن کلید حل آن‌ها، چندان ساده نیست. دشوارترین مسئله‌ها را، با علامت ستاره مشخص کرده‌ایم.

مسئله‌ها، از نظر مضمون ریاضی خود، بسیار متنوع‌اند. تقریباً در بین مسئله‌های هر المپیاد، با مسئله‌هایی که از لحاظ تنظیم خود، عادی و سنتی هستند روبرو می‌شویم: مسئله‌های مربوط به دایره‌ها، مثلث‌ها، سه‌جمله‌ای‌های درجه دوم، معادله‌ها و نامعادله‌ها. البته، این‌ها تمرین‌های ساده‌ای نیستند که تنها برای آزمایش میزان آگاهی‌ها و کاربرد روش‌های عادی دبیرستانی طرح شده باشند، بلکه اغلب برای حل آن‌ها، باید قضیه یا قضیه‌هایی را ثابت کرد؛ همچنین، مسئله‌های مربوط به مکان‌های هندسی (جست و جوی مجموعه‌ها) و می‌نیم‌ها یا ماکزیم‌ها، نیاز به بررسی جدی دارند.

با این‌همه، اهمیت بیشتر را باید به مساله‌هایی داد که از صورت‌های عادی و سنتی دورند. در این موردها، برای پیدا کردن جواب و یا اثبات، تنها آگاهی‌های دبیرستانی کفایت نمی‌کند، بلکه در کنار آن‌ها، به اندیشه‌ای سالم و خلاق، به نیروی منطق و استدلال، نیاز است و باید بتوان شرط‌های نامتعارف را به زبان ریاضی مناسبی ترجمه کرد. راه حل این‌گونه مسئله‌ها، همیشه زنجیره‌ای از چند گام طبیعی را تشکیل نمی‌دهد. اغلب پیش می‌آید که، با وجود تجزیه و تحلیل دقیق شرط‌های مسئله، نمی‌توان به اندیشه‌ای رسید که، به‌طور مستقیم، ما را به سمت راه‌حل هدایت کند، اگرچه راه‌حل حاضر و آمادهٔ آن، از چند سطر تجاوز نمی‌کند (و این، یکی از نشانه‌هایی است که آن‌ها را، از مساله‌های عادی متمایز می‌کند). اغلب، مسیر راه‌حل، به‌صورتی نامنتظر، شهودی، همچون چراغی که ناگهان روشن شود، ظاهر می‌شود. این، همان لحظهٔ «کشف» و بروز «خلاقیت ریاضی» است که، برای دانش‌آموز، شادی فراوان به‌همراه دارد.

البته، با اندیشه‌ای که در آغاز نامنتظر است، ممکن است بعد از آن،

بارها و بارها روبرو شویم (مثلاً، بازیافت زیبایی که در مسالهٔ ۷ بدست می‌آید - چگونه مجموع عددهای جدول تغییر می‌کند - به صورت دیگری در مسالهٔ های ۱۵۱، ۱۹۶، ۲۷۱ و غیره مورد استفاده قرار می‌گیرد). و به تدریج، همین اندیشه‌ها و استدلال‌های ظریف - که در آغاز دست نیافتنی بودند - به‌صورت استدلال‌هایی عادی درمی‌آیند و به‌عنوان یک روش، کار حل مسئله‌ها را ساده می‌کنند.

تسلط بر روش‌های مشخص استدلال، نه تنها برای المپیادها، بلکه برای هر گونه پیشرفت جدی در ریاضیات، اهمیت دارد و، به همین مناسبت، در پایان کتاب، «راهنمای روش‌ها» را آورده‌ایم. در این بخش، به صورتی گذرا، از مفهوم‌ها، قضیه‌ها و روش‌هایی صحبت شده است که، به طور سنتی، برای هر شرکت‌کننده در المپیادها، دانسته فرض می‌شود. مثلاً در بند ۱ از روش استقرای ریاضی، در بند ۲ از بخش پذیری عددهای درست، در بند ۵ از چندجمله‌ای‌ها، در بند ۸ از نابرابری بین واسطهٔ حسابی و واسطهٔ هندسی گت و گو شده است. هر جا، در متن کتاب، به واژه‌های «بند ۱»، «بند ۲»، ... برخورد می‌کنید، به معنای آن است که به این بند از «راهنمای روش‌ها» تکیه شده است. روشن است که این «راهنما»، تنها می‌تواند در حل برخی از مسئله‌ها، آن هم اغلب به‌طور غیرمستقیم، کمک کند؛ در بسیاری از مسئله‌ها، مجموعه‌ای از این «راهنماها» به کار می‌آیند و، در واقع، برای حل هر مساله، وجود «راهنمای» جداگانه‌ای ضرورت دارد.

هدف برگزاری هر المپیاد، این است که مسئله‌ها و پرسش‌هایی را در برابر دانش‌آموزان قرار دهند، که هم از نظر مضمون و هم از نظر روش‌های حل، تازگی داشته باشند. ریاضی دانانی که این مساله‌ها را طرح می‌کنند، اغلب بر کتاب‌های کمتر شناخته شده و یا مقاله‌های علمی تازه تکیه می‌کنند. (بسیاری از پیش‌قضیه‌های علمی، بر اندیشه‌ای مبدعانه تکیه دارند و از همین‌گونه اندیشه‌های مبدعانه است که مسئله‌های المپیادها زاده می‌شوند. مثلاً، مساله‌های ۱۸۱، ۲۱۹، ۲۴۸، ۲۶۷ و ...، به همین ترتیب پدید آمده‌اند؛ و مسالهٔ ۱۴۸، که برای المپیادها در نظر گرفته شده است،

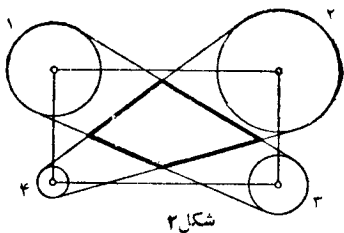
مسأله‌ها

نخستین المپیاد سراسری روسیه
سال ۱۹۶۱ (مسکو)

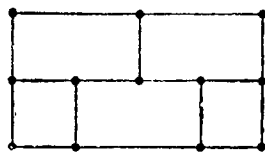
				کلاس	
۵a	۴	۳	۲	۱	:۸
۱۰	۹	۸	۷	۶a	:۹
۵b	۶b	۷	۱۲	۱۱	:۱۰

۱. شگلی شامل ۱۶ پاره خط راست داده شده است (شکل ۱). ثابت کنید، نمی‌توان خط شکسته‌ای رسم کرد که هر کدام از این پاره خط‌های راست را، درست یکبار قطع کند (خط شکسته می‌تواند باز باشد و خودش را قطع کند، ولی رأس‌های آن نباید بر پاره خط‌های راست واقع باشند، همچنین، ضلع‌های آن از رأس‌های شکل نباید عبور کنند).

۲. چهار دایره ۱، ۲، ۳، ۴ را، به ترتیب، به مرکز رأس‌های مستطیل



شکل ۲



شکل ۱

و به شعاع r_1, r_2, r_3, r_4 رسم کرده ایم؛ در ضمن $r_1 + r_2 = r_3 + r_4 < d$ (د، طول قطر مستطیل است؛ شکل ۲). مماس های مشترک بیرونی را برای دودایره ۱ و ۳ و برای دودایره ۲ و ۴ رسم کرده ایم. ثابت کنید، در چهارضلعی که از برخورد این مماس ها به دست می آید، می توان دایره ای محاط کرد. \checkmark ۳. ثابت کنید، بین هر ۳۹ عدد طبیعی متوالی، می توان عددی را پیدا کرد که، مجموع رقم های آن، بر ۱۱ بخش پذیر باشد.

۴. جدولی 4×4 خانه ای داده شده است. ثابت کنید، می توان هفت ستاره در خانه های جدول طوری قرار داد که، اگر دو سطر دلخواه و دو ستون دلخواه از جدول را حذف کنیم، در خانه های باقی مانده جدول، همیشه دست کم یک ستاره وجود داشته باشد. ثابت کنید، اگر تعداد ستاره ها از هفت کمتر باشد، همیشه می توان دو سطر و دو ستون جدول را طوری حذف کرد که همه خانه های باقی مانده، خالی باشند.

۵. (a) چهار عدد مثبت (a, b, c, d) مفروض است. از آن ها، چهار عدد جدید (ab, bc, cd, da) را طبق قاعده زیر می سازیم: هر عدد، در عدد بعدی خود، و عدد چهارم در عدد اول ضرب می شود. از گروه چهار عددی جدید، بنا بر همین قاعده، گروه چهار عددی سوم می سازیم و غیره. ثابت کنید، در دنباله این گروه های چهار عددی، هرگز دوباره به (a, b, c, d) نمی رسیم، مگر وقتی که داشته باشیم: $a = b = c = d = 1$.

(b) انتخاب دلخواهی از اعداد ۱ و -1 را، به طول 2^k ، در نظر می گیریم. از این گروه عددها، گروه تازه ای با قاعده زیر می سازیم: هر عدد را در عدد بعدی خود، و آخرین عدد، یعنی عدد 2^k را در عدد اول ضرب می کنیم. از این گروه جدید و طبق همان قاعده، گروه سوم از اعداد ۱ و -1 را به دست می آوریم و غیره. ثابت کنید، سر آخر به گروهی از عددها می رسیم که تنها شامل واحدها هستند.

۶. (a) نقطه های A و B به طور یکنواخت و با سرعت زاویه ای برابر، به ترتیب، روی محیط دایره های به مرکزهای O_1 و O_2 (در جهت حرکت عقربه های ساعت) حرکت می کنند. ثابت کنید، رأس C از مثلث متساوی الاضلاع

ABC هم، به طور یکنواخت، روی محیط دایره ای حرکت می کند. (b) فاصله نقطه ثابت P واقع در صفحه مثلث ABC ، تا دور اس A و B از این مثلث برابر است با $AP = 2$ و $BP = 3$. حداکثر مقدار فاصله P چقدر است؟

۷. \checkmark در خانه های جدول $m \times n$ ، عددهایی نوشته ایم. تصمیم می گیریم، علامت های همه عددهای یک ستون یا همه عددهای یک سطر را عوض کنیم. ثابت کنید، با چندبار تکرار این عمل، می توان جدول را به صورتی در آورد که، در آن، مجموع عددهای واقع در هر ستون و مجموع عددهای واقع در هر سطر، غیر منفی باشد.

۸. \checkmark نقطه a ، به کمک پاره خط های راست غیر متقاطع، طوری به هم وصل کرده ایم که، از هر نقطه بتوان، از طریق این پاره خط ها، به بقیه نقطه ها عبور کرد؛ در ضمن دو نقطه ای پیدا نشود که با دو مسیر به هم وصل شده باشند. ثابت کنید، تعداد کل پاره خط های راست، برابر است با $n - 1$.

۹. \checkmark سه عدد درست دلخواه اند. ثابت کنید، می توان دو عدد k و l پیدا کرد که نسبت به هم اول باشند و $ak + bl$ بر p بخش پذیر باشد. \checkmark ۱۰. کولیا و پته تیا $1 + 2n$ گردو را بین خود تقسیم می کنند ($n \geq 2$)؛ در ضمن، هر کسی می خواهد بیشترین مقدار ممکن گردو را به دست آورد. فرض می کنیم، سه روش تقسیم (و هر روش در سه مرحله) وجود داشته باشد. مرحله اول، پته تیا همه گردوها را به دو بخش تقسیم می کند، به نحوی که، در هر بخش، دست کم دو گردو باشد.

مرحله دوم، کولیا هر بخش را دوباره به دو بخش تازه تقسیم می کند، به نحوی که در هر بخش، دست کم یک گردو باشد.

(مرحله های اول و دوم، برای هر سه روش مشترک اند.) مرحله سوم، در روش اول، کولیا بزرگترین و کوچکترین بخش را برمی دارد؛ در روش دوم، کولیا دو بخش وسط را برمی دارد؛ در روش سوم، کولیا یا دو بخش بزرگتر و کوچکتر و یا دو بخش متوسط را برمی دارد، ولی بنا بر قرار قبلی، از آن چه انتخاب کرده است، یک گردو به پته تیا برمی گرداند.

کدام روش تقسیم، برای کولیا مناسب تر و کدام روش نامناسب تر است؟
 ۱۱. ثابت کنید، برای هر سه دنباله نامتناهی عددهای طبیعی

$$a_1, a_2, \dots, a_n, \dots$$

$$b_1, b_2, \dots, b_n, \dots$$

$$c_1, c_2, \dots, c_n, \dots$$

می توان شماره های p و q را طوری پیدا کرد که، برای آنها، داشته باشیم:

$$a_p \geq a_q, b_p \geq b_q, c_p \geq c_q$$

۱۲. در مستطیلی با ضلع های ۲۵ و ۲۰، به تعداد ۱۲ مربع به ضلع واحد انداخته ایم. ثابت کنید، می توان در مستطیل دایره ای به قطر واحد قرارداد، به نحوی که حتی یکی از مربع ها را قطع نکند.

المپیاد دوم سراسری روسیه سال ۱۹۶۲ (مسکو)

کلاس

۱۷	۱۶	۱۵	۱۴	۱۳	۸
۱۷	۲۱	۲۰	۱۹	۱۸	۹
۲۶	۲۵	۲۴	۲۳	۲۲	۱۰

۱۳. روی امتداد ضلع های AB ، BC ، CD و DA از چهار ضلعی محذب $ABCD$ ، نقطه های A' ، B' ، C' و D' را طوری انتخاب کرده ایم، که داشته باشیم: $\vec{AA'} = \vec{DA}$ و $\vec{DD'} = \vec{CD}$ ، $\vec{CC'} = \vec{BC}$ ، $\vec{BB'} = \vec{AB}$. ثابت کنید، مساحت چهار ضلعی $A'B'C'D'$ ، پنج برابر مساحت چهار ضلعی $ABCD$ است.

۱۴. دایره S و خط راست l در یک صفحه داده شده است و می دانیم، خط راست l ، از نقطه O مرکز دایره S گذشته است. دایره S' را رسم می کنیم که از نقطه O بگذرد و مرکز آن، روی خط راست l باشد. نقطه M تماس مماس مشترک دو دایره S و S' را با دایره S' ، می نامیم. مطلوب

است مکان هندسی نقطه M .

۱۵. عددهای درست و مثبت $a_0, a_1, a_2, \dots, a_{99}, a_{100}$ داده شده اند. می دانیم $a_1 > a_0$ ، $a_2 > 2a_1 - a_0$ ، $a_3 > 3a_2 - 2a_1 - a_0$ ، \dots ، $a_{99} > 99a_{98} - 2a_{97} - \dots - a_0$. ثابت کنید، $a_{100} > 2^{99}$.

۱۶. ثابت کنید، عددهای درست a, b, c, d وجود ندارند، به نحوی که به ازای آنها، عبارت $ax^3 + bx^2 + cx + d$ به ازای $x = 19$ برابر واحد و به ازای $x = 62$ برابر ۲ شود.

۱۷. در هر یک از خانه های جدول مربعی $n \times n$ ، که در آن n عددی فرد است، یکی از عددهای ۱ یا -۱ را بدلیخواه نوشته ایم. زیر هر ستون، حاصل ضرب همه عددهای این ستون، و در سمت راست هر سطر، حاصل ضرب همه عددهای این سطر نوشته شده است. ثابت کنید، مجموع همه این $2n$ حاصل ضرب، نمی تواند برابر صفر باشد.

۱۸. دو ضلع از مثلثی داده شده اند و می دانیم میاندهای وارد بر این دو ضلع در مثلث، برهم عمودند. مثلث را رسم کنید.

۱۹. a, b, c, d ، عددهایی مثبت اند که حاصل ضرب آنها، برابر واحد است. ثابت کنید:

$$a^2 + b^2 + c^2 + d^2 + ab + ac + ad + bc + bd + cd \geq 10$$

۲۰. پنج ضلعی منظمی داده شده است. M ، نقطه دلخواهی واقع در درون یا روی محیط این پنج ضلعی است. فاصله های نقطه M را از ضلع های پنج ضلعی (و یا امتداد آنها)، به ترتیب مقادیرهای صعودی آنها شماره گذاری می کنیم:

$$r_1 \leq r_2 \leq r_3 \leq r_4 \leq r_5$$

همه موضع های نقطه M را پیدا کنید که، به ازای آنها، r_3 کمترین مقدار ممکن را قبول کند؛ همچنین، همه موضع های M را پیدا کنید که، برای آنها، r_3 بیشترین مقدار ممکن باشد.

(* این مساله در کلاس هشتم، برای $n = 25$ داده شده است.

المپیاد سوم سراسری روسیه
سال ۱۹۶۳ (مسکو).

کلاس

۲۱a	۲۰	۲۹a	۲۸	۲۷	:۸
۲۸	۳۱b	۳۴	۳۳	۳۲	:۹
۲۸	۲۹b	۳۷	۳۶	۳۵	:۱۰
۲۹b	۴۰	۳۹	۳۸	۳۸	:۱۱

۲۷. از پنج دایره مفروض، هر چهار دایره، از يك نقطه می گذرند.

ثابت کنید، نقطه‌ای وجود دارد که هر پنج دایره از آن می گذرند.

۲۸. ۸ نفر در يك مسابقه شطرنج شرکت کردند و همه آن‌ها، امتیازهایی مختلف به دست آوردند. شطرنج بازی که مقام دوم را کسب کرده است، به اندازه مجموع امتیازهای چهار مقام آخر، امتیاز آورده است. دو نفری که در مقام‌های سوم و هفتم قرار دارند، چگونه بازی را تمام کرده‌اند، نفر سوم برده است یا نفر هفتم؟

۲۹. (a) هر قطر چهارضلعی محدب $ABCD$ ، مساحت آن را نصف می‌کند. ثابت کنید، $ABCD$ يك متوازی‌الاضلاع است.

(b) در شش ضلعی محدب $ABCDEF$ می‌دانیم، هر يك از قطرهای AD ، BE و CF ، مساحت آن را نصف می‌کند. ثابت کنید، این قطرها، در يك نقطه به هم می‌رسند.

۳۰. عددهای طبیعی a و b نسبت به هم اول‌اند. ثابت کنید، بزرگترین مقسوم‌علیه مشترك دو عدد $a+b$ و a^2+b^2 ، برابر است با ۱ یا ۲.

۳۱. دو نقطه A و B روی محیط دایره ثابت‌اند و نقطه M تمامی محیط دایره را می‌پیماید. از نقطه K وسط پاره‌خط راست MB ، عمود KP را بر خط راست MA رسم کرده‌ایم.

(a) ثابت کنید، همه خط‌های راست KP از يك نقطه می گذرند.

(b) مجموعه نقطه‌های P (مکان هندسی نقطه P) را پیدا کنید.

۳۲. مثلث متساوی‌الاضلاعی به ضلع واحد مفروض است. حداقل

۲۱. عددی با ۱۹۶۲ رقم در نظر گرفته‌ایم که بر ۹ بخش پذیر است. مجموع همه رقم‌های این عدد را با a ، مجموع رقم‌های عدد a را با b و مجموع رقم‌های عدد b را با c نشان می‌دهیم. عدد c را پیدا کنید.

۲۲. از نقطه M وسط قاعده AC در مثلث متساوی الساقین ABC ، عمود MH را بر ضلع BC فرود آورده‌ایم. P را وسط پاره خط راست MH می‌گیریم. ثابت کنید $BP \perp AH$.

۲۳. حداکثر مساحت مثلثی را پیدا کنید که برای ضلع‌های آن، a و b و c داشته باشیم:

$$0 \leq a \leq 1 \leq b \leq 2 \leq c \leq 3$$

۲۴. x و y و z ، سه عدد درست دلخواه و دو متمایز از یکدیگرند. ثابت کنید:

$$5(y-z)(z-x)(x-y) \text{ بر } (x-y)^5 + (y-z)^5 + (z-x)^5$$

بخش پذیر است.

۲۵. درباره عددهای $a_0, a_1, a_2, \dots, a_n$ می‌دانیم

$$a_0 = a_n = 0 \text{ و } a_{k-1} - 2a_k + a_{k+1} \geq 0$$

(برای $k = 1, 2, \dots, n-1$). ثابت کنید همه a_k ‌ها، غیرمنفی‌اند.

۲۶. عددهای مثبت $a_1, a_2, \dots, a_n, b_1, b_2, \dots, b_m$ مفروض‌اند و می‌دانیم:

$$a_1 + a_2 + \dots + a_m = b_1 + b_2 + \dots + b_n$$

ثابت کنید، در جدول شامل m سطر و n ستون، می‌توان حداقل $m+n-1$ عدد مثبت طوری قرار داد که، در آن، مجموع عددهای سطر i ام برابر a_i و مجموع عددهای ستون k ام برابر b_k باشد.

مقدار d را پیدا کنید که، به ازای آن، پاره خط راست به طول d ، در حالی که دو انتهای آن، روی ضلع‌های مثلث است، بتواند تمامی سطح مثلث را چارو کند.

۳۳. صفحه شطرنجی 6×6 را، با مهره به اندازه 2×1 دومینو پوشانده‌ایم (هر مهره، دوخانه را اشغال کرده است). ثابت کنید، مهره‌ها را به هر ترتیبی چیده باشیم، می‌توان صفحه شطرنجی را، بایک خط راست افقی یا یک خط راست قائم به دو بخش تقسیم کرد، به نحوی که به هیچ کدام از مهره‌ها لطمه‌ای وارد نیاید.

۳۴. عدد مثبت و مختلف a_1, a_2, \dots, a_n داده شده است. از این عددها، همه مجموع‌های ممکن را، با هر تعداد جمله، ساخته‌ایم (تعداد جمله‌های هر مجموع، از ۱ تا n است). ثابت کنید، در بین این مجموع‌ها، دست کم $\frac{1}{2}n(n+1)$ عدد پیدا می‌شود که دو به دو با هم فرق دارند.

۳۵. در مثلث ABC ، دو نیمساز را رسم کرده‌ایم که از رأس‌های A و B گذشته‌اند؛ سپس از رأس C ، خط‌های راستی موازی با این دو نیمساز کشیده‌ایم. محل برخورد این خط‌های راست با نیمسازها را، به ترتیب، D و E می‌نامیم. معلوم شد دو خط راست DE و AB با هم موازی‌اند. ثابت کنید، مثلث ABC متساوی‌الساقین است.

۳۶. تصاعد حسابی نامتناهی، با جمله‌های مثبت مفروض است. ثابت کنید، اگر یکی از جمله‌های تصاعد مجذور کامل باشد، آن وقت، در تصاعد، بی‌نهایت جمله مجذور کامل پیدا می‌شود.

۳۷. ضلعی منتظم مفروض است. آیا می‌توان رأس‌های آن را، با عددهای از ۰ تا ۹ طوری شماره‌گذاری کرد که، برای هر دو عدد مختلف، ضلعی وجود داشته باشد که دو انتهای آن با این عددها شماره‌گذاری شده باشد؟

۳۸. عددهای حقیقی a, b, p, q را طوری پیدا کنید که برابری

$$(x^2 + px + q)^{1990} - (ax + b)^{1990} = (x^2 - 1)^{1990}$$

را، هر مقدار x برقرار باشد.

۳۹. در دو انتهای قطری از دایره، عددهای ۱ را قرار داده‌ایم. هر یک از n دایره‌های حاصل را نصف کرده‌ایم و در نقطه وسط کمان هر نیمه-دایره، مجموع دو عددی را قرار داده‌ایم که در دو انتهای آن وجود دارند (۱ام اول). سپس، هر یک از چهار کمان حاصل را نصف کرده و در نقطه وسط آن‌ها، مجموع دو عددی را که در دو انتهای آن است، قرار داده‌ایم (کام دوم). این عمل را n بار ادامه داده‌ایم. مجموع همه عددهایی را پیدا کنید که روی محیط دایره نوشته‌ایم.

۴۰. مثلثی متساوی‌الساقین مفروض است. مکان هندسی نقطه‌هایی از درون مثلث را پیدا کنید که فاصله هر کدام از آن‌ها تا قاعده، برابر با واسطه هندسی فاصله آن تا دو ساق باشد.

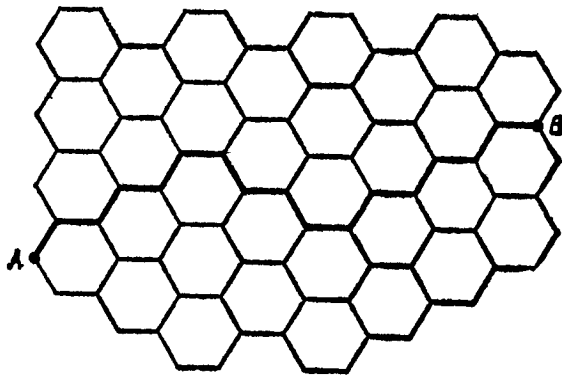
المپیاد چهارم سراسری روسیه سال ۱۹۶۴ (مسکو)

کلاس	
۴۵۸	۴۴ ۴۳ ۴۲ ۴۱ :۸
۴۹	۴۸ ۴۷ ۴۶ ۴۱ :۹
۵۳	۵۲ ۵۱ ۵۰ ۵۱ ۵۰ :۱۰
۴۴	۵۳ ۵۲ ۵۱ ۵۰ :۱۱

۴۱. در مثلثی، طول هر یک از دو ارتفاع آن، از طول ضلعی که بر آن رسم شده است، کوچکتر نیست. زاویه‌های مثلث را پیدا کنید.

۴۲. ثابت کنید، عدد $m(m+1)$ نمی‌تواند، به ازای مقداری طبیعی m ، برابر با توانی از یک عدد درست باشد.

۴۳. در هر یک از عددهای ۱ تا 10000000000 ، مجموع رقم‌ها را محاسبه کرده‌ایم. در هر یک از میلیارد عددی که به دست می‌آید، دوباره مجموع رقم‌ها را به دست آورده‌ایم و غیره، تا وقتی که همه عددها، یک رقمی بشوند. کدام عدد بیشتر به دست می‌آید: ۱ یا ۲؟



شکل ۳

صفحه رسم کرده‌ایم (شکل ۳). حشره‌ای روی ضلع‌های شبکه، از نقطه A به طرف نقطه B ، روی کوتاه‌ترین مسیر ممکن، راهی به اندازه ۱۰۵ را می‌پیماید. ثابت کنید، نیمی از تمامی مسیر را، در يك جهت طی می‌کند.

۵۰. چهار ضلعی $ABCD$ را بر دایره به مرکز O محیط کرده‌ایم. ثابت کنید، مجموع دو زاویه AOB و COD برابر 180 درجه است.

۵۱. a, b, n ، سه عدد طبیعی ثابت‌اند. می‌دانیم، به ازای هر عدد طبیعی k ($k \neq b$)، عدد $a - k^n$ بر عدد $b - k$ بخش‌پذیر است. ثابت کنید، در این صورت $a = b^n$.

۵۲. در عبارت x_1, x_2, \dots, x_n ، برای نشان دادن ردیف عمل‌ها، پرانتزهایی گذاشته و نتیجه را به این صورت نوشته‌ایم:

$$\frac{x_{i_1} x_{i_2} \dots x_{i_k}}{x_{j_1} x_{j_2} \dots x_{j_{n-k}}}$$

(در ضمن، هر يك از حرف‌های x_1, x_2, \dots, x_n ، یا در صورت کسر قرار دارد و یا در مخرج آن). اگر همه روش‌های ممکن پرانتز گذاری را در نظر بگیریم، به چند کسر از این گونه می‌رسیم؟

۵۳. مکعبی را به چهار وجهی‌هایی تقسیم کرده‌ایم که یکدیگر را نمی‌پوشانند. کمترین تعداد این چهار وجهی‌ها چقدر است؟

۵۴. بزرگترین عدد مجذور کاملی را پیدا کنید که، بعد از حذف دو

۴۴. n عدد درست دلخواه a_1, a_2, \dots, a_n داده شده‌است. از این گروه عددها، گروه جدیدی درست می‌کنیم:

$$\frac{a_1 + a_2}{2}, \frac{a_2 + a_3}{2}, \dots, \frac{a_{n-1} + a_n}{2}, \frac{a_n + a_1}{2}$$

و از این گروه جدید، گروه بعدی را با همان قاعده به دست می‌آوریم و غیره. ثابت کنید، اگر همه عددهای حاصل درست باشند، آن وقت، همه عددهای اولیه، برابرند.

۴۵. (a) در شش ضلعی محدب $ABCDEF$ ، همه زاویه‌ها برابرند. ثابت کنید:

$$AB - DE = EF - BC = CD - FA$$

(b) ثابت کنید، عکس این حکم هم درست است: اگر برای شش پاره خط راست به طول‌های $a_1, a_2, a_3, a_4, a_5, a_6$ داشته باشیم:

$$a_1 - a_4 = a_5 - a_2 = a_3 - a_6$$

آن وقت می‌توان، با این پاره خط‌های راست، يك شش ضلعی محدب با زاویه‌های برابر ساخت.

۴۶. این معادله را، در مجموعه عددهای درست، حل کنید:

$$\sqrt{x + \sqrt{x + \sqrt{x + \dots + \sqrt{x}}}} = y$$

۱۹۶۴ رادیکال

۴۷. از رأس‌های چهار ضلعی محدب $ABCD$ ، عمودهایی بر قطرهای آن رسم کرده‌ایم. ثابت کنید، چهار ضلعی که رأس‌های آن، بر پای این عمودها منطبق باشد، با چهار ضلعی اصلی متشابه است.

۴۸. همه عددهای طبیعی و فرد n را پیدا کنید که، برای آن‌ها، عدد $(n-1)$ بر n بخش‌پذیر نباشد.

۴۹. به کمک شش ضلعی‌های منتظم به ضلع واحد، شبکه‌ای را روی

رقم آخر آن (دو رقم راست)، دوباره يك مجذور كامل به دست آيد (فرض بر اين است كه، يكي از رقم‌هاي حذف شده، برابر صفر نيست).

۵۵. $ABCD$ ، يك دوزنقه محيطي است؛ E را نقطه برخورد قطرهای AC و BD ، و r_1, r_2, r_3, r_4 را، به ترتيب، شعاع دایره‌های محاط در مثلث‌های ABE, BCE, CDE, DAE می‌گیریم. ثابت کنید:

$$\frac{1}{r_1} + \frac{1}{r_3} = \frac{1}{r_2} + \frac{1}{r_4}$$

المپیاد پنجم سراسری روسیه سال ۱۹۶۵ (مسکو)

کلاس

۶۰	۵۹	۵۸	۵۷	۵۶a	:۸
۶۵	۶۴	۶۳	۶۲	۶۱	:۹
۶۹	۶۸a	۶۷a	۶۶	۵۶b	:۱۰
۷۱	۶۸b	۷۰	۶۷b	۶۳	:۱۱

۵۶. a هر يك از عددهای x_1, x_2, \dots, x_n می‌تواند بدون ارتباط با بقیه، مقدار ۱، ۰ یا -۱ را قبول کند. حداقل مجموع حاصل ضرب‌های دو به دو این n عدد، چقدر می‌تواند باشد؟

b حداقل مقدار مجموع همه حاصل ضرب‌های دو به دو این n عدد x_1, x_2, \dots, x_n چقدر است، به شرطی که قدر مطلق هیچ کدام از این عددها، از واحد تجاوز نکند؟


۵۷. صفحه‌ای مربعی با 3×3 خانه و ۹ کارت، که اندازه‌های يکي از آن‌ها برابر با اندازه‌های يك خانه است، در اختيار داریم. روی هر کارت عددی نوشته شده است. دو نفر که با هم بازی می‌کنند، به نوبت این کارت‌ها را روی خانه‌ها می‌گذارند. بعد از آن که همه کارت‌ها در خانه‌ها قرار گرفتند، اولی (آغاز کننده بازی) مجموع شش عددی را به دست می‌آورد که در دو سطر بالایی و پایینی قرار دارند و، دومی، مجموع شش عددی

را که در ستون‌های سمت چپ و سمت راسته واقع است، محاسبه می‌کند. کسی بازی را برده است که صاحب مجموع بیشتری باشد. ثابت کنید، اگر بازی درست انجام شود، دومی نمی‌تواند از اولی ببرد، بدون ارتباط با عددهایی که روی کارت‌ها نوشته شده است.

۵۸. دایره‌ای را بر مثلث ABC محیط کرده‌ایم. وترهایی که وسط کمان AC را به وسط کمان‌های AB و BC وصل کرده‌اند، ضلع‌های AB و BC را در نقطه‌های D و E قطع می‌کنند. ثابت کنید، پاره خط راست DE ، با ضلع AC موازی است و از مرکز دایره محاطی مثلث ABC می‌گذرد.

۵۹. شمارهٔ بلیت اتوبوس عددی شش رقمی است. بلیتی را «بلیت خوشبختی» می‌نامیم که مجموع سه رقم آن، با مجموع سه رقم آخر بلیت برابر باشد. ثابت کنید، مجموع همه شماره‌های بلیت‌های خوشبختی، بر عدد ۱۳ بخش پذیر است.

۶۰. روی دریاچه کوچکی، يك نورافکن قرار داده‌اند که، پرتو آن، پاره خط راستی از سطح آب دریا به طول a را روشن می‌کند (شکل ۴). نورافکن، به طور یکنواخت، دور محور قائم، طوری دوران می‌کند که، انتهای پرتو آن، با سرعت v جا به جا می‌شود. ثابت کنید، ناوچه‌ای که سرعت حداکثر آن برابر $\frac{v}{8}$ است، نمی‌تواند به دریاچه نزدیک شود، بدون آن که



شکل ۴

در معرض پرتو نورافکن قرار گیرد.

۶۱. در يك گروه ملي، ۱۰۰ نفر عضویت دارند و هر شب، سه نفر نگهبانی می دهند. ثابت کنید، نمی توان برنامه نگهبانی ها را طوری تنظیم کرد که، هر دو نفر، تنها يك بار باهم نگهبانی بدهند.

۶۲. پاره خط راستی، محدود به دو ضلع جانبی مثلث و مماس با دایره محاطی مثلث، با قاعده مثلث موازی شده است. اگر محیط مثلث برابر $2p$ باشد، حداکثر طول این پاره خط راست چقدر است؟

۶۳. n^2 عدد x_{ij} ($i, j = 1, 2, \dots, n$) در دستگاهی شامل n^3 معادله صدق می کنند:

$$x_{ij} + x_{jk} + x_{ki} = 0 \quad (i, j, k = 1, 2, \dots, n)$$

ثابت کنید، عددهای a_1, a_2, \dots, a_n وجود دارند، به نحوی که برابری $x_{ij} = a_i - a_j$ ، برای هر i و j ، برقرار باشد.

۶۴. آیا می توان ۱۹۶۵ نقطه را، در مربع به ضلع واحد، طوری قرار داد که هر مستطیل به مساحت $\frac{1}{400}$ و با ضلع هایی موازی ضلع های

مربع، دست کم یکی از این نقطه ها را در درون خود داشته باشد؟

۶۵. گرد کردن يك عدد را، به این معنا می گیریم که، آن را، با یکی از دو عدد درست نزدیک به آن، عوض کنیم.

n عددها داده شده است. ثابت کنید، می توان این n عدد را طوری گرد کرد که، مجموع هر m عدد گرد شده ($1 \leq m \leq n$)، از مجموع خود m عدد (یعنی درحالی که گرد نشده اند)، بیش از $\frac{1}{4}(n+1)$ اختلاف نداشته باشد.

۶۶. جهان گردی که با قطار به مسکو آمده بود، تمام روز را در شهر قدم زد. در رستورانی واقع در يك میدان شام خورد و تصمیم گرفت به ایستگاه برگردد و، در ضمن، تنها از خیابان هایی عبور کند که، تا آن ساعت، به تعداد فرد از آن ها گذشته است. ثابت کنید، جهان گرد در هر حال می تواند، به این ترتیب، خود را به ایستگاه برساند.

۶۷. 8 يك کمیسیون ۴۰ بار تشکیل شده است. در هر نشست ۱۰ عضو کمیسیون شرکت کرده اند، در ضمن هیچ دو عضوی از کمیسیون با هم، بیش از یکبار، در نشست ها نبوده اند. ثابت کنید، تعداد عضوهای کمیسیون از ۶۰ بیشتر است.

(b) ثابت کنید، با ۲۵ نفر نمی توان بیش از ۳۰ کمیسیون ۵ عضوی تشکیل داد، به شرطی که هیچ دو کمیسیونی، بیش از يك عضو مشترك نداشته باشند.

۶۸. دو عدد مثبت p و q ، نسبت به هم اول اند. عدد درست n را «خوب» می نامیم، وقتی که بتوان آن را به صورت $n = px + qy$ نشان داد که، در آن، x و y عددهای درست غیر منفی اند؛ و در حالت عکس، آن را «بد» می نامیم.


(a) ثابت کنید، عدد درست c وجود دارد، به نحوی که از دو عدد درست n و $n - c$ ، همیشه یکی عدد «خوب» و دیگری عدد «بد» است.

(b) روی هم، چند عدد «بد» غیرمنفی وجود دارد؟

۶۹. هواپیمای اکتشافی روی دایره ای به مرکز نقطه A و به شعاع ۱۰ کیلومتر، با سرعت ساعتی ۱۰۰۰ کیلومتر پرواز می کند. در لحظه ای، از نقطه A موشکی پرتاب می شود که دارای همان سرعت هواپیما است و مسیر حرکت آن، همیشه، روی خط راستی قرار دارد که نقطه A را به هواپیما وصل می کند. موشک، چه مدتی بعد از پرتاب، به هواپیما می رسد؟

۷۰. ثابت کنید، مجموع طول یال های هر چندوجهی از $3d$ بیشتر است که، در آن، d عبارت است از فاصله بین دورترین دو راس چندوجهی از یکدیگر.

۷۱. در سیاره ای که به شکل کره است، موجودی زندگی می کند که می تواند، روی سطح سیاره، با سرعتی که از v تجاوز نمی کند، حرکت کند. يك سفینه فضایی در اطراف این سیاره در پرواز است که می تواند با سرعت v حرکت کند. ثابت کنید، اگر داشته باشیم $v > \frac{v}{11}$ ، آن وقت،



موجود روی سیاره نمی تواند خود را از دید سفینه مخفی کند.

المپیاد ششم سراسری روسیه
سال ۱۹۶۶ (وورونژ)

کلاس					
۷۶	۷۵a	۷۴	۷۳a	۷۲	:۸
۷۹	۷۸	۷۵b	۷۳b	۷۷	:۹
۸۳	۸۲	۸۱	۸۰	۷۵b	:۱۱۶۱۰

۷۲. روی هر سیاره از یک منظومه، یک اخترشناس، نزدیک ترین سیاره را مشاهده می کند. فاصله های بین سیاره ها، دو به دو، با هم اختلاف دارند. ثابت کنید، اگر تعداد سیاره ها فرد باشد، سیاره ای وجود دارد که کسی آن را مشاهده نمی کند.

۷۳. (a) نقطه های B و C در درون پاره خط راست AD واقع اند. ثابت کنید، اگر AB برابر CD باشد، آن وقت، برای هر نقطه P از صفحه، داریم:

$$PA + PD \geq PB + PC$$

(b) نقطه های A, B, C, D ، روی یک صفحه مفروض اند. می دانیم، برای هر نقطه P از صفحه، این نابرابری برقرار است.

$$PA + PD \geq PB + PC$$

ثابت کنید، نقطه های B و C روی پاره خط راست AD واقع اند و $AB = CD$.
۷۴. آیا عددهای طبیعی x و y وجود دارند که، به ازای آن ها، $x^2 + y^2$ و $x + y$ ، مجذورهای کاملی باشند؟

۷۵. (a) دانش آموزان کلاس هشتم در یک صف ایستاده اند. جلو هر کدام از آن ها، دانش آموزی از کلاس هفتم ایستاده است که قدی کوتاه تر دارد. ثابت کنید، اگر صف دانش آموزان کلاس هشتم به ردیف قد وصف دانش آموزان کلاس هفتم هم به ردیف قد خود ایستاده باشند، باز هم مثل قبل،

۷۶. دانش آموز کلاس هشتم بلندتر از دانش آموز کلاس هفتم جلو خود است. (b) گروهی سرباز به شکل مستطیلی ایستاده اند، به نحوی که در هر صف، ردیف قد آن ها رعایت شده است. ثابت کنید، اگر سربازان را، در هر ستون، به ردیف قد خود قرار دهیم، باز هم مثل سابق، در هر صف، به ردیف قد خود قرار می گیرند.

۷۶. روی یک صفحه کاغذ شطرنجی، مستطیل $ABCD$ را رسم کرده ایم، به نحوی که ضلع های آن، روی خط های راست شبکه قرار داشته باشد و، در ضمن، AD برابر k برابر AB باشد (k ، عددی درست است). همه مسیرهای ممکن را از طریق خط های راست شبکه در نظر می گیریم، به نحوی که کوتاه ترین راه از A به C باشند. ثابت کنید، بین این مسیرها، نمونه هایی پیدا می شود که، در آن ها، نخستین حلقه بر AD واقع است و، این حلقه، k برابر نمونه هایی است که، در آن ها، نخستین حلقه بر AB قرار دارد.

۷۷. برای عددهای a_1, a_2, \dots, a_n می دانیم:

$$0 \leq a_1 \leq a_2 \leq 2a_1, a_2 \leq a_3 \leq 2a_2, \dots, a_{n-1} \leq a_n \leq 2a_{n-1}$$

ثابت کنید، در مجموع $s = \pm a_1 \pm a_2 \pm \dots \pm a_n$ ، می توان علامت ها را طوری در نظر گرفت که داشته باشیم: $0 \leq s \leq a_1$.

۷۸. ثابت کنید، در چهارضلعی محدب به مساحت S و محیط P ، می-

توان دایره ای به شعاع $\frac{S}{P}$ جاداد.

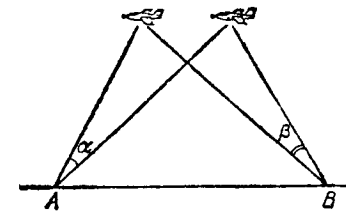
۷۹. در یک شهر، برای هر سه چهار راه A, B, C و مسیری وجود دارد که از A به B می رود، ولی از C نمی گذرد. ثابت کنید، هر چهار راه با هر چهار راه دیگر، دست کم به وسیله دو مسیر غیرمقاطع، مربوط است. (چهارراه، به نقطه ای می گوئیم که، از آن جا، دست کم دو خیابان عبور کند: در شهر، دست کم، دو چهار راه وجود دارد.)

۸۰. مثلث ABC مفروض است. همه چهاروجهی های ممکن $PABC$

را در نظر می‌گیریم که، در آن‌ها، PH کوچکترین ارتفاع چهاروجهی باشد (H)، تصویر نقطه P بر صفحه ABC است). مجموعه نقطه‌های H (مکان هندسی نقطه H) را پیدا کنید.

* ۸۱. ۱۰۰ نقطه روی صفحه داده شده است. ثابت کنید، این نقطه‌ها را می‌توان با چند دایره غیرمتقاطع پوشاند، به نحوی که مجموع قطرهای این دایره‌ها، کوچکتر از ۱۰۰ و فاصله بین هر دو دایره بیشتر از واحد باشد (فاصله بین دو دایره غیر متقاطع، به فاصله بین نزدیکترین نقطه‌های آن‌ها گفته می‌شود).

۸۲. از دو نقطه A و B ، که به فاصله d کیلومتر از یکدیگر قرار دارند، به طور هم زمان و در طول یک ثانیه، هواپیمائی را مشاهده می‌کنند



شکل ۵

که روی خط راست و با سرعتی ثابت حرکت می‌کند (شکل ۵). از نقطه A اطلاع می‌دهند که، این هواپیما، در طول یک ثانیه، به اندازه زاویه α جا به جا شده است؛ از نقطه B اطلاع می‌دهند که، در طول این یک ثانیه، هواپیما به اندازه زاویه β جا به جا شده است (α و β زاویه‌هایی حاده‌اند). حداقل سرعت هواپیما، چقدر می‌تواند باشد؟

* ۸۳. ۲۰ عدد ۲، ۲۰ عدد ۲، ... روی کاغذ نوشته شده است. دو بازی کن، به نوبت، جلو این عددها، علامت «+» یا «-» می‌گذارند (علامت را، می‌توان جلوی هر عددی گذاشت که بی‌علامت باقی مانده است). اولی می‌خواهد ترتیبی بدهد که، بعد از پایان علامت گذاری‌ها، مجموع همه عددها، کمترین مقدار ممکن را، از لحاظ قدر مطلق، داشته باشد. نفر دوم، چه مجموع حداکثری را، از لحاظ قدر مطلق، می‌تواند برای خود تأمین کند؟

نخستین المپیاد سراسری شوروی سال ۱۹۶۷ (تفلیس)

کلاس					
۸۸	۸۷c	۸۶a	۸۵a	۸۴a	:۸
۸۹	۸۴b	۸۵b	۸۶a	۸۷b	:۹
۹۳	۹۲	۹۱	۸۶b	۹۰	:۱۰

۸۴. (a) در مثلث ABC ، که زاویه‌های حاده دارد، بزرگترین ارتفاع آن، AH ، با میانه BM برابر است. ثابت کنید، زاویه ABC از ۶۰ درجه تجاوز نمی‌کند.

(b) در مثلث ABC ، با زاویه‌های حاده، ارتفاع AH با میانه BM و بانیمساز CD برابر است. ثابت کنید، مثلثی متساوی الاضلاع است.
۸۵. (a) در یک عدد طبیعی، جای رقم‌ها را به دلخواه عوض کرده‌ایم. ثابت کنید، مجموع عدد اصلی با عددی که به دست می‌آید، نمی‌تواند برابر با عدد زیر باشد:

$$\underbrace{999\dots 9}_{\text{رقم } 1967}$$

(b) رقم‌های عددی را جا به جا و، سپس آن را، با عدد اصلی جمع کرده‌ایم. ثابت کنید، اگر این مجموع برابر ۱۰^k باشد، عدد اصلی بر ۱۰ بخش پذیر است.

۸۶. (a) نورافکن زاویه ۹۰ درجه را روشن می‌کند. ثابت کنید، با نرازدادن نورافکن در چهار نقطه دلخواه صفحه، می‌توان طوری آن‌ها را جهت گیری کرد که تمامی صفحه روشن شود.

(b) در هر یک از هشت نقطه فضا، نورافکنی قرار دارد که می‌تواند یک هشتم فضا را (یعنی درون یک کنج سه وجهی را که یال‌های آن دو به دو بر هم عمودند) روشن کند، راس این کنج را باید در نقطه‌ای در نظر

۱. مفسوم علییہی از عدد ۹۹ است.

دومین المپیاد سراسری شوروی
سال ۱۹۶۸ (لنین گراد)

دور شفاهی					دور کتبی					کلاس
۱۰۹	۱۰۸	۱۰۷	۱۰۶	۱۰۵a	۹۸	۹۷	۹۶	۹۵	۹۴	۸
۱۰۹	۱۰۸	۱۰۵a	۱۱۱	۱۱۰	۱۰۲	۹۷	۱۰۱	۱۰۰	۹۹	۹
۱۰۹	۱۱۴	۱۱۲	۱۱۲	۱۰۵b	۹۶	۹۷	۱۰۴	۹۵	۱۰۳	۱۰

۹۴. در یک هشت ضلعی، همه زاویه‌ها برابرند و طول ضلع‌ها عددهایی درست‌اند. ثابت کنید، در این هشت ضلعی، ضلع‌های رو به‌رو با هم برابرند.
۹۵. کدام یک بزرگترند: ۳۱۱ یا ۱۷۱۴ ؟
۹۶. صفحه‌ای شطرنجی که طول ضلع هر خانه آن برابر یک سانتی‌متر است، در اختیار داریم. دایره‌ای به شعاع ۱۰۰ سانتی‌متر رسم کرده‌ایم، به نحوی که محیط آن، از هیچ رأسی از خانه‌ها نمی‌گذرد و بر هیچ ضلعی از خانه‌ها مماس نیست. محیط این دایره، چند خانه را می‌تواند قطع کند؟
۹۷. بین دانشجویانی که به دانشگاه «دوستی ملت‌ها» آمده‌اند، درست ۵۰ نفر زبان انگلیسی، درست ۵۰ نفر زبان فرانسوی و درست ۵۰ نفر زبان اسپانیایی می‌دانند. ثابت کنید، دانشجویان را می‌توان به ۵ گروه (لازم نیست برابر باشند)، چنان تقسیم کرد که، در هر گروه، درست ۱۰ نفر که زبان انگلیسی می‌دانند، درست ۱۰ نفر که زبان فرانسوی می‌دانند و درست ۱۰ نفر که زبان اسپانیایی می‌دانند، وجود داشته باشد. (فرض بر این است که، از بین دانشجویان، برخی هیچ کدام از این زبان‌ها را نمی‌دانند و برخی دیگر به دو یا هر سه زبان مسلط‌اند).
۹۸. درستی این اتحاد را ثابت کنید:

$$\frac{2}{x^2-1} + \frac{4}{x^2-4} + \frac{6}{x^2-9} + \dots + \frac{20}{x^2-100} =$$

گرفت که نورافکن در آن جا قرار دارد. ثابت کنید، می‌توان جهت نورافکن‌ها را طوری تنظیم کرد که تمامی فضا روشن شود.

۸۷. (a) آیا می‌توان عدد‌های $۰، ۱، ۲، \dots، ۹$ را روی محیط یک دایره طوری قرار داد که، هر دو عدد مجاور، $۳، ۴$ یا ۵ واحد با هم اختلاف داشته باشند؟

(b) آیا می‌توان عددهای $۶، ۲، \dots، ۱۳$ را روی محیط دایره طوری قرار داد که، هر دو عدد مجاور به اندازه $۳، ۴$ یا ۵ واحد با هم اختلاف داشته باشند؟

۸۸. ثابت کنید، عددی وجود دارد که بر $۵^{۱۰۰۰}$ بخش پذیر است و در بین رقم‌های آن، حتی یک صفر وجود ندارد.

۸۹*. همه زوج عددهای درست x و y را پیدا کنید که در معادله زیر صدق کنند:

$$x^2 + x = y^4 + y^3 + y^2 + y$$

۹۰. در دنباله‌ای از عددهای درست و مثبت، با آغاز از جمله سوم، هر جمله برابر است با قدرمطلق تفاضل دو جمله قبل از آن. این دنباله، حداکثر چند جمله می‌تواند داشته باشد، به شرطی که هر جمله آن، از ۱۹۶۷ تجاوز نکند؟

۹۱. «خودکشی شاه». روی یک صفحه شطرنجی ۱۰۰۰×۱۰۰۰ ، شاه سیاه و ۴۹۹ رخ سفید وجود دارد. ثابت کنید، مهره شاه در هر خانه‌ای باشد و سفید به هر ترتیبی بازی کند، شاه زیر ضربه رخ‌های سفید است. (حرکت‌ها، مثل بازی معمولی شطرنج انجام می‌شوند).

۹۲. سه راس متوالی لوزی، به ترتیب، روی ضلع‌های AB ، BC و CD از مربع مفروض به ضلع واحد قرار دارند. مطلوب است مساحت شکلی که به وسیله رأس چهارم چنین لوزی‌هایی پر می‌شود.

۹۳*. عدد طبیعی k ، دارای این ویژگی است که، اگر عدد n بر آن بخش پذیر باشد، مقلوب عدد n هم (یعنی عددی که با همان رقم‌های n ، ولی در جهت عکس نوشته شده باشد) بر k بخش پذیر است. ثابت کنید، عدد

✓ ۱۰۳. نقطه D را روی ضلع AB و نقطه E را روی ضلع AC از مثلث ABC گرفته ایم. در ضمن، می دانیم:

$$DE \parallel BC, AD = DE = AC, BD = AE$$

ثابت کنید، طول BD برابر است با طول ضلع ده ضلعی منظم محاط در دایره به شعاع $R = AC$.

✓ ۱۰۴. چهاروجهی $ABCD$ مفروض است. سه کره، بدترتیب، با قطرهای AB ، AC و AD در نظر می گیریم. ثابت کنید، این کره ها، چهاروجهی را می پوشانند.

✓ ۱۰۵. (a) در جدول 4×4 ، علامت های «+» و «-» را، طبق شکل ۶، قرار داده ایم. تصمیم می گیریم، علامت همه خانه هایی را که در

+	-	+	+
+	+	+	+
+	+	+	+
+	+	+	+

شکل ۶

یک سطر، یا یک ستون، یا به روی خط راستی موازی یک قطر (و درحالت خاص، یکی از خانه های گوشه ای) قرار دارند، به طور هم زمان، عوض کنیم. ثابت کنید، اگر این عمل را هر چند بار انجام دهیم، به جدولی نمی رسیم که همه علامت های خانه های آن مثبت باشد.

(b) در همه خانه های صفحه شطرنجی 8×8 ، علامت مثبت گذاشته ایم، به استثنای یکی از خانه ها (و البته، به جز خانه های گوشه ای)، که در آن، علامت منفی قرار داده ایم. تصمیم گرفتیم، به طور هم زمان، علامت همه خانه های یک سطر، یک ستون یا یک قطر را تغییر دهیم (و درحالت خاص، هر کدام از خانه های گوشه ای را؛ قطرها به خطی گوئیم که مهره فیل می تواند روی آن حرکت کند). ثابت کنید، اگر هر چند بار، به این ترتیب، علامت ها را تغییر دهیم، به جدولی نمی رسیم که همه علامت های آن، مثبت باشد.

$$= 1 \left(\frac{1}{(x-1)(x+10)} + \frac{1}{(x-2)(x+9)} + \dots + \frac{1}{(x-10)(x+1)} \right)$$

✓ ۹۹. در یک n ضلعی منظم ($n > 5$)، اختلاف بین بزرگترین و کوچکترین قطر، برابر با ضلع n ضلعی است. n را پیدا کنید.

✓ ۱۰۰. دنباله a_1, a_2, a_3, \dots به این ترتیب تعریف شده است:

$$a_1 = 1, a_2 = a_1 + \frac{1}{a_1}, \dots, a_n = a_{n-1} + \frac{1}{a_{n-1}}$$

ثابت کنید: $a_{100} > 14$.

✓ ۱۰۱. نقطه O را در درون مثلث ABC و نقطه O' را در درون مثلث $A'B'C'$ انتخاب کرده ایم؛ زاویه های هر دو مثلث، حاده اند. از نقطه O ، عمود OA_1 را بر ضلع BC ، عمود OB_1 را بر ضلع CA و عمود OC_1 را بر ضلع AB رسم کرده ایم. به همین ترتیب، عمودهای $O'A'_1, O'B'_1, O'C'_1$ را، به ترتیب، بر ضلع های $B'C', C'A', A'B'$ رسم کرده ایم. معلوم شد:

$$OA_1 \parallel O'A'_1, OB_1 \parallel O'B'_1, OC_1 \parallel O'C'_1,$$

$$OA_1 \cdot O'A'_1 = OB_1 \cdot O'B'_1 = OC_1 \cdot O'C'_1$$

ثابت کنید:

$$O'A'_1 \parallel OA_1, O'B'_1 \parallel OB_1, O'C'_1 \parallel OC_1,$$

$$O'A'_1 \cdot OA_1 = O'B'_1 \cdot OB_1 = O'C'_1 \cdot OC_1$$

* ۱۰۲. ثابت کنید، هر عدد طبیعی را که از $n!$ تجاوز نکند، می توان به صورت مجموعی از عددهای طبیعی مختلف نشان داد، به نحوی که، تعداد جمله های مجموع، از n تجاوز نکند و، در ضمن، هر جمله مجموع، منسوم علیهی از $n!$ باشد.

۱۰۶. میان‌های مثلث ABC ، آن را به شش مثلث تقسیم می‌کنند. معلوم شد، از بین دایره‌های محاطی این مثلث‌ها، چهار دایره باهم برابرند. ثابت کنید، مثلث ABC متساوی‌الاضلاع است.

۱۰۷. ثابت کنید، معادله

$$x^2 + x + 1 = py$$

برای بی‌نهایت عدد اول p ، در مجموعه عددهای درست (x, y) ، جواب دارد. ۱۰۸. بعد از هنرنمایی ۲۰ هنرمند رقص، هر یک از ۹ داور، بنا به نظر خود، ردیفی برای مقام‌های آن‌ها، از ۱ تا ۲۰ معین کردند. معلوم شد، اختلاف مقام‌هایی که داوران مختلف برای هر هنرمند تعیین کرده‌اند، بیشتر از ۳ نیست.

مقام‌های هر هنرمند را جمع کردند و عددهای حاصل را، به ترتیب صعودی نوشتند. ردیف

$$c_1 \leq c_2 \leq c_3 \leq c_4 \leq \dots \leq c_{20}$$

به دست آمد. داوران روی هم، به c_1 حداکثر چه عددی داده‌اند؟

۱۰۹. عددهای a_1, a_2, \dots, a_n از بین عددهای $1, \frac{1}{2}, \frac{1}{3}, \dots, \frac{1}{n}$ و هر

کدام یک بار و هم‌چنین، عددهای b_1, b_2, \dots, b_n هم از بین همین عددها، باره‌م هر کدام یک بار، انتخاب شده‌اند. در ضمن، می‌دانیم:

$$a_1 + b_1 \geq a_2 + b_2 \geq a_3 + b_3 \geq \dots \geq a_n + b_n$$

ثابت کنید، به ازای هر m از بین عددهای ۱ تا n ، داریم:

$$a_m + b_m \leq \frac{4}{m}$$

۱۱۰. روی میز معلم یک ترازو گذاشته شده است. در کفه‌های ترازو

وزنه‌هایی وجود دارد که ممکن است برابر نباشند. روی هر وزنه، نام فامیل یک یا چند نفر از دانش‌آموزان نوشته شده است. هر دانش‌آموزی کسه به

کلاس وارد می‌شود، وزنه‌ای را که نام فامیل او روی آن نوشته شده است، بر می‌دارد و در کفه دیگر ترازو می‌گذارد. ثابت کنید، می‌توان ورود دانش‌آموزان به کلاس را طوری اجازه داد که، در نتیجه، آن کفه‌ای از ترازو سبک‌تر باشد که در ابتدا سنگین‌تر بوده است.

۱۱۱. طرح یک شهر به صورت مستطیلی است که به خانه‌هایی تقسیم شده است. n خیابان موازی با هم، و m خیابان دیگر عمود بر آن‌ها، در آن وجود دارد. در خیابان‌های شهر (و نه در چهار راه‌ها)، پاسبان‌های اداره راهنمایی و رانندگی مستقر شده‌اند. هر پاسبان، شماره، جهت حرکت و زمان اتوبوس‌هایی را که از مقابل او می‌گذرند، اطلاع می‌دهد. همه اتوبوس‌ها، روی مسیرهای بسته‌ای در خیابان‌های شهر حرکت می‌کنند (وقتی که اتوبوسی، یک بار مسیر خود را طی می‌کند، از هیچ نقطه‌ای دوبار نمی‌گذرد). حداکثر، چند پاسبان باید در خیابان‌های شهر گذاشت، تا بتوان بنا بر آگاهی‌هایی که می‌دهند، مسیر هر اتوبوس را، به صورتی یک‌ارزشی، معین کرد؟

۱۱۲. دایره محاطی مثلث ABC ، بر ضلع AC در نقطه K مماس است. ثابت کنید، خط راستی که وسط ضلع AC را به مرکز دایره محاطی مثلث وصل می‌کند، پاره خط راست BK را نصف می‌کند.

۱۱۳. دنباله عددهای a_1, a_2, \dots, a_n ، به این ترتیب تعریف شده است:

$$a_1 = 0, |a_2| = |a_1 + 1|, |a_3| = |a_2 + 1|, \dots$$

$$\dots, |a_n| = |a_{n-1} + 1|$$

$$\text{ثابت کنید: } \frac{a_1 + a_2 + \dots + a_n}{n} \geq -\frac{1}{2}$$

۱۱۴. در چهارضای محدب $ABCD$ ، طول همه ضلع‌ها و قطر‌ها، عددهایی گویا هستند. اگر O محل برخورد قطرهای چهارضلعی باشد، ثابت کنید، طول پاره‌خط راست AO ، عددی گویاست.

سومین الهیاد سراسری شوروی
سال ۱۹۶۹ (کیف)

روز دوم			روز اول			کلاس
۱۲۴a	۱۲۳	۱۲۲	۱۱۷	۱۱۶	۱۱۵	:۸
۱۲۶	۱۲۵	۱۲۴	۱۱۵	۱۱۹	۱۱۸	:۹
۱۲۸	۱۲۷	۱۲۵	۱۲۱	۱۲۰	۱۱۹	:۱۰

۱۱۵. روی قاعده AD در دوزنقه $ABCD$ ، نقطه E طوری انتخاب شده است که مثلث‌های ABE ، BCE و CDE ، محیط‌هایی برابر پیدا کرده‌اند.

ثابت کنید: $BC = \frac{1}{4}AD$.

۱۱۶. در مرکز میدانی مربع شکل، یک گره و در چهار رأس این مربع، چهار سنگ ایستاده‌اند. گره می‌تواند، در تمامی میدان بدون، ولی سنگ‌ها، تنها روی ضلع‌های مربع حرکت می‌کنند. گره می‌تواند از عهده یک سنگ برآید، ولی در برابر دو سنگ مغلوب می‌شود. حداکثر سرعت هر سنگ، $\frac{1}{5}$ برابر حداکثر سرعت گره است. ثابت کنید، سنگ‌ها، این امکان را دارند که مانع خروج گره از میدان مربعی بشوند.

۱۱۷. دنباله‌ای متناهی از رقم‌های صفر و واحد. با دو ویژگی زیر داده شده است:

الف) اگر در جای دلخواهی از دنباله، ۵ رقم متوالی را جدا کنیم و، در جای دلخواه دیگری، دوباره ۵ رقم متوالی را در نظر بگیریم، آن-وقت، این دو ردیف ۵ رقمی با هم اختلاف دارند (مثلاً در دنباله ۰۱۱۰۱۰۱)؛

ب) اگر در سمت راست دنباله، رقم ۰ یا رقم ۱ را قرار دهیم، ویژگی الف)، برقرار نباشد.

ثابت کنید، چهار رقم اول این دنباله، بر چهار رقم آخر آن منطبق است.

۱۱۸. a, b, c و d ، عددهایی مثبت می‌گیریم. ثابت کنید، در

بین نابرابری‌های

$$a+b < c+d,$$

$$(a+b)(c+d) < ab+cd,$$

$$(a+b)cd < ab(c+d)$$

دست کم یکی، نادرست است.

۱۱۹. کوچکترین عدد طبیعی a را پیدا کنید که، به ازای آن، سه جمله‌ای درجه دوم با ضریب‌های درست و ضریب بزرگترین درجه a ، وجود داشته باشد، به نحوی که دارای دوریشه مختلف کوچکتر از واحد باشد.

۱۲۰. عدد طبیعی n مفروض است. همه کسرهای به صورت $\frac{1}{pq}$ را می-نویسیم که، در آن، p و q نسبت به هم اول‌اند و $0 < p < q \leq n$.

ثابت کنید، مجموع همه این کسرها، برابر است با $\frac{1}{p}$.

۱۲۱. نقطه را در فضا طوری مستقر کرده‌ایم که، هر سه نقطه آن، رأس‌های مثلثی را با یک زاویه بزرگتر از ۱۲۰ درجه تشکیل می‌دهند. ثابت کنید، این نقطه‌ها را، می‌توان با حرف‌های A_1, A_2, \dots, A_n طوری نام‌گذاری کرد که، هر کدام از زاویه‌های $(A_i A_j A_k)$ ($1 \leq i < j < k \leq n$)، بزرگتر از ۱۲۰ درجه باشد.

۱۲۲. در چهار عدد سه رقمی مختلف، رقم اول سمت چپ، یکی است. در ضمن، مجموع این چهار عدد، بر سه تا از این عددها بخش پذیر است. این عددها را پیدا کنید.

۱۲۳. خط‌های هوایی بین شهرهای یک کشور طوری تنظیم شده‌اند که، هر شهر، حداکثر با سه شهر ارتباط هوایی دارد. در ضمن، برای مسافرت از هر شهر به هر شهر دیگر، بیش از یک بار، نیاز به تعویض هواپیما نیست. حداکثر تعداد شهرهای این کشور، چقدر است؟

۱۲۴. در یک پنج‌ضای محدب، همه ضلع‌ها با هم برابرند.

چهارمین المپیاد سراسری شوروی
سال ۱۹۷۰ (سیم فیه رویول - مرکز کریمه)

روز دوم	روز اول	کلاس
۱۴۴	۱۴۱	۱۴۲ : ۸
۱۴۲	۱۳۹	۱۴۰ : ۹
۱۴۱	۱۳۸	۱۳۷ : ۱۰

۱۲۹. يك دایره، قطر AB از آن و نقطه C واقع بر این قطر، مفروض اند. روی محیط دایره، دو نقطه X و Y را، قرینه هم نسبت به قطر AB ، طوری پیدا کنید که، خط راست YC بر خط راست XA عمود باشد. ۱۳۰. ثابت کنید، اگر حاصل ضرب سه عدد مثبت برابر واحد، و مجموع این سه عدد از مجموع عکس آن‌ها بزرگتر باشد، آن وقت، درست یکی از این عددها، از واحد بزرگتر است.

۱۳۱. در يك چندضلعی محدب، چندضلع می‌تواند وجود داشته باشد که، طول هر کدام از آن‌ها، برابر با طول بزرگترین قطر چندضلعی باشد. ۱۳۲. رقم‌های يك عدد هفده رقمی را، در جهت عکس نوشته‌ایم. عدد حاصل را، با عدد اصلی جمع کرده‌ایم. ثابت کنید، دست کم یکی از رقم‌های این مجموع، عددی زوج است.

۱۳۳. (a) زمین قلعه‌ای، به شکل مثلث متساوی الاضلاع، با ضلع به طول ۱۰۰ متر است. آن را به ۱۰۰ سالن مثلثی شکل تقسیم کرده‌اند. همه دیوارهای سالن، طول‌هایی برابر دارند: ۱۰ متر. در وسط هر دیوار بین هر دو سالن، دری تعبیه شده است. ثابت کنید، اگر کسی بخواهد، سالن‌های قلعه را بازدید کند، بدون این که دوبار وارد يك سالن بشود، نمی‌تواند بیش از ۹۱ سالن را ببیند.

(b) هر يك از ضلع‌های مثلث متساوی الاضلاع را به k بخش برابر تقسیم کرده‌ایم. از هر نقطه تقسیم، خط‌های راستی موازی ضلع‌ها کشیده‌ایم. به این ترتیب، مثلث مفروض، به k^2 مثلث کوچکتر تقسیم می‌شود. دنباله مثلث‌هایی را يك «زنجیره» می‌نامیم که، در آن، هیچ مثلثی دوبار تکرار نشده باشد

(a) ثابت کنید: در درون این پنج ضلعی و روی قطر بزرگتر، نقطه‌ای وجود دارد که، از آن‌جا، هر ضلع پنج ضلعی به زاویه‌ای دیده می‌شود که از ۹۰ درجه تجاوز نمی‌کند.

(b) ثابت کنید، دایره‌هایی که به قطر ضلع‌ها رسم شوند، پنج ضلعی را نمی‌پوشانند.

۱۲۵. روی تخته سیاه، معادله‌ای به این صورت نوشته شده است:

$$x^2 + \dots + x^2 + \dots + x + \dots = 0$$

دو نفر، به صورت زیر، با هم بازی می‌کنند. نفر اول، در یکی از جاهای خالی، عدد درستی مخالف صفر (مثبت یا منفی) می‌نویسد؛ سپس، نفر دوم، در یکی از جاهای خالی باقی مانده، عددی درست و غیر صفر را جا می‌دهد. سر آخر، نفر اول، در تنها جای باقی مانده، عدد درستی را قرار می‌دهد. ثابت کنید، نفر اول می‌تواند طوری بازی کند که، بدون توجه به حرکت دومی، ریشه‌های معادله‌ای که به دست می‌آید، عددهایی درست باشند.

*۱۲۶. ۲۵ تیم فوتبال، برای کسب عنوان قهرمانی کشور، با هم مسابقه می‌دهند. دست کم، چند بازی باید انجام شود تا بین هر سه تیم، دو تیم وجود داشته باشد که بازی خود را انجام داده باشند؟

۱۲۷. يك k ضلعی منتظم محاط در دایره به شعاع R مفروض است. اگر h_k ، فاصله مرکز چندضلعی تا یکی از ضلع‌های آن باشد، ثابت کنید:

$$(n+1)h_{n+1} - nh_n > R$$

*۱۲۸. ثابت کنید، برای عددهای مثبت و دلخواه a_1, a_2, \dots, a_n داریم:

$$\frac{a_1}{a_1+a_2} + \frac{a_2}{a_2+a_3} + \dots + \frac{a_{n-2}}{a_{n-2}+a_{n-1}} + \frac{a_{n-1}}{a_{n-1}+a_n} + \frac{a_n}{a_n+a_1} > \frac{\pi}{4}$$

و، در ضمن، هر مثلث با مثلث قبلی خود، در يك ضلع مشترك باشد. حداكثر تعداد مثلث های این «زنجیره» چند است؟

۱۳۴. پنج پاره خط راست چنان اند که، با هر سه تای آنها، می توان يك مثلث ساخت. ثابت کنید، دست کم یکی از این مثلث ها، زاویه هایی حاده دارد.

۱۳۵. در مثلث ABC که زاویه هایی حاده دارد، نیمساز AD ، میانه BM و ارتفاع CH ، در يك نقطه به هم رسیده اند. ثابت کنید، زاویه BAC از 45 درجه بیشتر است.

۱۳۶. بارقم های 201 ، پنج عدد n رقمی طوری ساخته ایم که، رقم های هر دو عدد، درست در m مرتبه خود بر هم منطبق اند؛ ولی رقم های هر پنج عدد، در هیچ مرتبه ای بر هم منطبق نیستند. ثابت کنید:

$$\frac{2}{5} \leq \frac{m}{n} \leq \frac{3}{5}$$

۱۳۷. ثابت کنید، از بین هر دو یست عدد درست، می توان صد عدد طوری انتخاب کرد که، مجموع آنها، بر 100 بخش پذیر باشد.

۱۳۸. در مثلث ABC ، از نقطه M وسط ضلع BC و نقطه O مرکز دایره محاطی مثلث، خط راستی گذرانده ایم تا ارتفاع AH را در نقطه E قطع کند. ثابت کنید، طول پاره خط راست AE برابر است با شعاع دایره محاطی مثلث.

۱۳۹. ثابت کنید، برای هر عدد طبیعی k ، بی نهایت عدد طبیعی t وجود دارد که، در عددنویسی به مبنای ده، شامل رقم های صفر نباشد و، در ضمن در عدد t و kt ، در مجموع رقم ها برابر باشند.

۱۴۰. دو مستطیل برابر، طوری روی هم قرار گرفته اند که، محیط های آنها، در هشت نقطه، یکدیگر را قطع کرده اند. ثابت کنید، مساحت بخش مشترك دو مستطیل، از نصف مساحت هر يك از مستطیل ها، بیشتر است.

۱۴۱. روی کارت های جداگانه، همه عددهای پنج رقمی از 11111

تا 99999 را نوشته ایم. این کارت ها را، به ترتیب دلخواه، در کنار هم قرار می دهیم. ثابت کنید، عدد حاصل (که عددی با 44445 رقم است)، نمی تواند توانی از 2 باشد.

۱۴۲. همه عددهای طبیعی را، که تعداد رقم های هر کدام از آنها از n تجاوز نمی کند، به دو گروه تقسیم کرده ایم. در گروه اول، همه عددهایی را قرار دادیم که، مجموع رقم های هر يك از آنها، عددی فرد است، و در گروه دوم، همه عددهای با مجموع رقم های زوج. ثابت کنید، اگر $k < n$ ، $1 \leq k$ ، آن وقت، مجموع توان های k ام همه عددهای گروه اول، برابر است با مجموع توان های k ام همه عددهای گروه دوم.

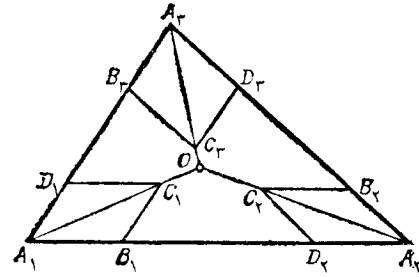
۱۴۳. رأس های يك n ضلعی منتظم را با چند رنگ مختلف، طوری رنگ کردیم (هر رأس، تنها يك رنگ دارد) که، نقطه های هم رنگ، رأس های يك چندضلعی منتظم را تشکیل می دهند. ثابت کنید، در بین این چندضلعی ها، دو چندضلعی برابر وجود دارد.

پنجمین المپیاد سراسری شوروی سال ۱۹۷۱ (ریگا)

روز دوم	روز اول	کلی
۱۵۴ ۱۵۳ ۱۵۲a,b	۱۴۷ ۱۴۶a ۱۴۵a	۱۴۴ :۸
۱۵۵ ۱۵۴c ۱۵۶	۱۴۶b ۱۴۷ ۱۴۸ ۱۴۵a	۱۴۴ :۹
۱۵۸ ۱۵۷ ۱۵۶	۱۵۱ ۱۴۷ ۱۵۰ ۱۴۵b	۱۴۹ :۱۰

۱۴۴. ثابت کنید، برای هر عدد طبیعی n ، می توان عددی n رقمی با رقم های 201 پیدا کرد که بر 2^n بخش پذیر باشد.

۱۴۵. مثلث $A_1 A_2 A_3$ مفروض است. نقطه های B_1 و D_1 را روی ضلع $A_1 A_2$ ، نقطه های B_2 و D_2 را روی ضلع $A_2 A_3$ ، نقطه های B_3 و D_3 را روی ضلع $A_3 A_1$ طوری انتخاب می کنیم که، اگر متوازی الاضلاع های $A_1 B_1 C_1 D_1$ ، $A_2 B_2 C_2 D_2$ و $A_3 B_3 C_3 D_3$ را بسازیم، آن وقت، خط های راست $A_1 C_1$ ، $A_2 C_2$ و $A_3 C_3$ در يك نقطه O به هم برسند. ثابت کنید،



شکل ۷

اگر داشته باشیم: $A_1B_1 = A_2D_2$ و $A_2B_2 = A_1D_1$ ، آن وقت داریم:
 $A_2B_2 = A_1D_1$ (شکل ۷).

(b) چند ضلعی محدب $A_1A_2 \dots A_n$ داده شده است. نقطه‌های B_1 و D_1 را روی ضلع A_1A_2 ، نقطه‌های B_2 و D_2 را روی ضلع A_2A_3 ، ...، نقطه‌های B_n و D_n را روی ضلع A_nA_1 طوری انتخاب می‌کنیم که، اگر متوازی‌الاضلاع‌های $A_1B_1C_1D_1$ ، $A_2B_2C_2D_2$ ، ...، $A_nB_nC_nD_n$ را بسازیم، آن وقت، خط‌های راست A_1C_1 ، A_2C_2 ، A_3C_3 ، ...، A_nC_n در یک نقطه O به هم برسند. ثابت کنید، برابری زیر، از حاصل ضرب طول‌ها، برقرار است:

$$A_1B_1 \cdot A_2A_2 \cdot A_2B_2 \dots A_nB_n = A_1D_1 \cdot A_2D_2 \dots A_nD_n$$

(۱۴۶. a) دو نفر، به این ترتیب، با هم بازی می‌کنند. نفر اول پشت سرهم، دو ردیف عدد و در هر ردیف ۱۰ عدد می‌نویسد، به نحوی که با این قانون سازگار باشند: اگر عدد b زیر عدد a ، و عدد d زیر عدد c نوشته شده باشد، داشته باشیم $a + d = b + c$. بازی کن دوم، از این قانون اطلاع دارد و می‌خواهد همه عددها را پیدا کند. تصمیم می‌گیرد، پرسش‌هایی از این نوع از بازی کن اول بکند: «در ردیف اول و در جای سوم چه عددی قرار دارد؟» یا «چه عددی در ردیف دوم و جای نهم قرار دارد؟» و غیره. بازی کن دوم، دست کم چند پرسش مطرح کند تا از همه عددها اطلاع داشته باشد؟

(b) در جدول $m \times n$ ، عددهایی را طوری نوشته‌ایم که، برای هر دو

سطر و هر دو ستون، مجموع‌های واقع در دوراس متقابل مستطیلی که تشکیل می‌شود، برابر با مجموع دو عدد دوراس دیگر مستطیل باشد. بخشی از عددها پاک شده‌اند. ولی به کمک عددهای باقی مانده می‌توان آن‌ها را پیدا کرد. ثابت کنید، تعداد عددهای باقی مانده، از $m + n - 1$ عدد کمتر نیست. 147 در یک مربع بدضلع واحد، چند دایره رسم کرده‌ایم که، شعاع هر کدام از آن‌ها، از 0.001 کوچکتر است. فاصله بین هر دو نقطه از هر دو دایره، برابر 0.001 نیست. ثابت کنید، مساحتی که به وسیله دایره‌ها پوشیده می‌شود، از 0.34 تجاوز نمی‌کند.

148 در سه ظرف مقداری آب وجود دارد. مقدار آب هر ظرف، بر حسب لیتر، با عدد درستی بیان می‌شود. تصمیم می‌گیریم، در هر ظرف به اندازه آبی که در آن وجود دارد، از یکی از ظرف‌های دیگر وارد کنیم. ثابت کنید، با چند بار جابجائی، می‌توان یکی از ظرف‌ها را آزاد کرد. (ظرف‌ها به اندازه کافی بزرگ‌اند؛ هر کدام از آن‌ها، می‌تواند همه آب‌های سه ظرف را در خود جای دهد.)

149 عددهای p_1, p_2, q_1, q_2 در نابرابری زیر صدق می‌کنند:

$$(q_1 - q_2)^2 + (p_1 - p_2)(p_1q_2 - p_2q_1) < 0$$

ثابت کنید، سه جمله‌ای‌های $x^2 + p_1x + q_1$ و $x^2 + p_2x + q_2$ دارای ریشه‌های حقیقی هستند و، در ضمن، بین دو ریشه هر سه جمله‌ای، ریشه‌ای از سه جمله‌ای دیگر واقع است.

150 تصویرهای جسمی بر دو صفحه، دایره شده است. ثابت کنید، این دو دایره، شعاع‌هایی برابر دارند.

151 روی محیط دایره‌ای، چند عدد نوشته‌ایم. اگر برای چهار عدد متوالی a, b, c, d داشته باشیم: $(a-d)(b-c) < 0$ ، آن وقت، جای دو عدد b و c را عوض می‌کنیم. ثابت کنید، به تعداد محدودی می‌توان این عمل را انجام داد.

152 (a) ثابت کنید، خط راستی که مثلث مفروض را به دو چند ضلعی با محیط‌ها و مساحت‌های برابر تقسیم کند، از مرکز دایره محاطی مثلث

می گذرد.

(b) همین حکم را در مورد چندضلعی دلخواهی ثابت کنید که بتوان یک دایره در آن محاط کرد.

(c) ثابت کنید، همه خط‌های راستی که، هم مساحت و هم محیط مثلث را نصف می‌کنند، از یک نقطه می‌گذرند.

۱۵۳. ثابت کنید، از بین ۲۵ عدد مثبت مختلف، می‌توان دو عدد طوری انتخاب کرد که، حتی یکی از بقیه عددها، برابر مجموع و یا برابر تفاضل این دو عدد نباشد.

۱۵۴. (a) در رأس A_1 از دوازده ضلعی منتظم A_1, A_2, \dots, A_{12} علامت منفی، و در بقیه رأس‌ها، علامت مثبت گذاشته‌ایم. تصمیم می‌گیریم، به‌طور هم‌زمان، علامت رأس‌های شش رأس متوالی را، عوض کنیم. ثابت کنید، نمی‌توان با تکرار چندبار این عمل، به‌جایی رسید که علامت رأس A_7 منفی و علامت بقیه رأس‌ها مثبت باشد.

(b) همین حکم را، برای حالتی که به‌جای شش رأس متوالی، علامت‌های چهار رأس متوالی چندضلعی را عوض کنیم. ثابت کنید.

(c) همین حکم را برای موردی ثابت کنید که، تصمیم بگیریم، به‌طور هم‌زمان، علامت‌های سه رأس متوالی چندضلعی را عوض کنیم.

۱۵۵. روی صفحه شطرنجی نامتناهی، N خانه را به رنگ سیاه درآورده‌ایم. ثابت کنید، از این صفحه می‌توان تعداد محدودی مربع، طوری جدا کرد که با دو شرط زیر سازگار باشند:

(۱) همه خانه‌های سیاه در داخل این مربع‌ها باشند؛

(۲) در هر مربع جدا شده، مساحت خانه‌های سیاه از $\frac{1}{5}$ مساحت این مربع کمتر و از $\frac{4}{5}$ مساحت آن بیشتر نباشد.



مسئله‌های ۱۵۶ تا ۱۵۸، در روز دوم و به دانش‌آموزان کلاس دهم

داده شده است. این توضیح هم، قبل از صورت سؤال‌ها، برای دانش‌آموزان آمده است:

«سه سؤال به‌شما پیشنهاد می‌شود. حل درست هر یک از این سه سؤال، به اندازه کافی دشوار است و وقت زیادی را می‌گیرد. یکی از این مسأله‌ها را انتخاب کنید و حل آن را، تا هر جا که می‌توانید جلو ببرید.

بعد از حل سؤال، «خلاصه نتیجه‌گیری‌ها» را بنویسید؛ گزاره‌هایی را که ثابت کرده‌اید نام ببرید، چند مثال در موردهایی که به نتیجه رسیده‌اید بیاورید، نظریه‌هایی را تنظیم کنید که به نظر تان درست می‌آیند.»

۱۵۶. مکعب بدضلع n را، به n^3 مکعب واحد تقسیم کرده‌ایم. چند مکعب کوچک را انتخاب و از مرکز هر کدام از آن‌ها، سه خط راست موازی با سه یال مکعب رسم می‌کنیم. دست کم چند مکعب کوچک را باید انتخاب کرد تا، این خط‌های راست، همه مکعب‌های کوچک را خط بزنند؟

(a) پاسخ را، برای مقادیرهای کوچک n بدهید: برای $4, 3, 2, n$.

(b*) سعی کنید، پاسخ را برای $n = 10$ پیدا کنید.

(c*) سؤال را در حالت کلی حل کنید. اگر نتوانستید پاسخ دقیق را به دست آورید، حداقلاً واحد پایینی را، برای تعداد مکعب‌های کوچکی که باید انتخاب کنیم، تخمین بزنید.

(d*) توجه کنید که، این سؤال را، می‌توان به این صورت تنظیم کرد:

همه انتخاب‌های ممکن (x_1, x_2, x_3) را در نظر می‌گیریم که، در آن، هر یک از حرف‌های x_1, x_2, x_3 می‌توانند یکی از n مقدار $1, 2, \dots, n$ را قبول کنند. دست کم چند گروه سه تایی باید انتخاب کرد تا، برای هر یک از گروه‌های سه تایی باقی مانده، گروهی از بین سه تایی‌های انتخاب شده پیدا بشود که با آن تنها در یک مقدار اختلاف داشته باشد (یعنی دو گروه، تنها در یکی از مختص‌های x_1, x_2, x_3 یا اختلاف داشته باشند)؟ سعی کنید پاسخ را برای سؤال کلی‌تر پیدا کنید، وقتی که، به جای سه عدد، گروه‌ها را با چهار عدد یا بیشتر در نظر گرفته باشیم.

۱۵۷. تابع $f(x, y) = x^2 + xy + y^2$ را در نظر می‌گیریم.

ثابت کنید، برای هر نقطه (x, y) ، می توان عددهای درست (m, n) را پیدا کرد که، برای آنها، داشته باشیم:

$$f(x-m, y-n) = (x-m)^2 + (x-m)(y-n) + (y-n)^2 \leq \frac{1}{4}$$

(b*) کمترین مقدار از عددهای $f(x-m, y-n)$ را $\tilde{f}(x, y)$ می نامیم. (برای همه عددهای درست m و n). حکم مسأله a) به این معناست که برای هر x و y ، نابرابری $\tilde{f}(x, y) \leq \frac{1}{4}$ برقرار است.

ثابت کنید که، در واقع، نابرابری نیرومندتری برقرار است: $\tilde{f}(x, y) \leq \frac{1}{3}$. همه نقطه‌هایی را پیدا کنید که، برای آنها، برابری

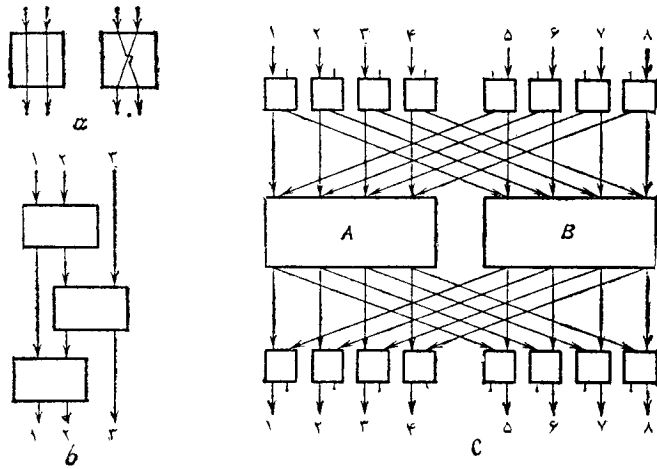

$$\tilde{f}(x, y) = \frac{1}{3}$$

(c*) این تابع را در نظر می گیریم:

$$f_a(x, y) = x^2 + axy + y^2 \quad (0 \leq a \leq 2)$$

عدد c را، در بستگی با a ، طوری پیدا کنید که، به ازای همه (x, y) ها، نابرابری $|f_a(x, y)| \leq c$ برقرار باشد. بکوشید ارزیابی دقیق را پیدا کنید. ۰۱۵۸ کلید با دو ورودی و دو خروجی را می توان در دو موقعیت مختلف قرار داد (شکل ۸-a).

در شکل ۸-b، طرح ارتباط تلفنی با سه ورودی و سه خروجی داده شده است، که ویژگی «همه کاره بودن» را دارد: با تغییر دادن وضع کلید، می توان به هر يك از شش حالتی که سه ورودی را به سه خروجی مختلف وصل می کند، رسید، یعنی



شکل ۸

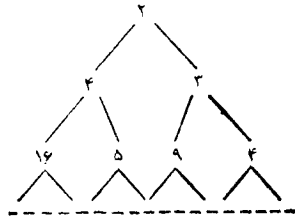
(این را آزمایش کنید. توجه کنید که، تعداد حالت های مختلف این طرح، برابر است با $2^3 = ۸$ ، زیرا هر کلید می تواند در دو وضع قرار گیرد.)
a) طرح مربوط به چهار ورودی و چهار خروجی را بسازید، بدنجوی که «همه کاره» باشد، یعنی امکان هر يك از ۲۴ اتصال ممکن ورودی ها و خروجی ها را فراهم کند.

b) حداقل تعداد کلیدهایی که برای این طرح لازم می شود، چقدر است؟ (c*) وقتی که با n ورودی و n خروجی سروکار داشته باشیم، طرحی را که، به کمک آن، امکان همه $n!$ اتصال n ورودی با n خروجی مختلف فراهم شود، «طرح همه کاره مرتبه n » می نامیم.

در شکل ۸-c، طرحی با هشت ورودی و هشت خروجی داده شده است که، در آن، A و B ، «همه کاره مرتبه ۴» هستند. ثابت کنید، این طرح «همه کاره مرتبه ۸» است.

حد بالا و حد پایین تعداد کلیدها را در «طرح همه کاره مرتبه n » تخمین بزنید.

ششمین المپیاد سراسری شوروی
سال ۱۹۷۲ (چه لیانبیسک)



شکل ۹

روز دوم	روز اول	کلاس
۱۶۸ ۱۶۷ ۱۶۶	۱۶۱ ۱۶۰ ۱۵۹	:۸
۱۷۱ ۱۷۰ ۱۶۹	۱۶۴ ۱۶۱ ۱۶۳ ۱۶۲a	:۹
۱۷۳ ۱۷۲ ۱۶۶	۱۶۴ ۱۶۵ ۱۶۳ ۱۶۲b	:۱۰

۱۵۹. M را وسط ضلع AD و N را وسط ضلع BC در مستطیل $ABCD$ گرفته‌ایم. روی امتداد پاره خط راست CD ، و از طرف D ، نقطه P را انتخاب کرده‌ایم. محل برخورد خط‌های راست PM و AC را Q می‌نامیم. ثابت کنید:

$$\widehat{QNM} = \widehat{MNP}$$

۱۶۰. روی خط راستی، ۵ پاره خط راست داده شده است. ثابت کنید، دست کم یکی از دو حکم زیر درست است:
الف) هشت پاره خط راست پیدا می‌شود که دارای نقطه مشترکی هستند؛

ب) هشت پاره خط راست وجود دارد که، هیچ دو تایی از آن‌ها، نقطه مشترکی ندارند.

۱۶۱. بزرگترین عدد درست x را پیدا کنید که، به ازای آن، عدد

$$4^{27} + 4^{100} + 4^x$$

برابر با مجذور یک عدد درست باشد.

۱۶۲. فرض کنید a, m, n ، سه عدد طبیعی باشند و $a > 1$. ثابت کنید، اگر $a^m + 1$ بر $a^n + 1$ بخش پذیر باشد، آن وقت m بر n بخش پذیر است. (ب) فرض کنید، a, b, m, n ، عددهایی طبیعی باشند؛ در ضمن، a و b نسبت به هم اول و $a > 1$. ثابت کنید، اگر $a^m + b^m$ بر $a^n + b^n$ بخش پذیر باشد، آن وقت m بر n بخش پذیر است.

۱۶۳. جدولی مثلثی را، با قانون زیر ساخته‌ایم: در سطر بالا، عدد طبیعی a را می‌نویسیم، سپس، زیر هر عدد k ، در سمت چپ k^2 ، و در سمت راست $k+1$ را قرار می‌دهیم. مثلاً، به ازای $a=2$ ، جدولی به دست می‌آید که در شکل ۹ نشان داده‌ایم. ثابت کنید، در هر سطر این جدول، همه عددها با هم اختلاف دارند.

۱۶۴*. چند مربع داده شده است که، مجموع مساحت‌های آن‌ها، برابر است با ۱. ثابت کنید، می‌توان همه این مربع‌ها را در مربعی به مساحت ۲ جا داد، بدون این که روی هم قرار گیرند.

۱۶۵. O محل برخورد قطر‌ها، در چهارضلعی محدب $ABCD$ است. ثابت کنید، خط راستی که از نقطه‌های برخورد میان‌های دو مثلث AOB و COD می‌گذرد، بر خط راستی که از نقطه‌های برخورد ارتفاع‌های دو مثلث BOC و AOD می‌گذرد، عمود است.

۱۶۶. هر یک از نه خط راست، مربع را به دو چهارضلعی تقسیم کرده‌اند که، نسبت مساحت‌های آن‌ها، برابر ۲:۳ شده است. ثابت کنید، دست کم سه خط راست، از این نه خط راست، از یک نقطه می‌گذرند.

۱۶۷. هفت ضلعی $A_1A_2A_3A_4A_5A_6A_7$ در یک دایره محاط شده است. ثابت کنید، اگر مرکز این دایره، در درون هفت ضلعی باشد، آن وقت، مجموع زاویه‌های رأس‌های A_1, A_3, A_5 و A_7 ، از 450° درجه کمتر است.

۱۶۸*. دو نفر، به این بازی مشغول‌اند. اولی یک رقم را نام می‌برد، دیگری، بنا به نظر خود، آن را به جای یکی از ستاره‌ها، در تفاضل زیر

قرار می‌دهد:

$$\frac{x_1}{1+x_1}, \frac{x_2}{1+x_1+x_2}, \dots, \frac{x_n}{1+x_1+x_2+\dots+x_n}$$

حداقل ممکن عدد s را پیدا کنید. به ازای چه مقدارهایی از x_1, x_2, \dots, x_n به این حداقل می‌رسیم؟

✓ ۱۷۳. بعد از پایان یک دور بازی‌ها کی، معلوم شد، برای هر گروهی از تیم‌ها، می‌توان تیمی را پیدا کرد (که ممکن است جزو همین گروه تیم‌ها باشد)، به نحوی که در بازی با تیم‌های این گروه، امتیازهایی کسب کرده باشد که، تعداد آن‌ها، عددی فرد باشد. ثابت کنید، تعداد تیم‌هایی که در این دور با هم مسابقه داده‌اند، عددی زوج است. (باخت، ۵ امتیاز؛ تساوی، ۱ امتیاز و برد، ۲ امتیاز دارد.)

هفتمین المپیاد سراسری شوروی

سال ۱۹۷۳ (کیشی‌نو)

روز دوم	روز اول	کلاس
۱۸۴ ۱۸۳ ۱۸۲	۱۷۶ ۱۷۵ ۱۷۴a	:۸
۱۸۴ ۱۸۶ ۱۸۵ ۱۷۹	۱۷۸ ۱۷۷ ۱۷۴b	:۹
۱۸۴ ۱۸۸ ۱۸۷	۱۸۱ ۱۷۷ ۱۸۰	:۱۰

✓ ۱۷۴. برای تعیین کیفیت ۱۴ سکه به قاضی مراجعه کردند. متخصص کشف کرد که سکه‌های اول تا هفتم تقلبی و سکه‌های هشتم تا چهاردهم، واقعی‌اند. قاضی فقط این را می‌داند که، سکه‌های تقلبی یک وزن دارند و سکه‌های واقعی هم، هم وزن‌اند؛ در ضمن آگاه است که یک سکه تقلبی از یک سکه واقعی سبک‌تر است. متخصص، یک ترازو در اختیار دارد، ولی وزنه‌هایی در اختیار او نیست.

a) متخصص می‌خواهد به قاضی ثابت کند که سکه‌های اول تا هفتم، تقلبی‌اند. چگونه می‌تواند، تنها با سه بار استفاده از ترازو، به این امر توفیق یابد؟

— ****

بعد اولی رقم دیگری را نام می‌برد و دومی آن را به جای ستاره دیگری می‌گذارد؛ این روند ۸ بار تکرار می‌شود تا همه ستاره‌ها به رقم تبدیل شوند. اولی می‌خواهد تا آن‌جا که ممکن است، به تفاضل بزرگتری برسد، در حالی که تمایل دومی به هر چه کوچکتر بودن تفاضل است. ثابت کنید:

a) دومی می‌تواند رقم‌ها را طوری قرار دهد که، بدون ارتباط بانوع رقم‌هایی که اولی نام برده است، تفاضل حاصل از ۴۰۰۰ تجاوز نکند.

b) اولی می‌تواند رقم‌هایی را نام ببرد که، بدون ارتباط با این که این رقم‌ها را دومی در کجا قرار می‌دهد، تفاضل حاصل کمتر از ۴۰۰۰ نباشد.

✓ ۱۶۹. x و y را عددهایی مثبت s را کوچکترین عدد از بین عددهای

$$x, \frac{1}{x} + y, \frac{1}{y} + \frac{1}{x}$$

چه مقدارهایی از x و y ، مقدار s به این حداکثر می‌رسد؟

✓ ۱۷۰. نقطه O ، در درون چندضلعی محدب طوری انتخاب شده است که، با هر دو رأس چندضلعی، یک مثلث متساوی الساقین می‌سازد. ثابت کنید، این نقطه، از رأس‌های چندضلعی، به یک فاصله است.

۱۷۱. آیا می‌توان عددهای ۵، ۱ و ۲ را در خانه‌های یک جدول شطرنجی ۱۰۰×۱۰۰ طوری قرار داد که، در هر مستطیل ۳×۴ آن، سه تا صفر، چهار تا واحد و پنج تا دو وجود داشته باشد؟

۱۷۲. مجموع عددهای مثبت x_1, x_2, \dots, x_n ، برابر واحد است. s را بزرگترین عدد از بین عددهای زیر می‌گیریم:

(b) ثابت کنید، متخصص می‌تواند، با سه بار استفاده از ترازو، چیز بیشتری را ثابت کند: او می‌تواند ثابت کنید، سکه‌های اول تا هفتم تقلبی و سکه‌های هشتم تا چهاردهم واقعی‌اند.

✓ ۱۷۵. ثابت کنید، عدد نه رقمی که، در آن، از همه رقم‌ها به جز صفر استفاده شده است و، در ضمن، رقم آخر آن برابر ۵ است، نمی‌تواند مجذور یک عدد درست باشد.

✓ ۱۷۶. n نقطه داده شده است و $n > 4$. ثابت کنید، می‌توان این نقطه‌ها را، با پیکان چنان به هم وصل کرد که، از هر نقطه به هر نقطه دیگر، به کمک یک یا دو پیکان رسید (هر دو نقطه را می‌توان با پیکانی به هم وصل کرد که تنها یک جهت داشته باشد؛ حرکت روی هر پیکان، تنها در مسیری ممکن است که با جهت آن مشخص شده است).

✓ ۱۷۷. زاویه به‌راس O و دایره‌ای که بر ضلع‌های این زاویه در نقطه‌های A و B مماس است، رسم شده‌اند. از نقطه A ، نیم‌خط راستی موازی OB رسم کرده‌ایم تا دایره را در نقطه C قطع کند. پاره‌خط راست OC دایره را در نقطه دیگر E قطع کرده است و خط‌های راست AE و OB در نقطه K به هم رسیده‌اند. ثابت کنید: $OK = KB$.

✓ ۱۷۸. عددهای حقیقی a ، b و c چنان‌اند که، برای هر مقدار x واقع در بازه $[-1, 1]$ ، این نابرابری برقرار است:

$$|ax^2 + bx + c| \leq 1$$

ثابت کنید، به ازای همین مقادیر x ، نابرابری زیر هم برقرار است:

$$|cx^2 + bx + a| \leq 2$$

✓ ۱۷۹. فدراسیون تنیس، به تنیس‌بازان عضو خود، شماره داده است: به بهترین بازی‌کن، شماره اول، به نفر بعدی از لحاظ قدرت بازی، شماره دوم و غیره. می‌دانیم، تنیس بازی که با رقیب خود، بیش از ۲ شماره اختلاف داشته باشد، همیشه پیروز می‌شود. دورهایی از مسابقه، که در آن ۱۰۲۴

تنیس‌باز شرکت کرده بودند، به شیوه المپیک برگزار شد: بنابر قرعه، هر دو نفر با هم بازی می‌کنند، بعد برندگان دور اول در گروه‌های دونفری به‌زور آزمایی می‌پردازند و غیره، به نحوی که تعداد بازی‌کنان هر دور، نصف تعداد بازی‌کنان دور قبل است. به این ترتیب، بعد از ده دور، قهرمان مسابقه معلوم می‌شود. قهرمان مسابقه، حداکثر چه شماره‌ای می‌تواند داشته باشد؟

✓ ۱۸۰. سه جمله‌ای $f(x) = ax^2 + bx + c$ چنان است که، معادله $f(x) = x$ ، جواب حقیقی ندارد. ثابت کنید، معادله $f(f(x)) = x$ هم، دارای ریشه حقیقی نیست.

✓ ۱۸۱. روی کاغذ شطرنجی نامتناهی سفیدی، n خانه را به رنگ سیاه درآورده‌ایم. در هر لحظه زمانی $t = 1, 2, \dots$ ، به‌طور هم‌زمان و طبق قاعده زیر، خانه‌های صفحه شطرنجی، تغییر رنگ می‌دهند: هر خانه K به رنگی درمی‌آید که دست‌کم دو خانه از سه خانه K ، خانه سمت چپ و خانه سمت راست آن، در مرحله قبل، آن رنگ را داشته‌اند (اگر در مرحله قبل، دو خانه سفید بوده‌اند، K به رنگ سفید در می‌آید و اگر دو خانه در مرحله قبل، رنگ سیاه داشته‌اند، K سیاه می‌شود).

(a) ثابت کنید، بعد از گذشت زمان معینی، روی صفحه شطرنجی، خانه سیاه باقی نمی‌ماند.

(b) ثابت کنید، از بین رفتن خانه‌های سیاه، به بعد از لحظه $n = t$ ، موکول نمی‌شود.

✓ ۱۸۲. روی ضلع‌های مثلث ABC ، که زاویه‌هایی حاده دارد، سه مثلث متشابه با هم $AC \setminus B$ ، $BA \setminus C$ و $CB \setminus A$ را، در بیرون مثلث و با زاویه‌های حاده ساخته‌ایم؛ در ضمن

$$\widehat{AB \setminus C} = \widehat{ABC \setminus} = \widehat{A \setminus BC}, \widehat{BA \setminus C} = \widehat{BAC \setminus} = \widehat{B \setminus AC}$$

(a) ثابت کنید، دایره‌های محیطی مثلث‌های $CB \setminus A$ و $BA \setminus C$ ، $AC \setminus B$ در یک نقطه یکدیگر را قطع می‌کنند.

(b) ثابت کنید، خط‌های راست $AA \setminus$ ، $BB \setminus$ و $CC \setminus$ هم، در همین

نقطه به هم می‌رسند.

۱۸۳. N نفر با هم آشنا نیستند. می‌خواهیم بعضی از آن‌ها را طوری با هم آشنا کنیم که، وقتی سه نفر را به دلخواه از بین این N نفر انتخاب کردیم، تعداد آشنای آن‌ها، یکسان نباشد. ثابت کنید، برای هر N ، می‌توان به این نتیجه رسید.

۱۸۴. شاه صفحه 8×8 شطرنج را طی کرده است، به نحوی که در هر میدان درست یکبار بوده است و با حرکت آخر به میدان اولیه برگشته است (شاه، طبق قانون عادی شطرنج حرکت می‌کند). وقتی که مرکز میدان‌هایی را که شاه پشت سر هم پیموده است، به هم وصل کردیم، خط شکسته بسته‌ای به دست آمد که خودش را قطع نکرده است.

(a) مثالی پیدا کنید که شاه درست ۲۸ حرکت، در جهت افقی و قائم، انجام داده باشد.

(b) ثابت کنید، که شاه نمی‌تواند کمتر از ۲۸ حرکت داشته باشد.
(c) حداکثر و حداقل طول مسیری که شاه طی می‌کند، چقدر است، به شرطی که طول ضلع يك خانه صفحه شطرنج، برابر واحد باشد؟

۱۸۵. مثلثی با مساحت واحد و ضلع‌های a ، b و c داده شده است. می‌دانیم:

$$a \geq b \geq c$$

ثابت کنید: $b \geq \sqrt{2}$.

۱۸۶. يك n ضلعی محدب، که هیچ دو ضلعی از آن با هم موازی نیستند، و نقطه‌ای در درون آن داده شده است. ثابت کنید، از این نقطه، نمی‌توان بیش از n خط راست رسم کرد، به نحوی که هر کدام از آن‌ها، مساحت n ضلعی را نصف کند.

۱۸۷. x_1, x_2, x_3, x_4, x_5 و x_5 عددهایی مثبت اند. ثابت کنید:

$$(x_1 + x_2 + x_3 + x_4 + x_5)^2 \geq 4(x_1x_2 + x_2x_3 + x_3x_4 + x_4x_5 + x_5x_1)$$

۱۸۸. ۴ نقطه، غیرواقع بر يك صفحه، در فضا داده شده‌اند. چند متوازی‌السطوح وجود دارد، به نحوی که، این چهار نقطه، راس‌هایی از آن باشند؟

هشتمین المپیاد سراسری شوروی سال ۱۹۷۴ (ایروان)

روز دوم	روز اول	کلاس
۱۹۷ ۱۹۸ ۱۹۹ ۲۰۰a	۱۹۱ ۱۹۰ ۱۸۹a,b,c	۸
۱۹۳ ۲۰۱ ۲۰۲ ۲۰۰b	۱۹۲ ۱۹۰ ۱۸۹d	۹
۱۹۳ ۲۰۳ ۲۰۴ ۲۰۰b	۱۹۴ ۱۹۵ ۱۹۶	۱۰

۱۸۹. روی هر يك از کارت‌ها عدد «۱+» یا «۱-» نوشته شده است. سه کارت را انتخاب می‌کنیم و می‌پرسیم: حاصل ضرب عددهای روی این کارت‌ها، چقدر است؟ (از خود عددها، اطلاعی به ما نمی‌دهند.)
حداقل چندبار باید این پرسش را تکرار کرد تا حاصل ضرب عددهای روی همه کارت‌ها را بدانیم، به شرطی که تعداد کارت‌ها: (a) ۳۰؛ (b) ۳۱؛ (c) ۳۲ باشد؟ در هر حالت ثابت کنید، با تعداد کمتری پرسش، نمی‌توان به نتیجه رسید.

(d) روی محیط دایره‌ای، ۵۰ عدد نوشته شده است که، هر کدام از آن‌ها، برابر «۱+» یا «۱-» است. می‌خواهیم، حاصل ضرب همه این عددها را بدانیم. با هر پرسش، می‌توان به حاصل ضرب سه عدد مجاور هم، پی برد، حداقل چند پرسش لازم است؟

۱۹۰. بین عددهای به صورت $5^k - 3 \cdot 6^k$ ، کوچکترین عدد را، از لحاظ قدرمطلق، پیدا کنید (k و l ، عددهایی طبیعی اند). ثابت کنید، عددی را که پیدا کرده‌اید، به واقع کوچکترین است.

۱۹۱. (a) هر يك از ضلع‌های يك شش ضلعی، محدب، طولی بزرگتر از واحد دارد. آیا همیشه، در این شش ضلعی، می‌توان قطری با طول بزرگتر از ۲ پیدا کرد؟

(b) در شش ضلعی محدب $ABCDEF$ ، طول هر يك از قطرهای AD ، BE و CF از 2 بیشتر است. آیا، در این شش ضلعی، همیشه می توان ضلعی با طول بزرگتر از واحد پیدا کرد؟

۱۹۲. دو دایره، به شعاع های R و r ، مماس خارج اند. دوزنقه های مختلف $ABCD$ را طوری می سازیم که، هر يك از دایره ها، بر هر دو ساق و یکی از قاعده های دوزنقه مماس باشند. حداقل طول ساق AB چقدر است؟

۱۹۳* ✓ روی صفحه، n بردار داده شده است که طول هر کدام از آنها، برابر واحد است. مجموع این n بردار، برابر بردار صفر شده است. ثابت کنید، این بردارها را می توان طوری شماره گذاری کرد که به ازای هر $n, 2, \dots, n-1$ مجموع k بردار اول، طولی بیشتر از 2 نداشته باشد.

۱۹۴. به ازای کدام عددهای حقیقی a, b و c ، برابری

$$|ax+by+cz|+|bx+cy+az|+|cx+ay+bz|=|x|+|y|+|z|$$

برای همه عددهای حقیقی x و y و z برقرار است؟

۱۹۵. مربع $ABCD$ مفروض است. نقطه های P و Q ، به ترتیب، بر ضلع های AB و BC واقع اند و در ضمن $BP=BQ$. H را پای عمودی می گیریم که از B برپاره خط راست PC رسم شده است. ثابت کنید، زاویه DHQ برابر 90 درجه است.

۱۹۶. ✓ چند نقطه قرمز و چند نقطه آبی داده شده است. برخی از آنها را، با پاره خط های راست به هم وصل کرده ایم. يك نقطه را در نظر می گیریم و در حالتی که بیش از نیمی از پاره خط های راست متصل به آن، به نقطه هایی منتهی شده باشند که رنگی مخالف رنگ نقطه مفروض دارند، نقطه مفروض را «ویژه» می نامیم. تصمیم می گیریم، نقطه های «ویژه» را تغییر رنگ بدهیم: در هر گام، یکی از نقطه های ویژه را انتخاب می کنیم و رنگ آن را، بدرنگ مخالف خود درمی آوریم. ثابت کنید، بعد از چند گام، نقطه «ویژه ای» باقی نمی ماند.

۱۹۷ ✓ عددهای طبیعی n و k را طوری پیدا کنید که عدد n^k دارای

k رقم و عدد k^k دارای n رقم باشد.

۱۹۸. روی ضلع های مجاور به زاویه قائمه CA و CB از مثلث قائم الزاویه و متساوی الساقین ABC ، به ترتیب، نقطه های D و E را طوری انتخاب کرده ایم که داشته باشیم: $CD=CE$. امتداد عمودهای وارد از نقطه های D و C بر خط راست AE ، به ترتیب، وتر AB را در K و L قطع کرده اند. ثابت کنید: $KL=LB$.

۱۹۹. دو نفر، روی صفحه شطرنجی 8×8 ، «موش و گربه» بازی می کنند. اولی يك مهره دارد (موش)، و دومی دارای چند مهره است (گره ها). حرکت همه مهره ها، یکسان است: به راست، به چپ، به طرف بالا و به طرف پایین؛ و در هر حرکت يك خانه. اگر موش به یکی از خانه های کناری برسد، می تواند از صفحه به بیرون برود. اگر موش و گربه در يك خانه قرار گیرند، گربه، موش را می خورد.

بازی کن ها، به نوبت، حرکت می کنند؛ در ضمن دومی، در هر حرکت خود، همه گره ها را با هم حرکت می دهد (البته، گره های مختلف، می توانند در جهت های مختلف حرکت کنند). حرکت اول را، موش آغاز می کند. کوشش موش در این است که از صفحه بیرون برود، و گربه ها می خواهند، قبل از فرار موش، به او دسترسی پیدا کنند.

(a) تعداد گره ها را، دو تا می گیریم. موش در یکی از خانه ها - البته، به جز خانه های کناری، قرار دارد. آیا می توان گره ها را در کناره های صفحه طوری جا داد که آنها، بتوانند موش را بخورند؟

(b) سه گره داریم، ولی موش می تواند، بار اول، دو حرکت متوالی انجام دهد. ثابت کنید، گره ها در هر نقطه ای باشند، موش می تواند خود را از دست آنها نجات دهد.

۲۰۰. (a) ثابت کنید، عددهای $1, 2, 3, \dots, 32$ را می توان طوری ردیف کرد که، برای هر دو عددی از این ردیف، نصف مجموع آنها، برابر با هیچ کدام از عددهای واقع در بین آنها، نباشد.

نهمین المپیاد سراسری شوروی
سال ۱۹۷۵ (ساراتوف)

روز دوم	روز اول	کلاس
۲۱۳ ۲۱۴ ۲۱۵	۲۰۵a ۲۰۷ ۲۰۶ ۲۰۵a	:۸
۲۱۶ ۲۱۵ ۲۱۷	۲۰۵b ۲۱۰ ۲۰۶ ۲۰۹	:۹
۲۱۴ ۲۱۸ ۲۱۹	۲۰۸ ۲۰۵b ۲۱۲ ۲۱۱	:۱۰

۲۰۵. (a) مثلث ABC را، دور مرکز دایره محاطی آن، به اندازه زاویهای کوچکتر از ۱۸۰ درجه، دوران داده ایم تا مثلث $A_1B_1C_1$ به دست آید. پاره خطهای راست AB و A_1B_1 در نقطه C_1 . پاره خطهای راست BC و B_1C_1 در نقطه A_1 و پاره خطهای راست CA و C_1A_1 در نقطه B_1 یکدیگر را قطع کرده اند. ثابت کنید، دو مثلث $A_1B_1C_1$ و ABC متشابه اند.

(b) چهارضلعی $ABCD$ را که در دایره ای محاط شده است، دور مرکز دایره محیطی آن، به اندازه زاویهای کمتر از ۱۸۰ درجه دوران داده ایم تا چهارضلعی $A_1B_1C_1D_1$ بدست آید. محل برخورد خطهای راست AB و A_1B_1 ، BC و B_1C_1 ، CD و C_1D_1 ، DA و D_1A_1 را پیدای کنیم. ثابت کنید، چهار نقطه اخیر، راسهای یک متوازی الاضلاع اند.

۲۰۶. مثلث ABC به مساحت واحد داده شده است. دو نفر که با هم بازی می کنند، اولی نقطه X را روی ضلع AB انتخاب می کند، بعد دومی نقطه Y را روی BC و سپس اولی نقطه Z را روی AC در نظر می گیرند. اولی می خواهد، تا آن جا که ممکن است، مساحت مثلث XYZ بیشتر باشد، در حالی که دومی علاقمند است به حداقل مساحت برای این مثلث برسد. اولی، حداکثر بدجه مساحتی دست می یابد؟

۲۰۷. رأس های یک ۳۲ ضلعی محدب در نقطه های گرهی یک صفحه کاغذ شطرنجی قرار دارند. اگر طول ضلع هر خانه برابر واحد باشد، حداقل محیط ۳۲ ضلعی چقدر است؟

۲۰۸*. (a) می خواهیم در یک جدول مربعی ۷×۷ ، مرکزهای k خانه را طوری علامت بگذاریم که، اگر به هر ترتیبی چهار نقطه دلخواه از بین

(b) آیا صد عدد $۱, ۲, ۳, \dots, ۱۰۰$ را می توان طوری ردیف کرد که، نصف مجموع هر دو عدد دلخواه از این ردیف، برابر با هیچ کدام از عددهای واقع در بین آنها، نباشد؟
۲۰۱. عدد سه رقمی A دارای این ویژگی است: اگر واسطه حسابی همه عددهایی را پیدا کنیم که از عدد A و با جا به جا کردن رقم های آن به دست آمده اند، دوباره خود عدد A به دست می آید. همه عددهای A را پیدا کنید.

۲۰۲. چندضلعی محدبی مفروض است و در آن، نمی توانیم هیچ کدام از مثلث های به مساحت واحد را جا بدهیم. ثابت کنید، این چندضلعی را می توان در مثلثی با مساحت ۴ جاداد.

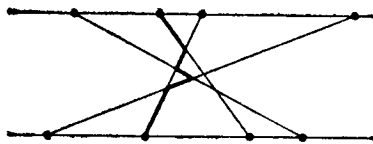
۲۰۳. تابع f ، در بازه $۰ \leq x \leq ۱$ داده شده است. می دانیم، این تابع، غیرمنتهی است و در ضمن $f(۱) = ۱$. به جز این، برای هر دو عدد x_1 و x_2 ، با شرط $x_1 \geq ۰, x_2 \geq ۰, x_1 + x_2 \leq ۱$ داریم:

$$f(x_1 + x_2) \geq f(x_1) + f(x_2)$$

(a) ثابت کنید، برای هر تابع f از این گونه، به ازای هر مقداری از x ، نابرابری $f(x) \leq ۲x$ برقرار است.
(b) آیا درست است که، برای هر مقدار x

$$f(x) \leq ۱/۹x$$

۲۰۴. مثلث ABC با مساحت واحد داده شده است. A_1, B_1, C_1 را، به ترتیب، وسط ضلع های BC, CA, AB می گیریم. اگر K, L, M ، به ترتیب، نقطه هایی واقع بر پاره خط های راست AB_1, CA_1, BC_1 باشند، بخش مشترک مثلث های $A_1B_1C_1$ و KLM ، چه مقسودار مساحتی می تواند داشته باشد؟



شکل ۱۰

ندارد که گام‌ها را به چه ردیفی برداشته‌ایم.

۲۱۵. روی صفحه، نواری داده شده است که دو مرز آن را، دو خط موازی با هم تشکیل می‌دهند. n خط راست، این نوار را قطع کرده است. هر دو خط راست، در درون نوار، یکدیگر را قطع می‌کنند و هیچ سه خط راستی در یک نقطه به هم نمی‌رسند. همه مسیرهایی را در نظر می‌گیریم که، با آغاز از کناره پایین نوار و روی این خط‌های راست، تا کناره بالای نوار امتداد دارند. این مسیرها، باید دارای این ویژگی باشند: ضمن عبور از مسیر، همیشه رو به بالا برویم؛ وقتی که به یک نقطه برخورد می‌رسیم، باید روی خط راست دیگری حرکت کنیم (شکل ۱۰). ثابت کنید، بین این مسیرها

(a) دست کم $\frac{n}{4}$ مسیر، بدون برخورد با یکدیگر وجود دارد؛

(b) مسیری وجود دارد که شامل دست کم n پاره خط راست است؛

(c*) مسیری وجود دارد که شامل بیش از $1 + \frac{n}{4}$ پاره خط راست نیست؛

(d*) مسیری وجود دارد که از طریق هر n خط راست می‌گذرد.

[در کلاس هشتم، بخش‌های (a، b) و (d) برای حالت $n=20$ ؛ و برای

کلاس نهم، بخش‌های (b، c) و (d) در حالت کلی خواسته شده است.]

۲۱۶. عددهای طبیعی k را طوری پیدا کنید که وقتی مکعب به ضلع k را به مکعب‌های به ضلع واحد تقسیم می‌کنیم، بتوان مکعب‌های واحد را طوری به رنگ‌های سیاه و سفید در آورد که، هر مکعب کوچک، درست مجاور با دو مکعب دیگر هم رنگ خود باشد. (دو مکعب را وقتی مجاور هم می‌دانیم که در یک وجه مشترک باشند.)

آن‌ها انتخاب کنیم، رأس‌های یک مستطیل با ضلع‌هایی موازی ضلع‌های مربع نباشند. k حداکثر چه عددی می‌تواند باشد تا به این امر توفیق یابیم؟ (b) همین مسأله را در مورد مربع 13×13 خانه‌ای حل کنید.

۲۰۹. در شش ضلعی مجذب $A_1A_2A_3A_4A_5A_6$ ، وسط قطرهای A_1A_4 ، A_2A_5 و A_3A_6 را، به ترتیب، B_1 ، B_2 ، B_3 ، B_4 ، B_5 و B_6 می‌نامیم. ثابت کنید، اگر شش ضلعی $B_1B_2B_3B_4B_5B_6$ مجذب باشد، مساحت آن، برابر $\frac{1}{4}$ مساحت شش ضلعی $A_1A_2A_3A_4A_5A_6$ است.

۲۱۰. ثابت کنید، با رقم‌های ۱ و ۲ می‌توان 2^{n-1} عدد ساخت، به نحوی که هر کدام از آن‌ها دارای 2^n رقم باشد و، در ضمن، هر دو عدد، دست کم در 2^{n-1} مرتبه خود، با هم اختلاف داشته باشند.

۲۱۱. مجموعه‌ای متناهی از چند ضلعی‌ها، در صفحه داده شده است، به نحوی که هر دو تا از آن‌ها، دارای نقطه مشترکی هستند. ثابت کنید، خط راستی وجود دارد که همه این چند ضلعی‌ها را قطع می‌کند.

۲۱۲. ثابت کنید، برای عددهای مثبت a ، b و c ، این نابرابری برقرار است:

$$a^2 + b^2 + c^2 + 3abc > ab(a+b) + bc(b+c) + ac(a+c)$$

۲۱۳. سه مگس روی ضلع‌های مثلث ABC طوری حرکت می‌کنند که، مرکز ثقل مثلثی که تشکیل می‌دهند، تغییر جا نمی‌دهد. ثابت کنید، این نقطه بر مرکز ثقل مثلث ABC منطبق است، به شرطی که بدانیم، یکی از مگس‌ها، روی تمامی محیط مثلث حرکت می‌کند. (مرکز ثقل یک مثلث، در محل برخورد میان‌های آن واقع است.)

۲۱۴. روی تخته سیاه، چنده، ۱ و ۲ نوشته شده است. در هر گام، دو عدد نابرابر را پاک می‌کنیم و، به جای آن‌ها، عدد سوم را می‌نویسیم (به جای ۵ و ۱، عدد ۲؛ به جای ۵ و ۲، عدد ۱ و به جای ۱ و ۲، عدد ۵). ثابت کنید، اگر بعد از چند گام، تنها یک عدد باقی بماند، این عدد بستگی به این

✓ ۲۱۷. چند جمله‌ای $P(x)$

(a) با ضریب‌های طبیعی؛

(b) با ضریب‌های درست

داده شده است. مجموع رقم‌های عدد $P(n)$ را، در دستگاه عدد نویسی به مبنای ده، a_n می‌نامیم. ثابت کنید، عددی پیدا می‌شود که در دنبالهٔ عددهای $a_1, a_2, \dots, a_n, \dots$ بی‌نهایت بار تکرار شده است.

۲۱۸. در مسابقهٔ قهرمانی جهان و اروپا، ۲۰ تیم شرکت کرده‌اند. در بین این تیم‌ها، k تیم اروپایی وجود دارد که نتیجهٔ مسابقه‌های بین آن‌ها، به حساب مسابقهٔ اروپایی گذاشته می‌شود. مسابقه در یک دور انجام می‌شود. حداکثر k را طوری پیدا کنید که، به ازای آن، بتوان این نتیجه را به دست آورد: تیمی که بیشترین امتیاز را در مسابقه اروپایی به دست آورده است، کمترین امتیاز را در مسابقهٔ جهانی به دست آورده باشد؛ به شرطی که

(a) این مسابقه در هاکی باشد و تساوی هم به حساب آید؛

(b) این مسابقه در والیبال باشد و تساوی به حساب نیاید؟

✓ ۲۱۹. (a) عددهای حقیقی $a_1, a_2, \dots, a_n, b_1, b_2, \dots, b_n$ و عددهای مثبت $p_1, p_2, \dots, p_n, q_1, q_2, \dots, q_n$ مفروض‌اند. ثابت کنید، در جدول 2×2

$$\begin{pmatrix} \frac{a_1+b_1}{p_1+q_1} & \frac{a_1+b_2}{p_1+q_2} \\ \frac{a_2+b_1}{p_2+q_1} & \frac{a_2+b_2}{p_2+q_2} \end{pmatrix}$$

می‌توان عددی را پیدا کرد که از عدد هم‌سطر خود کمتر و از عدد هم‌ستون خود بیشتر نباشد.

(b*) عددهای حقیقی $a_1, a_2, \dots, a_m, b_1, b_2, \dots, b_n$ و عددهای مثبت $p_1, p_2, \dots, p_m, q_1, q_2, \dots, q_n$ مفروض‌اند. جدولی $m \times n$ تشکیل می‌دهیم که در هر خورده سطر i ام ($m, \dots, 2, 1 = i$) با ستون j ام آن ($n, \dots, 2, 1 = j$) عدد

$$\frac{a_i+b_j}{p_i+q_j}$$

قرار گرفته باشد، ثابت کنید، در این جدول عددی پیدا می‌شود که کمتر از هر عدد هم‌سطر خود و بیشتر از هر عدد هم‌ستون خود نباشد.

دهمین المپیاد سراسری شوروی سال ۱۹۷۶ (دوشنبه)

روز اول	روز دوم	کلاس
۲۲۱ ۲۲۲a.b ۲۲۳ ۲۲۵	۲۲۹ ۲۳۰ ۲۳۱	:۸
۲۲۴ ۲۲۵ ۲۲۶ ۲۲۷	۲۳۰ ۲۳۱ ۲۳۲	:۹
۲۲۶ ۲۲۷ ۲۲۸ ۲۲۹	۲۳۱ ۲۳۲ ۲۳۳	:۱۰

✓ ۲۲۰. ۵۰ ساعتی که درست کار می‌کنند، روی میز قرار دارند. ثابت

کنید، لحظه‌ای وجود دارد که، در آن، مجموع فاصله‌های مرکز میز تا انتهای عقربه‌های دقیقه‌شمار، از مجموع فاصله‌های مرکز میز تا مرکز ساعت‌ها، بیشتر است.

✓ ۲۲۱. ۱۰۰۰۰ عدد را در یک سطر پشت سر هم نوشته‌ایم. زیر این

عددها، سطر دوم را با قانون زیر می‌نویسیم: زیر هر عدد a از سطر اول، عددی طبیعی را می‌نویسیم که برابر باشد با تعداد عددهای a در سطر اول. با همین روش، سطر سوم را زیر سطر دوم می‌نویسیم: زیر هر عدد b عددی طبیعی را می‌نویسیم که برابر باشد با تعداد عددهای b در سطر دوم. سپس، با همین روش، سطر چهارم و بعد سطر پنجم و غیره را می‌سازیم.

(a) ثابت کنید، یکی از سطرها، با سطر بعدی خود، یکی درمی‌آید.

(b) دقیق‌تر، ثابت کنید، سطر یازدهم، با سطر دوازدهم، یکی است.

(c) برای سطر اول، نمونه‌ای پیدا کنید که، به ازای آن، سطرهای

دهم و یازدهم برهم منطبق نباشند.

✓ ۲۲۲. سه دایره با شعاع‌های برابر، روی یک صفحه داده شده است.

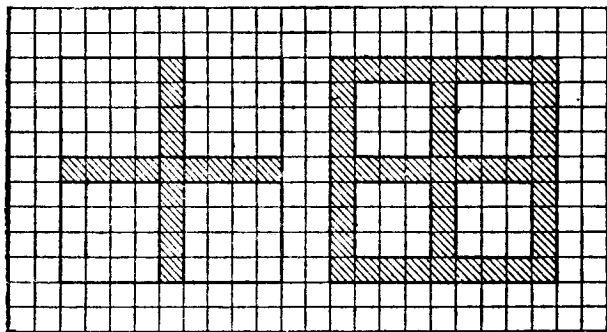
ثابت کنید:

$$|a| + |b| + |c| + |d| \geq |a+d| + |b+d| + |c+d|$$

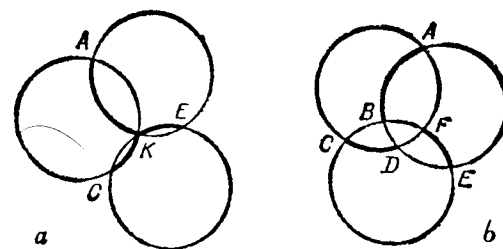
۲۲۶. در ۱۹۷۶ ضلعی منتظم، وسط همهٔ ضلع‌ها و وسط همهٔ قطر‌ها را علامت گذاشته‌ایم. از این نقطه‌ها، حداکثر چند نقطه روی محیط یک دایره‌اند؟

۲۲۷. روی یک صفحهٔ مربع شکل کاغذ، n مستطیل رسم کرده‌ایم، به نحوی که ضلع‌های آن‌ها، موازی با ضلع‌های صفحه باشد. بین این مستطیل‌ها، هیچ دو مستطیلی، دارای نقطهٔ درونی مشترک نیستند. ثابت کنید، اگر همهٔ این مستطیل‌ها را از صفحهٔ مربعی شکل کاغذ جدا کنیم، تعداد قطعه‌های بخش باقی‌ماندهٔ کاغذ، از $n+1$ تجاوز نمی‌کند.

۲۲۸. روی سه جادهٔ مستقیم، سه پیاده، با سرعت‌هایی ثابت حرکت می‌کنند. در لحظهٔ آغاز حرکت، این سه نفر، روی یک خط راست نیستند. ثابت کنید آن‌ها نمی‌توانند، بیش از دو بار، روی یک خط راست قرار گیرند. مهم ✓ ۲۲۹. روی صفحهٔ شطرنجی 99×99 ، شکلی را در نظر گرفته‌ایم (این شکل، در بخش‌های a ، b و c متفاوت است). در هر خانهٔ شکل Φ ، حشره‌ای قرار دارد. در لحظه‌ای، حشره‌ها می‌پرند و دوباره در خانه‌های همان شکل می‌نشینند؛ در ضمن، ممکن است در یک خانهٔ شکل، چند حشره بنشینند. هر دو حشره‌ای که در خانه‌های مجاور هم قرار دارند، بعد از پرواز،



شکل ۱۲ a b



شکل ۱۱

(a) ثابت کنید، اگر این سه دایره، مثل شکل ۱۱، a از یک نقطه بگذرند، مجموع کمان‌های مشخص شدهٔ \widehat{AK} ، \widehat{CK} و \widehat{EK} برابر است با 180° درجه. (b) ثابت کنید، اگر سه دایره در وضع شکل ۱۱، b باشند، مجموع کمان‌های مشخص شدهٔ \widehat{AB} ، \widehat{CD} و \widehat{EF} برابر است با 180° درجه. ۲۲۳. عددهای طبیعی x_1 و x_2 از ۱۰۰۰۰ کوچکترند. با آغاز از این دو عدد، دنبالهٔ $x_1, x_2, x_3, \dots, x_n$ را می‌سازیم که، در آن، x_3 برابر است با $|x_1 - x_2|$ ، x_4 برابر است با کوچکترین عدد از بین عددهای

$$|x_1 - x_2|, |x_2 - x_3|, |x_1 - x_3|$$

x_5 برابر است با کوچکترین عدد از بین عددهای

$$|x_1 - x_2|, |x_2 - x_3|, |x_3 - x_4|, |x_1 - x_3|, |x_1 - x_4|, |x_2 - x_4|, |x_3 - x_4|$$

و به همین ترتیب، برای عددهای بعدی دنباله (هر جملهٔ دنباله، برابر است با کوچکترین عدد از بین قدرمطلق تفاضل‌های دو به‌دوی جمله‌های قبلی). ثابت کنید، در هر حال $x_{21} = 0$.

۲۲۴. آیا می‌توان راس‌های یک مکعب را با عددهای سه رقمی طوری شماره‌گذاری کرد که، اولاً این عددها تنها با رقم‌های ۱ و ۲ ساخته شده باشند، ثانیاً شماره‌های هر دو راس مجاور، دست کم در دو مرتبه از رقم‌های خود با هم اختلاف داشته باشند؟

۲۲۵*. بردارهای a, b, c, d به مجموعه 0 روی یک صفحه داده شده‌اند.

یا دوباره در دوخانه مجاور می‌نشینند و یا هر دو در یک خانه جا می‌گیرند. (دو خانه را، وقتی مجاور هم به حساب می‌آوریم که یک ضلع یا یک رأس مشترک داشته باشند.)

(a) فرض کنید، شکل Φ ، «صایب مرکزی» باشد، یعنی شکلی که شامل خانه‌های افقی و خانه‌های قائم وسط صفحه شطرنجی است (شکل ۱۲، a). ثابت کنید، در این حالت، حشره‌ای وجود دارد که یا به جای خود برمی‌گردد و یا به‌خانه مجاور می‌پرد.

(b) آیا این حکم، برای حالتی که Φ به شکل «چارچوب پنجره‌ای» باشد، یعنی وقتی که شامل صایب مرکزی و همه خانه‌های کناری صفحه باشد، (شکل ۱۲، b)، باز هم درست است؟
(c*) آیا حکم، برای حالتی که شکل Φ ، تمامی صفحه را فرا گرفته باشد، درست است؟

۲۳۰. مثلث را «بزرگ» می‌نامیم، وقتی که طول هر ضلع آن از واحد بیشتر باشد. مثلث متساوی‌الاضلاع ABC ، با طول ضلع ۵، داده شده است. ثابت کنید:

(a) از مثلث ABC می‌توان ۱۰۰ مثلث «بزرگ» جدا کرد؛
(b) مثلث ABC را می‌توان، به‌طور کامل، دست‌کم به ۱۰۰ مثلث «بزرگ» تقسیم کرد.

(c*) مثلث ABC را می‌توان دست‌کم به ۱۰۰ مثلث «بزرگ» طوری تقسیم کرد که، هر دو مثلث «بزرگ» یا متقاطع نباشند، یا تنها یک رأس مشترک داشته باشند و یا ضلع یکی از دو مثلث، ضلع دیگری هم باشد (این نوع تقسیم را، مثلث‌بندی گویند).

(d*) مساله‌های (b) و (c) را، برای مثلث متساوی‌الاضلاع به‌ضلع ۳ حل کنید.

۲۳۱. عدد طبیعی n مفروض است. دنباله عددهای طبیعی a_1, a_2, \dots, a_n را، برای عدد $(k \geq n)$ ، «عام» می‌نامیم، وقتی که بتوان از آن، با خط‌زدن بعضی از جمله‌ها، هر تبدیلی از عددهای ۱، ۲، ...، n را به دست آورد

(بعسعی، هر دنباله‌ای از n عدد که، در آن، هر یک از عددهای ۱، ۲، ...، n یک‌بسیار آمده باشد). مثلاً دنباله

$$(1, 3, 1, 2, 3, 1, 2)$$

برای $n=3$ ، یک دنباله «عام» است، ولی دنباله

$$(1, 3, 1, 2, 3, 2, 1)$$

برای $n=3$ ، عام نیست، زیرا با هر حذفی، نمی‌توان تبدیل $(2, 1, 3)$ را از آن به دست آورد. هدف این مساله آن است که برای به دست آوردن تعداد جمله‌های کوتاه‌ترین دنباله «عام» (با مفروض بودن n)، بر آوردی پیدا کنیم.

(a) نمونه‌ای از یک دنباله «عام» شامل n^2 جمله بدهید.

(b) نمونه‌ای از دنباله «عام» شامل $n^2 - n + 1$ جمله پیدا کنید.

(c*) ثابت کنید، هر دنباله «عام»، دست‌کم دارای $\frac{1}{4}n(n+1)$ جمله است.

(d*) ثابت کنید، به ازای $n=4$ ، کوتاه‌ترین دنباله «عام»، از ۱۲ جمله تشکیل شده است.

(e*) تحقیق کنید، برای عدد مفروض n ، چگونه می‌توان، کوتاه‌ترین دنباله «عام» را پیدا کرد. (هیأت داوران مسابقه می‌توانند، دنباله «عام» را، برای هر n ، با $n^2 - 2n + 4$ جمله بسازد.)

۲۳۲. n عدد حقیقی روی محیط دایره نوشته شده است؛ مجموع این n عدد، برابر صفر و یکی از آن‌ها برابر واحد است.

(a) ثابت کنید، دو عدد مجاور وجود دارد که دست‌کم به اندازه

$$\frac{4}{n}$$

(b*) ثابت کنید، عددی وجود دارد که با واسطه حسابی دو عدد مجاور

خود، دست کم به اندازه $\frac{1}{n^2}$ اختلاف دارد.

(c*) ارزیابی بخش (b) را می توان بهتر کرد. سعی کنید، به جای عدد ۸، عدد بزرگتری قرار دهید. به نحوی که حکم مسأله، برای همه عددهای طبیعی n برقرار باشد.

(d*) ثابت کنید، برای $n=30$ ، می توان عددی روی محیط دایره پیدا کرد که، دست کم، به اندازه $\frac{2}{113}$ با واسطه حسابی دو عدد مجاور خود اختلاف داشته باشد. نمونه ای از انتخاب ۳۰ عدد روی محیط دایره بیاورید، به نحوی که اختلاف هیچ عددی با واسطه حسابی دو عدد مجاور خود، بیشتر از $\frac{2}{113}$ نباشد.

۲۳۳. در رأس های n ضلعی منتظم به مرکز O ، عددهای $(+1)$ و (-1) را قرار داده ایم. در گام اول، تصمیم می گیریم علامت همه عددهایی را که در رأس های یک k ضلعی منتظم به مرکز O قرار دارند، عوض کنیم (در ضمن، پاره خط راستی را هم که از O می گذرد، یک دو ضلعی به مرکز O به حساب می آوریم). ثابت کنید، در حالت های (a)، (b) و (c)، می توان انتخاب اولیه $(+1)$ و (-1) را طوری در نظر گرفت که، با برداشتن هر چند گام، به حالتی که همه عددها $(+1)$ باشند، برسیم:

$$(a) n=15$$

$$(b) n=30$$

(c*) n ، هر عدد دلخواه بزرگتر از ۲

(d*) سعی کنید، برای عدد دلخواه n ، حداکثر $K(n)$ ، تعداد ترتیب های مختلف $(+1)$ و (-1) را پیدا کنید که، در بین آنها، نتوان یکی را از دیگری، با هر چند گام، به دست آورد. مثلاً ثابت کنید: $K(200) = 2^{80}$.
 ۲۳۴*. روی کره به شعاع واحد، دایره عظیمه ای را رسم کرده ایم که آن را، «استوا» می نامیم. به سادگی می توانیم، اصطلاح های جغرافیایی

دیگر را هم به کار ببریم: قطب، نصف النهار، مدار.

(a*) تابع f را، با متناظر کردن هر نقطه کره با مجذور فاصله این نقطه از صفحه استوا، در نظر می گیریم. تحقیق کنید که، این تابع، دارای ویژگی زیر است:

(*) اگر M_1, M_2, M_3 انتهای سه شعاع دو به دو عمود بر هم در کره باشند، آن وقت $f(M_1) + f(M_2) + f(M_3) = 1$.

در همه بخش های بعدی، f عبارت است از تابع غیر منفی دلخواهی روی کره. به نحوی که در همه نقطه های استوا به سمت صفر میل می کند و در ضمن، دارای ویژگی (*) است.

(b) M و N را، نقطه هایی از یک نصف النهار، واقع در بین قطب شمال و استوا فرض می کنیم. ثابت کنید، اگر نقطه M ، دورتر از نقطه N ، نسبت به صفحه استوا باشد، آن وقت $f(M) > f(N)$.

(c) M و N را نقطه های دلخواهی از کمره می گیریم. ثابت کنید، اگر نقطه M ، نسبت به نقطه N ، از صفحه استوا دورتر باشد، آن وقت $f(M) > f(N)$.

(d) ثابت کنید، اگر M و N روی یک مدار باشند، آن وقت

$$f(M) = f(N)$$

(e) ثابت کنید، تابع f ، بر تابعی که در بخش (a) توضیح داده ایم، منطبق است.

یازدهمین المپیاد سراسری شوروی سال ۱۹۷۷ (تالین)

روز دوم				کلاس روز اول			
۲۴۶	۲۴۵	۲۴۴a, b	۲۴۳	۲۳۸	۲۳۷b	۲۳۶	۲۳۵
۲۵۰	۲۴۹	۲۴۸	۲۴۷	۲۴۰	۲۳۵	۲۳۹	۲۳۷a
	۲۴۶	۲۴۴	۲۵۱	۲۳۵	۲۴۲	۲۴۱	۲۳۹
	a, c-e						۲۳۷a

انجام شود تا روی محیط دایره. فقط يك کارت باقی بماند؟
 ۲۳۹. دنباله عددی نامتناهی $\{a_n\}$ داده شده است. می‌دانیم:

$$\lim_{n \rightarrow \infty} \left(a_{n+1} - \frac{1}{4} a_n \right) = 0$$

ثابت کنید: $\lim_{n \rightarrow \infty} a_n = 0$.

۲۴۰. در يك کشور، از هر شهر می‌توانیم به هر شهر دیگری برویم، بدون این که از شهرهای دیگر عبور کنیم. قیمت بلیت مسافرت بین هر دو شهر معلوم است. دو نوع مسافرت به همه شهرها را در نظر می‌گیریم. در هر يك از این مسافرت‌ها، به هر شهر، تنها یکبار می‌رویم. در مسیری که برای مسافرت اول انتخاب می‌کنیم، از این اصل پیروی می‌کنیم: آغاز مسیر، يك شهر دلخواه است؛ در هر مرحله، مسیر خود را به شهری از شهرهای باقی‌مانده انتخاب می‌کنیم که، قیمت بلیت مسافرت به آن جا، نسبت به قیمت بلیت مسافرت به دیگر شهرها کمترین مقدار باشد (اگر چند شهر از این گونه وجود داشته باشد، یکی از آن‌ها را انتخاب می‌کنیم)؛ مسافرت را به همین ترتیب ادامه می‌دهیم تا همه شهرها را ببینیم. در مسیر دوم، برای مسافرت، باز هم آغاز حرکت را، شهری دلخواه می‌گیریم، ولی در هر مرحله، برای مسیر بعدی، شهری را انتخاب می‌کنیم که، بلیت مسافرت به آن، نسبت به بقیه شهرهای باقی‌مانده، گران‌تر باشد. ثابت کنید، مجموع قیمت بلیت‌ها در مسیر اول، از مجموع قیمت بلیت‌ها در مسیر دوم، بیشتر نیست.

۲۴۱. در هر يك از راس‌های چندوجهی محدب M ، سه یال به هم رسیده‌اند. می‌دانیم، هروجه این چندوجهی، يك چندضلعی قابل محاط در دایره است. ثابت کنید، می‌توان کره‌ای را بر این چندوجهی محیط کرد.

۲۴۲*. این چندجمله‌ای را در نظر می‌گیریم:

$$x^{10} + *x^9 + *x^8 + \dots + *x^2 + *x + 1 = 0$$

دو نفر با هم بازی می‌کنند. اولی به جای یکی از ستاره‌ها، يك عدد می‌گذارد،

۲۳۵. يك خط شکسته بسته، که خودش را قطع نکرده است، روی صفحه داده شده است؛ هیچ سدرأسی از خط شکسته، روی يك خط راست نیستند. دو ضلع غیرمجاور آن‌را، «خاص» می‌نامیم. وقتی که ادامه یکی از آن‌ها، دیگری را قطع کند. ثابت کنید، تعداد جفت ضلع‌های خاص، عددی زوج است.

۲۳۶. چند نقطه، که بر يك خط راست واقع نیستند، روی صفحه در نظر می‌گیریم و روی هر کدام از آن‌ها، عددی می‌نویسیم. می‌دانیم، اگر خط راستی از دو یا چند نقطه بگذرد. مجموع همه عددهای واقع بر آن، برابر صفر می‌شود. ثابت کنید همه عددها برابر صفرند.

۲۳۷. (a) مثلث‌های T_1 و T_2 در دایره‌ای محاط‌اند، در ضمن، راس‌های مثلث T_1 در وسط کمان‌هایی از دایره قرار دارند که به وسیله راس‌های مثلث T_2 به وجود آمده‌اند. ثابت کنید، در شش ضلعی $T_1 \cap T_2$ ، قطرهایی که راس‌های روبه‌رو را به هم وصل می‌کنند، با ضلع‌های مثلث T_1 موازی‌اند و در يك نقطه به هم می‌رسند.

(b) پاره خط راستی که وسط کمان‌های AB و AC از دایره محیطی مثلث ABC را به هم وصل می‌کند، ضلع‌های AB و AC را در نقطه‌های D و K قطع می‌کند. ثابت کنید. نقطه‌های A, D, K, O (مرکز دایره محاطی مثلث ABC)، راس‌های يك لوزی‌اند.

۲۳۸. روی محیط دایره‌ای، چند کارت کوچک سیاه و سفید قرار داده‌ایم. دو نفر، به نوبت، این عمل را انجام می‌دهند: اولی همه کارت‌های سیاهی را که در مجاورت خود (ولو در يك طرف) کارت سفیدی دارند بر می‌دارد و، سپس، دومی همه کارت‌های سفیدی را بر می‌دارد که در مجاورت خود کارت سیاهی دارند. این عمل را آن قدر ادامه می‌دهند تا همه کارت‌های باقی مانده، از يك رنگ باشند.

(a) فرض کنید، در ابتدا، ۴۰ کارت وجود داشته باشد. آیا ممکن است این وضع پیش آید که بعد از آن که، هر کدام از دو نفر دو حرکت انجام دادند، روی محیط دایره تنها يك کارت باقی بماند؟

(b) روی محیط دایره هزار کارت وجود دارد. حداقل چند حرکت باید

بعد دومی به جای یکی از ستاره‌های باقی مانده يك عدد مسی گذارد، سپس دوباره نوبت به اولی می‌رسد. به نوبت جای ستاره‌ها را عدد می‌گذارند تا جایی که دیگر ستاره‌های باقی نمانند (روی هم ۹ حرکت). اگر در پایان کار، به چند جمله‌ای برسیم که ریشه‌های حقیقی نداشته باشد، اولی بازی را برده است، و اگر چند جمله‌ای حاصل، دست کم يك ریشه حقیقی داشته باشد، دومی بازی را برده است. آیا دومی می‌تواند، با هر نوع بازی اولی، برنده شود؟

۲۴۳. ۷ نفر پشت يك میز گرد نشسته‌اند. جلوی هر کدام از آن‌ها، يك لیوان است. در بعضی از این لیوان‌ها، مقداری شیر وجود دارد. یکی از افراد، تمامی شیر لیوان خود را در بقیه لیوان‌ها، به طور مساوی، می‌ریزد. بعد، نفر سمت راست او، همین عمل را انجام می‌دهد. سپس نفر سوم در سمت راست نفر دوم، شیر موجود در لیوان خود را بین بقیه، به طور مساوی، تقسیم می‌کند و غیره. وقتی که نفر آخر (هفتمین نفر) شیر خود را به طور مساوی بین بقیه لیوان‌ها تقسیم کرد، معلوم شد، در هر لیوان، همان مقدار شیر وجود دارد که در ابتدا بوده است. اگر مجموع شیرهای همه لیوان‌ها، برابر ۳ لیتر باشد، در آغاز کار، در هر لیوان، چقدر شیر بوده است؟

۲۴۴. عدد $2n$ رقمی را وقتی «خاص» می‌نامیم که، اولاً خود عدد مجذور کامل باشد و ثانیاً، عددهایی که از n رقم اول و، از n رقم آخر به دست می‌آیند، هر دو مجذور کامل باشند (در ضمن، عدد n رقمی دوم می‌تواند با صفر آغاز شود، ولی نباید برابر صفر باشد؛ عدد n رقمی اول، نمی‌تواند با صفر آغاز شود).

(a) همه عددهای «خاص» دورقمی و چهاررقمی را پیدا کنید.

(b) آیا عددهای شش رقمی «خاص» وجود دارد؟ (یا نمونه‌ای از این عددها بدهید و یا ثابت کنید، چنین عددهایی وجود ندارند.)

(c) ثابت کنید، دست کم يك عدد 20 رقمی «خاص» وجود دارد.

(d) ثابت کنید، تعداد عددهای «خاص» 100 رقمی، بیشتر از 10

نیست.

(e*) ثابت کنید، دست کم، يك عدد «خاص» 30 رقمی وجود دارد.

۲۴۵. مجموعه $\{a_1, a_2, \dots, a_n\}$ از عددهای مثبت داده شده است. برای هر زیرمجموعه آن، مجموع عددهایی را که در آن وجود دارد، می‌نویسیم (مجموع عددها، در زیرمجموعه‌های شامل يك، دو، ...، n جمله). ثابت کنید، همه این عددها را می‌توان طوری به n گروه تقسیم کرد که، در هر کدام از آن‌ها، نسبت بزرگترین عدد به کوچکترین عدد، از 2 تجاوز نکند.

۲۴۶. هزار بلیت با شماره‌های $000, 001, 002, \dots, 999$ و صد جعبه با شماره‌های $00, 01, 02, \dots, 99$ در اختیار داریم. بلیت در جعبه‌ای انداخته می‌شود که، با حذف یکی از رقم‌های شماره بلیت، شماره جعبه به دست آید، ثابت کنید:

(a) می‌توان همه بلیت‌ها را در 50 جعبه انداخت؛

(b) همه بلیت‌ها را، در کمتر از 40 جعبه، نمی‌توان جا داد؛

(c*) نمی‌توان همه بلیت‌ها را در کمتر از 50 جعبه جا داد؛

(d*) شماره بلیت‌ها را چهاررقمی می‌گیریم (از 0000 تا 9999) و هر بلیت را در جعبه‌ای می‌اندازیم که، شماره آن، از شماره بلیت، با حذف دو رقم آن به دست آید. ثابت کنید، همه بلیت‌های چهاررقمی را می‌توان در 34 جعبه جا داد.

(e*) حداقل چند جعبه لازم است تا بتوان همه بلیت‌های k رقمی را در آن‌ها جا داد ($k = 4, 5, 6, \dots$)؟

۲۴۷. صفحه شطرنجی مربعی با 100×100 خانه مفروض است. چند خط شکسته غیر متقاطع با خود رسم کرده‌ایم که روی ضلع‌های خانه‌ها ساخته شده‌اند و، در ضمن، نقطه مشترکی با هم ندارند. این خط‌های شکسته، دقیقاً در داخل مربع‌اند، ولی دو انتهای آن‌ها، به مرزهای آن رسیده‌اند. ثابت کنید، به جز راس‌های مربع اصلی، گره‌های دیگری هم (در داخل یا روی مرز مربع) وجود دارند که متعلق به هیچ کدام از خط‌های شکسته نیستند (هر راس يك خانه از صفحه شطرنجی را، يك گره می‌نامیم).

۲۴۸. عددهای طبیعی x_1, x_2, \dots, x_n و y_1, y_2, \dots, y_m مفروض‌اند و

می دانیم:

$$x_1 + x_2 + \dots + x_n = y_1 + y_2 + \dots + y_m < mn$$

ثابت کنید، در برابری

$$x_1 + x_2 + \dots + x_n = y_1 + y_2 + \dots + y_m$$

می توان بخشی از جمله‌ها را، طوری حذف کرد که، دوباره، به يك برابری برسیم.

۲۴۹. ۱۰۰۰ مربع را روی صفحه رسم کرده‌ایم، به نحوی که، ضلع‌های آن‌ها، مساوی با محورهای مختصات باشد، M را، مجموعه مرکزهای این مربع‌ها می‌گیریم، ثابت کنید، می‌توان بخشی از مجموعه مربع‌ها را، طوری جدا کرد که، هر نقطه مجموعه M ، حداقل متعلق به یکی و حداکثر متعلق به چهارتا از مربع‌های جدا شده باشد.

۲۵۰. روی میز، يك ترازو و n وزنه، با وزن‌های مختلف، وجود دارد. وزنه‌ها را به‌نوبت، در کفه‌های ترازو قرار می‌دهیم (هر بار، وزنه‌ای را از روی میز برمی‌داریم و در این یا آن کفه می‌گذاریم).

(a) ثابت کنید، می‌توان وزنه‌ها را طوری ردیف کرد که، ابتدا کفه چپ، بعد کفه راست، سپس دوباره کفه چپ ترازو و غیره، سنگین‌تر باشد.

این دنباله نتیجه‌ها را با حرف‌های R و L نشان می‌دهیم و به‌صورت واژه $LRLRLR\dots$ می‌نویسیم. در این جا، L به معنای آن است که کفه چپ سنگین‌تر است و R ، به معنای سنگین‌تر بودن کفه راست ترازو است.

(b*) ثابت کنید، برای هر واژه به طول n از حرف‌های L و R ، می‌توان وزنه‌ها را به چنان ردیفی تنظیم کرد که، اگر آن‌ها را با همان ردیف به‌نوبت در این یا آن کفه ترازو قرار دهیم، واژه مفروض، متناظر با وضع کفه‌های ترازو باشد.

۲۵۱*. چند جمله‌ای با يك متغیر x و ضریب بزرگ‌ترین درجه واحد n ، در نظر می‌گیریم. چند جمله‌ای‌های P و Q را، قابل جابه‌جایی

می‌نامیم، وقتی که چندجمله‌ای‌های $P(Q(x))$ و $Q(P(x))$ متحد با یکدیگر باشند

(a) برای هر عدد α ، همه چندجمله‌ای‌های $Q(x)$ را پیدا کنید که از درجه سوم تجاوز نکنند و با چندجمله‌ای $P(x) = x^2 - \alpha$ قابل جابه‌جایی باشند.

(b) P را چندجمله‌ای از درجه دوم و k را عددی طبیعی می‌گیریم. ثابت کنید، بیش از يك چندجمله‌ای درجه k وجود ندارد که با P قابل جابه‌جایی باشد.

(c) چند جمله‌ای‌های از درجه ۴ و ۸ را پیدا کنید که با چندجمله‌ای مفروض از درجه دوم، قابل جابه‌جایی باشند.

(d) چندجمله‌ای‌های Q و R ، با چندجمله‌ای مفروض P از درجه دوم، قابل جابه‌جایی‌اند. ثابت کنید، این دو چندجمله‌ای نسبت به هم قابل جابه‌جایی‌اند.

(c) ثابت کنید، دنباله‌ای نامتناهی از چندجمله‌ای‌های $P_1, P_2, P_3, P_4, \dots$ وجود دارد (چندجمله‌ای درجه k است)، به نحوی که هر دو چندجمله‌ای دلخواه از آن، نسبت به هم قابل جابه‌جایی باشند و $P_2 = x^2 - 2$.

دوازدهمین المپیاد سراسری شوروی سال ۱۹۷۸ (تاشکند)

روز دوم	روز اول	کلاس
۲۶۰ ۲۶۱ ۲۶۲ ۲۶۳	۲۵۲ ۲۵۳ ۲۵۴ ۲۵۵	:۸
	a·b	
۲۶۰ ۲۶۱ ۲۶۲ ۲۶۳	۲۵۲ ۲۵۳ ۲۵۴ ۲۵۵	:۹
۲۶۰ ۲۶۱ ۲۶۲ ۲۶۳	۲۵۸ ۲۵۹ ۲۶۰ ۲۶۱	:۱۰
	c·d·e	

۲۵۲. نزدیک‌ترین عدد درست به \sqrt{n} را a_n می‌نامیم. این مجموع را

پیدا کنید:

$$\frac{1}{a_1} + \frac{1}{a_2} + \dots + \frac{1}{a_{1980}}$$

۲۵۳. نقطه M را در درون چهار ضلعی $ABCD$ طوری در نظر می-گیریم که $ABMD$ متوازی الاضلاع شود. ثابت کنید، اگر $\widehat{CBM} = \widehat{CDM}$ ، آن وقت $\widehat{ACD} = \widehat{BCM}$.

۲۵۴. ثابت کنید، عدد $1 - 1978^m$ ، به ازای هیچ عدد طبیعی m ، بر عدد $1 - 1000^m$ بخش پذیر نیست.

۲۵۵. روی صفحه (یاد ر فضا)، مجموعه متناهی K داده شده است. همه نقطه‌هایی را که می توان از راه قرینه يك نقطه نسبت به نقطه دیگر این مجموعه به دست آورد، به K اضافه می کنیم و مجموعه حاصل را K_1 می نامیم. به همین ترتیب، از مجموعه K_1 ، مجموعه K_2 ، از مجموعه K_2 ، مجموعه K_3 و غیره را پیدا می کنیم.

(a) فرض کنید K از دو نقطه A و B به فاصله واحد تشکیل شده باشد. کمترین مقدار n را پیدا کنید که، به ازای آن، در مجموعه K_n نقطه ای وجود داشته باشد که در فاصله 1000 از نقطه A باشد.

(b) K را مجموعه ای از سد نقطه بگیرد که در راس های يك مثلث متساوی الاضلاع به مساحت واحد قرار دارند. مطلوب است مساحت کوچکترین چندضلعی محدبی که مجموعه K_n را در بر گرفته باشد ($n = 1, 2, \dots$).

در بخش های زیر، K عبارت است از مجموعه چهار راس يك چهار-وجهی منتظم با حجم واحد.

(i) کوچکترین چندوجهی محدبی را در نظر می گیریم که مجموعه K_1 را در بر گرفته باشد. تعداد و نوع وجه های این چندوجهی را پیدا کنید.

(ii) حجم این چندوجهی چقدر است؟
(i)* حجم کوچکترین چندوجهی محدبی را پیدا کنید که مجموعه K_n را در بر گرفته باشد ($n = 2, 3, \dots$).

۲۵۶. دو توده چوب کبریت داریم. در ابتدا، در يك توده m چوب کبریت و در دیگری n چوب کبریت وجود دارد ($m > n$). دو نفر، به نوبت، چوب کبریت هایی از توده ها برمی دارند. در هر حرکت، می توان از يك توده، به تعداد مضربی از تعداد چوب کبریت های توده دیگر برداشت (که البته باید مخالف صفر باشد). کسی بازی را برده است که آخرین چوب کبریت را از يك توده بردارد.

(a) ثابت کنید، اگر $m > 2n$ ، آن وقت کسی که بازی را آغاز می کند، می تواند برد خود را تأمین کند.

(b) گزاره زیر به ازای چه مقداری از α درست است: اگر $m > \alpha n$ باشد، آغازکننده بازی می تواند برد خود را تأمین کند؟
۲۵۷*. ثابت کنید، دنباله نامتناهی و کران دار x_n وجود دارد، به نحوی که برای هر دو عدد مختلف و دلخواه m و k داشته باشیم:

$$|x_m - x_k| \geq \frac{1}{|m - k|}$$

۲۵۸. $f(x) = x^2 - x + 1$ می گیریم. ثابت کنید، برای هر عدد طبیعی $m > 1$ ، عددهای $m, f(m), f(f(m)), \dots$ ، دو به دو نسبت به هم اول اند.

۲۵۹. ثابت کنید، عدد A وجود دارد که، به ازای آن، می توان در نمودار تابع $y = A \sin x$ دست کم 1978 مربع دو به دو نابرابر محاط کرد. (مربعی را محاطی می گوئیم، وقتی که هر چهار راس آن، روی نمودار تابع باشد).

۲۶۰. سه کامپیوتر کوچک، زوج عددهای طبیعی را روی کارت ها چاپ می کنند. آن ها، طوری برنامه ریزی شده اند که به ترتیب زیر کار می کنند: اولی با خواندن کارت (a, b) ، کارت جدید $(a + 1, b + 1)$ را می دهد؛ دومی با خواندن کارت (a, b) ، کارت $(\frac{a}{2}, \frac{b}{2})$ را می دهد (دومی تنها وقتی کار می کند که a و b عددهایی زوج باشند)؛ سومی بعد از خواندن دو کارت

(a, b) و (b, c) ، کارت (a, c) را می‌دهد. در ضمن، کامپیوترها، کارت‌های خواننده شده را هم بر می‌گردانند. فرض کنید، در ابتدا، کارت $(5, 19)$ را در اختیار داشته باشیم. آیا می‌توان با استفاده از این سه کامپیوتر (بسه هر ردیفی)، کارت $(a, 105)$ ، کارت $(b, 105)$ را به دست آورد؟

(c) کارت اولیه را (a, b) می‌گیریم $(a < b)$ و می‌خواهیم کارت $(1, n)$ را به دست آوریم. به ازای چه مقداری از n این کار ممکن است؟ **۲۶۱**. درد ایره به شعاع R ، ضلعی به مساحت S را محاط کرده‌ایم. روی هر ضلع n ضلعی، نقطه‌ای را علامت گذاشته‌ایم. ثابت کنید، مساحت n ضلعی که، راس‌های آن در نقطه‌های مشخص شده باشد، از $\frac{2S}{R}$ کمتر نیست.

۲۶۲. مهره‌ای در گوشه صفحه شطرنجی $n \times n$ قرار دارد. هر یک از دو نفری که با هم بازی می‌کنند، به نوبت، مهره را به میدان مجاور (که با میدانی که مهره در آن بود است، یک ضلع مشترک دارد) می‌برد. بار دوم، نمی‌توان مهره را به میدانی برد که قبلاً بوده است. کسی می‌بازد که امکان حرکت نداشته باشد.

(a) ثابت کنید، اگر n عددی زوج باشد، کسی که بازی را آغاز کرده است، می‌تواند ببرد و، اگر n فرد باشد، دومی امکان برد دارد. (b) اگر مهره، به جای گوشه، در میدان مجاور آن باشد، چه کسی امکان برد دارد؟

۲۶۳. روی صفحه، چند پاره‌خط راست غیرمقاطع داده شده است، به نحوی که هیچ دو پاره‌خط راستی بزرگ امتداد نیستند. می‌خواهیم چند پاره‌خط راست دیگر رسم کنیم که هر کدام از آن‌ها، از وصل نقطه‌های انتهایی پاره‌خط‌های راست قبلی بسه دست آمده باشند و، روی هم، همه پاره‌خط‌های راست، یک خط شکسته تشکیل دهند که خودش را قطع نکند. آیا همیشه، این کار ممکن است؟

۲۶۴. عددهای x_1, x_2, \dots, x_n به بازه $[a, b]$ تعلق دارند که، در آن، $0 < a < b$. درستی این نابرابری را ثابت کنید:

$$(x_1 + x_2 + \dots + x_n) \left(\frac{1}{x_1} + \frac{1}{x_2} + \dots + \frac{1}{x_n} \right) \leq \frac{(a+b)^2}{4ab} n^2$$

۲۶۵*. عدد اول $p > 3$ مفروض است. مجموعه M را روی صفحه مختصاتی. شامل نقطه‌هایی با مختصات در سب (x, y) ، طوری در نظر می‌گیریم که داشته باشیم:

$$0 \leq x < p \text{ و } 0 \leq y < p$$

ثابت کنید، می‌توان p نقطه مختلف از مجموعه M را، طوری جدا کرد که، هیچ چهار نقطه‌ای از آن، راس یک متوازی‌الاضلاع و، هیچ سه نقطه‌ای از آن، روی یک خط راست نباشند.

۲۶۶*. ثابت کنید، برای هر چهاروجهی، می‌توان دو صفحه طوری پیدا کرد که، نسبت مساحت‌های دو تصویر چهاروجهی بر آن‌ها، از $\sqrt{2}$ کمتر نباشد.

۲۶۷. n عدد a_1, a_2, \dots, a_n را در نظر می‌گیریم و فرض می‌کنیم:

$$b_k = \frac{a_1 + a_2 + \dots + a_k}{k}, \quad (k = 1, 2, \dots, n);$$

$$C = (a_1 - b_1)^2 + (a_2 - b_2)^2 + \dots + (a_n - b_n)^2;$$

$$D = (a_1 - b_n)^2 + (a_2 - b_n)^2 + \dots + (a_n - b_n)^2$$

ثابت کنید: $C \leq D \leq 2C$.

۲۶۸*. دنباله این عددها را در نظر می‌گیریم:

$$x_n = (1 + \sqrt{2} + \sqrt{3})^n$$

هر کدام از جمله‌های این دنباله، به این صورت درمی‌آیند:

$$x_n = q_n + r_n\sqrt{2} + s_n\sqrt{3} + t_n\sqrt{6}$$

که در آن، q_n, r_n, s_n, t_n ، عددهای درستی هستند. این حدها را پیدا کنید:

$$\lim_{n \rightarrow \infty} \frac{r_n}{q_n}, \lim_{n \rightarrow \infty} \frac{s_n}{q_n}, \lim_{n \rightarrow \infty} \frac{t_n}{q_n}$$

سیزدهمین المپیاد سراسری شوروی سال ۱۹۷۹ (تفلیس)

روز اول	کلاس
۲۷۱ ۲۷۰ ۲۶۹	:۸
۲۷۱ ۲۷۲ ۲۶۹	:۹
۲۷۱ ۲۷۲ ۲۷۳	:۱۰

روز دوم
۲۷۷ ۲۷۶ ۲۷۵ ۲۷۴
۲۸۱ ۲۸۰ ۲۷۹ ۲۷۸
۲۸۳ ۲۸۲ ۲۷۵ ۲۷۴

۲۶۹. سه راس يك مثلث قائم‌الزاویه متساوی‌الساقین، روی سه ضلع مختلف مثلث قائم‌الزاویه متساوی‌الساقین دیگری قرار دارند. حداقل نسبت مساحت‌های این دو مثلث، چقدر است؟

۲۷۰. کانگورو، روی ربع اول دستگاه مختصات Oxy به این ترتیب می‌چهد ($x \geq 0, y \geq 0$): او می‌تواند از نقطه (x_0, y) به نقطه $(y, y+1)$ یا به نقطه $(x-1, y-1)$ بجهد؛ در ضمن، پرش به نقطه‌هایی که، در آن‌ها، یکی از مختص‌ها منفی است، مجاز نیست. کانگورو، از کدام نقطه‌های (x, y) نمی‌تواند خود را به نقطه‌ای برساند که در فاصله بیش از ۱۰۰۰ از مبدأ مختصات باشد؟ مجموعه همه این نقطه‌های (x, y) را رسم و مساحت آن را پیدا کنید.

۲۷۱. در يك مجلس، هر يك از اعضاها، حداکثر سه دشمن دارد. ثابت کنید، این مجلس را می‌توان به دو گروه چنان تقسیم کرد که، هر عضو مجلس، در گروه خود، بیش از يك دشمن نداشته باشد. (فرض بر این است که، اگر B دشمن A باشد، A هم دشمن B است.)

۲۷۲. روی صفحه کاغذ، چند عدد نوشته‌ایم. تصمیم می‌گیریم، به این عددها، عدد دلخواه دیگری اضافه کنیم، با این شرط که، عدد تازه، برابر واسطه حسابی دو یا چند عدد از عددهای موجود باشد و، در ضمن، با هیچ کدام از عددهای قبلی برابر نباشد. ثابت کنید، با آغاز از دو عدد ۰ و ۱، می‌توان با تکرار عمل فوق،

(a) عدد $\frac{1}{5}$ را به دست آورد؛

(b*) هر عدد گویای بین ۰ و ۱ را به دست آورد.

۲۷۳. دنباله نزولی x_n ، از عددهای مثبت، طوری است که برای هر عدد طبیعی n ، داریم:

$$x_1 + \frac{x_2}{2} + \frac{x_3}{3} + \dots + \frac{x_n}{n} \leq 1$$

ثابت کنید، برای هر عدد طبیعی n ، خواهیم داشت:

$$x_1 + \frac{x_2}{2} + \frac{x_3}{3} + \dots + \frac{x_n}{n} \leq 3$$

۲۷۴. چند نقطه روی صفحه داده شده است. برای دو نقطه A و B ، بردار \vec{AB} را در نظر می‌گیریم؛ در ضمن، تعداد بردارهایی که از هر نقطه آغاز شده‌اند، برابر است با تعداد بردارهایی که به این نقطه ختم شده‌اند. ثابت کنید، مجموع همه این بردارها، برابر بردار صفر است.

۲۷۵. حداقل چند مهره باید در میدان‌های صفحه شطرنجی با اندازه‌های (a) 8×8 خانه‌ای؛

(b) $n \times n$ خانه‌ای

قرار داد تا روی هر خط راستی از مرکز يك میدان می‌گذرد و موازی با يك ضلع یا يك قطر صفحه شطرنجی است، دست کم يك مهره واقع باشد؟ (مهره‌ها، در مرکز میدان‌ها قرار دارند.)

۲۷۶. x و y را، در این دستگاه پیدا کنید:

$$\frac{x - y\sqrt{x^2 - y^2}}{\sqrt{1 - x^2 + y^2}} = a, \frac{y - x\sqrt{x^2 - y^2}}{\sqrt{1 - x^2 + y^2}} = b$$

که در آن a و b ، عددهایی مفروض اند.

۲۷۷. چند مربع داریم که، مجموع مساحت‌های آن‌ها، برابر است با

۴. ثابت کنید، با این مربع‌ها، همیشه می‌توان مربع به مساحت واحد را پوشاند.

۲۷۸. ثابت کنید، برای عددهای دلخواه x_1, x_2, \dots, x_n از بازه

$[0, 1]$ ، نابرابری زیر برقرار است:

$$(x_1 + x_2 + \dots + x_n + 1)^2 \geq 4(x_1^2 + x_2^2 + \dots + x_n^2)$$

۲۷۹. عددهای طبیعی p و q نسبت به هم اول اند. بازه $[0, 1]$ را،

به $p+q$ بازه یکسان تقسیم کرده‌ایم. ثابت کنید، در هر یک از این بازه‌ها، به جز دو بازه اول و آخر، درست یکی از $p+q-2$ عدد زیر قرار دارد:

$$\frac{1}{p}, \frac{2}{p}, \dots, \frac{p-1}{p}, \frac{1}{q}, \frac{2}{q}, \dots, \frac{q-1}{q}$$

۲۸۰. از نقطه O واقع در فضا، ۱۹۷۹ خط راست $l_1, l_2, \dots, l_{1979}$ ،

رسم کرده‌ایم، به نحوی که هیچ دو خط راستی بر هم عمود نباشند.

روی خط راست l_1 ، نقطه A_1 را، غیر از نقطه O انتخاب می‌کنیم. ثابت کنید،

می‌توان نقطه‌های A_i را روی خط‌های راست l_i ($i = 2, 3, \dots, 1979$) طوری

انتخاب کرد که، ۱۹۷۹ زوج خط‌های راست زیر بر هم عمود باشند:

$$A_1A_2 \perp l_2, A_2A_3 \perp l_3, \dots, A_{i-1}A_i \perp l_i, \dots$$

$$\dots, A_{1977}A_{1978} \perp l_{1978}, A_{1978}A_{1979} \perp l_{1979}, A_{1979}A_2 \perp l_1$$

۲۸۱*. دنباله متناهی a_1, a_2, \dots, a_n از عددهای 0 و 1 ، باید با شرط

زیر سازگار باشد: برای هر عدد درست k از 0 تا $n-1$ ، مجموع

$$a_1 a_{k+1} + a_2 a_{k+2} + \dots + a_{n-k} a_n$$

عددی فرد باشد.

(a) درباره چنین دنباله‌ای، برای $n=25$ ، بیندیشید.

(b) ثابت کنید، چنین دنباله‌ای، برای مقداری از $n > 1000$ ، وجود

دارد.

۲۸۲. چهارضلعی محدب $ABCD$ را، به وسیله قطرهای آن، به چهار

مثلث تقسیم کرده‌ایم. ثابت کنید، اگر شعاع‌های چهار دایره محاطی این

مثلث‌ها، با هم برابر باشند، چهارضلعی $ABCD$ یک لوزی است.

۲۸۳*. روی خط راستی، نقطه‌های A_1, A_2, \dots, A_n را، به همین

ردیف، طوری قرار داده‌ایم که، طول هر یک از پاره‌خط‌های راست $A_1A_2, A_2A_3, \dots, A_{n-1}A_n$ از واحد تجاوز نکنند. می‌خواهیم $k-1$ نقطه از

نقطه‌های A_1, A_2, \dots, A_{n-1} را طوری بدرنگ قرمز در آوریم که، طول هر دو

بخش دلخواه از k بخشی که به وسیله نقطه‌های قرمز روی پاره‌خط راست

A_1A_n پدید آمده‌اند، اختلافی بیش از واحد نداشته باشند. ثابت کنید، این

عمل را همیشه می‌توان انجام داد:

(a) برای $k=3$ ؛

(b) برای هر عدد طبیعی $k < n-1$.

چهاردهمین المپیاد سراسری اتحاد شوروی

سال ۱۹۸۰ (ساراتوف)

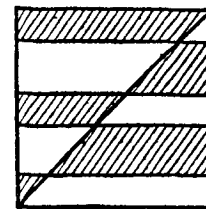
روز دوم	روز اول	کلاس
۲۹۳ ۲۹۴ ۲۹۵ ۲۹۶	۲۸۴ ۲۸۵ ۲۸۶ ۲۸۷	:۸
۲۹۵ ۲۹۷ ۲۹۸ ۲۹۹	۲۸۸ ۲۸۹ ۲۸۶ ۲۹۰	:۹
۳۰۰ ۳۰۱ ۳۰۲ ۳۰۳	۲۹۱ ۲۸۹ ۲۹۲ ۲۹۵	:۱۰

۲۸۴. عددهای دورقمی از ۱۹ تا ۸۰ را از چپ به راست کنار هم

۱۹۲۰۲۱ ... ۷۸۷۹۸۰

آیا این عدد، بر ۱۹۸۰ بخش پذیر است؟

۲۸۵. ضلع قائم AB از مربع $ABCD$ را، به n پاره خط راست طوری تقسیم کرده ایم که، مجموع طول های پاره خط های راست ردیف زوج با مجموع طول های پاره خط های راست ردیف فرد، برابر شود. از نقطه های



شکل ۱۳

تقسیم، پاره خط های راستی موازی با ضلع AD رسم و، سپس، هر یک از n نوار حاصل را، به وسیله قطر BD ، به دو بخش چپ و راست تقسیم کرده ایم. ثابت کنید، مجموع مساحت های بخش های چپ در ردیف های فرد، برابر است با مجموع مساحت های بخش های راست در ردیف های زوج (در شکل ۱۳، این بخش ها را، هاشور زده ایم).

۲۸۶. محموله ای را که در صندوق هایی بسته بندی شده است، باید به ایستگاه فضایی «المیوت» رسانید. تعداد صندوق ها از ۳۵ کمتر نیست و وزن کل محموله، برابر ۱۸ تن است. هفت سفینه فضایی «پروگرس» در اختیار داریم که، هر کدام از آنها، می توانند ۳ تن بار را در مدار قرار دهند. می دانیم، این سفینه ها می توانند با هم، هر ۳۵ صندوق از صندوق های موجود را با خود حمل کنند. ثابت کنید، با این سفینه ها، می توان تمامی بار را در مدار قرار داد.

۲۸۷. نقطه های M و P ، به ترتیب، وسط ضلع های BC و CD از

چهارضلعی $ABCD$ هستند. می دانیم:

$$MP + AP = a$$

ثابت کنید، مساحت چهارضلعی $ABCD$ ، از $a^2 \frac{1}{4}$ کمتر است.

۲۸۸. آیا معادله $x^3 + y^3 = z^3$ ، برای عددهای اول x ، y و z ، جواب دارد؟

۲۸۹. روی قطر AC از دایره ای، نقطه E داده شده است. از نقطه E ، وتر BD را طوری رسم کنید که مساحت چهارضلعی $ABCD$ ، حداکثر مقدار ممکن باشد.

۲۹۰. در ساحل یک دریاچه گرد بزرگ، چند نقطه مسکونی وجود دارد. بین برخی از این نقطه های مسکونی، می توان با کشتی رفت و آمد کرد. می دانیم، تنها وقتی بین دو نقطه، رفت و آمد با کشتی ممکن است که، بین دو نقطه مسکونی بعد از آنها (در جهت عکس حرکت عقربه های ساعت)، این وسیله ارتباطی وجود نداشته باشد. ثابت کنید، از هر نقطه به هر نقطه دیگر، می توان با کشتی مسافرت کرد، به نحوی که حداکثر به دو بار جا به جایی نیاز باشد.

۲۹۱. عددی شش رقمی که ارزش رقم مختلف و مخالف صفر درست شده است، بر ۳۷ بخش پذیر است. ثابت کنید، با جا به جایی رقم های این عدد، می توان دست کم ۲۳ عدد مختلف شش رقمی دیگر به دست آورد که، باز هم، بر ۳۷ بخش پذیر باشند.

۲۹۲. این دستگاه معادله ها را حل کنید:

$$\begin{cases} \sin x + 2 \sin(x + y + z) = 0 \\ \sin y + 3 \sin(x + y + z) = 0 \\ \sin z + 4 \sin(x + y + z) = 0 \end{cases}$$

۲۹۳. روی صفحه، ۱۹۸۰ بردار داده شده است؛ در ضمن، در بین آنها، بردارهای ناهم راستا وجود دارد. می دانیم، مجموع هر ۱۹۷۹ بردار، با برداری که در این مجموع نیامده، هم راستا است. ثابت کنید، مجموع

این ۱۹۸۰ بردار، برابر با بردار صفر است.

۲۹۴. مجموع همه رقم‌های عدد طبیعی n را، با $S(n)$ نشان می‌دهیم. (a) آیا عدد طبیعی n وجود دارد که، برای آن، داشته باشیم:

$$n + S(n) = 1980$$

(b) ثابت کنید، از هر دو عدد طبیعی متوالی، دست کم یکی را می‌توان به صورت $n + S(n)$ ، برای یک عدد طبیعی سوم n ، نوشت.

۲۹۵. بعضی از خانه‌های یک صفحه شطرنجی نامتناهی را به رنگ قرمز و بقیه را به رنگ آبی درآورده‌ایم؛ در ضمن، این رنگ آمیزی به نحوی است که در هر مستطیل ۶ خانه‌ای با اندازه‌های 2×3 ، درست دو خانه قرمز وجود دارد. در یک مستطیل ۹۹ خانه‌ای، با اندازه‌های 9×11 ، چند خانه قرمز می‌تواند وجود داشته باشد؟

۲۹۶. مردمی که در باغ گل زندگی می‌کردند، ناگهان دچار بیماری سرماخوردگی شدند. در یک روز، چند نفر از آن‌ها سرما خوردند و بیمار شدند و، اگر چه پس از آن، کسی به خودی خود دچار سرماخوردگی نشد، کسانی که از دوستان بیمار خود عیادت می‌کردند، مریض می‌شدند. می‌دانیم، هر کسی درست یک روز دچار سرما خوردگی می‌شود؛ در ضمن، چنین فردی، دست کم یک روز مصونیت پیدا می‌کند، یعنی، در این روز، سالم است و دوباره به بیماری سرما خوردگی دچار نمی‌شود. با وجود سرایت بیماری، هر کسی که سالم است، روزانه، از دوستان بیمار خود عیادت می‌کند. وقتی اپیدمی آغاز شد، مردم تلقیح را فراموش کردند و کسی واکسن ضد سرما-خوردگی نزد.

ثابت کنید:

(a) اگر، قبل از اپیدمی، بعضی از افراد واکسن زده باشند و در نخستین روز، مصونیت داشته باشند، آن وقت اپیدمی می‌تواند برای همیشه ادامه پیدا کند؟

(b) ولی اگر در روز اول، کسی مصونیت نداشته باشد، اپیدمی دیر

یا زود به پایان می‌رسد.

۲۹۷. حاصل ضرب همه رقم‌های عدد طبیعی n را، با $P(n)$ نشان می‌دهیم. آیا ممکن است دنباله (n_k) که با دستور برگشتی

$$n_{k+1} = n_k + P(n_k)$$

و جمله اول $n_1 \in \mathbf{N}$ داده شده است، کران دار نباشد؟

۲۹۸. مثلث ABC ، با ضلع‌های برابر، مفروض است. خط راستی موازی با ضلع AC ، خط‌های راست AB و BC را، به ترتیب، در نقطه‌های M و P قطع کرده است. نقطه D را مرکز مثلث PMB و نقطه E را وسط پاره خط AP می‌گیریم. زاویه‌های مثلث DEC را پیدا کنید.

۲۹۹. مکعب مستطیلی با یال‌های به طول x ، y و z سانتی‌متر مفروض است؛ در ضمن

$$p = 4(x+y+z), s = 2(xy+yz+xz), d = \sqrt{x^2+y^2+z^2}$$

را، به ترتیب، محیط، مساحت سطح و قطر مکعب مستطیل می‌گیریم. ثابت کنید، به شرط $x < y < z$ داریم:

$$x < \frac{1}{3} \left(\frac{1}{4}p - \sqrt{d^2 - \frac{1}{4}s} \right),$$

$$z > \frac{1}{3} \left(\frac{1}{4}p + \sqrt{d^2 - \frac{1}{4}s} \right)$$

۳۰۰. مجموعه A از عددهای درست تشکیل شده است؛ کوچکترین عضو آن واحد، و بزرگترین عضو آن ۱۰۰ است. هر عضو A ، به جز واحد، برابر است با مجموع دو عدد (که ممکن است برابر هم باشند) متعلق به این مجموعه. در بین همه مجموعه‌های A ، که با این شرط سازگار باشند، مجموعه با حداقل تعداد جمله‌ها را پیدا کنید.

۳۰۱. ثابت کنید، بی‌نهایت عدد B وجود دارد که، به ازای آن، معادله

$$\left[\sqrt{x^2} \right] + \left[\sqrt{y^2} \right] = B$$

دست کم ۱۹۸۰ جواب، در مجموعه عددهای طبیعی x و y داشته باشد ($[z]$ به معنای بزرگترین عدد درستی است که از z تجاوز نکند).

۳۰۲. در چهاروجهی $ABCD$ ، یال AC بر BC و یال AD بر BD عمود است. ثابت کنید، کسینوس زاویه بین خطهای راست AC و BD ، از $\frac{CD}{AB}$ کمتر است.

۳۰۳. عدد $x \in [0, 1]$ ، به صورت کسر دهدهی نامتناهی نوشته شده است. با جا به جا کردن ۵ رقم اول بعد از ممیز در آن، به ترتیبی دلخواه، دوباره به کسر دهدهی نامتناهی می‌رسیم که، متناظر با عددی مثل x_1 است. اگر در نمایش دهدهی x_1 ، رقم‌های از دوم تا ششم بعد از ممیز را جا به جا کنیم، نمایش دهدهی عدد x_2 به دست می‌آید. به طور کلی، نمایش دهدهی x_{k+1} با جا به جا کردن رقم‌های عدد x_k ، از رقم $1(k+1)$ تا رقم $1(k+5)$ بعد از ممیز به دست می‌آید.

(a) ثابت کنید، صرف نظر از نوع جا به جایی رقم‌ها در هر گام، دنباله عددهای حاصل x_k ، همیشه دارای حد است. این حد را l می‌نامیم.
(b) آیا می‌توان، با این روند، از عددگویای x ، به عدد گنگ l رسید؟
(c) کسر x را طوری پیدا کنید که، برای آن، روند فوق، همیشه منجر به عدد گنگ l شود، بدون توجه به این که، در هر گام، چه تبدیلی از ۵ رقم را جانشین کنیم.

پانزدهمین المپیاد سراسری اتحاد شوروی سال ۱۹۸۱ (آلمان)

روز اول	روز دوم
۲۰۷ ۲۰۶ ۲۰۵ ۲۰۴	۲۱۸ ۲۱۷ ۲۱۶ ۲۱۵
۲۱۰ ۲۰۹ ۲۰۷ ۲۰۸	۲۲۲ ۲۲۱ ۲۲۰ ۲۱۹
۲۱۴ ۲۱۳ ۲۱۲ ۲۱۱	۲۲۶ ۲۲۵ ۲۲۴ ۲۲۳

۳۰۴. دو صفحه شطرنج مساوی 8×8 خانه‌ای، دارای مرکز مشترک اند؛

در ضمن، یکی از آنها، نسبت به دیگری، به اندازه ۴۵ درجه دور مرکز چرخیده است. مجموع مساحت‌های همه بخش‌های متقاطع سیاه این دو صفحه شطرنج را پیدا کنید، به شرطی که مساحت هر خانه، برابر واحد باشد.

۳۰۵. نقطه‌های A, B, M و N روی محیط یک دایره اند. از نقطه M ،

وترهای MA_1 و MB_1 را، به ترتیب، عمود بر خطهای راست NB و NA رسم کرده‌ایم. ثابت کنید، خطهای راست AA_1 و BB_1 موازی اند.

۳۰۶. گوییم عددی دارای ویژگی $P(k)$ است وقتی که بتوان آن را به حاصل ضرب k عدد طبیعی متوالی بزرگتر از واحد تجزیه کرد.

(a) k را طوری پیدا کنید که، به ازای آن، عددی مثل N ، در عین حال، دارای ویژگی‌های $P(k)$ و $P(k+2)$ باشد.

(b) ثابت کنید، عددی وجود ندارد که، در عین حال، دارای دو ویژگی $P(2)$ و $P(4)$ باشد.

۳۰۷. جدولی ۴ سطر دارد. در سطر اول، عددهای طبیعی دلخواهی

نوشته شده است، که در بین آنها، عددهای برابر هم می‌تواند باشد. سطر دوم، به این ترتیب پر شده است: از چپ به راست به عددهای سطر اول نگاه می‌کنیم و، زیر عدد a ، عدد k را می‌نویسیم، به شرطی که عدد a در سطر اول (و در سمت راست آن) k بار آمده باشد. با همین روش، سطر سوم را زیر سطر دوم، و سطر چهارم را زیر سطر سوم می‌نویسیم. ثابت کنید، سطر دوم و سطر چهارم، همیشه یکسان درمی‌آیند.

۳۰۸. عدد a داده شده است. مطلوب است، کمترین مقدار مساحت

مستطیلی که ضلع‌هایی موازی محورهای مختصات Ox و Oy داشته باشد و، در ضمن، شکلی را که از دستگاه نامعادله‌های زیر به دست می‌آید، در بر بگیرد:

$$\begin{cases} y \leq -x^2 \\ y \geq x^2 - 2x + a \end{cases}$$

۳۰۹. مثلث‌های متساوی‌الاضلاع ABC ، CDE و EHK مفروض‌اند (راس‌ها را در جهت عکس حرکت عقربه‌های ساعت در نظر بگیرید) و طوری روی صفحه قرار گرفته‌اند که داریم: $\vec{AD} = \vec{DK}$. ثابت کنید، مثلث BHD هم، متساوی‌الاضلاع است.

۳۱۰. در محله‌ای ۱۰۰۰ نفر زندگی می‌کنند. هر روز هریک از آن‌ها، خبرهای تازه‌ای را که دیروز شنیده است، با همه آشناهای خود در میان می‌گذارد. می‌دانیم که، هر خبر تازه‌ای، سرانجام به گوش همه ساکنان محله می‌رسد.

ثابت کنید، می‌توان از بین افراد محله، ۹۰ نفر طوری انتخاب کرد که، اگر همه آن‌ها را از خبر تازه‌ای آگاه کنیم، بعد از ۱۰ روز، همه ساکنان محله آن را شنیده باشند.

۳۱۱. درباره عددهای a و b می‌دانیم که نامعادله

$$a \cos x + b \cos 3x > 1$$

جواب ندارد. ثابت کنید $|b| \leq 1$.

۳۱۲. نقطه‌های M و K ، وسط ضلع‌های AB و CD از چهارضلعی محدب $ABCD$ هستند؛ نقطه‌های L و N روی دو ضلع دیگر چهارضلعی طوری قرار گرفته‌اند که، چهارضلعی $KLMN$ ، یک مستطیل شده است. ثابت کنید، مساحت چهارضلعی $ABCD$ ، دو برابر مساحت مستطیل $KLMN$ است.

۳۱۳*. همه دنباله‌های (a_n) از عددهای طبیعی را طوری پیدا کنید که دو شرط زیر برقرار باشند:

الف) به ازای هر n داشته باشیم: $a_n \leq n\sqrt{n}$

ب) به ازای هر دو عدد مختلف m و n ، تفاضل $a_m - a_n$ بر $m - n$ بخش پذیر باشد.

۳۱۴*. آیا می‌توان همه خانه‌های یک جدول مستطیلی را، طوری به رنگ‌های سیاه و سفید درآورد که، تعداد خانه‌های سیاه با تعداد خانه‌های

سفید برابر باشد، ولی در هر سطر و هر ستون، بیش از $\frac{3}{4}$ خانه‌ها از یک رنگ باشند؟

۳۱۵. ثابت کنید، اگر چهارضلعی‌های $ACPH$ ، $AMBE$ ، $AHBT$ ، $BKXM$ ، $CKXP$ متوازی‌الاضلاع باشند، آن وقت چهارضلعی $ABTE$ هم یک متوازی‌الاضلاع است (رأس‌های همه چهارضلعی‌ها را، در جهت عکس حرکت عقربه‌های ساعت به حساب آورید).

۳۱۶. این معادله را، در مجموعه عددهای طبیعی x و y حل کنید:

$$x^3 - y^3 = xy + 61$$

۳۱۷. در یک مسابقه فوتبال، ۱۸ تیم، در ۸ مرحله با هم بازی کرده‌اند: هر تیم با هشت تیم مختلف بازی کرده است. ثابت کنید، سه تیم پیدا می‌شود که هنوز با هم حتی یک مسابقه هم نداده‌اند.

۳۱۸. نقطه‌های C_1 ، A_1 و B_1 را، به ترتیب، روی ضلع‌های AB ، BC و CA از مثلث ABC طوری انتخاب کرده‌ایم که داشته باشیم:

$$AC_1 : C_1B = BA_1 : A_1C = CB_1 : B_1A = \frac{1}{3}$$

اگر P را محیط مثلث ABC و p را محیط مثلث $A_1B_1C_1$ بگیریم، ثابت کنید:

$$\frac{1}{4}P < p < \frac{3}{4}P$$

۳۱۹. ثابت کنید، اگر عددهای مثبت x و y در معادله

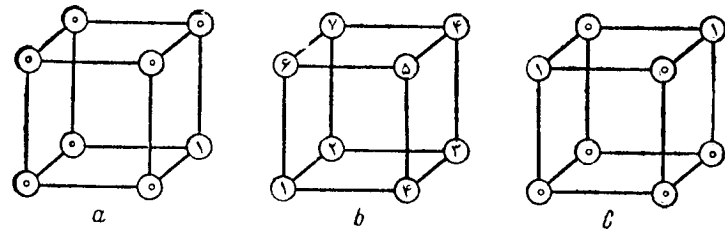
$$x^2 + y^2 = x - y$$

صدق کنند، آن وقت $x^2 + y^2 < 1$.

۳۲۰. دانش آموزی می‌خواهد یک چندضلعی محدب را، که در دایره‌ای به شعاع واحد قرار دارد، رسم کند. ابتدا، یکی از ضلع‌ها را رسم می‌کند،

از انتهای آن ضلع دوم، سپس، از انتهای ضلع دوم، ضلع سوم و غیره را رسم می‌کند. در پایان کار متوجه می‌شود که چند ضلعی وابسته نیست و آخرین خط راستی که به دست آورده است، به فاصله d از رأس اول قرار دارد. می‌دانیم، دانش آموز زاویه‌ها را با دقت رسم کرده و خطای نسبی او، در رسم هر ضلع، از عدد p تجاوز نمی‌کند. ثابت کنید: $d \leq 4p$.

۳۲۱. در هر رأس مکعب، عددی نوشته‌ایم. در یک گام، به دو عددی که روی یک یال دلخواه قرار دارند، یک واحد اضافه کرده‌ایم. آیا می‌توان،



شکل ۱۴

بعد از چند گام، هر هشت عدد را مساوی کرد، به شرطی که عددهای اولیه مطابق شکل $14 - a$ باشند؟ در باره عددهای شکل $14 - b$ چطور؟ و در باره عددهای شکل $14 - c$ ؟

۳۲۲. دست کم یک عدد طبیعی n را پیدا کنید، به نحوی که، هر یک از عددهای

$$n, n+1, n+2, \dots, n+20$$

با عدد $13 \times 11 \times 7 \times 5 \times 3 \times 2 = 30030$ ، مقسوم علیه مشترکی بزرگتر از واحد داشته باشد.

۳۲۳. هر یک از عددهای طبیعی از ۱۰۰ تا ۹۹۹ را روی یک کارت نوشته‌ایم. کارت‌ها را روی میز طوری می‌گذاریم که عددها دیده نشوند (به طرف پایین باشند)؛ سپس، آن‌ها را مخلوط می‌کنیم و در یک ستون قرار می‌دهیم. کارت‌های ستون را، یکی بعد از دیگری، برمی‌گردانیم، آن‌ها را طبقه‌بندی می‌کنیم و، روی هم، در ستون‌هایی، به ترتیب، از عددهای کوچکتر

قرار می‌دهیم، به نحوی که عددها دیده شوند (رو به بالا باشند). در ستون اول، همه عددهایی که به ۰ ختم شده‌اند؛ در ستون دوم، همه عددهایی که به ۱ ختم شده‌اند و غیره. همه این ستون‌ها را در یک ستون جمع می‌کنیم: ستون دوم را روی ستون اول، سپس روی آن ستون سوم را، و سرآخر ستون دهم را، ستونی را که به دست می‌آید، برمی‌گردانیم و دوباره طبقه‌بندی می‌کنیم، منتهی این بار، بعد از برگرداندن هر کارت و خواندن عدد روی آن، آن‌ها را بر حسب رقم دوم خود، در ستون‌های جداگانه قرار می‌دهیم. مثل حالت قبل، این ستون‌ها را جمع می‌کنیم (به ترتیب صعودی، نسبت به رقم دوم). برای بار آخر، آن‌ها را، نسبت به رقم سمت چپ، طبقه‌بندی و، سپس، در یک ستون جمع می‌کنیم. بعد از طبقه‌بندی آخر، عددهای روی کارت‌ها، به چه ردیفی قرار گرفته‌اند؟

۳۲۴. در مستطیلی با ضلع‌های برابر ۳ سانتی‌متر و ۴ سانتی‌متر، نقطه قرار گرفته‌اند. ثابت کنید، دو نقطه پیدا می‌شود که، فاصله بین آن‌ها، از $\sqrt{5}$ سانتی‌متر تجاوز نمی‌کند.

۳۲۵. a) حداقل مقدار این چندجمله‌ای را پیدا کنید:

$$P(x, y) = 4 + x^2 y^4 + x^4 y^2 - 3x^2 y^2$$

b^*) ثابت کنید، این چندجمله‌ای را نمی‌توان به صورت مجموع مجذورهای چندجمله‌ای‌هایی از دو متغیر x و y نوشت.

۳۲۶. پاره‌خط‌های راست AD ، BE و CF یال‌های جانبی موازی، از یک منشور مثلث القاعده را تشکیل می‌دهند. روی قاعده ABC این منشور همه نقطه‌هایی را پیدا کنید که، از خط‌های راست AE ، BF و CD به یک فاصله باشند.

شانزدهمین المپیاد سراسری اتحاد شوروی

سال ۱۹۸۲ (۱۹۵۱)

روز دوم	روز اول	کلاس
۲۴۰ ۲۳۹ ۲۳۸ ۲۳۷	۲۳۰ ۲۲۹a ۲۲۸ ۲۲۷	:۸
۲۴۴ ۲۴۳ ۲۴۲ ۲۴۱	۲۳۴ ۲۳۳ ۲۳۲ ۲۳۱	:۹
۲۴۸ ۲۴۷ ۲۴۶ ۲۴۵	۲۳۶ ۲۲۹b ۲۳۲ ۲۳۵	:۱۰

$$M_1 = S(M), M_2 = S(M_1), \dots, M_k = S(M_{k-1})$$

خط شکسته بسته‌ای وجود دارد که با خط شکسته M متجانس است.

۳۳۷. عددهای طبیعی از ۱ تا ۱۹۸۲ را، یکی پس از دیگری، به ردیفی دلخواه نوشته‌ایم. کامپیوتر، دو به دو عددهای مجاور را، از چپ به راست، مورد بررسی قرار می‌دهد (اولی و دومی، دومی و سومی و غیره) و هر جا عدد بزرگتر در سمت چپ عدد کوچکتر قرار داشته باشد، جای آن‌ها را با هم عوض می‌کند. سپس دوباره، از راست به چپ، دوبه‌دو عددهای مجاور را بررسی می‌کند و، طبق همان قانون، در صورت لزوم، جای عددها را با هم عوض می‌کند. بعد از پایان این برنامه، معلوم شد، عددی که در جای صدم قرار داد، در هر دو بار، بدون تغییر جا باقی مانده است. این عدد را پیدا کنید.

۳۳۸. رودخانه‌ای در منطقه نزدیک به مصب خود، چند جزیره پدید آورده است که مجموع محیط‌های همه آن‌ها برابر ۸ متر است. می‌خواهیم از نقطه‌ای واقع در یک طرف رود، با قایق به طرف دیگر آن برویم. در فاصله بین این نقطه و کناره دیگر رود، جزیره‌ها قرار گرفته‌اند. ثابت کنید، از این نقطه به نقطه‌ای در کناره دیگر، کمتر از ۳ متر راه با قایق وجود دارد. دو کناره رود با هم موازی و عرض رودخانه برابر یک متر است.

۳۳۹. نمودار تابع $y = x^2$ را روی صفحه مختصات Oxy رسم کرده‌ایم. سپس، محورهای مختصات را پاک کرده و تنها سهمی را باقی گذاشته‌ایم. به کمک پرگار و خط‌کش، چگونه می‌توان محورها و واحد طول را باز سازی کرد؟

۳۴۰. خانه‌های یک جدول مربعی $n \times n$ را، با عددهای درست پر کرده‌ایم. در ضمن، در هر دو خانه‌ای که یک ضلع مشترک دارند، عددهایی گذاشته‌ایم که اختلاف آن‌ها، از واحد تجاوز نمی‌کند. ثابت کنید، در جدول، دست کم به یک عدد برخورد می‌کنیم که

(a) لا اقل $\left\lfloor \frac{n}{2} \right\rfloor$ مرتبه تکرار شده است (منظور از $[a]$ ، بخش درست

عدد a است)؛

(b) لا اقل n بار تکرار شده است.

۳۴۱. درستی این نابرابری را، برای همه مقادیر مثبت x ، ثابت کنید:

$$\sqrt[12]{x} + \sqrt[4]{x} \geq 2 \times \sqrt[6]{x}$$

۳۴۲. از مجموعه عددهای ۱، ۲، ...، ۱۹۸۲، دست کم چند عدد باید حذف کرد تا هیچ کدام از عددهای باقی مانده، برابر با حاصل ضرب دو عدد دیگر باقی مانده نباشد؟ به چه ترتیبی، باید این کار را انجام داد؟

۳۴۳. در هر خانه از یک صفحه شطرنجی نامتناهی، یک عدد حقیقی نوشته‌ایم. ثابت کنید، می‌توان خانه‌ای پیدا کرد که، عدد آن، دست کم از عددهای چهارخانه از هشت خانه‌ای که آن را احاطه کرده‌اند، تجاوز نمی‌کند. ۳۴۴. ثابت کنید، از هر دنباله عددهای حقیقی a_1, a_2, \dots, a_n ، می‌توان بخشی از عددها را طوری جدا کرد که با سه شرط زیر سازگار باشند: الف) هیچ سه عددی را که در دنباله، پشت سر هم قرار دارند، با هم انتخاب نکرده باشیم؛

ب) از بین هر سه عدد متوالی در دنباله، دست کم یکی را در نظر گرفته باشیم؛

ج) قدر مطلق مجموع عددهایی که انتخاب کرده‌ایم، از مقدار زیر کمتر نباشد:

$$\frac{|a_1| + |a_2| + \dots + |a_n|}{6}$$

۳۴۵. $n-1$ خانه از یک جدول مربعی $n \times n$ را علامت گذاشته‌ایم. ثابت کنید، با جا به جایی سطرها نسبت به هم و جا به جایی ستون‌ها نسبت به هم، می‌توان به جدولی رسید که همه خانه‌های علامت دار، در زیر قطرهای جدول باشند.

۳۴۶. ثابت کنید، برای هر عدد طبیعی n و هر عدد حقیقی a ، نابرابری زیر برقرار است:

$$|a| \cdot |a-1| \cdot |a-2| \dots |a-n| \geq \langle a \rangle \frac{n!}{2^n}$$

که در آن، $\langle a \rangle$ عبارت است از فاصله عدد a تا نزدیک‌ترین عدد درست به آن و $n! = 1 \times 2 \times \dots \times n$

۳۴۷. آیا چندجمله‌ای‌های

$$P = P(x, y, z), Q = Q(x, y, z), R = R(x, y, z)$$

از متغیرهای x و y و z وجود دارند، به نحوی که، این اتحاد برقرار باشد:

$$(x-y+1)^2 P + (y-z-1)^2 Q + (z-x+1)^2 R = 1$$

(b) همان پرسش، برای اتحاد

$$(x-y+1)^2 P + (y-z-1)^2 Q + (z-x+1)^2 R = 1$$

۳۴۸. رأس‌های چهاروجهی $KLMN$ ، روی وجه‌ها یا یال‌های

چهاروجهی دیگر $ABCD$ قرار دارند. ثابت کنید، مجموع طول‌های همه

یال‌های چهاروجهی $KLMN$ از $\frac{4}{3}$ مجموع همه یال‌های چهاروجهی

$ABCD$ کمتر است.

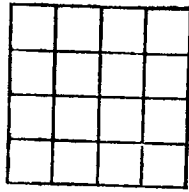
هفدهمین المپیاد سراسری اتحاد شوروی

سال ۱۹۸۳ (کی‌شی‌نف)

روز دوم	روز اول	کلاس
۲۶۲ ۲۶۲ ۲۶۱ ۲۶۰	۲۵۲ ۲۵۱ ۲۵۰ ۲۴۹	:۸
۲۶۷ ۲۶۶ ۲۶۵ ۲۶۴	۲۵۶ ۲۵۵ ۲۵۴ ۲۵۳	:۹
۲۷۰ ۲۶۹ ۲۶۸ ۲۶۰	۲۵۹ ۲۵۸ ۲۵۴ ۲۵۷	:۱۰

۳۴۹. در شبکه شکل ۱۵، هر خانه دارای اندازه 1×1 است. آیا

می‌توان، این شبکه را: (a) به صورت اجتماعی از هشت خط شکسته نشان



شکل ۱۵

داد، به نحوی که طول هر کدام از آن‌ها برابر ۵ باشد؛ (b) به صورت اجتماعی

از پنج خط شکسته نشان داد، به نحوی که طول هر کدام از آن‌ها، برابر ۸ باشد؟

۳۵۰. سه عدد درست را روی تخته سیاه نوشته‌ایم. یکی از عددها

را پاک کرده‌ایم و، به جای آن، عددی را نوشته‌ایم که از مجموع دو عدد

دیگر یک واحد کمتر باشد. این عمل را چند بار تکرار کرده‌ایم و، در نتیجه،

به عددهای ۱۷، ۱۹۶۷ و ۱۹۸۳ رسیده‌ایم. آیا ممکن است، در ابتدا،

روی تخته سیاه، عددهای (a) ۲، ۲، ۲ (b) ۳، ۳، ۳ نوشته شده باشد؟

۳۵۱. سه دایره، در نقطه‌های X ، Y و Z ، دایره دو بر هم مماس

بیرونی‌اند. شعاع‌های دایره‌ها را $\frac{2}{\sqrt{3}}$ برابر می‌کنیم و مرکزهای آن‌ها را

ثابت نگاه می‌داریم. ثابت کنید، هر نقطه مثلث XYZ ، دست کم به وسیله یکی

از دایره‌ها پوشیده می‌شود.

۳۵۲. چند عدد طبیعی مختلف، که بین مجذورهای دو عدد طبیعی متوالی

قرار دارند، داده شده‌اند. ثابت کنید، همه حاصل ضرب‌های دوی آن‌ها

هم، عددهایی مختلف‌اند.

۳۵۳. همه جواب‌های این دستگاه معادله‌ها را پیدا کنید:

$$\begin{cases} y^2 = x^2 - 3x^2 + 2x \\ x^2 = y^2 - 3y^2 + 2y \end{cases}$$

۳۵۴. عدد طبیعی k ، در دستگاه دهدهی، دارای n رقم است. این عدد

را در مرتبه دهگان گرد کرده‌ایم (به جای رقم یکان، صفر گذاشته‌ایم؛ و اگر رقم

یکان از ۴ بزرگتر باشد، یک واحد به رقم دهگان اضافه کرده‌ایم). سپس، به همان ترتیب، عدد حاصل را در مرتبه صدگان گرد کرده‌ایم و غیره. بعد از

$(n-1)$ امین گام، عدد k_1 به دست آمده است. ثابت کنید: $k_1 < \frac{18}{13}$.

۳۵۵. نقطه D وسط ضلع AB ، و نقطه‌های E و F به ترتیب روی پاره‌خط‌های راست AC و BC از مثلث ABC قرار دارند. ثابت کنید، مساحت مثلث DEF ، از مجموع مساحت‌های دو مثلث ADE و BDF تجاوز نمی‌کند.

۳۵۶. (α_n) و (β_n) دنباله‌هایی هستند که، به ترتیب، از آخرین رقم‌های عددهای درست $[(\sqrt{10})^n]$ و $[(\sqrt{2})^n]$ درست شده‌اند (در این جا، $[x]$ به معنای بخش درست عدد x است). آیا دنباله‌های (α_n) و (β_n) متناوب‌اند؟

۳۵۷. α و β دو زاویه حاده‌اند و می‌دانیم:

$$\sin^2 \alpha + \sin^2 \beta = \sin(\alpha + \beta)$$

ثابت کنید: $\alpha + \beta = \frac{\pi}{4}$.

۳۵۸. راس‌های چهاروجهی $ABCD$ را، به طور قائم، بر دو صفحه تصویر کرده‌ایم. این تصویرها را، به ترتیب، A_1, B_1, C_1, D_1 و A_2, B_2, C_2, D_2 می‌نامیم. ثابت کنید، یکی از صفحه‌ها را می‌توان در فضا طوری جا به جا کرد که $A_1 A_2, B_1 B_2, C_1 C_2$ و $D_1 D_2$ با هم موازی باشند.

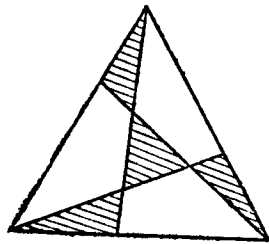
۳۵۹. دانش آموزی، حل معادله‌های درجه دوم را تمرین می‌کند. هر معادله‌ای را که حل می‌کند، به شرط داشتن ریشه‌های حقیقی، معادله دیگری به کمک ریشه‌های آن، به ترتیب زیر، می‌سازد: ریشه بزرگتر را به جای جمله آزاد (مقدار ثابت) معادله جدید و ریشه کوچکتر را در ضریب x قرار می‌دهد؛ ضریب x^2 را هم واحد انتخاب می‌کند. ثابت کنید، این تمرین را، نمی‌تواند تا بی‌نهایت ادامه دهد. بیشترین تعداد معادله‌هایی که می‌تواند به این ترتیب، پشت هر هم، حل کند، چقدر است؟

۳۶۰. عددهای طبیعی m و n و k چنان‌اند که عدد m^n بر n^m و عدد n^k بر k^n بخش پذیر است. ثابت کنید، عدد m^k بر k^m بخش پذیر است.

۳۶۱. در زبان قبیله «آبا»، دو حرف وجود دارد. می‌دانیم، هیچ واژه‌ای از این زبان، در آغاز واژه دیگری قرار نگرفته است (یعنی نمی‌توان یک واژه را طوری به دو بخش تقسیم کرد که، بخش اول آن، معنا داشته باشد). آیا واژه‌نامه این زبان، می‌تواند شامل ۳ واژه چهار حرفی، ۱۰ واژه پنج حرفی، ۳۰ واژه شش حرفی و ۵ واژه هفت حرفی باشد؟

۳۶۲. آیا می‌توان در خانه‌های یک صفحه شطرنجی نامتناهی، عددهای درست را طوری قرار داد که در هر مستطیل 4×6 آن (که ضلع‌هایی در امتداد ضلع‌های خانه‌ها دارد)، مجموع عدد: a برابر ۱۰، b برابر ۱ شود؟

۳۶۳. چهار مثلثی که در شکل ۱۶ هاشور خورده‌اند، مساحت‌هایی برابر دارند. ثابت کنید، مساحت‌های سه چهارضلعی، که هاشور نخورده‌اند، با هم برابرند. اگر مساحت یکی از مثلث‌ها، برابر یک سانتی‌متر مربع باشد، مساحت یکی از چهارضلعی‌ها چقدر است؟



شکل ۱۶

۳۶۴. بچه‌های مهدکودک را در دو ستون در کنار هم قرار داده‌اند. می‌دانیم، در هر ستون، تعداد پسرها با تعداد دخترها برابر است و، همچنین، تعداد ردیف‌های دو نفری که، در آن‌ها، یک پسر و یک دختر وجود دارد، با تعداد بقیه ردیف‌های دو نفری برابر است. ثابت کنید، تعداد کل بچه‌ها، بر ۸ بخش پذیر است.

۳۶۵. یکی از ضلع‌های مستطیلی برابر ۱ سانتی‌متر است. به جز این

۳۷۰. در بسط نامتناهی عدد حقیقی a ، در دستگاه عددنویسی به مبنای ۱۰، همه رقم‌ها وجود دارد. فرض کنید، 10^n به معنای تعداد پاره‌خط‌های رقمی مختلف به طول n باشد، که در این بسط با آن‌ها برخورد می‌کنیم. ثابت کنید، اگر برای مقداری از n ، شرط $n+8 \leq 10^n$ برقرار باشد، آن وقت، a ، عددی گویاست.

هیجدهمین المپیاد سراسری اتحاد شوروی
سال ۱۹۸۴ (عشق آباد)

روز دوم	کلاس	روز اول
۲۸۶ ۲۸۵ ۲۸۴ ۲۸۳	۸	۲۷۴ ۲۷۳ ۲۷۲ ۲۷۱
۲۹۵ ۲۸۹ ۲۸۸ ۲۸۷	۹	۲۷۸ ۲۷۷ ۲۷۶ ۲۷۵
۲۹۴ ۲۹۳ ۲۹۲ ۲۹۱	۱۰	۲۸۲ ۲۸۱ ۲۸۰ ۲۷۹

۳۷۱. حاصل ضرب n عدد درست برابر n و مجموع آن‌ها برابر صفر شده است. ثابت کنید، عدد n بر ۴ بخش پذیر است.

(b) n را عددی طبیعی و بخش پذیر بر ۴ می‌گیریم. ثابت کنید، می‌توان n عدد درست طوری پیدا کرد که حاصل ضرب آن‌ها برابر n و مجموع آن‌ها برابر صفر باشد.

۳۷۲. a و b ، عددهایی غیرمنفی و دلخواه هستند. ثابت کنید:

$$\frac{1}{4}(a+b)^2 + \frac{1}{4}(a+b) \geq a\sqrt{b} + b\sqrt{a}$$

۳۷۳. دو مثلث متساوی‌الاضلاع $A_1B_1C_1$ و $A_2B_2C_2$ ، روی صفحه داده شده‌اند؛ رأس‌های این مثلث‌ها، در جهت حرکت عقربه‌های ساعت، نام گذاری شده است. از نقطه‌ای مثل O ، بردارهای \vec{OA} ، \vec{OB} و \vec{OC} را، به ترتیب، برابر بردارهای $\vec{A_1A_2}$ ، $\vec{B_1B_2}$ و $\vec{C_1C_2}$ رسم کرده‌ایم. ثابت کنید، نقطه‌های A ، B و C هم، رأس‌های یک مثلث متساوی‌الاضلاع‌اند.

۳۷۴. چهار رنگ و بی‌نهایت تخته مربعی شکل به ضلع واحد، در

می‌دانیم که، با رسم دو خط راست عمود بر هم، می‌توانیم آن را به چهار مستطیل کوچکتر طوری تقسیم کنیم که، مساحت سه تا از آن‌ها از ۱ سانتی‌متر مربع و مساحت چهارمی از ۲ سانتی‌متر مربع، کمتر نباشد. حداقل ضلع دوم مستطیل چقدر باشد، تا این عمل ممکن شود؟

۳۶۶. نقطه دلخواه O را در درون مثلث ABC انتخاب کرده‌ایم. درستی برابری زیر را ثابت کنید:

$$\vec{S_A} \cdot \vec{OA} + \vec{S_B} \cdot \vec{OB} + \vec{S_C} \cdot \vec{OC} = \vec{0}$$

که در آن، S_A ، S_B و S_C ، به ترتیب، عبارتند از مساحت مثلث‌های BCO و CAO و ABO .

۳۶۷. ثابت کنید، بین هر $2m+1$ عدد درست مختلف، به شرطی که قدرمطلق آن‌ها از $2m-1$ تجاوز نکنند، می‌توان سه عدد به مجموع ۰ پیدا کرد.

۳۶۸. نقطه‌های D ، E و F ، به ترتیب، روی ضلع‌های AB ، BC و CA (و نه روی رأس‌ها) از مثلث ABC داده شده‌اند. بزرگترین ضلع‌های مثلث‌های ADF ، DEF و BDE را، به ترتیب، با طول‌های d_1 ، d_2 و d_3 می‌گیریم. ثابت کنید:

$$d_0 \geq \frac{\sqrt{3}}{4} \min(d_1, d_2, d_3)$$

در چه حالتی، علامت برابری برقرار است؟

۳۶۹. مجموعه M ، شامل k پاره خط راست دو به دو غیرمقاطع و، واقع بر یک خط راست است. می‌دانیم، هر پاره خط راستی را که طولی بیشتر از واحد ندارد، می‌توان طوری روی خط راست قرار داد که دو انتهای آن متعلق به مجموعه M باشد. ثابت کنید، مجموع طول‌های پاره‌خط‌های راستی که M را تشکیل داده‌اند، از $\frac{1}{k}$ کمتر نیست.

اختیار داریم و تصمیم می‌گیریم، ضلع‌های تخته‌ها را رنگ کنیم، به نحوی که رنگ‌های هر چهارضلع در یک تخته، با هم اختلاف داشته باشند. این تخته‌های مربعی را طوری کنار هم قرار می‌دهیم که، ضلع‌های مجاور هم در دو تخته، هم رنگ باشند. به‌ازای چه عددهایی از m و n ، می‌توان از این تخته‌ها، مستطیلی $m \times n$ ساخت، به نحوی که هر ضلع آن از یک رنگ، و چهارضلع آن، از چهار رنگ مختلف باشد؟

۳۷۵. $x > 0, y > 0, \alpha$ عددهای حقیقی دلخواه‌اند. ثابت کنید:

$$x \sin^2 \alpha + y \cos^2 \alpha < x + y$$

۳۷۶. یک مکعب و دو رنگ قرمز و سبز در اختیار داریم. دو نفر، به این ترتیب، با هم بازی می‌کنند. اولی ۳ یال مکعب را انتخاب می‌کند و آن‌ها را به رنگ قرمز در می‌آورد. رقیب او، ۳ یال دیگر را (از آن‌ها که تاکنون رنگ نشده‌اند) رنگ سبز می‌زند. بعد دوباره اولی ۳ یال بی‌رنگ را قرمز و، بالاخره، رقیب او، ۳ یال باقی‌مانده را سبز می‌کند. رنگ یک یال را نمی‌توان عوض کرد و یک یال را، نمی‌توان دوبار، ولو با یک رنگ، رنگ زد. کسی بازی را می‌برد که، برای نخستین بار، توانسته باشد همه یال‌های یک وجه مکعب را، به رنگ مربوط به خود درآورد. آیا این حکم درست است که بازی‌کن اول، به شرطی که درست بازی کند، می‌تواند به طور قطع برنده باشد؟

۳۷۷. روی محیط دایره‌ای $n \geq 3$ عدد طبیعی نوشته‌ایم و می‌دانیم، برای هر عدد، نسبت مجموع دو عدد مجاور آن به خود عدد، باز هم عددی طبیعی است. ثابت کنید، مجموع همه این نسبت‌ها: (a) از $2n$ کمتر نیست؛ (b) از $3n$ کمتر است.

۳۷۸. دایره به مرکز O ، در مثلث ABC محاط شده است و، نقطه‌های تماس آن با ضلع‌های BC ، AC و AB ، به ترتیب، عبارتند از نقطه‌های A_1 ، B_1 و C_1 . پاره‌خط‌های راست AO ، BO و CO ، به ترتیب، محیط دایره را در نقطه‌های A_2 ، B_2 و C_2 قطع کرده‌اند. ثابت کنید، خط‌های راست

A_1A_2 ، B_1B_2 و C_1C_2 از یک نقطه می‌گذرند.

۳۷۹. به‌ازای چه مقدارهایی از m و n ، این برابری برقرار است:

$$(5 + 3\sqrt{2})^m = (3 + 5\sqrt{2})^n$$

۳۸۰. n عدد حقیقی مختلف را، در یک سطر و به ترتیب صعودی نوشته‌ایم. در سطر دوم و زیر آن‌ها، همان عددها را، و به احتمالی در ردیف دیگری، نوشته‌ایم. مجموع هر دو عددی را که در یک ستون قرار دارند محاسبه کرده‌ایم و زیر آن‌ها آورده‌ایم. به این ترتیب، سطر سوم به دست می‌آید. معلوم شد، غدهای سطر سوم، به ردیف صعودی قرار گرفته‌اند. ثابت کنید، دو سطر اول و دوم، بر هم منطبق‌اند.

۳۸۱. مثلث ABC مفروض است. از نقطه P ، خط‌های راست PA ، PB و PC را رسم کرده‌ایم. این خط‌های راست، دایره محیطی مثلث را، در نقطه‌های A_1 ، B_1 و C_1 (غیر از A ، B و C) قطع کرده‌اند. معلوم شد که مثلث $A_1B_1C_1$ با مثلث ABC برابر است. ثابت کنید، حداکثر ۸ نقطه P با این ویژگی وجود دارد.

۳۸۲. عددهای مثبت x ، y و z ، در این معادله‌ها، صدق می‌کنند:

$$\begin{cases} x^2 + xy + \frac{y^2}{3} = 25 \\ \frac{y^2}{3} + z^2 = 9 \\ z^2 + zx + x^2 = 16 \end{cases}$$

مطلوب است محاسبه $D = xy + 2yz + 3zx$.

۳۸۳. معلم، سه جمله‌ای درجه دوم $x^2 + 10x + 20$ را روی تخته سیاه نوشت. سپس، هر یک از دانش‌آموزان، به نوبت، یک واحد به ضریب x و یا به مقدار ثابت اضافه کردند و یا یک واحد کم کردند (تنها یکی از این دو عدد را، یک واحد بزرگتر یا یک واحد کوچکتر کردند و نه هر دوی آن‌ها را). در نتیجه، سه جمله‌ای درجه دوم $x^2 + 20x + 10$ روی تخته سیاه

$$AE + ED + |AB - CD| > BE + CE$$

۳۸۹. دنباله x_n به این ترتیب تعریف شده است:

$$x_1 = 1; x_2 = 1; x_{n+2} = x_{n+1} - \frac{1}{4} x_n \quad (n \geq 1)$$

ثابت کنید، دنباله x_n دارای حد است و آن را پیدا کنید.

۳۹۰. در خانه‌های سفید یک جدول شطرنجی 1983×1984

خانه‌ای، عدد‌های ۱ و یا -۱ را طوری نوشته‌ایم که، برای هر خانه سیاه، حاصل ضرب عدد‌های واقع در خانه‌های سفید مجاور آن، برابر ۱ باشد. ثابت کنید، این وضع، وقتی پیش می‌آید که همه عدد‌های نوشته شده، برابر ۱ باشند.

۳۹۱. در خانه‌های جدول مربعی 3×3 ، عدد‌های ۱ یا -۱ را

نوشته‌ایم. برای هر خانه، حاصل ضرب عدد‌های واقع در خانه‌های مجاور آن را، محاسبه می‌کنیم (دو خانه را مجاور می‌دانیم که، در یک ضلع، مشترک باشند). حاصل ضرب‌های حاصل را، در خانه‌های جدول، به جای عدد‌های قبلی قرار می‌دهیم. بعد همان عمل را در مورد جدول جدید انجام می‌دهیم و غیره. ثابت کنید، بعد از چند گام، تنها عدد‌های ۱ در جدول خواهد بود.

$$۳۹۲. کدام یک از این دو عدد بزرگترند: $\frac{2}{201}$ یا $\ln \frac{101}{100}$?$$

۳۹۳. سه دایره c_1, c_2, c_3 به مرکزهای C_1, C_2, C_3 و شعاع‌های

r_1, r_2, r_3 طوری روی صفحه‌اند که، هر دایره، در بیرون دو دایره دیگر

قرار دارد؛ در ضمن $r_1 > r_2 > r_3$ و A, B نقطه برخورد مماس‌های بیرونی

دو دایره c_1 و c_2 در بیرون دایره c_3 ؛ و B, C نقطه برخورد مماس‌های بیرونی

دو دایره c_1 و c_3 در بیرون دایره c_2 قرار دارند. از نقطه A ، مماس‌هایی

بر دایره c_3 ؛ و از نقطه B ، مماس‌هایی بر دایره c_2 رسم کرده‌ایم. ثابت کنید،

از برخورد این دو زوج مماس، یک چهارضلعی پدید می‌آید که در دایره

قابل محاسبه است. شعاع این دایره را پیدا کنید.

نوشته شد. آیا این حکم درست است که، در لحظه‌ای، سه جمله‌ای درجه دومی

با ریشه‌های درست، روی تخته سیاه، ظاهر شده است؟

۳۸۴. سکه‌ای به شعاع r ، روی صفحه طوری جا به جا می‌شود که،

مرکز آن، محیط یک چند ضلعی محیط بر دایره‌ای به شعاع $R > r$ را می-

پیماید. اگر محیط این چند ضلعی، برابر p باشد، مساحت شکلی را پیدا

کنید که در اثر حرکت سکه به دست می‌آید (یک حلقه چند زاویه‌ای).

۳۸۵. $n+1$ وزنه، به وزن کلی $2n$ ، و یک ترازوی دوکفه‌ای که در

حال تعادل است، در اختیار داریم. وزن هر وزنه با یک عدد طبیعی بیان

می‌شود. وزنه‌ها را، به نوبت، در کفه‌های ترازوی می‌گذاریم: ابتدا، سنگین‌ترین

(یا یکی از سنگین‌ترین) آن‌ها را، سپس، سنگین‌ترین وزنه از آن چه باقی مانده

است و غیره. در ضمن، هر بار، وزنه نوبتی را در کفه‌ای می‌گذاریم که

سبک‌تر است و، اگر ترازو در حال تعادل باشد، به دلخواه در یکی از دو

کفه قرار می‌دهیم. ثابت کنید، بعد از آن که همه وزنه‌ها را در کفه‌های ترازو

قرار دهیم، ترازو به حالت تعادل می‌ایستد.

۳۸۶. عددی را «عدد اول مطلق» می‌نامیم که هم خودش و هم عدد‌هایی

که از جا به جا کردن رقم‌های آن به دست می‌آیند، اول باشند. [مثلاً ۱۳۱،

عدد اول مطلق است، زیرا عدد‌های ۱۳۱، ۱۱۳ و ۳۱۱ اول‌اند، در حالی

که عدد ۱۰۱، اول مطلق نیست.] ثابت کنید، هر عدد اول مطلق، نمی‌تواند

بیش از سه رقم متفاوت داشته باشد.

۳۸۷. رقم‌های $x \neq 0$ و y چنان‌اند که، به ازای هر $n \geq 1$ ، عدد

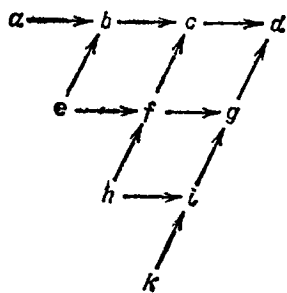
$$\underbrace{xx \dots x}_n \underbrace{y \dots y}_n$$

برابر مجذور یک عدد درست است. همه مقادیرهای ممکن x و y را پیدا کنید.

۳۸۸. چهار نقطه متفاوت A, B, C, D را روی خط راست، و به

همین ردیف، انتخاب کرده‌ایم. ثابت کنید، برای هر نقطه E ، که بر خط راست

AD واقع نباشد، این نابرابری برقرار است:



شکل ۱۷

سمت آن می‌رود، برابر با مجموع عددهایی است که در ابتدای این پیکان‌ها قرار دارند، به ازای چه حداقلی برای d ، این وضع ممکن است؟
۴۰۲* دنباله نامتناهی و اکیداً صعودی عددهای a_1, a_2, \dots داده شده است. ثابت کنید:
 (a) شماره‌ای مثل k پیدا می‌شود که، برای هر $k \geq k_0$ ، نابرابری زیر برقرار است:

$$\frac{a_1}{a_2} + \frac{a_2}{a_3} + \dots + \frac{a_k}{a_{k+1}} < k - 1$$

(b) برای شماره‌های به اندازه کافی بزرگ k ، داریم:

$$\frac{a_1}{a_2} + \frac{a_2}{a_3} + \dots + \frac{a_k}{a_{k+1}} < k - 1985$$

۴۰۳. همه زوج عددهای (x, y) را پیدا کنید که، برای آن‌ها، داشته باشیم:

$$|\sin x - \sin y| + \sin x \cdot \sin y \leq 0$$

۴۰۴. پنج ضلعی محدب $ABCDE$ روی صفحه داده شده است. A_1 را قرینه A نسبت به نقطه B ، B_1 را قرینه B نسبت به نقطه C ، \dots ، E_1 را قرینه E نسبت به نقطه A می‌گیریم. بعد از بسته آوردن این قرینه‌ها، خود پنج‌ضلعی $ABCDE$ را پاک می‌کنیم. ثابت کنید، با در دست داشتن

۳۹۴. ثابت کنید، هر مقطع مکعب با صفحه‌ای که از مرکز آن می‌گذرد، مساحتی دارد که از مساحت وجه مکعب کمتر نیست.

نوزدهمین المپیاد سراسری اتحاد شوروی سال ۱۹۸۵ (موسکو)

روز دوم	روز اول	کلاس
۴۱۰ ۴۰۹ ۴۰۸ ۴۰۷	۳۹۸ ۳۹۷ ۳۹۶ ۳۹۵	:۸
۴۱۳ ۴۱۲ ۴۱۰ ۴۱۱	۴۰۲ ۴۰۱ ۴۰۰ ۳۹۹	:۹
۴۱۷ ۴۱۶ ۴۱۵ ۴۱۴	۴۰۶ ۴۰۵ ۴۰۴ ۴۰۳	:۱۰

۳۹۵. در مثلثی که زاویه‌هایی حاده دارد، از وسط هر ضلع، عمودهایی بر دو ضلع دیگر رسم کرده‌ایم. ثابت کنید، مساحت شش ضلعی محدود به این عمودها، برابر است با نصف مساحت مثلث.

۳۹۶. آیا عدد طبیعی n ، با ویژگی زیر، وجود دارد: مجموع رقم‌های عدد n برابر ۱۰۰۰ و مجموع رقم‌های عدد n^2 برابر ۱۰۰۰۲ باشد؟

۳۹۷. حداکثر چند مهره می‌توان روی صفحه 8×8 خانه‌ای دامکا قرارداد تا، هر مهره، دست کم به وسیله یک مهره دیگر، در خطر زده شدن باشد؟

۳۹۸. می‌خواهیم هر ضلع و هر قطر یک n ضلعی منتظم را طوری رنگ کنیم که هر دو پاره‌خط راستی که نقطه مشترکی دارند، به دو رنگ

مختلف درآمده باشند. برای این منظور، دست کم به چند رنگ نیاز داریم؟
۳۹۹. خط راست l ، نقطه O در بیرون این خط راست و نقطه دلخواه

A ، روی یک صفحه، داده شده‌اند. ثابت کنید، تنها با استفاده از تقارن نسبت به خط راست l و دوران به مرکز نقطه O ، می‌توان نقطه O را به نقطه A تبدیل کرد.

۴۰۰. حداکثر در چند نقطه صحیح مختلف، سه جمله‌ای درجه دوم $ax^2 + bx + c$ ، که در آن $a > 100$ ، می‌تواند مقدارهایی را قبول کند که

از ۵۰ تجاوز نکنند؟

۴۰۱. عددهای طبیعی و مختلف a, b, \dots, k ، به صورت جدول شکل ۱۷ نوشته شده‌اند. می‌دانیم، هر عددی که در روی شکل، دو پیکان به

نقطه‌های A_1, B_1, C_1, D_1, E_1 می‌توان به کمک پرگار و خط‌کش، پنج‌ضلعی $ABCDE$ را بازسازی کرد.

۴۰۵. دنباله a_1, a_2, a_3, \dots با این قانون‌ها داده شده است:

$$\text{به ازای } n \geq 1: a_{2n} = a_n$$

$$\text{به ازای } n \geq 0: a_{4n+1} = 1, a_{4n+3} = 0$$

ثابت کنید، این دنباله، دوره تناوب ندارد.

۴۰۶*. n خط راست ($n > 2$) زوی صفحه‌ای رسم کرده‌ایم که صفحه را به چند حوزه تقسیم کرده‌اند. بعضی از این حوزه‌ها را رنگ زده‌ایم؛ در ضمن، هیچ دو حوزه‌ای که رنگ شده‌اند، در مرزی مشترک نیستند. ثابت کنید، تعداد حوزه‌های رنگ شده، از $(n^2 + n)$ تجاوز نمی‌کند.

۴۰۷. یک مکعب، یک قوطی مکعبی سرپوش‌دار با همان اندازه‌های مکعب و شش نوع رنگ در اختیار داریم. با هر رنگ، یکی از وجه‌های مکعب و یکی از وجه‌های قوطی را رنگ کرده‌ایم. ثابت کنید، می‌توان مکعب را در قوطی طوری قرار داد که، هر وجه مکعب، به وجهی از قوطی با رنگی دیگر مجاور باشد.

۴۰۸. قطر A_3A_6 ، دایره به مرکز O را، به دو نیم دایره تقسیم کرده است. کمان یکی از این نیم دایره‌ها را، به پنج کمان برابر $A_1A_2, A_2A_3, A_3A_4, A_4A_5, A_5A_6$ تقسیم کرده‌ایم. خط راست A_1A_4 ، پاره‌خط‌های OA_3 و OA_6 را در نقطه‌های M و N قطع کرده است. ثابت کنید، مجموع طول‌های دو پاره‌خط راست A_3A_6 و MN برابر است با شعاع دایره.

۴۰۹. دانش‌آموز عضو انجمن ریاضی، برای ماشین حساب خود برنامه‌ای ریخته‌است. طبق این برنامه، ماشین، با فشار دادن دکمه، چهار عدد (a, b, c, d) را به چهار عدد $(a-b, b-c, c-d, d-a)$ تبدیل می‌کند. ثابت کنید، اگر هر چهار عدد نخستین، چهار عدد مساوی با هم نباشند، بعد از چهار بار که دکمه را فشار دهیم، چهار عدد بدست می‌آید که، دست کم یکی از

آن‌ها، از ۱۹۸۵ بزرگتر است.

۴۱۰. عددهای ۱، ۲، ۳، ...، $2n-1, 2n$ را به دو گروه، و در هر گروه n عدد، تقسیم کرده‌ایم. فرض کنید، عددهای گروه اول را به ردیف صعودی:

$$a_1 < a_2 < \dots < a_n$$

و عددهای گروه دوم را، به ردیف نزولی:

$$b_1 > b_2 > \dots > b_n$$

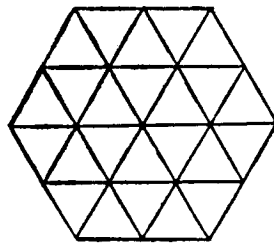
نوشته باشیم. ثابت کنید:

$$|a_1 - b_1| + |a_2 - b_2| + \dots + |a_n - b_n| = n^2$$

۴۱۱. با چند مکعب مساوی، یک مکعب مستطیل ساخته‌ایم. سه وجه مکعب مستطیل را، که رأسی مشترک دارند، رنگ کرده‌ایم، معلوم شد که نصف تعداد مکعب‌ها، دست کم در یک وجه خود، رنگ خورده‌اند. چند مکعب، دارای وجه‌هایی رنگی هستند؟

۴۱۲. یکی از دو دایره به شعاع R از رأس‌های A و B و، دیگری، از رأس‌های B و C از متوازی‌الاضلاع $ABCD$ گذشته است. نقطه برخورد دوم دو دایره را M می‌گیریم. ثابت کنید، شعاع دایره محیطی مثلث AMD برابر است با R .

۴۱۳*. شش ضلعی منتظم را، به ۲۴ مثلث تقسیم کرده‌ایم (شکل ۱۸). در همه گره‌های شکل، عددهای مختلفی نوشته‌ایم (شکل، دارای ۱۹ گره



شکل ۱۸

بیستمین المپیاد سراسری اتحاد شوروی
سال ۱۹۸۶ (اولیانوسک)

روز اول	روز دوم
۴۱۸ ۴۱۹ ۴۲۰ ۴۲۱	۴۳۰ ۴۳۱ ۴۳۲ ۴۳۳
۴۲۲ ۴۲۳ ۴۲۴ ۴۲۵	۴۳۴ ۴۳۵ ۴۳۶ ۴۳۷
۴۲۶ ۴۲۷ ۴۲۸ ۴۲۹	۴۳۸ ۴۳۹ ۴۴۰

۴۱۸. ریشه‌های معادله $x^2 + ax + b + 1 = 0$ ، عددهایی طبیعی‌اند. ثابت کنید، عدد $a^2 + b^2$ ، يك عدد مرکب است.

۴۱۹. دو مربع مساوی، در برخورد با یکدیگر، يك هشت ضلعی ساخته‌اند. ضلع‌های یکی از مربع‌ها سبز و ضلع‌های مربع دیگر قرمز است. ثابت کنید، مجموع طول ضلع‌های سبز هشت ضلعی، با مجموع طول ضلع‌های قرمز آن، برابر است.

۴۲۰. نقطه M روی ضلع AC از مثلث ABC (با زاویه‌های حاده) قرار دارد. دایره‌هایی بر دو مثلث ABM و ACM محیط کرده‌ایم. نقطه M در چه وضعی باشد تا مساحت بخش مشترک دو دایره، حداقل مقدار ممکن بشود؟

۴۲۱. می‌خواهند n شهر بسازند و آن‌ها را با $n-1$ جاده به هم وصل کنند، به نحوی که بتوان از هر شهر به هر شهر دیگر مسافرت کرد. (هر جاده، دوشهر را به هم وصل می‌کند؛ جاده‌ها یکدیگر را قطع نمی‌کنند و از شهرهای دیگر نمی‌گذرند.) در ضمن، می‌خواهند، کوتاه‌ترین فاصله بین هر دو شهر، به ترتیب، برابر با $1, 2, 3, \dots, \frac{n(n-1)}{2}$ کیلومتر، از طریق شبکه جاده‌ها باشد. آیا چنین خواستی را می‌توان بر آورد، به شرطی که داشته باشیم: $a) n=6$ ؛ $b) n=1986$.

۴۲۲. ثابت کنید، نمی‌توان در دستگاه محورهای مختصات قائم. چهار ضلعی محدبی رسم کرد، به نحوی که یکی از قطرهای آن دو برابر دیگری، زاویه بین دو قطر برابر 45 درجه و مختصات رأس‌های چهار ضلعی، عددهایی

است). ثابت کنید، دست کم ۷ مثلث از بین ۲۴ مثلث وجود دارند که عددهای رأس‌های آن‌ها، به ترتیب صعودی نوشته شده‌اند (عددهای رأس‌ها را در خلاف جهت حرکت عقربه‌های ساعت، در نظر می‌گیریم).
۴۱۴. این معادله را حل کنید:

$$\frac{x}{2 + \frac{x}{2 + \frac{x}{1 + \sqrt{1+x}}}}} = 1$$

(در این کسر مسلسل، ۱۹۸۵ بار، عدد ۲ تکرار شده است).

۴۱۵. از پنج ضلعی منتظم به ضلع برابر ۱ سانتی متر، همه نقطه‌هایی را که از همه رأس‌های پنج ضلعی، به فاصله‌ای کمتر از ۱ سانتی متر قرار دارند، جدا کرده‌ایم. مساحت بخش باقی مانده را پیدا کنید.

۴۱۶. صفحه‌ای شطرنجی نامتناهی، با خانه‌های به ضلع ۱ سانتی متر در اختیار داریم. تصمیم می‌گیریم، برش‌هایی روی خط‌های راست شبکه انجام دهیم. ثابت کنید، به ازای هر عدد درست $m > 12$ ، می‌توان مستطیلی را برید که مساحتی بیشتر از m سانتی متر مربع داشته باشد و، در ضمن، نتوان از آن، مستطیلی به مساحت m سانتی متر مربع جدا کرد.

۴۱۷. طول یال مکعب $ABCD, A_1B_1C_1D_1$ برابر يك سانتی متر است. دایره محاطی مربعی $ABCD$ و دایره‌ای را که از نقطه‌های A, C و B_1 گذشته است، رسم کرده‌ایم. حداقل فاصله بین نقطه‌های محیط این دو دایره را پیدا کنید.

درست باشند.

۴۲۳. ثابت کنید، جدول مستطیلی $m \times n$ خانه‌ای را، می‌توان با عددهای طبیعی مجذور کامل طوری پر کرد که، مجموع عددهای هر سطر و هر ستون، باز هم مجذور کامل باشند.

۴۲۴. دو دایره، که فاصله بین مرکزهای آنها برابر d است، در نقطه‌های P و Q یکدیگر را قطع کرده‌اند. از نقطه‌های P ، Q و نقطه A واقع بر محیط دایره اول (A ، غیر از P و Q است)، خط‌های راستی گذرانده‌ایم که دایره دوم را، به ترتیب، در نقطه‌های B و C قطع کرده‌اند. a ثابت کنید، شعاع دایره محیطی مثلث ABC برابر است با d .
(b) اگر نقطه A روی محیط دایره اول حرکت کند، مرکزهای دایره‌های محیطی مثلث ABC ، چه مجموعه‌ای را تشکیل می‌دهند؟

۴۲۵. یک شش ضلعی منتظم، روی یک صفحه داده شده است. هر ضلع آن را، به ۱۰۰۰ بخش برابر تقسیم کرده‌ایم و، نقطه‌های تقسیم را، با پاره‌خط‌های راستی موازی با ضلع‌های شش ضلعی، به هم وصل کرده‌ایم. در شبکه‌ای که به این ترتیب بدست می‌آید، سه گره را، که رأس‌های یک مثلث متساوی‌الاضلاع باشند، در نظر می‌گیریم (با هر اندازه‌ای و در هر موقعیتی) و آن‌ها را رنگ می‌کنیم. به همین طریق، گره‌های سه‌گانه را رنگ می‌کنیم تا جایی که دیگر نتوان چنین گره‌های سه‌گانه را پیدا کرد. ثابت کنید، اگر تنها یک گره بدون رنگ باقی بماند، این گره نمی‌تواند یکی از رأس‌های شش ضلعی اصلی باشد.

۴۲۶. همه عددهای طبیعی را پیدا کنید، به نحوی که هر کدام از آن‌ها، برابر مجذور تعداد همه مقسوم‌علیه‌های خود باشد.

۴۲۷. ثابت کنید، برای عددهای مثبت و دلخواه a_1, a_2, \dots, a_n داریم:
$$\frac{1}{a_1} + \frac{2}{a_1 + a_2} + \dots + \frac{n}{a_1 + a_2 + \dots + a_n} < 2 \left(\frac{1}{a_1} + \dots + \frac{1}{a_n} \right)$$

۴۲۸. در مثلث ABC ($AB \neq AC$)، از رأس A ، خط‌های راست مختلفی گذرانده‌ایم. ثابت کنید، روی هر کدام از آن‌ها، بیش از یک نقطه

M پیدا نمی‌شود که غیر از رأس‌های مثلث باشد و در شرط $\widehat{ABM} = \widehat{ACM}$ صدق کند. خط‌های راستی را معین کنید که شامل چنین نقطه‌ای نباشند.

۴۲۹. مکعب با یال به طول n ($n \geq 3$)، از n^3 مکعب واحد تشکیل شده است. ثابت کنید، می‌توان روی هر یک از این مکعب‌های واحد، عدد درستی نوشت، به نحوی که بین آن‌ها، عددهای برابر وجود نداشته باشد و مجموع عددها، در هر ردیفی که موازی با یک یال مکعب است، برابر صفر شود. ۴۳۰. در عددنویسی به مبنای ۱۰، عدد طبیعی a دارای n رقم برابر x ، عدد b دارای n رقم برابر y و عدد c دارای $2n$ رقم برابر z است. برای هر $n \geq 2$ ، همه این گونه رقم‌های x ، y و z را پیدا کنید که، برای آن‌ها، داشته باشیم: $a^2 + b = c$.

۴۳۱. در درون یک دوازده ضلعی محدب، دو نقطه داده شده است که به فاصله ۱۰ سانتی متر از یکدیگر قرار دارند. برای هر یک از این نقطه‌ها، مجموع فاصله‌های از آن‌ها تا رأس‌های دوازده ضلعی را پیدا کرده‌اند. ثابت کنید، اختلاف این دو مجموع، از یک متر کمتر است.

۴۳۲. در ۳۰ لیوان شیر، وجود دارد. پسر بچه‌ای می‌خواهد کاری کند که مقدار شیر، در همه لیوان‌ها برابر باشد. برای این منظور، به ترتیب، دو لیوان را برمی‌دارد و از یکی در دیگری می‌ریزد تا مقدار شیر آن‌ها برابر شود. آیا می‌توان، مقدار شیر اولیه را در لیوان‌ها، طوری انتخاب کرد که پسر بچه، هر قدر که به کار خود ادامه دهد، نتواند به هدف خود برسد؟

۴۳۳. مستطیلی را، به کمک خط‌های راست موازی با ضلع‌های آن، به مربع‌هایی به ضلع واحد تقسیم کرده‌ایم و، سپس، آن‌ها را، شبیه صفحه شطرنج، به رنگ‌های سیاه و سفید در آورده‌ایم. قطر مستطیل، به پاره‌خط‌های راست سفید و سیاه تقسیم می‌شود، مطلوب است نسبت مجموع طول‌های پاره‌خط‌های سفید به مجموع طول‌های پاره‌خط‌های سیاه، به شرطی که اندازه‌های مستطیل (a) 100×99 ؛ (b) 101×99 باشد.

۴۳۴. n ضلعی منتظم $A_1 A_2 \dots A_n$ ، روی صفحه داده شده است. (a) ثابت کنید، اگر n عددی زوج باشد، می‌توان برای هر نقطه M از صفحه، در عبارت

مفروضی محیط‌اند. ثابت کنید، اگر نقطه‌های A و B ثابت باشند، مجموع زاویه‌های چهارضلعی فضایی $AXBY$ ، یعنی مقدار

$$\widehat{AXB} + \widehat{XBY} + \widehat{BYA} + \widehat{YAX}$$

به انتخاب نقطه‌های X و Y بستگی ندارد.

بیست و یکمین المپیاد سراسری اتحاد شوروی سال ۱۹۸۷ (فرونزه)

روز دوم	روز اول	کلاس
۴۵۵ ۴۵۴ ۴۵۳ ۴۵۲	۴۴۴ ۴۴۳ ۴۴۲ ۴۴۱	:۸
۴۵۹ ۴۵۸ ۴۵۷ ۴۵۶	۴۴۸ ۴۴۷ ۴۴۶a ۴۴۵	:۹
۴۶۲ ۴۶۱ ۴۶۰ ۴۵۵	۴۴۶b ۴۵۱ ۴۵۰ ۴۴۹	:۱۰

۴۴۱. ده ورزشکار، در مسابقهٔ تنیس روی میز، مسابقه می‌دهند. هر دو نفر آن‌ها، درست یک بار باهم بازی می‌کنند. اولی در x_1 بازی پیروز شد و در y_1 بازی باخت؛ دومی x_2 بازی را برد و y_2 بازی را شکست خورد و غیره. ثابت کنید:

$$x_1^2 + x_2^2 + \dots + x_n^2 = y_1^2 + y_2^2 + \dots + y_n^2$$

۴۴۲. می‌دانیم، به کمک ۶ وزنه می‌توان ۶۳ جسم را که، وزن آن‌ها، عددهای طبیعی متوالی را تشکیل می‌دهند، وزن کرد. همهٔ این گونه وزنه‌ها را پیدا کنید.

۴۴۳. هفت ضلعی منتظم $A_1 A_2 \dots A_7$ مفروض است. ثابت کنید:

$$\frac{1}{A_1 A_2} + \frac{1}{A_1 A_3} = \frac{1}{A_1 A_4}$$

۴۴۴. بازی «نبرد دریائی»، در مربع 7×7 خانه‌ای انجام می‌شود. حداقل چند شلیک لازم است تا، به طور حتم، چهار نفر عرشهٔ کشتی زخمی شوند، به شرطی که

$$\vec{MA_1} + \vec{MA_2} + \dots + \vec{MA_n}$$

علامت‌های مثبت و منفی را طوری انتخاب کرد که، مجموع حاصل، برابر صفر شود. (b) ثابت کنید، در حالت فرد بودن n ، عبارت مذکور به کمک انتخاب علامت‌های مثبت و منفی، تنها برای تعداد محدودی نقطه M از صفحه، برابر صفر می‌شود.

۴۳۵. خانه‌های یک جدول مربعی $n \times n$ ($n \geq 3$) را، به این ترتیب،

با عددهای ± 1 پر کرده‌ایم:

(۱) در تمام خانه‌های مرزی جدول، عدد ۱- را گذاشته‌ایم؛

(۲) عددهایی را که به نوبت در خانه‌های خالی جدول می‌گذاریم،

می‌توان به یکی از این دو صورت انتخاب کرد: برابر با حاصل ضرب دو عدد دو طرف آن در یک سطر و یا برابر حاصل ضرب دو عدد دو طرف آن در یک ستون باشد. این روش را ادامه می‌دهیم تا همهٔ خانه‌های جدول پر شود. (a)

حداکثر؛ (b) حداقل تعداد عددهای ± 1 در جدول چقدر است؟

۴۳۶. درستی این نابرابری را، برای هر عدد طبیعی n ، ثابت کنید:

$$|\sin 1| + |\sin 2| + \dots + |\sin(3n-1)| + |\sin 3n| > \frac{1}{5}n$$

۴۳۷. m و n ، عددهایی طبیعی اند و $1 \leq m < n \leq 1986$. ثابت

کنید، مجموع همهٔ عددهای به صورت $\frac{1}{mn}$ ، عددی درست نیستند.

۴۳۸. یک مربع و یک مثلث را، بردایره‌ای به شعاع واحد محیط کرده‌ایم.

ثابت کنید، مساحت بخش مشترک مربع و مثلث از $3/4$ بیشتر است. آیا می-

توان گفت که، این مساحت، از $3/5$ بیشتر است؟

۴۳۹. چند جمله‌ای $P(x)$ را «مجاز» می‌نامیم، وقتی که همهٔ ضریب‌های

آن، برابر ۰، ۱، ۲ یا ۳ باشند. برای عدد طبیعی مفروض n ، تعداد همهٔ چند-

جمله‌ای‌های «مجاز» را پیدا کنید که، برای آن‌ها، داشته باشیم: $P(2) = n$.

۴۴۰. همهٔ چهاروجهی‌های $AXBY$ را در نظر می‌گیریم که بر کرهٔ

۴۵۰. ثابت کنید، اگر، در پنج ضلعی محدب $ABCDE$ داشته باشیم:

$$\widehat{ABC} = \widehat{ADE}, \widehat{AEC} = \widehat{ADB}$$

$$\widehat{BAC} = \widehat{DAE} \text{ : آن وقت داریم}$$

۴۵۱. همه مقادیرهای α را پیدا کنید که، به ازای هر کدام از آن‌ها، دنباله

$$\cos \alpha, \cos 2\alpha, \cos 3\alpha, \cos 4\alpha, \dots, \cos 2^n \alpha$$

فقط شامل عددهای منفی باشد.

۴۵۲. برای عددهای مثبت a, b, c, A, B, C داریم:

$$a + A = b + B = c + C = k$$

$$\text{ثابت کنید: } aB + bC + cA \leq k^2$$

۴۵۳. در هر يك از خانه‌های جدول مربعی 1987×1987 خانه‌ای،

عددی گذاشته‌ایم که، قدرمطلق آن، از واحد تجاوز نمی‌کند. در هر مربع 2×2 از این جدول، مجموع عددها، برابر صفر است. ثابت کنید، مجموع همه عددهای این جدول، از 1987 تجاوز نمی‌کند.

۴۵۴. رأس B از زاویه ABC در بیرون دایره‌ای قرار دارد و نیم خط‌های

راست BA و BC ، دایره را قطع می‌کنند. از نقطه K ، محل برخورد نیم خط راست BA با محیط دایره، خط راستی عمود بر نیمساز زاویه کشیده‌ایم، که دایره را در نقطه‌های K و P ، و نیم خط راست BC را در نقطه M قطع کرده است. ثابت کنید، طول پاره خط راست PM ، دو برابر طول عمودی است که از مرکز دایره بر نیمساز زاویه ABC فرود آید.

۴۵۵. دو نفر، به نوبت، عددی طبیعی را که از p تجاوز نمی‌کند، بر تخته سیاه می‌نویسند. کسی بازنده است که نتواند، در نوبت خود، عددی را بنویسد. در ضمن، طبق قانون بازی، نمی‌توان عددی را روی تخته سیاه نوشت که مقسوم‌علیه‌ی از یکی از عددهای قبلی باشد.

(a) روشن کنید. به ازای $p = 10$ ، چه کسی می‌تواند بر نامه‌ای برای

بردن خود طرح کند. این برنامه را توضیح دهید.

(a) به صورت

--	--	--	--

 باشد؛

(b) از چهارخانه‌ای که ضلع‌های آن‌ها به هم متصل است، تشکیل

شده باشد.

۴۴۵. ثابت کنید، به ازای هر عدد طبیعی n ، عدد

$$1^{1987} + 2^{1987} + \dots + n^{1987}$$

بر $n+2$ بخش پذیر نیست.

۴۴۶. (a) حداقل چند نمونه از شکل

 را باید در مربع 8×8 خانه‌ای جا داد، تا دیگر نتوان حتی یکی از این شکل‌ها را، بدون این که روی دیگران قرار گیرد، در آن مستقر کرد؟

(b) در مربع 1987×1987 خانه‌ای، یکی از خانه‌ها را، به دلخواه، جدا کرده‌ایم. ثابت کنید، در هر حال، بخش باقی مانده را می‌توان به صورت شکل‌های شبیه بخش (a) برید.

۴۴۷. سه خط راست، موازی ضلع‌های مثلث رسم کرده‌ایم. هر يك از این خط‌های راست، از ضلعی که با آن موازی است، به فاصله‌ای برابر طول همان ضلع قرار دارد. در ضمن، برای هر ضلع مثلث، خط راست موازی با آن و رأس مقابل به این ضلع، در دو طرف مختلف ضلع قرار گرفته‌اند. ضلع‌های مثلث را امتداد داده‌ایم تا سه خط راستی را که رسم کرده‌ایم، قطع کنند. ثابت کنید، این نقطه‌های برخورد، روی محیط يك دایره واقع‌اند.

*۴۴۸. دو خط شکسته بسته، که تعداد ضلع‌های هر کدام از آن‌ها عددی فرد است، روی صفحه‌ای داده شده‌اند. همه ضلع‌های این خط‌های شکسته، روی خط‌های راست مختلفی قرار دارند و هیچ سه تایی از آن‌ها، از يك نقطه نمی‌گذرند. ثابت کنید، از هر خط شکسته، می‌توان يك ضلع طوری انتخاب کرد که دو ضلع روبه‌رو در يك چهارضلعی محدب باشند.

۴۴۹. پنج عدد طبیعی طوری پیدا کنید که، هر دو عدد آن‌ها، نسبت

به هم اول باشند و، مجموع هر چند عدد از آن‌ها، عددی مرکب باشد.

(b) به همان پرسش درباره $p=1000$ پاسخ بدهید.

۴۵۶. عمو «دریا»، هر عصر از بین ۳۳ پهلوانی که برای نگهبانی نامزد شده‌اند، ۹ یا ۱۰ نفر را به صلاح دید خود، انتخاب می‌کند. حداقل بعد از چند روز، همه پهلوانان، به تعداد برابر نگهبانی داده‌اند؟

۴۵۷. در شبکه‌ای، که مختصات گره‌های آن عددهایی درست‌اند، مجموعه‌ای غیر تهی از گره‌ها را علامت گذاشتیم. به جز آن، دسته‌ای از بردارهای غیر صفر، با مختصات درست داده شده است. می‌دانیم، اگر از هر گره شبکه که علامت دارد، همه بردارهای مفروض را رسم کنیم، بین نقطه‌های انتهائی آن‌ها، نقطه‌های علامت‌دار، بیش از نقطه‌های بی‌علامت است. ثابت کنید، تعداد گره‌های علامت‌دار، بی‌نهایت است.

۴۵۸. p ضلعی محدبی را ($p \geq 5$)، روی همه قطرهای بریده‌ایم. ثابت کنید، بین بخش‌های حاصل، بخش‌هایی با مساحت‌های برابر وجود دارد.

* ۴۵۹. مجموعه T_p شامل همه عددهای به صورت (2^k) است که، در آن، $k=0, 1, 2, \dots, 1987$ هر $p=1, 2, \dots$ مجموعه T_p را از مجموعه T_{p-1} به این ترتیب به دست می‌آوریم که، به آن، همه عددهایی را که به صورت مجموعی از چند جمله T_{p-1} است، اضافه کنیم. ثابت کنید، دست کم یک عدد طبیعی وجود دارد که به مجموعه T_{1987} تعلق ندارد.

۴۶۰. نمودار تابع $y=f(x)$ که در تمامی محور عددی معین است، ضمن دوران دور مبدا مختصات، بر خودش منطبق می‌شود.

(a) ثابت کنید، معادله $f(x)=x$ درست یک جواب دارد.

(b) نمونه‌ای از این تابع را بدهید.

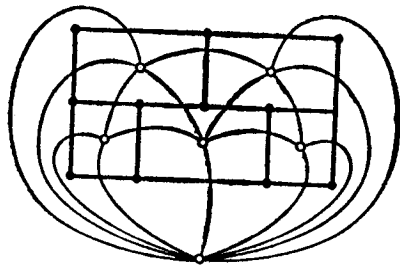
۴۶۱. همه وجه‌های یک چند وجهی محدب، مثلث‌اند. ثابت کنید، هر یال این چندوجهی را، می‌توان طوری به رنگ قرمز یا آبی در آورد که، بتوانیم از هر رأس به رأس دیگر، تنها روی یال‌های قرمز، همچنین، تنها روی یال‌های آبی حرکت کنیم.

۴۶۲. ثابت کنید، برای هر عدد طبیعی n ، این نابرابری درست است:

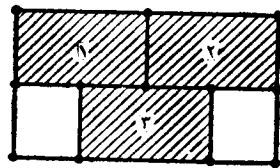
$$(2n+1)^n \geq (2n)^n + (2n-1)^n$$

حل، راهنمایی، پاسخ

۱. فرض می‌کنیم، بتوانیم این خط شکسته را رسم کنیم. چون دوره هر یک از بخش‌های ۱، ۲ و ۳، که در شکل ۱۹ هاشور خورده‌اند، شامل پنج پاره‌خط راست است و خط شکسته باید هر کدام از این پاره‌خط‌های راست را، درست یکبار قطع کند، بنا بر این، هر یک از این سه بخش، باید شامل یکی از دو انتهای خط شکسته باشد (اگر در یکی از این بخش‌ها، انتهائی از خط شکسته نباشد، آن وقت، خط شکسته باید به تعداد مرتبه‌هایی که به آن وارد شده است، به همان تعداد هم از آن خارج شده باشد، یعنی باید پاره خط‌های راست مرزی را، به تعداد زوج قطع کرده باشد). ولی خط شکسته، تنها دو انتها دارد. تناقض حاصل، درستی حکم مساله را ثابت می‌کند.



شکل ۲۰



شکل ۱۹

▽ همین راه حل را می توان، به صورت دیگری بیان کرد. شکل ما، صفحه را به ۶ حوزه تقسیم کرده است. در هر يك از این حوزه ها، نقطه ای انتخاب می کنیم و، آن را، «پای تخت» حوزه می نامیم؛ و برای هر يك از ۱۶ پاره خط راست، «جاده» ای در نظر می گیریم که این پاره خط راست را قطع و پای تخت های دو حوزه مجاور آن را به هم به وصل کرده باشد (شکل ۲۰). از این شبکه جاده ها نمی توان به نحوی عبور کرد که، از هر جاده، تنها یکبار گذشته باشیم؛ زیرا ۴ پای تخت وجود دارد که، از هر کدام آن ها، به تعداد فردی جاده می گذرد. و برای این که بتوان برای مسیر خود در روی جاده ها، راهی پیدا کرد که، از هر جاده تنها یکبار عبور کنیم، لازم است (و به سادگی می توان ثابت کرد که، کافی است) که، تعداد «پای تخت های فرد»، برابر ۰ یا ۲ باشد.

۲. $ABCD$ را مستطیل مفروض و LN را، مماس مشترك دایره های O_1 (به مرکز نقطه های A و C) می گیریم. از نقطه O ، مرکز مستطیل، عمود OM را بر خط راست LN رسم می کنیم. چهار ضلعی $ALNC$ يك دوزنقه، و OM پاره خط راستی است که وسط دو ساق آن را به هم وصل کرده است، به نحوی که

$$OM = \frac{1}{4}(r_1 + r_2)$$

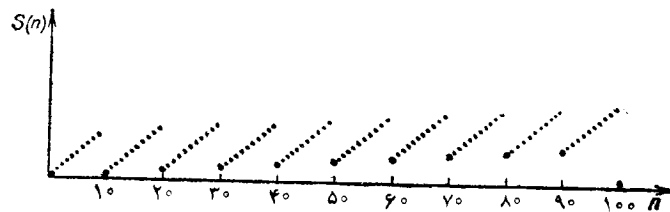
فاصله نقطه O تا مماس مشترك دوم همین دو دایره، باز هم برابر

$$\frac{1}{4}(r_1 + r_2) \text{ می شود.}$$

به همین ترتیب ثابت می شود که، فاصله O ، تا هر يك از مماس مشترك های

دو دایره دیگر، برابر است با $\frac{1}{4}(r_2 + r_3)$. چون، بنا به فرض، باید داشته باشیم: $r_1 + r_3 = r_2 + r_4$ ، بنا بر این نقطه O ، از هر چهار مماس مشترك به يك فاصله است، یعنی مرکز دایره محاطی چهار ضلعی است که به وسیله این مماس ها تشکیل می شود.

۳. بین بیست عدد نخستین از عددهای مفروض، دو عدد وجود دارد که به صفر ختم می شوند (در دستگاه دهدهی عدد نویسی). دست کم، در یکی از این دو عدد، رقم قبل از صفر، برابر ۹ نیست. این عدد را N ، و مجموع رقم های آن را S می گیریم. در این صورت، عددهای $N+1, N+2, \dots, N+9, N+19$ ، جزو ۳۹ عدد مفروض اند و مجموع رقم های آن ها، به ترتیب برابر است با $S+1, S+2, \dots, S+10$. ولی بین ۱۱ عدد متوالی، دست کم یکی، بر ۱۱ بخش پذیر است.



شکل ۲۱

▽ به طور کلی، برای هر $m = 2, 3, \dots$ می توان کوچکترین عدد c_m را طوری پیدا کرد که، بین هر c_m عدد طبیعی متوالی، دست کم در مورد یکی، مجموع رقم ها بر m بخش پذیر باشد (برای $m < 20$ ، کافی است رفتار تابع «مجموع رقم های عدد n » را، در محدوده صد عدد مطالعه کنیم؛ نمودار این تابع در شکل ۲۱ داده شده است): در چند حالت خاص داریم: $c_2 = 3, c_3 = 5, \dots, c_{10} = 19, c_{11} = 39, c_{12} = 59$.

			*
*	*		
*		*	
	*	*	

شکل ۲۲

۴. روشن است که، شکل ۲۲، با هفت ستاره‌ای که در خانه‌های آن گذاشته‌ایم، با شرط مساله سازگار است.

اگر تعداد ستاره‌ها برابر ۶ یا کمتر باشد، آن وقت، دوستون پیدا می‌شود که، در هر کدام از آن‌ها، حداکثر یک ستاره وجود دارد. دوستون دیگر را حذف می‌کنیم. در این صورت، حداکثر دو ستاره باقی‌می‌ماند که، با حذف سطرهایی که این دو ستاره در آن‌ها قرار دارند، دیگر ستاره‌ای باقی نمی‌ماند.

▽ بررسی حالت کلی این مساله، جالب است: حداقل تعداد ستاره‌هایی که می‌توان در یک جدول $m \times n$ قرار داد، چقدر می‌تواند باشد تا اگر k ستون l و سطر l را حذف کنیم، دست کم، یک ستاره باقی بماند (در این جا، k, l, m, n عددهایی طبیعی‌اند و $l < n, k < m$). ولی حل این مساله، حتی برای $m = n$ و $k = l = n - 2$ ، بسیار دشوار است (مساله ۲۰۸ را ببینید که، در آن جا، $n = 7$ و $n = 13$).

۵. (a) از برهان خلف استفاده و فرض می‌کنیم، دوباره، با چهار عدد نخستین، یعنی (a, b, c, d) برخورد کنیم.

ابتدا ثابت می‌کنیم که، در این صورت $abcd = 1$.

$abcd = p$ می‌گیریم. در این صورت، حاصل ضرب عددهای گروه دوم برابر p^2 ، حاصل ضرب چهار عدد گروه سوم برابر p^4 ، حاصل ضرب عددهای گروه چهارم برابر p^8 و غیره می‌شود. روشن است که، برای $p \neq 1$ ، در دنباله این حاصل‌ضرب‌ها، نمی‌توان به دو عدد برابر رسید و، بنابراین، همه گروه‌ها، با هم فرق دارند. به این ترتیب $p = 1$.

اکنون، گروه چهار عددی دوم را در نظر می‌گیریم: ab, cd, bc, da . چون $abcd = 1$ ، به سادگی می‌توان تحقیق کرد که گروه چهارم، به صورت عددهای $a^2b^2, d^2a^2, c^2d^2, b^2c^2$ درمی‌آید. به این ترتیب، گروه چهارم، از مجذور عددهای گروه دوم و جا به جایی آن‌ها، به دست می‌آید. به همین ترتیب، می‌توان از گروه چهارم عددها، گروه ششم و، سپس، از آن، گروه هشتم و غیره را به دست آورد.

اگر همه عددهای گروه چهارم، برابر واحد نباشند، آن وقت، بزرگترین آن‌ها، از واحد بزرگتر است. بنا بر این، بزرگترین عدد، از چهار عدد گروه $2n$ م، همراه با n تا بی‌نهایت ترقی می‌کند؛ و این، متناقض با آن است که، به‌طور متناوب، تکرار شوند.

به این ترتیب $ab = bc = cd = da = 1$ ، که از آن جا، به سادگی

$$a = b = c = d = 1$$

(b) به سادگی روشن می‌شود که، حکم مساله، برای $n = 1$ درست است. فرض می‌کنیم، حکم، برای $n = k$ درست باشد و ثابت می‌کنیم که، در این صورت، برای $n = k + 1$ هم درست است. سه سطر اول را می‌نویسیم:

$$(1) \quad x_1, x_2, x_3, x_4, \dots, x_{k+1}$$

$$x_1, x_2, x_2, x_3, x_3, x_4, \dots, x_{k+1}, x_1$$

$$x_1, x_3, x_2, x_4, x_3, x_5, \dots, x_{k+1}, x_2$$

به سادگی می‌بینیم که، عددهای ردیف فرد و عددهای واقع در ردیف زوج، سطرهای

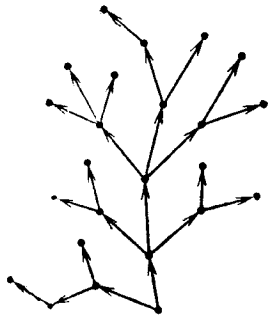
$$x_1, x_3, \dots, x_{k+1} \quad \text{و} \quad x_2, x_4, \dots, x_{k+1}$$

را به وجود می‌آورند که، هر کدام از آن‌ها طولی برابر 2^k دارد و، بنا بر فرض استقرای سرانجام، به واحدهای مثبت می‌رسند. بنا بر این، سطر (۱) هم، بعد از برداشتن گام‌هایی، منجر به واحدهای مثبت می‌شود.

▽ می‌توان ثابت کرد که از سطر x به طول $m = 2^k \cdot r$ (عدد فرد است)، تنها وقتی می‌توان به سطر y با واحدهای مثبت رسید که، x از 2 بخش مساوی به طول 2^k تشکیل شده باشد، یعنی دوره تناوبی برابر 2^k داشته باشد.

۶. (a) فرض می‌کنیم O_1, O_2 برداری باشد که از دوران بردار $\vec{O_1 O_2}$

به اندازه 60° درجه (در همان جهتی که از دوران \vec{AB} بردار \vec{AC} به دست می‌آید) به دست آمده است؛ در همین دوران دور O_1 ، تصویر A و B را



شکل ۲۵

T ، مجموع عددها در هر سطر و هر ستون، عددی غیر منفی است. در واقع، اگر مجموع عددها در یک سطر (یا یک ستون) از جدول T ، منفی باشد، آن-وقت با تغییر علامت عددها در این سطر (یا ستون)، به جدولی می‌رسیم که مجموع عددهای آن بیشتر از مجموع عددهای جدول T می‌شود که، نوع انتخاب جدول T را، نقض می‌کند.

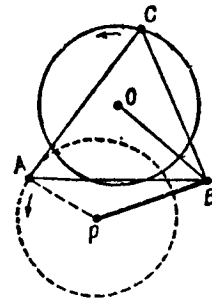
۸. یکی از نقطه‌ها را «ریشه» می‌نامیم. هر یک از $n-1$ نقطه باقی‌مانده را، در تناظر با آخرین پاره‌خط مسیری قرار می‌دهیم که از «ریشه» به این نقطه می‌رود (بنابر، شرط، این مسیر، منحصر به فرد است). این تناظر، یعنی تناظر بین مجموعه $n-1$ نقطه و مجموعه همه پاره‌خطها، یک به یک است. اگر روی همه پاره‌خطهای راستی که از «ریشه» آغاز شده‌اند، در مسیری که به سمت نقطه‌های دیگر می‌روند، علامت پیکان بگذاریم (شکل ۲۵)، آن وقت، به هر نقطه (به جز ریشه)، یک پیکان می‌رسد.

▽ گرافی که، در این مساله، مورد مطالعه قرار گرفته است «دخت» نامیده می‌شود (ضمیمه ۱۱)؛ در این جا، یکی از «رأس‌های» گراف را به عنوان «ریشه» انتخاب کرده‌ایم. یادآوری می‌کنیم، این مساله را، با روش استقرای ریاضی (ضمیمه ۱) هم می‌توان حل کرد.

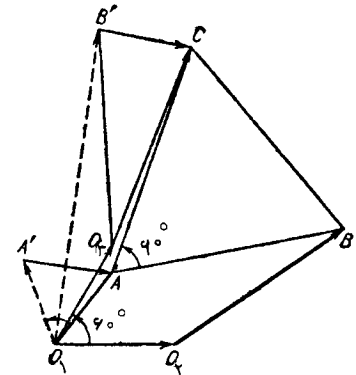
۹. بزرگترین مقسوم‌علیه مشترک دو عدد b و $a-p$ را d می‌گیریم:

$$b = kd \text{ و } p - a = ld$$

در این صورت، k و l نسبت به هم اول می‌شوند. سپس داریم:



شکل ۲۴



شکل ۲۳

A' و B' می‌گیریم. ضمن دوران یکنواخت بردارهای $O \setminus A$ و $O \setminus B$ ، مثلث $O \setminus A' A$ هم دور O ، و بردارهای $O \setminus B' B$ و $B' C = A' A$ و در نتیجه مجموع آن‌ها $O \setminus C$ هم دور O ، با همان سرعت زاویه‌ای دوران می‌کنند (شکل ۲۳).
b) پاسخ: ۵. نقطه B را به فاصله ۳ از P تثبیت می‌کنیم (شکل ۲۴). ضمن حرکت A روی محیط دایره به شعاع ۲ و به مرکز P ، رأس C روی محیط دایره به شعاع ۲، که مرکز آن به فاصله ۳ از P قرار دارد، حرکت می‌کند (مثلث OPB ، متساوی‌الاضلاع است). دورترین نقطه محیط این دایره از P ، به فاصله $CO + OP$ یعنی ۵، قرار دارد.

▽ در نابرابری $PC \leq AP + PB$ هم (برای هر مثلث متساوی‌الاضلاع ABC و هر نقطه P)، وقتی به برابری می‌رسیم که، نقطه P ، روی کمان AB از دایره محیطی مثلث ABC (کمانی که شامل رأس C نیست) باشد.

۷. بین همه جدول‌هایی که می‌توان از تغییر علامت سطرها و ستون‌ها به دست آورد، آن را انتخاب می‌کنیم که، مجموع همه عددهای واقع در آن، حداکثر باشد. این جدول T (با حداکثر مقدار ممکن مجموع عددها) وجود دارد، زیرا مجموعه روش‌های تغییر علامت‌ها در جدول $m \times n$ ، مجموعه‌ای متناهی و دارای 2^{m+n} عضو است (تعداد روش‌های ممکن، برای تغییر علامت‌ها در سطرها و ستون‌ها، در عمل، از این هم کمتر است: 2^{m+n-1}). در جدول

شماره‌های i_1, i_2, \dots, i_n را طوری در نظر گرفت که داشته باشیم:

$$a_{i_1} \leq a_{i_2} \leq \dots \leq a_{i_n} \leq \dots$$

(a_{i_1}) کوچکترین عدد: در دنباله $a_n, a_{i_2}, \dots, a_{i_1}$ کوچکترین عدد از بقیه جمله‌های دنباله a_n (غیره). به همین ترتیب، از دنباله شماره‌های $i_1, i_2, \dots, i_n, \dots$ می‌توان دنباله $j_1, j_2, \dots, j_n, \dots$ را طوری در نظر گرفت که، برای آن‌ها، داشته باشیم:

$$b_{j_1} \leq b_{j_2} \leq \dots \leq b_{j_n} \leq \dots$$

روشن است که، در این ضمن، دنباله $a_{j_1}, a_{j_2}, \dots, a_{j_n}, \dots$ غیر نزولی باقی می‌ماند. اکنون، کافی است، از دنباله $c_{j_1}, c_{j_2}, \dots, c_{j_n}, \dots$ دنباله‌ای غیر نزولی را انتخاب کنیم. در این صورت

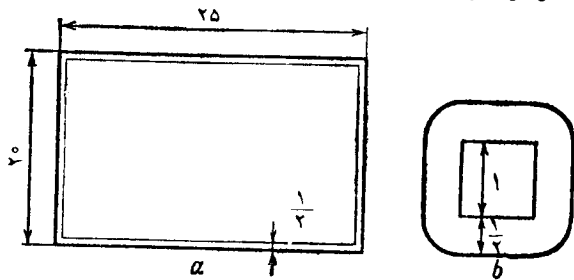
$$a_{k_1} \leq a_{k_2} \leq \dots \leq a_{k_n} \leq \dots$$

$$b_{k_1} \leq b_{k_2} \leq \dots \leq b_{k_n} \leq \dots$$

$$c_{k_1} \leq c_{k_2} \leq \dots \leq c_{k_n} \leq \dots$$

که از آن‌ها، درستی حکم مساله ثابت می‌شود.

▽ ضمن حل مساله، از این گزاره استفاده کردیم که، در هر مجموعه عددهای طبیعی (ولو نامتناهی)، کوچکترین عدد وجود دارد. در واقع، این گزاره، با نظام استقرای ریاضی، هم ارز است (ضمیمه ۱).
۱۲. مرکز دایره بد قطر واحد، باید در درون مستطیلی باشد که، ضلع‌های



شکل ۲۶

$$ak + bl = \frac{ab}{d} + \frac{(p-a)b}{d} = pk$$

یعنی $ak + bl$ بر p بخش پذیر است.

۱۵. پاسخ: مناسب ترین روش، برای کولیا، روش اول است؛ در هر يك از روش‌های دوم و سوم، به شرط بازی آگاهانه، گردوی کمتری بدو می‌رسد. (همان طور که خواهیم دید، در این تقسیم، بحث تنها بر سر يك گردو است.)

فرض کنیم پختیا، گردوها را، به نحوی، به دو بخش کرده باشد (در يك بخش a و در دیگری b گردو؛ $a < b$)؛ کولیا می‌تواند بخش بزرگتر را طوری تقسیم کند که در یکی ۱ گردو و در دیگری $b-1$ گردو وجود داشته باشد. همین دو بخش، کوچکترین و بزرگترین بخش‌ها را تشکیل می‌دهند (و این، بستگی به تقسیم بخش شامل a گردو ندارد). به این ترتیب، باروش اول، به تعداد $n+1 \geq b$ گردو به کولیا می‌رسد. (اگر به تیا $a = n$ و $b = n+1$ گرفته باشد، سهم او در این روش، يك گردو کمتر از سهم کولیا می‌شود.) در روش دوم، اگر بعد از نخستین حرکت داشته باشیم $a = 2$ و $b = 2n-1$ ، بهترین نوع تقسیم برای کولیا عبارت است از

$$2 = 1 + 1, \quad 2n-1 = (n-1) + n$$

که در این صورت، n گردو به کولیا می‌رسد. (اگر حرکت اول، به نحو دیگری باشد، کولیا می‌تواند تقسیم را طوری انجام دهد که کمتر از $n+1$ گردو به او نرسد.)

در روش سوم، اگر $a = n$ و $b = n+1$ باشد، کولیا نمی‌تواند طوری تقسیم‌ها را انجام دهد که بیش از $n+1$ گردو به او برسد (مجموع دو بخش متوسط و مجموع دو بخش کوچکتر و بزرگتر، همیشه یکی از دو مقدار n یا $n+1$ را اختیار می‌کنند). در این صورت، وقتی که کولیا يك گردو به پختیا بدهد، سهم پختیا بیشتر می‌شود.

۱۱. چون a_1, a_2, \dots, a_n عددهایی طبیعی اند، بنا بر این می‌توان

آن، به فاصله‌ای بیش از $\frac{1}{4}$ از ضلع‌های مستطیل اصلی قرار دارند و، در ضمن، دوردرون مستطیل اصلی باشد؛ یعنی این مرکز، باید دوردرون چارچوبی باشد که در شکل ۲۶ - a نشان داده شده است. مساحت این مستطیل درونی، برابر است با $19 \times 24 = 456$.

به جز این، مرکز این دایره، باید به فاصله بیش از $\frac{1}{4}$ از محیط هر یک از مربع‌ها باشد، یعنی در بیرون هر شکلی به مساحت $3 + \frac{\pi}{4}$ ، که در شکل ۲۶ - b دیده می‌شود. حتی اگر این شکل‌ها یکدیگر را قطع نکنند، مجموع مساحت‌های آن‌ها چنین می‌شود:

$$120 \left(3 + \frac{\pi}{4} \right) = 360 + 30\pi < 360 + 30 \times 3/2 = 456$$

بنابراین، این شکل‌ها، نمی‌توانند مستطیل به مساحت ۴۵۶ را پوشانند و، در نتیجه، دایره‌ای با قطر واحد پیدا می‌شود که هیچ کدام از مربع‌ها را قطع نکند.

۱۳. هر میانه، مثلث را به دو مثلث با مساحت‌های برابر تقسیم می‌کند. بنا بر این (شکل ۲۷) داریم:

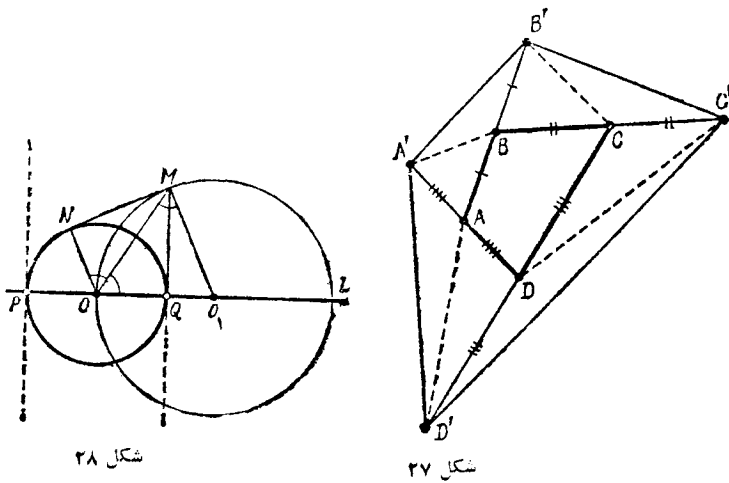
$$S_{ABC} = S_{CBB'} = S_{CB'C'}$$

که از آن جا نتیجه می‌شود: $S_{BB'C'} = 2S_{ABC}$ به همین ترتیب، می‌توان به دست آورد:

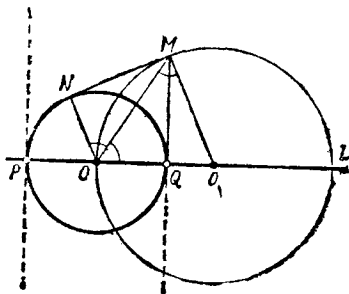
$$S_{CC'D'} = 2S_{BCD}; S_{DD'E'} = 2S_{CDE}; S_{A'B'} = 2S_{DAB}$$

و از مجموع این چهار برابری، به دست می‌آید:

$$\begin{aligned} S_{BB'C'} + S_{CC'D'} + S_{DD'E'} + S_{A'B'} &= \\ &= 2(S_{ABC} + S_{BCD} + S_{CDE} + S_{DAB}) = 4S \end{aligned}$$



شکل ۲۷



شکل ۲۸

به این ترتیب: $S_{A'B'C'D'} = 4S + S = 5S$

۱۴. پاسخ: مکان مطلوب، عبارت است از دو خط راست مماس بر

دایره S در نقطه‌های P و Q (به استثنای خود نقطه‌های P و Q). نقطه تماس مشترک دو دایره S و S' با دایره S را، N می‌نامیم.

در این صورت

$$\widehat{NOM} = \widehat{OMO_1} = \widehat{MOO_1}$$

بنابراین زاویه MQO قائمه است و خط

راست MQ در نقطه Q بر دایره S مماس است (شکل ۲۸).

از طرف دیگر، از هر نقطه واقع بر خط راست جواب، به شرطی که روی محیط S نباشد، می‌توان دایره‌ای گذراند که مرکزش روی خط راست l باشد و، در ضمن، از O بگذرد.

۱۵. بنا به فرض $a_1 - a_2 \geq 1$. سپس به ترتیب

$$a_2 - a_1 = 2(a_1 - a_2); a_3 - a_2 = 2(a_2 - a_1); \dots;$$

$$a_{100} - a_{99} = 2(a_{99} - a_{98})$$

اگر این ۹۹ برابری را در هم ضرب کنیم (دوطرف هر یک از برابری‌ها، عددی

مثبت است)، سرانجام به دست می آید:

$$a_{100} = a_{99} + 2^{99} (a_1 - a_2) > 2^{99}$$

▽ ارزیابی دقیق تر را می توان، به کمک استقرا به دست آورد:

$$a_{100} \geq 2^{100}, (k = 1, 2, \dots), a_{k+1} - a_k \geq 2^k, a_k \geq 2^k$$

۱۶. فرض کنید: $P(x) = ax^2 + bx^2 + cx + d$. تفاضل

$$P(62) - P(19) = a(62^2 - 19^2) + b(62^2 - 19^2) + c(62 - 19)$$

بر ۴۳ بخش پذیر است و نمی تواند برابر واحد باشد.

▽ به طور کلی، برای هر چند جمله ای $P(x)$ با ضرایب های درست،

برای هر دو عدد درست x_1 و x_2 ، تفاضل $P(x_1) - P(x_2)$ بر $x_1 - x_2$

بخش پذیر است (ضمیمه ۶).

۱۷. p_1, \dots, p_n را حاصل ضرب های سطرها و q_1, \dots, q_n

را حاصل ضرب های ستون ها می گیریم. در این صورت

$$p_1 p_2 \dots p_n = q_1 q_2 \dots q_n$$

زیرا، هر طرف این برابری، معرف حاصل ضرب همه عددهای واقع در جدول است. این برابری، به معنای آن است که، اگر تعداد عددهای ۱- در بین

p_1, p_2, \dots, p_n زوج باشد، تعداد عددهای ۱- در بین q_1, q_2, \dots, q_n

هم زوج است و اگر تعداد عددهای ۱- در دنباله اول فرد باشد، در دنباله

دوم هم فرد است. به این ترتیب، در بین دو $2n$ عدد $p_1, p_2, \dots, p_n, q_1, q_2, \dots, q_n$

تعداد عددهای ۱- زوج و، بنابراین، تعداد عددهای ۱+ هم

زوج است. ولی چون n ، عددی فرد است، تعداد عددهای ۱- نمی تواند با

تعداد عددهای ۱+ برابر باشد و، در نتیجه، مجموع

$$p_1 + p_2 + \dots + p_n + q_1 + q_2 + \dots + q_n$$

نمی تواند برابر صفر شود.

▽ این مجموع، می تواند با $2n$ ، اختلافی برابر d داشته باشد، به شرطی

که d مضربی از ۴ باشد. جالب است، با پیدا کردن مثال های متناظر، روشن

کنید که، برای هر $d = 4k$ ، $|k| < \frac{n}{4}$ ، مجموع مربوط می تواند برابر

$2n - d$ شود.

۱۸. a و b را طول ضلع های BC و AC از مثلث ABC می گیریم و

فرض می کنیم، میان نه های AD و BE تحت زاویه قائمه، یکدیگر را قطع کرده

باشند. پاره خط راست AC به طول b را در نظر می گیریم و نقطه F را روی

آن طوری انتخاب می کنیم که داشته باشیم: $AF : FC = 3$. در این صورت

FD با BE موازی و زاویه ADF برابر ۹۰ درجه می شود. به این ترتیب،

می توان نقطه D را پیدا کرد: این نقطه، اولاً روی محیط دایره ای به قطر

AF و ثانیاً روی محیط دایره ای به مرکز C و شعاع $\frac{1}{4}a$ قرار دارد. با به

دست آوردن نقطه D ، نقطه B هم به سادگی پیدا می شود. مساله وقتی جواب

دارد که داشته باشیم: $2 < \frac{b}{a} < \frac{1}{4}$ ، در ضمن، مساله تنها يك جواب دارد.

▽ به سادگی می توان ثابت کرد که، در چنین مثلی، برای ضلع سوم

به طول c داریم:

$$c^2 = \frac{1}{5}(a^2 + b^2)$$

و از آنجا، راه دیگری برای رسم مثلث به دست آورد.

۱۹. از نابرابری $x^2 + y^2 \geq 2xy$ نتیجه می شود:

$$(a^2 + b^2) + (c^2 + d^2) \geq 2(ab + cd) \geq 2\sqrt{abcd} = 4$$

$$ab + cd \geq 2, bc + ad \geq 2, ac + bd \geq 2$$

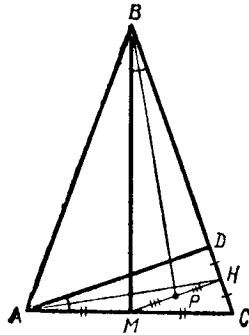
▽ با استفاده از قضیه کلی مربوط به واسطه های حسابی و هندسی،

می توان مساله را به طریق دیگری حل کرد و، در ضمن، ثابت کرد که، برای

هر n عدد مثبت به حاصل ضرب واحد، مجموع مجذورهای آنها از n ، و

مجموع حاصل ضرب های دوبه دوی آنها (که تعدادی برابر $\frac{1}{4}n(n-1)$

دارند) از $\frac{1}{4}n(n-1)$ کمتر نیست.



شکل ۳۰

۲۲. ارتفاع AD را در مثل ABC رسم می‌کنیم (شکل ۳۰). در این صورت، در مثل ADC ، پاره‌خط راست MH ضلع DC را هم نصف می‌کند، یعنی $DH = CH$. مثلث‌های قائم‌الزاویه BHM و ADC متشابه‌اند، زیرا

$$\widehat{DAC} = 90^\circ - \widehat{C} = \widehat{HBM}$$

اگر یکی از این مثلث‌ها را به اندازه 90° درجه دوران دهیم، ضلع‌های متناظر در آن‌ها، باهم موازی می‌شوند؛ در ضمن میانه‌های آن‌ها، AH و BP هم، موازی با هم درمی‌آیند، یعنی قبل از دوران، AH و BP برهم عمودند.

۲۳. پاسخ: ۱.

بین مثلث‌های بادو ضلع a و b ، با شرط‌های $1 \leq a \leq 2$ و $0 < b \leq 1$ ، حداکثر مساحت، مربوط به مثلث قائم‌الزاویه‌ای است که ضلع‌های مجاور به

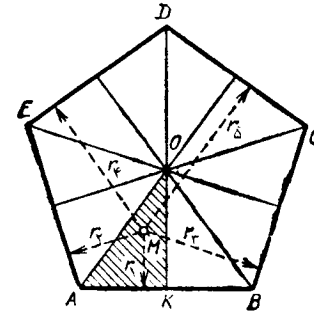
زاویه قائمه آن $a = 1$ و $b = 2$ باشد (در واقع $1 \leq \frac{ab}{4} \leq 2$ ، زیرا ارتفاع

وارد بر ضلع b ، از a تجاوز نمی‌کند). اکنون، و تر این مثلث $c = \sqrt{5}$ ، با شرط $3 \leq c \leq 2$ سازگار است؛ بنا بر این، بین همه این مثلث‌ها، مثلث قائم‌الزاویه با ضلع‌های 1 ، 2 و $\sqrt{5}$ ، حداکثر مساحت را دارد.

۲۴. خارج قسمت برابر است با

$$x^2 + y^2 + z^2 - 2xy - 2yz - 2zx$$

برای تحقیق، بهتر است فرض کنیم: $x - y = u$ ، $y - z = v$ ، در این صورت



شکل ۲۹

۲۰. پاسخ: بیشترین مقدار برای رأس پنج‌ضلعی و کمترین مقدار برای وسط یکی از ضلع‌ها به دست می‌آید.

پنج ضلعی منتظم $ABCDE$ را، به وسیله محورهاى تقارن آن، به ۱۰ مثلث تقسیم می‌کنیم. کافی است نقطه M را، تنها در درون یکی از این مثلث‌ها، و مثلاً مثلث AOK مورد بررسی قرار دهیم (شکل ۲۹). برای این که فاصله نقطه M واقع در درون زاویه‌ای را تا ضلع‌های آن با هم مقایسه کنیم، کافی است روشن کنیم، که نقطه M ، در کدام طرف نیمساز این زاویه قرار دارد. با توجه به این نکته، قانع می‌شویم که فاصله نقطه M تا ضلع‌های پنج‌ضلعی: AB ، AE ، BC ، DE و CD . به ترتیب صعودی است:

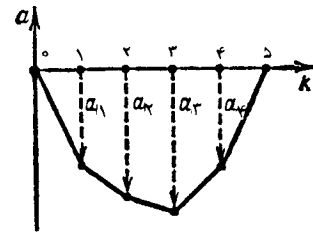
$$r_1 \leq r_2 \leq r_3 \leq r_4 \leq r_5$$

اکنون دیگر روشن است که فاصله r_3 وقتی به حداکثر خود می‌رسد که، نقطه M روی رأس A قرار گیرد، و وقتی به حداقل مقدار خود می‌رسد که، نقطه M بر نقطه K منطبق باشد.

۲۱. پاسخ: $c = 9$.

باقی‌مانده تقسیم مجموع رقم‌های هر عدد بر ۹، برابر است با باقی‌مانده تقسیم خود عدد بر ۹ (ضمیمه ۳). از طرف دیگر $19999 < 9 \times 2222 < 19999$ ؛

$$b \leq 1 + 4 \times 9 = 37 \text{ و } c \leq 9 \quad \text{بنا بر این}$$



شکل ۳۱

و، سپس، این اتحاد را ثابت کنیم:

$$(u+v)^5 = u^5 + v^5 + 5uv(u+v)(u^2 + uv + v^2)$$

[به کمک بسط دو جمله‌ای (ضمیمه ۶)].

۲۵. شکل ۳۱ به حل این مسأله کمک می‌کند: خط شکسته با رأس‌هایی

در نقطه‌های (k, a_k) ، محدب است، زیرا

$$a_{k+1} - a_k \geq a_k - a_{k-1}$$

(یعنی، ضریب‌زاویه هر ضلع، از ضریب‌زاویه ضلع قبلی، بیشتر است)، به نحوی که همه این نقطه‌ها، به جز دو انتها، در زیر محور Ok قرار دارند.

فرض می‌کنیم، به ازای مقداری از $m \geq 1$ ، داشته باشیم: $a_{m-1} \leq 0$ و $a_m > 0$. در این صورت

$$a_n - a_{n-1} \geq a_{n-1} - a_{n-2} \geq \dots \geq a_{m+1} - a_m \geq a_m - a_{m-1} > 0$$

و بنابراین

$$a_n > a_{n-1} > \dots > a_m > 0$$

که با شرط $a_n = 0$ متناقض است.

۲۶. جدولی $m \times n$ در نظر می‌گیریم و، استدلال را، با استقرا انجام

می‌دهیم. درستی حکم، برای جدول 1×1 روشن است. فرض می‌کنیم، حکم مسأله، برای هر تعدادی کمتر از $m+n$ عدد، درست باشد n و ثابت می‌کنیم که، در این صورت، برای $m+n$ عدد هم درست است. کوچکترین

عدد، از بین $m+n$ عدد مفروض $a_1 \cdot a_1, \dots, a_m \cdot a_1, \dots, a_m \cdot b_1, \dots, b_n$ را در نظر می‌گیریم. فرض می‌کنیم، این عدد، مثلاً a_1 باشد. a_1 را در گوشه چپ و بالای جدول قرار می‌دهیم و، سپس، سطر اول را از جدول جدا می‌کنیم. اکنون باید مسأله را، برای جدول $n \times (m-1)$ و گروه‌های a_2, \dots, a_m ، $a_1 - b_1, b_2, \dots, b_n$ حل کنیم که، بنا به فرض استقر، حل آن، برای ما ممکن است.

راه حل دوم. پاره‌خط راستی به طول

$$d = a_1 + a_2 + \dots + a_m = b_1 + b_2 + \dots + b_n$$

رسم و، آن را، با دو روش، تقسیم می‌کنیم: m پاره‌خط راست «قرمز» به طول‌های a_1, a_2, \dots, a_m و n پاره‌خط راست «آبی» به طول‌های b_1, b_2, \dots, b_n . روی هم $(m-1) + (n-1)$ نقطه تقسیم و، متناظر با آن، $m+n-1$ پاره خط راست کوچک خواهیم داشت. این باقی می‌ماند که طول هر یک از این پاره‌خط‌های راست کوچک را (اشترک پاره‌خط قرمز a_i با پاره‌خط آبی b_j) در خانه متناظر آن در جدول (محل برخورد i امین سطر و j امین ستون) بنویسیم.

۲۷. نقطه برخورد دایره‌های اول، دوم، چهارم و پنجم را A ؛ نقطه برخورد دایره‌های اول، سوم، چهارم و پنجم را B ؛ و نقطه برخورد دایره‌های دوم، سوم، چهارم و پنجم را C می‌گیریم. هر سه نقطه A, B و C نمی‌توانند جدا از هم باشند، زیرا این سه نقطه، بر محیط دایره‌های چهارم و پنجم قرار دارند و، دو دایره، نمی‌توانند بیش از دو نقطه برخورد داشته باشند. بنابراین، از سه نقطه A, B و C ، دو تا برهم منطبق‌اند (ضمیمه ۹).

مثلاً فرض کنید $A = B$. در این صورت، همه دایره‌ها، از نقطه A می‌گذرند.

۲۸. پاسخ: نفر سوم، از نفر هفتم برده است.

شرط نچ بازی که چهارم مقام آخر را به دست آورده‌اند، روی هم n بار با هم بازی کرده‌اند و، بنابراین، در این بازی‌ها، دست کم n امتیاز کسب شده است. به این ترتیب، بازی‌کن مقام دوم، دست کم n امتیاز دارد.

$$S_{IBP} = S_{IBCD} - S_{BCDP} = S_{BCDE} - S_{BCDP} = S_{FPD}$$

به همین ترتیب، می توان ثابت کرد:

$$S_{BCR} = S_{EFR} \text{ و } S_{IQF} = S_{CQD}$$

از برابری مساحت های مثلث ها. به دست می آید:

$$AP \cdot BP = EP \cdot DP,$$

$$CQ \cdot DQ = AQ \cdot FQ,$$

$$ER \cdot FR = BR \cdot CR$$

و اگر این رابطه ها را، در هم ضرب کنیم:

$$AP \cdot BP \cdot CQ \cdot DQ \cdot ER \cdot FR = AQ \cdot BR \cdot CR \cdot DP \cdot EP \cdot FQ$$

ولی این، ممکن نیست، زیرا داریم:

$$AP > AQ \cdot BP > BR \cdot CQ > CR \cdot DQ > DP.$$

$$ER > EP \cdot FR > FQ$$

یعنی، حاصل ضرب سمت راست، از حاصل ضرب سمت چپ کوچکتر است. تناقض حاصل. ثابت می کند که قطرهاى AD ، BE و CF از يك نقطه می گذرند (یعنی $PQ = QR = RP = 0$).

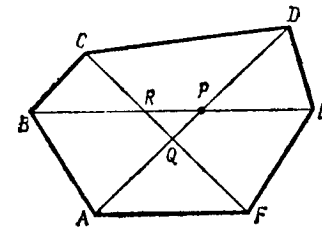
داده حل دوم. این را درج. بر اساس استفاده از تبدیل هندسی است: تجانس. جدول مساحت های چهارضای های $ABCD$ و $BCDE$ برابرند، بنابراین، مساحت های مثلث های ABD و BDE هم برابرند (همر کدام از آن ها، به اندازه مساحت مثلث BCD ، از چهارضای متناظر خود، کمتر است). این دو مثلث، در قاعده BD مشترک اند. برابری مساحت ها، به معنای برابری دو ارتفاعی است که از رأس های A و E بر قاعده BD فرود می آیند: یعنی نقطه های A و E از BD به يك فاصله اند. به این ترتیب: $AE \parallel BD$ به همین ترتیب، می توان ثابت کرد: $DF \parallel AC$ و $CE \parallel BF$. بنا بر این، مثلث های BDF و ACE متشابه اند.

از طرف دیگر، این شطرنج باز مقام دوم، نمی تواند بیش از ۶ امتیاز داشته باشد: اگر بازی کن مقام اول ۷ امتیاز آورده باشد، به معنای آن است که از نفر دوم برده است و نفر دوم نمی تواند بیش از ۶ امتیاز داشته باشد؛ و اگر اولی ۶/۵ امتیاز داشته باشد، باز هم دومی بیش از ۶ امتیاز ندارد. از این جا نتیجه می شود که، نفر مقام دوم، درست ۶ امتیاز کسب کرده است. چهار نفر مقام های آخر هم، همین ۶ امتیاز را داشته اند و، بنابراین، در برابر شطرنج بازان مقام های اول تا چهارم، به همه آن ها باخته اند.

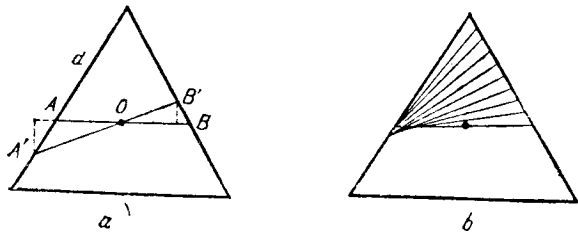
۲۹. (a) O را نقطه برخورد قطرهای چهارضای $ABCD$ می گیریم. چون دو مثلث ABD و BCD ، مساحت هایی برابر دارند و در قاعده BD مشترک اند، بنا بر این، دو ارتفاع وارد بر این قاعده در دو مثلث، با هم برابرند، یعنی نقطه های A و C ، از BD به يك فاصله اند که، از آن جا، نتیجه می شود: $AO = OC$. به همین ترتیب، می توان ثابت کرد: $BO = OD$.

به این ترتیب، قطرهای چهارضای $ABCD$ ، یکدیگر را نصف کرده اند، یعنی این چهارضای، متوازی الاضلاع است.

(b) داده حل اول. فرض می کنیم، در شش ضلعی محدب $ABCDEF$ ، قطر هایی که رأس های روبه رو را به هم وصل کرده اند، مساحت آن را نصف کنند و، در عین حال، از يك نقطه نگذرند. در این صورت، نقطه های برخورد این سه قطر، P و Q و R ، رأس های مثلثی را تشکیل می دهند که در درون شش ضلعی واقع است (شکل ۳۲). مساحت های دو چهارضای $ABCD$ و $BCDE$ برابرند و، بنا بر این، دو مثلث ABP و EPD هم، مساحت هایی برابر دارند، زیرا



شکل ۳۲



شکل ۲۳

خود، از مرکز مثلث می‌گذرد. ثابت می‌کنیم، از بین پاره‌خط‌های راستی که از مرکز مثلث می‌گذرند و دو انتهای هر یک از آن‌ها، بر ضلع‌های مثلث تکیه‌دارند، پاره‌خط راست AB ، موازی با ضلع مثلث، از همه کوتاه‌تر است. $A'B'$ را پاره‌خط راستی می‌گیریم که دو انتهای آن بر همان ضلع‌ها تکیه داشته باشد، از مرکز مثلث بگذرد و، در ضمن $OB' < OA'$ (شکل ۳۳). در این صورت $AA' > BB'$ و روشن است که، حتی تصویر این پاره‌خط بر خط راست AB ، طولی بیشتر از $\frac{2}{3}$ دارد. بنا بر این، پاره‌خط راستی که بتواند تمامی مثلث را جارو کند، طولی کمتر از $\frac{2}{3}$ ندارد.

از طرف دیگر، با پاره‌خط راست به طول $\frac{2}{3}$ می‌توان تمامی مثلث را جارو کرد. برای این منظور، باید ثابت کرد، از هر نقطه P واقع در درون مثلث می‌توان پاره‌خط راستی به طول $\frac{2}{3}$ عبور داد، به نحوی که دو انتهای آن روی ضلع‌های مثلث باشد. از نقطه P ، دو خط راست می‌کشیم که با نزدیک‌ترین و دورترین ضلع مثلث به P ، موازی باشند. این خط‌های راست، به وسیله محیط مثلث به دو پاره‌خط راست محدود می‌شوند که اولی طولی بیشتر از $\frac{2}{3}$ و دومی طولی کمتر از $\frac{2}{3}$ دارد. پاره‌خط اول را دور نقطه P دوران می‌دهیم تا بر پاره‌خط دوم منطبق شود؛ این پاره‌خط، در یکی از

P را نقطه برخورد قطرهای AD و BE می‌گیریم. به تجانس توجه می‌کنیم که به مرکز P و ضرب $PE : PB$ باشد. در این تجانس، نقطه B به نقطه E ، نقطه D به نقطه A ، خط راست DF به خط راست AC و خط راست BF به خط راست EC تبدیل می‌شود.

چون F ، نقطه برخورد خط‌های راست DF و BF است، بنا بر این، ضمن تجانس، به نقطه برخورد خط‌های راست AC و EC ، یعنی به نقطه C ، تبدیل می‌شود. به این ترتیب، نقطه‌های F ، P و C روی یک خط راست اند و این به معنای آن است که، قطرهای AD ، BE و CF ، از نقطه P می‌گذرند. ۳۰. اگر $a+b$ و a^2+b^2 بر d بخش پذیر باشند، آن وقت عدد

$$(a+b)^2 - (a^2+b^2) = 2ab$$

هم بر d بخش پذیر است. از این‌جا، باید عدد‌های

$$2a^2 = 2a(a+b) - 2ab \quad \text{و} \quad 2b^2 = 2b(a+b) - 2ab$$

هم بر d بخش پذیر باشند.

ولی، اگر a و b نسبت به هم اول باشند، a^2 و b^2 هم نسبت به هم اول می‌شوند و، بنا بر این، نمی‌توانند به‌طور هم‌زمان، بر عدد $d > 2$ بخش پذیر باشند. [در این‌جا، از قضیه اصلی حساب استفاده کردیم (ضمیمه ۲).]

۳۱. a را انتهای دیگر قطری از دایره می‌گیریم که از A گذشته است. AMC ، زاویه‌ای قائمه است. چون $MK = KB$ و $PK \parallel MC$ ، بنا بر این، خط راست PK ، پاره‌خط راست BC را در وسط آن قطع می‌کند: $BH = HC$. به این ترتیب، همه خط‌های راست PK ، از نقطه H وسط پاره‌خط راست BC می‌گذرند.

(b) از نتیجه می‌شود که، همه نقطه‌های P ، روی محیط دایره‌ای قرار دارند که به قطر AH رسم شود. چون زاویه HBA قائمه است، این دایره از نقطه B هم می‌گذرد.

$$۳۲. پاسخ: $d = \frac{2}{3}$.$$

اگر پاره‌خط راستی تمامی مثلث را جارو کند، در یکی از موقعیت‌های

موقعیت‌های بینابینی بر پاره‌خط راستی به طول $\frac{2}{3}$ منطبق می‌شود که دو انتهای آن بر ضلع‌های مثلث قرار دارد.

▽ یادآوری می‌کنیم که، با وجود روشن بودن گزاره اخیر، برای اثبات دقیق باید پیوستگی روندکار اثبات شود (ضمیمه ۵).

۳۳. فرض می‌کنیم، بتوانیم مهره‌های دومینو را طوری روی صفحه قرار دهیم که هر یک از خط‌های راست افقی یا قائم، که صفحه را به خانه‌ها تقسیم می‌کنند، دست کم، یکی از مهره‌های دومینو را قطع کند.

۱۵ خط راست از این گونه وجود دارد. هر یک از این خط‌های راست، صفحه را به دو بخش تقسیم می‌کند که، هر بخش، شامل تعداد زوجی خانه است. در هر یک از این بخش‌ها، چند مهره دومینو وجود دارد که «بریده» نشده‌اند. این مهره‌ها، تعداد زوجی از خانه‌ها را اشغال می‌کنند. بقیه خانه‌ها به وسیله مهره‌های دو نیم‌شده پر شده‌اند. و چون، تعداد این خانه‌ها زوج است بنابراین، تعداد مهره‌های دو نیم‌شده هم باید زوج باشد.

به این ترتیب، هر یک از ۱۵ خط راست، دست کم دو تا از مهره‌های دومینو را نصف می‌کند و چون، هر مهره، تنها به وسیله یک خط راست می‌تواند نصف شود، در نتیجه تعداد مهره‌های دو نیم‌شده، از ۲ کمتر نیست. در حالی که، تعداد کل مهره‌ها، فقط ۱۸ تا است.

▽ جالب است، در این باره بررسی کنید که، برای چه مستطیل‌هایی با بعدهای $m \times n$ (عددی زوج). گزاره مشابه درست است؟

۳۴. می‌توان عددها را بدردیاف صعودی در نظر گرفت:

$$a_1 < a_2 < \dots < a_n$$

این عددها را در نظر می‌گیریم:

$$\begin{array}{cccc} a_1 & a_2 & \dots & a_{n-2} & a_{n-1} & a_n \\ a_1 + a_n & a_2 + a_{n-1} & \dots & a_{n-2} + a_3 & a_{n-1} + a_2 & \end{array}$$

$$a_1 + a_{n-1} + a_n, \dots, \dots, a_{n-2} + a_{n-1} + a_n,$$

$$\dots, \dots, \dots$$

$$a_1 + a_2 + \dots + a_n$$

روشن است که، در این‌جا، هر عدد از عدد قبلی بزرگتر است؛ بنابراین، همه این عددها، با هم فرق دارند. تعداد آن‌ها برابر است با

$$n + (n-1) + \dots + 1 = \frac{1}{2}n(n+1)$$

یادآوری می‌کنیم که، n عدد طبیعی نخستین را می‌توان مثالی برای

n عدد مختلف گرفت که، از آن، بیش از $\frac{1}{2}n(n+1)$ مجموع متفاوت نمی-

توان به دست آورد (این مجموع‌ها، عبارتند از همه عددهای طبیعی از ۱

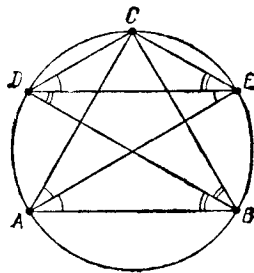
$$\text{تا } (1+2+\dots+n) = \frac{1}{2}n(n+1).$$

۳۵. از زاویه‌های برابر (شکل ۳۴ را ببینید)، نتیجه می‌شود که، نقطه

A ، روی محیط دایره‌ای است که از نقطه‌های C و D و E گذشته است؛ نقطه B هم روی محیط همین دایره قرار دارد و، در ضمن $DE \parallel AB$.

۳۶. قدرنسبت تصاعد را d می‌گیریم و فرض می‌کنیم $a = m^2$ یکی

از جمله‌های آن باشد (m ، عددی طبیعی است). در این صورت، عدد



شکل ۳۴

و اتحاد، به این صورت در می آید:

$$(x - \frac{1}{p})^2 = (x^2 + px + q)^2$$

از آن جا $(x - \frac{1}{p})^2 = x^2 + px + q = (x - \frac{1}{p})^2$ یعنی $p = -1$ و $q = \frac{1}{p}$.

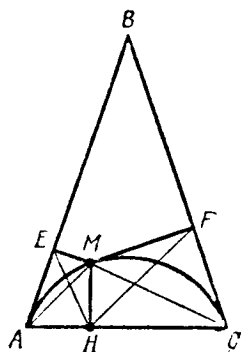
۳۹. پاسخ: 2×3^n . بعد از گام اول، مجموع همه عددها برابر $2 \times 3 = 6$ می شود.

مجموع همه عددها را، بعد از گام n ام، برابر S_n می گیریم. به سادگی ثابت می شود که بعد از گام $(n+1)$ ام، مجموع همه عددها، برابر $2S_n + S_n = 3S_n$ خواهد شد.

به این ترتیب، مجموع عددها، در هر گام سه برابر می شود، یعنی در گام n ام، برابر است با 2×3^n .

۴۰. پاسخ: کماتی از دایره، که بر ساقهای مثلث در نقطه های A و C (دوانتهای قاعده) مماس است.

ABC را مثلث مفروض $(AB = BC)$. M را نقطه ای از مکان مجهول E و F و H را، به ترتیب، تصویرهای نقطه M بر ضلع های AB و BC و AC می گیریم (شکل ۳۵). چهارضلعی های $AEMH$ و $CHMF$ متشابه اند: زاویه های متناظر برابرند و، بنابه شرط، دو ضلع مجاور، متناسب اند



شکل ۳۵

$$(m+kd)^2 = m^2 + 2mkd + k^2d^2 = a + d(2mk + k^2d)$$

هم، جمله ای از همان تصاعد است (به ازای هر عدد طبیعی k). به این ترتیب، بی نهایت جمله، در تصاعد، وجود دارد که هر کدام مجذور یک عدد طبیعی اند. ۳۷. پاسخ: نمی توان.

با رقم a ، ۹ زوج تشکیل می شود (با هر یک از ۹ رقم بقیه). اگر بخواهیم، برای هر زوج، ضلعی از ۴۵ ضلعی را، متناظر با آن، داشته باشیم، باید a را دست کم در پنج رأس آن قرار داد. چون باده رقم سروکار داریم، بنابراین برای جادادن آن ها، به ۵۰ رأس نیاز داریم. به این ترتیب، نمی توان رقم های از ۹ تا ۹ را، به ترتیبی که مساله خواسته است، قرارداد (ضمیمه ۹). ∇ از طرف دیگر، اگر n زوج باشد، عددهای ۰، ۱، ۲، ...، n را می-

توان در رأس های یک $\frac{(n+1)(n+2)}{2}$ ضلعی منتظم، طوری قرارداد که، برای هر دو عدد، ضلعی پیدا شود که این دو عدد در دو انتهای آن باشند.

۳۸. پاسخ: $a_{1,2} = \pm \sqrt{2^{2^0} - 1}$ ، $b_{1,2} = \mp \frac{1}{p} \sqrt{2^{2^0} - 1}$

$q = \frac{1}{p}$ ، $p = -1$ (روی هم، دو گروه ضرب ها).

با قرارداد $x = \frac{1}{p}$ به دست می آید:

$$\left(\frac{a}{p} + b\right)^2 + \left(\frac{1}{p} + \frac{p}{p} + q\right)^2 = 0$$

از آن جا $a = -2b$. اکنون، اتحاد به این صورت در می آید:

$$(2x - 1)^2 = (-2bx + b)^2 + (x^2 + px + q)^2$$

ضرب x^2 را، در دو طرف برابری، محاسبه می کنیم، به دست می آید:

$$2^2 = 2^2 b^2 + 1 \Rightarrow b = \pm \frac{1}{p} \sqrt{2^{2^0} - 1}$$

در ضمن، مثلث‌هایی که در این چهارضای‌ها، به وسیله
 $\left(\frac{EM}{MH} = \frac{MF}{MH}\right)$ قطر‌ها پدید آمده‌اند، متشابه‌اند؛ مثلث EMA با HMC ، و مثلث AMH
 با مثلث CMF ، از آن‌جا

$$\widehat{AMC} = \widehat{AMH} + \widehat{HMC} = \widehat{HMC} + \widehat{CMF} = \widehat{HMF}$$

به این ترتیب، زاویه AMC - مقابله‌ی ثابت دارد و، بنابراین، نقطه
 M ، روی کمان دایره‌ای است که پاره‌خط راست AC را احاطه کرده است.
 می‌توان تحقیق کرد که، هر نقطه از این کمان، به کمان مطلوب تعلق دارد.
 ∇ اگر بخواهیم، این مکان را در تسمی صفحه، و نه فقط در درون مثلث،
 پیدا کنیم، آن وقت قطعه‌هایی از یک هذلولی، به این کمان دایره، اضافه می‌شود.
 ۴۱. پاسخ: زاویه‌های مثلث، ۹۰ درجه، ۴۵ درجه و ۴۵ درجه.

h_a و h_b را، طول ارتفاع‌های وارد بر ضلع‌های به طول a و b می-
 گیریم. بنا بر شرط مسأله، $a \leq h_b$ و $b \leq h_a$ ؛ ولی در هر مثلثی $h_a \leq b$ و
 $h_b \leq a$ ، به نحوی که

$$a \leq h_a \leq b \leq h_b \leq a$$

یعنی $a = b = h_a = h_b$ ، و، بنابراین، با مثلث قائم‌الزاویه متساوی‌الساقین،
 سروکار داریم.

۴۲. فرض می‌کنیم $m(m+1)$ ، برابر توان k ام یک عدد طبیعی باشد.
 چون m و $m+1$ نسبت به هم اول‌اند، بنابراین، هر کدام از آن‌ها، باید
 برابر توان k ام عددی طبیعی باشد. ولی این، ممکن نیست؛ اگر $m = a^k$ ،
 آن وقت

$$(a+1)^k > (a+1)a^{k-1} = a^k + a^{k-1} > m+1, \quad (k > 1)$$

۴۳. پاسخ: از عدد ۱، یک واحد بیشتر از عدد ۲، به دست می‌آید.
 باقی‌مانده تقسیم هر عدد بر ۹، برابر است با باقی‌مانده تقسیم مجموع
 رقم‌های آن بر ۹ (ضمیمه ۳). بنا بر این، در مسأله ما، عدد ۱، از عددی

به دست می‌آید که در تقسیم بر ۹، باقی‌مانده‌ای برابر ۱ داشته باشند، یعنی
 از عدد‌های ۱، ۱۰، ۱۹، ۲۸، ۳۷، ... ۹۹۹، ۹۹۹۹، ۹۹۹۹۹، ۹۹۹۹۹۹۹،
 و عدد ۲، از عددی که در تقسیم بر ۹، به باقی‌مانده ۲ می‌رسند، یعنی از
 عدد‌های

$$۲، ۱۱، ۲۰، ۲۹، ۳۸، ...، ۹۹۹، ۹۹۹۹، ۹۹۹۹۹$$

۴۴. گروه n عدد x_1, x_2, \dots, x_n را هر طور انتخاب کنیم، اگر همه
 آن‌ها با هم برابر نباشند، بعد از چند گام، بزرگترین عدد گروه، کوچکتر
 و کوچکترین عدد گروه، بزرگتر می‌شود. از این‌جا روشن است که، بزرگترین
 عدد گروه، نمی‌تواند همیشه عددی درست باشد، البته به شرطی که گروهی
 از عدد‌های درست و برابر (a, a, \dots, a) به دست نیاید.
 فرض کنید، از گروه عدد‌های z_1, z_2, \dots, z_n ، عدد‌های برابر به دست آید:

$$\frac{z_1 + z_2}{2} = \frac{z_2 + z_3}{2} = \dots = \frac{z_{n-1} + z_n}{2} = \frac{z_1 + z_n}{2}$$

آن وقت، عدد‌های z_i ، یک در میان با هم برابر می‌شوند که، در حالت فرد
 بودن n ، غیر ممکن است.

فرض می‌کنیم، n ، عددی زوج باشد. ببینیم، از چه گروهی، می‌توان
 به گروه عدد‌های $(a, b), (a, b), \dots, (a, b)$ رسید. فرض کنید.

$$\frac{y_1 + y_2}{2} = \frac{y_2 + y_3}{2} = \dots = \frac{y_n + y_1}{2} = a;$$

$$\frac{y_2 + y_3}{2} = \frac{y_3 + y_4}{2} = \dots = \frac{y_n + y_1}{2} = b$$

در این صورت

$$y_1 + y_2 + \dots + y_n = 2an; \quad y_2 + y_3 + \dots + y_n + y_1 = 2bn$$

$$.a = b \text{ و } 2an = 2bn$$

بعد از مجذور کردن‌های متوالی، به دست می‌آید:

$$\sqrt{x+\sqrt{x}}=m \text{ و } \sqrt{x}=k$$

که در آن‌ها m و n ، عددهایی درست‌اند؛ در ضمن

$$m^2 = k(k+1) \quad (*)$$

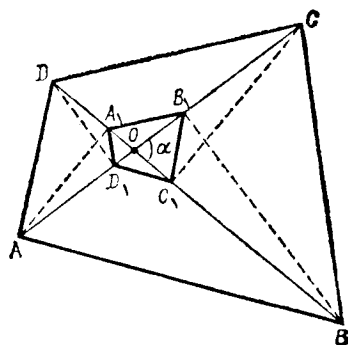
برای $k > 0$ باید داشته باشیم: $k^2 < m^2 < (k+1)^2$ در این صورت، به نابرابری‌های $k < m < k+1$ می‌رسیم که به معنای درست نبودن عدد m است. یعنی $k=0$ و بنابراین $x=0$.

▽ متناقض بودن برای (*) را، از مسأله ۴۲ هم می‌توان نتیجه گرفت. ۴۷. D, C, B, A را پای عمودهایی می‌گیریم که به ترتیب، از رأس‌های A, B, C, D بر قطرهای BD و AC رسم شده‌اند. فرض می‌کنیم، دو قطر، در نقطه O یکدیگر را قطع کرده باشند و زاویه حاده بین دو قطر برابر α باشد (شکل ۳۷). در این صورت داریم:

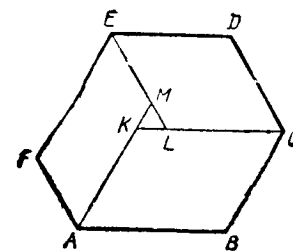
$$OA_1 = OA \cdot \cos \alpha, \quad OB_1 = OB \cdot \cos \alpha$$

$$OC_1 = OC \cdot \cos \alpha, \quad OD_1 = OD \cdot \cos \alpha$$

بنابراین، مثلث‌های D_1OA_1 و C_1OD_1 ، B_1OC_1 و A_1OB_1 متشابه‌اند و، ضریب تشابه، برابر است با



شکل ۳۷



شکل ۳۶

به این ترتیب، نمی‌توان به گروهی از عددهای دو به دو مختلف رسید و این، همان چیزی است که می‌خواستیم ثابت کنیم.

۴۵. مقدار هر یک از زاویه‌های شش ضلعی برابر ۱۲۰ درجه و، بنابراین، ضلع‌های روبه‌رو، با هم موازی‌اند. در ضمن، می‌توان فرض کرد $AB \geq DE$ (شکل ۳۶).

اکنون، متوازی‌الاضلاع‌های $ABCK$ ، $CDEL$ و $AFEM$ را می‌سازیم. اگر نقطه‌های K ، L و M منطبق بر هم نباشند، هر زاویه مثلث KLM برابر ۶۰ درجه می‌شود، یعنی

$$KL = LM = KM$$

و بنابراین

$$AB - DE = CD - FA = FE - BC$$

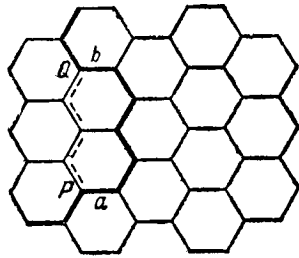
(b) می‌توان فرض کرد $a_1 > a_4$. مثلث متساوی‌الاضلاع KLM را، با این ضلع‌ها می‌سازیم:

$$KL = LM = MK = a_1 - a_4 = a_2 - a_6 = a_5 - a_7$$

KL را به اندازه a_4 ، LM را به اندازه a_6 و MK را به اندازه a_7 امتداد می‌دهیم و متوازی‌الاضلاع‌های $AKCB$ ، $CLED$ و $AFEM$ را می‌سازیم. همان شش ضلعی مطلوب است.

۴۶. پاسخ: $x = y = 0$

x و y را عددهای درستی می‌گیریم که در معادله مفروض صدق کنند.



شکل ۳۸

حشره پیدا کرد (مسیری که P و Q را با نقطه چین به هم وصل کرده است). از این جا نتیجه می شود که، تعداد پاره خط های راست بینایی، بین a و b ، عددی فرد است و، حشره، روی این پاره خط های راست، در یک جهت حرکت می کند. به این ترتیب، همه پاره خط های افقی مسیر، یا شماره ای فرد دارند و یا شماره ای زوج (و حشره، روی آنها، در یک جهت حرکت می کند). درباره پاره خط های راست مسیر، که در یکی از دو جهت دیگر قرار دارند، همین وضع درست است. از آن جا که، تنها با سه جهت سروکار داریم، یا همه پاره خط های با شماره زوج و یا همه پاره خط های با شماره فرد، در یک جهت اند. تعداد این گونه پاره خط ها برابر ۵۰ می شود.

هر مسیری از حشره روی شبکه را می توان، با آغاز از یک گره، به وسیله «واژه ای» شامل حرف های p و q و r داد (هر حرف، متناظر است با پاره خط راستی از مسیر که در یکی از سه جهت ممکن باشد). جالب است، به شرح واژه ای بپردازیم که متناظر باشد با مسیری بسته (که به نقطه آغاز برگشته است) و یا مسیری که خودش را قطع نکرده باشد.

۵۰. O را مرکز دایره محاط در چهارضلعی $ABCD$ می گیریم (شکل ۳۹). داریم:

$$\widehat{AOB} = 180^\circ - \alpha - \beta, \widehat{COD} = 180^\circ - \gamma - \delta$$

$$\text{در ضمن } \alpha + \beta + \gamma + \delta = \frac{1}{4} (\widehat{A} + \widehat{B} + \widehat{C} + \widehat{D}) = 180^\circ \text{ بنا بر این}$$

$\cos \alpha$. از این جا، نتیجه می گیریم که چهارضلعی های $ABCD$ و $A_1B_1C_1D_1$ هم، متشابه یکدیگرند.

▽ یادآوری می کنیم که می توان چهارضلعی دوم را، از چهارضلعی اول، با تبدیل های زیر به دست آورد: تقارن نسبت به نیمساز زاویه حاده بین دو قطر و، سپس، تجانس به مرکز O و ضریب $\cos \alpha$.

۴۸. پاسخ: n برابر است با عددی اول و یا $n = 9$.

اگر n را بتوان به صورت $n = ab$ ($a \geq 3, b \geq 3, a \neq b$) نشان داد، آن وقت، در حاصل ضرب $1 \times 2 \times \dots \times (n-1)$ ، عامل های a ، $2a$ ، b و $2b$ وجود دارد و، بنا بر این $(n-1)!$ بر $a^2 b^2 = n^2$ بخش پذیر می شود. اگر $n = p^2$ و p عددی اول باشد، آن وقت به ازای p ، $p^2 - 1 \geq 4p$ ، در حاصل ضرب $1 \times 2 \times 3 \times \dots \times (p^2 - 1)$ ، عامل های p ، $2p$ ، $3p$ و $4p$ وجود دارد و بر $p^4 = n^2$ بخش پذیر است. (نا برابر $p^2 - 4p - 1 \geq 0$ برای هر عدد اول $p \geq 5$ برقرار است). دو امکان باقی می ماند: n عددی اول باشد (که در این صورت $(n-1)!$ حتی بر n هم بخش پذیر نیست) و یا $n = 9$ (که در این صورت $8!$ بر ۹ بخش پذیر است، ولی بر 81 بخش پذیر نیست).

▽ بنا بر قضیه دیلسون، به ازای هر عدد اول p ، عدد $(p-1)!$ همیشه در تقسیم بر عدد p ، باقی مانده ای برابر $p-1$ می دهد.

۴۹. پاره خط های راستی را که، حشره، روی آنها حرکت می کند، به ترتیب شماره گذاری می کنیم. یکی از سه پاره خط جهت دار شبکه را در نظر می گیریم و آن را افقی می نامیم. ثابت می کنیم، یا شماره های همه پاره خط های راست افقی مسیر عددی فرد و یا، همه این شماره ها، عددهایی زوج اند. a و b را دو پاره خط راست افقی مجاور می گیریم، به این مفهوم که.

مسیر بین a و b ، شامل پاره خط های راستی با دو جهت دیگر باشند. این وضع ممکن نیست که، حشره، نوار قائمی از شش ضلعی ها را، ابتدا در «جائی» و سپس «به صورت برگشت» در «جای دیگر» قطع کند (آن طور که در شکل ۳۸ نشان داده شده است، زیرا در این حالت، می توان راه کوتاه تری برای

یعنی، به ازای $n = 3$ ، حکم درست است.

فرض می‌کنیم، حکم، برای $n = k$ درست باشد و ثابت می‌کنیم که، در این صورت، به ازای $n = k + 1$ هم درست است.

فرض می‌کنیم، عبارت $x_1 : x_2 : \dots : x_k$ ، در یکی از حالت‌ها، بعد از قراردادن پرانتزها، به صورت کسر A در آید. اگر در این عبارت، به جای x_k قرار دهیم $x_{k-1} : x_k$ ، آن وقت، x_{k+1} در جایی واقع می‌شود که x_k در آن جایست (اگر x_k در صورت باشد، x_{k+1} به مخرج می‌رود و بر عکس). اکنون ثابت می‌کنیم، می‌توان x_{k+1} را در همان جایی قرار داد که

x_k در آن جا است. در کسر A ، بعد از گذاشتن پرانتزها، به ناچار به عبارتی به صورت $(p : x_k)$ می‌رسیم که، در آن، p ، یا حرف x_{k-1} است و یا شامل چند حرف؛ $(p : x_k)$ را به صورت $(x_k \cdot x_{k+1})$ می‌نویسیم که، در این صورت، به همان کسر A می‌رسیم که، در آن، به جای x_k ، عبارت $x_k \cdot x_{k+1}$ قرار دارد. حکم به‌طور کامل ثابت شد.

۵۳. به سادگی دیده می‌شود که، مکعب را می‌توان به ۵ چهاروجهی

تقسیم کرد. در شکل ۴۰، این چهاروجهی‌ها، عبارتند از

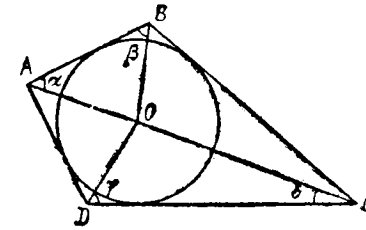
$$AA'B'D', AB'BC, ACDD', B'C'D'C, ACD'B'$$

ثابت می‌کنیم که مکعب را نمی‌توان به تعداد کمتری چهاروجهی تقسیم کرد. فرض کنید، مکعب را به چند چهاروجهی تقسیم کرده باشیم. دست کم دو چهاروجهی وجود دارد که، قاعده‌های آن‌ها، بروجه $ABCD$ از مکعب قرار دارند. به همین ترتیب، دست کم دو چهاروجهی وجود دارد که، قاعده‌های آن‌ها، بروجه $A'B'C'D'$ واقع‌اند.

روشن است که این چهاروجهی‌ها، با دوتای اولی فرق دارند، زیرا در یک چهاروجهی نمی‌توان دو وجه موازی پیدا کرد. به این ترتیب، با ۴

چهاروجهی سروکار داریم. حجم آن‌ها، روی هم، از $\frac{2}{3}a^3$ تجاوز نمی‌کند.

یعنی کمتر از حجم مکعب است. بنابراین، مکعب را نمی‌توان به ۴ چهاروجهی



شکل ۳۹

$$\widehat{AOB} + \widehat{COD} = 360^\circ - (\alpha + \beta + \gamma + \delta) = 180^\circ$$

۵۱. می‌دانیم

$$k^n - b^n = (k - b)(k^{n-1} + k^{n-2}b + \dots + b^{n-1})$$

یعنی $k^n - b^n$ بر $k - b$ بخش پذیر است.

به این ترتیب $(k^n - b^n) - (k^n - a^n) = a - b^n$ بر $k - b$ بخش پذیر

است؛ ولی این تنها وقتی ممکن است که داشته باشیم: $a = b^n$.

۵۲. پاسخ: 2^{n-2} کسر.

روشن است که، در هر حال، در کسر حاصل، x_1 در صورت کسر قرار

می‌گیرد. به همین ترتیب، تقریباً روشن است که، x_2 در هر حال، در مخرج کسر واقع می‌شود (علامت تقسیم، که قبل از x_2 قرار دارد، یا به خود x_2 مربوط است و یا به عبارتی شامل x_2).

بقیه حرف‌های x_3, x_4, \dots, x_n بسته به نوع پرانتز گذاری، می‌توانند

در صورت یا در مخرج قرار گیرند؛ از این جا نتیجه می‌شود که، روی هم، 2^{n-2} کسر مختلف به دست می‌آید: هر یک از $n - 2$ حرف x_3, x_4, \dots, x_n می‌تواند بدون ارتباط با حرف‌های دیگر، در صورت یا در مخرج باشد.

این حکم را، با روش استقرای ریاضی ثابت می‌کنیم. به ازای $n = 3$ ،

می‌توان دو کسر به دست آورد:

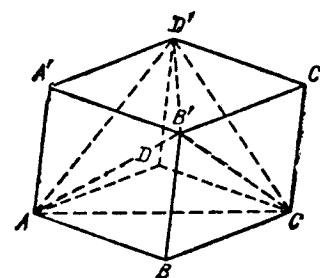
$$(x_1 : x_2) : x_3 = \frac{x_1}{x_2 \cdot x_3} \text{ و } x : (x_2 : x_3) = \frac{x_1 x_3}{x_2}$$

$$2p_1 + 2p_2 = 2p_3 + 2p_4$$

برای این که به برابری مورد نظر برسیم، کافی است دوطرف برابری اخیر را، بر $2S$ تقسیم و از رابطدهای ناشی از برابری‌های زیر استفاده کنیم:

$$\frac{S_1}{S} = \frac{S_2}{S_4} = \frac{AE}{EC} = \frac{BE}{ED} = \frac{AB}{CD} = \frac{p_1}{p_4}$$

$$\frac{p_1}{S} = \frac{p_4}{S_4} = \frac{p_2}{S} = \frac{p_3}{S_3}$$



شکل ۴۰

تقسیم کرد.

$$۵۴. پاسخ: $۱۶۸۱ = ۴۱^2$.$$

فرض کنید، عدد n^2 ، با شرط مساله سازگار باشد، در این صورت

$$n^2 = ۱۰۰a^2 + b, \quad ۰ < b < ۱۰۰$$

به این ترتیب $n > ۱۰a$ و بنا بر این $n \geq ۱۰a + ۱$ ؛ یعنی

$$b = n^2 - ۱۰۰a^2 \geq ۲۰a + ۱ \Rightarrow ۲۰a + ۱ < ۱۰۰$$

که از آن جا به دست می آید: $a \leq ۴$.

به ازای $n = ۴$ ، تنها عدد $n = ۱۰a + ۱ = ۴۱$ با شرط مساله سازگار

$$است؛ اگر $n > ۴۱$ ، آن وقت $n^2 - ۴۰^2 \geq ۴۲^2 - ۴۰^2 > ۱۰۰$.$$

▽ مساله ۲۴۴، دنباله این مساله است.

۵۵. $S_1, S_2, S_3, S_4, 2p_1, 2p_2, 2p_3, 2p_4$ را، به ترتیب، مساحت

و محیط مثلث‌های ABE, BCE, CDE و DAE فرض می‌کنیم. باید ثابت کنیم:

$$\frac{p_1}{S_1} + \frac{p_2}{S_2} = \frac{p_3}{S_3} + \frac{p_4}{S_4}$$

چون $ABCD$ ، دوزنقه است. بنا بر این $S_1 = S_3 = S$. چون $ABCD$

یک چهارضلعی محیطی است، پس $AB + CD = BC + AD$. اگر به دوطرف

این برابری، مجموع دو قطر را اضافه کنیم، به دست می آید:

۵۶. پاسخ حداقل مقدار s_{min} برابر است با $\left[\frac{n}{4}\right]$ ، یعنی $\frac{n}{4}$.

وقتی n زوج باشد و $\frac{n-1}{4}$ وقتی n فرد باشد.

(a) مقدار S ، مجموع همه حاصل ضرب‌های دو به دوی عددهای x_1, x_2, \dots, x_n ،

x_n را می‌توان به این صورت نوشت:

$$S = \frac{1}{4} [(x_1 + x_2 + \dots + x_n)^2 - x_1^2 - x_2^2 - \dots - x_n^2]$$

از این جا، معلوم می‌شود که $S \geq -\frac{n}{4}$.

اگر n عددی زوج باشد، نیمی از عددهای x_k را برابر ۱ و نیم دیگر

را برابر ۱- می‌گیریم؛ به دست می آید: $S = -\frac{n}{4}$. اگر n عددی فرد باشد،

چون S عددی درست است، $S \geq -\frac{n-1}{4}$. حداقل مقدار S وقتی به دست

می آید که، بین عددهای x_k ، به تعداد $\frac{n+1}{4}$ برابر ۱ و به تعداد $\frac{n-1}{4}$ برابر

۱- وجود داشته باشد.

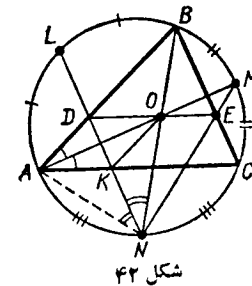
(b) به مساله (a) منجر می‌شود: هر يك از عددهای x_k را، می‌توان

پشت سرهم، با ۱ یا ۱ — عوض کرد، به نحوی که مجموع همه حاصل ضرب‌های دو به‌دوی آنها، زیادتر نشود (قانون تعویض: x_k را برابر ۱ — قرار می‌دهیم وقتی که مجموع بقیه عددها غیر منفی باشد؛ و برابر ۱ قرار می‌دهیم وقتی که مجموع بقیه عددها منفی باشد). بنابراین، در این جا هم، همان پاسخ بخش (a) به دست می‌آید.

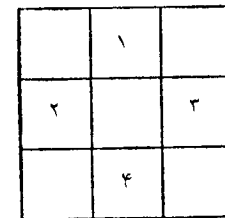
۵۷. فرض کنید $a_1 \leq a_2 \leq \dots \leq a_n$ عددهایی باشند که روی کارت‌ها نوشته شده‌اند. اگر $a_1 + a_n > a_2 + a_{n-1}$ ، آن وقت اولی، عدد a_n را در خانه ۲ می‌گذارد (شکل ۴۱): دومی یکی از دو کارت a_1 یا a_2 را در یکی از خانه‌های ۱ یا ۴ می‌گذارد. اگر $a_1 + a_n < a_2 + a_{n-1}$ ، آن وقت اولی عدد a_1 را در خانه ۲ و دومی عدد a_n یا a_{n-1} را در یکی از خانه‌های ۱ یا ۴ می‌گذارد. اگر $a_1 + a_n = a_2 + a_{n-1}$ ، اولی می‌تواند هر کدام از دو برنامه فوق را، به دلخواه اجرا کند (در این حالت، اگر بازی درست انجام شود، نتیجه کار، مساوی خواهد شد).

۵۸. L, M و N را وسط ضلع‌های AB ، BC و CA ، O را مرکز دایره محاطی مثلث ABC ، D و K را نقطه‌های برخورد پاره‌خط راست LN با ضلع‌های AB و AC می‌گیریم (شکل ۴۲). ثابت می‌کنیم، چهارضلعی $ADOK$ ، لوزی است (که در ضمن، مسأله ۲۳۷ هم حل می‌شود). برای این منظور، کافی است ثابت کنیم، قطرهای AO و DK ، محوره‌های تقارن این چهارضلعی هستند.

درواقع $AM \perp LN$ ، زیرا $\widehat{LB} + \widehat{BM} + \widehat{AN} = 180^\circ$ ، بنابراین



شکل ۴۲



شکل ۴۱

نقطه‌های D و K ، نسبت به خط راست AM ، قرینه یکدیگرند (AM ، نیمساز زاویه BAC است): همچنین، نقطه‌های A و O ، نسبت به خط راست LN ، قرینه یکدیگرند (LN ، نیمساز زاویه ANB است).

از این جا نتیجه می‌شود: $DO \parallel AC$ ، به همین ترتیب، می‌توان ثابت کرد $EO \parallel AC$ که، در آن، E را نقطه برخورد پاره‌خط راست MN با ضلع BC گرفته‌ایم. به این ترتیب، نقطه‌های D ، O و E ، روی خط راستی قرار دارند که با AC موازی است.

۵۹. اگر شماره «بلیت خوشبختی» برابر A باشد، آن وقت بلیت با شماره $A - 999999 = A'$ هم يك «بلیت خوشبختی» است و، در ضمن، $A \neq A'$ ، از طرف دیگر داریم:

$$A + A' = 999999 = 1001 \times 999 = 13 \times 77 \times 999$$

بنابراین، مجموع شماره‌های همه «بلیت‌های خوشبختی» بر ۱۳ بخش پذیر است.

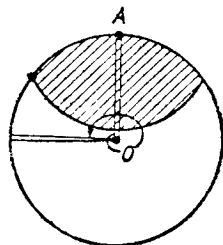
۶۰. اگر ناوچه، در نقطه A به دایره K ، که به وسیله تورافکن روشن

می‌شود، وارد شود، آن وقت بعد از فاصله زمانی $\frac{5\pi}{2} \cdot \frac{a}{v}$ ، در فاصله‌ای از

نقطه A قرار می‌گیرد که از $\frac{5\pi}{2} \cdot \frac{a}{v} \cdot \frac{v}{8}$ تجاوز نمی‌کند، یعنی در یکی از

نقطه‌های اشتراك دایره K با دایره به شعاع $a < \frac{5\pi a}{16}$ و مرکز A (این

بخش مشترك دو دایره، در شکل ۴۳، هاشور خورده است). به سادگی دیده



شکل ۴۳

می‌شود که، در این مدت، پرتو نورافکن به اندازه زاویه‌ای برابر $\frac{5\pi}{4}$ می‌چرخد، همه بخش‌ها شورخورده را در معرض دید قرار می‌دهد. بنا بر این، ناوچه نمی‌تواند خود را از دید نورافکن مخفی نگاه دارد.

∇ با استدلالی ظریف تر می‌توان ثابت کرد که، کمترین سرعت ناوچه برای عبور از دریاچه، برابر $v_{min} = v \cos \beta$ است که، در آن، β عبارت است

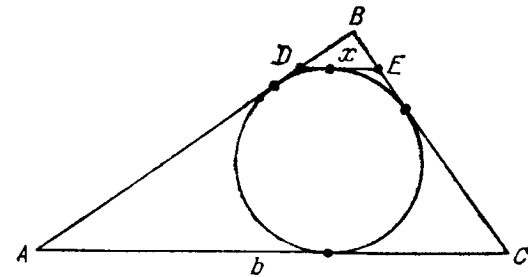
$$v_{min} \approx 0.131v: \quad (0 < \beta < \frac{\pi}{4}) \quad 2\pi + \beta = \text{tg} \beta$$

۶۱. یکی از افراد را در نظر می‌گیریم. اگر چنین تقسیمی از افراد ممکن باشد، آن وقت، بقیه ۹۹ نفر را باید بتوان به زوج‌هایی تقسیم کرد که، هر کدام از آن‌ها، با فرد انتخابی، به ننگه‌بانی بپردازند. ولی این ممکن نیست، زیرا ۹۹، عددی فرد است.

∇ مسأله کلی‌تری می‌توان به این ترتیب طرح کرد: به ازای چه مقدارهایی از n ، می‌توان از عضوهای مجموعه $\{1, 2, \dots, n\}$ دستگاہی از سده تایی‌ها را طوری جدا کرد که، هر دو عضو، درست در یک سده تایی قرار گیرد. این دستگاہ، به دستگاہ «سه تایی‌های شتیفر» معروف است.

۶۲. طول پاره خط راست مجهول را x و طول قاعده AC از مثلث ABC را b می‌گیریم (شکل ۴۴). محیط مثلث BDE برابر $2p - 2b$ می‌شود (با استفاده از ویژگی‌های مماس‌های بردایره).

از تشابه مثلث‌های ABC و BDE به دست می‌آید:



شکل ۴۴

$$x = \frac{1}{p}b(p-b) = \frac{1}{p} \left[\frac{p^2}{4} - \left(b - \frac{p}{2}\right)^2 \right]$$

حداکثر مقدار x برابر است با $\frac{p}{4}$ و وقتی به دست می‌آید که داشته باشیم:

$$b = \frac{p}{2}$$

۶۳. به سادگی ثابت می‌شود که، برای هر i و k ، داریم:

$$x_{ii} = 0, \quad x_{ik} = -x_{ki}$$

اگر n معادله $x_{ij} + x_{jk} + x_{ki} = 0$ را، با ثابت نگه داشتن i و j ($k = 1, 2, \dots, n$) با هم جمع کنیم، به دست می‌آید:

$$nx_{ij} = s_i - s_j$$

که در آن، s_j مجموع همه عددهای به صورت x_{jk} ($k = 1, 2, \dots, n$) است. اکنون $a_i = \frac{s_i}{n}$ می‌گیریم، در این صورت $x_{ij} = a_i - a_j$ همان چیزی که می‌خواستیم.

۶۴. پاسخ: می‌توان.

در مربع $0 \leq x \leq 1, 0 \leq y \leq 1$ و روی خط راست $y = \frac{1}{4}$ به تعداد

$c_0 = 200$ نقطه به طور یکنواخت قرار می‌دهیم: $\left(\frac{k}{201}, \frac{1}{4}\right), k = 1, 2, \dots, 200$.

سپس، روی هر یک از خط‌های راست $y = \frac{1}{4}$ و $y = \frac{3}{4}$ به تعداد $c_1 = 100$ نقطه قرار می‌دهیم:

$$\left(\frac{k}{101}, \frac{1}{4}\right) \text{ و } \left(\frac{k}{101}, \frac{3}{4}\right), \quad k = 1, 2, \dots, 100$$

این روند را، برای $m = 2, 3, \dots, 7$ روی هر یک از خط‌های راست

راست به صورت $y = \frac{n}{256}$ ($n = 1, 2, \dots, 256$) قرار گیرد. آن وقت ارتفاع

آن از $\frac{1}{256}$ تجاوز نمی کند.

۰۶۵. x_1, x_2, \dots, x_n را، عددهای مفروض می گیریم، به نحوی که، به ردیف صعودی، نسبت به بخش کسری آن‌ها، $\alpha_i = x_i - [x_i]$ ، شماره گذاری شده باشند.

k عدد اول را، درجهت کوچکتر از خود، و بقیه را درجهت بزرگتر از خود گرد می کنیم. به سادگی دیده می شود، حداکثر خطایی که در نتیجه گرد کردن به دست می آید، با محاسبه یکی از دو مجموع زیر، مشخص می شود:

$$x_1 + x_2 + \dots + x_k \text{ و } x_{k+1} + x_{k+2} + \dots + x_n$$

قدر مطلق خطای اول برابر است با

$$\alpha_1 + \alpha_2 + \dots + \alpha_k \leq k\alpha_k$$

و قدر مطلق خطای دوم

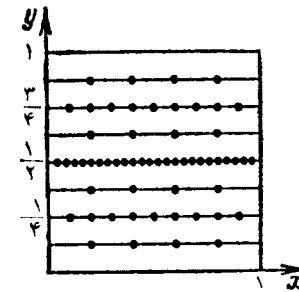
$$(1 - \alpha_{k+1}) + \dots + (1 - \alpha_n) \leq (n - k)(1 - \alpha_{k+1})$$

بنابراین، باید k را طوری انتخاب کنیم که نابرابری های زیر برقرار باشند:

$$k\alpha_k \leq \frac{1}{4}(n+1) \text{ و } (n-k)(1 - \alpha_{k+1}) \leq \frac{1}{4}(n+1)$$

برای این منظور، کافی است، بزرگترین مقدار k را پیدا کنیم که، به ازای آن، نابرابری اول برقرار باشد: در این صورت $\frac{n+1}{4(k+1)} > \alpha_{k+1}$ ، و بنابراین، نابرابری دوم هم برقرار خواهد بود:

$$1 - \alpha_{k+1} < 1 - \frac{n+1}{4(k+1)} \leq \frac{n+1}{4(n-k)}$$



شکل ۴۵

$y = (2l - 1)2^{-m-1}$ ($1 \leq l \leq 2^m$) تکرار می کنیم و c_m نقطه

$$\left(\frac{k}{c_m + 1}, \frac{2l - 1}{2^{m+1}} \right), c_m = [200 \times 2^{-m}]$$

را قرار می دهیم (به ازای $m = 7$ ، روی هر یک از ۱۲۸ خط راست متناظر آن، یک نقطه قرار می گیرد). تعداد کل نقطه ها، روی هم، چنین می شود:

$$\sum_{m=0}^7 2^m c_m = 200 + 2 \times 100 + 4 \times 50 + 8 \times 25 + 16 \times$$

$$\times 12 + 32 \times 6 + 64 \times 3 + 128 = 1704$$

این ساختمان، به وسیله شکل ۴۵ روشن شده است.

روشن است که، هیچ یک از مستطیل های به مساحت $\frac{1}{400}$ رانمی توان

در فاصله بین این نقطه ها جا داد. اگر خط راست $y = \frac{1}{4}$ را قطع کند، قاعده

آن از $\frac{1}{401}$ بیشتر نیست؛ اگر خط راست $y = \frac{1}{4}$ را قطع نکنند، آن وقت

به طور کامل در بالا و یا به طور کامل در پایین این خط راست قرار می گیرد. در

ضمن، اگر خط راست $y = \frac{3}{4}$ یا $y = \frac{1}{4}$ را قطع کند، ارتفاع آن از $\frac{1}{4}$ و

قاعده آن از $\frac{1}{401}$ بیشتر نیست و غیره. اگر مستطیل، به طور کامل بین خط های

زیرا $\frac{n+1}{2(k+1)} + \frac{n+1}{2(n-k)} = \frac{(n+1)^2}{2(k+1)(n-k)} \geq 1$ ، به ازای $0 < k < n$.

∇ وقتی n عددی فرد باشد، این ارزیابی خطاً دقیق است. مثلاً برای

$$x_1 = x_2 = \dots = x_n = \frac{1}{2}$$

ولی وقتی n عددی زوج باشد؛ می توان این ارزیابی خطا را، با تبدیل $\frac{n+1}{2}$

به $\frac{n+1}{4} - \frac{1}{n+1}$ ، اندکی بهتر کرد. مثلاً

$$x_1 = x_2 = \dots = x_n = \frac{n}{2(n+1)}$$

۶۶. جهان گرد می تواند از رستوران در هر مسیری حرکت کند، تنها با این شرط که، از میدان، خیابانی را برای عبور انتخاب کند که، قبلاً، به تعدادی فرد از آن گذشته است. به سادگی دیده می شود که، چنین خیابانی، برای هر تقاطعی، به جز ایستگاه، وجود دارد (در واقع، تعداد ورودهای جهان گرد به تقاطع، یکی بیشتر از تعداد خروج او از آن است)؛ همچنین، چنین مسیری، نمی تواند او را دوبار از خیابانی عبور دهد. چون تعداد خیابانها محدود است، جهان گرد سر آخر به ایستگاه می رسد.

۶۷. a) راه حل اول. هر دو عضو کمیسیون، در بیش از يك نشست، با هم برخورد نمی کنند. در هر نشست، به تعداد $C_2^4 = 6$ زوج وجود دارد. چون این افراد در ۴ نشست شرکت کرده اند، بنابراین از عضوهای کمیسیونها، می توان به تعدادی که از $4 \times 4 = 16$ ، یعنی ۱۸۰۰ کمتر نیست، زوج تشکیل داد. ولی از ۶۰ نفر (و یا کمتر از آن) می توان حداکثر به تعداد $C_2^6 = 15$ ، یعنی $6 \times \frac{59}{2}$ زوج تشکیل داد که از ۱۸۰۰ کمتر است.

راه حل دوم. فرض می کنیم، N ، تعداد افراد کمیسیون از ۶۰ بیشتر

نباشد. در این صورت، چون $6 > \frac{40}{N} \times 10$ ، بنا بر این فردی پیدا می شود که، دست کم، در هفت نشست حضور داشته است. تعداد همه افرادی که، این شخص، با آنها برخورد دارد (در هر نشست با ۹ نفر)، برابر است با $9 \times 7 > 59$. تناقض.

b) این مساله هم، کاملاً شبیه a) حل می شود (هر يك از دو راه حل).
∇ ارزیابی صورت مساله، در بخش b)، کاملاً دقیق است: ۳۰ کمیسیون ۵ نفری را، با توجه به شرط مساله، می توان تشکیل داد.

۶۸. پاسخ: b) $(p-1)(q-1)$

اگر p و q دو عدد طبیعی و نسبت به هم اول باشند، هر عدد درست z به صورت $z = px + qy$ نشان داده می شود (ضمیمه ۲). همه این گونه نمایشها، از يك z ثابت به صورت $z = pa + qb$ و با دستور کلی:

$$z = p(a - qt) + q(b + pt)$$

به دست می آیند که، در آن، t ، عددی است درست؛ در ضمن، نمایش منحصر به فردی وجود دارد که، برای آن داشته باشیم: $0 \leq x \leq q-1$. هر عدد درست z را متناظر با زوج عددهای درست (x, y) قرار می دهیم، به نحوی که

$$0 \leq x \leq q-1, z = px + qy$$

در این تناظر، هر عدد، درست با يك زوج متناظر است؛ در ضمن، z ، تنها وقتی «خوب» است که داشته باشیم: $y \geq 0$ ؛ اگر $z = px + qy$ ، عددی، «خوب» باشد، آن وقت، به ازای $x = qt + r$ و $0 \leq r \leq q-1$ ، این نمایش وجود دارد:

$$z = pt + q(y + t)$$

اکنون یاد آوری می کنیم، اگر عدد $z = px + qy$ ، $0 \leq x \leq q-1$

۶۹. پاسخ: بعد از $\frac{\pi}{200}$ ساعت.

یادآوری می‌کنیم که، مسیر موشک، با توجه به شرط‌های مسأله، دایره‌ای با شعاعی برابر نصف شعاع مسیر هواپیماست (شکل ۴۶): مقدار کمان AR ، از نظر اندازه، دو برابر مقدار زاویه QAP است (زاویه بین مماس و وتر)؛ یعنی اندازه کمان QP ، بر حسب درجه، برابر نصف کمان AR ، بر حسب درجه است. بنابراین، طول این دو کمان (برای هر وضع R) با هم برابرند. برای رسیدن موشک به هواپیما، باید هواپیما ربع دایره و موشک نیمی از محیط دایره مسیر خود را طی کنند.

∇ البته، باید منحصر به فرد بودن مسیر موشک را، با توجه به شرط‌های مسأله، ثابت کرد (از شرکت کنندگان در المپياد، این اثبات را نخواسته بودند). این اثبات، نتیجه‌ای از این حکم کلی است که: اگر تابعی در نقطه $t=0$ مفروض و مشتق آن معلوم باشد. خود تابع منحصر به فرد است. اگر موشک، در زمان t فاصله $AR=AQ=f(t)$ از نقطه A را طی کند (در ضمن $f(0)=0$)، آن وقت برای سرعت آن، در جهت عمود بر شعاع داریم: $v\sqrt{1-f^2(t)}=f'(t)$ و

$$\frac{f'(t)}{\sqrt{1-f^2(t)}} = v, \quad (\arcsin f(t))' = v$$

و از آنجا $f(t) = \sin vt$.

۷۰. A و B را دو رأس چندوجهی می‌گیریم که به فاصله d از یکدیگر باشند. از نقطه‌های A و B ، دو صفحه عمود بر خط راست AB رسم می‌کنیم. روشن است که تمامی چندوجهی بین این دو صفحه قرار می‌گیرد. از هر رأس چندوجهی، صفحه‌ای عمود بر خط راست AB رسم می‌کنیم و از آن‌ها، دو صفحه مجاور را در نظر می‌گیریم. بین این دو صفحه، دست کم سه یال از چندوجهی وجود دارد. تصویر هر یک از این یال‌ها بر خط راست AB ، از طول خود یال بزرگتر نیست؛ در ضمن روشن است که، در بین آن‌ها، یال‌هایی وجود دارد که با AB موازی نیستند، بنابراین، مجموع طول‌های همه این یال‌ها از سه برابر طول AB ، یعنی $3d$ بیشتر است.

«خوب» باشد، آن وقت عدد $z' = (q-1-x)p + (-1-y)q$ «بد» است و برعکس، اگر z «بد» باشد، آن وقت z' «خوب» است. نقطه‌های

$$(x, y) \text{ و } (q-1-x, -1-y)$$

نسبت به نقطه $(x_0, y_0) = \left(\frac{q-1}{2}, -\frac{1}{2}\right)$ متقارن‌اند، و خود عدد‌های z و z' نسبت به نقطه

$$z_0 = px_0 + qy_0 = \frac{1}{2}(pq - p - q)$$

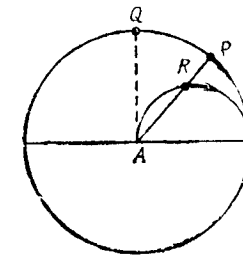
قرینه‌هم‌اند، زیرا $z + z' = pq - p - q = 2z_0 = c$.

بدین ترتیب، ثابت شد که: عدد «خوب» z متناظر است با عدد «بد» (متقارن با آن) $z' = c - z$ و برعکس.

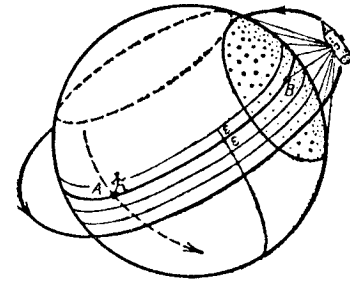
چون کوچکترین عدد «خوب» صفر است، بنا بر این، بزرگترین عدد «بد» c می‌شود؛ و همه عدد‌های «بد» روی هم:

$$\frac{1}{2}(c+1) = \frac{1}{2}(p-1)(q-1)$$

∇ تعبیر هندسی حل این مسأله، بسیار جالب است: (x, y) را نقطه‌هایی از یک شبکه واقع بر صفحه و $z = px + qy$ را خط‌های راستی که از آن‌ها می‌گذرند، بگیریید و غیره.



شکل ۴۶



شکل ۴۷

به طور خلاصه، می توان راه حل را، این طور بیان کرد: تصویر بدنه چندوجهی روی AB ، دست کم سه بار آن را می پوشاند.

۷۱. شعاع سیاره را واحد می گیریم. دو نقطه از سطح سیاره را در نظر می گیریم که دوسریک قطر آن باشند (قطب ها). از این دو نقطه، نصف النهاری به نام «نصف النهار مبدا» را می گذرانیم و آن را به کمان های برابر به طول E تقسیم می کنیم و از هر نقطه تقسیم، مداری عبور می دهیم (شکل ۴۷).

برای سفینه، این برنامه جست و جو را می ریزیم: سفینه در فاصله ثابت $R > 1$ نسبت به مرکز سیاره، روی مدارهایی که مشخص کرده ایم پرواز می کند؛ در ضمن از نوار «شعاعی» آغاز می کند و هر بار که به «نصف النهار مبدا» می رسد، در امتداد آن، خود را به مدار بعدی می رساند. فرض کنید:

$R = \sqrt{2}$. در این صورت، از سفینه، «کلاهک کروی» به شعاع $\frac{\pi}{4}$ دیده می شود

(همه فاصله هارا، در روی سطح کره اندازه می گیریم).

از آن جا که E را می توان به دلخواه کوچک گرفت، تنها باید تحقیق کرد، اگر نسبت سرعت ها بزرگتر از ۱ باشد، ساکن سیاره نمی تواند، در فاصله زمانی که سفینه يك مدار را دور می زند، از دید او خارج شود. و این، تقریباً روشن است. هر مدار از استوا کوتاه تر است. مرکز دایره دید سفینه، با سرعت

دست کم $\frac{10}{\sqrt{2}}$ برابر سرعت موجود ساکن سیاره، جا به جا می شود. اگر این

موجود، مدار را در نقطه A قطع کند، آن وقت سفینه، در B قسرار دارد،

و، بنابراین، یکی از دو کمان \widehat{AB} از مدار از π تجاوز نمی کند و، در زمانی که سفینه آن را طی می کند، ساکن سیاره می تواند از A ، به فاصله ای که بیشتر از $\frac{\pi\sqrt{2}}{4} < \frac{\pi}{10}$ نیست از A دور شود، به نحوی که در لحظه بودن در A ، باید از سفینه دیده شود (قبل از دورزدن مدار یا بعد از آن).

۷۲. دو سیاره را که از همه به هم نزدیک ترند، در نظر می گیریم. روشن

است، اخترشناسانی که روی این دو سیاره باشند، به یکدیگر نگاه می کنند.

$n-2$ سیاره و $n-2$ اخترشناس باقی می ماندند. اگر دست کم یکی از

این اخترشناسان به یکی از همین دو سیاره انتخابی نگاه کند، آن وقت $n-3$

اخترشناس باقی مانده، برای مشاهده $n-2$ سیاره کفایت نمی کنند و یکی از

سیاره ها، بدون مشاهده می ماند. ولی، اگر هیچ کدام از $n-2$ اخترشناس

رو به یکی از دو سیاره انتخابی نداشته باشند، می توانیم دوباره به همان

استدلال متوسل شویم: از $n-2$ سیاره، دو سیاره را که نسبت به دیگران،

به هم نزدیک ترند در نظر می گیریم و غیره. چون n عددی فرد است، سر آخر،

يك سیاره باقی می ماند که هیچ کدام از اخترشناسان، تلسکوپ خود را به

طرف آن، نشانه نرفته است.

۷۳. a) اگر نقطه P روی خط راست AD واقع باشد، درستی گزاره

روشن است.

فرض می کنیم، نقطه P روی خط راست AD نباشد و O را وسط

پاره خط راست AD می گیریم. نقطه P' ، قرینه P نسبت به O را پیدا می کنیم.

چهار ضلعی های $BPCP'$ و APD متوازی الاضلاع اند و داریم:

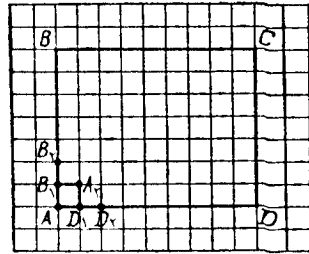
$$AP + PD = AP' + AP > P'B + BP = BP + PC$$

b) بنا بر شرط، P نقطه ای دلخواه است. P را منطبق بر A می گیریم.

در این صورت $AD \geq AB + AC$. اکنون P را منطبق بر D می گیریم. به

دست می آید: $AD \geq BD + DC$. از مجموع این دو نابرابری، خواهیم داشت:

$$2AD \geq AB + AC + BD + CD$$



شکل ۴۸

$b_1, d_1, a_1, b_2, d_2, a_2$ می‌نامیم. در واقع، باید ثابت کنیم: $\frac{d_1}{b_1} = \frac{n}{m}$. اثبات را، با استقرا روی $m+n$ می‌دهیم (ضمیمه ۱)؛ در ضمن، اجباری نیست که نسبت $\frac{n}{m} = k$ را عددی درست فرض کنیم.

آغاز استقرا، $m=1$ یا $n=1$ ، روشن است. اکنون فرض می‌کنیم $m > 1$ و $n > 1$. بنا به فرض استقرا که درباره مستطیل‌های با اندازه‌های کوچکتر $m \times (n-1)$ و $(m-1) \times n$ در نظر گرفته‌ایم، داریم:

$$\frac{a_2}{b_2} = \frac{n}{m-1} \quad \text{و} \quad \frac{d_2}{a_2} = \frac{n-1}{m}$$

بنابراین

$$\frac{d_1}{b_1} = \frac{d_2 + a_2}{b_2 + a_2} = \frac{\frac{d_2}{a_2} + 1}{\frac{b_2}{a_2} + 1} = \frac{\frac{n-1}{m} + 1}{\frac{m-1}{n} + 1} = \frac{n}{m}$$

▽ در واقع، ضمن حل این مسأله، ثابت کردیم:

$$C_{m+n-1}^{m-1} = n C_{m+n-1}^m = (m+n-1) C_{m+n-1}^{m-2}$$

(در مسأله‌ها $n=km$). با اطلاع از دستور مربوط به C_n^m (ضمیمه ۱۰)، می‌توان درستی این برابری‌ها را، به سادگی، تحقیق کرد. برعکس، می‌توان از این برابری‌ها، دستور مربوط به C_n^m را بیرون آورد.

از طرف دیگر، همیشه داریم:

$$AD \leq AC + CD \quad \text{و} \quad AD \leq AB + BD$$

در ضمن، در هر یک از این دو نابرابری، تنها وقتی به علامت برابری می‌رسیم که، سه نقطه، بر یک خط راست باشند. از مجموع دو نابرابری اخیر، به دست می‌آید:

$$2AD \leq BD + AB + AC + CD$$

از مقایسه این نابرابری با نابرابری قبل نتیجه می‌شود:

$$2AD = BD + AB + AC + CD$$

از آن‌جا، بلافاصله نتیجه می‌شود که، نقطه‌های A و B و C و D ، روی یک خط راست اند و همه نابرابری‌های قبلی، برابری‌اند و، در نتیجه، نقطه‌های B و C ، روی پاره‌خط راست AD واقع‌اند و در ضمن $AB = CD$.

۷۴. پاسخ: چنین عددی برای x و y وجود ندارد.

فرض می‌کنیم: $x \geq y$. در این صورت

$$x^2 < x^2 + y \leq x^2 + x < (x+1)^2$$

بنابراین $x^2 + y$ ، که بین دو مجذور کامل متوالی قرار دارد، نمی‌تواند مجذور کامل باشد.

۷۵. (a) کافی است ثابت کنیم، k امین نفر از کلاس هشتم، قدی بلندتر از k امین نفر از کلاس هفتم دارد. A را k امین نفر کلاس هفتم، از لحاظ قد، فرض می‌کنیم. در این صورت، با خود A ، دست کم k دانش‌آموز کلاس هفتم وجود دارد که از A کوتاه‌تر نیستند. همه دانش‌آموزان کلاس هشتم، که پشت سر این k نفر قرار دارند، از A بلندترند. بنابراین، k امین نفر کلاس هشتم، از لحاظ قد، از A بلندتر است.

(b) این مسأله هم، به مسأله (a) منجر می‌شود: کافی است همان استدلال را، برای هر دو ستون، داشته باشیم.

۷۶. مستطیل $ABCD$ را روی صفحه کاغذ شطرنجی با اندازه‌های $m \times n$ در نظر می‌گیریم (شکل ۴۸)، کوتاه‌ترین مسیرهایی را که از رأس‌های B_1, D_1, B_2, D_2, A_2 روی خط‌های شبکه به C می‌رسند، به ترتیب،

۷۷. حکم مساله را، با روش استقرا ثابت می‌کنیم. به ازای $n=1$ ،
درستی حکم روشن است. فرض می‌کنیم، برای n عدد a_1, a_2, \dots, a_{n+1} ،
مجموع s' به صورت

$$\pm a_1 \pm a_2 \pm \dots \pm a_{n+1}$$

وجود داشته باشد، به نحوی که $0 < s' \leq a_1$. ولی در این صورت از دو حال بیرون نیست: یا $0 \leq s' \leq a_1$ که از آنجا

$$0 \leq s = a_1 - s' \leq a_1$$

و یا $a_1 < s' \leq a_2 \leq 2a_1$ که در این صورت

$$s = s' - a_1 \leq a_2 - a_1 \leq a_1$$

که در هر حال، درستی حکم مساله ثابت می‌شود.

۷۸. حکم مساله را، برای هر n ضلعی محدب به مساحت S و محیط P ثابت می‌کنیم. طول ضلع‌های این n ضلعی را a_1, a_2, \dots, a_n می‌گیریم:

$$a_1 + a_2 + \dots + a_n = P$$

مستطیلی با مساحت S و قاعده به طول P در نظر می‌گیریم؛ ارتفاع این مستطیل، برابر $\frac{S}{P}$ می‌شود.

اکنون این مستطیل را، به کمک پاره‌خط‌های راست قائم، به n مستطیل با قاعده‌های برابر a_1, a_2, \dots, a_n تقسیم می‌کنیم و هر یک از آن‌ها را، متناظر با یک ضلع n ضلعی و در درون آن قرار می‌دهیم. بعضی از مستطیل‌ها، در بخشی، روی هم قرار می‌گیرند و بعضی‌ها ممکن است به بیرون از n ضلعی بروند؛ بنابراین، از آن‌جا که مجموع مساحت‌های آن‌ها برابر S و مساحت چندضلعی هم برابر S است، این مستطیل‌ها نمی‌توانند، به طور کامل، سطح چندضلعی را پوشانند. هر نقطه‌ای از سطح چندضلعی را، که به وسیله این مستطیل‌ها پوشیده نشده باشد، می‌توان به عنوان مرکز دایره بدشعاع $\frac{S}{P}$ انتخاب

کرد.

∇ برای چهارضلعی می‌توان مساله را به طریق دیگری حل کرد، ولی برخی از شرکت کنندگان در المپیاد، آن را با روشی حل کرده‌اند که از آن می‌توان برای n ضلعی هم استفاده کرد.

۷۹. هر مسیر را با تعداد پاره‌خط‌های راستی بیان می‌کنیم که، از طریق آن‌ها، می‌گذرد. n را طول کوتاه‌ترین مسیری می‌گیریم که از A به B می‌رود. حکم را، با استقرا روی n ثابت می‌کنیم.

برای $n=1$ ، به جز کوتاه‌ترین مسیر AB ، مسیری وجود دارد که از A به چهارراه $C \neq A$ می‌رود که از B به اندازه ۱ فاصله دارد و از B نمی‌گذرد. $n > 1$ می‌گیریم و فرض می‌کنیم، D نزدیکترین چهار راه به A ، در کوتاه‌ترین مسیر از A به B باشد. بنا بر فرض استقرا، دو مسیر غیر متقاطع p و q از D به B وجود دارد. از A در مسیر l حرکت می‌کنیم، به نحوی که از D عبور نکنند. اگر این مسیر، با مسیرهای p و q برخوردی نداشته باشد، همه چیز ثابت شده است. ولی اگر مثلاً با p برخورد داشته باشد، از آن به بعد، باید مستقیماً روی p به سمت B رفت. این مسیر، q را قطع نخواهد کرد.

۸۰. h^* و PH را، به ترتیب، ارتفاع‌هایی از چهار وجهی می‌گیریم که از رأس‌های A و P گذشته باشند. h_a, h_b و h_c را ارتفاع‌های مثلث ABC و PL را، ارتفاع مثلث PBC فرض می‌کنیم.

داریم: $S_{ABC} = HP \cdot S_{PBC} = h^*$ ؛ و چون $HP \geq h^*$ ، بنابراین $S_{PBC} \leq S_{ABC}$. از این‌جا به دست می‌آید: $PL \leq h_a$ و از آن‌جا

$$HL < PL \leq h_a$$

به این ترتیب، فاصله H تا خط راست BC از h_a کوچکتر است، به نحوی که نقطه H ، در درون نواری قرار می‌گیرد که به وسیله دو خط راست موازی و به فاصله h_a از خط راست BC به وجود آمده است. به همین ترتیب، ثابت می‌شود که H ، از AC و AB هم به فاصله‌ای، به ترتیب کمتر از h_b و h_c قرار دارد.

به این ترتیب، نقطه H ، به اشتراك هر سه نوار تعلق دارد، یعنی در درون مثلث $A_1B_1C_1$ قرار دارد که نقطه‌های A ، B و C ، وسط ضلع‌های آن هستند. برعکس، اگر H نقطه دلخواهی در درون مثلث $A_1B_1C_1$ باشد، و نقطه P را نزدیک به H طوری انتخاب کنیم که، خط راست PH ، عمود بر صفحه ABC باشد، آن وقت فاصله از نقطه P تا ضلع‌های مثلث ABC ، از ارتفاع‌های متناظر کمتر می‌شود و PH ، کوچکترین ارتفاع چهار وجهی $PABC$ در می‌آید.

۸۱. هر يك از نقطه‌های مفروض را به وسیله دایره‌ای به شعاع $\frac{1}{4}$

دور می‌زنیم. مجموع قطرهای این دایره‌ها برابر است با ۱۰۰.

هر جا دو دایره با هم متقاطع در آیند، به جای آن‌ها، دایره‌ای قرار می‌دهیم که شامل این دو دایره شود و کوچکترین قطر ممکن را داشته باشد. به این ترتیب، مقدار مجموع قطرها افزایش پیدا نمی‌کند، ولی تعداد دایره‌ها کمتر می‌شود.

اگر این روند را ادامه دهیم، سرانجام، به دستگاهی از دایره‌ها می‌رسیم که دو به دو نسبت به هم غیرمتقاطع‌اند و مجموع قطرهای آن‌ها از ۱۰۰ تجاوز نمی‌کند. یادآوری می‌کنیم که، فاصله هر نقطه تا محیط دایره، از $\frac{1}{4}$ کمتر نیست.

r را کوچکترین فاصله بین دایره‌ها می‌گیریم. اگر $r > 1$ ، چیزی برای اثبات باقی نمی‌ماند. اگر $r \leq 1$ ، آن وقت هر دایره را با دایره‌ای هم مرکز آن عوض می‌کنیم، به نحوی که شعاع آن به اندازه $\frac{1}{3} - \frac{1}{4}$ کمتر باشد.

دستگاه دایره‌هایی که به این ترتیب به دست می‌آید، با شرط‌های مسأله، سازگار است.

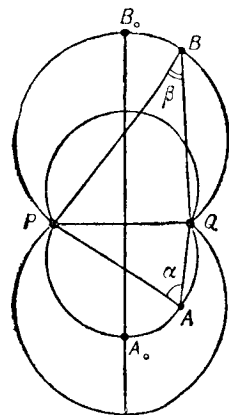
۸۲. پاسخ: $\frac{2d}{\cotg \frac{\alpha}{4} + \cotg \frac{\beta}{4}}$ کیلومتر در ثانیه.

فرض کنید. هواپیما در يك ثانیه از نقطه P تا نقطه Q پرواز کند: $PQ = r$. باید، با شرط ثابت بودن $AB = d$ ، حداقل مقدار ممکن r را پیدا کنیم. به جای این حداقل می‌توان به جست و جوی حداکثر مقدار $\frac{d}{r}$ رفت و در ضمن، راحت تر است که r را ثابت بگیریم.

اکنون می‌توانیم، مسأله را، بدین صورت تنظیم کنیم: بین همه نقطه‌های B و A از فضا، که از آن‌ها، پاره‌خط راست PQ ، به ترتیب، با زاویه‌های α و β دیده می‌شود، دو نقطه‌ای را پیدا کنیم که، برای آن‌ها، فاصله AB حداکثر مقدار ممکن باشد.

چون $\widehat{PAQ} = \alpha$. بنا براین نقطه A روی کمان‌های در محور α قرار دارد که از P و Q گذشته‌اند (دو کمان) و. به همین ترتیب، نقطه B روی کمان‌های در محور β قرار دارد که از P و Q گذشته‌اند (باز هم دو کمان) (شکل ۴۹). به سادگی ثابت می‌شود: به حداکثر فاصله AB وقتی می‌رسیم که، دو نقطه A و B «متقابل قطری» باشند (در شکل، نقطه‌های A_0 و B_0). برای چنین موقعیتی از A و B خواهیم داشت:

$$\frac{2d}{r} = \cotg \frac{\alpha}{4} + \cotg \frac{\beta}{4}$$



شکل ۴۹

که از آن، پاسخ مساله به دست می آید.

۸۳. پاسخ: ۳۰.

برنامه‌ای را که بازی کن دوم باید اجرا کند تا به این مجموع برسد، شرح می‌دهیم. عددها را، به زوج‌های (۱، ۲)، (۳، ۴)، ...، (۲۰، ۲۱) تقسیم می‌کنیم. هر بار که اولی، علامتی را جلو یک عدد می‌گذارد، به جز ۱۹ و ۲۰، دومی باید عدد دیگر همان زوج را، با علامت مخالف، نشانده‌گذاری کند. اگر اولی علامتی را جلو یکی از دو عدد زوج آخر، یعنی (۱۹، ۲۰) قرارداد، دومی همان علامت را جلو عدد دیگر زوج قرار می‌دهد. روشن است که مجموع نهائی، از لحاظ قدر مطلق، حداقل برابر می‌شود با

$$10 + 20 - 1 - 1 - \dots - 1 = 30$$

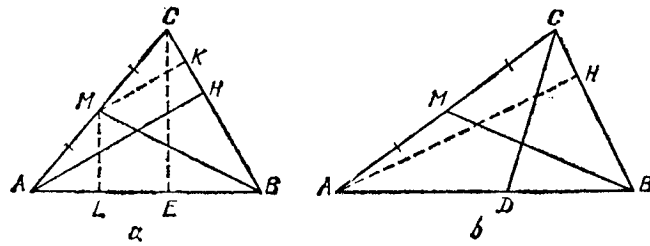
۹ بار

اکنون ثابت می‌کنیم، بازی کن اول، می‌تواند مانع آن شود که دومی بیش از ۳۰ را به دست آورد، به شرطی که در هر حرکت خود، جلو بزرگترین عدد از عددهای باقی مانده، علامتی را بگذارد که مخالف علامت مجموع، در آن لحظه، باشد (اگر مجموع برابر صفر بود، باید علامت مثبت را انتخاب کند). یکی از مرحله‌ها را در نظر می‌گیریم. فرض کنید، k امین حرکت، آخرین حرکتی باشد که، در نتیجه آن، مجموع تغییر علامت داده است (و این شامل حرکت‌هایی است که، قبل از آن، مجموع برابر صفر است). در $k - 1$ حرکت اول، آنگاهانه، از عددهای ۲۰، ۱۹، ۱۸، ...، $(k - 1) - 20$ استفاده شده است. به نحوی که حداکثر قدر مطلق مجموع، که می‌تواند بعد از حرکت k ام به دست آید برابر است با

$$20 - (k - 1) + 20 - k = 41 - 2k$$

در هر یک از $10 - k$ حرکت بعدی، مقدار مجموع دست کم یک واحد کاهش پیدا می‌کند، زیرا اولی، هر بار، از قدر مطلق مجموع، بزرگترین عدد باقی مانده را، مثلاً m ، کم می‌کند، در حالی که دومی نمی‌تواند، بیش از $m - 1$ به آن اضافه کند. در نتیجه، مجموع نمی‌تواند از

$$41 - 2k - (10 - k) = 31 - k \leq 30$$



شکل ۵۰

تجاوز کند.

۸۴. مقدار زاویه B از مثلث قائم‌الزاویه برابر یا کوچکتر از 30° درجه است، بر حسب آن که، ضلع رو به روی به زاویه B ، طولی برابر با نصف طول وتر و یا کوچکتر از آن داشته باشد.

اگر از این مطلب، در مثلث‌های BML و BMK استفاده کنیم (شکل

۵۰، a : $MK \perp BC$)، به دست می‌آید: $\widehat{MBC} = 30^\circ$. زیرا

$$BM = AH = 2MK$$

و $\widehat{MBA} < 30^\circ$ ، زیرا $BM = AH \geq EC = 2ML$. بنابراین

$$\widehat{B} = \widehat{MBC} + \widehat{MBA} < 60^\circ$$

یادآوری می‌کنیم که «حاده بودن زاویه‌های مثلث» ضرورت دارد؛ بدون آن، حکم مساله درست نیست.

(b) از مساله (a) نتیجه می‌شود: $\widehat{B} \leq 60^\circ$. بنابراین، کافی است ثابت کنیم، ضلع AC از دو ضلع دیگر کوچکتر نیست؛ در این صورت

$$\widehat{A} \leq \widehat{B} \leq 60^\circ, \widehat{C} \leq \widehat{B} \leq 60^\circ$$

(در هر مثلث، زاویه بزرگتر، رو به روی ضلع بزرگتر است) و از این تا برابری‌ها بلافاصله نتیجه می‌شود:

$$\widehat{A} = \widehat{B} = \widehat{C} = 60^\circ$$

برای اثبات، توجه می‌کنیم که BM ، کوچکترین میان‌ه‌است، زیرا میانۀ وارد بر BC از ارتفاع $AH = BM$ کوچکتر نیست، و میانۀ وارد بر ضلع AB از نیمساز CD کوچکتر نیست (آخر، نیمساز CD ، ضلع AB را به نسبت $\frac{AC}{BC}$ تقسیم می‌کند)؛ شکل ۵۰، b). ولی در هر مثلث، میانۀ بزرگتر متناظر است با ضلع کوچکتر: کافی است توجه کنیم که، مرکز ثقل مثلث ABC (نقطۀ برخورد میان‌ه‌ها) با راس C ، در یک طرف عمود منصف AC قرار دارند.

۸۵. a) اگر مجموع دو عدد a و b ، تنها از رقم‌های ۹ تشکیل شده باشد، به معنای آن است که، ضمن جمع دو عدد، در هیچ مرتبه‌ای، مجموع رقم‌ها از ۹ بیشتر نشده است. بنا بر این، اگر $S(x)$ را به معنای مجموع رقم‌های عدد x بگیریم، باید داشته باشیم:

$$S(a+b) = S(a) + S(b)$$

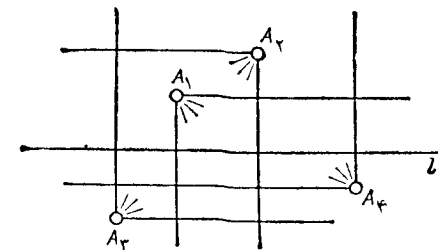
ولی اگر $S(a) = S(b)$ ، آن وقت $S(a+b)$ عددی زوج است و نمی‌تواند برابر با 9×1967 باشد.

b) اگر رقم آخر عدد a برابر صفر نباشد، آن وقت مجموع آن با رقم آخر b ، برابر ۱۰ می‌شود و، بنا بر این، باید مجموع رقم‌ها در هر یک از نه مرتبۀ بعدی برابر ۹ باشد. از این جا نتیجه می‌شود

$$2S(a) = 9 \times 9 + 10 = 91$$

که ممکن نیست.

۸۶. a) خط راست l را طوری رسم می‌کنیم که، در هر نیم صفحه‌ای



شکل ۵۱

که به دست می‌آید، دو نورافکن وجود داشته باشد. روشن است که (شکل ۵۱)، با دو نورافکنی که در یکی از نیم صفحه‌ها قرار دارد، می‌توان تمامی نیم صفحه دیگر را روشن کرد.

b) صفحه‌ای رسم می‌کنیم که، از بین هشت نقطۀ مفروض، چهار نقطه در یک طرف، و چهار نقطه در طرف دیگر آن قرار گیرند. با استفاده از مسالۀ ۸۱، می‌توان به سادگی ثابت کرد، نورافکن‌هایی در چهار نقطۀ یکی از نیم فضاها قرار دارند، می‌توانند تمامی نیم فضای دیگر را روشن کنند.

این مسالۀ را می‌توان تعمیم داد: n زاویۀ دلخواه $\alpha_1, \alpha_2, \dots, \alpha_n$ را با شرط

$$\alpha_1 + \alpha_2 + \dots + \alpha_n = 360^\circ$$

می‌توان در n نقطۀ مفروض صفحه طوری قرار داد که تمامی صفحه را بپوشانند.

۸۷. a) پاسخ: نمی‌توان.

هیچ دو عددی از اعداد ۰، ۱، ۲، ۸، ۹ نمی‌توانند مجاور هم باشند؛ بنا بر این، این عددها، باید یک در میان قرار گیرند. ولی عدد ۷ را نمی‌توان در هیچ کدام از ۵ جای باقی مانده قرار داد؛ همچنین، برای ۳ هم جایی پیدا نمی‌شود (امتحان کنید!).

b) پاسخ: نمی‌توان.

استدلال را می‌توان شبیه a) انجام داد. هیچ دو عددی از اعداد ۰، ۱، ۲، ۳، ۴، ۱۱، ۱۲، ۱۳ نمی‌توانند مجاور هم باشند؛ از بین این اعداد، تنها ۱ می‌تواند در مجاورت ۴ و تنها ۱۳ می‌تواند در مجاورت ۱۰ قرار گیرند. در این صورت ۱۰ و ۴ در کنار هم قرار می‌گیرند که شرط مسالۀ را نقض می‌کند.

▽ جالب است که برای ۱۴ عدد (و ظاهراً برای $n \geq 14$)، می‌توان برای مسالۀ جوابی پیدا کرد:

$$12, 8, 3, 6, 2, 5, 1, 4, 7, 11, 14, 10, 13, 9, 12$$

۸۸. عدد 5^{1000} به ۵ ختم شده است. فرض کنید، k امین رقم این عدد، از راست به چپ، برابر 5 و همهٔ بقیهٔ رقم‌های سمت راست آن مخالف ۰ باشد. به این عدد، عدد $10^k - 5^{1000}$ را اضافه می‌کنیم. در این صورت، عددی به

دست می‌آید که بر 5^{1000} بخش پذیر است و k رقم آخر آن مخالف صفر است. با ادامه این روند، می‌توان عددی به دست آورد که ۱۰۰۰ رقم آخر آن مخالف صفر باشد. اکنون، همه رقم‌ها، بدجز ۱۰۰۰ رقم آخر را حذف می‌کنیم. روشن است که عدد حاصل، باز هم بر 5^{1000} بخش پذیر است.

۸۹. پاسخ: $(1-5), (1-10), (0-5), (1-10), (0-2), (5-2), (6-2)$.

اگر دو طرف معادله را ۴ برابر و سپس، به هر دو طرف یک واحد اضافه کنیم، به دست می‌آید:

$$(2x+1)^2 = (2y^2+y)^2 +$$

$$+3y^2+4y+1 = (2y^2+y+1)^2 - (y^2-2y)$$

اگر y عددی درست و غیر از عددهای $-1, 0, 1, 2$ باشد، آن وقت

$$3y^2+4y+1 > 0, y^2-2y > 0$$

در ضمن

$$(2y^2+y)^2 < (2x+1)^2 < (2y^2+y+1)^2$$

این نابرابری‌ها نشان می‌دهند که $(2x+1)^2$ ، بین دو مجذور کامل متوالی قرار دارد و این، برای عددهای درست x مسکن نیست. اگر در معادله مقادیرهای $y = -1, y = 0, y = 1, y = 2$ قرار دهیم، پاسخ به دست می‌آید.

۹۰. پاسخ: ۲۹۵۲ جمله.

ثابت می‌کنیم، طول دنباله (تعداد جمله‌ها)، وقتی جمله دوم آن برابر

n و بزرگترین جمله باشد، از $d_n = \frac{3(n+1)}{2}$ تجاوز نمی‌کند و، در ضمن،

برای دنباله

$$1, 1, 2, 1, 3, 2, 1, 4, 3, 2, 1, \dots, 1, n-1, n-2, 1, n-1, n$$

تعداد جمله‌ها، درست برابر با d_n است.

استدلال را با استقرای انجام می‌دهیم. برای $n \leq 4$ ، درستی حکم به

سادگی قابل تحقیق است ($d_1 = 2, d_2 = 3, d_3 = 6, d_4 = 7$). حداکثر طول دنباله‌ای را ارزیابی می‌کنیم که این‌طور آغاز شده است:

$$a, n-a, n-2a, \dots \quad (a < n)$$

و فرض می‌کنیم؛ حکم مورد نظر، برای عددهای کوچکتر از n درست باشد.

به ازای $a < \frac{n}{2}$ ، طول دنباله از $d_{n-a} + 1$ تجاوز نمی‌کند. زیرا اگر جمله

اول a را برداریم، می‌توان آغاز دنباله را این‌طور نوشت:

$$n-2a, n-a, \dots$$

به ازای $a < n - \frac{n}{2}$ ، طول دنباله از $d_a + 2$ تجاوز نمی‌کند (کافی است

دو جمله اول را برداریم). بنا بر این، باید تحقیق کنیم که، برای این مقادیرهای a ، این، نابرابری‌ها برقرارند:

$$d_{n-a} + 1 \leq d_n, d_a + 2 \leq d_n$$

به ازای $a = n-1$ ، برای دنباله

$$1, 1, 2, 1, 3, 2, 1, 4, 3, 2, 1, \dots, 1, n-1, n-2, 1, n-1, n$$

کافی است سه جمله اول را برداریم و دو جمله بعدی را جا به جا کنیم و، سپس دربارۀ برابری $d_n = d_{n-3} + 3$ تحقیق کنیم.

اگر این استدلال کلی را دربارۀ $n = 1967$ بکار ببریم، پاسخ به دست

می‌آید.

$$d_{1967} = \left\lfloor \frac{3 \times 1968}{2} \right\rfloor = 2952$$

۹۱. اگر شاه از گوشه چپ و پایین صفحه، روی قطر به طرف گوشه

راست و بالای صفحه برود، به ناچار در یکی از حرکت‌ها، زیر ضربۀ رخ سفید

قرار می‌گیرد.

برای اثبات، کافی است توجه کنیم که، بعد از حرکت اول شاه، باید

همه رخ‌های سفید، بالای سومین ردیف افقی و سمت راست سومین ردیف قائم باشند.

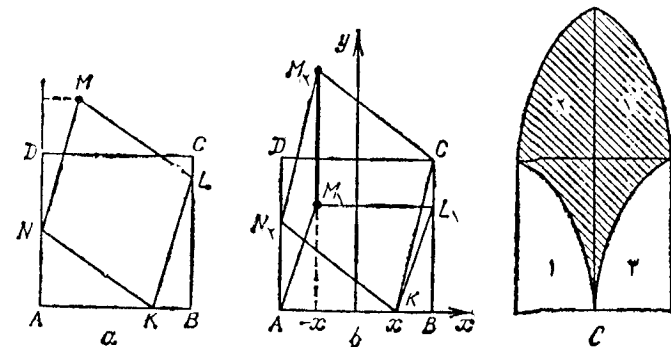
به همین ترتیب، قبل از حرکت شاه به گوشه راست بالا، باید همه رخ‌ها، زیر ردیف ۹۹۸ افقی و سمت چپ ردیف ۹۹۸ قائم واقع باشند.

شاه، روی هم، قبل از آخرین حرکت خود در روی قطر، ۹۹۷ حرکت انجام می‌دهد. در ضمن، هر رخ، به ازای حرکت شاه، باید دو حرکت داشته باشد (تغییر ردیف افقی و ردیف قائم که در ابتدا روی آن‌ها قرار دارد)؛ ولی تعداد رخ‌ها برابر ۴۹۹ است، در حالی که باید 2×499 حرکت انجام دهد و $997 > 998 \times 2$.

۹۲. پاسخ: $S = 1$.

K, L و N را رأس‌هایی از لوزی می‌گیریم که، به ترتیب، بر ضلع‌های AB, BC و AD از مربع واقع‌اند. (شکل ۵۲، a). طول پاره خط راست KB برابر است با فاصله از نقطه M تا خط راست AD . بنابراین، اگر نقطه K را ثابت نگه داریم، آن وقت موضع نقطه M ، پاره خط راست M_1M_2 را، که با ضلع AD موازی است، پرمی‌کند. در ضمن، نقطه M_1 ، پایین‌ترین موضع نقطه M ، متناظر با حالتی است که N_1 بر A منطبق باشد؛ به همین ترتیب، نقطه M_2 ، با حالت $L_2 = C$ تطبیق می‌کند.

برای این که موضع نقطه‌های M_1 و M_2 را معین کنیم (در رابطه با



شکل ۵۲

موضع نقطه K)، دستگاه محورهای مختصات را، به آن گونه که در شکل ۵۲، b دیده می‌شود، در نظر می‌گیریم.

به سادگی می‌توان محاسبه کرد که، اگر طول نقطه K برابر $x > 0$ باشد، آن وقت، خواهیم داشت:

$$M_1 = (-x, \sqrt{2x}) \text{ و } M_2 = (-x, \sqrt{1-2x+1})$$

با استفاده از تقارن مجموعه نقطه‌های M ، نسبت به محور OY ، معلوم می‌شود که، این مجموعه، به صورت شکلی درمی‌آید که هاشور زده‌ایم، برای محاسبه مساحت، لزومی ندارد از محاسبه انتگرالی استفاده کنیم؛ در شکل ۵۲، c، دو شکلی که با عددهای ۱ و ۲ نشان داده شده‌اند، برابرند.

۹۳. ابتدا یادآوری می‌کنیم که، عدد k ، نسبت به عدد ۱۰ اول است. در واقع، عددی وجود دارد که با رقم ۱ آغاز می‌شود و بر k بخش پذیر است؛ مقلوب چنین عددی هم، بر k بخش پذیر است و به رقم ۱ ختم می‌شود. اکنون، عددی را انتخاب می‌کنیم که با ۵۰۰ آغاز شود و بر k بخش‌پذیر باشد:

$$\overline{500abc \dots z}$$

(a, b, c, \dots, z ، رقم‌های این عددند). در این صورت، باید هر یک از اعدادهای زیر، بر k بخش پذیر باشند:

$$\overline{z \dots cba \dots 500} \quad (1) \text{ عدد}$$

(۲) مجموع دو عدد

$$z \dots cba \dots 500 \dots \dots \dots +$$

$$500abc \dots z$$

$$\overline{z \dots cba \dots 1000ab \dots z}$$

یعنی عدد

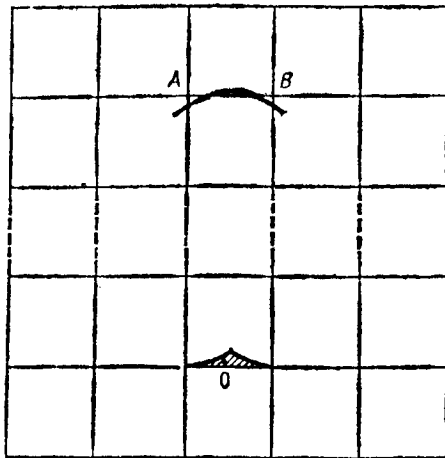
$$\overline{z \dots ba \dots 1000ab \dots z} \quad (3) \text{ مقلوب عدد اخیر، یعنی عدد}$$

(۴) تفاضل این دو عدد

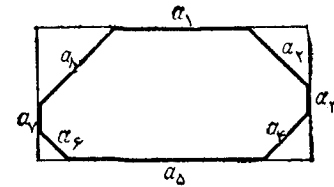
خط‌های راست شبکه را افقی و قائم می‌نامیم. دایره به قطر ۲۰۰، وقتی که از گره‌های شبکه عبور نکند و بر خط‌های راست شبکه مماس نباشد، ۲۰۰ خط راست افقی و ۲۰۰ خط راست قائم را قطع می‌کند و، در ضمن هر کدام از آن‌ها را دوبار. بنابراین، حداکثر تعداد نقطه‌های برخورد برابر است با ۸۰۰. این ۸۰۰ نقطه، محیط دایره را به ۸۰۰ بخش تقسیم می‌کنند. هر یک از این بخش‌ها در درون یکی از خانه‌ها قرار دارد. بنابراین، حداکثر ممکن برای تعداد خانه‌ها، ۸۰۰ است.

با وجود این، ممکن است، دو بخش از این بخش‌ها متعلق به یک خانه باشند، یعنی محیط دایره خانه‌ای را دوبار قطع کند (شکل ۵۳). ثابت می‌کنیم، از این گونه خانه‌های «خاص» بیش از یکی نمی‌تواند وجود داشته باشد.

ببینیم، وقتی محیط دایره ضلع AB از خانه‌ای را دوبار قطع می‌کند، نقطه O ، مرکز دایره، در کجا می‌تواند قرار گیرد؟



شکل ۵۴



شکل ۵۳

$$z \dots ba \circ 1 \circ \circ ab \dots z -$$

$$z \dots ba \circ \circ \circ 1 ab \dots z$$

یعنی عدد ۰۹۹۰۰۰۰۰۰.

به این ترتیب دیده می‌شود که عدد ۹۹، بر k بخش پذیر است.

۹۴. a_1, \dots, a_8 را، به ترتیب، طول ضلع‌های هشت ضلعی می‌گیریم (شکل ۵۳). از برابری زاویه‌ها، بلافاصله نتیجه می‌شود که، ضلع‌های روبه‌رو، با هم موازی اند. دو ضلع روبه‌روی a_1 و a_5 و همچنین دو ضلع روبه‌روی a_3 و a_4 را ادامه می‌دهیم، مستطیلی به دست می‌آید که، از آن، می‌توان هشت ضلعی را «با بریدن گوشه‌ها» به دست آورد.

از برابری ضلع‌های روبه‌رو در مستطیل، به دست می‌آید:

$$\frac{a_8}{\sqrt{2}} + a_1 + \frac{a_2}{\sqrt{2}} = \frac{a_6}{\sqrt{2}} + a_5 + \frac{a_4}{\sqrt{2}}$$

$$\Rightarrow a_5 - a_1 = \frac{\sqrt{2}}{2} (a_8 + a_2 - a_6 - a_4)$$

چون a_i عددی درست است و $\frac{\sqrt{2}}{2}$ عددی گنگ، بنابراین $a_5 = a_1$ به همین ترتیب، برابری بقیه ضلع‌های روبه‌رو هم ثابت می‌شود.

۹۵. پاسخ: $311 > 1714$.

تا برابری‌های زیر، درستی پاسخ را نشان می‌دهند:

$$1714 > 1614 = 256 > 255 = 3211 > 3111$$

۹۶. پاسخ: ۸۰۰ یا ۷۹۹.

افقی AB واقع است. همه این نقطه‌ها، درون دومتک منحنی الخط را پرمی کنند (یکی از این مثلث‌ها را، روی شکل، هاشور زده‌ایم).

روشن است که، برای پاره‌خط‌های راست متفاوت AB ، چنین مجموعه‌هایی، دارای نقطه‌های مشترک نیستند و، بنا بر این، بیش از یک خانه «خاص» نمی‌تواند وجود داشته باشد.

۹۷. ابتدا ثابت می‌کنیم، می‌توان گروهی از دانشجویان را انتخاب کرد که، در آن، با هر زبان، درست دو نفر آشنا باشند.

هر دانشجو را با حرف اول زبانی که می‌داند، معرفی می‌کنیم: a به معنای دانشجویی است که زبان انگلیسی را می‌داند، ولی با دو زبان دیگر آشنا نیست؛ if دانشجویی است که با دو زبان اسپانیایی و فرانسوی آشناست ولی انگلیسی نمی‌داند؛ و aif یعنی دانشجویی که هر سه زبان را می‌داند.

$N_a, N_i, N_f, N_{ai}, N_{if}, N_{af}, N_{aif}$ را به معنای تعداد دانش-آموزان هر نوع می‌گیریم. اگر $N_{aif} \neq 0$ و $N_{af} \neq 0$ و $N_{if} \neq 0$ ، آن وقت گروه مورد نظر (ai, af, if) است.

اگر یکی از عددها، مثلاً N_{ai} ، برابر صفر، N_{af} مخالف صفر و N_{if} مخالف صفر باشد، آن وقت $N_a \neq 0$ و $N_i \neq 0$ و گروه مورد نظر ما، چنین می‌شود:

$$(af, if, a, i)$$

اگر $N_{aif} \neq 0$ و $N_{if} \neq 0$ و $N_{ai} = N_{af} = 0$ ، آن وقت، این گروه را انتخاب می‌کنیم:

$$(aif, uf, a)$$

اگر $N_{aif} = 0$ ، $N_{if} \geq 2$ ، گروه

$$(if, if, a, a)$$

و اگر $N_{if} = 1$ ، گروه (if, a, a, if) را انتخاب می‌کنیم.

اگر $N_{ai} = N_{af} = N_{if} = 0$ ، می‌توان یکی از این سه گروه را انتخاب کرد:

$$(aif, a, if) \text{ یا } (a, if, a, if) \text{ یا } (aif, a, if)$$

دنباله کار روشن است. از این گروه‌ها، که در هر کدام از آن‌ها هر زبان را درست دو نفر می‌داند، پنج بار انتخاب می‌کنیم، اولین گروهی به دست می‌آید که، در آن، با هر زبان درست ۱۰ نفر آشنایی دارد. بعد دومین گروه از این گونه را درست می‌کنیم و غیره.

∇ در حالت کلی، وقتی در گروهی از دانشجویان، با هر یک از سه زبان درست n نفر آشنا باشند، برای هر عدد زوج $p < n$ ، می‌توان گروهی انتخاب کرد که، در آن، با هر زبان، p نفر آشنا باشد (شرط زوج بودن p ، شرطی لازم است).

۹۸. برای اثبات، کافی است از این اتحادها استفاده کنیم:

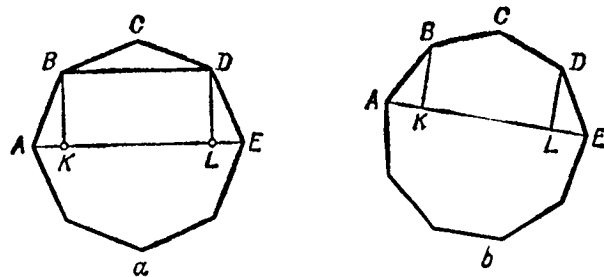
$$\frac{2k}{x^2 - k^2} = \frac{1}{x - k} - \frac{1}{x + k}$$

$$\frac{11}{(x - 11 + k)(x + k)} = \frac{1}{x - 11 + k} - \frac{1}{x + k}$$

۹۹. پاسخ: $n = 9$.

a_n را طول ضلع و D_n و d_n را، به ترتیب، طول بزرگترین و کوچکترین قطر n ضلعی می‌گیریم. برای $n = 4$ و $n = 5$ ، همه قطر‌ها برابرند. برای $n = 6$ و $n = 7$ داریم $D_n - d_n < a_n$. برای $n = 8$ (شکل ۵۵)، عمودهای DL و BK را از دو انتهای قطر کوچکتر BD بر قطر بزرگتر AE فرود می‌آوریم.

به سادگی روشن می‌شود که $\widehat{ABK} = 22/5^\circ < 30^\circ$.



شکل ۵۵

بنا بر این

$$\frac{OA'}{OB'} = \frac{OB_1}{OA_1} \text{ و } \widehat{A'OB'} = \widehat{A_1OB_1} \text{ چون (بنا بر فرض). بنا بر این}$$

دو مثلث $B'OA'$ و A_1OB_1 متشابه‌اند و

$$\widehat{OA_1B_1} = \widehat{OB'A'} \text{ و } \widehat{OB_1A_1} = \widehat{O'A'B'}$$

چون بر چهار ضلعی OA_1CB_1 می‌توان یک دایره محیط کرد (به قطر OC)، بنا بر این

$$\widehat{B_1CO} = \widehat{OA_1B_1} \text{ و } \widehat{A_1CO} = \widehat{OB_1A_1}$$

در نتیجه مثلث‌های A_1OC و $C'O'A'$ ، همچنین، مثلث‌های BOC و $C'OB_1$ باهم متشابه‌اند، یعنی پاره‌خط راست OC' بر خط راست OC قرار دارد و

$$OC.O'C' = OA.O'A' = OB.O'B'$$

به همین ترتیب، می‌توان مثلث‌های $B'OC'$ و $C'O'A'$ را مورد مطالعه قرار داد. ۱۰۲. اثبات را، با استقرای روی n می‌دهیم. بدای $n=1$ ، درستی حکم روشن است. فرض می‌کنیم، حکم برای $n=k$ درست باشد. $a < (k+1)$ می‌گیریم. a را به $k+1$ تقسیم می‌کنیم:

$$a = d(k+1) + r$$

که در آن $d \leq k$ و $r < k+1$. بنا بر فرض استقرا داریم:

$$d = d_1 + d_2 + \dots + d_l$$

که در آن، d_i ها مقسوم‌علیه‌های مختلف عدد k هستند و $l \leq k$. در این صورت

$$a = d_1(k+1) + d_2(k+1) + \dots + d_l(k+1) + r$$

در این مجموع، بیش از $k+1$ جمله وجود ندارد و هر کدام از آن‌ها، مقسوم‌علیه‌ی از $(k+1)$ هستند؛ در ضمن، همه آن‌ها با هم فرق دارند.

۱۰۳. با انتقال موازی، نقطه D را به نقطه B می‌رسانیم؛ در این صورت، مثلث ADE منجر به مثلث KBL می‌شود، که در آن $KL \parallel AC$ و،

$$AB = a_n > 2AK = D_n - d_n$$

برای $n=9$ (شکل ۵۵، b) داریم: $\widehat{ABK} = 30^\circ$ و بنا بر این

$$AB = a_9 = 2AK = D_9 - d_9$$

سپس، فرض می‌کنیم، n ضلعی منتظم در دایره‌ای محیط باشد. روشن است که، به ازای $n > 9$ ، داریم: $D_n \geq D_9$ و $d_n < d_9$. بنا بر این

$$D_n - d_n > D_9 - d_9 = a_9 > a_n$$

۱۰۰. ثابت می‌کنیم $18 < a_{100} < 14$. برای $k > 1$ داریم:

$$a_k^x = a_{k-1}^x + 2 + \frac{1}{a_{k-1}^x}, \quad (a_k > 1)$$

$$\text{بنا بر این } a_{k-1}^x + 2 < a_k^x < a_{k-1}^x + 3$$

اگر در نابرابری اخیر، $n, \dots, 3, 2, k$ بگیریم و، سپس، همه نابرابری‌های حاصل را باهم جمع کنیم (با در نظر گرفتن $a_1 = 1$)، به دست می‌آید:

$$2n - 1 < a_n^x < 3n - 2$$

از آن جا $\sqrt{2n-1} < a_n < \sqrt{3n-2}$ که، بدای $n=100$:

$$14 < a_{100} < 18$$

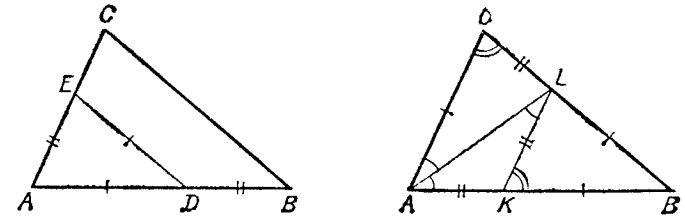
∇ بدون دشواری می‌توان ثابت کرد، که، دنباله $\frac{a_n}{\sqrt{n}}$ به سمت حدی

میل می‌کند و، در ضمن، می‌توان این حد را پیدا کرد.

۱۰۱. مثلث $A'B'C'$ را به موازات خود منتقل می‌کنیم تا نقطه O'

بر نقطه O منطبق شود. رأس‌های مثلثی را که به این طریق به دست می‌آید،

مثل سابق، A' ، B' و C' می‌نامیم.



شکل ۵۶

به جز آن، $KB = LB$ (شکل ۵۶).

اگر فرض کنیم: $\widehat{KAL} = \widehat{KLA} = \alpha$ ، آن وقت خواهیم داشت:

$$\widehat{BKL} = 2\alpha, \widehat{BAC} = \widehat{BCA} = 2\alpha$$

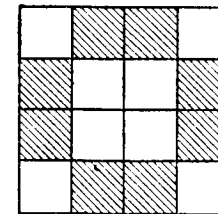
دو مثلث BKL و ACL با هم برابرند و

$$\widehat{ALC} = \widehat{KLB} = 2\alpha \Rightarrow \alpha = \frac{\pi}{5}$$

و $LC = AK = BD$ ، یعنی طول پاره خط راست BD ، برابر است با طول ضلع ده ضلعی منتظم محاط در دایره به شعاع $R = AC$.

۱۰۴. از نقطه A ، عمود AH را بر صفحه BCD و، سپس، از نقطه H ، عمودهای HL و HM را، به ترتیب، بر ضلع‌های BC ، BD و CD فرود می‌آوریم. هر یک از هرم‌های $ABKL$ ، $ACKM$ ، $ADML$ و $ADML$ به وسیله کره متناظر خود پوشیده می‌شود.

۱۰۵. (a) به سادگی دیده می‌شود که، هر خط راست موازی با ضلع یا قطر مربع، تعداد زوجی از هشت خانه هاشور خورده در شکل ۵۷ را قطع می‌کند. بنابراین، تعداد منفی‌های واقع در این خانه‌ها را، نمی‌توان از زوج به فرد یا از فرد به زوج تغییر داد (ضمیمه ۱۳).



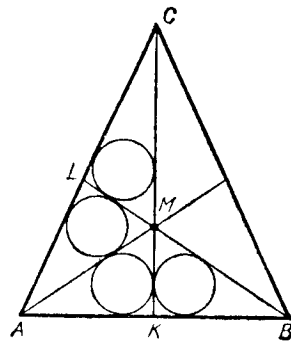
شکل ۵۷

(b) از مربع 8×8 می‌توان مربع 4×4 را طوری جدا کرد که علامت منفی در آن، شبیه حالت مسأله (a) قرار گرفته باشد و، در نتیجه، این مسأله، به همان مسأله قبل منجر می‌شود.

۱۰۶. هر شش مثلثی که با رسم میاندها، در یک مثلث، به وجود می‌آیند، مساحتی برابر دارند. از برابری شعاع‌های دایره‌های محاطی و با توجه به دستور $S = pr$ ، برابری محیط‌های چهار تا از این مثلث‌ها ثابت می‌شود. از برابری محیط‌های دو مثلث AMK و BMK (شکل ۵۸)، نتیجه می‌شود*: $MK = MB$ ، یعنی ارتفاع مثلث AMB است و در نتیجه $AC = BC$.

اگر شعاع دایره‌های محاط در مثلث‌های AKM و ALM برابر باشند، آن وقت این مثلث‌ها برابر می‌شوند (به عنوان مثلث‌هایی که مساحت‌ها، قاعده‌ها و محیط‌های برابر دارند): در ضمن $AI = AK$ ، یعنی $AC = AB$ و مثلث ABC متساوی‌الاضلاع است.

اگر محیط‌های دو مثلث KMB و CLM برابر باشند، آن وقت، با استفاده از برابری طول‌های دو مماسی که از یک نقطه بر دایره‌ای رسم می‌شوند، اگر x را فاصله نقطه M تا نقطه تماس با دایره متناظر بگیریم، به دست می‌آید:



شکل ۵۸

(* بدون شك، از این چهار مثلث با محیط برابر، دست کم دو تا، جسمیده به يك ضلع‌اند، و در این جا، آن‌ها را جسمیده به ضلع AB گرفته‌ایم.

$$CL+LM+CM=2CL+2x=2BK+2x$$

که از آن جا نتیجه می شود: $AC=AB$.

۱۰۷. اثبات حکم این مساله، اثبات نامتناهی بودن مجموعه عددهای اول را، که به اقلیدس تعلق دارد، به یاد می آورد (ضمیمه ۲).

فرض می کنیم، معادله $x^2+x+1=py$ ، تنها برای تعداد محدودی از عددهای اول p_1, p_2, \dots, p_m ، دارای جواب های درست (x, y) باشد. هیچ کدام از عددهای p_1, p_2, \dots, p_m بخش پذیر نیست و، بنا بر این، دارای مقسوم علیه اول q است که برابر با هیچ کدام از این عددها نیست. ولی معادله

$$x^2+x+1=qy$$

دارای جواب درست $\left(p \cdot \frac{p^2+p+1}{q}\right)$ است. تناقض حاصل، درستی حکم مساله را ثابت می کند.

۱۰۸. پاسخ: حداکثر عدد c_1 برابر ۲۴ است.

اگر همه داوران در انتخاب مقام اول، هم رأی باشند، آن وقت $c_1=9$. اگر داوران، مقام اول را به دو نفر داده باشند، آن وقت یکی از دو نفر از ۵ داور مقام اول را گرفته است و از چهار داور بقیه، مقامی که او از چهارم پایین تر نبوده است؛ بنا بر این

$$c_1 \leq 5 \times 1 + 4 \times 4 = 21$$

اگر داوران به ۳ نفر مقام اول را داده باشند، چون بقیه مقام هایی که این ۳ نفر از داوران دریافت کرده اند، از چهار تجاوز نمی کنند، مجموع مقام های همه این سه هنرمند، از

$$1 \times 9 + 3 \times 9 + 4 \times 9 = 72$$

بیشتر نیست و، بنا بر این $c_1 \leq 24$. در حالتی که از بین داوران، به چهار هنرمند، مقام اول را داده باشند، مجموع کل مقام های آن ها حداکثر برابر

۹۰ و مجموع نمره های یکی از آن ها، حداکثر ۲۲ می شود. حالتی که ۵ نفر یا بیشتر، مقام اول را گرفته باشند، ممکن نیست (مقام های اول تا چهارم برای آن ها کفایت نمی کند).

به این ترتیب $c_1 \leq 24$. نشان می دهیم که چگونه می توان مثالی برای

$$c_1 = 24$$
 ساخت.

فرض کنیم، داوران، به هر يك از سه هنرمند بهتر مقام های

$$4, 4, 4, 3, 3, 3, 1, 1, 1$$

به هر يك از سه هنرمند بعدی مقام های

$$6, 6, 6, 5, 5, 5, 2, 2, 2$$

و به بقیه مقام های دلخواهی بدهند. در این صورت ردیفی به دست می آید که در آن $c_1 = 24$.

۱۰۹. برای هر $m (1 \leq m \leq n)$ ، بین زوج $(a_k, b_k) (1 \leq k \leq m)$ ،

یکی از نابرابری های $a_k \geq b_k$ یا $b_k \geq a_k$ ، دست کم برای $\frac{m}{4}$ زوج برقرار است.

مثلاً فرض کنید $b_k \geq a_k$ ، دست کم در $\frac{m}{4}$ زوج برقرار باشد. اگر

b_i را، کوچکترین عدد از بین عددهای b_k بگیریم، آن وقت $b_i \leq \frac{4}{m}$ به

این ترتیب $\frac{4}{m} \leq 2b_i \leq a_i + b_i$ و چون $i \leq m$ ، بنا بر این

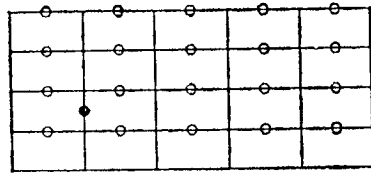
$$a_m + b_m \leq a_i + b_i \leq \frac{4}{m}$$

۱۱۰. حکم مساله را می توان با استقرای روی n ، تعداد دانش آموزان،

ثابت کرد. ولی در این جا آن را بر اساس قضیه زیر (که تقریباً روشن است)

ثابت می کنیم: مجموع 2^k حاصل ضرب x_1, x_2, \dots, x_k ، که در آن (x_1, x_2, \dots, x_k)

عبارتند از همه انتخاب های ممکن از عددهای $+1$ و -1 ، برابر است با



شکل ۵۹

بینید). چون روی هم به تعداد mn چهارراه داریم، بنا بر این، تعداد پاره-خط‌های راستی که، در آن‌ها، پاسبان وجود ندارد، برابر $mn - k$ می‌شود. تعداد کل پاره‌خط‌های راست‌خیا بان‌ها برابر $mn - m - n + 2$ است. بنا بر این، تعداد پاره‌خط‌های راستی که اشغال می‌شود برابر است با

$$mn - m - n + k \geq (m-1)(n-1)$$

نمونه استقرار $(m-1)(n-1)$ پاسبان. در شکل ۵۹ نشان داده شده

است.

۱۱۲. از K به نقطه O ، مرکز دایرهٔ محاطی مثلث ABC وصل می‌کنیم و امتداد می‌دهیم، تا دایره را در L قطع کند. وسط پاره‌خط راست AC را D و نقطهٔ برخورد AC با BL را E می‌نامیم. کافی است ثابت کنیم $ED = DK$ (در این صورت، DO ؛ خط راستی می‌شود که وسط دو ضلع مثلث EBK را به هم وصل کرده است).

توجه می‌کنیم: تجانسی بنم مرکز B که دایرهٔ محاطی مثلث ABC را به دایرهٔ محاطی خارجی آن (مماس بر AC و امتدادهای BA و BC) تبدیل می‌کند، نقطهٔ L را به نقطه E منجر خواهد کرد که، در ضمن، نقطهٔ تماس ضلع AC با دایرهٔ محاطی خارجی خواهد بود. با توجه به برابر بودن طول‌های دو مماسی که از یک نقطه بر دایره‌ای رسم می‌شوند، دو مجموع $AK + AE$ و $CK + CE$ با هم برابر می‌آیند (هر کدام برابر با پاره‌خطی از خط‌های راست BA و BC هستند و، خود این دو پاره‌خط راست، با هم برابرند؛ دو پاره‌خط راستی که این نقطه‌های تماس دو دایرهٔ محاطی و محاطی خارجی با خط‌های راست BA و BC قرار دارند). در نتیجه

$$AK + AE = CK + CE \text{ و } AE = KC$$

صفر (برای اثبات کافی است، k برابری $0 = (-1) + 1$ در ضرب و سمت چپ را به همهٔ روش‌های ممکن ضرب جمله‌ها منجر کنیم). بدانش-آموزان، شماره‌های از ۱ تا n را می‌دهیم. برای هر فهرستی از شماره‌های $i_1 \leq i_2 \leq \dots \leq i_k$ (در این جا $n > k$)، مجموع وزن وزنه‌هایی را، که روی آن‌ها، این فهرست نوشته شده است، با a_{i_1, i_2, \dots, i_k} نشان می‌دهیم، در ضمن وزنه‌های یکی از کفه‌ها را (که در ابتدا سنگین‌تر است) با علامت مثبت و وزنه‌های کفهٔ دیگر را با علامت منفی در نظر می‌گیریم. در این صورت، حکم مورد نظر به این صورت درمی‌آید: برای چند جمله‌ای به صورت

$$f(x_1, x_2, \dots, x_n) = a_{i_1} x_1 + \dots + a_{i_n} x_n + a_{i_1, i_2} x_1 x_2 + \dots + a_{i_1, i_2, i_3} x_1 x_2 x_3 + \dots + a_{i_1, i_2, \dots, i_n} x_1 x_2 \dots x_n$$

که در آن، مجموع ضریب‌ها، مثبت است، همیشه می‌توان گروه x_1, x_2, \dots, x_n را از عدد های $1 + 1 - 1$ طوری در نظر گرفت که مقدار $f(x_1, x_2, \dots, x_n)$ منفی باشد. [اختلاف وزن کفه‌های ترازو را نشان می‌دهد، به شرطی که $x_i = -1$ برای آن دانش‌آموزانی که وزنهٔ خود را جا به جا کرده‌اند و $x_i = 1$ برای بقیهٔ دانش‌آموزان]. این باقی می‌ماند که توجه کنیم، مجموع مقادیرهای $f(x_1, x_2, \dots, x_n)$ در هر انتخابی - حتی مجموع مقادیرهای $f(1, 1, \dots, 1)$ ، در این صورت باید انتخابی پیدا شود که، برای آن، مقدار f منفی باشد (ضمیمهٔ ۹).

۱۱۱. پاسخ: حداقل تعداد پاسبان‌ها برابر $(n-1)(m-1)$ است. اگر پاسبان‌ها به صورتی که مورد نظر است، مستقر شده باشند، آن وقت شبکهٔ خیابان‌ها، به k قطعه تقسیم می‌شود که شامل مسیرهای بسته نیستند، در غیر این صورت، مسیر بسته‌ای پیدا می‌شود که، در طول آن، حتی یک پاسبان وجود ندارد. اگر قطعهٔ باقی‌ماندهٔ شبکه، شامل p چهارراه باشد، آن وقت در آن، درست $p-1$ پاره‌خط راست از خیابان‌ها وجود دارد (مسئلهٔ ۸ را

۱۱۳. همه برابری‌های

$$a_1 = 0, |a_2| = |a_1 + 1|, \dots, |a_{n+1}| = |a_n + 1|$$

را مجذور، سپس، با هم جمع می‌کنیم. بعد از ساده کردن. بدست می‌آید:

$$a_{n+1}^2 = 2(a_1 + a_2 + \dots + a_n) + n \geq 0$$

$$\text{و از آن جا } -\frac{n}{2} \leq a_1 + a_2 + \dots + a_n$$

راه حل دیگر را (با استقرا)، می‌توان با توجه به این نکته به دست آورد که: اگر زوج جمله‌های متوالی را $a_n \geq 0$ و $a_{n-1} = -a_n - 1$ با مقدار متوسط $-\frac{1}{2}$ بگیریم، بدنباله قابل قبولی منجر می‌شود.

$\nabla -\frac{n}{2}$ ، برای مجموع عددها در این دنباله، ارزیابی دقیقی است. بدعنوان مثال، می‌توان هر انتخابی را که به جمله -1 و یا (وقتی که n عددی فرد باشد)، به صفر ختم می‌شود، در نظر گرفت.

۱۱۴. $\widehat{ABC} = \beta$ ، $\widehat{ABD} = \beta_1$ و $\widehat{DBC} = \beta_2$ می‌گیریم. اگر از قضیه سینوس‌ها در دو مثلث AOB و BOC استفاده کنیم، بدست می‌آید:

$$\frac{AO}{OC} = \frac{AO}{AB} \cdot \frac{BC}{OC} \cdot \frac{AB}{BC} = \frac{AB}{BC} \cdot \frac{\sin \beta_1}{\sin \beta_2}$$

چون AB و BC گویا هستند. کافی است گویا بودن نسبت سینوس‌ها را ثابت کنیم.

به کمک قضیه کسینوس‌ها و با توجه به گویا بودن طول ضلع‌ها و قطر‌ها. نتیجه می‌شود که $\cos \beta$ ، $\cos \beta_1$ و $\cos \beta_2$ عددهایی گویا هستند. به عنوان نمونه

$$\cos \beta = \frac{AB^2 + BC^2 - AC^2}{2AB \cdot BC}$$

به این ترتیب. عدد $\sin \beta$ ، $\sin \beta_1$ هم گویا درمی‌آید. زیرا

$$\cos \beta = \cos \beta_1 \cos \beta_2 - \sin \beta_1 \sin \beta_2$$

و در نتیجه، با توجه به برابری $\sin^2 \beta_2 = 1 - \cos^2 \beta_2$ ، نسبت $\frac{\sin \beta_1}{\sin \beta_2}$ هم، عددی گویا می‌شود.

۱۱۵. روی خط راست BC ، نقطه C_1 را طوری انتخاب می‌کنیم که چهارضلعی $ABEC_1$ متوازی‌الاضلاع باشد در این صورت، مثلث‌های ABE ، BEC_1 و BEC_2 محیطی برابر پیدا می‌کنند. از این جا نتیجه می‌شود که دو نقطه C_1 و C_2 برهم منطبق‌اند. بنابراین $BC = AE$. به همین ترتیب، ثابت می‌شود $BC = ED$.

۱۱۶. حداکثر سرعت گرگ را v می‌گیریم. از نقطه‌ای که گرگ در آن جا ایستاده است، دو خط راست موازی با قطرهای مربع رسم می‌کنیم. محل برخورد این خط‌های راست را با محیط مربع C_1, C_2, C_3, C_4 می‌نامیم. چون سرعت جا به جایی هر یک از نقطه‌های C_1, C_2, C_3, C_4 از مقدار

$$v\sqrt{2} < \frac{3}{4}v$$

بیشتر نیست، بنا بر این، سگ‌ها می‌توانند در هر لحظه در این چهار نقطه باشند و در نتیجه، مانع فرار گرگ بشوند.

۱۱۷. $abcd$ را چهار رقم آخر می‌گیریم. در دنباله، به ناچار باید ردیف $abcd$ و ردیف $abcd$ وجود داشته باشد (در غیر این صورت، با اضافه کردن ۰ یا ۱، به انتهای آن، ویژگی a) برقرار می‌شود که در نتیجه ویژگی b را نقض می‌کند). بنا بر این، در دنباله، سه بار به ردیف $abcd$ برمی‌خوریم و چون، ۰ یا ۱ نمی‌تواند بیش از یکبار در جلو آن قرار گیرد، بنا بر این، جلوی یکی از این ردیف‌ها، هیچ رقمی وجود ندارد.

∇ برای هر n (در حالت خاص، برای $n=5$)، می‌توان 2^n رقم ۰ و ۱ را روی محیط دایره طوری قرارداد که، ضمن حرکت در جهت عکس عقربه‌های ساعت، به هر «واژه» به طول n از ۰ و ۱، درست یکبار برخورد کنیم. همین حکم درباره حرف‌های الفبا هم، برای $k \geq 2$ حرف، درست است (در این صورت، تعداد واژه‌های به طول n ، برابر k^n است).

۱۱۸. اگر دو نابرابری اول را درهم ضرب کنیم، به دست می‌آید:

$$(a+b)^2 < ab+cd$$

ولی $(a+b)^2 \geq 4ab$ و بنا بر این $ab+cd \geq 4ab$ یعنی $cd \geq 3ab$.

اگر دو نابرابری دوم و سوم را درهم ضرب کنیم، به دست می‌آید:

$$ab(ab+cd) > (a+b)^2 cd \geq 4abcd$$

از آن جا $ab+cd > 4cd$ ، یعنی $ab > 3cd$.

به این ترتیب، به طور هم‌زمان، به دست می‌آید:

$$ab > 3cd \text{ و } cd > 3ab$$

که ممکن نیست.

۱۱۹. پاسخ: $a=5$.

فرض کنید $f(x) = ax^2 + bx + c = a(x-x_1)(x-x_2)$ که در

آن a, b, c عددهایی درست‌اند ($a > 0$) و $0 < x_1 < 1$ و $0 < x_2 < 1$.

$f(0)$ و $f(1)$ عددهایی درست و مثبت‌اند، بنا بر این $f(0)f(1) \geq 1$.

$$\text{یعنی } a^2 x_1(1-x_1)x_2(1-x_2) \geq 1$$

اکنون توجه می‌کنیم که همیشه $x(1-x) \leq \frac{1}{4}$ ، در ضمن برابری تنها

برای $x = \frac{1}{2}$ ممکن است. چون عددهای x_1 و x_2 مختلف‌اند و $x_1(1-x_1)$

و $x_2(1-x_2)$ عددهایی مثبت، بنا بر این

$$x_1(1-x_1)x_2(1-x_2) < \frac{1}{16}$$

بنا بر این $a^2 > 16$ و $a > 4$.

به ازای $a=5$ ، معادلهٔ درجه دوم $5x^2 - 5x + 1 = 0$ به دست می-

آید که دارای دوریشهٔ مختلف در بازهٔ $[0, 1]$ است.

۱۲۰. حکم مساله را می‌توان با استقرا حل کرد.

حکم به ازای $n=1$ درست است: $\frac{1}{1 \times 1} = 1$ ؛ برای عبور از $n-1$

به n ، باید همهٔ کسرهای $\frac{1}{pq}$ را، که در آن‌ها p و q نسبت به هم اول‌اند،

$p < q$ و $p+q=n$ حذف کنیم و، در عوض، همهٔ کسرهای به صورت $\frac{1}{pn}$

را، که در آن $p < n$ و p و n نسبت به هم اول‌اند، اضافه کنیم.

فرض کنید $\frac{1}{pq}$ یکی از کسرهای حذف شده باشد. چون

$$\frac{1}{pq} = \frac{1}{p(n-p)} = \frac{1}{pn} + \frac{1}{(n-p)n}$$

ابراین، حذف آن از مجموع، به وسیلهٔ دو کسر جدید $\frac{1}{pn}$ و $\frac{1}{(n-p)n}$ (که

ا شرط، سازگارند) جبران می‌شود. به این ترتیب، با عبور از $n-1$ به n ، تعداد مجموع تغییر نمی‌کند.

۱۲۱. از دستگاه نقطه‌های مفروض، دو نقطه را انتخاب می‌کنیم که فاصلهٔ

بین آن‌ها، بیشترین مقدار باشد: این نقطه‌ها را A و B می‌نامیم.

ثابت می‌کنیم، هر یک از زاویه‌های XAY (یا XYB)، که در آن X

و Y دو نقطه از نقطه‌های مفروض‌اند، از 120° درجه کوچکتر است. در واقع،

ضلع AB در هر یک از مثلث‌های AXB و AYB ، بزرگترین ضلع است، بنا بر این

$$\widehat{AXB} > 120^\circ \text{ و } \widehat{AYB} > 120^\circ$$

یعنی $\widehat{XAB} < 60^\circ$ و $\widehat{YAB} < 60^\circ$ و چون در هر کنج سه وجهی، هر زاویهٔ

مسطح کوچکتر از مجموع دو زاویهٔ دیگر است، بنا بر این

$$\widehat{XAY} < \widehat{XAB} + \widehat{YAB} < 120^\circ$$

به این ترتیب، باید شماره‌گذاری را از A آغاز و به B ختم کرد. یاد-

آوری می‌کنیم که، همهٔ فاصله‌های بین نقطه‌های مفروض تسا نقطهٔ A ، با هم

$$x_i + 300a \leq S < x_i + 300(a+1)$$

از آنجا

$$1 + \frac{300a}{x_i} \leq \frac{S}{x_i} < 1 + \frac{300(a+1)}{x_i}$$

بنابراین

$$1 + \frac{3a}{a+1} \leq \frac{S}{x_i} < 4 + \frac{3}{a}$$

به ازای $a=1$ به نابرابری $7 < \frac{S}{x_i} \leq 2/5$ و به ازای $a \geq 2$ نابرابری

$$5/5 < \frac{S}{x_i} < 3 \text{ به دست می آید. تحقیق می کنیم.}$$

چون $\frac{S}{x_i}$ به ازای سه تا از عددها، عددی درست است، بنابراین حالت

$a \geq 2$ ممکن نیست (بین ۳ و ۵/۵ تنها دو عدد درست وجود دارد). بدین ترتیب $a=1$ و خارج قسمت‌های درست را باید بین عددهای ۳، ۴، ۵، ۶ جست و جو کرد. ولی ۳ و ۶ نمی‌توانند با هم، دو تا از خارج قسمت‌ها باشند، زیرا نسبت هر دو عدد بین ۱۰۰ و ۱۹۹ از ۲ کمتر است. دو حالت باقی می‌ماند: (۱) سه خارج قسمت ۳ و ۴ و ۵ هستند؛ (۲) سه خارج قسمت ۴ و ۵ و ۶ هستند. در هر دو حالت، k بر ۶ بخش پذیر است: $S = 60k$. در حالت اول، عددهای مجهول به صورت $12k$ ، $15k$ ، $20k$ و $13k$ در می‌آیند.

تنها به ازای $k=9$ ، رقم اول همه عددها برابر می‌شوند که، از آن‌جا، جواب به دست می‌آید. در حالت دوم، گروه عددهای $10k$ ، $12k$ ، $15k$ ، $23k$ ، به ازای هیچ مقداری از k ، با شرط‌های مسأله سازگار نیستند. زیرا نسبت دو عدد $23k$ و $10k$ از ۲ بزرگتر است.

۱۲۳. پاسخ: ۱۰ شهر.

از هر شهر A می‌توان حداکثر به سه شهر پرواز کرد و، از هر کدام از سه شهر اخیر، به جز A ، تنها به دو شهر می‌توان با هواپیما پرواز کرد. به این ترتیب، تعداد شهرها، نمی‌تواند از $2 \times 3 + 1 = 7$ ، یعنی ۱۰ بیشتر باشد.

فرق دارند. در واقع، اگر داشته باشیم: $AX = AY$ ، آن وقت مثلث AXY متساوی الساقین می‌شود و، در ضمن، $\widehat{XAY} > 120^\circ$ ؛ و روشن است که چنین وضعی ممکن نیست. نقطه‌های مفروض را شماره گذاری می‌کنیم: $A_1 = A$ ، A_2 نزدیکترین نقطه دستگاه به A ، A_3 نزدیکترین نقطه به A_2 از بین بقیه نقطه‌ها، ...، A_n نزدیکترین نقطه به A که هنوز شماره‌ای نگرفته‌اند، ...، ثابت می‌کنیم، این شماره گذاری، با شرط مسأله سازگار است.

چون $\widehat{A_1 A_i A_n} > 120^\circ$ (به ازای $1 < i < k \leq n$)، بنابراین کافی است ثابت کنیم $\widehat{A_1 A_j A_k} > 120^\circ$ ($1 < i < j < k < n$). چون در دستگاه نقطه‌های A_1 ، A_2 ، ...، A_k ، نقطه‌های A_1 و A_2 بیشترین فاصله را نسبت به هم دارند، بنابراین $\widehat{A_1 A_i A_j} < 120^\circ$ (این مطلب را، در ابتدای حل، ثابت کردیم).

ثابت می‌کنیم $\widehat{A_1 A_i A_j} < 120^\circ$ ، در واقع، چون $\widehat{A_1 A_i A_j} > 120^\circ$ و $\widehat{A_1 A_i A_k} > 120^\circ$ ، اگر فرض کنیم $\widehat{A_1 A_i A_j} \geq 120^\circ$ ، آن وقت مجموع زاویه‌های مسطحه در کنج سه وجهی به رأس A_i از 360° درجه بیشتر می‌شود.

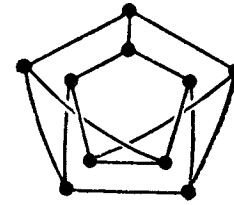
به این ترتیب $\widehat{A_1 A_j A_k} > 120^\circ$ به ازای هر $1 \leq i < j < k \leq n$. ∇ در این مسأله، در واقع ثابت کردیم که نسبت « $\widehat{A_1 A_j A_k} > 120^\circ$ » همان ویژگی‌هایی را دارد که نسبت « A_j بین A_1 و A_k قرار دارد» (برای نقطه‌های واقعی بر خط راست)، یعنی این نسبت، امکان «مرتب کردن» یک مجموعه مفروض را به دست می‌دهد. مقدار 120° درجه را نمی‌توان با مقدار کمتری عوض کرد.

۱۲۲. پاسخ: ۱۰۵۸، ۱۳۵، ۱۸۰، ۱۱۷.

x_1 ، x_2 ، x_3 ، x_4 را عددهای مجهول، S را مجموع آن‌ها و a را رقم سمت چپ هر یک از آن‌ها فرض می‌کنیم. روشن است که

$$100a \leq x_i < 100(a+1) \quad (i=1, 2, 3, 4)$$

با استفاده از این نابرابری، به دست می‌آید:



شکل ۶۰

در شکل ۶۰ نشان دادیم که چگونه می‌توان در کشوری که ۱۰ شهر دارد، این خط‌های هوایی را برقرار کرد.

▽ گراف شکل ۶۰، اغلب به عنوان نمونه مورد استفاده قرار می‌گیرد و به نام «گراف پترسن» معروف است.

۱۲۴. $ABCDE$ را پنج ضلعی محدب مفروض به ضلع a ، K و

را وسط قطر بزرگتر آن AD می‌گیریم؛ در این صورت $\widehat{AKE} = \widehat{EKD} = 90^\circ$.

چون $AC \leq AD$ ، بنابراین $\widehat{BAC} > \widehat{DAE}$ و در نتیجه $\widehat{BAK} > \widehat{KAE}$. از

این جا معلوم می‌شود که، نقطه‌های A و B ، در یک طرف خط راست EK قرار

دارند. به همین ترتیب ثابت می‌شود که نقطه‌های C و D هم در یک طرف خط

EK واقع‌اند. از این‌جا، بلافاصله، به دست می‌آید: $\widehat{BKA} < 90^\circ$ و

$$\widehat{CKD} < 90^\circ$$

فرض می‌کنیم $\widehat{BKC} \geq 90^\circ$ ، در این صورت $BK < a$ و $CK < a$ و

از آن‌جا که $AK < a$ و $KD < a$ ، بنابراین $\widehat{AKB} > 60^\circ$ و $\widehat{CKD} > 60^\circ$ (ضلع بزرگتر مثلث، روبه‌رو به زاویه بزرگتر آن است)؛ ولی این ممکن نیست،

زیرا

$$\widehat{AKB} + \widehat{BKC} + \widehat{CKD} = 180^\circ$$

و در نتیجه $\widehat{BKC} < 90^\circ$. ثابت کردیم که نقطه K ، با شرط‌های مسأله سازگار

است.

(b) اگر روی امتداد پاره خط راست EK ، نقطه M را خیلی نزدیک

به نقطه K انتخاب کنیم، آن وقت، همه زاویه‌های AMB ، BMC ، CMD ،

DME و EMA ، حاده می‌شوند، بنابراین، نقطه M نمی‌تواند به هیچ کدام از تیم دایره‌های به قطر ضلع‌های پنج ضلعی متعلق باشد.

۱۲۵. اگر نفر اول، عدد ۱ — را جلوی x (با توان واحد) قرار دهد و در

حرکت بعدی خود، در جای خالی باقی مانده، گزینه عددی را بگذارد که

دومی در نوبت خود انتخاب کرده است، آن وقت به چند جمله‌ای

$$x^2 - ax^2 - x + a = (x^2 - 1)(x - a)$$

می‌رسد؛ و ریشه‌های این چندجمله‌ای، ۱ و -1 و a ، عددهایی درست‌اند.

۱۲۶. پاسخ: ۹۰ بازی.

فرض کنیم، بین هر سه تیم، دو تیم وجود داشته باشد که بازی خود را

انجام داده‌اند. تیم A را در نظر می‌گیریم که کمترین تعداد بازی‌ها را انجام

داده باشد، و تعداد این بازی‌ها را، k می‌گیریم. هر یک از k تیمی که با A

بازی کرده‌اند، و خود تیم A ، دست کم k بازی داشته‌اند. از $(19 - k)$ تیمی

که با A بازی نکرده‌اند، هر کدام با هر یک از $(18 - k)$ تیم باقی‌مانده

بازی داشته‌اند، در غیر این صورت، سه تیم پیدا می‌شود که، در بین آن‌ها،

هیچ دو تیمی با هم بازی نکرده‌اند. به این ترتیب، دو برابر همه بازی‌هایی

که باید تیم‌ها انجام داده باشند، دست کم برابر است با

$$k^2 + k + (19 - k)(18 - k) = 2k^2 - 36k + 18 \times 19 =$$

$$= 2(k - 9)^2 + 180 \geq 180$$

نمونه حالتی که، طبق شرط‌های مسأله، درست ۹۰ بازی انجام شده

باشد، به این ترتیب به دست می‌آید که ۲۰ تیم را به دو گروه ۱۰ تیمی

تقسیم کنیم، تیم‌های هر گروه، همه با هم بازی کرده‌اند، ولی هیچ تیمی از

گروه اول با هیچ تیمی از گروه دوم بازی نکرده است.

▽ اگر هر تیم را با یک نقطه نشان دهیم و هر دو تیمی را که با هم

بازی نکرده‌اند، به وسیله پاره خط راستی به هم وصل کنیم، یک گراف به

دست می‌آید که، با رعایت شرط‌های مسأله، گرافی بدون مثلث خواهد بود.

می‌توان ثابت کرد که، در چنین گرافی، اگر n رأس داشته باشد، حداکثر

$\left[\frac{n^2}{4}\right]$ یال وجود دارد.

راه حلی که در مساله انتخاب کرده ایم، شبیه اثبات «پیش قضیه مربوط به صلیب» است که در حل ۱۵۶ و ارزیابی ۲۴۶، C آورده ایم. ۱۲۷. نابرابری مساله را می توان این طور نوشت:

$$(n+1) \cos \frac{\pi}{n+1} - n \cos \frac{\pi}{n} > 1$$

$$n \left(\cos \frac{\pi}{n+1} - \cos \frac{\pi}{n} \right) > 1 - \cos \frac{\pi}{n+1} \quad \text{و یا}$$

یعنی

$$n \sin \frac{\pi}{2n(n+1)} \cdot \sin \frac{\pi(2n+1)}{2n(n+1)} > \sin^2 \frac{\pi}{2(n+1)}$$

و نابرابری اخیر درست است، زیرا

$$\sin \frac{\pi(2n+1)}{2n(n+1)} > \sin \frac{2\pi n}{2n(n+1)} = \sin \frac{\pi}{n+1} > \sin \frac{\pi}{2(n+1)}$$

$$n \sin \frac{\pi}{2n(n+1)} \geq \sin \frac{n\pi}{2n(n+1)} = \sin \frac{\pi}{2(n+1)}$$

در این جا، از نابرابری $|n \sin \alpha| \geq |\sin n\alpha|$ استفاده کرده ایم که به سادگی، و به کمک استقرا، ثابت می شود.

$$128. \max_{1 \leq i \leq n} a_i = a_{i_p} \text{ می گیریم. همچنین فرض می کنیم } a_{i_p} \text{ بزرگترین}$$

عدد در مخرج کسر با صورت a_{i_p} ؛ a_{i_p} بزرگترین عدد در مخرج کسر با صورت a_{i_p} ؛ و به طور کلی، a_{i_k} بزرگترین عدد در مخرج کسر با صورت $a_{i_{k-1}}$ باشد.

روشن است که، سر آخر، $a_{i_r} = a_{i_{r-1}} = \dots = a_{i_1}$ می رسیم.

اگر شماره های ۱، ۲، ...، n را روی محیط دایره ای قرار دهیم، آن

وقت i_k و i_{k+1} (همچنین i_r و i_1) یا در مجاورت هم و یا یک در میان قرار

می گیرند، یعنی $r \geq \frac{n}{4}$.

مجموع مفروض، بزرگتر است از

$$\frac{a_{i_1}}{2a_{i_2}} + \frac{a_{i_2}}{2a_{i_3}} + \dots + \frac{a_{i_r}}{2a_{i_1}} = \frac{1}{2} \left(\frac{a_{i_1}}{a_{i_2}} + \frac{a_{i_2}}{a_{i_3}} + \dots + \frac{a_{i_r}}{a_{i_1}} \right) = \frac{1}{2} S$$

اگر از نابرابری واسطه ها استفاده کنیم (ضمیمه ۸)، آن وقت

$$\frac{S}{r} \geq \sqrt[r]{\frac{a_{i_1}}{a_{i_2}} \cdot \frac{a_{i_2}}{a_{i_3}} \dots \frac{a_{i_r}}{a_{i_1}}} = 1$$

یعنی S از r کمتر نیست. بنابراین، مجموع مفروض، از $\frac{n}{4}$ بزرگتر است.

▽ می توان نابرابری قوی تری را ثابت کرد:

$$\frac{a_1}{a_2+a_3} + \frac{a_2}{a_3+a_4} + \dots + \frac{a_n}{a_1+a_2} \geq \frac{n}{2} \quad (*)$$

(این فرضیه را، شاپیرو، ریاضی دان امریکایی، در سال ۱۹۵۴ مطرح کرد).

در واقع، این نابرابری به تدریج برای عددهای فرد $n \leq 11$ و عددهای

زوج $n \leq 12$ ثابت شد، ولی برای عددهای زوج $n \geq 14$ و عددهای فرد

$n \geq 27$ نادرست از آب در نیامد (ابتدا، مثال های نقض کننده عددهای بزرگ

n به دست آمد). ارزیابی دقیق γ_n ، که باید در (*) به جای $\frac{n}{4}$ قرار داد،

برای هر n ، نامعلوم بود، ولی د. گت. ددین فلد، یکی از شرکت کنندگان موفق

در المپیاد، در سال ۱۹۶۹ موفق شد به نتیجه جالبی برسد: او بهترین ارزیابی

را برای γ_n پیدا کرد، که برای هر مقدار n درست است. این عدد،

$\gamma_n = \text{حد } \gamma$ عبارت است از عرض نقطه برخورد مماس مشترک نمودار

تابع‌های $y = e^{-x}$ و $y = \frac{2}{e^x + e^{-x}}$ با محور Oy : $\gamma \approx 0.1989$.

۱۲۹. فرض می‌کنیم، مساله حل شده است. چون خط راست CY بر خط راست AX عمود است، بنا بر این $BX \parallel CY$. K را نقطه برخورد پاره‌خط‌های راست AB و XY می‌گیریم. روشن است که دو مثلث KBX و CKY برابرند. در نتیجه $CK = KB$.

برای رسم، کافی است از وسط پاره‌خط راست CB ، عمودی بر خط راست AB رسم کنیم تا محیط دایره را در دو نقطه X و Y قطع کند.

۱۳۰. سه عدد x ، y و $\frac{1}{xy}$ می‌گیریم. باید داشته باشیم:

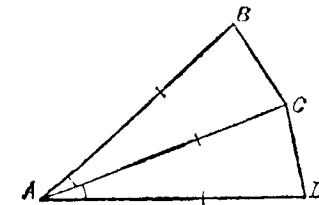
$$x + y + \frac{1}{xy} > \frac{1}{x} + \frac{1}{y} + xy$$

این نابرابری را، بعد از تبدیل‌های ساده، می‌توان این طور نوشت:

$$(x-1)(y-1)\left(\frac{1}{xy}-1\right) > 0$$

۱۳۱. پاسخ: حداکثر دو ضلع. نمونه‌ای از چندضلعی را که، دو ضلع آن برابر با قطر بزرگتر است، در شکل ۶۱ ببینید.

فرض می‌کنیم، تعداد چنین ضلع‌هایی، بیشتر از ۲ باشد. دو ضلع AB و CD از این ضلع‌ها را، که رأس مشترکی ندارند، در نظر می‌گیریم (این انتخاب ممکن است، زیرا وقتی چندضلعی دارای قطر باشد، مسلماً مثلث نیست). در این صورت، دست کم یکی از قطرهای AC یا BC ، طولی بزرگتر از



شکل ۶۱

طول ضلع AB دارد. اگر این قطرها، در نقطه K یکدیگر را قطع کرده باشند، آن وقت

$$AC + BD = AK + KC + BK + KD > AB + CD = 2AB$$

۱۳۲. از برهان خلف استفاده می‌کنیم. دو عدد را زیر هم می‌نویسیم و آن‌ها را، به صورت ستونی، با هم جمع می‌کنیم. چون آخرین رقم مجموع، عددی فرد است، بنا بر این، ضمن جمع نخستین رقم‌ها، مجموعی فرد به دست می‌آید. بنا بر این، از مرتبه قبل، واحدی به این مرتبه، ضمن جمع، منتقل نشده است. و این بد معنای آن است که، مجموع رقم‌ها در ستون دوم و، همچنین، مجموع رقم‌ها در ستون ماقبل آخر، از ۱۰ کمتر است. توجه می‌کنیم که از ستون دوم به مرتبه سوم هم، واحدی منتقل نشده است، زیرا این وضع تنها وقتی پیش می‌آید که مجموع رقم‌های مرتبه دوم برابر ۹ باشد و مجموع رقم‌های مرتبه اول بزرگتر از ۱۰؛ ولی در این صورت، در مرتبه دوم مجموع، رقم ۰ به دست می‌آید.

اکنون، دورقم آخر و دورقم اول را، از عدد مفروض حذف می‌کنیم و از همین استدلال، برای عدد ۱۳ رقمی، سپس ۹ رقمی و بالاخره ۵ رقمی تکرار می‌کنیم، به این نتیجه می‌رسیم که، به مرتبه وسط مجموع، واحدی از مرتبه قبل منتقل نشده است. ولی رقم‌های وسط دو جمله جمع، با هم برابرند و رقم وسط مجموع، عددی زوج می‌شود.

همان طور که از حل مساله دیده می‌شود، این حکم برای هر عددی که $1 + 2k$ رقم داشته باشد، درست است. مثال‌های ساده‌ای (مثل $21 + 12$)، $605 + 506$ ، ... نشان می‌دهند که حکم، برای عددهایی که با تعداد رقم‌های دیگری باشند، درست نیست.

۱۳۳. (b) مثلث‌ها را به دور نکت درمی‌آوریم، شبیه شکل ۶۲. a. تعداد مثلث‌های سیاه، به اندازه k ، از تعداد مثلث‌های سفید بیشتر است. بنا بر این تعداد مثلث‌های سفید برابر $\frac{1}{4}(k^2 - k)$ و تعداد مثلث‌های سیاه برابر

$$\widehat{ACH} > 45^\circ, \widehat{BCH} < 45^\circ, \widehat{CBA} > 45^\circ, BC < AC$$

بنابراین، میانۀ CP در درون مثلث ACH قرار می‌گیرد و با میانۀ BM در نقطۀ K متعلق به پاره خط راست OM برخورد دارد (O را نقطۀ برخورد BM ،

$$PK = \frac{1}{4}KC \text{ به توجه به } AD \text{ و } CH \text{ گرفته‌ایم). از این جا، با توجه به } OH:OC < \frac{1}{4}$$

$$OH:OC < \frac{1}{4}$$

ولی بنا به ویژگی نیمساز زاویۀ مثلث

$$OH:OC = AH:AC$$

یعنی $AH < \frac{1}{4}AC$ و، بنابراین $\widehat{ACH} < 30^\circ$. تناقض.

داه حل دوم. ثابت می‌کنیم. اگر داشته باشیم: $\widehat{BAC} < 45^\circ$. آن وقت $\widehat{ACB} > 90^\circ$. نقطۀ B_1 را روی خط راست AB طوری انتخاب می‌کنیم که $HB_1 = AH$. نیمساز زاویۀ AB_1C ، که آن را B_1F می‌نامیم، از نقطۀ O می‌گذرد (در این نقطه، دو نیمساز دیگر از زاویۀهای مثلث AB_1C به هم رسیده‌اند). بنا به ویژگی نیمساز

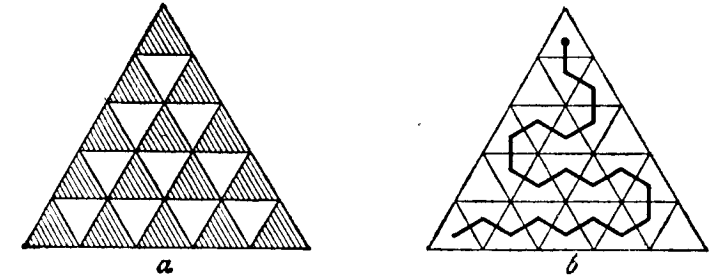
$$AF:FC = AB_1:B_1C$$

ولی $AB_1:B_1C > 1$ ، زیرا $\widehat{B_1AC} < 45^\circ$. به این ترتیب، نقطۀ B_1 بین

نقطه‌های A و B قرار می‌گیرد و، بنابراین $\widehat{B_1CA} > 90^\circ$.

۱۳۶. همهٔ زوج رقم‌های ممکن را، که در عددهای مختلف در یک مرتبه واقع‌اند، در نظر می‌گیریم، چون زوج عددها ۱۰، بنابراین همهٔ این گونه زوج‌ها برای $n \geq 10$ است. در ضمن، زوج رقم‌های مختلف، یعنی زوج (۱، ۲) در هر ردیف از ۴ کمتر و از ۶ بیشتر نیست، به نحوی که، از بین $10n$ زوج انتخابی، تعداد کل زوج‌های (۲، ۱)، بین $4n$ و $6n$ قرار دارد.

از طرف دیگر، چون هر دو عدد، در m مرتبه خود بر هم منطبق‌اند، بنابراین



شکل ۶۲

در «زنجیره»، رنگت مثلث‌ها، یک در میان سیاه و یک در میان سفید است. بنابراین تعداد مثلث‌های سیاه «زنجیره» نمی‌تواند از $\frac{1}{4}(k^2 - k) + 1$ بیشتر باشد. در نتیجه، تعداد کل مثلث‌های «زنجیره»، از

$$\frac{1}{4}(k^2 - k) + \frac{1}{4}(k^2 - k) + 1 = k^2 - k + 1$$

بیشتر نیست. در شکل ۶۲، نمونهٔ «زنجیره‌ای» داده شده است که، در آن، تعداد مثلث‌ها، درست برابر $k^2 - k + 1$ است.

۱۳۴. طول پاره خط‌های راست مفروض را $a \leq b \leq c \leq d \leq e$ می‌گیریم. فرض می‌کنیم، با هیچ سه پاره خط راستی از این پنج پاره خط، نتوان مثلی با زاویۀهای حاده ساخت. در هر مثلی که یکی از زاویۀهای آن حاده نباشد، مجذور ضلع بزرگتر، از مجموع مجذورهای دو ضلع دیگر بزرگتر و یا با آن برابر است. بنابراین، باید داشته باشیم:

$$c^2 \geq a^2 + b^2, d^2 \geq c^2 + b^2, e^2 \geq d^2 + c^2$$

که اگر آن‌ها را با هم جمع کنیم، به دست می‌آید:

$$e^2 \geq a^2 + 2b^2 + c^2 \geq a^2 + 2ab + b^2$$

یعنی $e \geq a + b$ ، یعنی از پاره خط‌های راست a, b نمی‌توان مثلی تشکیل داد.

۱۳۵. داه حل اول. فرض می‌کنیم $\widehat{BAC} < 45^\circ$ ، در این صورت

هر دو عدد، $m - n$ زوج $(2, 1)$ می‌دهد. به این ترتیب، تعداد کل چنین زوج‌هایی برابر است با $10(n - m)$ در نتیجه

$$2n \leq 10(n - m) \leq 6n \Rightarrow \frac{2}{5} \leq \frac{m}{n} \leq \frac{3}{5}$$

۱۳۷. ثابت می‌کنیم، از بین هر ۱۹۹ عدد درست، می‌توان ۱۰۰ عدد طوری انتخاب کرد که، مجموع آن‌ها، بر ۱۰۰ بخش پذیر باشد. در ضمن تنها از این دو گزاره درست استفاده می‌کنیم: بین هر سه عدد، یا دو عدد زوج وجود دارد و یا دو عدد فرد (که روشن است)؛ از این هر ۹ عدد درست، می‌توان ۵ عدد طوری انتخاب کرد که، مجموع آن‌ها، بر ۵ بخش پذیر باشد.

گزاره کلی زیر را P_m می‌نامیم: از بین هر $2m - 1$ عدد درست می‌توان m عدد طوری انتخاب کرد که، مجموع آن‌ها بر m بخش پذیر باشد (به زبان دیگر، می‌توان m عدد انتخاب کرد که، واسطه حسابی آن‌ها، عددی درست باشد). ابتدا، یک پیش قضیه ثابت می‌کنیم.

پیش قضیه ۱. اگر گزاره‌های P_k و P_m درست باشند، گزاره P_{km} هم درست است.

فرض کنید $1 - km$ عدد درست مفروض باشد. از این عددها، با توجه به P_m ، می‌توان m عدد را، با واسطه حسابی درست، انتخاب کرد؛ از بقیه $1 - km - m$ عدد، دوباره m عدد از این گونه جدا می‌کنیم؛ سپس از بقیه $1 - km - 2m$ عدد، باز هم یک گروه m عددی با همین ویژگی در نظر می‌گیریم و غیره. وقتی که این روند انتخاب را $1 - km - 2k$ بار تکرار کنیم، به تعداد $1 - m = m - (2k - 1)m - 1$ عدد باقی می‌ماند، یعنی می‌توانیم $1 - km - 2k$ بار از P_m استفاده کنیم. اکنون واسطه‌های حسابی را در $1 - km - 2k$ گروه انتخابی پیدا می‌کنیم (این واسطه‌ها، عددهایی درست‌اند). از بین این واسطه‌ها، با توجه به P_k ، می‌توان k عدد انتخاب کرد، به نحوی که مجموع آن‌ها بر k بخش پذیر باشد. در این صورت روشن است که، مجموع km عدد از عددهای اولیه که در k گروه وارد شده‌اند، بر km بخش پذیر می‌شود، پیش-قضیه ۱ ثابت شد.

چون $100 = 2 \times 2 \times 5 \times 5$ ، با توجه به P_2 و P_5 سه بار استفاده از پیش قضیه ۱، درستی P_{100} روشن می‌شود. تنها این مانده است که P_5 را مورد آزمایش قرار دهیم.

باقی مانده‌های تقسیم ۹ عدد مفروض بر ۵ را r_1, r_2, \dots, r_9 می‌نامیم:

$$0 \leq r_1 \leq r_2 \leq \dots \leq r_9 \leq 4$$

حالتی که بین r_i ها $(1 \leq i \leq 9)$ ، ۵ عدد برابر وجود داشته باشد، یا حالتی که بین آن‌ها، سه عدد برابر پیدا نشود (و بنا بر این، به همه باقی مانده‌های ۰، ۱، ۲، ۳، و ۴ برخورد کنیم). روشن است. دو حالت می‌ماند: وقتی که باقی مانده‌ای در بین r_i ها، ۳ بار و یا ۴ بار تکرار شده باشد. در ضمن می‌توان این باقی مانده را $r = 0$ گرفت؛

اگر $r \neq 0$ ، می‌توان به هر ۹ عدد، $5 - r$ را اضافه کرد (با این اضافه کردن، شرط «مجموع ۵ عدد باید ۵ بخش پذیر باشد»، تغییر نمی‌کند).

اگر پیش قضیه مفید زیر را در نظر داشته باشیم، می‌توانیم خود را از آزمایش حالت‌های مختلف خلاص کنیم.

پیش قضیه ۲. از هر q عدد درست، می‌توان چند عدد انتخاب کرد، به نحوی که مجموع آن‌ها بر q بخش پذیر باشد.

(برای اثبات پیش قضیه درباره عددهای a_1, a_2, \dots, a_q ، کافی است q عدد زیر را در نظر بگیریم:

$$a_1, a_1 + a_2, a_1 + a_2 + a_3, \dots, a_1 + a_2 + \dots + a_q$$

این عددها، در تقسیم بر q ، یا به باقی مانده‌های مختلف می‌رسند و یا دست کم دو تا از آن‌ها، باقی مانده‌های برابر پیدا می‌کنند که، در این صورت، تفاضل آن‌ها بر q بخش پذیر می‌شود.)

بنا بر پیش قضیه ۲، از بین ۵ باقی مانده r_i که مخالف صفرند، می‌توان چند عدد (از ۲ تا ۵) انتخاب کرد، به نحوی که مجموع آن‌ها بر ۵ بخش پذیر باشد و، سپس، به تعدادی که لازم است، از باقی مانده‌های صفر به آن‌ها اضافه کرد. ∇ می‌توان ثابت کرد، گزاره P_n ، برای هر عدد طبیعی n درست است

(با توجه به پیش قضیه ۱، کافی است آن را برای عددهای اول n ثابت کنیم).
 بررسی مسأله زیر می تواند جالب باشد: حداقل عدد طبیعی $F_d(n)$ چند برابر باشد تا از هر $F_d(n)$ بردار با مختصات درست بتوان چند بردار انتخاب کرد، به نحوی که در مجموع بردارها، همه مختصات، بر n بخش پذیر باشند؟ (در این جا، n عددی طبیعی و d ، تعداد بعدهاست: $d=2$ برای بردارهای واقع بر صفحه، $d=3$ برای بردارهای واقع در فضا.)

۱۳۸. راه حل اول. P را نقطه تماس دایره محاطی با ضلع BC و PQ را قطر دایره محاطی مثلث می گیریم. در حل مسأله ۱۱۲ ثابت کردیم $MO \parallel AQ$ ، بنا بر این متوازی الاضلاع است، به نحوی که $OQ = AE = r$

راه حل دوم. a, b, c را، به ترتیب، طول ضلع های مقابل به راس های A, B, C از مثلث می گیریم. می توان فرض کرد $b > c$. از نقطه O عمود OP را بر BC رسم می کنیم. در این صورت

$$MC = \frac{a}{2}; PC = \frac{a+b-c}{2}; HC = \frac{a^2 + b^2 - c^2}{2a}$$

$$\frac{EH}{OP} = \frac{HM}{PM} = \frac{HC - MC}{PC - MC} = \frac{2HC - a}{b - a} = \frac{a^2 + b^2 - c^2 - a^2}{a(b - c)} = \frac{b + c}{a}$$

$$\frac{AE}{r} = \frac{AH}{r} = \frac{EH}{r} = \frac{a + b + c}{a} = \frac{b + c}{a} = 1$$

که از آن جا $AE = r$

۱۳۹. اگر عدد k بصورت $k = a_n a_{n-1} \dots a_1$ و عدد m شامل $m > n$ رقم برابر ۹ باشد: $1 = 10^m - \underbrace{99 \dots 9}_m$. آن وقت

$$kt = \underbrace{a_n a_{n-1} \dots (a_0 - 1) 99 \dots 9 (9 - a_n) (9 - a_{n-1}) \dots (9 - a_1) (10 - a_0)}_m$$

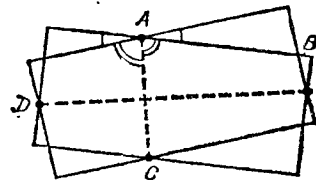
که مجموع رقم های آن با مجموع رقم های عدد t یکی است: این مجموع برابر است با $9m$.

۱۴۰. a و b را طول ضلع های هر يك از مستطیل ها می گیریم. اگر محیط های دو مستطیل در هشت نقطه یکدیگر را قطع کرده باشند، آن وقت روی هر ضلع هر مستطیل، دو نقطه برخورد با دو ضلع مجاور مستطیل دیگر وجود دارد. اگر روی ضلعی، کمتر از دو نقطه برخورد وجود داشته باشد، آن وقت روی هم، کمتر از هشت نقطه برخورد به دست می آید. بنا بر این، ضلع یکی از مستطیل ها، نمی تواند دو ضلع موازی را در دیگری قطع کند.

A و C را نقطه های برخورد ضلع های به طول a ، B و D را نقطه های برخورد ضلع های به طول b می گیریم (شکل ۶۳). به سادگی ثابت می شود که پاره خط های راست AC و BD ، نیمسازهای بین ضلع هایی هستند که، به ترتیب، از A و C ، و B و D گذاشته اند. بنا بر این $AC \perp BD$. مساحت S از چهار ضلعی $ABCD$ ، برابر است با $AC \cdot BD$ و چون $AC \geq b$ و $BD \geq a$ ، بنا بر این $S \geq \frac{1}{4} ab$

۱۴۱. ثابت می کنیم، هر عددی از این گونه، بر 11111 بخش پذیر است و، بنا بر این، نمی تواند توانی از 2 باشد. برای این منظور، توجه می کنیم که 10^5 ، ضمن تقسیم بر 11111 ، به باقی مانده واحد می رسد، زیرا $10^5 = 9 \times 11111 + 1$. بنا بر این، هر يك از عددهای حاصل، در تقسیم بر 11111 ، به همان باقی مانده ای می رسد که در تقسیم مجموع همه عددهای واقع بر کارت، به آن می رسیم.

در ضمن، به سادگی ثابت می شود که، هر يك از این گونه عددها، بر 9



شکل ۶۳

بخش پذیر است. ولی مجموع عددهای واقع برکارت‌ها، برابر است با

$$\frac{11111+99999}{2}(10^5-1)$$

یعنی، این مجموع، بر ۱۱۱۱۱ بخش پذیر است.

۱۴۲. $D_1 = \{0, 1, \dots, 9\}$ را مجموعه‌ده رقم، $A_1 = \{0, 2, \dots, 8\}$ را مجموعه زوج و $B_1 = \{1, 3, \dots, 9\}$ را مجموعه فرد می‌گیریم. به طور کلی، برای هر n ، D_n را به معنای مجموعه همه عددهایی که تعداد رقم‌هایشان از n تجاوز نمی‌کند، و A_n و B_n را، زیرمجموعه‌های از D_n می‌گیریم که، به ترتیب، مجموع رقم‌های هر یک از عضوهای آن‌ها، زوج و فرد باشد ($D_n = A_n \cup B_n$). اگر عددی را هم که از صفرها تشکیل شده است به حساب آوریم، A_n و B_n به تعداد $5 \times 10^{n-1}$ عضو خواهند داشت. مجموع همه عضوهای x از مجموعه X را $\sum x$ با شرط $x \in X$ می‌نامیم. باید ثابت کنیم، $\sum a^k$ با شرط $a \in A_n$ ، برابر است با $\sum b^k$ با شرط $b \in B_n$ ؛ این مجموع را با $S_n^{(k)}$ نشان می‌دهیم.

به ازای $n=2$ ، $k=1$ ، حکم مسأله، منجر به برابری روشن زیر می‌شود (که در آن، $a \in A_1$ ، $p \in A_1$ ، $b \in B_1$ ، $q \in B_1$):

$$\begin{aligned} \sum(10a+p) + \sum(10b+q) &= \sum(10a+q) + \sum(10b+p) \\ \text{هر دو طرف برابرند بسا } 5(\sum 10d + \sum r) &\text{ بسه شرط } r \in D_1, d \in D_1 \\ \text{زیرا هر یک از رقم‌های } a, b, p, q, &\text{ در این یا آن مجموع، ۵ بار تکرار شده است.} \end{aligned}$$

عمل‌های بعدی را روی نمونه $n=3$ روشن می‌کنیم. مجموع را به شرط $a \in A_1, p \in A_1, b \in B_1, q \in B_1$ (و در ضمن $d \in D_1, r \in D_1$) پیدا می‌کنیم:

$$\begin{aligned} \sum(10a+p)^2 + \sum(10b+q)^2 &= 50 \times 10^2 (\sum a^2 + \sum b^2) + \\ &+ 2 \times 10 (\sum a \cdot p + \sum b \cdot q) + 5 \sum p^2 + 5 \sum q^2 = \\ &= 10^2 \sum d^2 + 2 \times 10 (\sum a \cdot \sum p + \sum b \cdot \sum q) + 5 \sum r^2 = \end{aligned}$$

$$= 5 \times 10^2 \sum d^2 + 20 \sum d S_3^{(1)} + 5 \sum r^2$$

به همین ترتیب، مجموع $\sum(10b+p)^2 + \sum(10a+q)^2$ را هم، می‌توان تبدیل کرد. در این جا، از اتحادهای زیر استفاده کرده‌ایم:

$$(x+y)^2 = x^2 + 2xy + y^2, \sum uv = \sum u \cdot \sum v$$

(در دومی، مجموع نسبت به همه $u \in U$ و $v \in V$).

اکنون، حکم کلی را، با استقرای روی n ، ثابت می‌کنیم. در ضمن، از دستوره‌های زیر هم، استفاده خواهیم کرد:

$$\begin{aligned} (x+y)^k &= x^k + C_k^1 x^{k-1} y + C_k^2 x^{k-2} y^2 + \dots + C_k^{k-1} x y^{k-1} + \\ &+ y^k = x^k + \sum C_k^l x^{k-l} y^l + y^k; \\ \sum uv &= \sum u \sum v \end{aligned}$$

(در دستوره اول، مقدارهای C_k^l ضریب‌های دو جمله‌ای ($1 \leq l < k-1$)، در استدلال‌ها، نقشی ندارند). فرض می‌کنیم، برای عددهای n رقمی و هر $1 < k < n$ ، برابری لازم ثابت شده باشد:

$$\sum p^j = \sum q^j = S_n^{(j)}, (p \in A_n, q \in B_n)$$

مجموع توان‌های k ام عددها از A_{n+1} را ($k < n+1$) تبدیل می‌کنیم (در این جا، مجموع‌ها را با شرط $a \in A_1, p \in A_1, b \in B_1, q \in B_1, d \in D_1, r \in D_1$ و $1 \leq j < k-1$ در نظر گرفته‌ایم):

$$\begin{aligned} \sum(10a+p)^k + \sum(10b+q)^k &= \\ &= 5 \times 10^{n-1} \times 10^k (\sum a^k + \sum b^k) + \\ &+ \sum C_k^j \cdot 10^{k-j} (\sum a^{k-j} p^j + \sum b^{k-j} q^j) + 5 (\sum p^k + \sum q^k) = \\ &= 5 \times 10^{n+k-1} \sum d^k + \sum_j C_k^j \cdot 10^{k-j} S_n^{(j)} \sum d^{k-j} + 5 \sum r^k \end{aligned}$$

روشن است که مجموع توان‌های k ام عددها از B_{n+1} هم، با همین عبارت بیان می‌شود (تنها باید جای حرف‌های p و q را عوض کرد).

▽ اتحادهای مشابهی. برای هر دستگاه عددنویسی به مبنای d درست است، به شرطی که d عددی زوج باشد؛ مثلاً در عددنویسی به مبنای ۲، که برای عددهای نه چندان بزرگ m می توان به طور مستقیم مورد تحقیق قرار داد.

۱۴۳. دستگاه بردارهای واحد $\mathbf{e}_1, \mathbf{e}_2, \dots, \mathbf{e}_m$ (با مبدا مشترک O) را متقارن می گویند. وقتی که ضمن دوران به اندازه زاویه $\frac{2k\pi}{m}$ (به ازای مقداری مثل $k < m$) برخورد منطبق شود. مجموع بردارهای چنین دستگاهی به روشنی، برابره است، زیرا این مجموع، ضمن دوران به اندازه زاویه $\frac{2k\pi}{m} < 2\pi$ تغییر نمی کند.

در حالت خاص، بردارهایی که به رأس های متوالی یک m ضلعی منتظم منتهی می شوند، دستگاهی متقارن را تشکیل می دهند که، در آن، $k = 1$.

همه بردارهای واحد به مبدا O را در معرض تبدیل $D^k \mathbf{e} \rightarrow \mathbf{e}$ قرار می دهیم (D ، مضرب دوران است): زاویه بین جهت اولیه Ox با e را l برابر می کنیم و بردار حاصل را با $D^k \mathbf{e}$ نشان می دهیم. ضمن تبدیل D^k ، هر دستگاه متقارن به دستگاهی متقارن منجر می شود. تنها با این شرط که kl بر m بخش پذیر نباشد (زاویه $\frac{2k\pi}{n}$ بین بردارهای مجاور \mathbf{e}_i و $l \cdot \mathbf{e}_{i+k}$ برابر می شود؛ اگر

از $\frac{2kl\pi}{m}$ مضرب 2π را کم کنیم، معلوم می شود که، زاویه بین $D^k \mathbf{e}_i$ و $D^k \mathbf{e}_{i+k}$ برابر $\frac{2\pi}{m}$ است که، در آن، r عبارت است از باقی مانده تقسیم kl بر m).

در حالتی هم که kl بر m بخش پذیر باشد (و در حالت خاص، به ازای $k = m$)، آن وقت همه بردارهای $D^k \mathbf{e}_i$ در یک بردار متحد می شوند.

بعد از این نکته ها، به حل مساله می پردازیم. فرض می کنیم توانسته باشیم رأس های یک m ضلعی منتظم را، با چند رنگ، طوری رنگ کرده باشیم که رأس های هم رنگ، تشکیل چند ضلعی های منتظم داده باشند. l ضلعی، q_1

ضلعی، q_2 ضلعی، \dots ، q_s ضلعی، که در آن ها $q_1 < q_2 < \dots < q_s < l$. دستگاه متقارن بردارهایی را که به رأس های n ضلعی رسیده اند، می توان به $s+1$ دستگاه متقارن شامل l, q_1, q_2, \dots, q_s بردار تقسیم کرد. تا این جا، هیچ تناقضی وجود ندارد: مجموع بردارهای هر یک از این دستگاه ها و، همچنین، مجموع کل آن ها، برابر بردار \mathbf{o} است ولی اگر همه بردارها را در معرض تبدیل با مضرب دوران l قرار دهیم، تناقض پدید می آید: همه l بردار دستگاه اول در یک بردار متحد می شوند، به نحوی که مجموع آن ها، مخالف \mathbf{o} است، و بقیه دستگاه ها - از q_1 بردار ($s = 1, 2, \dots$) و از همه n بردار - منتظم باقی می مانند، چون زاویه بین بردارهای مجاور در آن ها

$$\frac{2\pi l}{q_1} < 2\pi, \frac{2\pi l}{q_2} < 2\pi, \dots, \frac{2\pi l}{n} < 2\pi$$

به نحوی که، مجموع در آن ها، برابر \mathbf{o} باقی می ماند.

▽ اگر بردارها را همچون عددهای مختلط در نظر بگیریم، اندیشه «دوران با ضرب l » یا «دوران از مرتبه l » روشن تر می شود: تبدیل D^k ، خیلی ساده، یعنی به توان رساندن $z \rightarrow z^l$ از عدد مختلط z ، $|z| = 1$ ، دستگاه متقارن بردارها، عبارت است از تصاعد هندسی $u, uz, uz^2, \dots, uz^{n-1}$ که، در آن، $|u| = 1$ و z برابر است با یکی از ریشه های n ام واحد ($z \neq 1$)؛ اگر آوند (آرگومان) عدد z - زاویه بین بردارهای مجاور دستگاه - برابر $\frac{2k\pi}{m}$ باشد،

آن وقت می توان ثابت کرد که، چنین دستگاهی، شامل بردارهایی است که به رأس های $\frac{m}{d}$ ضلعی منتظم می روند که، در آن، d مقسوم علیه m است، $d < m$ ؛ در ضمن به هر رأس، d بردار می رود.

حل این مساله نشان می دهد که، هر تقسیمی از مجموعه عددهای درست \mathbf{z} را به چند تصاعد حسابی غیر متقاطع (که از هر دو طرف نامتناهی باشند)، تنها با این روش می توان انجام داد: \mathbf{z} به l تصاعد با قدر نسبت های برابر d تقسیم می شود، سپس ممکن است یکی (یا چند تا) از آن ها به تصاعدهایی

با قدر نسبت‌های برابر تقسیم شود و غیره. کاربرد عددهای مختلط در حل مساله‌های نظری مربوط به عددها را، «روش مجموع‌های مثلثاتی» گویند.

۱۴۴. این مساله را می‌توان با روش استقرای حل کرد. به ازای $n=1$ باید عدد ۲ را انتخاب کرد. اگر $A=2^n \cdot B$ ، عددی n رقمی و بر 2^n بخش پذیر باشد، آن وقت، یکی از عددهای $A+2 \times 10^n$ یا $A+1 \times 10^n$ بر 2^{n+1} بخش پذیر خواهد بود، زیرا یکی از عددهای $B+5^n$ یا $B+2 \times 5^n$ زوج است. ∇ برای هر n ، تنها یک جواب به دست می‌آید؛ از این گذشته، همه عددهای n رقمی، که از رقم‌های ۱ و ۲ تشکیل شده باشند، ضمن تقسیم بر n ، به باقی مانده‌های مختلف می‌رسند. با استفاده از این نکته، می‌توان راه حل دیگری برای مساله پیدا کرد.

۱۴۵. مساله (a) نتیجه‌ای از مساله (b) است، بنابراین تنها به حل این مساله کلی ترمی پردازیم.

نقطه‌های D_k و B_k از خط راست OA_k به یک فاصله‌اند. بنابراین $S_{OA_k B_k} = S_{OA_k D_k}$. اگر n برابری از این گونه را در هم ضرب کنیم و هر مساحت را به صورت ضرب قاعده $A_k B_k$ یا $A_k D_k$ در نصف ارتفاع متناظر بنویسیم (این ارتفاع، برابر است با فاصله از نقطه O تا ضلع چندضلعی)، به برابری مورد نظر می‌رسیم: طول ارتفاع‌ها، در حاصل ضرب‌ها، حذف می‌شوند.

∇ در مساله (a)، با توجه به شرط‌ها، نیروهای $A_k C_k$ که در نقطه‌های A_k بر صفحه سخت $A_1 A_2 A_3$ اثر می‌کنند، یکدیگر را خنثا می‌کنند، زیرا صفحه بی‌حرکت می‌ماند؛ مجموع نیروها (به عنوان بردارها) و مجموع گشتاورهای آن‌ها برابر صفر است، زیرا گشتاور هر یک از این نیروها، نسبت به نقطه O ، برابر صفر است.

برای مثلث، برابری حاصل ضرب‌هایی که در صورت مساله آمده، نه تنها لازم، بلکه در ضمن کافی است تا خط‌های راست $A_k C_k$ در یک نقطه O به هم برسند.

۱۴۶. پاسخ: ۱۱ پرسش.

اگر همه ۱۰ عدد واقع در یک سطر، و یکی از عددهای واقع در سطر

دیگر را بدانیم، به سادگی می‌توانیم بقیه عددها را بازسازی کنیم. ولی اگر تنها از ۱۰ عدد اطلاع داشته باشیم، نمی‌توانیم همه عددها را، به صورت یک ارزشی، پیدا کنیم؛ از یک طرف، در هر ستون، باید دست کم یکی از عددها را بشناسیم، در غیر این صورت می‌توان به هر دو عدد این ستون، عدد دلخواه x را اضافه کرد، بدون این که شرط مساله به هم بخورد؛ از طرف دیگر، دست کم در یکی از ستون‌ها باید هر دو عدد را بشناسیم، زیرا در غیر این صورت، می‌توان عدد دلخواه y را، به عنوان تفاضل دو عدد در هر ستون در نظر گرفت و، سپس، جدول را ساخت.

(b) اثبات را می‌توان با روش استقرای ریاضی داد. $n \geq m$ می‌گیریم و استقرا را نسبت به $m+n$ می‌دهیم. اگر در یکی از n ستون، همه عددها مجهول باشند، آن وقت روشن است که، عددها، به صورت یک ارزشی به دست نمی‌آیند. و اگر در هر یک از n ستون عددهای معلومی وجود داشته باشد، آن وقت (با توجه به این که تعداد کل $m+n-2$ عدد معلوم، از $2n-2$ تجاوز نمی‌کند)، ستونی پیدا می‌شود که در آن، تنها یک عدد معلوم است، و بقیه جدول $(n-1) \times m$ ، که بعد از حذف این ستون باقی می‌ماند، تنها شامل $2-(n-1)m$ عدد معلوم است و، بنا بر فرض استقرا، نمی‌توان جدول را به صورت یک ارزشی بازسازی کرد.

∇ ارزیابی مربوط به این مساله، دقیق است: جدول به صورت

$$\begin{array}{cccc} x_1 & x_2 & \dots & x_n \\ x_1 + y_1 & x_2 + y_1 & \dots & x_n + y_1 \\ \dots & \dots & \dots & \dots \\ x_1 + y_{m-1} & x_2 + y_{m-1} & \dots & x_n + y_{m-1} \end{array} \quad (*)$$

رامی‌توان، به وسیله $m+n-1$ عدد واقع در سطر اول و ستون اول، بازسازی کرد. پاسخ به پرسش ظریف تر - چه انتخاب I از عددهای جدول $m \times n$ برای این منظور مناسب است - می‌تواند به زبان نظریه گراف‌ها، تنظیم شود (ضمیمه ۱۱).

«گراف دوبخشی» Γ را با $m+n$ رأس $A_1, \dots, A_m, B_1, \dots, B_n$ در نظر می‌گیریم که، در آن، برخی از رأس‌های A_i با برخی از رأس‌های B_j مربوط باشد؛ به این ترتیب، مجموعه‌ای مثل $\tilde{\Gamma}$ از زوج‌های (i, j) - عضو-های جدول $m \times n$ ، بدست می‌آید ($i = 1, \dots, m; j = 1, \dots, n$). برای این‌که، به وسیله این انتخاب $\tilde{\Gamma}$ از زوج‌عده‌ها، بتوان تمامی جدول را به صورت یک ارزشی بازسازی کرد، لازم و کافی است که، گراف Γ ، مرتبط باشد. در درخت با $m+n$ رأس، با توجه به مسأله ۸، باید درست $m+n-1$ یال وجود داشته باشد. اگر Γ ، یک درخت باشد، آن وقت هر گروه $m+n-1$ عددی را، که خانه‌های $(i, j) \in \tilde{\Gamma}$ را اشغال کرده‌اند، می‌توان طوری تکمیل کرد که، جدول حاصل، شکل مورد نظر (*) را داشته باشد.

۱۴۷. شکل‌های F_1 و F_2 را که از شکل مفروض F (اجتماع دایره‌ها) با انتقال به اندازه بردارهای به طول $0/001$ و با زاویه 60 درجه بین آن‌ها، به دست آمده‌اند، در نظر می‌گیریم.

سه شکل F, F_1 و F_2 ، یکدیگر را نمی‌پوشانند و در درون مربع به ضلع $1/001$ قرار دارند. بنا بر این، مساحت S هر یک از آن‌ها، کمتر است از

$$\frac{1}{4}(1/001)^2 < 0/34$$

∇ به همین ترتیب، برای مسأله فضایی مشابه این مسأله، می‌توان

$$\text{ارزیابی } 0/26 < \frac{1}{4}(1/001)^2 \text{ را به دست آورد.}$$

در روی صفحه، می‌توان ارزیابی را دقیق‌تر کرد و، مثلاً، ثابت کرد که

$$S < 0/287$$

۱۴۸. مقدار آب ظرف‌های A, B و C را، به ترتیب، a, b و c لیتر می‌گیریم ($0 < a \leq b \leq c$). کافی است با چندبار جا به جایی آب ظرف‌ها، به آن‌جا برسیم که، در یکی از ظرف‌ها، کمتر از a لیتر آب وجود داشته باشد (با تکرار این روند، می‌توانیم مقدار آب را در یکی از ظرف‌ها، مرتباً کاهش

دهیم تا به صفر برسد). از تقسیم b بر a به دست می‌آید: $b = ad + r$ ($0 < r < a$). از B و C در ظرف A آب می‌ریزیم (در $A, 2^k a, 2^{k-1} a, \dots, 2^2 a, 2^1 a, 2^0 a$ لیتر آب خواهد بود) تا جایی که از B به اندازه da لیتر آب خارج شده باشد؛ در نتیجه، در B به اندازه $r < a$ لیتر باقی می‌ماند. این عمل ممکن است، زیرا هر عدد طبیعی را می‌توان (و در ضمن تنها به یک طریق) به صورت مجموع بعضی از عده‌های $2^0, 2^1, 2^2, \dots, 2^k, \dots$ نوشت؛ بخش‌های متناظر $2^k a$ ، باید از B و بقیه آن از C ریخته شود.

در ضمن، مقدار آبی که از C ریخته می‌شود، باید از مقدار آبی که از B ریخته می‌شود، بیشتر نباشد. به این ترتیب، آبی که در C وجود دارد، کفایت می‌کند.

۱۴۹. این شرط که ریشه‌های سه جمله‌ای‌های

$$f_1(x) = x^2 + p_1x + q_1 \text{ و } f_2(x) = x^2 + p_2x + q_2$$

حقیقی‌اند و، نسبت به هم، به طور متناوب قرار دارند. هم‌ارز با این است که نمودارهای $y = f_1(x)$ و $y = f_2(x)$ در نقطه (y_0, x_0) واقع در زیر محور طول، یکدیگر را قطع کرده باشند: $y_0 < 0$. اگر معادله $f_1(x) = f_2(x)$ را حل کنیم، به دست می‌آید:

$$x_0 = \frac{q_2 - q_1}{p_2 - p_1} \text{ و } y_0 = R(p_1 - p_2)^2$$

که در آن داریم:

$$R = (q_1 - q_2)^2 + (p_1 - p_2)(p_1q_2 - p_2q_1)$$

∇ عبارت R ، تنها وقتی برابر صفر می‌شود که f_1 و f_2 ریشه‌های مشترک (و احتمالاً مختلف) داشته باشند. این چند جمله‌ای شامل ضریب‌های دو چند جمله‌ای f_1 و f_2 را (از هر درجه‌ای)، «برآیند» آن‌ها گویند.

۱۵۰. اگر صفحه‌ها موازی باشند، درستی حکم روشن است. اکنون فرض می‌کنیم، دو صفحه، موازی نباشند در این صورت، تصویر جسم بر خط راست l ، فصل مشترک دو صفحه را می‌توان به عنوان تصویر هر یک از تصویرها؛

جسم بر این یا آن صفحه، بر خط راست l به دست آورد. (همه جا، صحبت بر سر تصویر قائم است: مجموعه پای عمودها.) ولی تصویر هر دایره بر خط راستی واقع در صفحه خودش، برابر است با قطر دایره.

۱۵۱. در نتیجه هر عمل، مجموع S از حاصل ضرب‌های دو به دو $ab+bc+cd$ مجاور افزایش می‌یابد. در واقع، در این مجموع، $ac+cb+bd$ به $(a-d)(b-c) < 0$ تبدیل می‌شود و اگر $ab+cd < ac+bd$ ولی، مجموع S ، به تعداد محدودی می‌تواند مقدارهای مختلف را اختیار کند (ضمیمه ۱۳).

۱۵۲. مساله کلی (b) را حل می‌کنیم. فرض کنید، خط راست l محیط چند ضلعی محیطی را در دو نقطه R و Q قطع و این محیط را به دو بخش برابر تقسیم کند. در این صورت، اگر O را مرکز دایره محاطی چند ضلعی بگیریم، خط شکسته شامل پاره‌خط‌های راست OR و OQ ، مساحت چند ضلعی را به دو بخش برابر تقسیم خواهد کرد (این مطلب، شبیه دستور $S = \frac{1}{2} Pr$ برای مساحت یک چند ضلعی محیطی به محیط P ثابت می‌شود). ولی می‌دانیم، خط راست PQ هم، مساحت چند ضلعی را نصف می‌کند، بنا بر این نقطه O بر خط راست PQ واقع است.

∇ حل این مساله جالب است که: برای مثلث و برای n ضلعی محیطی، چند خط راست از این گونه وجود دارد؟

۱۵۳. حکم مساله، برای n عدد، با شرط $n \geq 4$ ، درست است و با برهان خلف ثابت می‌شود. فرض می‌کنیم، مجموع یا تفاضل هر دو عدد دلخواه از عددهای مختلف

$$a_1 < a_2 < \dots < a_{n-1} < a_n$$

بین بقیه $n-2$ عدد وجود داشته باشد. چون $a_n + a_i > a_n$ بنا بر این باید داشته باشیم: $(1 \leq i \leq n-1) a_n - a_i = a_{n-i}$. وقتی $n = 2k$ عددی زوج باشد، به دست می‌آید: $a_n - a_k = a_k$ ، یعنی تفاضل a_n و a_k در بین بقیه عددها وجود ندارد. وقتی $n = 2k+1$ عددی فرد باشد. زوج (a_{n-1}, a_i)

را در نظر می‌گیریم: برای آنها

$$a_{n-1} + a_1 = a_n, \quad a_{n-1} + a_i > a_n \quad (2 \leq i \leq n-2)$$

و بنا بر این باید برابری $a_{n-1} - a_i = a_{n-i-1}$ برقرار باشد و، در حالت خاص $a_{n-1} - a_k = a_k$ که باز هم به تناقض می‌رسد.

۱۵۴ (a) ۱۲ رأس دوازده ضلعی را، به ۶ جفت رأس روبه‌رو تقسیم می‌کنیم: $A_1A_7, A_2A_8, A_3A_9, A_4A_{10}, A_5A_{11}, A_6A_{12}$. در هر عمل، در هر زوج، تنها یکی از رأس‌ها تغییر علامت می‌دهد. بنا بر این، در جفت‌های $A_1A_8, A_2A_9, \dots, A_6A_{12}$ ، بعد از عمل $(2k-1)$ ام علامت‌های مختلف و بعد از عمل $(2k)$ ام علامت‌های یکسان وجود خواهد داشت (در جفت A_1A_7 ، همه چیز برعکس است). به این ترتیب، حالتی پیش نمی‌آید که در جفت A_1A_8 علامت‌های مختلف و در جفت A_3A_9 علامت‌های یکسان داشته باشیم.

(b) چهار گروه و در هر گروه سه رأس را در نظر می‌گیریم: A_1, A_5, A_9 ، A_2, A_6, A_{10} ، A_3, A_7, A_{11} و A_4, A_8, A_{12} و مثل حالت قبل استدلال می‌کنیم. فرد یا زوج بودن تعداد عددهای منفی هر گروه، در هر عمل تغییر می‌کند و در دو گروه A_2, A_6, A_{10} و A_3, A_7, A_{11} فرد یا زوج بودن تعداد عددهای منفی، یکسان است.

(c) رأس‌ها را به سه گروه A_1, A_4, A_7, A_{10} ، A_2, A_5, A_8, A_{11} و A_3, A_6, A_9, A_{12} تقسیم و به همان ترتیب استدلال می‌کنیم.

∇ به طور کلی می‌توان روشن کرد، اگر در هر عمل k رأس متوالی یک n ضلعی را تغییر علامت دهیم، پشت سر هم چه وضعی پیش می‌آید. پاسخ این است: هر گروه $\varepsilon_1, \varepsilon_2, \dots, \varepsilon_n$ از عددهای $\pm 1 = \varepsilon_k$ در رأس‌های n ضلعی را با گروه d عدد

$$(x_1, x_2, \dots, x_d)$$

به ترتیب زیر مقایسه می‌کنیم (d ، بزرگترین مقسوم‌علیه مشترک n و k است):

$$x_i = \varepsilon_i \varepsilon_{i+d} \dots \varepsilon_{i+n-d}$$

در این صورت، دو گروه (ε_i) و (ε'_i) ، تنها در حالتی به یکدیگر منجر

می‌شوند که یا گروه‌های متناظر آن‌ها (x_i) و (x'_i) یکی باشند و یا $\frac{k}{d}$ عددی

زوج و گروه‌های (x_i) و (x'_i) متقابل باشند: $x_i = -x'_i$ (برای هر i).

۱۵۵. می‌توان از روش «نصف کردن» استفاده کرد. مربع بزرگ K_0 را از صفحه شامل $2^n \times 2^n$ خانه جدا می‌کنیم، به نحوی که همهٔ خانه‌های سیاه را فراگیرد و بیش از چهار برابر آن‌ها، خانه سفید داشته باشد. در این

صورت، مساحت خانه‌های سیاه، کمتر از $\frac{1}{5}$ مساحت مربع K_0 است. K_1 را

به چهار مربع K_1 ، و در هر کدام $2^{n-1} \times 2^{n-1}$ خانه، تقسیم می‌کنیم. در

هر یک از مربع‌های K_1 ، خانه‌های سیاه، بیش از $\frac{4}{5}$ مساحت را بر نمی‌کنند،

به نحوی که یا با هر دو شرط (۱) و (۲) سازگار است و یا می‌توان آن را

دوباره به چهار مربع K_2 تقسیم کرد و غیره، تا جایی که مربع‌های 2×2

به دست آید که، از آن‌ها، همهٔ مربع‌های سفید را کنار می‌گذاریم و مربع‌های

شامل یک، دو یا سه خانه سیاه را نگه می‌داریم.

▽ شبیه این مساله را می‌توان برای خط راستی که به پاره‌خط‌های

راست واحد تقسیم شده است (با مقدارهای ثابت $\frac{1}{3}$ و $\frac{2}{3}$)، و برای فضا که

به مکعب‌های واحد تقسیم شده است (با مقدارهای ثابت $\frac{1}{9}$ و $\frac{8}{9}$) تنظیم کرد.

۱۵۶. پاسخ: کمترین تعداد A_n از مکعب‌ها که با شرط سازگار باشند،

برابر است با

$$A_n = \begin{cases} \frac{1}{2} n^2 & (\text{برای } n \text{ زوج}) \\ \frac{1}{2} (n^2 + 1) & (\text{برای } n \text{ فرد}) \end{cases}$$

در حالت‌های خاص: $A_2 = 2$ ، $A_3 = 5$ ، $A_4 = 8$ ، $A_5 = 12$ ، $A_6 = 18$ ، $A_7 = 25$ ، $A_8 = 32$ ، $A_9 = 40$ ، $A_{10} = 50$.

اثبات این که با تعداد کمتری مکعب، نمی‌توان به نتیجه مطلوب رسید،

به این صورت است: برای تنظیم مکعب‌های کوچک که با شرط مساله سازگار باشند، در هر خانه از وجه پایینی مکعب اصلی عددی را می‌نویسیم که نشان دهد چند مکعب کوچک روی آن خانه قرار دارد. اکنون از یک پیش قضیه استفاده می‌کنیم.

پیش قضیه. در جدولی $n \times n$ عددهای درست غیرمنفی را قرار داده‌ایم؛

در ضمن، برای هر جفت سطر و ستونی که، در برخورد آن‌ها، عدد صفر قرار

دارد، مجموع $1 - 2n$ عددها وجود در آن‌ها (که «صلیبی» را تشکیل داده‌اند)،

از n کمتر نیست. در این صورت، مجموع همهٔ عددهای جدول، از $\frac{n^2}{4}$ کمتر

نخواهد بود.

اثبات این پیش قضیه، با استدلالی خیلی شبیه حل مساله ۱۲۶ به

دست می‌آید.

اگر کمترین مجموع را در سطرها و ستون‌ها برابر $m < n$ بگیریم

(فرض کنید، این کمترین مجموع، متعلق به سطر اول باشد)، آن وقت، در

این سطر، حداقل $n - m$ صفر وجود دارد؛ و در هر یک $n - m$ ستونی که

از آن‌ها آغاز می‌شود، حداقل مجموع عددها برابر $n - m$ است. ولی در هر

یک از m ستون بقیه، مجموع عددها، از m کمتر نیست و به این ترتیب،

مجموع کل، حداقل برابر است با

		۴	۳	۵
		۳	۵	۴
		۵	۴	۳
۱	۲			
۲	۱			

$n = 5$

					۶	۷	۸	۹	۱۰
					۷	۸	۹	۱۰	۶
					۸	۹	۱۰	۶	۷
					۹	۱۰	۶	۷	۸
					۱۰	۶	۷	۸	۹
۱	۲	۳	۴	۵					
۲	۳	۴	۵	۱					
۳	۴	۵	۱	۲					
۴	۵	۱	۲	۳					
۵	۱	۲	۳	۴					

$n = 10$

شکل ۶۴

$$(n-m)^2 + m^2 \geq \frac{n^2}{2}$$

نمونه استقرار ۱۲ مکعب واحد در مکعب $5 \times 5 \times 5$ و ۵۰ مکعب واحد در مکعب $10 \times 10 \times 10$ را در شکل ۶۴ داده ایم که، در آن، عدد واقع در خانه، شماره قشری را نشان می دهد که، مکعب واحد، در روی این خانه، واقع شده است. به همین ترتیب، می توان نمونه لازم برای بقیه مقادیرهای n را ساخت.

۱۵۷. باید برای هر نقطه (x, y) از صفحه، نقطه (m, n) را، با مختصات درست، طوری پیدا کنیم که، به ازای آن، مقدار $f_a(x-m, y-n)$ حداقل مقدار ممکن باشد و مرز بالای این حداقل

$$\bar{f}_a(x, y) = \min_{m, n} f_a(x-m, y-n)$$

را پیدا کنیم. مقدار $\sqrt{f_a(x_1-x_2, y_1-y_2)}$ را فاصله بین نقطه های (x_1, y_1) و (x_2, y_2) می نامیم. شبیه فاصله عادی

$$\sqrt{f_a(x_1-x_2, y_1-y_2)} = \sqrt{(x_1-x_2)^2 + (y_1-y_2)^2}$$

یاد آوری می کنیم که، برای این فاصله، ارزیابی دقیق، چنین است:

$$\bar{f}_a(x, y) \leq \frac{1}{4}$$

در واقع، برای هر مربع $m - \frac{1}{4} \leq x \leq m + \frac{1}{4}$ ، $n - \frac{1}{4} \leq y \leq n + \frac{1}{4}$

فاصله از هر نقطه (x, y) آن تا مرکز (m, n) آن، از $\frac{\sqrt{2}}{4}$ بیشتر نیست؛ در ضمن، برای هر رأس این مربع، این فاصله برابر $\frac{\sqrt{2}}{4}$ است، یعنی

$$f_a(x, y) = \frac{1}{4}$$

بقیه «فاصله های» $\sqrt{f_a}$ ($0 < a < 2$) را هم مورد بررسی قرار می-

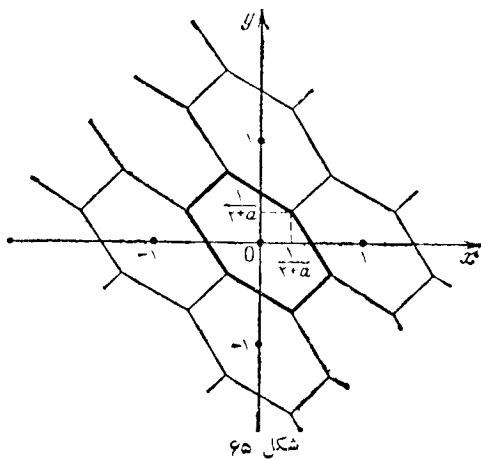
دهیم. صفحه را به شکل های $\Phi_{m, n}$ با معیار زیر تقسیم می کنیم: نقطه (x, y) به $\Phi_{m, n}$ تعلق دارد، وقتی که «فاصله» از آن تا (m, n) کمتر (یا نه بیشتر) از فاصله آن تا هر نقطه دیگر شبکه باشد (منظور از شبکه، مجموعه نقطه های با مختصات درست است). کافی است شکل $\Phi_{0,0}$ را با مرکز $(0,0)$ پیدا کنیم؛ بقیه به کمک آن، با انتقال مرکزها روی بردار با مختصات (m, n) به دست می آیند؛ چون ضمن این انتقالها، «فاصله» $\sqrt{f_a}$ حفظ می شود، بنابراین نظامی هم که به وسیله آن، نقطه های حوزه با این یا آن مرکز انتخاب می شوند، حفظ می شود. اکنون از این نکته استفاده می کنیم که مجدداً فاصله، f_a تابع درجه دومی از مختصات است. مجموعه نقطه هایی که به $(0,0)$ نزدیکترند تا به (m, n) ، یک تیم صفحه را تشکیل می دهند؛ نابرابری

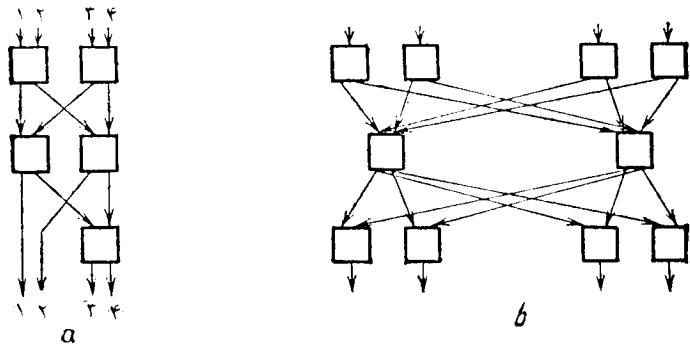
$$x^2 + axy + y^2 \leq (x-m)^2 + a(x-m)(y-n) + (y-n)^2$$

هم ارز است با نابرابری خطی

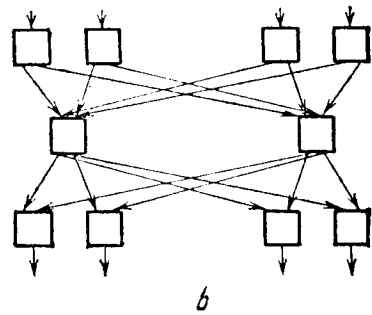
$$(2m+an)x + (2n+am)y \leq m^2 + amn + n^2$$

برای این که شکل $\Phi_{0,0}$ را پیدا کنیم، باید اشتراک همه این نیم صفحه ها را نسبت به همه مقادیرهای (m, n) ، به جز $(0,0)$ به دست آوریم. برای این منظور، کافی است تنها شش تا از آنها را، که متناظر با شش زوج

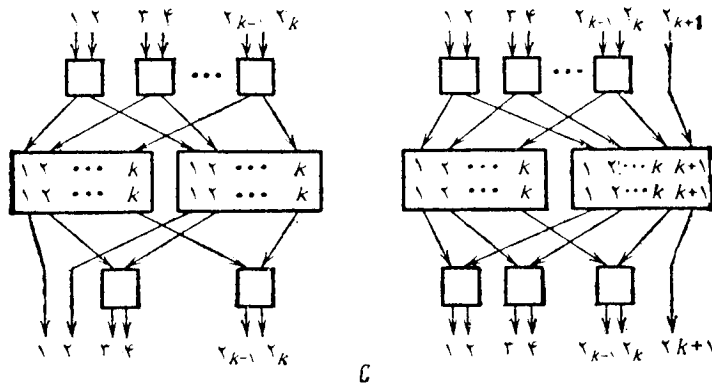




a




b



c

شکل ۶۶



که در آن (i_1, i_2, \dots, i_n) ، هر تبدیلی از عددهای ۱، ۲، ...، n است، باید نابرابری $n \geq 2^m$ برقرار باشد. یعنی، تعداد کلیدها در طرح «همه کاره»، حداقل برابر $\log_2(n!)$ باشد.

درحالات خاص، برای $n=3$ به دست می آید: $2^m \geq 6$ ، یعنی $m=3$ ؛ به سادگی روشن می شود که، طرح مربوط به شکل ۸-b (در صورت مساله)، نمونه ای از «طرح همه کاره مرتبه ۳» است. برای $m=4$ به دست می آید: $2^4 = 16 \geq 24$ ، از آنجا $m \geq 5$. در واقع، طرح همه کاره با ۵ کلیدرامی توان ساخت: تحقیق کنید، طرح شکل ۶۶، a، به ازای $2^5 = 32$ وضع مختلف

$(0, \pm 1)$ ، $(\pm 1, 0)$ ، $(1, -1)$ و $(-1, 1)$ هستند، در نظر بگیریم. این مطلب وقتی روشن می شود که قانع شویم، اشتراك این شش نیم صفحه (ایسن اشتراك، يك شش ضلعی محدب است: $-1 \leq 2x + ay \leq 1$ ، $-1 \leq ax + 2y \leq 1$ ، $-1 \leq x - y \leq 1$) با تصویرهای خود، ضمن انتقال موازی روی بردارهای (m, n) ، برخورد ندارد (اگر دقیق تر بگوییم، با آنها، تنها در بخشی از مرزها مشترك است؛ شکل ۶۵). به این ترتیب، $\Phi_{0,0}$ نمی تواند کوچکتر از این شش ضلعی باشد و، بنابراین، بر آن منطبق است. ما کزیم $f_n(x, y)$ به ازای $(x, y) \notin \Phi_{0,0}$ ، در رأس های این شش ضلعی به دست می آید، زیرا ضمن حرکت پاره خطی از هر خط راست

$$x = b + ut, y = c + vt$$

مجدور فاصله $f_n(b + ut, c + vt)$ ، به صورت سه جمله ای درجه دومی به t بستگی دارد که، در آن، ضریب t^2 برابر $u^2 + auv + v^2$ و مثبت است، به نحوی که f_n در دو انتهای پاره خط به ما کزیم خود می رسد. با پیدا کردن مختصات رأس ها (شکل ۶۵) و قرار دادن آنها در عبارت f_n ، ارزیابی دقیقی برای f_n ، به دست می آید: $f_n \leq \frac{1}{a+2}$. همین ارزیابی برای $a=2$ هم درست است، وقتی که $f_2(x, y)$ به طور ساده عبارت است از مجدور فاصله بین $x+y$ و نزدیکترین عدد درست: $f_2(x, y) \leq \frac{1}{4}$.

▽ اندیشه اصلی حل این مساله - تقسیم صفحه به حوزه هایی شامل مرکزهای مفروض، به نحوی که هر نقطه متناظر با نزدیکترین مرکز باشد - در مساله های مختلف آنالیز، هندسه و نظریه عددها کاربرد دارد.

۱۵۸. ابتدا حداقل کلیدهای تبدیل لازم را تخمین می زنیم (ارزیابی از پایین). چون هر کلید تبدیل می تواند در دو موقعیت قرار گیرد، بنا بر این طرح شامل m کلید، می تواند 2^m موقعیت مختلف داشته باشد. اگر بخواهیم، هر n اتصال مختلف n ورودی و n خروجی برای تعداد m کلید تحقق یابد:

کلید، همهٔ ۲۴ تبدیل ممکن از مجموعه {۱، ۲، ۳، ۴} را تحقق می‌بخشد. اثبات طرح همه‌کارهٔ مرتبهٔ ۸، که در شکل ۸، C (در صورت مساله) داده شده است؛ در عمل ممکن نیست: عدد ۸۱، عدد خیلی بزرگی است، ولی می‌توان قانون ساده‌ای را پیدا کرد و، به کمک آن، روشن کرد که هر تبدیل مفروض φ از ۸ عنصر $k \rightarrow i_k$ ($k \in \{1, 2, \dots, 8\}$)، روی طرح وجود دارد. این قانون باید نشان دهد که، از طریق هر بلوک A یا B - هر يك از ۸ ارتباط $k \rightarrow \varphi(k) = i_k$ تحقق می‌یابد. در ضمن باید این شرطها هم برقرار باشند:

اگر $k - l = 4$ یا $k - l = 4$ ، آن وقت ارتباطهای $k \rightarrow i_k$ و $l \rightarrow i_l$ باید از بلوکهای مختلف A و B بگذرند.

روشن است که، این شرطها، برای نبودن «چسبندگی» (موقعیتی که در آن، در شبکهٔ تلفنی، دوردی به يك خروجی، یا برعکس، مربوط شده باشد)، لازم و کافی است.

قانون مورد نیاز ما، چنین است:

دو زوج $j \rightarrow \varphi(j)$ و $l \rightarrow \varphi(l)$ را «مجاورهای» زوج $k \rightarrow \varphi(k)$ می‌نامیم، وقتی که داشته باشیم: $|k - j| = 4$ و $|\varphi(k) - \varphi(j)| = 4$ ، در این صورت، همهٔ زوجهای $k \rightarrow \varphi(k)$ به گروه‌هایی (دورهایی) تقسیم می‌شوند که، برای هر کدام از آنها، دو «مجاور» وجود دارد؛ در ضمن این دورها، شامل تعداد زوجی از این زوجها خواهند بود. در هر دور، به تناوب، ارتباط $k \rightarrow \varphi(k)$ از طریق بلوک A و یا از طریق بلوک B تحقق می‌یابد و، بنا بر این، «مجاورها» از طریق بلوکهای مختلف، به هم ارتباط پیدا می‌کنند. اکنون از «همهٔ کاره‌های مرتبهٔ ۴» بلوکهای A و B ، «همه‌کارهٔ مرتبهٔ ۸» تمامی طرح نتیجه می‌شود:

به همین ترتیب، می‌توان «طرح همه‌کارهٔ مرتبهٔ 2^{k+1} » را با آغاز از دو «طرح همه‌کارهٔ مرتبهٔ 2^k »، و، باز هم، 2×2^k کلید ساخت. اگر از «طرح همه‌کارهٔ مرتبهٔ ۴» با ۵ عضو آغاز کنیم (و این البته، بهتر از آن است که از کلید همه‌کارهٔ مرتبهٔ ۲ آغاز کنیم و، به جای شکل ۶، ۶، a از طرح همه‌کارهٔ

مرتبهٔ ۴ - شکل ۶، ۶، b - از ۱۰ عضو را به دست آوریم)، آن وقت به ازای $n = 2^k$ ، طرح شامل $\frac{1}{4} \log_2 n$ کلید خواهد بود (و در حالت خاص $n = 8$ ، $2^k = 8$ ، ۶، ۶، که برای هر $n \neq 2^k$ ، ارزیابی از بالا را، برای تعداد کلیدها در طرح «همه‌کارهٔ مرتبهٔ n » از ردیف $\frac{1}{4} \log_2 n$ می‌دهد. تنها بهتر است، برای ساختن طرح (شکل ۶، ۶، c)، از «همهٔ کارهٔ مرتبهٔ k » به همه‌کارهٔ $2k + 1$ برویم و ارزیابی از بالا را، تا $n \log_2 n$ بهبود بخشیم. توجه کنیم که، برای مقادیرهای بزرگ n ، داریم:

$$\log_2 n \approx n(\log_2 n - \log_2 e)$$

۱۵۹. نقطهٔ برخورد خطهای راست CD و QN را R و مرکز مستطیل $ABCD$ را O می‌نامیم. از $OM = ON$ نتیجه می‌شود: $PC = CR$ و، بنا بر این، مثلث PNR متساوی الساقین است (NC ، هم ارتفاع و هم میانهٔ این مثلث است).

حکم مساله، از برابری‌های زیر نتیجه می‌شود:

$$\widehat{MNP} = \widehat{NPR}, \widehat{QNM} = \widehat{QRP}$$

۱۶۰. $[a_1, b_1]$ را، پاره‌خط راستی با حداقل انتهای راست فرض می‌کنیم. اگر تعداد پاره‌خطهای شامل نقطهٔ b_1 ، از ۷ بیشتر باشد، مساله حل شده است. اگر این تعداد، کمتر یا برابر ۷ باشد، آن وقت دست کم ۴۳ پاره‌خط راست وجود دارد که در سمت راست $[a_1, b_1]$ قرار گرفته‌اند، در بین آنها، نقطهٔ $[a_2, b_2]$ را، با حداقل انتهای راست در نظر می‌گیریم. در این صورت یا b_2 متعلق به ۸ پاره‌خط راست است و یا ۳۶ پاره‌خط راست وجود دارد که در سمت راست b_2 قرار دارند. با ادامهٔ این استدلال، یا به نقطه‌ای برخورد می‌کنیم که به ۸ پاره‌خط راست تعلق دارد و یا ۷ پاره‌خط راست $[a_1, b_1]$ ، $[a_2, b_2]$ ، ...، پیدا می‌شوند که برخوردی با هم ندارند. در سمت راست این ۷ پاره‌خط راست، دست کم $7k - 50$ پاره‌خط راست دیگر وجود خواهد داشت، یعنی دست کم يك پاره‌خط

راست $[a_\lambda, b_\lambda]$ در سمت راست $[a_\nu, b_\nu]$ پیدا می‌شود.

▽ درست به همین ترتیب، می‌توان ثابت کرد که در بین $mn+1$ پاره‌خط واقع بر یک خط راست یا $m+1$ پاره‌خط دو به دو نامتقاطع وجود دارد و یا $n+1$ پاره‌خطی که دارای نقطهٔ مشترک اند. در این جا، مسألهٔ دیگری شبیه این مسأله را می‌آوریم. از بین $mn+1$ عدد طبیعی می‌توان با زنجیره‌ای از $m+1$ عدد طبیعی انتخاب کرد که، هر کدام از آن‌ها، بر عدد قبلی خود بخش پذیر باشد و یا $n+1$ عدد که، از آن‌ها، هیچ کدام بر دیگری بخش پذیر نباشد. این‌ها، حالت‌های خاصی از قضیهٔ کلی دیلوادرس اند: در هر مجموعهٔ مرتب جزئی، که دارای $mn+1$ عضو است، یا زنجیره‌ای از $m+1$ عضو وجود دارد که به ردیف صعودی اند و یا $n+1$ عضو که دو به دو نسبتی باهم ندارند.

برای این که، این قضیه را، در مورد مسألهٔ مربوط به پاره‌خط‌ها به کار بریم، باید این طور به حساب آوریم که: یک پاره‌خط وقتی «بزرگتر» از دیگری است که، به طور کامل، در سمت راست آن واقع باشد؛ در این صورت، پاره‌خط‌های «دو به دو نامتقاطع»، بدناچار نقطهٔ مشترکی خواهند داشت (این نقطهٔ مشترک، عبارت است از سمت چپ‌ترین نقطه از انتهای راست آن‌ها).

۱۶۱. پاسخ: $x = 1972$.

به سادگی می‌توان نوشت:

$$4^{27} + 4^{100} + 4^x = 2^{54}(1 + 2 \times 2^{1945} + 2^{2x-54})$$

و برای این که مقدار داخل پرانتز مجذور کامل باشد، باید داشته باشیم:

$$2x - 54 = 2 \times 1945 \Rightarrow x = 1972$$

اکنون اگر فرض کنیم $x > 1972$ ، آن وقت:

$$2^{2(x-27)} < 1 + 2 \times 2^{1945} + 2^{2(x-27)} < (2^{x-27} + 1)^2$$

یعنی عدد مفروض، بین مجذورهای دو عدد متوالی قرار می‌گیرد.

۱۶۲. ابتدا درستی این دو گزاره را ثابت می‌کنیم:

الف) اگر $a^k + b^k$ بر $a^n + b^n$ بخش پذیر باشد، آن وقت $a^{k-n} - b^{k-n}$ هم بر $a^n + b^n$ بخش پذیر است.

ب) اگر $a^l - b^l$ بر $a^n + b^n$ بخش پذیر باشد، آن وقت $a^{l-n} + b^{l-n}$ هم بر $a^n + b^n$ بخش پذیر است.

این دو گزاره، با توجه به این که b و a نسبت به هم اول اند، از اتحادهای زیر نتیجه می‌شوند:

$$a^k + b^k = a^{k-n}(a^n + b^n) - b^n(a^{k-n} - b^{k-n});$$

$$a^l - b^l = a^{l-n}(a^n + b^n) - b^n(a^{l-n} + b^{l-n})$$

ضمن تقسیم m بر n می‌توان نوشت:

$$m = qn + r, (0 \leq r < n)$$

اگر q مرتبه، n را از m کم کنیم، r به دست می‌آید.

از شرط مسأله و گزاره‌های الف) و ب) نتیجه می‌شود که: $a^r + (-1)^q b^r$ بر $a^n + b^n$ بخش پذیر است. ولی $|a^r + (-1)^q b^r| < a^n + b^n$. بنابراین $r = 0$ (و در ضمن، q عددی است فرد).

۱۶۳. فرض می‌کنیم، در برخی سطرهای جدول، به عدددهای یکسان برخورد کنیم. در بین این سطرها، بالاترین سطر را با شمارهٔ n ، و عدددهای برابر در این سطر را با p و q نشان می‌دهیم.

چون در $(n-1)$ امین سطر، عدددهای برابر وجود ندارد، باید p و q از عدددهای r و s این سطر و با عمل‌های متفاوت به دست آمده باشند: فرض کنید $p = r^2$ و $q = s + 1$ ؛ در این صورت $s = r^2 - 1$.

در مسیر از بالاترین عدد a به طرف s ، می‌توان هم به مجذور کردن و هم به اضافه کردن یک واحد، برخورد کرد. بزرگترین عددی که مجذور شده است، می‌تواند $r - 1$ باشد (زیرا $r - 1 = s = r^2 - 1$). و این به معنای آن است که، عدد s ، می‌تواند از آخرین مجذور کاملی که در مسیر واقع است و دست کم بعد از $2r - 2 = (r - 1)^2 - 1 = r^2 - 1$ گام به دست آمده باشد؛ در ضمن، در هر گام، یک واحد اضافه شده است. به این ترتیب، عدد s ، از عدد a ،

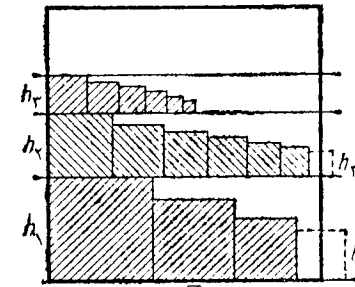
دست کم بعد از $2r-1$ گام به دست آمده است (یعنی $2r-1 \geq n-2$). ولی عدد r هم در همان سطر s واقع است و برای رسیدن از a به چنین عددی، دست کم $r > a+2r-1$ گام لازم است. به این ترتیب، در مسیر به دست آمدن s ، مجذور کردنی وجود نداشته است، به نحوی که q در انتهای سمت راست قرار دارد و کوچکترین عدد در سطر n است؛ چیزی که با فرض $p=q$ تناقض دارد.

∇ با تجزیه و تحلیل راه حل مسأله، روشن می شود که، عمل مجذور کردن را، می توان با هر تابع f که مقدارهای طبیعی را قبول می کند عوض کرد، به شرطی که داشته باشیم:

$$f(n+1) - f(n) > n+1$$

۱۶۴. مربع ها را به ردیف نزولی ضلع ها و با آغاز از بزرگترین مربع $x \times x$ ، از چپ بدراست، روی ضلع پایینی مربع به مساحت $\sqrt{2} \times \sqrt{2}$ قرار می دهیم (شکل ۶۷)؛ وقتی به جایی رسیدیم که جایی برای مربع بعدی نمانده باشد - یعنی از ضلع سمت راست مربع به ضلع $\sqrt{2}$ خارج شود - به ضلع بالای مربع چپ می رویم، این ضلع را به صورت خط راست افقی ادامه می دهیم و ردیف جدید را آغاز می کنیم. ضلع مربع هایی را که به ضلع سمت چپ مربع به ضلع $\sqrt{2}$ چسبیده اند، به ترتیب، h_1, h_2, h_3, \dots می گیریم. باید ثابت کنیم، ارتفاع

$$h = h_1 + h_2 + h_3 + \dots < \sqrt{2}$$



شکل ۶۷

یعنی، این مربع های سمت چپ، از ضلع بالایی مربع به ضلع $\sqrt{2}$ بیرون نمی روند.

مجموع مساحت های این مربع ها را ارزیابی می کنیم. در ذهن خود، هر مربع سمت چپ به ضلع h_k را ($k=2, 3, \dots$) به انتهای ردیف قبلی ($(k-1)$) منتقل می کنیم. این مربع از ضلع سمت راست مربع به ضلع $\sqrt{2}$ بیرون می زند، بنابراین بعد از این روند، مساحت مربع های ردیف $(k-1)$ ، کمتر از $h_k (\sqrt{2}-x)$ نخواهد بود؛ در ضمن در ردیف اول، مربع بزرگتر سمت چپ را به حساب نمی آوریم. به این ترتیب، مجموع مساحت های همه مربع ها - که بنا بر فرض برابر واحد است - کمتر از

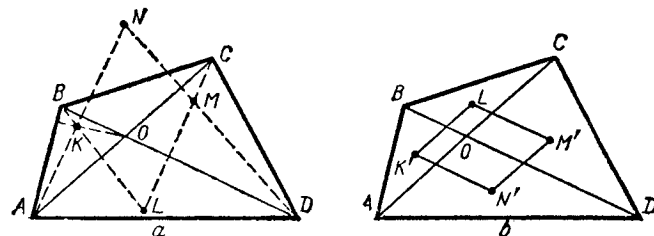
$$x^2 + (\sqrt{2}-x)(h_2 + h_3 + \dots) = x^2 + (\sqrt{2}-x)(h-x)$$

نخواهد بود. از این جا می توان h را ارزیابی کرد. چون $\sqrt{2}-x > 0$ ، بنابراین از نابرابری $x^2 + (\sqrt{2}-x)(h-x) \leq 1$ نتیجه می شود:

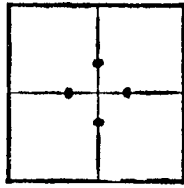
$$h \leq \frac{1-x^2}{\sqrt{2}-x} + x = 2\sqrt{2} - \sqrt{2} \left(2 - x\sqrt{2} + \frac{1}{2-x\sqrt{2}} \right) \leq \sqrt{2}$$

زیرا مقدار داخل پرانتز به صورت $2 + \frac{1}{t}$ است و از ۲ کمتر نیست (برابری تنها به ازای $x = \frac{\sqrt{2}}{2}$ ممکن است).

۱۶۵. K, L, M و N را، به ترتیب، محل برخورد ارتفاع های مثلث های AOB, BOC, COD می گیریم. این نقطه ها، رأس های يك متوازی الاضلاع را تشکیل می دهند، زیرا دو ضلع آن روی خط های



شکل ۶۸



شکل ۶۹

مربع را به هم وصل می‌کند (که در ضمن، از وسط ساق‌های دوزنقه‌ها هم می‌گذرد)، به وسیله ساق مایل دوزنقه، به همین نسبت قطع می‌شود؛ و این، از آن جا ناشی می‌شود که، مساحت دوزنقه برابر است با حاصل ضرب ارتفاع در پاره‌خط راستی که وسط دو ساق را به هم وصل می‌کند.

از این گونه نقطه‌ها، که پاره‌خط راست بین وسط دو ضلع روبه روی مربع را به نسبت ۲:۳ تقسیم می‌کنند، روی هم چهار تا وجود دارد (شکل ۶۹) و، بنابراین، از بین ۹ خط راست مفروض، دست کم سه تا از یکی از این نقطه‌ها می‌گذرند (ضمیمه ۹).

۱۶۷. با استفاده از قضیه مربوط به زاویه‌های محاطی، مجموع سه زاویه A_1, A_4, A_5 را می‌توان به عنوان نصف مقدار زیر در نظر گرفت:

$$\begin{aligned} & (\widehat{A_1 A_4 A_5} - 360^\circ) + (\widehat{A_4 A_5 A_1} - 360^\circ) + (\widehat{A_5 A_1 A_4} - 360^\circ) = \\ & = 720^\circ + \widehat{A_4 A_5} \end{aligned}$$

بنابر شرط مساله، نقطه O در درون هفت ضلعی است و، بنابراین کمان $A_4 A_5$ نمی‌تواند از 180° درجه بیشتر و یا با آن برابر باشد، یعنی

$$\widehat{A_1} + \widehat{A_4} + \widehat{A_5} < 360^\circ + 90^\circ = 450^\circ$$

۱۶۸. چهار مرتبه این تقاضا را، بدترتیب از چپ به راست، r_4, r_3, r_2, r_1 می‌نامیم. بازی به دو مرحله تجزیه می‌شود: «آغاز» و «پایان» - مرحله دوم وقتی شروع می‌شود که نفر دوم، رقمی را در مرتبه بزرگتر r_1 قرار می‌دهد. روشن است که در مرحله «آغاز»، نفر اول نباید رقم‌های کوچک (از ۰ تا ۳) یا رقم‌های بزرگ (از ۶ تا ۹) را نام ببرد. زیرا نفر دوم، این رقم را، در

راستی قرار دارند که از A و C بر BD عمود شده‌اند و دو ضلع دیگر آن روی خط‌های راستی که از B و D بر AC عمود شده‌اند (شکل ۶۸، a).

نقطه‌های K', L', M', N' محل برخورد میانه‌های مثلث‌های AOB, BOC, COD, DOA ، رأس‌های متوازی‌الاضلاع را تشکیل می‌دهند که دو ضلع آن موازی BD هستند و پاره‌خط راست AC را به سه بخش برابر تقسیم می‌کنند و دو ضلع دیگر آن با AC موازی‌اند و BD را به سه بخش برابر تقسیم می‌کنند (شکل ۶۸، b).

روشن است که، ضلع‌های متناظر این دو متوازی‌الاضلاع، برهم عمودند. ثابت می‌کنیم که متوازی‌الاضلاع‌ها متشابه‌اند؛ از آن جا نتیجه می‌گیریم که، اگر یکی از آن‌ها را به اندازه 90° درجه دوران دهیم، نه تنها ضلع‌ها، بلکه قطرهای آن‌ها هم با هم موازی می‌شوند، یعنی $K'M' \perp KM$ (و $L'N' \perp LN$). برای اثبات تشابه دو متوازی‌الاضلاع، باید نسبت ضلع‌ها برابر باشند. طول ضلع‌های $K'L'$ و KN برابرند با $\frac{1}{3} AC$ و $\frac{1}{3} BD$. تصویر ضلع KL بر BD ، بر تصویر پاره‌خط راست AC بر BD ، منطبق است. بنا بر این

$$KL = AC \cdot \cotg \varphi$$

که در آن، φ ، زاویه حاده بین خط‌های راست BD و AC است. به همین ترتیب

$$KN = BD \cdot \cotg \varphi$$

به این ترتیب، ضلع‌های دو متوازی‌الاضلاع به نسبت $AC:BD$ هستند، یعنی با هم متشابه‌اند.

در حالتی که φ ، زاویدای قائمه باشد، نقطه‌های K, L, M, N برهم منطبق می‌شوند و مساله مفهوم خرد را از دست می‌دهد.

۱۶۹. هر خط راست، مربع را به دو دوزنقه (یا دو مستطیل)، با نسبت مساحت‌های ۲:۳ تقسیم می‌کند. پاره‌خط راستی هم که وسط دو ضلع روبه روی

r_1 می‌گذارد (رقم کوچکتر را در عدد اول، و رقم بزرگتر را در عدد دوم) و در این صورت، نفر دوم برنده می‌شود: اگر اختلاف رقم‌های اول از ۳ بیشتر نباشد، اختلاف عددها از ۳۹۹۹ بیشتر نمی‌شود. برعکس، اگر اولی از رقم ۴ (یا ۵) شروع کند، آن وقت، دومی می‌تواند به تفاضلی برسد که از ۴۰۰۰ کمتر نباشد: او در حرکت خود، $r_1 = (4)$ یا $r_1 = (5)$ قرار می‌دهد، سپس همه رقم‌های ۰ (یا ۹) را، اگر اولی نام ببرد، در مرتبه‌های r_2 ، r_3 و r_4 می‌گذارد، تا وقتی که کار به پایان برسد؛ در این صورت، اولی نمی‌تواند به وضعی بهتر از $\begin{matrix} 4000 \\ 0000 \end{matrix}$ (یا $\begin{matrix} 9999 \\ 5999 \end{matrix}$) برسد. برای دومی برنامه‌ای تنظیم کردیم

که حکم (a) را ثابت می‌کند.

ولی، اگر دومی رقم‌های ۴ و ۵ را در مرتبه‌های r_2 تا r_4 قرار می‌داد و در لحظه مناسب، کار را تمام می‌کرد، آیا نمی‌توانست به تفاضل بیشتری برسد؟ برای این که اولی مانع این امر شود، باید مرتبه r_1 را با کوچکترین r_1 که در آن یکی از رقم‌ها عدد و دیگری ستاره است و یا دو عدد مختلف در آن قرار دارد، در نظر بگیرد. اگر r_1 برابر (4) یا (5) باشد، باید رقم ۵ را نام ببرد و اگر با (4) یا (5) روبه‌رو شود، رقم ۴ را (اگر همه ردیف‌ها بر هم منطبق و یا r_1 به صورت (5) باشد، می‌توان هر کدام از دو عدد، و مثلاً ۵، را نام برد؛ با این برنامه‌ریزی، اولی به موقعیت خطرناک $r_1 = (4)$ برخورد نمی‌کند). بعد از حرکت دومی، اولی می‌تواند ۰ را نام ببرد (وقتی که در r_1 ، رقم در عدد بالا گذاشته شده باشد و یا ۹ را (وقتی رقم، در r_1 پایین گذاشته شود). به این ترتیب، برنامه حرکت اولی، برای اثبات (b) روشن می‌شود.

▽ اگر با عددهایی سروکار داشته باشیم که دارای $n \geq 1$ رقم باشند، می‌توان ثابت کرد که، به شرط بازی درست، برای تفاضل، عدد $4 \times 10^n - 1$ به دست می‌آید.

۱۶۹. پاسخ: حداکثر مقدار s برابر است با $\sqrt{2}$ و به ازای $x = \sqrt{2}$

و $y = \frac{\sqrt{2}}{2}$ به دست می‌آید.

باید روشن کنیم که، به ازای چه حداکثری از s ، نابرابری‌های

$$x \geq s, y + \frac{1}{x} \geq s, \frac{1}{y} \geq s$$

به‌طور هم زمان برقرارند (در ضمن، دست کم یکی از آن‌ها باید برابری باشد). s عددی است مثبت و، مثلاً برای $s = 1$ ، نابرابری‌ها متوافق‌اند

(مثلاً، برای $x = 1$ و $y = 1$ و یا $x = 1$ و $y = \frac{1}{2}$). از این نابرابری‌ها

می‌توان نتیجه گرفت:

$$y \leq \frac{1}{s}, \frac{1}{x} \leq \frac{1}{s}, s \leq y + \frac{1}{x} \leq \frac{2}{s}$$

از آن جا $s^2 \leq 2$ و $s \leq \sqrt{2}$. حالتی وجود دارد که هر سه نابرابری، به

برابری تبدیل می‌شوند: $y = \frac{1}{x} = \frac{\sqrt{2}}{2}$ و در ضمن $s = \sqrt{2}$.

۱۷۰. حکم، برای مثلث ABC به سادگی ثابت می‌شود: اگر نقطه

O در درون مثلث و، در ضمن، مثلث‌های AOB ، BOC و COA متساوی‌الساقین

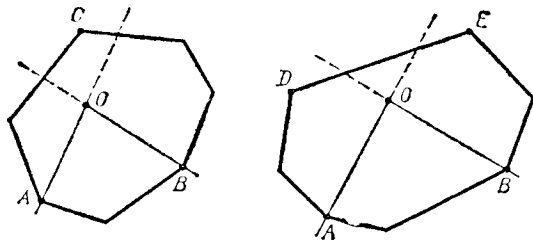
باشند، آن وقت از بین زاویه‌های AOB ، BOC و COA ، دست کم دو تا، از

۱۲۰ درجه بیشترند. این زاویه‌ها را AOB و BOC می‌گیریم. در این صورت

$$AO = BO = OC$$

اکنون با استفاده از این حالت خاص، به‌عنوان پیش‌قضیه، حکم مساله

را برای چندضلعی ثابت می‌کنیم. اگر A و B دو رأس دلخواه از چندضلعی

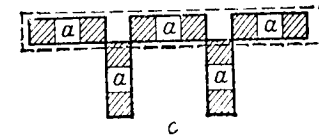
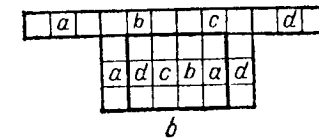
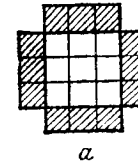


شکل ۷۰

باشند، آن وقت یا در درون زاویه‌ای که از امتدادهای AO و BO در نقطه O تشکیل می‌شود، رأس E از چندضلعی قرار دارد و یا ضلع‌های این زاویه، ضلع ED از چندضلعی را قطع می‌کند (شکل ۷۰). در حالت اول، نقطه O در درون مثلث ABC واقع است و، همان‌طور که در بالا ثابت کردیم، $AO = BO = CO$ ؛ در حالت دوم، نقطه O در درون مثلث‌های ADE و BDE قرار دارد و بنابراین $AO = DO = EO = BO$.

۱۷۱. پاسخ: نمی‌توان.

یکی از کوتاه‌ترین روش‌هایی را می‌آوریم که ما را به تناقض می‌رساند. دو شکل را «یکسان» می‌نامیم، وقتی که، در آن، تعداد صفرها، واحدها و رقم‌های ۲، یکی باشد. مستطیل‌های هاشورخورده در شکل ۷۱، a را «یکسان» می‌گیریم (مربعی 3×3 ، با هر یک از این شکل‌ها، مستطیلی 3×4 تشکیل می‌دهد، بنا بر این کافی است از شکل استاندارد برای چهار مستطیل 3×4 «یکسان» که در مربع 3×3 مشترک‌اند، این مربع را حذف کنیم تا چهار مستطیل باقی‌مانده، «یکسان» باشند). نوار 1×12 هم دارای همان محتوی



شکل ۷۱

استاندارد مستطیل 3×4 است (در شکل ۷۱، b ، مستطیل‌های «یکسان»، با یک حرف نشان داده شده‌اند)، یعنی در این نوار پنج تا رقم ۲ وجود دارد. اکنون، مستطیل‌های a را با اندازه‌های 3×1 در نظر می‌گیریم (که در مرز صفحه کاغذ نباشند)، که دست کم شامل دو تا رقم ۲ باشند؛ از چنین مستطیل‌هایی در هر مستطیل 3×4 ، که از چهار مستطیل 3×1 تشکیل شده و شامل پنج رقم ۲ است، پیدا می‌شود. آن‌ها را، آن‌طور که در شکل ۷۱، c (به صورت نقطه‌چین) نشان داده شده است، در ردیف به صورت مستطیل 1×12 قرار می‌دهیم. در این نوار، دست کم، 3×6 ، یعنی ۶ رقم ۲ وجود دارد. تناقض.

۱۷۲. پاسخ: کمترین مقدار s برابر است با $1 - 2^{-n}$ ، و وقتی به دست می‌آید که داشته باشیم: $x_k = 2^{-k} (1 - 2^{-n})$.

فرض می‌کنیم:

$$y_0 = 1, y_k = 1 + x_1 + x_2 + \dots + x_k \quad (1 \leq k \leq n)$$

در این صورت $y_n = 2$ و $x_k = y_k - y_{k-1}$. اگر هیچ کدام از عددهای مفروض، از s تجاوز نکنند، یعنی

$$x_k = \frac{y_k - y_{k-1}}{y_k} = 1 - \frac{y_{k-1}}{y_k} \leq s$$

آن وقت $1 - s \leq \frac{y_{k-1}}{y_k}$. اگر این نابرابری‌ها را، برای مقدارهای k از ۱ تا n ، در هم ضرب کنیم، به دست می‌آید:

$$(1-s)^n \leq \frac{y_0}{y_n} = \frac{1}{2} \Rightarrow s \geq 1 - 2^{-\frac{1}{n}}$$

s وقتی به این مقدار می‌رسد که، برای هر k ، داشته باشیم:

$$y \frac{1}{2^n} = 1 - s = \frac{y_{k-1}}{y_k}$$

یعنی وقتی که y_k ها، تشکیل یک تصاعد هندسی به قدر نسبت $\frac{1}{2^n}$ بدهند:

$$y_1 = \frac{1}{2^n}, y_2 = \frac{1}{2^{n-1}}, \dots, y_n = 2$$

که در این صورت خواهیم داشت:

$$x_k = \frac{k}{2^n} - \frac{k-1}{2^{n-1}}$$

۱۷۳. در جدول مسابقه همۀ عددهای زوج را با ۰ و همۀ عددهای فرد

را با ۱، نشان می‌دهیم. جدول حاصل را A و عضوهای آن را a_{ij} می‌نامیم. وقتی تیم‌های i ام و j ام مساوی کرده باشند $a_{ij} = 1$ و در حالت عکس آن. جدولی که با صورت مساله سازگار باشد، متقارن است و عددهای روی قطرها برابر صفر است:

$$a_{ij} = a_{ji}, a_{ij} = 0 \quad (j \neq i) \quad (1)$$

شرطی را که در جدول ظاهر می‌شود، با توجه به صورت مساله، می‌توان به این ترتیب تنظیم کرد: برای هر انتخاب $x = (x_1, x_2, \dots, x_n)$ از صفرها و واحدها، به جز $(0, \dots, 0) = 0$ ، دست کم یکی از عددهای

$$y_i = a_{i1}x_1 + a_{i2}x_2 + \dots + a_{in}x_n \quad (A)$$

فرد است. برای هر گروهی از تیم‌ها، انتخاب x را در نظر می‌گیریم. با این شرط که، اگر زامین تیم جزو گروه باشد $x_j = 1$ ، و اگر تیم j ام جزو گروه نباشد $x_j = 0$ ؛ در ضمن، y_i ، برابر است با تعداد تساوی‌هایی که تیم i ام با این گروه داشته است. گروه (y_1, \dots, y_n) را، که از x به کمک جدول A و طبق قانون (A) به دست می‌آید، Ax می‌نامیم. از آنجا که، تنها به اختلاف بین عددهای زوج و فرد علاقه‌مندیم، بهتر است تنها با در نظر گرفتن دو عدد ۰ و ۱، و به حساب آوردن $1 + 0 = 1$ و $0 + 1 = 1$ و $0 + 0 = 0$ و $1 + 1 = 0$ کار را ساده کنیم (در ضمن، قانون‌های ضرب و همۀ قانون‌های دیگر حساب، به قوت

خود باقی است). در این صورت، y هم، انتخابی از ۰ و ۱ خواهد بود. در ضمن، نیاز اصلی ما از جدول، به این صورت درمی‌آید:

$$(2) \quad \text{اگر } x \neq 0, \text{ آن وقت } Ax \neq 0. y$$

این گونه جدول A را «رو به راه» می‌نامیم.

اکنون که، از بازی‌ها کی، خود را به طور کامل، به جبر رسانده‌ایم، می‌توانیم به حل مساله پردازیم: باید ثابت کنیم، وقتی n عددی زوج باشد، شرط‌های (۱) و (۲) نمی‌توانند با هم برقرار باشند. جدول A را، با حفظ این شرط‌ها، ساده می‌کنیم.

اگر در جدول A ، سطر دوم را به سطر اول اضافه کنیم، شرط (۲) خراب

نمی‌شود: اگر

$$Ax = y = (y_1, y_2, \dots, y_n)$$

آن وقت، برای جدول جدید A' ، خواهیم داشت:

$$A'x = y' = (y_1 + y_2, y_2, \dots, y_n)$$

و اگر $y \neq 0$ ، آن وقت $y' \neq 0$. همچنین، اگر ستون دوم جدول A را به ستون اول آن اضافه کنیم، باز هم شرط (۲) به هم نمی‌خورد: اگر

$$Ax = y, x = (x_1, x_2, \dots, x_n)$$

آن وقت، برای جدول جدید A'' خواهیم داشت:

$$A''x = y'', x'' = (x_1 + x_2, x_2, \dots, x_n)$$

و اگر $x \neq 0$ ، روشن است که، به همین ترتیب، می‌توان زامین سطر را به زامین سطر و یا زامین ستون را به زامین ستون اضافه کرد؛ همچنین اگر دو تبدیل را با هم و به طور هم‌زمان انجام دهیم، آن وقت، جدول جدید، نه تنها نسبت به (۲) بلکه در ضمن نسبت به تقارن (۱) هم، «رو به راه» خواهد بود (در ضمن، قانون $1 + 1 = 0$ ، صفرها را در قطرها حفظ می‌کند).

اکنون سعی می‌کنیم، جدول A را ساده کنیم. می‌توان فرض کرد که، «دو

۱۷۴. حل مسأله (b) را می آوریم. متخصص می تواند به این ترتیب

عمل کند.

۱. متخصص. سکه اول را در کفه چپ و سکه هشتم را در کفه راست ترازو می گذارد و چون کفه راست سنگین تر است، قاضی اطمینان بیدامی کند که سکه اول تقلبی و سکه هشتم واقعی است.

۲. سکه های دوم، سوم و هشتم را در کفه راست و سکه های نهم، دهم و اول را در کفه چپ می گذارد. کفه چپ سنگین تر است، و قاضی قانع می شود که سکه های دوم و سوم تقلبی و سکه های نهم و دهم واقعی اند.

۳. در کفه چپ، سکه های چهارم، پنجم، ششم، هفتم، هشتم، نهم و دهم؛ و در کفه راست، بقیه سکه ها را قرار می دهد. کفه راست سنگین تر است و قاضی می بیند که در آن، سکه های واقعی بیشتر از کفه چپ است، همچنین در کفه چپ، تعداد سکه های تقلبی بیشتر از کفه راست است و این ثابت می کند که، سکه های چهارم، پنجم، ششم و هفتم تقلبی و سکه های ۱۱، ۱۲، ۱۳ و ۱۴ حقیقی اند.

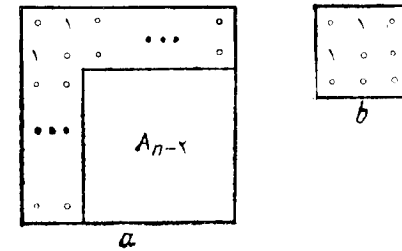
▽ به همین ترتیب می توان $2^k - 1$ سکه تقلبی و 2^k سکه حقیقی را، ضمن k مرتبه استفاده از ترازو، از هم جدا کرد (برای هر $k \geq 1$).

۱۷۵. فرض می کنیم، عدد $D = A^2$ ، که با شرط های مسأله سازگار است، وجود دارد. روشن است که عدد A به ۵ ختم شده است، بنابراین $A = 10a + 5$ از این جا

$$D = 100a(a+1) + 25$$

به ۲۵ ختم می شود عدد $a(a+1)$ به ۲، ۶ یا صفر ختم می شود. بنا بر این، سومین رقم از سمت راست عدد D برابر ۶ است (۵ بین رقم های عدد D وجود ندارد. از رقم ۲ هم دو بار استفاده نمی شود)، یعنی $D = 1000k + 625$. می بینیم که D بر $5^3 = 125$ ، و بنا بر این بر 5^4 بخش پذیر است. یعنی k بخش پذیر بر ۵ است و، بنا بر این، رقم چهارم عدد از سمت راست باید برابر ۵ یا ۰ باشد، که ممکن نیست.

۱۷۶. مسأله با استقرا حل می شود. برای $n=3$ ، $n=5$ و $n=6$ ،



شکل ۷۲

تیم اول، با هم بازی کرده اند»، یعنی $a_{21} = a_{12} = 1$. اگر سطر اول (و همچنین ستون اول) را بدستور (یا ستونی) که در آن، واحدها درستون دوم (وسطر متناظر آن) قرار گرفته اند، اضافه کنیم، آن وقت از همه این واحدها، خلاص می شویم؛ بد همین ترتیب بد کمک سطر دوم (و ستون دوم)، از واحدهای ستون اول (و واحدهای سطر اول) خلاص می شویم و به جدول A_{n-2} ، به صورتی که در شکل ۷۲، نشان داده شده است، می رسیم. اگر دوسطر اول و دو ستون اول را از جدول حذف کنیم، به جدول A_{n-2} با اندازه های $(n-2) \times (n-2)$ می رسیم که، مثل قبل، با شرط های (۱) و (۲) سازگار است؛ در واقع برای هر

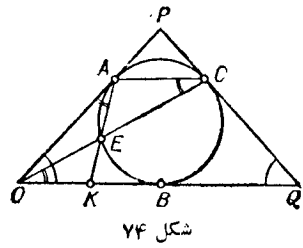
$$x = (0, 0, x_1, x_2, \dots, x_{n-2})$$

داریم $AX = 0$ و جدول باقی مانده A_{n-2} ، درست به همان ترتیب، مختصات

$$(x_1, x_2, \dots, x_{n-2})$$

را تبدیل می کند. اگر ساده کردن جدول را، به همین ترتیب ادامه دهیم، به جدول های A_{n-4} ، A_{n-6} ، ... می رسیم. اگر n عددی فرد باشد، سر آخر به جدول 3×3 می رسیم که، بعد از ساده کردن، جدول A_3 در شکل ۷۲، b به دست می آید. ولی این جدول «رو براه» نیست: اگر $x = (0, 0, 1)$ ، آن وقت $A_3 x = 0$. تناقض حاصل، درستی حکم مسأله را ثابت می کند.

▽ مضمون این مسأله با این قضیه جبر خطی تفاوتی ندارد که: ماتریس چپ $n \times n$ ، وقتی n عددی فرد باشد، «رو براه نیست». این قضیه، در حوزه دو عنصر ۰ و ۱، تا حدی دشوار تر می شود.



شکل ۷۴

توجه می‌کنیم: $\widehat{AOB} = \widehat{CQB}$ و $\widehat{OAE} = \widehat{OCA} = \widehat{COQ}$. از تشابه دو مثلث OAK و QOC نتیجه می‌شود:

$$\frac{OK}{OA} = \frac{CQ}{OQ} = \frac{1}{2}$$

یعنی $OK = \frac{OA}{2} = \frac{OB}{2}$. برابری دو زاویه OAE و ACO از قضیهٔ مربوط به به زاویهٔ بین مماس و وتر (زاویهٔ ظللی) نتیجه می‌شود.

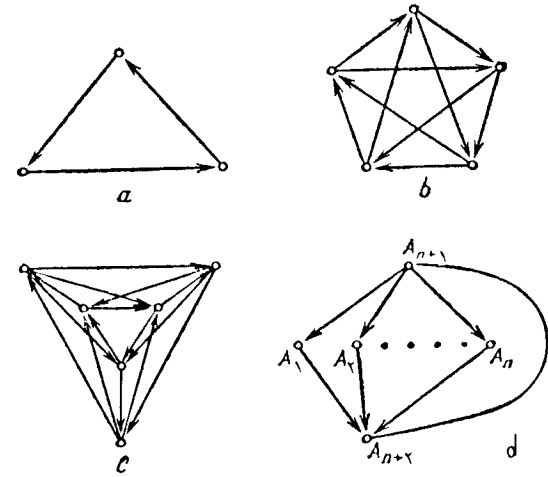
۱۷۸. فرض کنید: $f(x) = ax^2 + bx + c$ و $g(x) = cx^2 + bx + a$. چون $f(1) = g(1)$ و $f(-1) = g(-1)$ ، بنابراین $|g(1)| \leq 1$ و $|g(-1)| \leq 1$ ، به جز این، $|c| = |f(0)| \leq 1$. فرض می‌کنیم، برای مقداری از x داشته باشیم: $|g(x)| > 2$. در این صورت، اگر رأس سهمی را با مختصات $(x_0, g(x_0))$ بگیریم، داریم: $|x_0| \leq 1$ و $|g(x_0)| > 2$. از طرف دیگر، $g(x)$ را می‌توان این‌طور نوشت:

$$g(x) = c(x - x_0)^2 + g(x_0)$$

در این برابری به جای x ، از بین دو عدد -1 و 1 ، آن را که به x_0 نزدیکتر است، قرار می‌دهیم (برای روشن بودن وضع، این عدد را $+1$ می‌گیریم). در این صورت $|1 - x_0| \leq 1$ و بنابراین

$$|g(x_0)| = |g(1) - c(1 - x_0)^2| \leq g(1) + |c| < 1 + |c| \leq 2$$

که با نابرابری $g(x) > 2$ متناقض است.



شکل ۷۳

دستگاه لازم پیکان‌ها، در شکل‌های ۷۳، a، b و c نشان داده شده است. در شکل ۷۳، d یکی از روش‌هایی نشان داده شده است که، به کمک آن می‌توان، از دستگاه شامل n نقطه A_1, A_2, \dots, A_n (که با پیکان‌هایی به صورت مورد نظر بهم وصل شده‌اند)، به دستگاه لازم برای $n+2$ نقطه $A_1, A_2, \dots, A_n, A_{n+1}, A_{n+2}$ رسید. برای این منظور، به پیکان‌های موجود، این پیکان‌ها را اضافه می‌کنیم: از A_{n+1} به سمت همهٔ نقطه‌های A_1, A_2, \dots, A_n و، سپس، از هر یک از نقطه‌های A_1, A_2, \dots, A_n به سمت A_{n+2} و، سرانجام، از A_{n+2} به سمت A_{n+1} .

در این صورت، بنا بر اصل استقرای ریاضی، حکم مسأله برای عددهای فرد $n \geq 3$ و عددهای زوج $n \geq 6$ درست است.

برای $n = 4$ ، نمی‌توان چنین دستگاهی را پیدا کرد.

۱۷۷. مماس بردایرهٔ مفروض را در نقطهٔ C رسم می‌کنیم و نقطه‌های برخورد آن را با ضلع‌های زاویه، P و Q می‌نامیم. چون $AP = PC$ ، پس مثلث APC و، همراه با آن، مثلث OPQ متساوی‌الساقین است. بنا بر این (شکل ۷۴):

$$AO = CQ = OB = BQ$$

مثال $f(x) = 2x^2 - 1$ نشان می‌دهد که ارزیابی $|g(x)| \leq 2$ را نمی‌توان بهتر کرد. (در این حالت $(g(x)) = -x^2 + 2$).

۱۷۹. پاسخ: بزرگترین شماره ممکن برای برنده، برابر است با ۲۰۵. چون بازی کن با شماره k (بدون در نظر گرفتن تنیس بازان قوی‌تر)، تنها ممکن است به دو تنیس باز با شماره‌های $k+1$ و $k+2$ بیازد، بنابراین، بعد از هر دور بازی، در بین پیروزشدگان، هیچ کس نمی‌تواند بیش از دو ردیف جلوتر رفته باشد؛ بدین ترتیب، شماره برنده همه دورها، نمی‌تواند از ۲۱ بیشتر باشد. با وجود این، ثابت می‌کنیم، تنیس باز با شماره ۲۱، نمی‌تواند برنده مسابقه باشد. برای این منظور، باید بعد از دور اول بازی، شماره‌های ۳ و ۴، شماره‌های ۲۰۱ را از میدان بیرون کرده باشند (در غیر این صورت، شماره برنده از ۲۱ کمتر می‌شود)؛ در دور دوم باید شماره‌های ۵ و ۶، شماره‌های ۳ و ۴ را شکست دهند و غیره تا آن جا که، در دور نهم بازی، که شماره‌های ۱۹ و ۲۰ بر شماره‌های ۱۷ و ۱۸ پیروز می‌شوند. به این ترتیب، شماره ۲۱ به فینال، که در آن باید دو نفر با هم روبه‌رو شوند، نمی‌رسد.

این مطلب باقی می‌ماند که نمونه‌ای از مسابقه را بیاوریم که، در آن، تنیس باز شماره ۲۰ به پیروزی می‌رسد. برای این منظور، همه تنیس بازان را، به دو گروه ۵۱۲ نفری تقسیم می‌کنیم. در گروه اول، شماره‌های ۱۹ و ۲۰ و ۵۱ نفر از ضعیف‌ترین بازی‌کن‌ها را قرار می‌دهیم. مسابقه گروه را طوری تنظیم می‌کنیم که شماره ۲۰ برنده شود (روشن است که، این امر، ممکن است). در گروه دوم شماره‌های ۱ تا ۱۸ و بقیه ضعیف‌ترین بازی‌کن‌ها را قرار می‌دهیم و مسابقه را طوری تنظیم می‌کنیم که نفر شماره ۱۸ پیروز شود. اگر مسابقه را، به شکلی که در بالا شرح دادیم، تنظیم کنیم، این امر ممکن است: در دور اول شماره‌های ۴۳. از شماره‌های ۲۰۱ می‌برند، در دور دوم ۵ و ۶ و ۴۳ می‌برند و غیره تا جایی که شماره‌های ۱۸ و ۱۷ از شماره‌های ۱۵ و ۱۶ برنده شوند و، بعد از آن، در دور نهم، شماره ۱۸ از شماره ۱۷ ببرد. در فینال شماره‌های ۱۸ و ۲۰ با هم روبه‌رو می‌شوند و، بنابراین، شماره ۲۰ می‌تواند برنده باشد.

∇ با استقرای ریاضی می‌توان ثابت کرد که، اگر با 2^n بازی کن سروکار داشته باشیم، بزرگترین شماره‌ای که می‌تواند برنده شود، شماره $2n$ است.

۱۸۰. اگر معادله $f(x) = x$ ریشه حقیقی نداشته باشد، به معنای آن است که به ازای همه مقسدرهای x ، یا $f(x) > x$ (اگر $a > 0$) و یا $f(x) < x$ (اگر $a < 0$)، ولی در این صورت، یا $f(f(x)) > f(x) > x$ و یا $f(f(x)) < f(x) < x$ ؛ و این به معنای آن است که معادله $f(f(x)) = x$ ریشه حقیقی ندارد.

∇ حکم مساله، نه تنها برای سه جمله‌ای درجه دوم، بلکه برای هر تابع پیوسته‌ای درست است.

۱۸۱. (i) یادآوری می‌کنیم که، اگر، به مجموعه مفروض خانه‌های سیاه، باز هم چند خانه سیاه اضافه کنیم، آن وقت بعد از رنگ آمیزی، تنها می‌تواند خانه‌های سیاه اضافی، حاصل شود، به مجموعه نخستین M از خانه‌ها، خانه‌هایی اضافه می‌کنیم تا مربع سیاه $m+m$ خانه‌ای بدست آید.

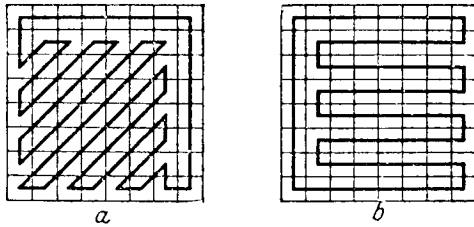
بعد از $2m-1$ گام، از مربع (و در نتیجه، از M) چیزی باقی نمی‌ماند. (b) مجموعه خانه‌های سیاه را، که از M بعد از 2 گام بدست می‌آید، M_1 می‌نامیم. با استقرا نسبت به n ثابت می‌کنیم، برای هر مجموعه M از n خانه، M_n مجموعه‌ای تهی است. این مطلب، به ازای $n=1$ روشن است. فرض می‌کنیم، برای مجموعه‌هایی که کمتر از n خانه دارند، ثابت شده باشد و مجموعه را خواه M را، شامل n خانه، در نظر می‌گیریم. می‌توان M را در صفحه مختصات (O, x, y) ، در ربع $x \geq 0$ و $y \geq 0$ در نظر گرفت، بدینجوری که در نوار $0 \leq x \leq 1$ و $0 \leq y \leq 1$ ، دست کم یک خانه از M وجود داشته باشد (شکل ۷۵). در این صورت، بنا بر فرض استقرا، M_{n-1} با ربع $x \geq 1$ اشتراکی ندارد (خانه‌هایی که در نوار $0 \leq x \leq 1$ قرار دارند، اثری بر اصل مطلب، به ازای $x \geq 1$ ندارند). بنابراین، M_{n-1} در نوار $0 \leq x \leq 1$ واقع است. به همین ترتیب می‌توان ثابت کرد که M_{n-1} تنها شامل یک خانه است و M_n تهی می‌شود.

می شود که، در این صورت، تعداد آشنایای یکسان تنها بین افراد باشماره های k و $N-k$ خواهد بود. به این ترتیب هیچ سه نفری، تعداد آشنایای مساوی ندارند.

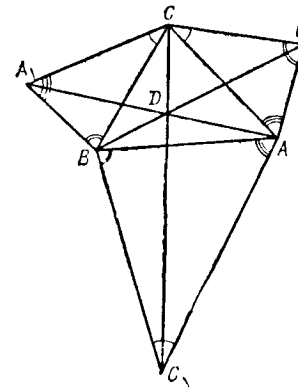
۱۸۴. (a) شکل ۷۷. b را ببینید.

(b) هر يك از ۲۸ میدان کناری را روی صفحه شطرنج جدا می کنیم. شاه ضمن دور زدن صفحه، در هر يك از آن ها خواهد بود. این میدان ها را بدهمان ردیفی که شاهدیدن کرده است، شماره گذاری می کنیم. مسیر شاه به ۲۸ قطعه تقسیم می شود: از میدان ۱ به میدان ۲، از میدان ۲ به میدان ۳، ...، از میدان ۲۸ به میدان ۱. فرض می کنیم، مسیر شاه برخوردی با خود نداشته باشد، بنابراین، خانه های ۱ و ۲، ۳ و ۴، ...، ۲۷ و ۲۸، ۲۸ و ۱، خانه های مجاور حاشیه باریک را تشکیل می دهند. (اگر مثلاً خانه های ۱ و ۲ مجاور نباشند، آن وقت این خانه ها، حاشیه کناری را به دو بخش تقسیم می کنند و مسیر شاه، از هر خانه یکی از این بخش ها، به هر خانه دیگری، بخش «۱-۲» را قطع می کند که با شرط مسئله در تناقض است.) ولی برای این که شاه در خانه مجاور حاشیه بیفتد، باید در یکی از گام ها، از خانه ای به خانه ای با رنگ دیگری برود، یعنی حرکت خود را در جهت قائم یا جهت افقی انجام دهد. از این جا نتیجه می شود که، در مسیر شاه، کمتر از ۲۸ حرکت ممکن نیست. (c) روشن است که، طول مسیر شاه، از ۴۶ کمتر نیست و چنین مسیری وجود دارد (شکل ۷۷-b).

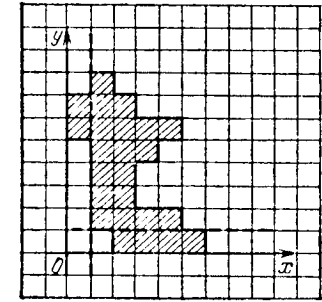
از طرف دیگر ثابت کردیم که مسیر شاه، کمتر از ۲۸ پاره خط راست به طول واحد ندارد. بنابراین، شاه می تواند حداکثر ۳۶ حرکت قطری داشته باشد، به نحوی که تمامی مسیر او از $28 + 36\sqrt{2}$ بیشتر



شکل ۷۷



شکل ۷۶



شکل ۷۵

۱۸۲. D را نقطه برخورد AA_1 و BB_1 می گیریم. چون دو زاویه A_1CA و B_1CB با هم برابرند (شکل ۷۶) و $AC:BC = A_1C:B_1C$ دو مثلث A_1CA و B_1CB با هم متشابه اند و بنابراین زاویه های DBC و DA_1C با هم برابر می شوند. بدین ترتیب، نقطه های D, B, C, A_1 بر روی محیط يك دایره اند. بدهمین ترتیب، ثابت می شود که نقطه های D, A, C, B_1 هم روی محیط يك دایره واقع اند. یعنی D نقطه برخورد دایره های محیطی مثلث های ABC و $A_1B_1C_1$ است. اکنون توجه می کنیم که

$$\widehat{ADB} = 180^\circ - \widehat{ADB_1} = 180^\circ - \widehat{AC_1B}$$

بنابراین نقطه های A, B, D, C_1 بر روی محیط يك دایره اند. به این ترتیب، D نقطه برخورد هر سه دایره محیط بر مثلث است و طبق آن چه قبلاً ثابت شد، خط راست CC_1 هم از نقطه D می گذرد.

۱۸۳. این مساله را می توان با استفراي ریاضی حل کرد. در این جا از راه حل دیگری استفاده می کنیم.

افراد را از ۱ تا N شماره گذاری و فرد با شماره i را به شرطی با فرد شماره j آشنا می کنیم که داشته باشیم: $|i-j| \leq \frac{N}{4}$. به سادگی دیده

نمی‌شود (نمونه چنین مسیری در شکل ۷۷، a داده شده است).

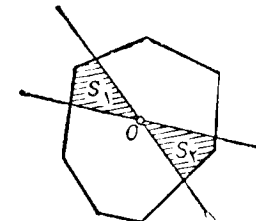
$$۱۸۵. \text{ چون } \frac{1}{4} b^2 \leq \frac{1}{4} bc \leq ۱ \text{؛ پس } b \geq \sqrt{2}$$

۱۸۶. هر دو خط راستی را که از نقطه O ، واقع در درون n ضلعی می‌گذرند و مساحت n ضلعی M را نصف می‌کنند، باهم، در نظر می‌گیریم. در این صورت، بین دوزاویه روبه‌رو که به وسیله این دو خط راست تشکیل شده است، بخش‌های برابری از مساحت n ضلعی واقع است (S_1 و S_2 روی شکل ۷۸).

چندضلعی M' را قرینه چندضلعی M نسبت به O فرض می‌کنیم. اگر از نقطه O خط راست طوری عبور کند که، هر کدام از آن‌ها مساحت را نصف کند، آن وقت در هر یک از $2k$ زاویه که به وسیله این k خط راست در صفحه به وجود می‌آید، باید نقطه برخوردی از محیط‌های M و M' وجود داشته باشد. ولی روی هر ضلع چندضلعی M ، بیش از دو نقطه از این گونه نقطه‌های برخورد وجود ندارد. یعنی، اگر M دارای n ضلع باشد، تعداد نقطه‌های برخورد از $2k$ کمتر و از $2n$ بیشتر نیست، از این جا $k \leq n$.
۱۸۷. اگر $x_1 \geq x_2 \geq \dots \geq x_n$ آن وقت نابرابری نتیجه‌ای از اتحاد زیر است:

$$\begin{aligned} & (x_1 + x_2 + x_3 + x_4 + x_5)^2 - (x_1 - x_2 + x_3 - x_4 + x_5)^2 = \\ & = 4(x_1 + x_2 + x_3)(x_2 + x_4) = 4(x_1 x_2 + x_2 x_3 + x_3 x_4 + \\ & \quad + x_4 x_5 + x_5 x_1) + 4x_5(x_2 - x_1) + 4x_1 x_4 \end{aligned}$$

و اگر $x_1 > x_2$ ، به همان ترتیب، از اتحاد زیر استفاده می‌شود:



شکل ۷۸

$$\begin{aligned} & (x_1 + x_2 + x_3 + x_4 + x_5)^2 - (x_1 - x_2 - x_3 + x_4 - x_5)^2 = \\ & = 4(x_1 x_2 + x_2 x_3 + x_3 x_4 + x_4 x_5 + x_5 x_1) + \\ & \quad + 4x_3(x_1 - x_2) + 4x_2 x_4 \end{aligned}$$

▽ به‌طور کلی، نابرابری

$$(x_1 + x_2 + \dots + x_n)^2 \geq c_n(x_1 x_2 + x_2 x_3 + \dots + x_n x_1)$$

برای $c_2 = 2$ ، $c_3 = 3$ ، $c_4 = 4$ برقرار است (در ضمن، به‌ازای این مقادیرهای n ، نابرابری برای همه مقادیرهای x_i برقرار است و لزومی ندارد x_i ‌ها، مثبت باشند). همچنین، به‌ازای همه مقادیرهای $n \geq 5$ (و $x_i > 0$)، برای $c_n = 4$ برقرار است. حکم اخیر از اثباتی که برای $n = 5$ داشتیم، به‌کمک استقرا به دست می‌آید: اگر به صورت دوری حرکت کنیم و شماره‌ها را طوری بگیریم که x_{n-1} کوچکترین باشد، آن وقت

$$\begin{aligned} & (x_1 + x_2 + \dots + x_{n+1})^2 - (x_1 + x_2 + \dots + x_n)^2 \geq \\ & \geq -4x_1 x_n + 4x_1 x_{n+1} + 4x_n x_{n+1} \end{aligned}$$

زیرا

$$4x_{n+1}(x_2 + \dots + x_{n-1}) + (x_{n+1} - 2x_1)(x_{n+1} - 2x_n) \geq 0$$

۱۸۸. پاسخ: ۲۹ متوازی‌السطوح.

یادآوری می‌کنیم که متوازی‌السطوح با معلوم بودن یکی از رأس‌ها و سه صفحه «میان» (صفحه‌هایی که، هر کدام از آن‌ها، از رأس‌های متوازی‌السطوح به یک فاصله‌اند، یعنی از مرکز متوازی‌السطوح می‌گذرند و با دو وجه آن موازی‌اند)، به‌طور یک ارزشی معین می‌شود.

برای چهار نقطه مفروض K, L, M, N (به شرطی که روی یک صفحه نباشند)، هفت صفحه وجود دارد که از این نقطه‌ها به یک فاصله‌اند (آن‌ها، چهاروجهی $KLMN$ را در پال‌های «میان» قطع می‌کنند). از این هفت صفحه، سه صفحه را می‌توان به $C_3^4 = 35$ طریق انتخاب کرد.

ولی ما به سه صفحه‌ای نیاز داریم که در یک نقطه به هم رسیده باشند. بنابراین، از بین این سه‌تایی‌ها، باید آن‌هایی را که با یک خط راست موازی‌اند، کنار گذاشت. از این گروه سه‌تایی‌ها، ۶ مورد وجود دارد: این‌ها گروه‌های سه‌تایی صفحه‌هایی هستند که با یکی از عمود چهاروجهی موازی‌اند. با انتخاب یکی از $29 = 35 - 6$ گروه سه‌تایی از صفحه‌های «میان»، می‌توانیم به وسیله چهار رأس مفروض، یک متوازی‌السطوح بسازیم؛ برای این منظور، کافی است از چهار نقطه مفروض، صفحه‌هایی موازی با صفحه‌های «میان» رسم کنیم.

۱۸۹. پاسخ: (a) ۱۰ پرسش؛ (b) ۱۱؛ (c) ۱۲؛ (d) ۵۰.

(a) ۳۰ عدد را به ۱۰ گروه سه‌تایی تقسیم می‌کنیم و حاصل ضرب عددهای هر گروه را می‌پرسیم. روشن است که با تعداد کمتری پرسش نمی‌توان به نتیجه رسید، زیرا هر عدد باید در یکی از گروه‌های سه‌تایی وارد شده باشد. (b) حاصل ضرب هفت عدد اول را می‌توان به کمک حاصل ضرب‌های $a_1 a_2 a_3$ ، $a_4 a_5 a_6$ ، $a_7 a_8 a_9$ ، $a_{10} a_{11} a_{12}$ پیدا کرد؛ و بقیه ۲۴ عدد را، مثل حالت (a)، به گروه‌های سه‌تایی تقسیم می‌کنیم. روشن است که، در این حالت هم، نمی‌توان با تعداد کمتری پرسش به نتیجه رسید.

(c) حاصل ضرب ۵ عدد اول را از روی $a_1 a_2 a_3$ ، $a_4 a_5 a_6$ و $a_7 a_8 a_9$

به دست می‌آوریم و بقیه عددها را به گروه‌های سه‌تایی تقسیم می‌کنیم.

از آنجا که هر عدد باید در یک گروه سه‌تایی وارد شده باشد، بنا بر این روشن است که، تعداد پرسش‌ها نمی‌تواند از ۱۱ کمتر باشد. در ضمن، یکی از عددها، درست در دو گروه سه‌تایی وارد شده است (اگر در بیش از دو گروه وارد شده باشد، آن وقت عددی پیدا می‌شود که در هیچ کدام از گروه‌ها وارد نشده است). در حاصل ضرب ۱۱ گروه سه‌تایی، مجذور این عدد وجود دارد و، بنا بر این، حاصل ضرب همه این عددها روشن نمی‌شود.

(d) با ۵۰ پرسش می‌توان از حاصل ضرب‌های $a_1 a_2 a_3$ ، $a_4 a_5 a_6$ ، $a_7 a_8 a_9$ ، $a_{10} a_{11} a_{12}$ ، $a_{13} a_{14} a_{15}$ ، $a_{16} a_{17} a_{18}$ ، $a_{19} a_{20} a_{21}$ ، $a_{22} a_{23} a_{24}$ ، $a_{25} a_{26} a_{27}$ ، $a_{28} a_{29} a_{30}$ اطلاع پیدا کرد. از حاصل ضرب این‌ها، مکعب حاصل-ضرب همه عددها به دست می‌آید که بر حاصل ضرب خود عددها منطبق است.

کمتر از ۵۰ پرسش کافی نیست. اگر حاصل ضرب یکی از گروه‌های سه‌تایی، مثلاً $a_1 a_2 a_3$ را بدانیم، آن وقت، دو نوع انتخاب از حاصل ضرب‌های مختلف وجود دارد که، برای آن‌ها، حاصل ضرب همه بقیه سه‌تایی‌ها، یکی است: گروهی که در آن

$$a_1 = a_2 = a_3 = a_4 = \dots = a_{30} = 1$$

و بقیه عددها مساوی ۱ باشند و گروهی که همه عددها برابر ۱ باشند. در گروه اول، حاصل ضرب همه سه‌تایی‌ها به جز $a_1 a_2 a_3$ برابر ۱ و در گروه دوم حاصل ضرب همه سه‌تایی‌ها برابر ۱ می‌شود.

∇ برای n عدد که، بین آن‌ها، می‌توان از حاصل ضرب سه عدد اطلاع پیدا کرد، مثل مساله‌های (a) و (b) و (c)، کمترین تعداد پرسش، برای $n = 3k$ برابر k ، برای $n = 3k + 1$ برابر $k + 1$ و برای $n = 3k + 2$ برابر $k + 2$ است. ولی اگر بخواهیم از حاصل ضرب تعدادی واقع بر محیط دایره اطلاع داشته باشیم (و در هر پرسش تنها بتوانیم حاصل ضرب سه عدد مجاور را مشخص کنیم)، وقتی n بر ۳ بخش پذیر باشد، به $\frac{n}{3}$ پرسش و وقتی n بر ۳ بخش پذیر نباشد، به $\frac{n}{3} + 1$ پرسش نیاز داریم.

۱۹۰. پاسخ: $5^2 - 36 = 11$.

رقم آخر عدد $5^k = 36^k$ برابر 6 و رقم آخر 5^k برابر 5 است. بنا بر این، عدد $5^k - 36^k$ یا با ۱ ختم می‌شود (اگر $5^k > 36^k$) و با ۹ ختم می‌شود (اگر $5^k < 36^k$). برابری $5^k - 36^k = 1$ ممکن نیست، زیرا در این صورت باید داشته باشیم:

$$5^k = (6^k - 1)(6^k + 1)$$

و عدد $6^k + 1$ بر ۵ بخش پذیر نیست. به ازای $k = 1$ و 2 بدست می‌آید:

$$36^k - 5^k = 11$$

برابری $36^k - 5^k = 9$ هم ممکن نیست. زیرا 5^k به ازای عددهای طبیعی

l بر ۳ بخش پذیر نیست.

۱۹۱. (a) پاسخ: نه همیشه. مثلاً، اگر روی هر ضلع مثلث متساوی الاضلاع با ضلع به طول ۲، مثلث‌های متساوی‌الساقین به ارتفاع $\frac{1}{10}$ بسازیم، همه ضلع‌های شش‌ضلعی حاصل، بیشتر از واحد است. در حالی که طول هر قطر آن از ۲ تجاوز نمی‌کند.
(b) پاسخ: همیشه.

بین قطرهای AD ، BE و CF ، دو قطر پیدا می‌شود که زاویه بین آن α از 60° درجه کمتر نیست. این دو قطر را، مثلاً، AD و BE می‌گیریم. متوازی‌الاضلاع $BEDK$ را می‌سازیم. چون

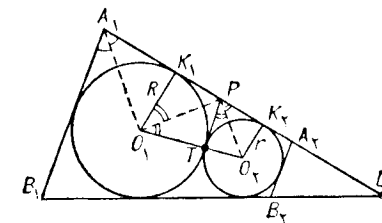
$$BE = DK > 2, AD > 2, \widehat{DAK} = \alpha > 60^\circ$$

بنابراین $AK > 2$ ، ولی $AB + BK \geq AK$ ، بنا بر این یا $AB > 1$ و یا $ED = BK > 1$.

۱۹۲. از تشابه مثلث‌های O_1K_1P و PK_2O_2 (طبق نام گذاری‌های شکل ۷۹) به دست می‌آید $PK_1 = Rr$. همچنین از تشابه مثلث‌های $A_1K_1O_1$ و $A_2K_2O_2$ نتیجه می‌شود: $A_1K_1 = K_2A_2 = Rr$. اکنون، بدون زحمت، به دست می‌آید:

$$K_1P = PK_2 = \sqrt{Rr} \text{ و } A_1K_1 + K_2A_2 \geq 2\sqrt{Rr}$$

(واسطه حسابی، از واسطه هندسی کمتر نیست). بنا بر این، اگر نقطه A_2 که برای آن $K_2A_2 = \sqrt{Rr}$ بین K_2 و L واقع باشد، آن وقت طول کوچکترین ساق دوزنقه برابر می‌شود با



شکل ۷۹

$$A_1K_1 + K_2A_2 + K_2A_2 = 2\sqrt{Rr}$$

و اگر $A_2K_2 \geq K_2L$ ، یعنی

$$\sqrt{Rr} \geq \sqrt{Rr} \cdot \frac{2r}{R-r} = q, R \geq 3r$$

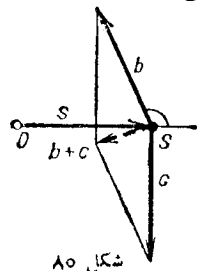
آن وقت

$$A_1A_2 > 2\sqrt{Rr} + q + \frac{Rr}{q} = \sqrt{Rr} \cdot \frac{(R+r)^2}{2r(R-r)}$$

به این ترتیب، به ازای $R > 3r$ ، حداقل طول ساق برابر $2\sqrt{Rr}$ می‌شود. اگر هم $R \leq 3r$ ، آن وقت دوزنقه با کوچکترین ساق وجود ندارد. در ضمن، می‌توان حکم کرد که طول ساق، از $\sqrt{Rr} \cdot \frac{(R+r)^2}{2r(R-r)}$ بیشتر است (این ارزیابی، دقیق است).

۱۹۳. همه بردارها را، به مبدا نقطه‌ای مثل O می‌گیریم.

ثابت می‌کنیم، اگر k بردار به مجموع $\vec{s} = \vec{OS}$ (شکل ۸۰) و $|s| \leq 1$ انتخاب کنیم، آن وقت، از بین بقیه بردارها می‌توان یا یک بردار a را انتخاب کرد که برای آن $|s+a| \leq 1$ و یا دو بردار b و c را می‌توان در نظر گرفت که برای آن‌ها $|s+b+c| \leq 1$. در واقع، اگر بین بقیه بردارها بردار a وجود دارد که برای آن $(a \cdot s) > 120^\circ$ ، آن وقت $|a+s| \leq 1$. ولی اگر چنین برداری وجود نداشته باشد، آن وقت، چون در هر دو طرف خط راست DS ، بردارهایی از دستگاه وجود دارد، می‌توان به عنوان b



شکل ۸۰

$$|a-b| + |b-c| + |c-a| = 2$$

چون $|a+b+c| = |a| + |b| + |c|$ ، بنا براین a, b, c هم علامت اند،

یعنی $ab \geq 0, bc \geq 0, ca \geq 0$ ولی در نابرابری

$$|a-b| + |b-c| + |c-a| \leq 2|a| + 2|b| + 2|c| = 2$$

(برای نابرابری، از $|a-b| \leq |a| + |b|$ استفاده کرده ایم)؛ برابری تنها

وقتی برقرار است که داشته باشیم: $ab \leq 0, bc \leq 0, ac \leq 0$. از این جا

نتیجه می شود:

$$ab = bc = ac = 0$$

یعنی دو عدد از سه عدد a, b, c برابر صفر و سومی (با توجه به یکی از

معادله های دستگاه)، از لحاظ قدر مطلق، برابر واحد است.

۱۹۵. F را نقطه برخورد خط راست BH با خط راست AD می-

گیریم (شکل ۸۱) از برابری مثلث های ABF و BPC (در یک ضلع مجاور

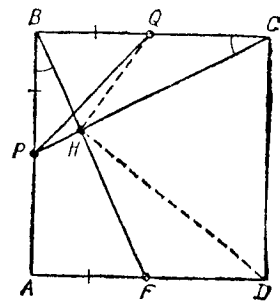
به زاویه قائمه و یک زاویه حاده) نتیجه می شود:

$$AF = BP = BQ \text{ و } FD = CQ$$

بنابراین، چهارضلعی $QCDF$ ، یک مستطیل است.

دایره محیط بر این مستطیل، از نقطه H می گذرد، زیرا FC قطر این

دایره است و در ضمن $\widehat{FHC} = 90^\circ$. چون DQ قطر مستطیل است، بنا بر این



شکل ۸۱

برداری را انتخاب کرد که، در یکی از دو نیم صفحه، بزرگترین زاویه را با s بسازد. به همین ترتیب، بردار c را در نیم صفحه دیگر در نظر می گیریم.

روشن است که یکی از دو زاویه $(\widehat{c \cdot s})$ یا $(\widehat{b \cdot s})$ منفرجه است و، بنا بر این، $(\widehat{b \cdot c}) > 120^\circ$ مثلاً فرض کنید $(\widehat{b \cdot s}) > 90^\circ$ در این صورت $|s+b| < \sqrt{2}$ ،

ولی، $(\widehat{b+c \cdot s}) > 120^\circ$ و در نتیجه $|s+b+c| \leq 1$. به این ترتیب، اگر به دستگاه با مجموع s ، ابتدا بردار b و سپس بردار c را اضافه کنیم، بعد از هر کدام، مجموع از $\sqrt{2}$ کوچکتر است.

ثابت کردیم که، در صورت مسأله، می توان 2 را با $\sqrt{2}$ عوض

کرد. با استدلالی ظریف تر می توان ثابت کرد که همیشه می توان بردارها را

طوری شماره گذاری کرد که مجموع k بردار اول آن از $\frac{\sqrt{5}}{2}$ بیشتر نباشد؛

در ضمن، ارزیابی اخیر، کاملاً دقیق است: مثال $2n+1$ بردار که یکی از

آن ها $(-1, 0)$ ، n عدد آن ها $(\frac{1}{n}, \sqrt{1-\frac{1}{n^2}})$ و n عدد دیگر آن

$(\frac{1}{n}, -\sqrt{1-\frac{1}{n^2}})$ باشند، نشان می دهد که عدد $\frac{\sqrt{5}}{2}$ را نمی توان کوچکتر

کرد.

قضیه مشابهی وجود دارد، که آن را پیش قضیه شتینر گویند. و آن

را می توان در فضای m بعدی ثابت کرد (برای هر «نرم» و طولی از بردارها)؛

در ضمن، ثابت مناظر شتینر از m تجاوز نمی کند.

۱۹۴. پاسخ: از بین عددهای a, b, c ، دو عدد برابر 0 و سومی

برابر 1 (روی هم، شش جواب).

کافی است در اتحاد مفروض، پشت سر هم قرار دهیم:

$$x = y = z = 1; \quad x = y = 0 \text{ و } z = 1; \quad x = 1 \text{ و } y = -1 \text{ و } z = 0$$

به این دستگاه می رسمیم:

$$|a+b+c| = 1, \quad |a| + |b| + |c| = 1$$

$$\widehat{DHQ} = 90^\circ$$

۱۹۶. برای اثبات کافی است به این نکته توجه کنیم که، ضمن تغییر رنگ هر نقطه «ویژه»، از تعداد پاره‌خط‌های راستی که در دو انتهای خود دو رنگ مختلف دارند، دست کم یکی کم می‌شود. بنا بر این، تجدید رنگ را تنها به تعداد محدودی می‌توان انجام داد و، بعد از آن، نقطه «ویژه‌ای» باقی نمی‌ماند.

۱۹۷. پاسخ: $n = k$ و k برابر ۱، ۸ یا ۹.

اگر n^k دارای k رقم و k^k دارای n رقم باشد، آن وقت

$$10^n \leq k^k < 10^{n+1} \text{ و } 10^k \leq n^n < 10^{k+1}$$

برای مشخص بودن وضع، فرض می‌کنیم: $n \geq k$. در این صورت $n^n < 10^n$ ، یعنی $n < 10$ و $k < 10$. کافی است تحقیق کنیم:

$$105 < 10^6 < 6^6 < 10^4 < 5^5 < 1000 < 4^4 < 1000 < 3^3 < 100 < 2^2$$

$$10^9 < 9^9 < 10^8 < 8^8 < 10^7 < 7^7 < 10^6$$

۱۹۸. مثلث ABC را دور نقطه C به اندازه 90° درجه طوری دوران می‌دهیم که نقطه A به نقطه B برود. در این صورت، نقطه E به نقطه F واقع بر خط راست AC می‌رود که، برای آن داریم:

$$FC = BD \text{ و } FB \parallel CL \parallel DK$$

بنا بر این $BL = LK$.

۱۹۹. (a) می‌توان.

موش در هر جا که باشد، باید گردها را طوری قرار داد که موش، روی پاره‌خط راست بین آن‌ها و موازی یکی از قطرهای صفحه شطرنج باشد. با هر حرکت موش، گردها طوری حرکت می‌کنند که باز هم، مثل قبل، موش در بین آن‌ها، روی خط راستی موازی قطر قرار گیرد.

(b) از جایی که موش قرار دارد، دو پاره‌خط راست موازی قطر را رسم و خانه‌های این پاره‌خط‌های راست را استثنا می‌کنیم. در یکی از چهار

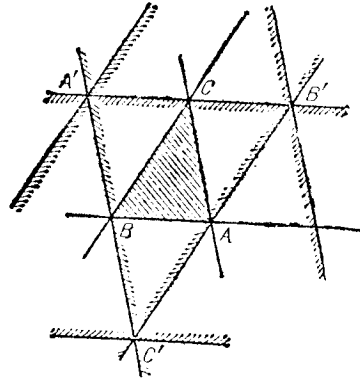
بخشی که به این وسیله روی صفحه شطرنج پیدا می‌شود، گردهای وجود ندارد و موش، باید در همین بخش، روی مسیر قطری به سمت کناره صفحه برود. روشن است که گردها نمی‌توانند به او برسند، زیرا بعد از حرکت گردها، در برابر موش و در جهت حرکت او، بخشی از صفحه وجود دارد که گردهای در آن پیدا نمی‌شود.

۲۰۰. (a) برای این که ردیف مورد نظر را به دست آوریم، در نیمی از سطر، عددهای زوج و در نیم دیگر سطر، عددهای فرد را می‌نویسیم. در این صورت، اگر دو عدد از دو نیمه مختلف سطر را در نظر بگیریم، نصف مجموع آن‌ها، عددی درست نمی‌شود و، بنا بر این، برابر با عددی واقع در بین آن‌ها نخواهد بود. سپس، در هر یک از دو نیمه سطر، مشابه همان عمل را انجام می‌دهیم: هر یک از دو نیمه را به دو گروه چهارتایی تقسیم می‌کنیم و در آن‌ها، عددهای به صورت $4k+2$ ، $4k+1$ ، $4k+3$ و $4k+4$ را قرار می‌دهیم. در این صورت نصف مجموع دو عدد در هر یک از دو نیمه سمت چپ عددی فرد و در هر یک از دو نیمه سمت راست عددی زوج است و، بنا بر این، برابر با عددی در بین آن دو عدد نیست. سپس، هر یک از چهار بخش را، به دو بخش تقسیم می‌کنیم؛ در ضمن در این جا، نقش «زوج» و «فرد» به عهده عددهایی است که در تقسیم بر ۸ به باقی‌مانده‌های مختلف می‌رسند و غیره. نتیجه ردیف عددها، به این صورت درخواهد آمد:

$$26, 10, 18, 2, 30, 14, 22, 6, 26, 12, 20, 4, 32, 16, 24, 8$$

$$25, 9, 17, 1, 29, 13, 21, 5, 27, 11, 19, 3, 31, 15, 23, 7$$

(b) برای این که حکم مساله را برای هر تعداد N عدد ثابت کنیم، کافی است اثبات را، برای $N = 2^n$ بیاوریم (عددهای اضافی را می‌توان حذف کرد: مثلاً، اگر ردیف عددها را برای تعداد $N = 2^7 = 128$ عدد به دست آوریم، می‌توان عددهای بزرگتر از ۱۰۰ را از بین آن‌ها حذف کرد و ردیف لازم را برای $N = 100$ عدد به دست آورد). اندیشه اصلی راه‌حل، در (a) نشان داده شد؛ اثبات کوتاه‌تر را می‌توان با روش استقرای روی n به دست آورد.



شکل ۸۲

حالت‌های خاص این حقیقت استفاده خواهیم کرد.

M را نقطه‌ای از چندضلعی P می‌گیریم. چون مساحت مثلث MBC از مساحت مثلث ABC بیشتر نیست، بنا بر این M در نواری قرار دارد که، محور تقارن آن، خط راست BC و عرض آن دو برابر ارتفاعی از مثلث ABC است که از رأس A گذشته باشد. اگر به همین استدلال دربارهٔ مثلث‌های MCA و MAB متوسل شویم، معلوم می‌شود که، همهٔ نقطه‌های چندضلعی، متعلق به اشتراك سه نوار حاصل اند، مثلث $A'B'C'$ (شکل ۸۲)، که مساحت آن برابر است با $4S_{ABC}$.

شبهه این استدلال را در مسالهٔ ۸۵ داشتیم. در واقع در آن‌جا، ثابت کردیم، مثلث $A'B'C'$ ، مجموعهٔ نقطه‌های M است که، برای آن‌ها، همهٔ سه مساحت S_{MCA} ، S_{MBC} ، S_{MAB} از S_{ABC} تجاوز نمی‌کنند.

۲۰۳. تابع f در بازهٔ $[0, 1]$ غیر نزولی است، زیرا از $0 \leq x \leq y \leq 1$ نتیجه می‌شود:

$$f(x) = f((x-y) + y) \geq f(x-y) - f(y) \geq f(y)$$

به جز این، برای همهٔ مقادیر x ، داریم: $f(2x) \geq 2f(x)$. با توجه به این نکته‌ها، به دست می‌آید:

$$f(x) \leq f(1) \leq 2x: \frac{1}{2} < x \leq 1$$

حکم مساله برای $n=1$ و $n=2$ درست است: ردیف‌های (۱، ۲) و (۳، ۴، ۱) به دست می‌آید. اگر (a_1, a_2, \dots, a_N) ردیف مورد نظر $N=2^n$ عدد ۱، ۲، ...، N باشد، آن وقت

$$2a_1, 2a_2, \dots, 2a_N, 2a_1-1, 2a_2-1, \dots, 2a_N-1$$

ردیف مورد نظر برای $2N=2^{n+1}$ عدد خواهد بود: درستی حکم برای هر يك از دو نیمهٔ این ردیف، با توجه به فرض استقرا، با شرط لازم مساله سازگارند.

۲۰۱. پاسخ: ۱۵ عدد (۱۱۱، ۲۲۲، ...، ۹۹۹، ۴۰۷، ۵۱۸، ۶۲۹، ۳۷۰، ۴۸۱، ۵۹۲).

\overline{abc} را عدد مجهول می‌گیریم: بنا بر شرط مساله باید داشته باشیم:

$$\overline{abc} + \overline{acb} + \overline{bac} + \overline{bca} + \overline{cab} + \overline{cba} = 6\overline{abc}$$

از آن‌جا

$$222(a+b+c) = 6(100a+10b+c) \Rightarrow 7a = 3b + 4c$$

این معادله را می‌توان، با آزمایش همهٔ حالت‌ها، حل کرد (مثلاً a را، به ترتیب، برابر ۱، ۲، ...، ۹ گرفت و در هر مورد، معادلهٔ حاصل را با توجه به این که b و c دو رقم اند، حل کرد). ولی با اندکی تغییر در معادله، می‌توان راه حل کوتاه‌تری به دست آورد. معادله را به این صورت می‌نویسیم:

$$7(a-b) = 4(c-b)$$

از آن‌جا یا $a=b=c$ و یا $a-b=4$ و $c-b=7$ (که در این صورت $0 \leq b \leq 2$ و یا $0 \leq b \leq 9$)؛ و یا $b-a=4$ و $b-c=7$ (که در این صورت $7 \leq b \leq 9$).

۲۰۲. مجموعهٔ رأس‌های چندضلعی مفروض P را در نظر می‌گیریم و، از بین آن‌ها، سه رأس A ، B و C را طوری انتخاب می‌کنیم که، مساحت مثلث ABC ، حداکثر باشد. (روشن است که، مساحت مثلث ABC ، از مساحت هر مثلثی که بتوان در چندضلعی P جا داد، کمتر نیست. در این‌جا، از

ثابت می‌شود: $S_{B_1K_1L_1} \leq S_{K_1K_1L_1}$ و $S_{AL_1M_1} \leq S_{L_1L_1M_1}$
 را مساحت بخش مشترک مثلث‌های KLM و $A_1B_1C_1$ می‌گیریم.
 از مجموع نابرابری‌های حاصل، به دست می‌آید:

$$S_{A_1B_1C_1} - S \leq S_{K_1M_1L_1} + S_{M_1L_1L_1} + S_{L_1K_1K_1} =$$

$$= S - S_{K_1M_1L_1} \leq S$$

از آن جا $S_{A_1B_1C_1} = \frac{1}{4} S$ ، یعنی $\frac{1}{4} S \geq S$ ، اگر نقطه M بر C_1 ، نقطه L

بر C و نقطه K بر A منطبق باشند، آن وقت $S = \frac{1}{4} S$.

۲۰۵. اگر ضمن دوران به اندازه زاویه α ، دور نقطه O ، وتر Q_1Q_2 از دایره به مرکز O ، از وتر P_1P_2 به دست آید، آن وقت می‌توان نقطه R ، محل برخورد خط‌های راست P_1P_2 و Q_1Q_2 را از نقطه M وسط وتر P_1P_2 ، ضمن دوران به اندازه $\frac{\alpha}{2}$ دور نقطه O (در ضمن، نقطه M ، به نقطه M' از پاره‌خط راست OR می‌رود) تجانس به مرکز O و ضریب

$$k = \frac{1}{\cos \frac{\alpha}{2}} = OR : OM = OR : OM'$$

به دست می‌آید. از این نکته‌ها، برای حل مسأله استفاده می‌کنیم.

(a) مثلث $A_1B_1C_1$ با تبدیل‌هایی که شرح دادیم، از مثلث KLM به دست می‌آید که از وصل وسط ضلع‌های مثلث ABC به دست آمده است. چون دو مثلث KLM و $A_1B_1C_1$ ، هم‌چنین، دو مثلث ABC متشابه‌اند، بنابراین، مثلث‌های ABC و $A_1B_1C_1$ متشابه می‌شوند.

(b) چهارضلعی مورد نظر مسأله، با تبدیل تشابهی، از چهارضلعی به دست می‌آید که وسط ضلع‌های $ABCD$ را بهم وصل کرده است. ولی از وصل وسط ضلع‌های هر چهارضلعی، یک متوازی‌الاضلاع به دست می‌آید.

به ازای $f(x) \leq \frac{1}{p} f(2x) \leq \frac{1}{p} \leq 2x: \frac{1}{p} < x \leq \frac{1}{p}$

به ازای $f(x) \leq \frac{1}{p} f(2x) \leq \frac{1}{p^n} \leq 2x: \frac{1}{p^{n+1}} < x \leq \frac{1}{p^n}$

و چون $f(0) = 0$ ، پس $f(2x) \leq 2x$ (به ازای همه مقادیر x).
 (b) پاسخ: درست نیست. مثال

$$f(x) = \begin{cases} 0 & (0 \leq x \leq \frac{1}{2}) \\ 1 & (\frac{1}{2} \leq x \leq 1) \end{cases}$$

این تابع، با همه شرط‌های مسأله سازگار است. ولی

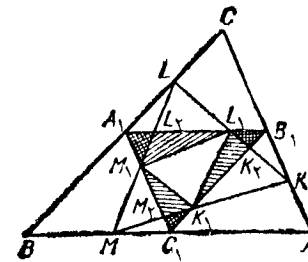
$$f(0.51) = 1 > 1/4 \times 0.51 = 0.1275$$

۲۰۴. پاسخ: $\frac{1}{8}$.

با توجه به نام‌گذاری‌های شکل ۸۳ داریم:

$$\frac{C_1M_1}{M_1M_1} \leq \frac{AK}{KC} \leq \frac{AB_1}{B_1C} = 1$$

بنابراین $C_1M_1 \leq M_1M_1$ و در نتیجه $S_{C_1M_1K_1} \leq S_{M_1M_1K_1}$ بدیهین ترتیب



شکل ۸۳

شرط‌های زیر سازگار باشند:

(الف) ابتدا و انتهای هر بردار، در نقطه‌های گرهی کاغذ شطرنجی باشد:

(ب) هر دو بردار، دارای جهت‌های مختلف باشند:

(ج) مجموع همه بردارها، برابر ۵ باشد:

(د) با برقراری شرط‌های الف تا ج)، مجموع طول‌های همه بردارها،


حداقل ممکن باشد.

همه بردارها را با مبدأ مشترک در نظر می‌گیریم. دستگاه ۳۲ بردار شکل ۸۵، با همه شرط‌های الف تا د) سازگارند. در بین آن‌ها، چهار بردار به طول واحد (آن‌ها را روی شکل ۸۵ نیآورده‌ایم). چهار بردار به طول $\sqrt{2}$ و سه گروه هشت برداری، به ترتیب، به طول $\sqrt{5}$ ، $\sqrt{10}$ و $\sqrt{13}$ وجود دارد.


▽ به همین ترتیب می‌توان n گروه چهار برداری با جهت‌های مختلف انتخاب کرد، به نحوی که $4n$ ضلعی محدب‌ی کند با ضلع‌هایی به طول این بردارها و با رأس‌هایی واقع در نقطه‌های گرهی صفحه شطرنجی ساخته می‌شود، حداقل محیط را داشته باشد.

۲۰۸. پاسخ: (a) $k=21$; (b) $k=52$ (شکل ۸۶).

تعداد این گونه نقطه‌ها را، در حالت کلی، برای مربع $m \times m$ محاسبه

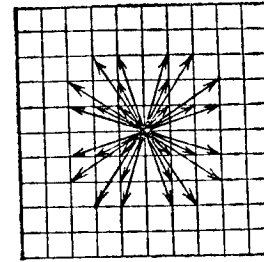


۸

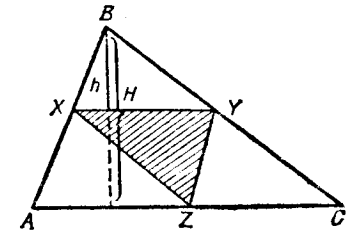


۹

شکل ۸۶



شکل ۸۵



شکل ۸۴

۲۰۶ پاسخ: $\frac{1}{3}$

قبل از همه یادآوری می‌کنیم که، بازی کن دوم، می‌تواند بدون توجه به بازی اولی، خود را به $\frac{1}{3} S_{XYZ} \leq \frac{1}{3} S_{ABC}$ برساند. برای این منظور، باید Y را طوری انتخاب کند که XY موازی با AC در آید (شکل ۸۴). در این صورت، برای هر نقطه Z واقع بر ضلع AC ، خواهیم داشت:

$$\frac{S_{XYZ}}{S_{ABC}} = \frac{XY}{AC} \cdot \frac{H-h}{H} = \frac{h(H-h)}{H^2} \leq \frac{1}{3}$$

از طرف دیگر، اگر نراول، نقطه‌های X و Z را در وسط ضلع‌های AB و AC در نظر بگیرد، می‌تواند به $\frac{1}{3} S_{XYZ} = \frac{1}{3} S_{ABC}$ برسد (بدون ارتباط با بازی درمی).

▽ مسأله مشابهی که در آن، به جای مساحت‌ها، صحبت بر سر محیط‌ها باشد، مسأله‌ای دشوارتر است.

۲۰۷. پاسخ: $4 + 4\sqrt{2} + 8\sqrt{5} + 8\sqrt{10} + 8\sqrt{13}$

محیط ۳۲ ضلعی $A_1 A_2 \dots A_{32}$ را به صورت مجموع ۳۲ بردار می‌گیریم:

$$\vec{A_1 A_2} + \vec{A_2 A_3} + \dots + \vec{A_{32} A_1} = \vec{0}$$

چون با هر ۳۲ بردار با جهت‌های مختلف و مجموع ۵، می‌توان یک ۳۲ ضلعی محدب ساخت، مسأله به این جا منجر می‌شود که: ۳۲ بردار پیدا کنیم که با

می‌کنیم.

x_i را تعداد نقطه‌های واقع در سطر با شماره i و $\sum_{i=1}^m x_i = k$ می‌گیریم.

اگر در یک سطر، دو نقطه را علامت بگذاریم، آن وقت در هیچ سطر دیگری نمی‌توان دو نقطه را در همین دو ستون علامت گذاری کرد. چون در سطر i ام به تعداد x_i نقطه علامت گذاشته شده است، از آن می‌توان به تعداد $\frac{1}{2}x_i(x_i - 1)$ زوج ساخت. ولی همه این زوج‌ها باید مختلف باشند، بنابراین تعداد آن‌ها نمی‌تواند از تعداد کل زوج‌های ممکن تجاوز کند، یعنی

$$\sum_{i=1}^m \frac{x_i(x_i - 1)}{2} \leq \frac{m(m-1)}{2}$$

از این جا نتیجه می‌شود:

$$\sum_{i=1}^m x_i^2 \leq m(m-1) + \sum_{i=1}^m x_i = m(m-1) + k$$

از آن جا که

$$\sum_{i=1}^m x_i^2 \geq \frac{1}{m}(x_1 + x_2 + \dots + x_m)^2 = \frac{1}{m}k^2$$

به این نابرابری می‌رسیم:

$$\frac{1}{m}k^2 \leq m(m-1) + k$$

و از این نابرابری به دست می‌آید:

$$k \leq \frac{1}{2}(m + m\sqrt{4m-3}) \quad (*)$$

به ازای $m=7$ و $m=13$ ، به ترتیب به دست می‌آید: $k \leq 21$ و $k \leq 52$.

▽ دشوارتر از حل مسأله، پیدا کردن مثال‌هایی است که حداکثر

مقدار k را تحقق بخشد. راه ساختن آن‌ها را می‌آوریم. در مثال (a) به عنوان

«شماره» سطرها (و همچنین ستون‌ها) از سه تایی‌های شامل عدد‌های ۰ و ۱ استفاده می‌کنیم، به جز سه تایی (۰ ۰ ۰). از این سه تایی‌ها، ۷ عدد وجود دارد:

$$(1, 0, 0); (0, 1, 0); (0, 0, 1); (1, 1, 0); (1, 0, 1); (0, 1, 1); (1, 1, 1); (0, 0, 1); (0, 1, 0)$$

خانه محل برخورد سطر (a_1, a_2, a_3) و ستون (x_1, x_2, x_3) را به شرطی علامت می‌گذاریم که $a_1x_1 + a_2x_2 + a_3x_3$ عددی زوج باشد.

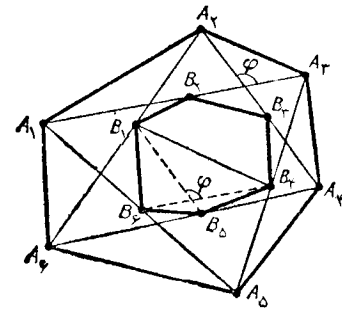
در مثال (b)، به جای «شماره» سطرها و ستون‌ها، از سه تایی‌های شامل عدد‌های ۰، ۱ و -۱، به جز سه تایی (۰ ۰ ۰) استفاده می‌کنیم؛ در ضمن از بین دو «سه تایی» که یکی از آن‌ها از ضرب دیگری در -۱ پیدا می‌شود، تنها یکی را در نظر می‌گیریم. تعداد این سه تایی‌ها برابر است با ۱۳: (۱ ۱ ۱)؛ سه تبدیل (۱ ۱ ۰)؛ سه تبدیل (۱ ۱ -۱)؛ سه تبدیل (۱ ۰ ۱) و سه تبدیل (۰ ۱ ۰).

خانه محل برخورد سطر (a_1, a_2, a_3) و ستون (x_1, x_2, x_3) را به شرطی علامت می‌گذاریم که $a_1x_1 + a_2x_2 + a_3x_3$ بر ۳ بخش پذیر باشد. و این، عبارت است از ساختمان صفحه‌های تصویری متناهی بر میدانی از $p=2$ و $p=3$ عضو: ستون‌ها متناظر با نقطه‌ها و سطرها متناظر با خط‌های راست صفحه تصویری هستند. ویژگی مورد نظر ما در جدول، منجر به این می‌شود که، از هر دو نقطه یک خط راست بگذرد و هر دو خط راستی در یک نقطه بهم برسند [خط راست (a_1, a_2, a_3) وقتی شامل نقطه (x_1, x_2, x_3) است که $a_1x_1 + a_2x_2 + a_3x_3$ نسبت به جدول p برابر با ۰ باشد]. می‌توان ثابت کرد: نابرابری (*) وقتی به برابری تبدیل می‌شود که داشته باشیم:

$$m = p^2 + p + 1$$

که در آن، p عددی طبیعی است؛ در ضمن

$$k = (p+1)(p^2 + p + 1)$$



شکل ۸۷

پاسخ به این پرسش که: آیا برای این گونه m و k می توان جدول متناظر را پیدا کرد، بسیار دشوار است. این منجر به مسأله وجود صفحه های تصویری متناهی مرتبه p می شود که هنوز حل نشده است. در حالت هایی که p عددی اول یا توانی از یک عدد اول باشد، پاسخ به این پرسش مثبت است.

۲۰۹. مساحت چهارضلعی $B_1 B_4 B_5 B_6$ (شکل ۸۷) برابر است با

$\frac{1}{4}$ مساحت چهارضلعی $A_1 A_4 A_5 A_6$ ، زیرا قطرهای چهارضلعی اول موازی

قطرهای چهارضلعی دوم و برابر نصف آن ها هستند: $B_1 B_5$ موازی $A_4 A_6$ و برابر نصف آن، $B_4 B_6$ موازی $A_1 A_5$ و برابر نصف آن. در ضمن می دانیم، اگر طول قطرهای یک چهارضلعی محذب را d_1 و d_2 و زاویه بین دو قطر

را φ بنامیم، مساحت چهارضلعی با دستور $S = d_1 d_2 \sin \frac{\varphi}{2}$ بیان می شود.

به همین ترتیب، ثابت می شود که، مساحت چهارضلعی $B_1 B_4 B_5 B_6$ هم، برابر

$\frac{1}{4}$ مساحت چهارضلعی $A_1 A_4 A_5 A_6$ است.

۲۱۰. به ازای $n=1$ ، چهار عدد ۱۱، ۲۱، ۱۲، ۲۲ با شرط های مسأله سازگارند.

a' را به معنای عددی می گیریم که از a ، با تبدیل رقم ۱ به ۲ و ۲ به ۱ در آن، به دست آمده باشد؛ همچنین b را به این معنا می گیریم که عدد b را کنار a نوشته ایم. فرض کنید، مجموعه A_n شامل 2^{n+1} عدد 2^n

رقمی باشد، به نحوی که هر دو تا از آن ها، دست کم در 2^{n-1} مرتبه خود، با هم فرق داشته باشند. مجموعه A_{n+1} را در نظر می گیریم که از عددهای aa' و aa' تشکیل شده باشد ($a \in A_n$). همه این عددها 2^{n+1} رقمی اند و روی هم، 2^{n+2} عدد را معرفی می کنند. به جز این، هر دو عدد، دست کم در 2^n مرتبه خود، باهم تفاوت دارند. در واقع، عددهای aa' و aa' ، هم چنین، عددهای aa' و bb' ، به ازای هر a و b ، درست در 2^n مرتبه، باهم متفاوتند (در مرتبه هایی که در آن ها، a و b برهم منطبق اند، a' و b' با هم فرق دارند و برعکس)؛ عددهای aa' و bb' ، بنا بر فرض استقرا، دست کم در 2^n مرتبه خود، با هم فرق دارند. حکم ثابت شد.

۲۱۱. همه چندضلعی ها را بزرگ خط راست تصویر می کنیم. تصویر هر کدام از چندضلعی ها، به صورت یک پاره خط راست در می آید و، در ضمن، با توجه به شرط مسأله، هر دو پاره خط، دارای نقطه ای مشترک اند. از این جا، می توان نتیجه گرفت که، همه این پاره خط های راست، نقطه مشترکی دارند (برای این که در این مورد قانع شوید، کافی است خط راست مفروض را همچون یک محور عددی در نظر بگیرید و کوچکترین عدد را، در بین عددهای نماینده انتهای راست این پاره خط ها انتخاب کنید). خط راستی که از نقطه مشترک این پاره خط های راست، عمود بر آن ها رسم شود، همه چندضلعی ها را قطع می کند. ۲۱۲. بدون این که بد کلی بودن مسأله لطمه ای وارد شود، می توان فرض کرد:

$$a \geq b \geq c$$

در این صورت $0 \leq (b-c)(a-c)$ و از آن جا

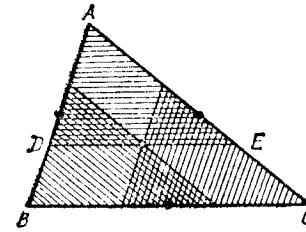
$$a^3 + abc \geq ac^2 + bc^2$$

و کافی است ثابت کنیم:

$$a^3 + b^3 + 2abc \geq ab(a+b) + a^2c + b^2c$$

ولی نابرابری اخیر را، می توان به این صورت نوشت:

$$(a-b)^2(a+b-c) \geq 0$$



شکل ۸۸

▽ به سادگی دیده می شود، که نابرابری، تنها وقتی به برابری تبدیل می شود که داشته باشیم: $a = b = c$.

۲۱۳. اگر یکی از مگس ها در رأس A قرار گیرد، آن وقت مرکز ثقل مثلثی که از مگس ها تشکیل می شود، در مثلث ADE قرار دارد (شکل ۸۸) که در آن $\frac{DE}{BC} = \frac{2}{3}$. چون یکی از مگس ها، از همة رأس ها می گذرد، بنا بر این مرکز ثقل «مثلث مگس ها» باید متعلق به سه مثلثی باشد که روی شکل ها شور زده ایم. تنها نقطه مشترک این سه مثلث، مرکز ثقل مثلث مفروض است.

۲۱۴. تعداد صفرها را p ، تعداد واحدها را q و تعداد دوها را r می گیریم. در هر گام، هر سه عدد p و q و r به اندازه یک واحد تغییر می کنند؛ آن ها که فردند زوج، و آن ها که زوج اند فرد می شوند. وقتی که تنها یک رقم روی تخته سیاه باقی می ماند، از عددهای p ، q و r ، یکی برابر ۱ و دوتای دیگر برابر می شود. بنا بر این، در ابتدا هم، زوج یا فرد بودن یکی از عددها با زوج یا فرد بودن دو عدد دیگر فرق داشته است؛ و همین عدد است که، سر آخر، روی تخته سیاه باقی می ماند.

۲۱۵. A_1, A_2, \dots, A_n را نقطه های برخورد خط های راست با کمانه بالای نوار و آن ها را به ردیف (از چپ به راست) شماره گذاری می کنیم؛ همچنین P_1, P_2, \dots, P_n را نقطه های برخورد خط های راست با کمانه پایین و باز هم از چپ به راست، فرض می کنیم. مسیرهایی را که از نقطه های B_1, B_2, \dots, B_n آغاز می شوند، با شماره های ۱، ۲، \dots ، n شماره گذاری می کنیم. با توجه به قانون ساختمان مسیر، این ویژگی ها به دست می آید.

۱°. از هر پاره خط راست، درست یک مسیر می گذرد؛

۲°. مسیرهای مجاور k و $k+1$ - در رأس هایی با هم تماس دارند؛ در ضمن، مسیر k همیشه در سمت چپ مسیر $k+1$ است (برای هر k از ۱ تا $n-1$). مسیرهای غیر مجاور، دارای نقطه مشترکی نیستند.

۳°. مسیری که از B_k آغاز شده است، به A_k ختم می شود. اکنون به اثبات بخش های مختلف مساله می پردازیم.

(a) همه مسیرهایی را در نظر می گیریم که از شماره های فرد آغاز شده اند. بنا بر ویژگی ۲°، این مسیرها، نقطه مشترکی ندارند و، تعداد آن ها، از $\frac{n}{2}$ کمتر نیست.

(b) با دو روش، تعداد کل پاره خط های راست همه مسیرها را محاسبه می کنیم، هر یک از پاره خط های راست $B_i A_{n+1-i}$ ، یکی از خط های راست، به وسیله خط های راست دیگر، به n پاره خط تقسیم می شود. بنا بر این، تعداد کل این پاره خط ها برابر n^2 است. با توجه به ویژگی ۱°، باید همین مجموع n^2 ، با جمع تعداد پاره خط های همه n مسیر هم، به دست آید. بنا بر این، دست کم یکی از جمله های این جمع، از n کمتر نیست.

البته حکم (b) را از حکم (d) هم می توان نتیجه گرفت.

(c) تعداد پاره خط ها را در دومسیر مرزی - مسیر اول و مسیر n - ارزیابی می کنیم.

این مسیرها، مجموعه های مسطحی را، که در سمت چپ مسیر اول و در سمت راست مسیر n قرار دارند، محدود می کنند؛ مسیر اول در درون زاویه $B_1 P A_1$ و مسیر n در درون زاویه $B_n P A_n$ قرار دارند که، در آن ها، عبارت است از نقطه برخورد خط های راست $B_n A_1$ و $B_1 A_n$. بقیه خط های راست $B_2 A_{n-1}, B_3 A_{n-2}, \dots, B_{n-1} A_2$ تنها می توانند با یکی از دو مسیر مرزی، پاره خط مشترکی داشته باشند (و در واقع، با آن مسیری که، نسبت به نقطه P ، در طرف دیگر این خط راست باشد). به این ترتیب، در دومسیر مرزی، بیش از $(n-2) + 2$ پاره خط وجود ندارد و، بنا بر این، در یکی از آن ها، حداکثر $1 + \frac{n}{2}$ پاره خط خواهد بود.

(d) مسیر وسط، یعنی مسیر باشماره $m = \frac{1}{2}(n+1)$ (اگر n عددی

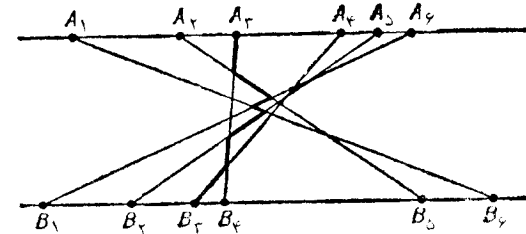
فرد باشد)، یا مسیر $m = \frac{n}{2}$ (اگر n عددی زوج باشد) را در نظر می‌گیریم و ثابت می‌کنیم که، این مسیر، از همه خط‌های راست می‌گذرد (شکل ۸۹). در واقع، این مسیر، نوار را به دو بخش تقسیم می‌کند؛ هر یک از پاره خط‌های راست $B_1A_n, B_2A_{n-1}, \dots, B_nA_1$ از یک بخش آغاز و در بخش دیگر ختم می‌شوند (یکی از آن‌ها، ممکن است روی مرز دو بخش واقع باشد) و، بنا بر این، با مسیر وسط، دارای نقطه مشترک‌اند و، در نتیجه (بنا بر قانون ساختمان مسیر) با آن‌ها، در یک پاره خط مشترک است.

▽ در این مساله، جالب است که بتوانیم بهترین ارزیابی از پایین و از بالا را، برای تعداد پاره خط‌های طولانی‌ترین مسیر (طولانی، از نظر تعداد پاره خط‌ها) پیدا کنیم.

۲۱۶. پاسخ: وقتی k عددی زوج باشد می‌توان؛ و وقتی k عددی فرد باشد نمی‌توان.

وقتی k عددی زوج باشد، به سادگی می‌توان نمونه رنگ آمیزی را پیدا کرد: می‌توان مکعب را از بلوک‌های $1 \times 2 \times 2$ ، که یک در میان سیاه و سفیدند، آماده کرد.

اکنون فرض می‌کنیم توانسته باشیم مکعب مورد نظر را، در حالتی که k عددی فرد است، ساخته باشیم. مرکزهای مکعب‌های واحد سفید را، به وسیله پاره خط‌های راست، به هم وصل می‌کنیم. از هر مرکز، دو پاره خط خارج می‌شود. این دستگاه پاره خط‌ها، یک یا چند خط شکسته بسته بوجود



شکل ۸۹

می‌آورند. توجه کنیم که، تعداد حلقه‌هایی از خط شکسته، که از پاره خط‌های باطول برابر تشکیل شده‌اند و سه جهت دو به دو عمود برهم دارند، عددی زوج است (حتی تعداد حلقه‌های هر یک از جهت‌ها هم، زوج است). به این ترتیب، تعداد مکعب‌های سفید، باید عددی زوج باشد. به همین ترتیب ثابت می‌شود که، تعداد مکعب‌های واحد سیاه هم، زوج است. تناقض.

۲۱۷. (a) n_0 را طوری در نظر می‌گیریم که 10^{n_0} از همه ضریب‌های چندجمله‌ای $P(x)$ بزرگتر باشد. اکنون روشن است که، به ازای هر $n \geq n_0$ ، عددهای a_1^n یا a_1^{n+d} برابر می‌شوند.

(b) نتیجه (a) را می‌توان درباره چندجمله‌ای $Q(x) = P(x+d)$ به نادرده که، در آن، d عدد طبیعی بزرگی است؛ در ضمن معلوم می‌شود که، وقتی $n_0 = n_0(d)$ به قدر کافی بزرگ باشد، برای هر $n \geq n_0$ ، مجموع رقم‌ها در همه عددهای $Q(10^n) = a_1^{n+d}$ با هم برابر می‌شوند. البته، باید این شرط را تحقیق کرد که، همه ضریب‌ها در $Q(x)$ ، هم علامت باشند.

اگر $d > 0$ را به اندازه کافی بزرگ بگیریم، ضریب‌های چندجمله‌ای

$$Q(x) = P(x+d)$$

همان علامت ضریب بزرگترین درجه چندجمله‌ای

$$P(x) = p_0x^n + p_1x^{n-1} + \dots + p_n$$

را خواهند داشت. دو راه برای اثبات می‌آوریم.

۱°. برای چندجمله‌ای $Q(x)$ داریم:

$$\begin{aligned} Q(x) &= p_0(x+d)^n + p_1(x+d)^{n-1} + \dots + p_n = \\ &= p_0(x^n + C_n^1 x^{n-1}d + \dots + C_n^{n-1} x d^{n-1} + d^n) + \\ &+ p_1(x^{n-1} + C_{n-1}^1 x^{n-2}d + \dots + d^{n-1}) + \dots + p_n = \\ &= q_0x^n + q_1(d)x^{n-1} + \dots + q_n(d) \end{aligned}$$

در این جا، $q_k(d)$ ($k = 0, 1, \dots, n$)، یک چندجمله‌ای نسبت به d است. در ضمن، $q_k(d)$ از درجه k است و جمله با درجه بزرگتر آن، به صورت

$$x + (n-1)(x+1) \leq n(n-1) \Rightarrow x \leq n-2 + \frac{1}{n}$$

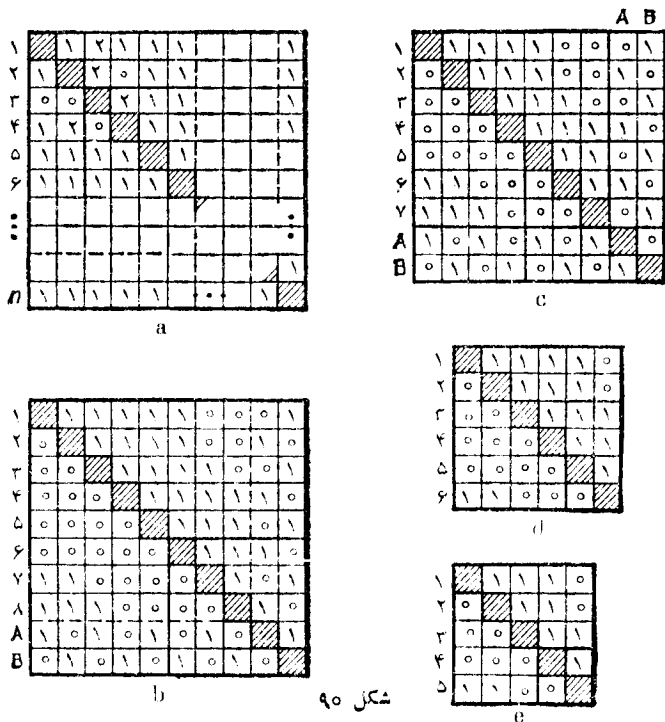
و چون x عددی درست است، بنابراین $x \leq n-2$.

هریک از بقیه تیم‌های اروپائی، بیش از $1-y$ امتیاز نیاورده‌اند (در

مسابقه قهرمانی اروپا) و بنابراین

$$y + (y-1)(k-1) \geq k(k-1) \Rightarrow y \geq k - \frac{1}{k}$$

و چون y عددی درست است، پس $y \geq k$. به این ترتیب



شکل ۹۰

(a) مسابقه قهرمانی هاکی: n تیم و $k=n-2$. تیم‌های ۲، ۳، ۴، ...، n اروپائی و تیم ۱ قهرمان اروپا. (b) مسابقه قهرمانی والیبال: $n=8$ ، $k=2$. تیم‌های ۶ و ۷ و ۸ اروپائی و تیم ۵ قهرمان اروپا. تیم‌های A و B اضافه شده است. (c) مسابقه قهرمانی والیبال: $n=8$ ، $k=2$. تیم‌های ۵ و ۶ و ۷ اروپائی و تیم ۸ قهرمان اروپاست. تیم‌های A و B اضافه شده است. (d) مسابقه قهرمانی والیبال: $n=6$ ، $k=2$. (e) مسابقه قهرمانی والیبال: $n=5$ ، $k=2$.

دز می‌آید (q_0 و p_0 به‌طور ساده برابر p_0 است). در این صورت، برای عددهای به اندازه کافی بزرگ $d_0 > d$ ، هر یک از عددهای $q_k(d)$ دارای همان علامت عدد p_0 خواهند بود.

۲. اگر در چندجمله‌ای $P(x)$ چند ضریب اول p_0, p_1, \dots, p_{n-k} هم علامت باشند، آن وقت، ضمن گذار $P(x) \rightarrow P(x+d) = Q(x)$ به چندجمله‌ای جدیدی می‌رسیم که، در آن، ضریب‌های q_0, q_1, \dots, q_{n-k} با همان علامت باقی می‌مانند و ضریب بعدی

$$q_{n-k+1} = p_0 C_n^{n-k+1} d^{n-k+1} + p_1 C_n^{n-k} d^{n-k} + \dots + p_{n-k} d + p_{n-k+1}$$

وقتی d بداندازه کافی بزرگ باشد، به همان علامت درمی‌آید. به این ترتیب، بعد از $n-1$ گذار، می‌توانیم از هر چندجمله‌ای $P(x)$ به چندجمله‌ای دیگری برسیم که، در آن، همه ضریب‌ها، دارای علامت p_0 باشند.

∇ در این جا، تنها از این حقیقت استفاده کردیم که، عدد C_n^k یعنی

ضریب بسط دو جمله‌ای $(a+b)^n = \sum_{k=0}^n C_n^k a^k b^{n-k}$ ، عددی مثبت است (ضمیمه ۱۶).

۲۱۸. حالت کلی را در نظر می‌گیریم، وقتی که n تیم در مسابقه شرکت کرده باشند.

(a) پاسخ: $k=n-2$ ، با شرط $n \geq 3$ (در حالت خاص، به‌ازای $n=2$ ، داریم: $k=1$).

کل امتیازهایی که، ضمن مسابقه جهانی به‌دست می‌آید برابر $n(n-1)$ و برای مسابقه اروپایی برابر $k(k-1)$ است (برای برد ۲، برای تساوی ۱ و برای باخت ۰ امتیاز).

x را مقدار امتیازهای قهرمان اروپا در بازی‌های قهرمانی جهان، و y را مقدار امتیازهای او در بازی‌های با تیم‌های اروپایی فرض می‌کنیم: $y \geq x$. فرض کنید، هر یک از تیم‌های دیگر، در مسابقه قهرمانی جهان بیشتر از x امتیاز آورده باشند، یعنی دست کم $x+1$ امتیاز. در این صورت

$$k \leq y \leq x \leq n-2 \Rightarrow k \leq n-2$$

در شکل ۹۰، a مثالی از یک جدول مسابقه داده شده است و نشان می‌دهد که قهرمان اروپا (تیم سوم) می‌تواند جای آخر را در مسابقه قهرمانی جهان آورده باشد.

(b) پاسخ: اگر $n \geq 8$ عددی زوج باشد، آن وقت $k = n-5$ (و در حالت خاص، برای $n=20, k=15$)؛ اگر $n \geq 7$ عددی فرد باشد، آن وقت $k = n-4$ ؛ و اگر $n=6$ یا $n=5$ ، آن وقت $k=2$.

در مسابقه قهرمانی والیبال، تیم برنده ۱ امتیاز و تیم بازنده ۰ امتیاز می‌گیرد، به نحوی که روی هم، $\frac{1}{4}n(n-1)$ امتیاز وجود دارد. حالتی را که n عددی زوج است، $n=2l$ ، بد تفصیل بررسی می‌کنیم. اگر مثل بالا استدلال کنیم (x و y را به همان معنای مسأله a) بگیریم، بدست می‌آید:

$$x + (2l-1)(x+1) \leq \frac{2l(2l-1)}{2} = l(2l-1) \quad (1)$$

$$y + (k-1)(y-1) \geq \frac{1}{4}k(k-1) \quad (2)$$

از (۱) نتیجه می‌شود: $x \leq l - \frac{3}{2} + \frac{1}{2l}$ ، یعنی $l \leq l-2$. از نابرابری $l-2 \geq x \geq y$ و نابرابری (۲) بدست می‌آید:

$$k^2 + (5-2l)k - 2 \leq 0 \quad (3)$$

به ازای $l \geq 4$ ، بزرگترین عدد درست k که در نابرابری (۳) صدق می‌کند، برابر $2l-5$ است (به ازای $k=2l-5$ ، نابرابری (۳) برقرار است، ولی به ازای $k=2l-4$ ، مقدار سمت چپ نابرابری، مثبت می‌شود). اکنون ثابت می‌کنیم، برابری $k=2l-5=n-5$ ، به ازای $l \geq 4$ ممکن است. روی شکل ۹۰، b ، جدول مسابقه‌ها برای $n=8, k=3$ داده شده است (سه تیم آخر، اروپائی‌اند). این جدول را، مبنای استقرا می‌گیریم

ساختمان‌های بعدی را، به کمک استقرا و با اضافه کردن در هر گام، ۲ تیم اروپائی انجام می‌دهیم.

قبل از همه توجه کنیم که، به ازای $k=2l-5$ ، به طور مسلم در واقع $x=y=l-2$.

$$y \geq \frac{(k-1)(k+2)}{2k} = \frac{k}{2} + \frac{1}{2} - \frac{1}{k} \Rightarrow y \geq l-2 - \frac{1}{2l-5}$$

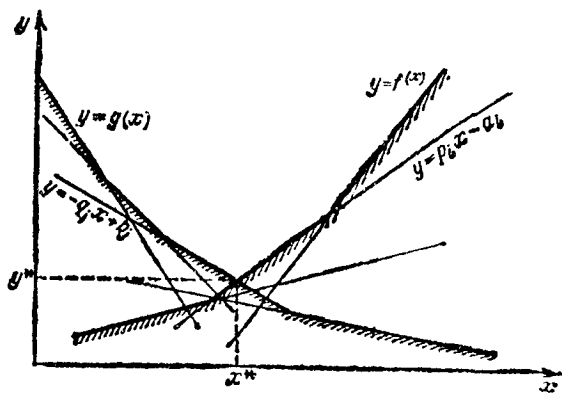
و چون y عددی درست است، بنا بر این $x=y=l-2$. و این، به معنای آن است که، قهرمان اروپا، به همه تیم‌های غیر اروپایی باخته است.

اکنون فرض می‌کنیم، جدول مسابقه قهرمانی با $k=n-5=2l-5$ ، تحقق پذیرفته باشد. دو تیم اروپائی A و B را با قانون زیر اضافه می‌کنیم: تیم A از همه تیم‌های قبلی ردیف فرد و از تیم B می‌برد و به بقیه می‌بازد؛ تیم B از تیم‌های سابق ردیف زوج می‌برد و به بقیه می‌بازد. هر یک از تیم‌های قبلی، در نتیجه آخر، به تعداد برابر امتیاز می‌آورند و، بنا بر این، در مقام آن‌ها تغییری پیش نمی‌آید.

اکنون، قهرمان اروپا $l-1$ امتیاز، تیم A ، $l+1$ امتیاز و تیم B ، l امتیاز آورده‌اند، به نحوی که قهرمان قبلی اروپا، بازم در مقام آخر است. در ضمن، در بازی‌های اروپائی، تیم A به اندازه $l-2$ امتیاز ($l-3$ امتیاز در بازی با تیم‌های قبلی، و یک امتیاز در بازی با B) آورده؛ و تیم B هم در بازی با تیم‌های اروپایی، همان $l-2$ امتیاز را آورده است، به نحوی که قهرمان اروپا تغییر نمی‌کند.

حالات‌های فرد بودن n ، $n=2l-1$ ، برای $l > 4$ ، همچنین، $n \leq 6$ را هم می‌توان، به طریق مشابهی مورد بررسی قرارداد (شکل‌های ۹۰، c، d و e).

۲۱۹. a) از بین چهار عددی که جدول 2×2 را تشکیل داده‌اند، دو عدد بزرگتر را در نظر می‌گیریم. اگر این دو عدد متعلق به یک ستون باشند، آن وقت، کوچکترین آن‌ها، عدد مطلوب است؛ و اگر این دو عدد متعلق به یک سطر باشند، آن وقت بزرگترین عدد از بین دو عدد دیگر، همان عدد مطلوب است (در ضمن، با نابرابری‌های غیراکید سروکار داریم).



شکل ۹۲

$$p_k x^* - a_k \geq -q_j x^* + b_j; \quad p_i x^* - a_i \leq -q_l x^* + b_l \quad (**)$$

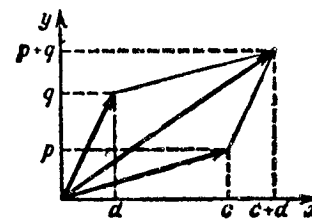
تابع‌های قطعه به قطعه خطی زیر را در نظر می‌گیریم:

$$f(x) = \max_{1 \leq i \leq m} (p_i x - a_i); \quad g(x) = \max_{1 \leq j \leq n} (-q_j x + b_j)$$

نمودار هر یک از این دو تابع، از پارچه خط‌های راست و دومین خط راست، تشکیل شده است. اولی صعودی یکنوا، و دومی نزولی است و، بنابراین، معادله $f(x) = g(x)$ دارای جواب منحصر به فرد (x^*, y^*) است [نقطه (x^*, y^*) که، در آن، $y^* = f(x^*) = g(x^*)$ ، بلندترین نقطه برخورد خط‌های راست $y = p_i x - a_i$ با خط‌های راست $y = -q_j x + b_j$ است؛ شکل ۹۲]. در ضمن، k و l ، شماره تابع‌های خطی $y = p_k x - a_k$ و $y = -q_l x + b_l$ است که، از برخورد نمودارهای آنها، نقطه (x^*, y^*) به دست می‌آید، یعنی آن تابع‌هایی که، برای آنها داریم:

$$p_k x^* - a_k = \max_{1 \leq i \leq m} (p_i x^* - a_i) = y^* = -q_l x^* + b_l = \max_{1 \leq j \leq n} (-q_j x^* + b_j)$$

برای این مقادیر k ، l و x^* ، همه شرط‌های لازم (**). برقرارند. راه حل دوم. می‌گوییم، جدول دارای «زین» است، وقتی که عضوی در



شکل ۹۱

حالتی باقی می‌ماند که: دو عدد انتخابی روی قطر باشند (واکیدا از دوتای دیگر بزرگتر). ولی این حالت ممکن نیست. برای این که در این مورد قانع شویم، کافی است توجه کنیم که، کسر $\frac{c+d}{p+q}$ ، همیشه بین دو کسر $\frac{c}{p}$ و $\frac{d}{q}$ قرار دارد (به ازای $p > 0$ و $q > 0$ ؛ در شکل ۹۱، تعبیر هندسی این حقیقت داده شده است). از این حقیقت، که مقدار

$$\frac{a_1 + b_1 + a_2 + b_2}{p_1 + q_1 + p_2 + q_2}$$

بین $\frac{a_1 + b_1}{p_1 + q_1}$ و $\frac{a_2 + b_2}{p_2 + q_2}$ و همچنین، بین $\frac{a_1 + b_2}{p_1 + q_2}$ و $\frac{a_2 + b_1}{p_2 + q_1}$ قرار می‌گیرد، بنا بر این دو عدد بزرگتر و دو عدد کوچکتر، نمی‌توانند روی قطر باشند.

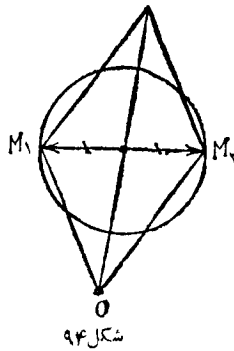
(b) دو راه حل، برای این مساله می‌آوریم که، یکی از آنها، ربطی به (a) ندارد و، بنابراین، می‌تواند راه حل تازه‌ای برای حالت خاص (a) باشد؛ ولی در راه حل دوم، از (a) به عنوان یک پیش‌فرضیه استفاده شده است.

راه حل اول: باید عددی مثل $x^* = \frac{a_k + b_l}{p_k + q_l}$ را در جدول $m \times n$

طوری پیدا کنیم که شرط‌های

$$\frac{a_k + b_l}{p_k + q_l} \leq x^* \quad (\text{برای همه } k) \quad \text{و} \quad \frac{a_i + b_l}{p_i + q_l} \geq x^* \quad (\text{برای همه } i)$$

برقرار باشند، شرط‌ها را، این‌طور می‌نویسیم:



شکل ۹۴

M_1	M_2	M_r
m_1	m_2
...	m_2	M_2
...
...	m_{r-1}	M_r
...

شکل ۹۳

۲۲۰. با توجه به يك حقیقت، اندیشه راه حل تلقین می شود: مجموع فاصله های تا انتهای عقربه ها بدطور متوسط (در طول زمان) بیشتر از مجموع فاصله های تا مرکزهای ساعت هاست. اثبات را می توان به این ترتیب انجام داد. مجموع s_1, s_2, \dots, s_p ، فاصله های از نقطه O ، مرکز میز، تا انتهای عقربه های دقیقه شمار را، در دو لحظه زمانی، واقع در ۳۰ دقیقه، در نظر می گیریم، مقدار $s_1 + s_2 + \dots + s_p$ از $2s_{11}$ بیشتر است (s_{11} مجموع فاصله های از O تا مرکز ساعت هاست)، زیرا در هر مثلث OM_1M_2 ، مجموع طول های دو ضلع OM_1 و OM_2 از دو برابر میانه بین آنها بررگتر است (شکل ۹۴). بنابراین، دست کم یکی از عددهای s_1 یا s_2 از s_{11} بیشتر است.

۲۲۱. حل مسأله (a) ناشی از دو نکته زیر است:

(۱) زیر هر عدد a در m امین سطر ($m \geq 2$) عددی به دست می آید که از a کمتر نیست؛

(۲) هر يك از این عددها، از ۱۰۰۰ تجاوز نمی کند. برای حل (b) باید توجه کرد که اگر عدد a ، در m امین سطر $m \geq 2$ ، از عدد b واقع در زیر خود کمتر باشد، آن وقت $b \geq 2a$: گروهی از عددهای a (هر گروه زیر عددهای برابر قرار دارد)، به گروهی از عددهای b متصل می شود؛ از این جا، و با استقرا، که در این موقعیت $b \geq 2^{m-1}a$ و لسی $1000 < 2^{m-1}$ تنها برای $m \leq 10$ برقرار است.

نمونه ای از دنباله عددها که، در آن، سطرها ی دهم و یازدهم برهم منطبق نیستند، در زیر داده شده است:

آن وجود داشته باشد که از همه عضوهای هم سطر خود کمتر و از همه عضوهای هم ستون خود بیشتر نباشد.

پیش قضیه. اگر هر جدول 2×2 ، که از جدول مفروض $m \times n$ با حذف $m-2$ سطر و $n-2$ ستون به دست می آید، دارای «زین» باشد، آن وقت تمامی جدول $m \times n$ هم، دارای «زین» است.

این پیش قضیه، مسأله کلی (b) را، به حالت خاص (a) منجر می کند. پیش قضیه را ثابت می کنیم. فرض می کنیم جدولی وجود داشته باشد که، در آن، «زین» نباشد، ولی هر جدول 2×2 در آن، دارای «زین» باشد.

در سطر i ام این جدول، بزرگترین عدد M_i و در ستون j ام آن، کوچکترین عدد m_j را نشان می کنیم. به کمک این عددهای نشان شده، زنجیره ای می سازیم: بزرگترین عدد سطر به کوچکترین عددی که در ستون آن قرار دارد

و، سپس، از آن به بزرگترین عددی که در سطر عدد اخیر واقع است و غیره. این زنجیره نمی تواند روی يك عضو جدول، به پایان خود برسد (زیرا جدول دارای «زین» نیست)، بنابراین باید يك دور تشکیل بدهد. با عرض کردن

شماره ها، یعنی تبدیل سطرها و ستون ها به صورت مناسب، می توان فرض کرد که، این دور، از عضوهای $M_1 = x_{11}, m_1 = x_{21}, M_2 = x_{22}, m_2 = x_{32}, \dots, m_{r-1} = x_{r,r-1}, M_r = x_{rr}$ تشکیل شده است (شکل ۹۳):

در ضمن $M_1 = \min_{1 \leq i \leq r} M_i$ چون جدول 2×2 در گوشه چپ و بالای جدول

اصلی، دارای «زین» است و، در ضمن $m_1 \leq M_1 \leq M_2$ ؛ $m_1 < M_2$ و $M_1 < m_2$ باید داشته باشیم: $M_1 = x_{12} \leq M_2$. به همین ترتیب، می توان ثابت کرد [با در نظر گرفتن جدول های 2×2 در سطرها ی پایین (m_1, M_2) ،

(M_3, m_4) ، ...] که، همه عضوهای سطر اول برابرند با M_1 :

$$x_{11} = x_{12} = \dots = x_{1r} = M_1$$

در این صورت، $x_{1r} = m_r$ ، يك نقطه «زینی» است. تناقض.

▽ جالب این است که، هیات داوران المپیا، برای مسأله (b) راه حل دیگری را می شناختند و به راه حل اخیر، یعنی استفاده از (a) و پیش قضیه، وقتی بی بردند که ورقه های دانش آموزان شرکت کننده را تصحیح کردند.

$\dots 488, \dots 488, \dots 256, \dots 256, \dots 8, \dots 8, \dots 4, \dots 4, \dots 2, \dots 2, \dots 1, \dots 1$
 $\underbrace{\hspace{10em}}_8 \quad \underbrace{\hspace{10em}}_{256} \quad \underbrace{\hspace{10em}}_{488}$

که برای سطرهای بعد خواهیم داشت:

سطر ۲: $1, 1, 2, 2, 4, 4, \dots, 4, 8, \dots, 8, \dots, 256, \dots, 256, 488, \dots, 488$
 سطر ۳: $2, 2, 2, 2, 4, 4, \dots, 4, 8, \dots, 8, \dots, 256, \dots, 256, 488, \dots, 488$

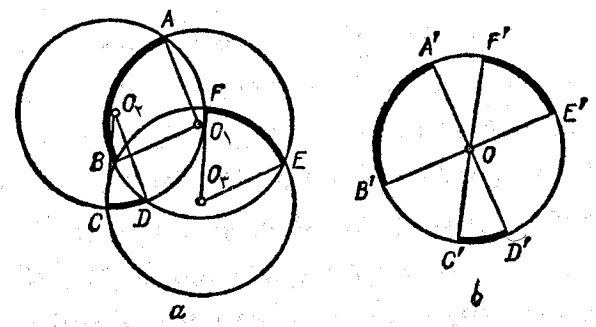
 سطر ۱۰: $255, 256, \dots, \dots, 256, 488, \dots, 488$
 سطر ۱۱: $512, 512, \dots, \dots, 512, 488, \dots, 488$

∇ به همین ترتیب، برای دنباله‌ای از n عدد $(2^k \leq n < 2^{k+1})$ می‌توان ثابت کرد که $(k+2)$ امین سطر بر سطر $(k+1)$ ام منطبق است، ولی ممکن است سطر $(k+1)$ بر سطر k منطبق نباشد.
 ۲۲۲. مساله (a) حالت خاصی از (b) است و شبیه آن حل می‌شود. اندیشه حل مساله (b) را می‌دهیم.

O_1, O_2, O_3 را مرکز دایره‌هایی می‌گیریم که، به ترتیب، شامل کمان‌های $\widehat{AB}, \widehat{CD}, \widehat{EF}$ هستند (شکل ۹۵، a). در این صورت داریم:

$$\vec{O_1A} = -\vec{O_1D}, \vec{O_1B} = -\vec{O_1E}, \vec{O_2F} = -\vec{O_2C}$$

(به عنوان ضلع‌های روبه‌روی لوزی‌ها). بنا بر این، اگر قطاع‌های O_1AB



شکل ۹۵

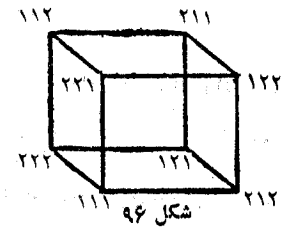
O_2CD و O_3EF را به مرکز مشترك O منتقل کنیم، سه قطاع به دست می‌آید که، همراه با قرینه‌های آن‌ها نسبت به O ، دایره را به‌طور کامل پر می‌کنند (شکل ۹۵، b).

۲۲۳. اگر سه جمله اول دنباله را به ردیف نزولی در نظر بگیریم، آن وقت، برای همه جمله‌های دنباله، خواهیم داشت:

$$x_k \leq x_{k-2} - x_{k-1}$$

و دنباله به‌صورت نزولی در می‌آید:

$$x_1 \geq x_2 \geq x_3 \geq \dots \geq x_{21}$$



شکل ۹۶

اگر فرض کنیم $x_{21} \geq 1$ ، آن وقت از $x_{k-2} \geq x_k + x_{k-1}$ ، نتیجه می‌شود:

$$x_{20} \geq 1, x_{19} \geq 2, x_{18} \geq 3, x_{17} \geq 5, \dots$$

بنابراین، کافی است ۲۱ جمله متوالی دنباله فیبوناچی را بنویسیم:

$1, 1, 2, 3, 5, 8, 13, \dots, 6745, 10946$

x_1 بزرگتر از ۱۰۰۰۰ می‌شود و، این تناقض، ثابت می‌کند که $x_{21} = 0$.
 ۲۲۴. پاسخ: می‌توان (مثال در شکل ۹۶ داده شده است). در واقع،

می‌توان نگاهت مجموعه رأس‌های مکعب را برخوردش، طوری به دست آورد که، هر دو رأس مجاور (که به وسیله یالی به هم وصل می‌شوند)، به رأس‌هایی بروند که به وسیله یالی به هم وصل نشده‌اند.

۲۲۵. بنا به شرط مساله، مجموع بردارها برابر بردار o است، بنا بر این

$$b + c = -(a + d) \text{ و } b + d = -(a + c) \dots$$

به این ترتیب، سمت راست، و هم چنین سمت چپ نابرابری، نسبت به a, b, c, d

عبارتی متقارن است. در نتیجه، می توان سمت راست نابرابری را برابر نصف مجموع همه مجموع های دو به دو بردارهای مفروض دانست. با توجه به این نکته، می توان برای چهار بردار مفروض به مجموع \mathbf{o} ، به نحوی نام گذاری کرد که خط شکسته شامل بردارهای

$$\vec{AB} = \mathbf{a}, \vec{BC} = \mathbf{b}, \vec{CD} = \mathbf{c}, \vec{DA} = \mathbf{d}$$

خودش را قطع کند. برای این منظور، کافی است که، اگر بردارهای $\mathbf{c}, \mathbf{b}, \mathbf{a}$ را با يك مبدا O در نظر بگیریم، در يك نیم صفحه قرار گیرند و، در ضمن، \mathbf{c} و \mathbf{a} در يك طرف خط راستی باشند که از O موازی \mathbf{b} رسم شده است. در این صورت

$$|\mathbf{a} + \mathbf{d}| + |\mathbf{c} + \mathbf{d}| = BD + AC \leq |\mathbf{b}| + |\mathbf{d}|$$

تنها این می ماند که نابرابری زیر را به آن اضافه کنیم:

$$|\mathbf{b} + \mathbf{d}| = |\mathbf{a} + \mathbf{c}| \leq |\mathbf{a}| + |\mathbf{c}|$$

۲۲۶. پاسخ: ۱۹۷۶.

همه این نقطه های علامت گذاری شده، به جز نقطه O (مرکز ۱۹۷۶ ضلعی) روی محیط ۹۸۷ دایره به مرکز O ، و روی هر يك از ۱۹۷۶ نقطه، قرار دارد. هر دایره دیگر γ ، هر يك از این ۹۸۷ دایره را در دو نقطه قطع می کند؛ به جز این نقطه های برخورد، ممکن است نقطه O هم (که یکی از نقطه های علامت دار است) روی محیط دایره γ قرار گیرد. بنابراین، روی چنین دایره ای، بیش از $1 + 2 \times 987$ ، یعنی ۱۹۷۵ (از نقطه های مورد نظر ما) نمی تواند وجود داشته باشد.

۲۲۷. فرض می کنیم، بخش باقی مانده صفحه، شامل k قطعه باشد. چهار رأس هر يك از این قطعه ها را (که رأس زاویه هایی برابر 90° درجه یا 270° درجه اند) علامت می گذاریم. هر يك از این $4k$ نقطه ای که علامت گذاشته ایم، رأس یکی از مستطیلی است که جدا کرده ایم و یا یکی از راس های مربع اصلی؛ در ضمن اگر يك نقطه دو بار علامت گذاری شده باشد، به معنای

آن است، که در این نقطه، دو مستطیل به هم وصل شده اند. به این ترتیب:

$$2k \leq 4n + 4 \Rightarrow k \leq n + 1$$

۲۲۸. سه نقطه (x_0, y_0) ، (x_1, y_1) ، (x_2, y_2) تنها وقتی روی يك

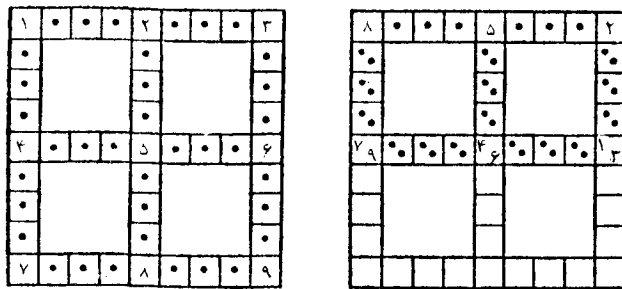
خط راست قرار دارند که داشته باشیم:

$$(x_1 - x_0)(y_2 - y_0) - (x_2 - x_0)(y_1 - y_0) = 0 \quad (*)$$

اگر x_i و y_i ($i = 0, 1, 2$)، تابع هایی خطی از زمان t باشند، آن وقت $(*)$ ، به صورت معادله ای درجه دوم نسبت به t ، در می آید و نمی تواند بیش از دو ریشه داشته باشد.

۲۲۹. (a) می توان فرض کرد که، حشره، از خانه مرکزی، به سمت راست و به اندازه $2 \leq k$ خانه جا به جا شود. در هر يك از ۴۹ خانه ردیف راست، تعداد خانه های افقی را می نویسیم که حشره می تواند از خانه متناظر به آن جا برود؛ جا به جایی به سمت راست را مثبت و جا به جایی به سمت چپ را منفی به حساب می آوریم. روشن است، برای حشره ای که در سمت راست ترین خانه قرار دارد، جا به جایی منفی است و، در ضمن، عددهایی که در دو خانه مجاور نوشته می شود، بیش از ۲ واحد با هم اختلاف ندارند. وقتی که دور ردیف از خانه مرکزی به راست برویم، باید در جایی «از عبور کنیم»، بنابراین، یکی از عددهای نوشته شده، برابر است با ۱، ۰ یا -۱، یعنی یکی از حشره ها باید حداکثر يك خانه جا به جا شود.

(b). پاسخ: حکم درست نیست. در شکل ۹۷، مثالی داده شده است



شکل ۹۷

که، در آن، همه حشره‌ها، دور از خانه آغازین خود قرار دارند (در سمت چپ نشان داده شده است که چه شماره‌ای را به حشره نسبت داده‌ایم؛ و در سمت راست، شماره‌ای که مشخص می‌کند، حشره، از خانه مربوط به کجا می‌تواند پرواز کند).

(C) پاسخ: حکم درست است.

این حکم را، در حالت کلی، و برای مستطیل شامل $m \times n$ خانه ثابت می‌کنیم. برای مربع‌های 1×1 و 2×2 و مستطیل 1×2 ، درستی حکم روشن است (به‌طور کلی، برای مستطیل‌های $1 \times n$ و $2 \times n$ ، می‌توان حکم را به سادگی، و شبیه a) ثابت کرد). فرض می‌کنیم، بعدها، مستطیلی $m \times n$ ، از 2 بیشتر باشد: $2 < m \leq n$. ثابت می‌کنیم، از این مستطیل (با جدا کردن ردیف‌های کناری)، می‌توان مستطیل کوچکتر π را به دست آورد، که همه حشره‌های آن، دوباره در π فرود می‌آیند و، بنابراین، کافی است قانع شویم که، در π ، حشره مورد نظر که «تقریباً بی حرکت» است، وجود دارد.

بهتر است فاصله ρ ، بین دو خانه A و B را، با تعداد حرکت‌هایی نشان دهیم که، شاه شطرنج می‌تواند خود را از A به B برساند: مجموعه خانه‌های M (در صفحه شطرنجی) که از خانه مفروض C ، به فاصله‌ای حداکثر برابر r قرار داشته باشند (برای هر $r = 1, 2, \dots$)، مربع $(2r+1) \times (2r+1)$ به مرکز خانه C را پرمی‌کنند. بنا بر شرط، حشره از خانه K به خانه $f(K)$ می‌رود، به نحوی که برای خانه‌های A و B به فاصله 1 ، داریم: $\rho(f(A), f(B)) \leq 1$. در این صورت، برای هر دو خانه A و B داریم:

$$\rho(f(A), f(B)) \leq \rho(A, B) \quad (*)$$

در مستطیلی $m \times n$ ($m \leq n$)، خانه‌هایی را «مرزی» می‌نامیم که، فاصله از آن‌ها تا خانه‌هایی از مستطیل، برابر 1 باشد. اگر $m < n$ ، این خانه‌ها، دو ردیف مرزی را (که متناظر با ضلع‌های کوچکتر مستطیل اند) پر می‌کنند؛ و در مربع $n \times n$ ، این خانه‌ها، چهار ردیف مرزی (جاشیه) را پر می‌کنند. توجه می‌کنیم که، فاصله ρ بین دو خانه از ردیف‌های مرزی متقابل، برابر 1 و برای هر دو خانه دیگر، کمتر از 1 است.

اگر در یکی از ردیف‌های کناری، حتی یک حشره نبیند، آن وقت با کنار گذاشتن این ردیف، مستطیل لازم π را با اندازه‌های $m \times (n-1)$ به دست می‌آوریم که، در آن، حشره از هر خانه K به خانه $f(K)$ از π پرواز می‌کند.

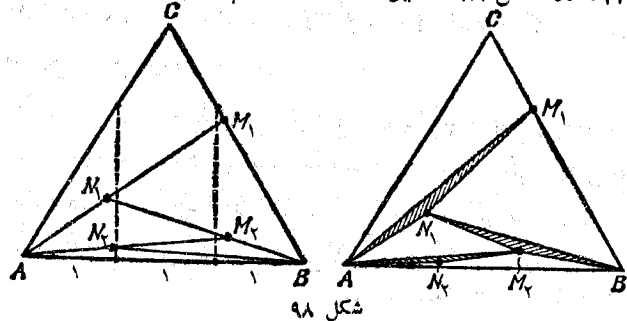
در حالت عکس، می‌توانیم به عنوان π ، مستطیلی را انتخاب کنیم که با حذف همه ردیف‌های مرزی از مستطیل مفروض، به دست آمده است. در واقع، می‌توان چند (دو، سه یا چهار) خانه K_i را طوری نشان گذاشت که، هر ردیف مرزی شامل یکی از خانه‌های $f(K_i)$ باشد. چون برای هر خانه M از π و هر خانه K_i داریم: $\rho(M, K_i) \leq n-2$ ، بنا بر این با توجه به (*): خواهیم داشت:

$$\rho(f(M), f(K_i)) \leq n-2$$

از این‌جا، و با توجه به ردیف‌های متقابل، نتیجه می‌شود که $f(M)$ در π قرار دارد.

اکنون دیگر، برای تکمیل اثبات، می‌توان به استقرا، نسبت به $m+n$ و یا نسبت به $n = \max(m, n)$ ، متوسل شد. از این گذشته، در ضمن ثابت می‌شود که همیشه، مربعی 2×2 وجود دارد که به خودش منجر می‌شود. ∇ این مساله، در واقع، بیان خاصی از قضیه معروف برانود است که بنا بر آن: هر نگاشت پیوسته یک مجموعه محدب بر خودش، دارای یک نقطه بی حرکت است.

۲۳۵. در شکل ۹۸، مسیر ساختمان تقسیم، که با شرط‌های کلی‌تر



شکل ۹۸

(b)، (c)، (d) سازگار باشد و برای مثلث متساوی الاضلاع به ضلع ۳ داده شده است.

ضمن عبور از شکل سمت چپ به شکل سمت راست، هر يك از نقطه های $M_1, M_2, \dots, M_p, N_1, N_2, \dots, N_p$ ، به سادگی خود را پایین می کشد تا مثلث های تکمیلی خیلی باریک تر $AM_k N_k$ ، $BN_{k+1} M_{k+1}$ را بسازند ($k = 1, 2, \dots$).

۲۳۱. مثال (a) به سادگی به دست می آید: کافی است «بلوک»

$$n \dots 3, 2, 1$$

را n مرتبه پشت سر هم بنویسیم؛ n امین عدد هر تبدیل را می توان از n امین بلوک انتخاب کرد.

به عنوان مثالی برای (b)، می توان این دنباله را در نظر گرفت.

$$\underbrace{1 \dots n \quad 1 \dots n \quad \dots \quad 1 \dots n \quad 1 \dots n \quad 1 \dots n}_{n-1}$$

در واقع، اگر در تبدیل (k_1, k_2, \dots, k_n) ، دست کم دو عدد مجاور k_r و k_{r+1} به ترتیب صعودی باشند، آن وقت این دو عدد را می توان از يك بلوک $(1, 2, \dots, n)$ ، که در ردیف زام قرار دارد، انتخاب کرد؛ در ضمن، عدد ۱ آخر هم لازم نخواهد شد ولی اگر هیچ دو جمله متوالی به ترتیب صعودی نباشند، به ناچار به صورت

$$1 \dots 2 \dots n-2 \dots n-1 \dots n$$

است؛ در این صورت باید از بلوک زام $n-z$ را انتخاب کرد و عدد ۱ آخر دنباله هم به درد می خورد.

(c) برای هر عدد k (از ۱ تا n)، آن را که برای نخستین بار در «دنباله عام» با آن برخورد می کنیم، علامت می گذاریم. یکی از این عددهای علامت دار، در n امین جسا از آغاز، و یا کمی دورتر قرار دارد. برای مشخص بودن وضع، این عدد را n می گیریم. قبل از آن، دست کم، $n-1$

عدد وجود دارد. بعد از آن، دنباله ای قرار دارد که باید، برای تبدیل های عددهای $(1, 2, \dots, n-1)$ «عام» باشد و، با روش استقرایی، فرض را بر این می گیریم که طول آن، از $\frac{1}{p}(n-1)$ کمتر نباشد. به این ترتیب، برای به دست آوردن تبدیل های مختلف n عدد، طول دنباله عام از $\frac{1}{p}(n-1) + n$

یعنی $\frac{1}{p}(n+1)$ کمتر نیست.

(d) یادآوری می کنیم، اگر عدد n ، در دنباله عام مرتبه n [یعنی دنباله عامی که بتوان از آن، همه تبدیل های n عدد را به دست آورد]، تنها یکبار آمده باشد، آن وقت، چه قبل از آن و چه بعد از آن، باید دنباله عامی از مرتبه $(n-1)$ وجود داشته باشد. این نکته به ما امکان می دهد تا، نسبت به (c)، ارزیابی دقیق تری از تعداد جمله های دنباله عام داشته باشیم.

کوتاه ترین طول دنباله عام مرتبه n را با I_n نشان می دهیم. در این صورت $I_3 = 3$. ثابت می کنیم $I_4 = 7$ (نمونه های 1231231 یا 12312312) اگر عددی، و مثلاً ۳، تنها یکبار در دنباله آمده باشد، آن وقت طول آن، از $7 \leq 4 + I_3$ کمتر نیست. در حالت دیگر، عددی را در نظر می گیریم که، برای نخستین بار، در جای سوم یا بعدتر، با آن رو به رو می شویم (فرض کنید، این عدد ۳ باشد). به دنبال آن، یکبار دیگر با ۳ برخورد می کنیم و، هم چنین، يك دنباله عام هم (به دنبال ۳) وجود دارد، به نحوی که طول تمامی آن از

$$4 + I_3 = 7 = 4 + 1 + 1 + 1$$

کمتر نیست. به همین ترتیب، می توان قانع شد که $I_4 = 12$. مثال

$$1234123412341 \quad \text{یا} \quad 4123412341234$$

ارزیابی: اگر عددی تنها یکبار در دنباله آمده باشد، آن وقت، طول آن نمی تواند از $15 = 4 + I_4$ کمتر باشد؛ در حالت دیگر، از $12 = 4 + 1 + 1 + 1$ کمتر نیست.

با همین استدلال می توان ثابت کرد:

$$I_n \geq \frac{1}{4} n(n+1) + n - 2$$

(e) می توان ثابت کرد که، دنباله عام مرتبه n را می توان با طول $n^2 - 2n + 2$ ، به صورت زیر نوشت:

$$\underbrace{1 \ 2 \ \dots \ (n-1) \ n \ 1 \ 2 \ \dots \ (n-2) \ n \ (n-1) \ \dots}_{\dots \ 1 \ 2 \ n^2 \ \dots \ (n-1) \ 1 \ n^2} \quad (*)$$

که در آن، در هر يك از $(n-2)$ بلوك، عدد n ابتدا در آخر، سپس، قبل از $(n-1)$ ، بعد از آن قبل از $(n-2)$ ، ... و سرانجام قبل از ۳ می آید؛ به جز این، عدد n در ابتدا و $1 \ n^2$ در انتها آمده است (به این ترتیب، مثال دیگری برای $n=4$ پیدا می شود). برای این منظور، کافی است قانع شویم که، از سمت چپ، از k امین باری که n در $(*)$ وارد شده است، می توان با حذف هر دنباله ای از $(k-1)$ عدد مختلف را (بین $1, 2, \dots, n-1$) پیدا کرد؛ و همچنین از سمت راست، هر دنباله ای از $n-k$ عدد واقع این است که هر دو بخش راست و چپ، بعد از حذف همه n ها، به این صورت در می آیند:

$$\underbrace{1 \ 2 \ \dots \ m \ 1 \ 2 \ \dots \ m \ \dots \ 1 \ 2 \ \dots \ m \ 1 \ 2 \ \dots \ r}_{r-1 \text{ مرتبه}}$$

که در آن $r \leq m = n-1$ و این دنباله، دارای ویژگی زیر است [ویژگی «دنباله عام» (m, r)]: از این دنباله، می توان با حذف هر دنباله ای را با r عدد مختلف (از بین $1, 2, \dots, m$) به دست آورد.

$$m = \left\lfloor \frac{n}{2} \right\rfloor. \quad 231$$

عددهای مفروض را، به صورت زیر شماره گذاری می کنیم: $x_0 = 1$ را

«پیدا» عددها می گیریم، سپس، از x_0 در جهت حرکت عقربه های ساعت x_1, x_2, \dots, x_m و از x_0 در خلاف جهت حرکت عقربه های ساعت x_{-1}, x_{-2}, \dots ، x_{-m+1} (و x_{-m} ، اگر n عددی فرد باشد).

(a) اگر اختلاف هر دو عدد مجاور، بیش از ε نباشد، آن وقت

$$x_1 \geq 1 - \varepsilon \quad x_{-1} \geq 1 - \varepsilon$$

$$x_2 \geq 1 - 2\varepsilon \quad x_{-2} \geq 1 - 2\varepsilon$$

.....

$$x_{m-1} \geq 1 - (m-1)\varepsilon \quad x_{-m+1} \geq 1 - (m-1)\varepsilon$$

$$x_m \geq 1 - m\varepsilon \quad (x_{-m} \geq 1 - m\varepsilon)$$

این نابرابری ها را با هم جمع می کنیم، همچنین برابری $x_0 = 1$ را هم در این جمع در نظر می گیریم، با توجه به این که، مجموع همه عددها برابر صفر است، به دست می آید:

$$0 \geq n - (1 + 2 + \dots + (m-1) + m + (m-1) + \dots$$

$$\dots + 2 + 1) \varepsilon = n - m^2 \varepsilon$$

$$\text{از آن جا } \varepsilon \geq \frac{n}{m^2} \geq \frac{4}{n} \text{ (زیرا } \frac{n^2}{4} \leq m^2 \text{).}$$

∇ این ارزیابی برای حالتی که n عددی زوج باشد، دقیق است. در

حالت $n = 2m + 1$ ، می توان آن را، با استفاده از x_{-m} ، دقیق تر کرد:

$$\varepsilon \geq \frac{n}{m^2 + m} = \frac{2n}{n^2 - 1}$$

(b) در این جا می توان از نتیجه گیری (a)، دوبار استفاده کرد. فرض

کنید، بزرگترین اختلاف عددهای مجاور، از لحاظ قدرمطلق، برابر ε باشد.

با توجه به $a: \varepsilon \geq \frac{4}{n}$ ، از طرف دیگر، تفاضل های «به میار در آمده» عددهای

مجاور از گروه (x_1, x_2, \dots, x_n) ، یعنی عدد $y_k = \frac{x_k - x_{k-1}}{\epsilon}$ هم، به نوبه خود با همه شرط‌های مسأله (a) سازگارند؛ بنا بر این، برای مقداری از k داریم:

$$\left| \frac{x_{k+1} + x_{k-1}}{2} - x_k \right| = \left| \frac{x_{k+1} - x_k}{2} - \frac{x_k - x_{k-1}}{2} \right| = |y_{k+1} - y_k| \cdot \frac{\epsilon}{2} \geq \frac{\lambda}{n^2}$$

در این جا، گاهی لازم می‌شود، اندیس را، به اندازه n کم یا زیاد کنیم، زیرا عددها، روی محیط يك دایره اند.

(c) و (d) نشان می‌دهیم که چگونه، برای هر n ، بهترین ارزیابی ممکن از بالا، برای مقدار δ به دست می‌آید، δ عبارت است از حداکثر ممکن برای قدرمطلق تفاضل بین يك عدد واقع بر محیط دایره و واسطه حسابی دو عدد مجاور آن، و سپس، انتخاب بهین را (با کمترین مقدار δ) می‌سازیم. در ضمن، انتخاب (x_k) را می‌توان مقارن به حساب آورد: $x_k = x_{-k}$ ، زیرا با تغییر x_k به $\frac{x_k + x_{-k}}{2}$ ، همه ویژگی‌هایی که در شرط مسأله آمده است و

هم ارزیابی

$$|x_{k-1} - 2x_k + x_{k+1}| \leq 2\delta$$

حفظ می‌شود. قبل از آن که خود عددهای x_k را ارزیابی کنیم، تفاضل‌های $x_{k-1} - x_k$ را، با آغاز از x_0 و سپس با آغاز از نقطه متقابل (وسط گروه)، ارزیابی می‌کنیم. چون $x_1 = x_{-1}$

$$x_0 - x_1 \leq \frac{1}{2} | -x_{-1} + 2x_0 - x_1 | \leq \delta;$$

$$x_1 - x_2 \leq (x_0 - x_1) + | -x_0 + 2x_1 - x_2 | \leq 3\delta;$$

$$x_2 - x_3 \leq (x_1 - x_2) + | -x_1 + 2x_2 - x_3 | \leq 5\delta;$$

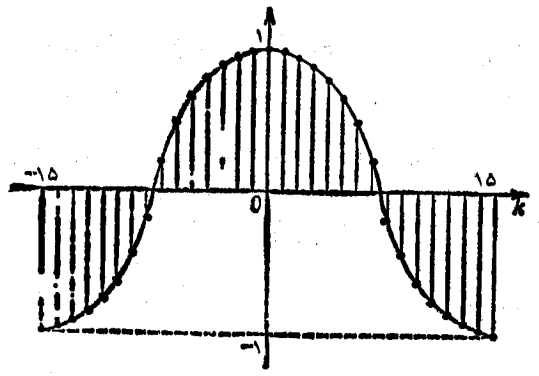
$$x_{k-1} - x_k \leq (2k - 1)\delta \quad (1)$$

وقتی $n = 2m$ زوج باشد، وقتی که تنها عدد x_m ، نسبت به x_0 ، متقابل است، به همان ترتیب، به دست می‌آید:

$$x_{m-1} - x_m \leq \delta; x_{m-2} - x_{m-1} \leq 3\delta; \dots; x_{m-j} - x_{m-j+1} \leq (2j - 1)\delta \quad (2)$$

وقتی $n = 2m + 1$ فرد باشد $(x_m = x_{-m})$ دو عدد مجاورند، آن وقت

$$x_{m-1} - x_m \leq 2\delta; x_{m-2} - x_{m-1} \leq 4\delta; \dots; x_{m-j} - x_{m-j+1} \leq 2j\delta \quad (2')$$



شکل ۹۹

یادآوری می‌کنیم، اگر k کمتر از $\frac{m}{2}$ باشد، بهترین ارزیابی برای

$x_{k-1} - x_k$ عبارت است از (۱)، برای k بیشتر از $\frac{m}{2}$ ، (۲) یا (۲)؛ برای

انتخاب بهینه از عددهای (x_k) ، باید نابرابری‌ها به برابری تبدیل شوند؛ در ضمن، نمودار دنباله بهینه، روی قطعه‌ای از سهمی قرار دارد (شکل ۹۹).

برای این که این مطلب را ثابت کنیم، و ارزیابی دقیقی از δ برای هر n

بدهیم، باید به طور جداگانه، چهار حالتی را که متناظر باقی مانده های n در تقسیم بر ۴ هستند، در نظر بگیریم. مثلاً فرض کنید $n = 4l + 2$ ، از (۱) و (۲) نتیجه می شود:

$$x_k = x_{-k} \geq 1 - s_k \delta$$

که در آن، s_k عبارت است از مجموع نخستین k عدد در سطر

$$1, 3, \dots, 2l-1, 2l+1, 2l-1, \dots, 3, 1$$

ارزیابی دقیق δ از این شرط به دست می آید که، مجموع همه x_k ها، برابر صفر باشد و انتخاب $x_k = x_{-k} = 1 - s_k \delta$ ، بهینه خواهد بود. در حالت خاص، برای $n = 30$ ($l = 7$)، به دست می آید:

$$0 = x_0 + 2(x_1 + x_2 + \dots + x_{14}) + x_{15} \geq 30 - S\delta$$

که در آن $S = 2(s_1 + s_2 + \dots + s_{14}) + s_{15}$. این مجموع را، بهتر است این طور تبدیل کنیم. چون

$$\begin{aligned} s_{15} &= 1 + 3 + 5 + \dots + 11 + 13 + 11 + \dots + 3 + 1 = \\ &= 7^2 + 8^2 = 113 = s_1 + s_{14} = s_2 + s_{13} = \dots = s_7 + s_8 \end{aligned}$$

آن وقت $S = (2 \times 7 + 1)s_{15} = 15 \times 113 = 1695$. به این ترتیب $\delta \geq \frac{2}{113}$

در ضمن، $\delta = \frac{2}{113}$ تنها برای انتخاب زیر به دست می آید (که روی شکل نشان داده شده است):

$$x_k = x_{-k} = 1 - s_k \delta =$$

$$= \begin{cases} 1 - k^2 \delta & (k = 0, 1, \dots, 7) \\ -1 + (15 - k)^2 \delta & (k = 8, \dots, 15) \end{cases}$$

به همین ترتیب، می توان مرزهای دقیق δ را، برای هر n به دست آورد و قانع شد که، برای همه مقادیر n ، نابرابری $\delta \geq \frac{16}{n^2}$ برقرار است

هرچه n بزرگتر باشد، این ارزیابی به مقدار دقیق آن نزدیکتر می شود.

▽ مسأله زیر، کاملاً شبیه مسأله اخیر است: مطلوب است حداکثر مقدار ممکن تفاضل، بین ماکزیمم و می نیمم تابع متناوب T ، به شرطی که مشتق آن، از لحاظ قدرمطلق، از واحد تجاوز نکند. این مسأله، حتی از حالت «نایبوسته» آن، ساده تر است. در این جا هم، نمودار تابعی که دارای حداکثر «نوسان» باشد، از قطعه سهمی ها تشکیل شده است.

۲۳۳. ابتدا، به ذکر بعضی نکته ها می پردازیم که به هر مقدار عدد طبیعی n مربوط می شوند. روی هم، 2^n ترتیب از عدد های $1 + 1$ و $1 - 1$ در رأس های n ضلعی منتظم وجود دارد. دو تبدیل را وقتی هم ارز به حساب می آوریم که بتوان، با توجه به شرط مسأله، یعنی تغییر علامت ها در رأس های n ضلعی منتظم، از یکی به دیگری (و برعکس) رسید. هر دو عمل از این گونه، «قابل جا به جایی» اند: نتیجه کار، به ردیف این عمل ها بستگی ندارد؛ تکرار دوبار متوالی از یک عمل را می توان حذف کرد، زیرا با حالت نخست خود متحد می شود. در ضمن، می توان خود را تنها به عمل هایی محدود کرد که علامت ها را در رأس های p ضلعی های منتظم، که p یعنی تعداد رأس های آن ها عددی اول است، تغییر می دهند. (این p ضلعی ها را «مولد» می نامیم)؛ مجموعه رأس های n ضلعی منتظم را، برای هر n ، که بر p بخش پذیر باشد، می توان به تعداد $\frac{n}{p}$ از p ضلعی های مولد تقسیم کرد.

قبل از این که دورتر برویم، مسأله های مشخص را در نظر می گیریم. (a) برای $n = 15$ ، روی هم هشت p ضلعی مولد وجود دارد: ۵ مثلث و ۳ پنج ضلعی. ترتیبی را که تنها شامل عدد های $1 + 1$ باشد، E می نامیم. هر ترتیب هم ارز E ، با توجه به یکی از زیر مجموعه های مجموعه شامل ۸ p ضلعی معین می شود؛ تعداد زیر مجموعه های مختلف (با به حساب آوردن مجموعه درستی) برابر است با 2^8 و این، از تعداد کل 2^{15} ترتیب، کمتر است. بنابراین ترتیب هایی وجود دارد که هم ارز E نیستند.

(b) برای $n = 30$ ، تعداد کل p ضلعی های مولد، برابر است با

	۰	۱	۲	۳	۴
۰	۰	۶	۱۲	۳	۹
۱	۱۰	۱	۷	۱۳	۴
۲	۵	۱۱	۲	۸	۱۴

شکل ۱۰۰

هر عدد از ۰ تا ۱۴، نسبت به باقی مانده‌های خود در تقسیم بر ۵ و بر ۳، به صورت یک ارزشی معین می‌شود.

$$T(n) = (T(q))^m, K(n) = (K(q))^m$$

از حالت $s=2$ آغاز می‌کنیم: فرض کنید $n = p_1 p_2$ راس‌های n ضلعی را، با عددهای ۰، ۱، ۲، ...، $n-1$ شماره‌گذاری می‌کنیم. این عددها را، در جدول $p_1 \times p_2$ طوری می‌نویسیم که، عددهای یک سطر، در تقسیم بر p_1 ، و عددهای یک ستون در تقسیم بر p_2 ، دارای یک باقی مانده باشند. این جدول را می‌توان تشکیل داد، زیرا دو باقی مانده (r_1, r_2) ، از تقسیم بر p_1 و p_2 ، به صورت یک ارزشی، شماره‌های از ۰ تا n را معین می‌کنند (شکل ۱۰۰). ترتیب عددهای $+1$ و -1 روی محیط دایره، متناظرند با ترتیب عددهای

$$\sigma(r_1, r_2) = +1 \text{ و } -1$$

در خانه‌های جدول (r_1, r_2) ، شماره سطر r_2 ، شماره ستون: تغییر علامت‌ها در p_1 ضلعی‌ها و p_2 ضلعی‌ها، متناظر است با تغییر علامت‌های σ در سطرها و ستون‌ها. هر ترتیبی از این عمل‌ها را می‌توان به این‌جا منجر کرد که، در سطر اول و ستون اول، $+1$ باشد. این‌گونه ترتیب‌ها، دو به دو ناهم‌ارزند؛ در واقع، با تغییر علامت σ در سطرها و ستون‌ها، مقدار حاصل ضرب

$$\sigma(r_1, r_2) \sigma(0, r_2) \sigma(r_1, 0) \sigma(0, 0)$$

تغییر نمی‌کند (انتخاب این مقادیر، برای هر (r_1, r_2) ، $1 \leq r_1 \leq p_1 - 1$ ، $1 \leq r_2 \leq p_2 - 1$ ، گروه هم‌ارزها را معین می‌کند). بنابراین

$$K(p_1 p_2) = 2^{(p_1-1)(p_2-1)}, T(p_1 p_2) = 2^{p_1 + p_2 - 1}$$

$$15 + 10 + 6 = 31$$

برای حل مسأله، به نکته‌های دیگری نیاز داریم. می‌توان به تعداد کمتری از مولدها اکتفا کرد؛ مثلاً از هر دو مثلث (و پنج ضلعی) که نسبت به مرکز متقارن‌اند، می‌توان تنها یکی را در نظر گرفت، زیرا تغییر علامت‌ها در آن و، هم‌چنین، در سه (پنج) «دو ضلعی» شامل رأس‌های آن، با تغییر علامت در سه ضلعی (پنج ضلعی) متقارن آن، هم‌ارز است. از این‌جا، تعداد مولدها برابر $3 + 5 + 15$ ، یعنی 23 می‌شود و بنابراین 2^{23} ترتیب هم‌ارز E به دست می‌آید که از 2^{30} کمتر است.

(c) سعی می‌کنیم، برای هر n ، تعداد $T(n)$ ، یعنی تعداد ترتیب‌های هم‌ارز E را پیدا کنیم. توجه کنیم، تعداد ترتیب‌های هم‌ارز با ترتیب دیگر A از $+1$ و -1 ، باز هم برابر $T(n)$ است؛ همه آن‌ها، از ضرب جمله به جمله علامت‌های ترتیب A ، در هر ترتیبی از گروه هم‌ارزهای E به دست می‌آیند. اگر تعداد «گروه‌های هم‌ارز» حداکثر تعداد ترتیب‌های دو به دو ناهم‌ارز را $K(n)$ بنامیم، داریم:

$$K(n) = \frac{2^n}{T(n)}$$

فرض کنید، n شامل s عامل اول باشد:

$$n = p_1^{a_1} p_2^{a_2} \dots p_s^{a_s} \quad (*)$$

می‌گیریم n ضلعی منتظم را به q ضلعی‌های منتظم، $p_1 p_2 \dots p_s = q$ و $\frac{n}{q} = m$ تقسیم می‌کنیم. مسأله محاسبه $T(n)$ ، به مسأله ساده‌تر محاسبه

$$T(q) = T(p_1 p_2 \dots p_s)$$

منجر می‌شود. در واقع، هر یک از مولدهای p_i ضلعی، مشمول تنها یکی از q ضلعی‌ها می‌شود؛ به زبان دیگر، تغییر علامت‌ها در q ضلعی‌های مختلف، به هم بستگی ندارند، بنابراین

در حالت خاص: $K(10) = 2^4$, $T(15) = 2^7$, $K(15) = 2^8$. برابری
 اخیر، امکان می‌دهد تا $K(200)$ را پیدا کنیم:

$$n = 200 = 2^3 \times 5^2, \quad q = 10, \quad m = 20$$

$$K(200) = (K(10))^{20} = 2^{4 \times 20} = 2^{80}$$

به همین ترتیب، می‌توان $K(n)$ را، برای هر حالتی از S ، پیدا کرد.
 فرض کنید p_1, p_2, \dots, p_s ؛ شماره k از 0 تا $q-1$ ، به صورت یک
 ارزشی به وسیله باقی مانده‌های r_1, r_2, \dots, r_s در تقسیم q بر p_1, p_2, \dots, p_s
 معین می‌شود (قضیه چینی درباره باقی مانده‌ها: ضمیمه ۲). با تبدیل‌های
 $(r_1, r_2, \dots, r_s) \rightarrow \sigma(r_1, r_2, \dots, r_s)$ به تابع‌های در مجموعه انتخاب‌های r_i
 $(1 \leq i \leq s)$ ، که علامت‌های $+1$ و -1 را می‌پذیرند می‌توان به طور
 هم‌زمان، عمل‌های مربوط به تغییر علامت‌ها را در یک «ردیف»، که از p_i
 انتخاب تشکیل شده است و در آن‌ها، i امین مختص r_i دلخواه (و از 0 تا
 $p_i - 1$ تغییر می‌کند) و بقیه $1 - s$ عدد r_i ثابت است (برای هر $s = 1, 2, \dots, s$)،
 انجام داد. با این عمل‌ها، هر تبدیل به این‌جا منجر می‌شود که، اگر دست کم
 یکی از r_i ها صفر باشد $+1 = \sigma(r_1, r_2, \dots, r_s)$ ؛ در ضمن، این منجر شدن
 تبدیل‌ها، به هم بستگی ندارند (حاصل ضرب 2^m مقدار σ برای انتخاب‌ها،
 که از تبدیل بعضی مختص‌ها به صفر به دست می‌آیند، تغییر نمی‌کند). پاسخ
 را، برای p_1, p_2, \dots, p_s و برای هر $n = qm$ به صورت (*) می‌نویسیم:

$$K(q) = 2^{(p_1-1) \dots (p_s-1)}; \quad K(n) = 2^{\varphi(n)}$$

که در آن $\varphi(n) = n \left(1 - \frac{1}{p_1}\right) \dots \left(1 - \frac{1}{p_s}\right)$ و در حالت خاص

$$K(30) = 2^8; \quad T(30) = 2^{32}$$

∇ در این‌جا، به صورتی نامنتظر، تابع $\varphi(n)$ پدیدار شد که در نظریه
 عددها، معروف است: این، تابع اولر است و معرف تعداد عددهای طبیعی
 کوچکتر از n است که نسبت به n اول باشند.

۲۳۴. تنها نقطه‌های واقع بر نیم‌کره «شمالی» به قطب P را در نظر
 می‌گیریم (مقدارهای تابع f ، متناظر با دو انتهای یک قطر، با هم برابرند).
 قطب P را، بلندترین نقطه کره به حساب می‌آوریم. روشن است که $f(P) = 1$
 و، برای هر نقطه دیگر M ، از کره، داریم: $0 \leq f(M) < 1$.
 $O(a)$ را مرکز کره بگیریم. فاصله c_M از نقطه M تا صفحه استوا،
 برابر است با کسینوس زاویه MOP ، به نحوی که

$$f(M) = c_M = \cos \gamma \quad (\gamma = \widehat{MOP})$$

اگر c_1, c_2, c_3 کسینوس زاویه‌هایی باشند که سه شعاع دوبه‌دو عمود
 برهم OM_1, OM_2, OM_3 با OP تشکیل می‌دهند، آن وقت $c_1^2 + c_2^2 + c_3^2 = 1$
 زیرا c_1, c_2, c_3 عبارتند از طول تصویر پاره خط راست واحد OP بر سه
 خط راست دوبه‌دو عمود برهم (می‌توان مکعب مستطیل با یال‌های c_1, c_2, c_3
 و قطر $1 = OP$ را ساخت).

حل مساله‌های (b) و (c) بر نتیجه‌ای که از شرط (*) به دست می‌آید،
 تکیه دارد: Γ_X را نیمه از دایره عظیمه (به جز استوا و نصف النهار) می‌گیریم
 که دو انتهای آن، روی استوا باشد و، برای آن، X را بلندترین نقطه فرض
 می‌کنیم. در این صورت، برای هر نقطه Y از کمان Γ_X (غیر از خود X)
 داریم $f(Y) < f(X)$ در واقع

$$f(Y) + f(Y') + f(Q) = f(X) + 0 + f(Q) = 1$$

که در آن، Y' نقطه‌ای از کمان Γ_X است که برای آن $\widehat{YOY'} = 90^\circ$ و Q ،
 انتهای شعاع عمود بر صفحه Γ_X است.

(b) از هر نقطه X کمان Γ_M می‌توان کمان Γ_X مربوط به آن را رسم
 و، سپس از آن‌ها، Γ_Y را طوری انتخاب کرد که شامل N باشد. در این صورت

$$f(M) > f(Y) > f(N)$$

(c) شبیه حالت قبل، برای هر دو نقطه M و N (که در آن، M بالای
 N است). می‌توان زنجیره

$$M = X_0, X_1, X_2, \dots, X_r = N$$

را طوری ساخت که X_j (برای $j = 1, 2, \dots, r$) روی $\Gamma_{X_{j-1}}$ باشد (اگر M و N ، عرض‌های نزدیک به هم داشته باشند، ولی طول جغرافیائی آنها، اختلاف زیادی داشته باشد، آن وقت، باید تعداد بیشتری از گام‌های r را برداشت).

(d) اگر برای دو نقطه M و N ، واقع بر يك مدار Π و به فاصله c_1 از صفحه استوا، داشته باشیم $f(M) - f(N) = \varepsilon > 0$ ، آن وقت برای هر دو نقطه M' و N' (که در آن، M' بلندتر از c_1 و N' کوتاه‌تر از c_1 است) خواهیم داشت:

$$f(M') - f(N') \geq f(M) - f(N) = \varepsilon$$

یعنی تابع f ، روی ارتفاع c_1 ، «جهشی» به اندازه ε دارد. از (*) نتیجه می‌شود که، در این صورت، برای هر دو نقطه $c_2 \geq c_1 > 0$ ، با شرط $c_1^2 + c_2^2 + c_3^2 = 1$ ، باید تابع f ، «جهشی» که کمتر از $\frac{\varepsilon}{2}$ نیست، یا در ارتفاع c_2 و یا در ارتفاع c_3 داشته باشد. اگر زوج‌های (c_2, c_3) از این گونه را، بیش از $\left[\frac{2}{\varepsilon}\right]$ بگیریم، آن وقت با توجه به شرط $0 \leq f \leq 1$ ، به تناقض می‌رسیم.

(e) از آن چه گفتیم، معلوم می‌شود که تابع $f(M)$ برابر $g(c_M)$ است که، در آن، c_M فاصله نقطه M تا صفحه استوا، و $y = g(x)$ ، تابعی است صعودی یکنوا از بازه $0 \leq x \leq 1$ که با این شرط‌ها سازگار است: $g(0) = 0$ ، $g(1) = 1$ و به فرض $x_1 + x_2 + x_3 = 1$:

$$g(x_1) + g(x_2) + g(x_3) = 1$$

با توجه به شرط اخیر (به‌ازای $x_1 = 0$) نتیجه می‌شود:

$$g(x_2) = 1 - g(1 - x_2)$$

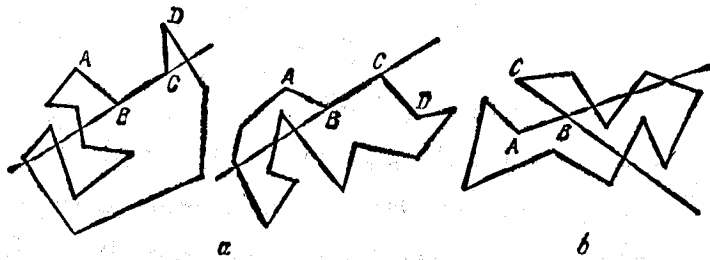
و بنابراین، برای هر x_2 و x_1 :

$$g(x_1) + g(x_2) = 1 - g(1 - x_1 - x_2) = g(x_1 + x_2)$$

ولی تنها تابعی که در این معادله تابعی صدق می‌کند و، در ضمن، با شرط $g(1) = 1$ سازگار است، تابع $g(x) = x$ است. این حکم، ابتدا برای x گویا (اول $x = \frac{1}{n}$ و سپس $x = \frac{k}{n}$) و بعد برای همه مقادیر x (و با توجه به یکنوا بودن تابع) ثابت می‌شود.

۲۳۵. خط راستی که با امتداد يك ضلع BC از خط شکسته به‌دست آمده است، بر حسب این که دو ضلع مجاور آن AB و CD در يك طرف مختلف خط راست BC واقع باشند، ضلع‌های دیگر خط شکسته را در تعدادی زوج یا تعدادی فرد قطع می‌کند (در حالت اخیر، ضلع BC را «زیگزاگ» می‌نامیم). در در واقع، زوج یا فرد بودن تعداد برخورد های خط شکسته با خط راست BC ، با این مطلب معلوم می‌شود که بدانیم، نقطه‌های A و D ، در يك طرف این خط راست قرار دارند یا در دو طرف آن (شکل ۱۰۱، a) ولی روی هر خط شکسته بسته، تعداد «زیگزاگ‌ها» زوج است؛ وقتی روی محیط این خط شکسته حرکت می‌کنیم، اگر توجه کنیم که در هر راس به کدام طرف می‌چرخیم - به راست یا به چپ - روشن می‌شود که تعداد چرخش‌های به راست برابر است با تعداد چرخش‌های به چپ، با توجه به این دو نکته، حکم مساله ثابت می‌شود.

اگر به نکته زیر توجه کنیم، می‌توان اثبات کوتاه‌تری به‌دست آورد: ضلع‌های زاویه‌ای که از امتداد هر دو ضلع مجاور AB و BC حاصل می‌شود، خط شکسته را به تعدادی زوج قطع می‌کند (شکل ۱۰۱، b).



شکل ۱۰۱


۲۳۶. فرض می‌کنیم در نقطه X ، عدد a_X را نوشته باشیم و، در ضمن، به تعداد $n_X > 1$ خط راست از آن بگذرد (این خط‌های راست، نقطه X را به نقطه‌های مفروض دیگر، وصل کرده‌اند). مجموع عددهای واقع بر هر یک از این خط‌های راست، طبق شرط، برابر صفر است. مجموع کل عددهای روی n_X خط راست (که در آن، عدد a_X بار شرکت دارد) برابر است با

$$s + (n_X - 1)a_X = 0$$

که در آن، s عبارت است از مجموع همه عددهایی که روی نقطه‌های جداگانه نوشته شده است. فرض $s \neq 0$ به تناقضی آشکار می‌انجامد: برای هر نقطه X علامت عدد a_X با علامت مجموع s این عددها، مخالف است؛ بنابراین $s = 0$ و در نتیجه، برای هر X : $a_X = 0$.

۲۳۷. حکم (b) را، ضمن حل مسأله ۵۸، ثابت کردیم. اگر از دو لوزی از این گونه (با رأس‌های B و C) استفاده کنیم، نتیجه a هم به سادگی به دست می‌آید.

۲۳۸. پاسخ: بله ممکن است؛ (b) ۸ حرکت (هر نفر ۴ حرکت).



شکل ۱۰۲

در شکل ۱۰۲ مثالی از ۴۱ کارت نشان داده شده است؛ کنار هر کارت، عددی را نوشته‌ایم که نشان می‌دهد، بعد از چند حرکت از آخر، این کارت برداشته می‌شود. چنین ترتیبی را می‌توان، بدراحتی، و از آخر ساخت. به آخرین کارت سیاه باقی‌مانده با شماره ۵، دو کارت سفید با شماره ۱،

اضافه می‌کنیم؛ در کنار هر کدام از آن‌ها، دو کارت سیاه با شماره ۲ (در این طرف و آن طرف) می‌گذاریم؛ کنار هر کدام از کارت‌های سیاه، دو کارت سفید شماره ۳ قرار می‌دهیم و غیره. روشن است که، با این روش، در هر گام، حداکثر تعداد ممکن کارت‌های متناظر با شماره گذاشته می‌شود. برای هر i ، ترتیبی با حداکثر تعداد ممکن $a_i = b_i + w_i$ از کارت‌ها به دست می‌آید (b_i کارت‌های سیاه و w_i کارت‌های سفید) که می‌توانند در i حرکت، به یک کارت سیاه تبدیل شوند ($b_0 = 1, w_0 = 0$). قانون نوشتن پشت سرهم (b_i, w_i) خیلی ساده است: ضمن عبور از i به $i+1$ ، عدد بزرگتر از بین دو عدد b_i و w_i تغییر نمی‌کند، به عدد کوچکتر، دو برابر عدد بزرگتر اضافه می‌شود:

i	۰	۱	۲	۳	۴	۵	۶	۷	۸
b_i	۱	۱	۵	۵	۲۹	۲۹	۱۶۹	۱۶۹	۹۸۵
w_i	۰	۲	۲	۱۲	۱۲	۷۰	۷۰	۴۰۸	۴۰۸
a_i	۱	۳	۷	۱۷	۴۱	۹۹	۲۳۹	۵۷۷	۱۳۹۳

برای حل مسأله (a) کافی است یکی از ۴۱ نقطه شکل ۱۰۲ را، که شماره ۴ داشته باشد، حذف کرد؛ این حذف تأثیری در موقیت ما، بعد از نخستین حرکت ندارد، مثلاً، برای حفظ تقارن، می‌توان نقطه‌ای را که با علامت * مشخص کرده‌ایم، حذف کرد.

عبور از ۱۰۰۰ کارت به یک کارت را، نمی‌توان با کمتر از ۸ حرکت انجام داد، زیرا، همان‌طور که در جدول دیده می‌شود: $1000 < a_7 = 577$. برای این که مثال مربوط به ۱۰۰۰ کارت را به دست آوریم، می‌توان ابتدا نمونه $a_8 = 1393$ را، که با حداکثر ۸ حرکت وجود دارد، در نظر گرفت و سپس، ۳۹۳ کارت با شماره ۸ را از آن حذف کرد که بر موقیت ما، بعد از حرکت اول تأثیری ندارد. این عمل را می‌توان انجام داد، زیرا 408×2 ، یعنی ۸۱۶ کارت دارای شماره ۸ هستند که در بین ۵۷۷ کارت قرار دارند که شماره‌ای بیش از ۷ ندارند و، دست کم، $577 - 816 = 239$ زوج

کارت ردیف هم را تشکیل می دهند.

۲۳۹. از تعریف حد دنباله استفاده می کنیم (ضمیمه ۲۱). اگر برای هر $n \geq N$ و عددی مثل k ، نابرابری های

$$|a_n - \frac{1}{p} a_{n+1}| < \varepsilon \text{ و } \frac{|a_N|}{p^k} < \varepsilon$$

برقرار باشند، آن وقت، به ازای $m \geq N + k$ خواهیم داشت:

$$|a_m| < \frac{1}{p} |a_{m-1}| + \varepsilon < \frac{1}{p^2} |a_{m-2}| + \frac{\varepsilon}{p} + \varepsilon < \dots$$

$$\dots < \frac{1}{p^{m-N}} |a_N| + \frac{\varepsilon}{p^{m-N+1}} + \dots + \frac{\varepsilon}{p^2} + \frac{\varepsilon}{p} + \varepsilon <$$

$$< \frac{1}{p^k} |a_N| + 2\varepsilon < 3\varepsilon$$

۲۴۰. تناظر متقابل و يك به يك f را، بین $n-1$ پاره خط راست از مسیر اول و $n-1$ پاره خط راست از مسیر دوم به نحوی برقرار می کنیم که مسافرت روی پاره خط راست اول به قیمتی تمام شود، که از مسافرت روی پاره خط راست دوم بیشتر نباشد $f_i(A)$ را « i امین مسیری می گیریم $(i=1, 2)$ که از شهر A آغاز شده است، یعنی مجموعه شهرهایی که، در i امین مسیر، بعد از شهر A قرار دارند. شهر بلافاصله بعد از A را، در مسیر اول A' و در مسیر دوم A'' می نامیم.

f را به این ترتیب معین می کنیم. اگر AA' ، پاره خط مسیر اول، چنان باشد که $f_1(A)$ با $f_2(A)$ برخورد دارد (یعنی در شهری مشترک اند)، آن وقت فرض می کنیم: $f(AA') = AA''$. در حالت عکس، فرض می کنیم $f(AA') = BB'$ ، در آن، B عبارت است از آخرین شهر از $f_1(A)$ در مسیر دوم. توجه کنیم که، در این حالت، $f_1(B)$ هم با $f_2(B)$ برخوردی ندارد؛ در ضمن، A ، آخرین شهر از $f_2(B)$ در مسیر اول است (از این جا، نتیجه می شود که، تناظر f ، يك به يك است و، در ضمن، معکوس آن، f^{-1}

با همین قاعده تعریف می شود).

اگر $|a|$ را به معنای قیمت بلیت روی پاره خط راست a فرض کنیم، حقیق می کنیم که $|f(a)| \geq |a|$. اگر C ، شهر برخورد $f_1(A)$ و $f_2(A)$ باشد، آن وقت $|AA''| \leq |AC| \leq |AA'|$ و در حالت دوم

$$|AA'| \leq |AB| = |BA| \leq |BB''|$$

(در هر دو حالت، نابرابری ها، نتیجه ای از نظام انجام مسافرت است: برای هر D از $f_1(A)$ داریم: $|DA| \geq |AA'|$ ؛ و برای هر E از $f_2(A)$ ، برعکس: $|EA| \leq |AA''|$).

۲۴۱. دو دایره ای را در نظر می گیریم که بر دو وجه مجاور یال AB از چندوجهی، محیط باشند. این دو دایره، به صورتی يك ارزشی، کره σ را معین می کنند که این دو دایره روی آن قرار گرفته اند؛ از این گذشته، همه رأس های این دو وجه مجاور هم، روی کره اند. اگر BC و BD دو یال دیگر چندوجهی باشند که از B خارج شده اند، آن وقت دایره ای هم که از سه نقطه B ، C و D می گذرد (دایره محیطی وجه شامل این سه رأس)، به کره σ تعلق دارد، به نحوی که همه رأس های دو وجه متصل به یال BC ، روی همان σ واقع اند. اکنون به همان ترتیب، می توان وجه های متصل به یالی را در نظر گرفت که از C خارج شده است و، با همین روش، خود را به هر رأسی از چندوجهی رسانید - همه آن ها روی يك کره σ قرار دارند: برای هر يك از این رأس ها، می توان زنجیره ای از یال ها ساخت که از یال AB آغاز و به رأس مورد نظر ختم شده باشد.

۲۴۲. پاسخ: بله، دومی می تواند برنده شود.

برای اثبات، باید برنامه برد را توضیح دهیم. دومی می تواند در چهار حرکت خود، طوری عمل کند که، برای حرکت پنجم اولی، ضریب یکی از توان های فرد x^i ، x^{i+1} ، باقی مانده باشد. فرض کنید، قبل از حرکت چهارم دومی، به چند جمله ای

$$P(x) + *x^m + l*x^{i+1}$$

رسیده باشیم که، در آن: $P(x)$ چندجمله‌ای معلومی باضریب‌های عددی است. عددهای μ و $c > 0$ را طوری در نظر می‌گیریم که، به‌ازای هر مقدار λ ، برای چندجمله‌ای $F(x) = P(x) + \mu x^m + \lambda x^{2l+1}$ داشته باشیم:

$$cF(1) + F(-2) = 0$$

که در این صورت $F(x)$ ، دارای ریشه‌ای در بازه $[-2, 1]$ خواهد داشت (ضمیمه ۵ را ببینید). برای این منظور کافی است فرض کنیم:

$$c = 2^{2l+1} \text{ و } \mu = \frac{P(-2) - cP(1)}{c + (-2)^m}$$

(روشن است که، به جای 1 و -2 ، می‌توان دو عدد دیگر با علامت‌های مختلف را در نظر گرفت). اگر دومی، در حرکت چهارم خود، این مقدار μ را انتخاب کند، وجود ریشه را در معادله مفروض، تأمین خواهد کرد.

$$۲۴۳. \text{ پاسخ: } \frac{۶}{۷}, \frac{۵}{۷}, \frac{۴}{۷}, \frac{۳}{۷}, \frac{۲}{۷}, \frac{۱}{۷} \text{ و } ۰ \text{ لیتر.}$$

تحقیق درستی این جواب، دشوار نیست: اگر اولی شیر لیوان خود را، بین ۶ لیوان دیگر به طور برابر تقسیم کند، به هر لیوان $\frac{1}{7}$ لیتر شیر می‌رسد و، در ضمن، لیوان اولی خالی می‌ماند، یعنی همان عددهای قبلی ظاهر می‌شوند، با این تفاوت که، جای لیوان‌ها، عوض شده است؛ هر لیوان قبلی، نصیب نفر سمت راستی شده است. تنها این می‌ماند که، ثابت کنیم، جواب دیگری وجود ندارد. از برهان خلف استفاده می‌کنیم.

x را بیشترین مقدار شیری می‌گیریم که، در تمامی مدت جا به‌جایی شیرها، به لیوان I ، قبل از آن که زمان تقسیم آن رسیده باشد، ریخته شده است. در این صورت، بعد از یک دور عمل شامل ۷ بار «جا به‌جایی» شیرها (این دور را می‌توان به طور نامحدود ادامه داد، به نحوی که I را می‌توان حلقه اول این دور دانست)، در لیوان I حداکثر $x = 6 \times \frac{x}{6}$ لیتر شیر جمع

می‌شود؛ در ضمن، خود این مقدار وقتی به دست می‌آید که از هر یک از شش لیوان دیگر، درست $\frac{x}{6}$ لیتر شیر به لیوان I ریخته شده باشد. به این ترتیب، با توجه به شرط نتیجه می‌شود که، هر لیوان، همان مقدار x لیتر شیر را بخش می‌کند و، بعد از دریافت k سهم، در آن، $\frac{kx}{6}$ لیتر خواهد بود ($6, 2, \dots, 1, k$)؛ مقدار x ، از این شرط به دست می‌آید که، مجموع کل شیرها، برابر ۳ لیتر است.

۲۴۴. (a) پاسخ: یک عدد دورقمی ۴۹ و یک عدد چهار رقمی ۱۶۸۱ (۴۱۲)، عدد «خاص» است.

فرض می‌کنیم: $(10x + t)^2 = 100x^2 + 20xt + t^2$ که، در آن، باید عدد $20xt + t^2$ مجذور کامل عددی طبیعی کوچکتر از ۱۰۰، و t عدد درستی از ۱ تا ۹ باشد، در ضمن $x^2 > 10$. در این صورت $x \geq 4$ و $xt \leq 40$ که تنها برای $x = 4$ و $t = 1$ ممکن است.

(b) پاسخ: بله وجود دارد، $506^2 = 256036$.

(c) برای این که، عدد «خاص» لازم، به صورت

$$(10^5x + 1)^2 = 10^{10}x^2 + 2 \times 10^5x + 1$$

را به دست آوریم، کافی است عدد درست x را طوری پیدا کنیم که داشته باشیم:

$$10^9 < 2 \times 10^5x + 1 < 10^{10} \text{ و } 2 \times 10^5x + 1 = y^2$$

می‌توان $x = 5 \times 10^4 - 1$ انتخاب کرد (عدد ۲۰ رقمی «خاص» مورد نظر چنین است:

$$(4999900001)^2 = 24999000019999800001$$

که از 49999^2 و 99999^2 تشکیل شده است).

(d) برای هر k ، عدد «خاص» $4k$ رقمی تنها می‌تواند

$$(10^kx + t)^2 = 10^{2k}x^2 + 2 \times 10^kxt + t^2$$

به ازای $10^{2k} < x^2 < 10^{2k+1}$ باشد، از این جا

$$x > 3 \times 10^{k-1} \text{ و } 6 \times 10^{2k-1} < 10^{2k}$$

که از آن جا به دست می آید $z = 1$ ، در ضمن، برابری

$$2 \times 10^k x + 1 = (2u + 1)^2$$

که با برابری $2^{k-1} \times 5^k x = u(u+1)$ هم ارز است، تنها در سه حالت می تواند برقرار شود:

$$(1) \quad u+1 \text{ بر } 5 \times 10^{k-1} \text{ بخش پذیر باشد؛}$$

$$(2) \quad u \text{ بر } 2^{k-1} \text{ و } u+1 \text{ بر } 5^k \text{ بخش پذیر باشد؛}$$

$$(3) \quad u \text{ بر } 5^k \text{ و } u+1 \text{ بر } 2^{k-1} \text{ بخش پذیر باشد.}$$

هر حالت، بیش از یک جواب که با شرط $u < 5 \times 10^{k-1}$ هم ارز با شرط $10^k < 2u+1 < 10^{k+1}$ سازگار باشد، ندارد [در حالت های (۲) و (۳)]، کافی است اختلاف دو جواب را در نظر بگیریم تا با این شرط تناقض پیدا کند). بنابراین، بیش از ۳ عدد «خاص» وجود ندارد.

▽ با بحثی مفصل تر، می توان ثابت کرد که، از این گونه عدد، بیش از دو تا وجود ندارد.

(۵) برای هر k ، دست کم یک عدد خاص $(2k+2)$ رقمی، یعنی $z^2 = v + w$ وجود دارد که، در آن، $v = 25 \times 10^{2k-1}$ و w عددی طبیعی بزرگتر از \sqrt{v} فرض می کنیم $v = w^2 - y$ ؛ در ضمن

$$z^2 = 2v, \quad w^2 + y^2 = 10^{2k+1} w^2 + y^2$$

از w^2 و $2v$ «تشکیل» شده و عددی خاص است، به شرطی که داشته باشیم:

$$0 < y^2 < 10^{2k+1} \text{ و } 10^{2k} \leq w^2 < 10^{2k+1}$$

چون $\sqrt{v} < w-1$ و $v-1 \leq (w-1)^2$ ، بنابراین

$$y < 2\sqrt{v} \text{ و } y^2 < 2v = 10^{2k+1}$$

سپس داریم:

$$10^{2k} < v < w^2 = v + y < v + 2\sqrt{v} < 2v < 10^{2k+1}$$

▽ در حالت خاص می توان به کمک کامپیوتر، عدد زیر را به ازای

$k=7$ به دست آورد:

$$z = 25 \times 10^{12} + 15811389^2 = 500000022109321$$

که مجذور آن، عدد ۳۰ رقمی خاصی است

۲۴۵. عددهای مفروض را، به ردیف صعودی می نویسیم:

$$a_1 \leq a_2 \leq \dots \leq a_n$$

ثابت می کنیم، هر مجموع s ، شامل چند تا از این جمله ها، در یکی

از فاصله های بین b_k و b_{k+1} قرار دارد که، در آن، $b_k = a_1 + \dots + a_k$

($k=1, \dots, n$). کافی است ثابت کنیم که، هیچ کدام از مجموع های s ،

نمی تواند، به طور اکید، بین b_k و b_{k+1} واقع باشد. فرض می کنیم:

$$s > b_k = a_1 + a_2 + \dots + a_k$$

در ضمن، فرض می کنیم، s ، شامل عضوی مثل a_{k+1} باشد، بنا بر این

$$s \geq a_{k+1} \text{ با جمع کردن نابرابری ها، به دست می آید:}$$

$$2s > a_1 + a_2 + \dots + a_{k+1} = b_{k+1} \Rightarrow s > b_{k+1}$$

(۲۴۶. a) ده رقم ۵، ۱، ۹، ...، ۹ را، به دو گروه و در هر گروه ۵ رقم،

تقسیم می کنیم (مثلاً از ۵ تا ۹ در یک گروه، و از ۱ تا ۹ در گروه دیگر).

کافی است از جمع هایی استفاده کنیم که، در آن ها، هر دو رقم متعلق به یکی

از این دو گروه باشند، زیرا چنین دورقمی، در هر شماره سه رقمی وجود

دارد. (و به این ترتیب، جمع هایی که دورقم آن ها، از دو گروه مختلف باشند،

خالی می ماند).

(b) به جز ۱۰ جمعه با شماره های ۵۰، ۱۱، ...، ۹۹ که حتماً باید

اشغال شوند، دشت کم به ۳۰ جمعه دیگر نیاز داریم تا بلیت‌های بارقم متفاوت را در آن‌ها جادو کنیم: تعداد چنین بلیت‌هایی روی هم برابر $10 \times 9 \times 8 = 720$ است و در هر جمعه با شماره \overline{pq} ($p \neq q$)، بیش از $24 = 3 \times 8$ تا از این بلیت‌ها وارد نمی‌شود (\overline{pqz} و \overline{zpq} که در آن‌ها، z رقمی دلخواه، مخالف با p و q است).

(c) x را کمترین تعداد جمعه‌های اشغال شده‌ای می‌گیریم که، شماره‌های آن‌ها، با یک رقم آغاز شده باشند ($x \geq 1$)؛ چون همه رقم‌ها، حقوقی برابر دارند، می‌توان فرض کرد که، کمتر از همه، جمعه‌هایی باشند که با شماره ۹ آغاز شده‌اند: ۹۹، ۹۸، ...، $9\overline{y}$ که، در آن، $x = 10 - y$. در این صورت، هر بلیت با شماره \overline{pq} را، که در آن، $y < p < q$ نمی‌توان در جمعه‌های $9\overline{p}$ و $9\overline{q}$ قرارداد، یعنی باید جمعه \overline{pq} را اشغال کنند. به این ترتیب، تعداد جمعه‌هایی که باید اشغال شوند، برابر است با دست کم همه $2x$ جمعه‌ای که هر دو رقم شماره آن‌ها از ۰ تا $(y-1)$ است و همچنین، دست کم x جمعه‌ای که شماره‌های آن‌ها با یکی از رقم‌های y تا ۹ آغاز می‌شوند (برای هر یک از این x رقم، دست کم x جمعه لازم است)؛ یعنی تعداد کل جمعه‌ها، نمی‌تواند از این مقدار کمتر باشد:

$$y^2 + x^2 = (10 - x)^2 + x^2 \geq 50$$

(d) و (e). برای عددهای طبیعی و مفروض k و s ($k < s$)، $F(k, s)$ را به معنای کوچکترین عدد از عددهای $x_1^2 + x_2^2 + \dots + x_k^2$ می‌گیریم که، در آن، x_1, x_2, \dots, x_k ، عددهایی طبیعی به مجموع s هستند. مقدار $F(k, s)$ را می‌توان بر حسب k و s بیان کرد. حداقل مقدار مجموع مجذورها وقتی به دست می‌آید که عددهای x_i «تقریباً برابر» باشند: اگر $s = kq + r$ و $0 \leq r < k$ ، آن وقت $(k-r)$ تا از آن‌ها برابر q و r تای بقیه، برابر $q+1$ باشند، بدنجوی که

$$F(k, s) = (k-r)q^2 + r(q+1)^2 = kq^2 + r(2q+1)$$

بهبتر است، مسأله کلی‌تر را مورد بررسی قرار دهیم، وقتی که «بلیت‌ها» k رقمی و با رقم‌های از ۰ تا $s-1$ باشند (در مسأله ما: $s=10$). ثابت می‌کنیم، حداقل تعداد $M(k, s)$ جمعه‌ها با شماره‌های \overline{pq} ($0 \leq p, q < s$) که در آن، می‌توان بلیت‌های، با حذف $(k-2)$ رقم را جاداد، برابر است با $F(k-1, s)$.

در حالت خاص مسأله (d):

$$M(2, 10) = F(3, 10) = 3^2 + 3^2 + 3^2 = 34$$

پاسخ مسأله (e) را در این جدول داده‌ایم:

k	۳	۴	۵	۶	۷	۸	۹	۱۰	۱۱
$M(k, 10) = F(k-1, 10)$	۵۰	۳۴	۲۶	۲۰	۱۸	۱۶	۱۴	۱۲	۱۰

تا برابری $M(k, s) \geq F(k-1, s)$ را می‌توان، با استدلالی شبیه

مسأله (c) و با استفاده از استقرا روی $k+s$ ، ثابت کرد:

$$M(k, s) \geq \min_{x=1, 2, \dots, s} (M(k-1, s-x) + x^2)$$

برای جا دادن بلیت‌ها، در $F(k-1, s) = x_1^2 + \dots + x_{k-1}^2$ جمعه،

کافی است شبیه مسأله (a)، s رقم را به $k-1$ گروه (x_1, x_2, \dots, x_{k-1})

رقم) تقسیم کرد و جمعه‌هایی را در نظر گرفت که، در آن‌ها، هر دو رقم از

یکی از گروه‌ها انتخاب شده‌اند.

۲۴۷. همه گره‌ها را، به ردیف به شطرنجی، رنگ‌های سیاه و سفید در

می‌آوریم. در مرز به جز رأس‌های مربع اصلی، 4×99 گره وجود دارد

که، به طور برابر، بین گره‌های سیاه و سفید تقسیم شده‌اند. فرض کنید، همه

آن‌ها، در انتهای خط‌های شکسته واقع باشند. در این صورت، تعداد خط‌های

شکسته‌ای که دو انتهای سفید دارند با تعداد خط‌های شکسته‌ای که دو انتهای

سیاه دارند، برابر است. بنابراین، تعداد کل گره‌های سفید و سیاه هم،

که روی خط‌های شکسته و در درون صفحه شطرنجی قرار دارند، برابر

می‌شوند. ولی در درون صفحه شطرنجی، روی هم ۹۹^۲، یعنی به تعدادی فرد

گره وجود دارد که، دست کم، یکی از آن‌ها، روی خط‌های شکسته واقع نیستند
۲۸۴. با توجه به شرط مساله، معلوم می‌شود که مقدار

$$s = x_1 + x_2 + \dots + x_n = y_1 + y_2 + \dots + y_m$$

از ۲ کمتر نیست (زیرا $s \leq n$ ، $m \leq s$ و $s < mn$). در حالتی که داشته باشیم: $m = n = 2$ ، $3 \leq s \leq 4$ ، حکم مساله به سادگی قابل تحقیق است. حکم را در حالت کلی، با استقرا روی $m + n = k$ ($k \geq 4$) ثابت می‌کنیم. $x_1 > y_1$ را، به ترتیب، بزرگترین عددها بین x_i و y_j می‌گیریم ($1 \leq i \leq m$ ، $1 \leq j \leq m$ ؛ حالت $x_1 = y_1$ روشن است). برای این که، فرض استقرا را، در مورد برابری

$$(x_1 - y_1) + x_2 + \dots + x_n = y_2 + \dots + y_m$$

که شامل $k - 1 = m + n - 1$ عدد است، در دو طرف برابری به کار بریم (بعد از آن که، در صورت لزوم، y_1 را به سمت راست منتقل کنیم)، کافی است برقراری نابرابری

$$s' = y_2 + \dots + y_m < n(m - 1)$$

را مورد تحقیق قرار دهیم؛ چون $y_1 > \frac{s}{m}$ ، بنابراین

$$s' < s - \frac{s}{m} = \frac{mn(m - 1)}{m} = n(m - 1)$$

۲۴۹. K_1 را بزرگترین مربع از مربع‌های مفروض، سپس K_2 را بزرگترین مربع از بین مربع‌هایی که مرکزشان در K_1 قرار ندارد، بعد K_3 را بزرگترین مربع از بین آن‌هایی که مرکزی در داخل مربع‌های K_1 و K_2 ندارند و غیره، فرض می‌کنیم.

فرض می‌کنیم، نقطه C ، مرکز یک مربع، در بیش از چهار مربع، از مربع‌های K_1 ، K_2 ، ...، واقع باشد، در این صورت، مرکزهای دو تا از آن‌ها (K_i و K_j) در یکی از چهار بخش صفحه که به وسیله محورهای تقارن

مربع به مرکز C به وجود آمده‌اند، قرار می‌گیرد. از بین K_i و K_j ، آن مربعی که مرکز آن، نسبت به این محورها، دورتر است (مثلاً نسبت به مجموع‌ها، یا نسبت به بزرگترین فاصله‌ها) شامل مرکز دیگری هم می‌شود. ولی این، با قانون انتخاب مربع‌ها، متناقض است.

۲۵۰. $m_1 < m_2 < \dots < m_n$ را به ترتیب وزن و زنه‌ها می‌گیریم.

a را در کفه چپ، بعد m_2 را در کفه راست، m_3 را در کفه چپ، m_4 را در کفه راست و غیره قرار می‌دهیم؛ همان دنباله متورد نظر $LRLRLR \dots$ به دست می‌آید. و این، نتیجه‌ای است از حکم ساده زیر: پیش‌قضیه. اگر $m_1 < m_2 < \dots < m_{k-1} < m_k$ ، آن وقت، از دو مجموع

$$m_1 + m_2 + m_3 + \dots + m_k \quad \text{و} \quad m_2 + m_3 + m_4 + \dots$$

(که شامل همه n عدد مفروض باشند)؛ آن مجموعی بزرگتر است که، عدد بزرگتر m_k ، در آن باشد.

برای اثبات پیش‌قضیه، کافی است در حالت زوج بودن k ، نابرابری‌های

$$m_1 < m_2, m_2 < m_3, \dots, m_{k-1} < m_k$$

و در حالت فرد بودن k ، نابرابری‌های

$$m_1 > 0, m_2 > m_3, \dots, m_k > m_{k-1}$$

را با هم جمع کنیم.

همین پیش‌قضیه، ولی برای $m_1 < m_2 < \dots < m_{k-1} < m_k$ که از $k - 1 + 1$ عدد تشکیل شده است، برای حل مساله (b) استفاده خواهیم کرد.

(b) بهتر است ردیف وزنه‌ها را، که متناظر با واژه مفروض با حرف‌های L و R است، «با آغاز از پایان» واژه شرح دهیم.

همه وزنه‌های با شماره زوج را در یکی از کفه‌ها، و همه شماره‌های فرد را در کفه دیگری گذاریم، در ضمن، سنگین‌ترین وزنه m_n را، در کفه‌ای قرار می‌دهیم که متناظر با آخرین حرف از واژه مفروض باشد؛ سپس، با

عبور از هر حرف به حرف قبلی خود، اگر حرف عوض شده است (از L به R یا از R به L)، سنگین ترین وزنه را از بین وزنه های باقی مانده بر می داریم و اگر با تغییر حرف رو به رو نیستیم، سبک ترین آن ها را. در ضمن هر بار، ردیفی از وزنه ها (به ردیف شماره ها) باقی می ماند که، با عوض کردن جای خود، در این یا آن کفه قرار دارند؛ در مورد این ردیف، پیش قضیه را به کار می بریم.

۲۵۱. a) پاسخ: چند جمله ای های $Q_1(x) = x$ و $Q_2(x) = P(x)$ چند جمله ای $P(x) = x^2 - \alpha$ ، به ازای هر مقدار دلخواه α ، قابل جا به جایی اند؛ چند جمله ای Q از درجه سوم، که با $x^2 - \alpha$ قابل جا به جایی باشد، به ازای $\alpha = 0$ ($Q(x) = x^3$) و به ازای $\alpha = 2$ ($Q(x) = x^3 - 3x$) وجود دارد. اثبات این که چند جمله ای دیگری وجود ندارد، از راه مقایسه ضریب ها به دست می آید. مثلاً برای چند جمله ای درجه سوم، اتحاد

$$(x^3 + \beta_1 x^2 + \beta_2 x + \beta_3)^2 - \alpha = (x^2 - \alpha)^3 + \beta_1 (x^2 - \alpha)^2 + \beta_2 (x^2 - \alpha) + \beta_3$$

وقتی برقرار است که داشته باشیم: $\beta_1 = \beta_2 = 0$ (مقایسه ضریب های x^5 ، x^3 و x)، $2\beta_2 = -3\alpha$ (مقایسه ضریب های x^4)، $\beta_3^2 = 3\alpha^2 + \beta_2$ (مقایسه ضریب های x^2)، $\alpha = \alpha^3 + \beta_3 \alpha$ (مقایسه مقادیرهای ثابت). از آن جا یا $\alpha = 0$ و $\beta_3 = 0$ یا

$$\beta_3 = -\frac{3}{2}\alpha = 1 - \alpha^2 = \beta_3^2 - 3\alpha^2$$

و این سه معادله با دو مجهول، منجر به جواب $\alpha = 2$ ، $\beta_3 = -3$ می شوند. (b) به سادگی قابل تحقیق است که اگر چند جمله ای های قابل جا به جایی $P(x)$ و $Q(x)$ را، با هم، به این صورت تبدیل کنیم:

$$P(x) \rightarrow P^*(x) = P(x - \gamma) + \gamma \quad Q(x) \rightarrow Q^*(x) = Q(x - \gamma) + \gamma$$

(γ ، عددی دلخواه است)، آن وقت چند جمله ای های $P^*(x)$ و $Q^*(x)$ هم،

نسبت به یکدیگر، قابل جا به جایی اند. هر چند جمله ای درجه دومی که ضریب بزرگترین درجه آن واحد باشد، می توان (با جدا کردن مربع کامل آن)، به صورت $P^*(x) = x^2 - \alpha$ تبدیل کرد. بنابراین، می توان از ابتدا فرض کرد $P(x) = x^2 - \alpha$ و شبیه a عمل کرد.

با توجه به اتحاد $Q(x^2 - \alpha) = (Q(x))^2 - \alpha$ ، که در آن

$$Q(x) = x^k + \beta_1 x^{k-1} + \beta_2 x^{k-2} + \dots + \beta_k$$

دستگاه معادله هایی برای $\beta_1, \beta_2, \dots, \beta_k$ به دست می آید. قبل از همه خواهیم داشت: $0 = \beta_1 = \beta_2 = \dots = \beta_p$ و سپس، معادله های به صورت $\beta_p = F_p$ ، $\beta_{p-1} = F_{p-1}$ ، ... که، در آن ها، تابع های F_i به α و به β_j بستگی دارند ($j < i$)، تنها به نحوی که ضریب های $\beta_p, \beta_{p-1}, \dots$ به طور یک ارزشی پیدا می شوند (تنها معادله، از بین k معادله ای که با برابر قرار دادن ضریب های $x^{k-2}, x^{k-4}, \dots, x^2$ و مقدار ثابت به دست می آیند، برای جست و جوی β_p کافی است؛ بقیه، شرط هایی اضافی هستند که ممکن است، برقرار نباشند).

(c) این چند جمله ای ها، عبارتند از $(P(P(x)))$ و $(P(P(x)))$.

(d) به جای $P(Q)$ و $P(Q(R))$ از نمادهای $P \circ Q$ و $P \circ Q \circ R$ استفاده می کنیم. طبق شرط $Q \circ P = P \circ Q$ و $R \circ P = P \circ R$ ، از آن جا

$$(Q \circ R) \circ P = Q \circ R \circ P = Q \circ P \circ R = P \circ Q \circ R = P \circ (Q \circ R)$$

$$(R \circ Q) \circ P = R \circ Q \circ P = R \circ P \circ Q = P \circ R \circ Q = P \circ (R \circ Q)$$

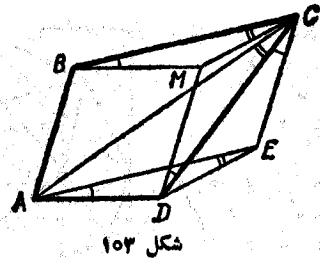
می بینیم که، چند جمله ای های $Q \circ R$ و $R \circ Q$ ، هر دو با P قابل جا به جایی اند؛ و چون از یک درجه هستند (حاصل ضرب درجه های R و Q)، با توجه به (b)، بر هم منطبق اند.

(e) با روش استقرای ریاضی می توان ثابت کرد که، برای هر $k \geq 2$ ،

چند جمله ای P_k از درجه k وجود دارد، به نحوی که

$$t^k + \frac{1}{t^k} = P_k(t + \frac{1}{t})$$

دز حالت های خاص



شکل ۱۰۳

۲۵۳. E را رأس مثلث ADE می گیریم که از انتقال مثلث BMC

به اندازه بردار \vec{BA} به دست آمده باشد (شکل ۱۰۳). در این صورت $MDEC$ متوازی الاضلاع است و زاویه های EAD, CMB, ECD و CDM, CMB, EAD برابر می شوند و نقطه های A, C, E, D روی محیط یک دایره قرار می گیرند. بنابراین، زاویه های ACD, AED, BCM هم برابر می شوند. ۲۵۴. اگر $1 - 1978^m = d$ بر $1 - 1000^m$ بخش پذیر باشد، آن-

وقت عدد

$$1978^m - 1000^m = 2^m(989^m - 500^m)$$

هم باید بر d بخش پذیر باشد. ولی این ممکن نیست، زیرا $989^m - 500^m$ از d کوچکتر، و d عددی فرد است.

۲۵۵. (a) پاسخ. $n = 7$.

مجموعه K_n ، از نقطه های واقع بر خط راست AB تشکیل شده است که از نقطه های A و B به فاصله هایی که با عددهای درست بیان می شوند، قرار دارند؛ در ضمن، دو نقطه انتهایی این مجموعه، از وسط پاره خط راست AB ، به فاصله $\frac{3^n}{2}$ قرار دارند ($n = 1, 2, \dots$). بنابراین، دو نقطه انتهایی

به فاصله $\frac{3^n - 1}{2}$ و $\frac{3^n + 1}{2}$ از A واقع اند. چون

$$\frac{3^6 + 1}{2} = 365 < 1000 \text{ و } \frac{3^7 + 1}{2} = 1092 > 1000$$

$$t^2 + \frac{1}{t^2} = \left(t + \frac{1}{t}\right)^2 - 2, \quad t^3 + \frac{1}{t^3} = \left(t + \frac{1}{t}\right)^3 - 3\left(t + \frac{1}{t}\right)$$

به نحوی که $P_2(x) = x^2 - 2$ ، $P_3(x) = x^3 - 3x$ در ضمن

$$t^m + \frac{1}{t^m} = P_m\left(t + \frac{1}{t}\right) = P_n\left(t^m + \frac{1}{t^m}\right) =$$

$$= P_n\left(P_n\left(t + \frac{1}{t}\right)\right) = P_n\left(P_m\left(t + \frac{1}{t}\right)\right) = P_{mn}\left(t + \frac{1}{t}\right)$$

از این اتحادها، نتیجه می شود: $P_m \circ P_n = P_n \circ P_m = P_{mn}$.

∇ این چندجمله ای ها، با تغییر متغیرهای ساده ای، از چندجمله ای های چبیشف، T_k ، که با اتحادهای زیر معین می شوند، به دست می آیند:

$$\cos k\varphi = T_k(\cos\varphi), \quad k = 2, 3, \dots, \quad P_k(x) = 2T_k\left(\frac{x}{2}\right)$$

۲۵۲. پاسخ: ۸۸.

با هر یک از عددهای $k = 1, 2, 3, \dots$ در دنباله (a_n) ، $2k$ بار برخورد می کنیم، زیرا شرط $a_n = k$ هم ارز است با

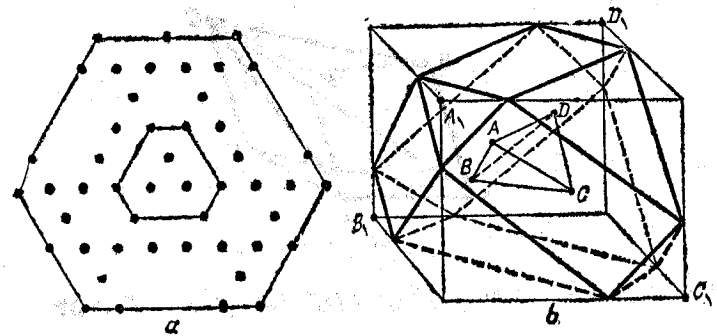
$$k - \frac{1}{2} < \sqrt{n} < k + \frac{1}{2} \quad \text{یا} \quad k^2 - k < n \leq k^2 + k$$

بنابراین، در مجموع

$$\left(\frac{1}{a_1} + \frac{1}{a_2}\right) + \left(\frac{1}{a_3} + \frac{1}{a_4} + \frac{1}{a_5} + \frac{1}{a_6}\right) + \dots$$

$$\dots + \left(\frac{1}{a_{44 \times 43 + 1}} + \dots + \frac{1}{a_{44 \times 45}}\right)$$

مقدار هر یک از پرانتزها، برابر است با $2k \times \frac{1}{k} = 2$.



شکل ۱۰۴

بنابراین، مجموعه مطلوب K_V است.

(b) چندضلعی‌هایی که پوش‌های محدب (ضمیمه ۱۷) مجموعه‌های K_1, K_2, \dots باشند، شش‌ضلعی‌ها هستند (شکل ۱۰۴، a). رأس‌های پوش محدب K_n ، به این ترتیب به دست می‌آید: باید هر دو رأس مثلث ABC را در نظر گرفت و، در مورد آن‌ها، n بار عمل «تقارن» را، شبیه مسأله a)، انجام داد. برای این که ثابت کنیم، همه نقطه‌های K_n در مرزهای پوش محدب H_n ، که از شش «نقطه مرزی» ساختمان به دست آمده است، قرار دارند، بهتر است H_n را به عنوان اشتراك سه نواری در نظر بگیریم که، مرزهای هر يك از آن‌ها را، دو ضلع رو به روی شش‌ضلعی H_n تشکیل می‌دهند ($n = 1, 2, \dots$). مثلث اولیه ABC را هم، می‌توان همچون اشتراك سه نوار در نظر گرفت: مرزهای یکی از این نوارها عبارتند از خط راست AB و خط راستی که از C موازی با آن رسم شده باشد؛ و به همین ترتیب، دو نوار دیگر. اگر قرینه‌های هر نوار را نسبت به نقطه‌های آن پیدا کنیم، نوار جدیدی به دست می‌آید که دارای همان محور تقارن است، ولی پهنای آن سه برابر شده است. با استفاده از این نکته، می‌توان ثابت کرد که K_n ($n = 1, 2, \dots$) به هر يك از سه نوار تعلق دارد، که در برخورد H_n را می‌دهند.

مساحت H_n را می‌توان، به عنوان ترکیب مساحت مثلث‌های متجانس

$$ABC \text{ با محاسبه کرد. این مساحت، برابر است با } \frac{1}{4}(3^{2n} + 1)$$

(c) مجموعه K_1 ، به جز نقطه‌های K_0 ، شامل ۱۲ نقطه دیگر است که از قرینه هر يك از رأس‌های چهاروجهی $ABCD$ نسبت به رأس‌های دیگر، به دست می‌آیند. مکعب L_0 را طوری می‌سازیم که، نقطه‌های A و B و C و D ، رأس‌های غیر مجاور آن باشند، سپس، مکعب L_1 را از تجانس L_0 نسبت به مرکز آن و با ضریب ۳، با رأس‌های متناظر A_1, B_1, C_1, D_1 می‌سازیم. ۱۲ نقطه K_1 ، هر کدام روی یکی از یال‌های مکعب L_1 قرار می‌گیرند و آن را (با به حساب آوردن از رأس‌های A_1, B_1, C_1, D_1) به نسبت ۱:۲ تقسیم می‌کند. از هر رأس L_1 سه یال می‌گذرد و روی هر يك از این یال‌ها، يك نقطه مرزی K_1 وجود دارد؛ صفحه‌ای که از این سه نقطه می‌گذرد، با رأس متناظر L_1 ، يك چهاروجهی تشکیل می‌دهد. اگر این چهاروجهی‌ها را از L_1 جدا کنیم، چند وجهی M_1 باقی می‌ماند که پوش محدب K_1 است و ۱۳ وجه دارد؛ ۶ مستطیل $a \times 2a$ (طول یال چهاروجهی $ABCD$ است) و ۸ مثلث متساوی‌الاضلاع، ۴ تا به ضلع a و ۴ تا به ضلع $2a$ (شکل ۱۰۴، b).

(d) حجم چندوجهی از این طریق به دست می‌آید که، حجم چهاروجهی‌های جدا شده را $(4 \times \frac{1}{4} + 4 \times 4 = 18)$ ، از حجم مکعب کم کنیم. حجم مکعب

برابر است با ۸۱ و، بنا بر این، حجم چندوجهی مورد نظر برابر ۶۳ می‌شود.

(e) پوش محدب M_n از مجموعه K_n ، چندوجهی محدبی است که،

رأس‌های آن، در ۱۲ نقطه «مرزی» قرار دارند و، هر يك از این رأس‌ها،

از دو رأس چهاروجهی $ABCD$ به دست آمده است. هر رأس M_n روی

یکی از یال‌های مکعب L_n قرار دارد، که از تجانس L_0 نسبت به مرکز خود

و با ضریب 3^n به دست آمده و یال مکعب را به نسبت $\frac{3^n - 1}{3^n + 1}$ تقسیم می‌کند.

برای اثبات، بهتر است ۷ نوار را در نظر بگیریم که در برخورد با

M_n را می‌سازند: هر يك از این نوارها، از راه 3^n برابر کردن نواری

به دست می‌آید که مرزهای آن، شامل هر چهار رأس چهاروجهی $ABCD$

است. حجم M_n برابر است با

$$\frac{1}{4}(5 \times 3^{2n} - 3^{2n} + 1)$$

۲۵۶. فرض کنید $m \geq 2n$. ثابت می‌کنیم، در موقعیت (m, n) ، اولی می‌تواند طوری حرکت کند که، موقعیت حاصل، دومی را دچار شکست کند. اگر موقعیت $(m-n, m)$ موجب شکست دومی شود، آن وقت، حرکت مورد نظر چنین است.

$$(m, n) \rightarrow (m-n, m)$$

ولی اگر موقعیت $(m-n, m)$ موجب برد دومی شود، به معنای آن است که، برای $(m-n, n)$ حرکتی وجود دارد که به باخت طرف مقابل می‌انجامد. چون $m-n \geq n$ ، این حرکت باید به صورت

$$(m-n, n) \rightarrow (m-kn, n)$$

باشد (k ، عددی طبیعی است). ولی در این صورت، اولی می‌تواند حرکت نخستین خود را، به این صورت انجام دهد:

$$(m, n) \rightarrow (m-kn, n)$$

تا برد او تأمین شود.

راه حل این مسأله، از این جهت جالب است که توانستیم برد اول را در موقعیت (m, n) ، برای $m \geq 2n$ ، ثابت کنیم، بسدون این که برنامه حرکت‌های او را، مشخص کرده باشیم.

$$(b) \text{ پاسخ: } \alpha \geq \frac{1}{4}(1 + \sqrt{5})$$

هر موقعیت (m, n) را ($m \geq n$)، در تناظر با نقطه $1 \leq x = \frac{m}{n}$ ، از

محور عددی، قرار می‌دهیم. بعد از هر حرکت، به اندازه عدد درست k ، به سمت چپ جا به جا می‌شود؛ اگر این نقطه در بازه $0 < x < 1$ قرار گیرد، در جهت عکس تغییر جا می‌دهد: $x \rightarrow \frac{1}{x}$ ؛ وقتی در نقطه 0 قرار گیرد، طرف

دیگر باخته است. بازه $[\frac{1}{\beta}, \beta]$ به طول واحد را روی محور در نظر می‌گیریم؛

از $1 = \beta - \frac{1}{\beta}$ به دست می‌آید: $\beta = \frac{1}{4}(1 + \sqrt{5})$. نقطه $x = \frac{m}{n}$ ، که در

این بازه واقع باشد، متناظر با موقعیت باخت و سمت راست آن متناظر با برد است؛ در واقع، از این نقطه، با حرکت نسوبتی، می‌توان در این بازه فرار گرفت؛ اگر $1 < x < \beta$ ، آن وقت حرکت نوبتی، از بازه بیرون می‌رود؛ اگر $x = 1$ ، آن وقت به باخت منجر می‌شود. چون حداکثر تعداد چوب-کبریت‌ها، کاهش می‌یابد، بعد از چند حرکت، بازی به پایان می‌رسد.

۲۵۷. شرط مسأله، با دنباله $\psi\{m\sqrt{2}\}$ سازگار است که، در آن،

$$\{x\} = x - [x]$$

عبارت است از بخش کسری عدد x ($n = 1, 2, \dots$). در واقع، اگر p و q دو عدد طبیعی باشند و $p < (2 - \sqrt{2})q$ ، آن وقت

$$|\sqrt{2} - \frac{p}{q}| = \frac{|2q^2 - p^2|}{q(q\sqrt{2} + p)} > \frac{1}{4q^2}$$

بنابراین، برای $1 \leq k \leq m$ داریم:

$$|\{m\sqrt{2}\} - \{k\sqrt{2}\}| = |(m-k)\sqrt{2} - l| > \frac{1}{4(m-k)}$$

که در آن

$$l = [m\sqrt{2}] - [k\sqrt{2}] < m\sqrt{2} - k\sqrt{2} + 1 \leq (m-k)(\sqrt{2} + 1) < (4 - \sqrt{2})(m-k)$$

∇ در این جا، از این حقیقت استفاده کردیم که، عدد گنگ $\sqrt{2}$ ، به

کسرهای با مخارج‌های نه‌چندان بزرگ، بد نزدیک می‌شود.

۲۵۸. چون $f(1) = f'(0) = 1$ ، بنابراین جمله آزاد $P_n(0)$ در

چندجمله‌ای

$$P_n(x) = \underbrace{f(f(\dots(f(x))\dots))}_n$$

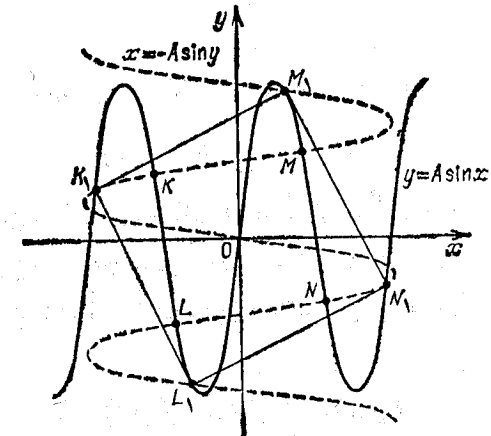
برابر واحد است. در نتیجه، به ازای هر مقدار m ، باقی مانده تقسیم $P_n(m)$ بر m برابر است با واحد.

اگر در این جا، m را به $m' = P_k(m)$ تبدیل کنیم، معلوم می شود که $P_{n+k}(m)$ و $m' = P_k(m)$ نسبت به هم اول اند.

∇ از این حقیقت که، دنباله $(P_n(2))$ وجود دارد، به نحوی که همه جمله های آن، نسبت به هم اول اند، بلافاصله، نامتناهی بودن مجموعه عددهای اول نتیجه می شود.

۲۵۹. M ، را، نقطه دلخواهی از برخورد نمودار $y = A \sin x$ ، با $x = -A \sin y$ ، ضمن دوران به اندازه 90° درجه دورمبداء مختصات، می گیریم (شکل ۱۰۵). در این صورت، نقطه M و مبدل های آن K و L و N ، در دوران به اندازه 90° ، 180° و 270° درجه دور O ، به نمودار $y = A \sin x$ تعلق دارند، به نحوی که، مربع $MKLN$ در نمودار مفروض، محاط است. اگر A به اندازه کافی بزرگ باشد، نقطه M ، برخورد نمودارها را، می توان به بیش از 1978 طریق به دست آورد که، در ضمن، به فاصله های مختلف از نقطه O واقع باشند؛ مثلاً به ازای

$$A > 1978 \times 2\pi$$



شکل ۱۰۵

می توان یکی از نقطه های برخورد k امین موج مسیر اصلی و k امین موج مسیر دوران یافته را انتخاب کرد (موج را از O در نظر می گیریم). در این جا، از این قضیه استفاده می شود که، هر تابع پیوسته ای که تغییر علامت بدهد، دارای ریشه است (ضمیمه ۵): از آن، به سادگی، این حقیقت ملموس نتیجه می شود که، در بخش های مورد نظر، نمودارها متقاطع اند.

۲۶۰. پاسخ: می توان.

ابتدا کارت (۱۰ ۸) را پیدا می کنیم:

$$(5, 19) \rightarrow (6, 20) \rightarrow (3, 10) \rightarrow \dots \rightarrow (10, 17) \rightarrow (3, 17) \rightarrow (10, 8) \rightarrow (2, 16) \rightarrow (9, 16) \rightarrow \dots \rightarrow (2, 9) \rightarrow (4, 18)$$

که از آن، به سادگی، کارت های $(1, 15)$ ، $(1, 22)$ ، $(1, 1+7k)$ ، ... (برای هر مقدر طبیعی k) به دست می آید.

(b) پاسخ: نمی توان.

با هر چند عمل. همیشه تفاوت دو عدد روی کارت، بر 7 بخش پذیر است.

(c) پاسخ: d را بزرگترین مقسوم علیه فرد تفاضل $b - a$ می گیریم؛

در این صورت، از کارت (a, b) ، تنها وقتی می توان به کارت $(1, n)$ رسید که داشته باشیم:

$$n = 1 + dk \quad (k, \text{ عددی طبیعی است})$$

لازم بودن این شرط، روشن است (شبهه مساله (a) ثابت می شود). برای اثبات کافی بودن شرط، کافی است ثابت کنیم، از کارت (a, b) می توان به کارت $(1, 1+d)$ رسید. اگر دو عدد a و b ، هر دو زوج یا هر دو فرد باشند، ردیف عمل ها چنین است:

$$(a, b) \rightarrow \left(\frac{a}{2}, \frac{b}{2}\right) \text{ یا } \left(\frac{a+1}{2}, \frac{b+1}{2}\right)$$

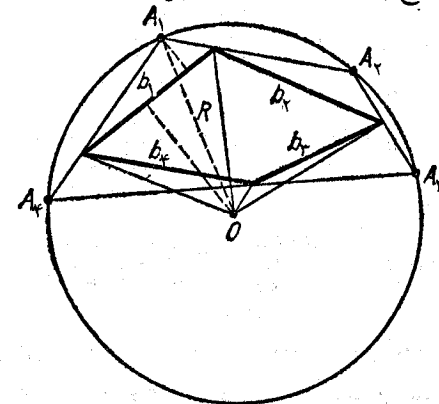
یعنی به زوجی می رسیم که تفاضل آن، نصف تفاضل a و b است؛ این عمل را ادامه می دهیم تا به زوج $(a, a+d)$ برسیم و سپس، این عمل ها را

$$(a, a+d) \rightarrow (a+d, a+2d) \rightarrow \begin{cases} \left(\frac{a}{2}, \frac{a}{2} + d\right) \\ \rightarrow (a, a+2d) \rightarrow \left(\frac{a+1}{2}, \frac{a+1}{2} + d\right) \end{cases}$$

که زوجی با همان فواصل، ولی به وسیلهٔ عددهایی کوچکتر، می‌دهد (اگر $a > 1$). با ادامهٔ این روش، شبیه مسألهٔ (a) ، سرانجام، به زوج $(1, 1+d)$ می‌رسیم.

۲۶۱. A_i را رأس n ضلعی محاطی ($i = 1, 2, \dots, n$)، b_i را پاره‌خط راستی که دو نقطهٔ علامت‌گذاری شده را، در روی دوضلعی که از A_i خارج شده‌اند، به هم وصل می‌کند و O را مرکز دایره می‌گیریم (شکل ۱۰۶)؛ همچنین، s_i و s'_i را مساحت‌های مثلث‌های با قاعدهٔ b_i و رأس‌های A_i و O فرض می‌کنیم، در ضمن، اگر A_i و O در یک طرف خط راستی باشند که از b_i می‌گذرد، علامت s'_i را منفی در نظر می‌گیریم. در این صورت $s_i + s'_i \leq \frac{b_i R}{2}$

برای هر i ، و مجموع $s'_1 + s'_2 + \dots + s'_n$ ، برابر است با مساحت چند ضلعی با رأس‌های در نقطه‌های علامت‌گذاری شده (علامت + یا - عددهای s'_i ، نشان می‌دهد که ضلع b_i ، از درون یا از بیرون، از نقطهٔ O دیده می‌شود).



شکل ۱۰۶

$$S = s_1 + s_2 + \dots + s_n + s'_1 + s'_2 + \dots + s'_n \leq \frac{1}{2} R (b_1 + b_2 + \dots + b_n)$$

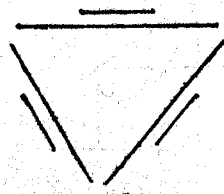
۲۶۲. (a) اگر n زوج باشد، همهٔ صفحهٔ شطرنجی را می‌توان به مستطیل‌های 1×2 («دومینو») تقسیم کرد. کسی که بازی را آغاز می‌کند، همیشه امکان حرکت دارد (و بنا بر این می‌برد)، به شرطی که از برنامهٔ زیر پیروی کند: اگر مهره در یکی از خانه‌های دومینو (مستطیل 1×2) باشد، آن را به همان خانهٔ دومینو می‌برد (دومینو را «می‌پوشاند»).

اگر n فرد باشد، آن وقت می‌توان همهٔ صفحهٔ شطرنجی را، به جز خانهٔ گوشهٔ اول، به دومینو تقسیم کرد. اکنون، اگر دومی از همان برنامه پیروی کند، برنده می‌شود.

(b) پاسخ: همیشه آغازکنندهٔ بازی برنده می‌شود. در حالت زوج-بودن، برنامهٔ بازی شبیه مسألهٔ (a) است. وقتی که n فرد باشد، همهٔ خانه‌ها را، به جز خانهٔ گوشه‌ای، به مستطیل‌های 1×2 تقسیم می‌کنیم. اگر صفحه را به ردیف صفحهٔ شطرنج رنگ آمیزی کنیم، به سادگی قانع می‌شویم که، بازی‌کن دوم نمی‌تواند به این خانهٔ گوشه‌ای برود و، بنا بر این، اولی برنده می‌شود (به شرطی که از همان برنامهٔ «پوشاندن» دومینو پیروی کند).

۲۶۳. پاسخ: نه همیشه.

روی شکل ۱۰۷، نمونه‌ای از ۶ پاره‌خط راست داده شده است (۳ پاره‌خط کوتاه و سه پاره‌خط بلند) که نمی‌توان آن‌ها را به صورت خط شکسته‌ای (ولو غیر بسته) در آورد که خودش را قطع نکند. در واقع، یکی



شکل ۱۰۷

از پاره‌خط‌های راست، پاره‌خط مرزی در خط شکسته نیست، ولی دوانتهای آن را، تنها می‌توان به دوانتهای پاره‌خط راست بلند نزدیک به آن وصل کرد.

۲۶۴. راه حل اول. با استفاده از نابرابری $ab \leq \frac{1}{4}(a+b)^2$ برای

هر عدد دلخواه $c > 0$ داریم:

$$\begin{aligned} P &= (x_1 + x_2 + \dots + x_n) \left(\frac{1}{x_1} + \frac{1}{x_2} + \dots + \frac{1}{x_n} \right) = \\ &= \left(\frac{x_1}{c} + \frac{x_2}{c} + \dots + \frac{x_n}{c} \right) \left(\frac{c}{x_1} + \frac{c}{x_2} + \dots + \frac{c}{x_n} \right) \leq \\ &\leq \frac{1}{4} \left(\frac{x_1}{c} + \frac{c}{x_1} + \frac{x_2}{c} + \frac{c}{x_2} + \dots + \frac{x_n}{c} + \frac{c}{x_n} \right)^2 \end{aligned}$$

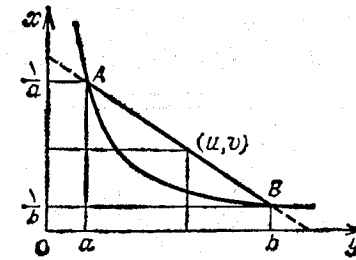
یادآوری می‌کنیم، تابع $f(t) = \frac{c}{t} + \frac{t}{c}$ در بازه $[a, b]$ وقتی به حداکثر خود

می‌رسد که، t برابر این یا آن انتهای بازه باشد. c را طوری انتخاب می‌کنیم که این دو مقدار با هم برابر باشند: $f(a) = f(b)$. برای این منظور باید فرض کرد: $c = \sqrt{ab}$. در این صورت، برای $a \leq t \leq b$ خواهیم داشت:

$$f(t) \leq \sqrt{\frac{a}{b}} + \sqrt{\frac{b}{a}}$$

$$P \leq \frac{1}{4} n^2 \left(\sqrt{\frac{a}{b}} + \sqrt{\frac{b}{a}} \right)^2 = n^2 \frac{(a+b)^2}{4ab}$$

راه حل دوم. روی کمان هذلولی $y = \frac{1}{x}$ در بازه $a \leq x \leq b$ ، در نقطه‌های



شکل ۱۰۸

به طول‌های x_1, x_2, \dots, x_n ، وزنه‌هایی با وزن‌های برابر قرار می‌دهیم. مرکز جرم این وزنه‌ها، نقطه‌ای است، به ترتیب، با طول و عرض p و q :

$$p = \frac{1}{n}(x_1 + x_2 + \dots + x_n), \quad q = \frac{1}{n} \left(\frac{1}{x_1} + \frac{1}{x_2} + \dots + \frac{1}{x_n} \right)$$

این مرکز جرم، در مرزهای قطعه‌ای قرار دارد که به وسیله کمان هذلولی و پاره‌خط راستی که دوانتهای آن را به هم وصل می‌کند، محدود شده است. روشن است، برای این که مقدار pq به حداکثر مقدار خود برسد، باید نقطه (p, q) را، در این قطعه روی پاره‌خط راست مرز بالایی قطعه، جست‌وجو کرد (شکل ۱۰۸). برای نقطه‌های (p, q) از خط راستی که شامل این پاره‌خط راست است، می‌توان q را به عنوان یک تابع خطی نسبت به p نوشت؛ در این صورت، pq سه جمله‌ای درجه دومی از p خواهد بود (که به ازای $p = 0$ ، به سمت صفر میل می‌کند). برای این که این سه جمله‌ای را به صورت صریح خود ننویسیم - اگر چه، کار دشواری نیست - یادآوری می‌کنیم که،

به ازای $p = a$ و $p = b$ ، مقدارهای برابر $1 = b \times \frac{1}{b} = a \times \frac{1}{a}$ را قبول

می‌کند. بنابراین، به حداکثر مقدار خود، در وسط این دو نقطه می‌رسد که

برابر است با $\frac{1}{4}(a+b) \left(\frac{1}{a} + \frac{1}{b} \right)$. از این جا، نابرابری مطلوب، به دست می‌آید.

▽ بانوجه به راه حل دوم، می‌توان این نتیجه جنبی را به دست آورد:

دوپاره‌خط راستی که، بین نقطه‌های برخورد هر خط راست دلخواه با هذلولی

$y = \frac{1}{x}$ و محورهای مختصات (که در ضمن مجانب‌های منفی هستند) قرار

دارند، با هم برابرند (ایسن دو پاره‌خط راست، روی شکل، با خط چین نشان داده شده‌اند).

اگر به مسأله اصلی برگردیم، باید یادآوری کنیم که، وقتی n زوج

باشد، نابرابری، تخمین دقیق سمت چپ را به دست می‌دهد؛ ولی وقتی n فرد

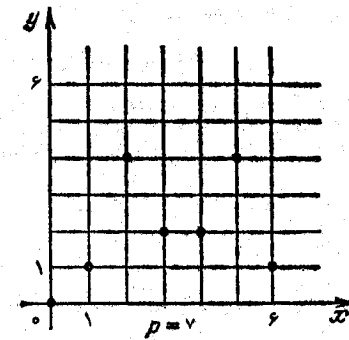
باشد، می‌توان تا حدی آن را دقیق‌تر کرد. (این مسأله، به ازای $n = 5$ ،

ممکن چندی پیش، در یکی از المپیادهای داخلی آمریکا - سال ۱۹۷۷ - داده

شده است: مسأله ۱۴۶ از کتاب «مسأله‌های المپیادهای ریاضی در کشورهای مختلف»، ترجمه فارسی، انتشارات فردوس، صفحه ۳۶ را ببینید. ۲۶۵. به عنوان مجموعه مطلوب می‌توان مجموعه‌ای را در نظر گرفت که از نقطه‌های

$$A_k = (k, r(k)), k = 0, 1, 2, \dots, p-1$$

تشکیل شده باشد؛ منظور از $r(k)$ ، باقی مانده تقسیم k^2 بر p است. برای $p=7$ ، این مجموعه روی شکل ۱۰۹ داده شده است.



شکل ۱۰۹

اگر سه نقطه A_l, A_m, A_n بر یک خط راست باشند ($l < m < n < p$)، باید داشته باشیم:

$$\frac{r(m) - r(l)}{m - l} = \frac{r(n) - r(m)}{n - m}$$

یعنی، برای عددهای درستی مثل a و b ، این برابری برقرار باشد:

$$(n-m)(m^2 - l^2 + ap) = (m-l)(n^2 - m^2 + bp)$$

اگر جمله‌هایی را که شامل p نیستند به سمت چپ ببریم، می‌بینیم که

$$(n-m)(m-l)(n-l)$$

بر p بخش پذیر است. ولی از آن جا که p ، عددی اول است، این امر ممکن نیست.

اگر هم، چهار نقطه A_k, A_l, A_m, A_n رأس‌های یک متوازی‌الاضلاع

باشند، $\vec{A_k A_l} = \vec{A_n A_m}$ ، آن وقت، باید داشته باشیم:

$$l - k = m - n \text{ و } r(l) - r(k) = r(m) - r(n)$$

یعنی عدد $(l^2 - k^2) - (m^2 - n^2)$ بر p بخش پذیر است. در این صورت عدد

$$l + k - (m + n) = 2l - 2m$$

و همچنین، چون $p > 3$ ، عدد $l - m$ هم باید بر p بخش پذیر باشد، که ممکن نیست.

۲۶۶. از دو یال متقابل a و b در چهاروجهی، صفحه‌های موازی p

و p' را رسم می‌کنیم. فاصله بین این دو صفحه را h می‌گیریم. تصویرهای

چهاروجهی را، بر صفحه‌های q ، که بر صفحه p عمودند، در نظر می‌گیریم

و، از بین آن‌ها، صفحه‌هایی را پیدا می‌کنیم که، برای آن‌ها، نسبت مساحت

تصویرها، کمتر از $\sqrt{2}$ نباشد. تصویر چهاروجهی بر صفحه q ، دوزنقه‌ای

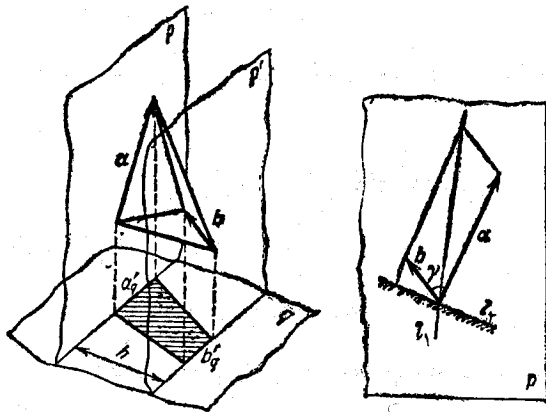
است با قاعده‌های $a'q$ و $b'q$ (تصویرهای a و b بر q) و ارتفاع h (در

حالت خاصی که تصویرهای یکی از دو یال a یا b ، به صورت یک نقطه در

آید، به جای دوزنقه، با یک مثلث سروکار خواهیم داشت)؛ مساحت این

تصویر برابر است با

$$\frac{1}{2} h(a'q + b'q)$$



شکل ۱۱۰

برای این که ببینیم، این مقدار با شیب یال‌های a و b نسبت به صفحه q ، چه رابطه‌ای دارد، بردارهای a و b را (که معرف یال‌های چهاروجهی اند) در نظر می‌گیریم (شکل ۱۱۰). روشن است که می‌توان فرض کرد: $a \geq b$ ؛ در ضمن، زاویه γ بین بردارهای a و b ، از 90° درجه تجاوز نمی‌کند. این بردارها را از یک نقطه O در نظر می‌گیریم، در این صورت به جای طول تصویرهای یال‌های چهاروجهی بر صفحه q ، می‌توانیم در باره طول تصویرهای بردارهای a و b بر خط راست صحبت کنیم (خط راستی که بر صفحه موازی p و p' قرار دارد). مجموع تصویرها، بر خط راست l موازی بردار $a+b$ برابر است با $|a+b|$ ، و بر خط راست l عمود بر a برابر $b \sin \gamma$ ، و نسبت این دو مقدار، از $\sqrt{2}$ تجاوز نمی‌کند:

$$|a+b|^2 = a^2 + b^2 + 2ab \geq a^2 + b^2 \geq 2b^2 \geq 2b^2 \sin^2 \gamma$$

▽ یادآوری کنیم که، برای چهاروجهی منتظم، ارزیابی $\sqrt{2}$ ، بهترین ارزیابی است: مساحت هر تصویری از این چهاروجهی، بین $\frac{a^2}{2\sqrt{2}}$ و $\frac{a^2}{2}$ قرار دارد (a ، طول یال چهاروجهی منتظم است).
۲۶۷. فرض می‌کنیم:

$$f(x) = (x-a_1)^2 + \dots + (x-a_n)^2$$

در این سه جمله‌ای درجه دوم، مقدار مجذور کامل را جدا می‌کنیم، به دست می‌آید:

$$f(x) = n(x-b_n)^2 + f(b_n) \quad (*)$$

برای تحقیق درستی این برابری، باید توجه داشت که

$$nb_n = a_1 + a_2 + \dots + a_n$$

به ازای $n=1$ ، درستی نا برابری مطلوب، روشن است ($C=D$). برای این که، این نا برابری‌ها را با استقرای ریاضی ثابت کنیم، کافی است، نا برابری‌های زیر را ثابت کنیم:

$$0 \leq f(b_{n+1}) - f(b_n) \leq (a_{n+1} - b_{n+1})^2$$

زیرا، اگر به a_1, a_2, \dots, a_n ، عدد a_{n+1} را اضافه کنیم، مقدار C بدان اندازه $(a_{n+1} - b_{n+1})^2$ و مقدار D بدان اندازه

$$(a_{n+1} - b_{n+1})^2 + f(b_{n+1}) - f(b_n)$$

ترقی می‌کنند. نا برابری سمت چپ، از برابری (*) و به ازای $x = b_{n+1}$ ، بلافاصله نتیجه می‌شود؛ نا برابری سمت راست هم، نتیجه‌ای است از برابری‌های

$$(n+1)b_{n+1} = nb_n + a_{n+1}, \quad n(b_{n+1} - b_n) = a_{n+1} - b_{n+1},$$

$$f(b_{n+1}) - f(b_n) = n(b_{n+1} - b_n)^2 = \frac{1}{n}(a_{n+1} - b_{n+1})^2$$

▽ اتحاد (**)، که مجموع مجذورهای فاصله‌های از n نقطه را، بر حسب مجذور فاصله تا «نقطه مرکزی» آن‌ها (یا «مقدار متوسط» آن‌ها) می‌دهد، در نظریه احتمال، آمار و در هندسه (مسطح یا فضایی) کاربردهای زیادی دارد.

۲۶۸. همراه با عدد $\lambda_1 = 1 + \sqrt{2} + \sqrt{3}$ ، «مزدوج‌های» آن را که در علامت رادیکال‌ها با آن فرق دارند، در نظر می‌گیریم:

$$\lambda_2 = 1 - \sqrt{2} + \sqrt{3}, \quad \lambda_3 = 1 + \sqrt{2} - \sqrt{3}, \quad \lambda_4 = 1 - \sqrt{2} - \sqrt{3}$$

اگر $\lambda_n^n = q_n + r_n\sqrt{2} + s_n\sqrt{3} + t_n\sqrt{6}$ ، آن وقت به سادگی می‌توان تحقیق کرد که، برای $n=1, 2, 3, \dots$ داریم:

$$\lambda_2^n = q_n - r_n\sqrt{2} + s_n\sqrt{3} - t_n\sqrt{6},$$

$$\lambda_3^n = q_n - r_n\sqrt{2} - s_n\sqrt{3} - t_n\sqrt{6},$$

$$\lambda_4^n = q_n - r_n\sqrt{2} - s_n\sqrt{3} + t_n\sqrt{6}$$

اگر این چهار برابری را با هم جمع و، سپس، مجموع را بر $4\lambda_1^n$ تقسیم کنیم و به سمت حد برویم، به دست می‌آید:

$$\lim_{n \rightarrow \infty} \frac{q_n}{\lambda_1^n} = \frac{1}{4}$$

زیرا، برای $۲, ۳, ۴ = z$ داریم: $|\lambda_r| < \lambda_1$ و بنابراین: $\lim_{n \rightarrow \infty} \frac{|\lambda_r|^n}{\lambda_1^n} = 0$ حد.
اگر برابری اول را با یکی از سه برابری دیگر جمع و، سپس،
دو برابری دیگر را از آن کم کنیم، به دست می آید:

$$\lim_{n \rightarrow \infty} \frac{r_n \sqrt{2}}{\lambda_1^n} = \lim_{n \rightarrow \infty} \frac{s_n \sqrt{3}}{\lambda_1^n} = \lim_{n \rightarrow \infty} \frac{t_n \sqrt{6}}{\lambda_1^n} = \frac{1}{4}$$

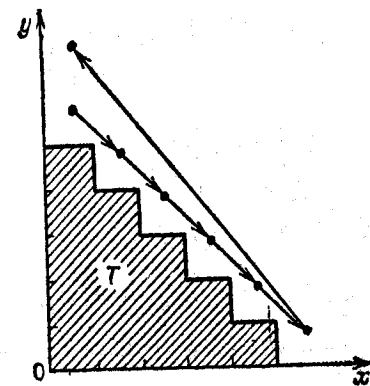
(به این ترتیب، در مجموع $q_n + r_n \sqrt{2} + s_n \sqrt{3} + t_n \sqrt{6}$ ، وقتی n خیلی بزرگ باشد، همه جمله‌ها، به تقریب، با هم برابر می‌شوند)، از این جا به دست می آید:

$$\lim_{n \rightarrow \infty} \frac{r_n}{q_n} = \frac{1}{\sqrt{2}}, \lim_{n \rightarrow \infty} \frac{s_n}{q_n} = \frac{1}{\sqrt{3}}, \lim_{n \rightarrow \infty} \frac{t_n}{q_n} = \frac{1}{\sqrt{6}}$$

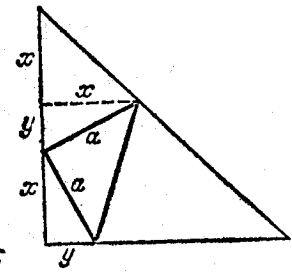
▽ یادآوری می‌کنیم، اگر عبارت $a + b\sqrt{2} + c\sqrt{3} + d\sqrt{6}$ را در نظر می‌گیریم، به شرطی که a, b, c, d عددهایی طبیعی باشند، باز هم به همان جواب‌ها می‌رسیدیم.

۲۶۹. پاسخ: $\frac{1}{5}$.

باید دو حالت را در نظر گرفت: رأس زاویه قائمه مثلث کوچکتر، یا



شکل ۱۱۲



شکل ۱۱۱

روی وتر مثلث بزرگتر قرار دارد و یا روی يك ضلع مجاور به زاویه قائمه آن. در حالت اول، نسبت ضلع‌های مجاور به زاویه قائمه دو مثلث از $\frac{1}{4}$ و، بنابراین، نسبت مساحت‌های آنها از $\frac{1}{4}$ کمتر نیست. در حالت دوم، مثلث کوچکتر را ثابت می‌گیریم و از این نکته استفاده می‌کنیم که، رأس‌های مثلث بزرگتر، روی کماتی از دایره حرکت می‌کنند. در این صورت، جواب مساله، با روش خالص هندسی به دست می‌آید.

مساله راه‌حل دیگری هم دارد: تصویر ضلع مجاور به زاویه قائمه مثلث کوچکتر را روی ضلع‌های مجاور به زاویه قائمه مثلث بزرگتر، برابر x و y می‌گیریم (شکل ۱۱۱). در این صورت $a^2 = x^2 + y^2$ و ضلع مجاور به زاویه قائمه مثلث بزرگتر، برابر می‌شود با

$$2x + y \leq a\sqrt{5}$$

۲۷۰. پاسخ: مجموعه نقطه‌هایی که کانگورو نمی‌تواند «به سمت بی‌نهایت» بجهد، مساحتی برابر ۱۵ دارد؛ این، شکل پله مانند T است که در شکل ۱۱۲ نشان داده شده است.
از هر نقطه بیرون T می‌توان، با گام‌های $(۱, -۱)$ به حوزه $x \geq 5$ رسید و، سپس، گام‌های

$$(۲, ۰) = ۵(۱, -۱) + (۷, -۵)$$

را برداشت.

▽ اگر در این مساله، تعداد روش‌های مجاز جهیدن کانگورو را ۳ یا بیشتر بگیریم، شکل‌های جالب‌تری به دست می‌آید.

۲۷۱. ابتدا عضوهای مجلس را، به صورتی دلخواه، به دو گروه تقسیم می‌کنیم. اگر در یکی از گروه‌ها، عضو A ، دست کم دو دشمن داشته باشد، آن وقت این عضو A ، در گروه دیگر بیش از یک دشمن نخواهد داشت. A را به گروه دیگر می‌فرستیم؛ به این ترتیب، مجموع S ، زوج دشمن‌ها در

هر دو گروه، کاهش می‌یابد. چون S ، عددی درست و غیرمنفی است، این کاهش زوج دشمن‌ها را، می‌توان با تعداد محدودی عمل (شبه آن چه برای A انجام دادیم) از بین برد که، در نتیجه، تقسیم مورد نظر به دست می‌آید. 272 . به سادگی می‌توان همه کسرهای گویای با مخارج‌های $2, 4, 8, 16, \dots$ را به دست آورد.

برای این که، از زوج $(1, 0)$ ، به کسر $\frac{1}{n}$ برسیم، کافی است n کسر مختلف از این گونه، با مجموعی برابر واحد را انتخاب و، سپس، واسطه‌حسابی آن‌ها را محاسبه کنیم، مثلاً برای $n=5$

$$\frac{1}{5} = \frac{\frac{3}{4} + \frac{3}{4^2} + \frac{3}{4^3} + \frac{3}{4^4} + \frac{1}{4^4}}{5}$$

(چنین انتخابی را، برای هر n ، می‌توان داشت)

اکنون یادآوری می‌کنیم که، اگر بتوانیم با برنامه‌ای، از دو عدد $(1, 0)$ عدد t را به دست آوریم، با همان برنامه می‌توانیم از دو عدد $(1, 0)$ عدد $1-t$ را به دست آوریم، همچنین از دو عدد $(0, 1)$ با همان برنامه، می‌توان $(0, 1)$ را پیدا کرد. بنابراین، اگر کسر $\frac{1}{n}$ و همه کسرهای $\frac{k}{n-1}$ ($k=1, 2, \dots, n-1$) را به دست آورده باشیم، آن وقت می‌توانیم

$$1 - \frac{1}{n} = \frac{n-1}{n} \text{ و همه } \frac{k}{n} = \frac{n-1}{n} \times \frac{k}{n-1} \text{ را به دست آوریم.}$$

273 . بازه‌هایی از رشته عددهای $\frac{x_m}{m}$ را در نظر می‌گیریم، به نحوی که

$$k^2 \leq m \leq (k+1)^2 - 1 \quad (k=1, 2, 3, \dots)$$

k امین بازه، از $k^2 = 2k+1$ عدد تشکیل شده است: عددهای

$$\frac{x_{k^2}}{k^2} \text{ یا } \frac{x_{(k+1)^2-1}}{(k+1)^2-1}$$

اگر هر عدد $\frac{x_m}{m}$ در k امین بازه را با جمله اول این بازه، که بزرگترین آن‌ها و برابر $\frac{x_{k^2}}{k^2}$ است، عوض کنیم، متوجه می‌شویم که مجموع عددهای این بازه، بیشتر از

$$\frac{(2k+1)x_{k^2}}{k^2} \leq \frac{3kx_{k^2}}{k^2} = \frac{3x_{k^2}}{k}$$

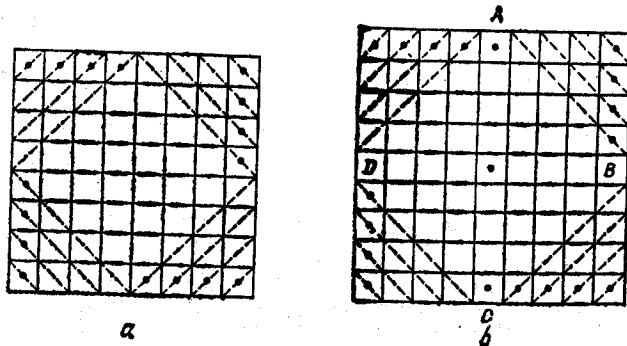
نیست. اکنون، برای هر عدد طبیعی n داریم:

$$\frac{x_1}{1} + \frac{x_2}{2} + \dots + \frac{x_n}{n} \leq 3 \left(\frac{x_1}{1} + \frac{x_2}{2} + \frac{x_3}{3} + \dots + \frac{x_{q^2}}{q} \right)$$

که در آن، q کوچکترین عددی است که برای آن داشته باشیم: $q^2 > n$.

274 . نقطه O را به دلخواه انتخاب می‌کنیم و هر بردار \vec{AB} را به

صورت $\vec{OB} - \vec{OA}$ می‌نویسیم. در مجموع بردارها، هر بردار \vec{OM} (M) یکی از نقطه‌های مفروض، به همان تعداد که با علامت «مثبت» آمده باشد، با علامت «منفی» هم وجود دارد، به نحوی که مجموع آن‌ها، برابر می‌شود. 275 . پاسخ: a برای $n=8$ ، 16 مهره؛ b وقتی n زوج باشد $2n$ مهره وقتی n فرد باشد $2n+1$ مهره.



شکل ۱۱۳

وضع استقرار این تعداد مهره، در شکل ۱۱۳، a و b دیده می‌شود. اثبات این که با تعداد کمتری مهره، ممکن نیست، در حالت زوج بودن n ساده است: روی هر خط راست موازی با یک قطر، یک مهره و روی خود قطرها دو مهره (در گوشه‌ها)، باید قرار داد.

اثبات دیگر: باید روی هر خط راستی که در شکل‌ها به صورت «خط-چین» آمده‌اند، یک مهره قرار گیرد. این استدلال، به خصوص برای حالتی که n عددی فرد است، به درد می‌خورد (شکل ۱۱۳، b): به جز $2n-2$ خط راست «خط-چین» (که روی هر کدام، یک مهره قرار دارد)، باید شش خط راست دیگر را هم، که مرکز خانه‌های A, B, C, D را به هم وصل می‌کنند در نظر گرفت؛ برای آن‌ها، دست کم ۳ مهره دیگر هم لازم است.

۲۷۶. پاسخ: $x = \frac{a+b\sqrt{a^2-b^2}}{\sqrt{1-a^2+b^2}}$ و $y = \frac{b+a\sqrt{a^2-b^2}}{\sqrt{1-a^2+b^2}}$

اگر معادله‌های مفروض را یکبار با هم جمع و یکبار از هم کم و سپس، نتیجه‌ها را در هم ضرب کنیم، به دست می‌آید:

$$x^2 - y^2 = a^2 - b^2 \Rightarrow \sqrt{x^2 - y^2} = \sqrt{a^2 - b^2}$$

که اگر آن را در معادله‌های دستگاه اصلی قرار دهیم، به دستگاهی از معادله‌های خطی می‌رسیم و جواب به سادگی به دست می‌آید. اگر در جواب، a را به x و b را به y - تبدیل کنیم، به همان کسرهای مربوط به دستگاه اصلی می‌رسیم؛ و این به ما امکان می‌دهد که به دنبال تحقیق درستی جواب نرویم: از دستوره‌های جواب، می‌توان دستوره‌های مشابهی با تبدیل x به a و y به b - به دست آورد.

▽ اگر معادله‌های دستگاه را به این صورت در نظر بگیریم:

$$\frac{x - yf(x^2 - y^2)}{\sqrt{1 - f^2(x^2 - y^2)}} = a, \quad \frac{y - xf(x^2 - y^2)}{\sqrt{1 - f^2(x^2 - y^2)}} = b$$

که در آن، f ، تابعی دلخواه است که قدرمطلق آن از واحد تجاوز نمی‌کند،

وان هیچ چیز تغییر نمی‌کند. اهمیت این مساله در آن است که «تبدیل

نقش»

$$(x, y) \rightarrow (x', y'), \quad x' = \frac{x - y}{\sqrt{1 - y^2}}, \quad y' = \frac{y - xy}{\sqrt{1 - y^2}}$$

ای نقش اساسی در نظریه نسبت انبساط است؛ این تبدیل $x^2 - y^2$ را

$$x^2 - y^2 = (x')^2 - (y')^2$$

۲۷۷. اگر مربع‌های مفروض را طوری کوچک کنیم که، ضلع هر کدام

آن‌ها، برابر کوچکترین عدد نزدیک به خود، به صورت $\frac{1}{p}$ باشد

۱۰۲۰، k آن وقت این مربع‌ها را می‌توان، بدون این که روی هم قرار

گیرند، جاداد (شکل ۱۱۴). چون مساحت هر مربع جدید، بیشتر از $\frac{1}{p}$ مساحت

مربع اصلی است، بنابراین مجموع مساحت‌های آن‌ها از واحد بیشتر می‌شود، به نحوی که تمامی مربع واحد را می‌پوشانند.

۲۷۸. $s = x_1 + x_2 + \dots + x_n$ می‌گیریم.


چون، برای هر $n = 1, 2, \dots$ داریم: $x_i \geq x_{i+1}$ ، بنا بر این، نابرابری

مطلوب، نتیجه‌ای از نابرابری $s \geq (s+1)^2$ است که، به روشنی، با

نابرابری $0 \geq (s-1)^2$ هم‌ارز است.

۲۷۹. چون p و q نسبت به هم اول‌اند، بنا بر این هر کدام از آن‌ها،

نسبت به $n = p+q$ ، اول می‌شود. بنا بر این، همهٔ عددهای



شکل ۱۱۴

$$A_n = (a_1, a_2, \dots, a_n)$$

از عددهای ۰ و ۱ را می‌نویسیم و، سپس، در سطر بعدی (زیر سطر اول)، همان دنباله را طوری می‌نویسیم که a_1 زیر a_{k+1} ، a_2 زیر a_{k+2} و غیره قرار گیرد (در سطر دوم، به اندازه k ردیف، به سمت راست رفته‌ایم)؛ در ضمن $p_k = p_k(A_n)$ برابر است با تعداد ردیف‌هایی که، در آن‌ها، در هر دو سطر، عدد ۱ قرار دارد.

دنباله A_n به طول n ، وقتی با شرط مساله سازگار است که، همه $p_k(A_n)$ ‌ها، به ازای $0 \leq k \leq n-1$ فرد باشند.

ساختمان بعدی امکان می‌دهد تا به کمک دو دنباله A_n و A_m از این گونه، $A_l = A_n \cup A_m$ را به طول

$$l = (2m-1)n - (m-1) = 2mn - m - n + 1$$

بسازیم. و بلوک $0 \dots 0 \dots 0$ از A_m از $2m-1$ رقم، هر ۱ را به A_n ، و در بلوک شامل $2m-1$ صفر، هر ۰ را به A_n تغییر می‌دهیم و $m-1$ صفر آخر را حذف می‌کنیم. ضمن محاسبه p_k برای A_l با روش فوق، به ازای هر جلو-رفتن k ، هر بلوک A_m در سطر بالا، تنها یک بلوک A_m در سطر پایین گذاشته می‌شود؛ اگر

$$k = (2m-1)q + r \quad \text{یا} \quad k = (2m-1)q - r$$

که در آن $0 \leq r \leq m-1$ و $0 \leq q \leq n-1$ ، آن وقت

$$p_k(A_l) = p_q(A_n) \cdot p_r(A_m)$$

زیرا درست $p_q(A_n)$ زوج از بلوک‌های A_m وجود دارد و، در ضمن، به اندازه r ردیف، جلو کشیده شده‌اند؛ از این جا روشن می‌شود که دنباله $A_l = A_n \cup A_m$ همراه با A_n و A_m ، با شرط مساله سازگار است.

این ساختمان به ما امکان می‌دهد که از 1101 ، پاسخ $A_{25} = A_4 \cup A_4$ را، برای مساله (a) پیدا کنیم:

$$\frac{i}{p}, \frac{j}{q}, \frac{i+j}{n} \quad (i=1, 2, \dots, p-1; j=1, 2, \dots, q-1)$$

با هم فرق دارند. توجه کنیم که همیشه، $\frac{i+j}{p+q}$ بین $\frac{i}{p}$ و $\frac{j}{q}$ واقع است؛ به

این ترتیب روشن است که، همه کسرهای $\frac{i}{p}$ و $\frac{j}{q}$ ، در بازه‌های مختلف

$$\left[\frac{k}{n}, \frac{k+1}{n} \right], \quad k=1, 2, \dots, n-2$$

قرار دارند.

۲۸۰. e_i را بردار واحدی می‌گیریم که در جهت خط راست l_i باشد.

فرض می‌کنیم $e_i \cdot e_{i+1} = c_i$ ($i=1, 2, \dots, 1978$)، $e_{1978} \cdot e_1 = c_{1978}$ (c_i عبارت است از کسینوس زاویه بین e_i و بردار بعد از آن e_{i+1}). اگر

$\vec{OA}_i = a_i e_i$ بگیریم شرط عمود بودن خط‌های راست $A_{i-1}A_{i+1}$ و l_i ، هم ارز است با

$$(a_{i-1}e_{i-1} - a_{i+1}e_{i+1}) \cdot e_i = 0, \quad a_{i-1}c_{i-1} = a_{i+1}c_i \quad (*)$$

a_1 را به دلخواه انتخاب می‌کنیم؛ سپس $a_2, a_3, \dots, a_5, a_4, a_3, \dots, a_{1978}, a_4, a_2, a_1, a_{1978}, \dots, a_5, a_3, a_2, a_1$ را طوری در نظر می‌گیریم که هر 1979 شرط $(*)$ برقرار باشند، به جز احتمالاً یکی: $a_{1978}c_{1978} = a_1c_{1978}$ ولی اگر همه 1978 برابری زیر را در هم ضرب کنیم:

$$\frac{a_2}{a_1} = \frac{c_1}{c_2}, \frac{a_5}{a_4} = \frac{c_2}{c_4}, \dots, \frac{a_{1978}}{a_{1977}} = \frac{c_{1977}}{c_{1978}}$$

$$\frac{a_2}{a_{1978}} = \frac{c_{1978}}{c_1}, \frac{a_4}{a_2} = \frac{c_2}{c_4}, \dots, \frac{a_{1978}}{a_{1976}} = \frac{c_{1976}}{c_{1977}}$$

بعد از ساده کردن، 1979 امین برابری هم پیدا می‌شود.

۲۸۱. مقداری را که در صورت مساله داده شده است:

$$p_k = a_1 a_{k+1} + a_2 a_{k+2} + \dots + a_{n-k} a_n$$

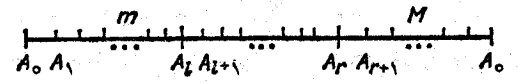
به سادگی می‌توان محاسبه کرد؛ دنباله

$$A_{25} = \underbrace{1101000}_{10} \underbrace{1101000}_{10} \underbrace{0000000}_{10} \underbrace{1101}_{10}$$

سپس، $A_{25} \cup A_{25}$ دارای $1201 = 50 + 1 - 2 \times 25^2$ یعنی بیش از ۱۰۰۰ رقم است که در مسأله (b) خواسته شده است.

۲۸۲. فرض می‌کنیم، قطرهای چهارضلعی $ABCD$ ، که در نقطه O به هم رسیده‌اند، برهم عمود نباشند و، مثلاً، AOB زاویه‌ای حاده باشد. نقطه‌های A' و B' ، قرینه نقطه‌های A و B نسبت به O را پیدا می‌کنیم. شعاع‌های دایره‌های محیط در مثلث‌های $A'OB$ و $B'OC$ ، از شعاع دایره محیط در مثلث AOB کوچکترند (مساحت همه این مثلث‌ها، یکی است، ولی محیط مثلث AOB کمتر است)؛ بنا براین، مماس‌هایی که از نقطه‌های A و B بر دایره‌های به شعاع r ، محیط در زاویه‌های BOC و AOD رسم شوند، نیم‌خط‌های راست OA' و OB' را در نقطه‌ها C و D قطع می‌کنند که، به ترتیب، دورتر از نقطه‌های A' و B' نسبت به O قرار دارند، به نحوی که پاره‌خط راست CD ، نمی‌تواند بر دایره به شعاع r ، محیط در مثلث $OA'B'$ مماس شود. به این ترتیب، خط‌های راست AC و BD بر هم عمودند و، با توجه به برابری شعاع‌های دایره‌های محیطی، این قطرهای تقارن چهارضلعی $ABCD$ را تشکیل می‌دهند و این، به معنای آن است که چهارضلعی $ABCD$ یک لوزی است.

۲۸۳. (a) همه ترتیب‌های ممکن T ، از زوج نقطه‌های قرمز (A_i, A_r) را، که پاره‌خط راست $A_0 A_n$ را به سه بخش $A_0 A_i$ ، $A_i A_r$ و $A_r A_n$ تقسیم کرده‌اند، در نظر می‌گیریم؛ بزرگترین طول این بخش‌ها را M و کوچکترین آن‌ها را m می‌نامیم. از بین همه ترتیب‌های T ، آن‌هایی را جدا می‌کنیم که، در آن‌ها، مقدار M حداقل باشد و، سپس، از بین ترتیب‌های اخیر، آن را (یا یکی از آن‌هایی را) در نظر می‌گیریم که، برای آن، مقدار m



شکل ۱۱۵

حداکثر باشد. ثابت می‌کنیم که، برای این موقعیت $T = (A_i, A_r)$ ، شرط مسأله، $1 \leq M - m$ ، برقرار است.

فرض کنید، برای این موقعیت، داشته باشیم: $1 < M - m$. اگر بخش‌های M و m در ردیف هم باشند، با جا به جا کردن مرز قرمز بین آن‌ها روی یکی از پاره‌خط‌های راست، به ترتیب T' می‌رسیم که، در آن، کوچکترین بخش از m بزرگتر و بزرگترین بخش، کوچکتر از M است که، در واقع، نوع انتخاب T را نقض می‌کند. اگر $A_0 A_i$ و $A_r A_n$ ، $M = A_r A_n$ و $m = A_0 A_i$ ، آن وقت، یا در ترتیب (A_{i+1}, A_r) ، کوچکترین بخش از m بزرگتر است و یا $1 < M - m < A_{i+1} A_r$ ، که در این صورت، در ترتیب (A_{i+1}, A_{r+1}) ، بزرگترین بخش از M کوچکتر است؛ و در هر حال، نوع انتخاب $T = (A_i, A_r)$ نقض می‌شود (شکل ۱۱۵).

(b) ترتیبی را در نظر می‌گیریم که، در آن، بزرگترین طول از k بخش $\Delta_1, \Delta_2, \dots, \Delta_k$ برابر M و طول کوچکترین بخش برابر $1 < M - m$ باشد. فرض کنید $m = \Delta_i$ در سمت چپ $M = \Delta_r$ واقع باشد. انتهای راست بخش Δ_i را، روی یک یا چند پاره‌خط راست، طوری جا به جا می‌کنیم که، این بخش، کمتر از $1 < M - m$ (و البته، بزرگتر از M) نباشد. اکنون اگر $1 < M - m < \Delta_{i+1}$ ، همان عمل را درباره آن انجام می‌دهیم، سپس به Δ_{i+2} می‌پردازیم و غیره، تا جایی که یا طول همه بخش‌های $\Delta_1, \Delta_2, \dots, \Delta_{i-1}$ ، بزرگتر یا برابر $1 < M - m$ نشوند و یا این که موفق شویم $M = \Delta_r$ را، دست کم روی یک پاره‌خط، کاهش دهیم. سپس (اگر باز هم در ترتیب حاصل $1 < M - m$)، دوباره همین روند را ادامه می‌دهیم (هر چند بار که لازم باشد)، در ضمن، هیچ ترتیبی تکرار نمی‌شود، زیرا ترتیب جدیدی که به دست می‌آید، همیشه «بهتر است»، به این مفهوم که، در آن، یا طول بخش بزرگتر M ، کوچکتر است و یا M تغییر نمی‌کند، ولی تعداد بخش‌های برابر M کمتر می‌شود و یا این تعداد هم فرقی نمی‌کند ولی در آن صورت m بزرگتر می‌شود و یا تعداد m ‌های برابر کاهش می‌یابد. چون تعداد ترتیب‌ها محدود است، بعد از چند روند، به ترتیبی می‌رسیم

که دیگر «کم کردن» ممکن نیست، یعنی $M - m \leq 1$.

۲۸۴. پاسخ: بله، بخش پذیر است.

عدد مفروض به روشنی بر ۲۰ بخش پذیر است. بخش پذیری آن بر

۹۹ از این جا نتیجه می شود که $1 + 99 = 100$. درضمن

$$19 + 20 + \dots + 80 = 99 \times 31$$

۲۸۵. اگر S_1 و S_2 را، به ترتیب، مجموع مساحت های بخش های

چپ در ردیف های زوج و فرد و، به همین ترتیب، S_3 و S_4 را مجموع مساحت بخش های سمت راست بگیریم، داریم:

$$S_2 + S_4 = S_3 + S_1 = S_3 + S_4 = S_1 + S_2$$

۲۸۶. کافی است ثابت کنیم، در هر موقعیتی می توان صندوقی را که

وزنی بیشتر از $5/10$ تن ندارد، باگیری کرد.

۲۸۷. $S_{AMCD} = 2S_{AMPC}$. فرض کنید، در این صورت

$$S_{AMCD} < 2S_{AMP} \leq x(a-x) \leq \frac{a^2}{4}$$

۲۸۸. پاسخ: نه، جواب ندارد.

از $y^2 = (z^2 - x)(z^2 + x)$ و اول بودن عدد y نتیجه می شود که

یا $z^2 - x = 1$ و $z^2 + x = y^2$ یا $z^2 - x = y$ و $z^2 + x = y^2$. این

دستگاه ها، در مجموعه عددهای اول، جواب ندارند.

۲۸۹. پاسخ: مرکز دایره مفروض را O ، شعاع آن را R می گیریم و

فرض می کنیم: $OE = a$. اگر $a \geq \frac{R}{\sqrt{2}}$ ، آن وقت وتر BD باید بر دایره به

مرکز O و شعاع $\frac{R}{\sqrt{2}}$ مماس باشد. اگر $a < \frac{R}{\sqrt{2}}$ ، وتر مجهول BD بر قطر

AC عمود است.

کافی است توجه کنیم $S_{ABCD} = \frac{2R}{a} S_{BOD}$ و $S_{BOD} = \frac{1}{2} R^2 \sin \varphi$ ، که

در آن، φ را مقدار زاویه BOD گرفته ایم و، سپس، حد اکثر مقدار $\sin \varphi$ را در رابطه با موقعیت نقطه E پیدا کنیم.

۲۹۰. A, B, C را، سه نقطه متوالی در ساحل دریاچه می گیریم.

از شرط مساله معلوم می شود که، تنها وقتی A و B به هم مربوط اند که B و

C به هم مربوط نباشند. بنابراین، همه نقطه ها، به زوج نقطه های مجاور

تقسیم می شوند که با کشتی به هم مربوط اند. در ضمن، هر دو تا از این زوج

نقطه ها هم با یکدیگر ارتباط دارند، یعنی یکی از نقطه های زوج اول، با

یکی از نقطه های زوج دوم مربوط است.

۲۹۱. وقتی عدد $N = \overline{abcdef}$ بر ۳۷ بخش پذیر باشد، عددهای

$$\overline{abc} + \overline{def}, \overline{bc} + \overline{fde}, \overline{cab} + \overline{def}$$

هم بر ۳۷ بخش پذیرند.

۲۹۲. پاسخ: $(k\pi, l\pi, m\pi)$ ، $k, l, m \in \mathbb{Z}$.

دو معادله اول را با هم جمع و، سپس، معادله سوم را از مجموع

حاصل کم کنید، به معادله زیر می رسید:

$$\sin \frac{x+y}{2} \cdot \cos \frac{x+z}{2} \cdot \cos \frac{y+z}{2} = 0$$

۲۹۳. اگر $\mathbf{s} \neq \mathbf{0}$ ، مجموع همه بردارهای دستگاه، آن وقت

برای هر $\mathbf{a} \neq \mathbf{0}$ از این دستگاه، به دست می آید: $\mathbf{s} = k\mathbf{a}$ ، در آن، k

یک عدد است.

۲۹۴. (a) پاسخ: $1962 + S(1962) = 1980$.

(b) $S(n) + n$ را S_n می نامیم، در این صورت اگر عدد n به ۹ ختم

شده باشد، آن وقت $S_{n+1} < S_n$ ؛ و اگر به ۹ ختم نشده باشد، آن وقت

$S_{n+1} = S_n + 2$. برای هر عدد طبیعی $m > 2$ ، بزرگترین عدد ممکن N

را طوری انتخاب می کنیم که، برای آن، داشته باشیم $S_N < m$. در این

صورت $S_{N+1} \geq m$ ؛ در ضمن، رقم آخر N برابر ۹ نیست و، بنابراین، یا

$$S_{N+1} = m \text{ و } S_{N+1} = m + 1$$

۲۹۵. پاسخ: ۳۳

هر مستطیل 3×1 ، درست شامل یک خانه قرمز است.

۲۹۶. (a) مثلاً، اگر در روز اول، برای سه دوست A, B, C به خاطر واکسن زدن مصونیت داشته باشد، B بیمار و C سالم باشد، اپیدمی به پایان نمی‌رسد.

(b) اگر اپیدمی تمام نشود، آن وقت می‌توان A را پیدا کرد که، قبل از دیگران، دوبار بیمار شده باشد، ولی در این صورت، برای بار دوم باید بیماری مثلاً از B به او سرایت کرده باشد که، خودش قبل از A ، دوبار بیماری را گرفته باشد.

۲۹۷. پاسخ: ممکن نیست.

دنباله n_p با آغاز از شماره‌ای مثل p ، ثابت می‌ماند، یعنی

$$n_p = n_{p+1} = n_{p+2} = \dots$$

۲۹۸. پاسخ: $\widehat{DCE} = 30^\circ$ و $\widehat{EDC} = 60^\circ$ ، $\widehat{DEC} = 90^\circ$

اگر دوران دو نقطه D ، به اندازه 60° درجه و در جهت مناسب و،

سپس، تجانس به مرکز D و ضریب $\frac{1}{4}$ را در نظر بگیریم، نقطه P به نقطه

H وسط پاره‌خط راست MP ، نقطه B به نقطه K وسط پاره‌خط راست BP و خط راست BP به خط راست KH (که AP را در E قطع می‌کند) منجر می‌شود.

۲۹۹. عددهای α و β ، ریشه‌های سه جمله‌ای زیر هستند:

$$f(t) = (t - \alpha)(t - \beta) = t^2 - \frac{1}{6}pt + \frac{1}{6}s$$

در ضمن $z < \frac{\alpha + \beta}{2}$ ، $f(x) > 0$ و $f(z) > 0$

۳۰۰. پاسخ: $\{1, 2, 3, 5, 10, 20, 25, 50, 100\}$

فرض کنید: $k_1 = 1 \leq k_2 \leq \dots \leq k_n = 100$ ، عددهای مفروض

باشند. چون $2k_i \geq k_{i+1}$ ؛ بنا بر این $k_i \leq 2^{i-1}$ (برای هر i). به خصوص

$100 \leq 2^{n-1}$ ، از آن جا $n \geq 8$. با فرض $n = 8$ ، نتیجه می‌شود: $k_7 = 50$ ؛

ولی $2k_8 = 25$. تناقض.

۳۰۱. هر یک از n^2 زوج عدد طبیعی (x, y) با شرط $1 \leq x \leq n$ و

$1 \leq y \leq n$ ، ج‌وایی از معادله $c = \lfloor \frac{x}{y} \rfloor + \lfloor \frac{y}{x} \rfloor$ ($1 \leq c \leq 2$)

می‌باشد. اگر به ازای هر c ، تعداد جواب‌ها از M بیشتر نباشد، آن وقت

$$2 \lfloor \frac{n}{2} \rfloor \cdot M \geq n^2 \text{ یا } M \geq \frac{1}{2} \sqrt{n}$$

۳۰۲. $AE \parallel BC$ و $BE \parallel CA$ را رسم می‌کنیم. نقطه‌های A, B, C, E

و D روی سطح کره‌ای به قطر AB و به مرکز O قرار دارند؛ هم قطر

این کره است، $\widehat{CDE} = 90^\circ$ و $\widehat{CDE} = \frac{|CN|}{|AB|} \cos \widehat{DCE}$ کافی است ثابت کنیم:

$$\sin \widehat{DBE} > \sin \widehat{DCE}$$

(از قضیه سینوس‌ها، در مثلث‌های DBE و DCE استفاده کنید).

۳۰۳. (a) برای $k > m$ ، همه عددهای x_k در m رقم بعد از ممیز خود،

یکسان هستند.

(b) پاسخ: می‌توان در کسر متناوب $0/(10)$ در قطعه با شماره‌های

$10^n + 5 < k < 10^n + 10$ ، گروه رقم‌های 1010 را به 1100 تبدیل می‌کنیم.

(c) پاسخ: $x = 0/x_1 x_2 \dots x_k \dots$ که، در آن، $x_k = 1$ برای وقتی

که داشته باشیم: $10^n + 5 \leq k \leq 10^n + 10$ و بقیه x_k ‌ها برابر صفر.

۳۰۴. پاسخ: $32(\sqrt{2} - 1)$.

باید از این نکته استفاده کرد که، اگر یکی از صفحه‌های شطرنج را

به اندازه 90° درجه دوران دهیم، خانه‌های سیاه یک صفحه بر خانه‌های سفید

صفحه دیگر منطبق می‌شود و برعکس؛ و اگر هر دو صفحه را بچرخانیم،

خانه‌های سیاه در هر دو صفحه، جای خود را با خانه‌های سفید عوض می‌کنند. بنابراین، مساحت مورد نظر برابر است با یک چهارم مساحت هشت ضلعی که از برخورد صفحه‌ها به دست می‌آید.

$$305. \widehat{B_1MA} = \widehat{AA_1B_1} = \widehat{A_1B_1B} \text{ کافی است ثابت کنیم:}$$

$$306. a) k=3; 8 \times 9 \times 10 = 2 \times 3 \times 4 \times 5 \times 6 = 720.$$

$$b) \text{ اگر داشته باشیم: } m(m+1) = n(n+1)(n+2)(n+3)$$

آن وقت

$$m^2 + m + 1 = (n^2 + 3n + 1)^2$$

که ممکن نیست.

307. اگر در یکی از ستون‌های جدول، سه عدد اول (از بالا به پایین)

a, m و n باشند، آن وقت به هر یک از عددهای $1, 2, \dots, m-1, m$ در سطر دوم و در سمت چپ m دست کم n بار و به هر عدد بزرگتر از m کمتر از n بار برخورد می‌کنیم.

$$308. \text{ پاسخ: } S = (1-a)\sqrt{1-a} \text{ به ازای } a \leq 0; S = 1 - 2a$$

$$\text{به ازای } 0 < a < \frac{1}{4} \text{ و } S = 0 \text{ به ازای } a \geq \frac{1}{4}.$$

309. اگر مثلث CAD را به اندازه 60° درجه دور رأس C دوران

دهیم، به مثلث CBE می‌رسیم؛ و اگر مثلث HBE را به اندازه 60° درجه دور H دوران دهیم، مثلث HDK به دست می‌آید.

310. گوییم افراد

$$X, A_1, A_2, \dots, A_k, Y$$

یک زنجیره تشکیل داده‌اند، وقتی کسی که X با A_1, A_2, \dots, A_k با A_2, A_3, \dots, A_k با Y آشنا باشند. با توجه به شرط مساله، معلوم می‌شود که، هر ساکن محله، به زنجیره‌ای مربوط است. فرض می‌کنیم، زنجیره‌های بسته (یعنی، زنجیره‌هایی که، در آن‌ها، X با Y آشنا باشد) وجود نداشته باشد. طولانی‌ترین زنجیره را در نظر می‌گیریم:

$$X - A_1 - A_2 - \dots - A_{10} - \dots - A_k - Y$$

اگر $k \leq 19$ ، آن وقت خبر تازه‌ای که به اطلاع A_{10} رسیده است، بعد از 10 روز به گوش همه ساکنان محله خواهد رسید. اگر $k \geq 20$ ، همه ساکنان $X, A_1, A_2, \dots, A_{10}$ و همه آن‌هایی را که به این‌ها، به جز از طریق A_{10} ، مربوط اند (تعداد آن‌ها از 11 کمتر نیست)، جدا می‌کنیم. گروه باقی مانده ساکنان، باز هم با شرط مساله سازگار است. روندی را که شرح دادیم، 89 بار تکرار می‌کنیم (در هر گام، با جدا کردن A_{10} مربوط)؛ یا در مرحله‌ای، همه اهالی دهکده به پایان می‌رسند و تعدادی که از $21 = 11 \times 2 - 1000$ بیشتر نیست، باقی می‌ماند، که درباره آن‌ها، دوباره مثل بالا، عمل می‌کنیم. اگر هم، در دهکده، زنجیره بسته‌ای وجود داشته باشد، آن وقت می‌توان آن‌ها را، با حفظ شرط مساله، جدا کرد.

311. داریم:

$$f(n\pi) = (-1)^n a + (-1)^n b, f\left(\frac{\pi}{3}\right) = \frac{a}{4} - b, f\left(\frac{2\pi}{3}\right) = -\frac{a}{4} + b$$

$$\text{بنابراین } |a+b| \leq 1, |a-2b| \leq 2.$$

312. L' و N' را وسط ضلع‌های AD و BC بگیرد. یا متوازی الاضلاع

$KL'MN'$ بر $KL'MN$ منطبق است و یا منطبق نیست؛ در حالت اخیر، چهارضلعی $ABCD$ دوزنقه است ($BC \parallel AD$).

$$313. \text{ پاسخ: برای } n \in \mathbf{N} \text{ داریم } x_n = 1 \text{ و برای } n \in \mathbf{Z} \text{ } x_n = n.$$

314. سطری از جدول $m \times n$ را سفید می‌نامیم، وقتی که تعداد

خانه‌های سفید آن بیشتر باشد، و در حالت عکس، آن را سیاه می‌نامیم. p و q را، به ترتیب، تعداد خانه‌های سفید و سیاه و r و s را، به ترتیب، تعداد ستون‌های سفید و سیاه می‌گیریم ($p+q=m$ و $r+s=n$). می‌توان فرض کرد $p \leq q$. فرض کنید در هر ردیف (سطر و ستون)، کمتر از یک چهارم خانه‌ها، از رنگ «دیگر» باشند در این صورت، $ps+qr$ از کل تعداد خانه‌های به رنگ «دیگر» در همه سطرها و ستون‌ها، بیشتر نیست، یعنی از

۳۱۵. کمتر است؛ بنا بر این $r \leq s$ و تعداد کل خانه‌های سفید کمتر است از

$$pr + \frac{qn}{4} + \frac{sm}{4} = \frac{mn}{2} + pr - \frac{np}{4} - \frac{mr}{4} = \frac{mn}{2} - \frac{p}{4} \left(\frac{n}{4} - r \right) - \frac{r}{4} \left(\frac{m}{4} - p \right) \leq \frac{mn}{2}$$

۳۱۵. با توجه به شرط مساله داریم:

$$\vec{AE} = \vec{MB} = \vec{XK} = \vec{PC} = \vec{HA} = \vec{BT}$$

۳۱۶. پاسخ: $x=6, y=5$.

$x=d+y$ می‌گیریم ($d \geq 1$)، در این صورت به دست می‌آید:

$$(3d-1)y^2 + (3d^2-d)y + d^3 = 61 \Rightarrow d \leq 3$$

۳۱۷. برای هر تیم، ۹ تیم پیدا می‌شود که این تیم با آنها بازی نکرده است و، بین این تیم‌های نه‌گانه، دو گروه نه‌تیمی وجود دارد که با هم روبه‌رو نشده‌اند.

۳۱۸. A_1, B_1, C_1 را، نقطه‌هایی از ضلع‌های BC, CA, AB به نحوی انتخاب می‌کنیم که داشته باشیم:

$$AC_1 : C_1B = BA_1 : A_1C = CB_1 : B_1A = 3$$

محیط شش ضلعی $A_1A_2B_1B_2C_1C_2$ برابر با $\frac{3}{4}P$ و بزرگتر از محیط مثلث $A_1B_1C_1$ است. سپس باید نابرابری مثلث را برای مثلث‌های $A_1C_1B_1, A_2C_2B_2, C_1B_2A_1$ نوشت.

۳۱۹. باید از این نابرابری‌ها استفاده کرد:

$$x > y > 0 \text{ و } 0 < x^3 - y^3 < x^2 + y^2$$

۳۲۰. دو انتهای خط شکسته‌ای را که رسم شده است، A و B می‌گیریم. خط شکسته را روی خط راست AB تصویر می‌کنیم. خطای نسبی هر یک از ضلع‌های خط شکسته، برابر است با p ، بنا بر این مجموع خطاهای مطلق همه ضلع‌ها، از $4p$ تجاوز نمی‌کند؛ به این ترتیب $d \leq 4p$.

۳۲۱. (a) نمی‌توان (مجموع عددهای همه رأس‌ها، همیشه عددی فرد است).

(b) می‌توان.

(c) نمی‌توان.

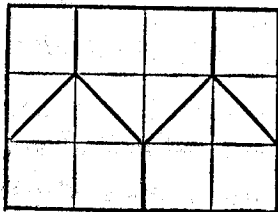
برای اثبات در حالت‌های (b) و (c)، بهتر است دو چهار وجهی را در نظر بگیریم که رأس‌های آن‌ها در رأس‌های مکعب واقع باشند، در ضمن، هیچ دو رأسی از هر چهار وجهی، متعلق به یک یال مکعب نباشد. در این صورت، در هر گام، به مجموع عددهای رأس‌های هر چهار وجهی، یک واحد اضافه می‌شود.

۳۲۲. پاسخ: مثلاً $n=9240$.

فرض کنید $k = 2 \times 3 \times 5 \times 7 \times k$. عدد k را طوری پیدا می‌کنیم که $m-1$ بر 11 و $m+1$ بر 13 بخش پذیر باشد. در این صورت، $n = m-10$ با شرط مساله سازگار است (ضمیمه ۲).

۳۲۳. پاسخ: در آخرین ستون، کارت‌ها، به ترتیب غیر نزولی عددهای خود قرار گرفته‌اند.

۳۲۴. از شش نقطه مفروض، به هر صورتی که باشند، دست کم دو تا، در یکی از شکل‌هایی قرار دارند که روی شکل ۱۱۶ نشان داده شده‌اند.



شکل ۱۱۶

۳۲۵. a) پاسخ: ۳ و به ازای $x=y=1$.

از نابرابری مربوط به واسطه حسابی نتیجه می‌شود:

$$1 + x^2 y^4 + x^4 y^2 \geq 3x^2 y^2$$

b) فرض کنید: $P(x, y) = g'(x, y) + g''(x, y) + \dots + g_n'(x, y)$ که در آن، $g_i(x, y)$ ($i=1, 2, \dots, n$)، یک چندجمله‌ای است. چون

$$P(x, 0) = P(0, y) = 4$$

چندجمله‌ای‌های $g_i(x, y)$ نمی‌توانند شامل یک جمله‌ای‌های به صورت ax^k و by^l باشند. بنا براین، ضریب $x^2 y^2$ باید مثبت باشد.

۳۲۶. پاسخ: تنها نقطه O ، مرکز مثلث ABC .

۳۲۷. پاسخ: r_1, r_2 .

۳۲۸. پاسخ: سه عدد. با استقرای ریاضی ثابت می‌شود که، برای

$$n \geq 4, \quad a_{n-1} < b_n < a_n$$

۳۲۹. a) از بین همهٔ عددهای به صورت 2^k ، $2^{k_1} + 2^{k_2} + \dots + 2^{k_n}$ که بر $2^m - 1$ بخش پذیرند، عددهای با کمترین مقدار برای n را انتخاب می‌کنیم و، سپس، از بین عددهای حاصل، عددی را در نظر می‌گیریم که، در آن، مقدار $k_1 + k_2 + \dots + k_n$ کمترین باشد. همهٔ عددها در گروه (k_1, \dots, k_n) مختلف‌اند. اگر $n < m$ ، آن وقت

$$k_i \leq m-1 \quad \text{و} \quad 2^{k_1} + 2^{k_2} + \dots + 2^{k_n} < 2^m - 1$$

که یک تناقض است.

b) پاسخ: وجود ندارد.

$$M = \underbrace{11\dots 1}_m P = a_1 \times 10^r + \dots + a_r$$

بخش پذیر و مجموع رقم‌های آن از m کمتر باشد. در این صورت $r \geq m$ و، در نتیجه، عدد $P_1 = P - (10^r - 10^{r-m})$ هم بر M بخش پذیر می‌شود که، مجموع رقم‌های آن، از مجموع رقم‌های عدد P تجاوز نمی‌کند.

۳۳۰. بین هشت عدد، سه عدد وجود دارد که از $\frac{1}{6}$ تجاوز نمی‌کنند؛

در ضمن، دو تا از آن‌ها، در دو انتهای قطریکی از وجه‌ها قرار دارند. بازی کن اول، باید همین وجه را، در بازی اول خود، انتخاب کند.

۳۳۱. پاسخ: شنبه.

۳۳۲. پاسخ: $MA:MB=k^2$. نقطه O را مرکز متوازی‌الاضلاع

بگیرید. دو مثلث AOM و MOB متسا به‌اند.

۳۳۳. فرض می‌کنیم، حکم درست نباشد. انتهای کمان‌ها را با سیاه

رنگ می‌کنیم. تمامی محیط دایره را، به کمان‌های به طول واحد تقسیم و نقطه‌های تقسیم را با قرمز رنگ می‌کنیم. کمانی مثل AC به طول ۲ را در نظر می‌گیریم که دو انتهای آن سیاه و B' وسط آن قرمز باشد. نقطه B ، انتهای دیگری که از B' می‌گذرد، سیاه است. فرض کنید، روی کمان AB به طول ۱- $3k$ ، کمان به طول ۱، n_1 کمان به طول ۲ و n_2 کمان به طول ۳ وجود داشته باشد. روی کمان BC ، n_3 کمان به طول ۳ وجود خواهد داشت (انتهای دیگر قطرهایی که از انتهای کمان‌های به طول واحد می‌گذرند، قرمزند). بنا براین $n_3 = k - n_1$ ، که با برابری $3k - 1 = n_1 + 2n_2 + 3n_3$ متناقض است.

۳۳۴. AM, BM, CM, DM را پاره‌خط‌های راستی به طول واحد

می‌گیریم؛ این پاره‌خط‌های راست، روی نیم‌خط‌های راستی قرار دارند که نقطه M را به رأس‌های چهاروجهی وصل می‌کنند. خط راست DM ، مثلث ABC را در نقطه‌ای مثل P قطع می‌کند. اگر کسینوس زاویه‌های AMD ، BMD و CMD بزرگتر از $\frac{1}{3}$ باشند، آن وقت این زاویه‌ها، از

$$\varphi = \arccos\left(-\frac{1}{3}\right)$$

بزرگتر. می‌توان فرض کرد $\widehat{APB} \geq 120^\circ$. در این صورت، اگر قضیهٔ کسینوس‌ها را برای مثلث‌های AMB و APB بنویسیم، به دست می-

آید: $\widehat{\cos AMB} < -\frac{1}{3}$

۳۳۵. پاسخ: $b < a < c$

۳۳۶. O را نقطه‌ای می‌گیریم که، برای آن، داشته باشیم:

$$\vec{OA_1} + \vec{OA_2} + \dots + \vec{OA_{2n+1}} = \vec{0}$$

k را طوری انتخاب می‌کنیم که $2^k - 1$ بر $2n + 1$ بخش پذیر باشد. در این صورت، خط شکسته M_k ، نسبت به نقطه O و با ضریب برابر 2^{-k} ، با خط شکسته M متجانس است.

۳۳۷. پاسخ: ۱۰۰

باید عدد a ، بزرگترین عدد در ۹۹ عدد نخستین، و عدد b ، کوچکترین عدد از بین ۱۸۸۲ عدد آخر را در نظر گرفت و قانع شد که $a < 100 < b$

۳۳۸. طول کل تصویر جزیره‌ها بر ساحل از ۲ متر کمتر است. بنا بر این،

از این کناره تا نزدیک‌ترین مسیر بین جزیره‌ها، کمتر از ۲ متر است.

۳۳۹. این عمل‌ها را پشت سر هم انجام می‌دهیم: (۱) دو خط راست موازی رسم می‌کنیم، به نحوی که هر کدام از آنها، سهمی را در دو نقطه قطع کند؛ (۲) وسط دو پاره خط راست حاصل را، با یک خط راست، به هم وصل می‌کنیم؛ (۳) عمودی بر این خط راست رسم می‌کنیم تا سهمی را در دو نقطه A و B قطع کند؛ (۴) عمود منصف پاره خط راست AB ، همان محور Ox است. محور Oy عمود بر Ox در نقطه برخورد آن با سهمی است. واحد طول برابر است با طول نقطه برخورد سهمی با خط راست $x = y$.

۳۴۰. m_k و M_k را، کوچکترین و بزرگترین عدد، در بین عددهای

ستون k می‌گیریم. در این صورت، در ستون با هر $m_k \leq x \leq M_k$ برخورد می‌کنیم. بنا بر این، یا x وجود دارد که برای آن، به ازای همه k ها

(از ۱ تا n) داشته باشیم: $m_k \leq x \leq M_k$ ؛ و یا برای بعضی از مقادیرهای p و k $M_p \geq m_k > M_k$ ، ولی در این صورت در هر سطر، به هر

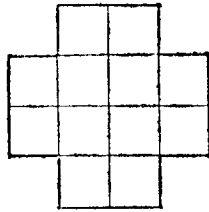
عدد y برمی‌خوریم که برای آن $M_p \leq y \leq m_p$.

$$\sqrt[12]{x} + \sqrt[4]{x} \geq 2 \times 2 \geq 2 \times 2 \frac{\sqrt[4]{x} + \sqrt[12]{x}}{2} \geq 2 \times 2 \sqrt[6]{x} \quad ۳۴۱$$

۳۴۲. پاسخ: ۴۳ عدد ۲، ۳، ...، ۴۴.

اگر کمتر از ۴۳ عدد حذف کنیم، دست کم سه عدد k ، $k - 89$ و $k(89 - k)$ (در بین عددهای حذف نشده باقی می‌ماند).

۳۴۳. از بین عددهای واقع در خانه‌های شکلی که در ۱۱۷ نشان داده‌ایم، کوچکترین عدد، با شرط مساله سازگار است.



شکل ۱۱۷

۳۴۴. می‌توان فرض کرد: $a_1 + a_2 + \dots + a_n \geq 0$. مجموعه $M_{i,k}$ را در نظر بگیرید (۱) $k = 0$ ؛ $i \neq k$ ؛ که از همه عددهای a_i با شرط $i \equiv k \pmod{3}$ و همچنین عددهای مثبت a_m با شرط $m \equiv k \pmod{3}$ تشکیل شده باشد. یکی از مجموعه‌های $M_{i,k}$ ، مجموعه مناسب است.

۳۴۵. ستونی را که شامل خانه علامت دار نیست، با ستون کناری سمت راست جابه‌جا می‌کنیم؛ سپس، آخرین سطر جدولی را که به دست می‌آید، با یکی از سطرهایی که دارای نقطه علامت دار است، عوض می‌کنیم. مساله منجر به جدول $(n-1) \times (n-1)$ می‌شود.

۳۴۶. a_0, a_1, \dots, a_n را همان عددهای $1, 2, \dots, n$ فرض کنید، به نحوی که داشته باشیم:

$$|a| \leq |a - a_0| \leq |a - a_1| \leq \dots \leq |a - a_n|$$

برای هر $1 \leq k \leq n$ همیشه داریم: $|a - a_k| \geq \frac{k}{2}$ ، که از ضرب، آن‌ها در

هم به دست می آید:

$$|a| \cdot |a-1| \dots |a-n| = \\ = |a-a_0| \cdot |a-a_1| \dots |a-a_n| \geq \langle a \rangle \frac{n!}{\sqrt{\pi}}$$

۳۴۷. a نه، وجود ندارد. سمت چپ برابری، به ازای $x=1$ ، $y=2$ ، $z=1$ برابر صفر می شود.
(b) بله وجود دارد. فرض کنید:

$$u = x - y + 1, v = y - z - 1, w = z - x + 1$$

در برابری $(u+v+w)^2 = 1$ ، بعد از باز کردن پرانتز و گروه بندی، به دست می آید: $u^2 P + v^2 Q + w^2 R = 1$.

۳۴۸. فرض کنید، وجه KLM از چهاروجهی $KLMN$ ، دارای حداکثر محیط باشد. A_1, B_1, C_1, D_1 را تصویر نقطه های A, B, C, D بر صفحه KLM و Γ را خط شکسته ای می گیریم که تصویر چهاروجهی $KLMN$ روی این صفحه را محدود کرده باشد. در ضمن P_{RSTQ} را به معنای مجموع طول های شش پاره خط راستی فرض می کنیم که نقطه های S, R, T و Q را دو به دو به هم وصل کرده اند. در این صورت

$$1) P_{KLMN} \leq 2P_{KLM}; 2) P_{KLM} \leq P_{\Gamma};$$

$$3) P_{\Gamma} \leq \frac{2}{3} P_{A_1 B_1 C_1 D_1}; 4) P_{A_1 B_1 C_1 D_1} \leq P_{ABCD}$$

۳۴۹. (b) هیچ دو خط شکسته ای نباید دارای پاره خط راست مشترکی باشند. بنابراین، ۱۲ گره شبکه که، به جز رأس های مربع، در مرزهای آن قرار دارند در دو انتهای خط های شکسته باشند، ولی ۵ خط شکسته، تنها دارای ۱۰ انتها هستند.

۳۵۰. (a) نه؛ (b) بله.

در این جا، بهتر است استدلال را «از آخر» آغاز کنیم: سه عدد

(۱۷، ۱۹۶۷، ۱۹۸۳)

را تنها می توان از سه عدد (۳، ۳، ۵)، (۳، ۳، ۵) و سه عدد (۳، ۳، ۵) را تنها می توان از سه عدد (۳، ۳، ۳) به دست آورد و نه از (۲، ۲، ۲).

۳۵۱. O را نقطه ای از درون مثلث XYZ می گیریم. از O به نقطه های O_1 و O_2 و O_3 (مرکزهای سه دایره) و نقطه های X و Y و Z وصل می کنیم. یکی از شش زاویه ای که به این ترتیب به دست می آید (همه این زاویه ها، حاده اند)، از ۶۰ درجه کوچکتر نیست (مثلاً، زاویه $O_1 O X$). در این صورت

$$O_1 O < \frac{OX}{\sin 60^\circ} = \frac{2}{\sqrt{3}} OX$$

۳۵۲. فرض کنید:

$$n^2 < a < b < c < d < (n+1)^2, ad = bc$$

در این صورت $(a+d)^2 - (d-a)^2 < (b+c)^2$ و $a+d > b+c$ از آن جا

$$(d-a)^2 > (a+d+b+c)(a+d-b-c) > 2n^2$$

ولی $d-a < 2n$ ؛ تناقض.

۳۵۳. پاسخ: (۰۰۰)، $(2+\sqrt{2}, 2+\sqrt{2})$ ، $(2-\sqrt{2}, 2-\sqrt{2})$.

اگر معادله دوم را از معادله اول کم کنیم، به دست می آید $f(x) = f(y)$ که در آن تابع $f(x) = x^3 - 2x^2 + 2x$ ، تابعی صعودی است ($f'(x) > 0$).
۳۵۴. اگر $k \geq a \geq 1$ ، رقم اول عدد است، آن وقت

$$k_1 = (a+1) \times 10^{n-1} \text{ و } \frac{k_1}{k} \leq \frac{(a+1) \times 10^{n-1}}{a \underbrace{44 \dots 45}_{n-2}} < \frac{a+1}{a + \frac{4}{9}} \leq \frac{18}{13}$$

و اگر $k \leq a \leq 4 \dots 44 \dots 4$ ، آن وقت $k_1 = a \times 10^{n-1}$ و $\frac{k_1}{k} \leq 1$

۳۵۵. به ترتیب داریم:

$$S_{DEF} = \frac{1}{4}(S_{DEF} + S_{AEF}) < \frac{1}{4}(S_{BEF} + S_{ADF}) =$$

$$= \frac{1}{4}S_{ABFE} = \frac{1}{4}(S_{ABF} + S_{AFE}) \leq \frac{1}{4}(S_{ABF} + S_{ABE}) = S_{BDF} + S_{IDE}$$

۳۵۶. پاسخ: (a) نه؛ (b) نه.

(a) آخرین رقم عدد α_{2k+1} برابر است با k امین رقم بعد از ممیز در بسط دهدهی عدد $\sqrt{10}$.

(b) اگر β_n زوج باشد، فرض می‌کنیم $\gamma_n = 0$ و در حالت فرد بودن β_n ، فرض می‌کنیم $\gamma_n = 1$. چون γ_{2n+1} بر n امین رقم بعد از ممیز در بسط عدد $\sqrt{2}$ در مبنای عددنویسی ۲ می‌باشد، بنا بر این γ_{2n+1} متناوب نیست. ۳۵۷. از شرط نتیجه می‌شود:

$$\sin \alpha (\sin \alpha - \cos \beta) = \sin \beta (\sin \alpha - \sin \beta)$$

اگر $\sin \alpha > \cos \beta$ و $\sin \beta > \sin \alpha$ ، آن وقت $\sin^2 \beta + \cos^2 \beta < 1$ نا برابرهای $\sin \alpha < \cos \beta$ و $\cos \alpha < \sin \beta$ هم ممکن نیست. بنا بر این

$$\sin \alpha = \cos \beta \text{ و } \cos \alpha = \sin \beta$$

۳۵۸. α و β را دو صفحه مفروض، و l را فصل مشترک آن‌ها بگیرد. کافی است صفحه α را دور خط راست l دوران دهیم تا بر صفحه β منطبق شود (نقطه‌های A_1, B_1, C_1, D_1 همراه با صفحه α دوران می‌کنند). ۳۵۹. پاسخ: ۵ معادله.

اگر $f_n(x) = x^2 + p_n x + q_n = 0$ آخرین معادله نباشد، آن وقت، با شرط $n \geq 3$ و $p_n q_n > 0$ داریم:

$$p_n^2 > 4q_n, q_n > p_n, p_n q_n > -(p_n + q_n)$$

اگر معادله $f_5(x) = 0$ آخرین معادله نباشد، آن وقت یا $q_4 < 0 < p_4$ و یا $q_4 < p_4 < 0$ ، در ضمن $0 < q_3 < p_3$. هر دو حالت غیرممکن است.

مثال برای $n=5$:

$$f_5(x) = x^2 - \frac{1}{4}x + 4, f_4(x) = x^2 - \frac{7}{4}x - 2,$$

$$f_3(x) = x^2 + \frac{11}{4}x + 7, f_2(x) = x^2 - \frac{25}{4}x + \frac{77}{4},$$

$$f_1(x) = x^2 - 26x - \frac{1925}{4}$$

۳۶۰. اگر a^n بر b^n بخش پذیر باشد، آن وقت a بر b بخش پذیر است.

۳۶۱. پاسخ: نه. روی هم ۱۲۸ واژه هفت حرفی می‌توان به کمک

دو حرف ساخت. از آن‌ها، به تعداد

$$3 \times 8 + 10 \times 4 + 30 \times 2 = 124$$

واژه «ممکن نیست».

۳۶۲. پاسخ: (a) می‌توان؛ (b) می‌توان.

(a) دو صفحه شطرنجی نامتناهی در نظر می‌گیریم. روی قطرهایی که ۴ خانه باهم فاصله دارند: در صفحه شطرنجی اول عددهای ۱ و در بقیه خانه‌ها، صفر قرار می‌دهیم؛ و در صفحه شطرنجی دوم، عددهای ۱ را روی قطرهایی قرار می‌دهیم که ۶ خانه از هم فاصله دارند و، سپس، عددهای واقع در خانه‌های متناظر را با هم جمع می‌کنیم.

(b) روی همان قطرها، یک در میان، عددهای ۰ و ۱ را قرار می‌دهیم و عددهای خانه‌های متناظر را از هم کم می‌کنیم.

$$۳۶۳. پاسخ: $\sqrt{5} + 1$.$$

۳۶۴. اگر a تعداد کل زوج‌ها، و m تعداد زوج‌هایی که از پسرها

تشکیل شده‌اند باشد، آن وقت $2a = 8m$.

$$۳۶۵. پاسخ: $3 + 2\sqrt{2}$.$$

اگر مساحت مستطیل‌ها را، در جهت حرکت عقربه‌های ساعت

S_1, S_2, S_3, S_4 بگیریم، آن وقت:

$$S_1 + S_2 + S_3 + S_4 \geq 3 + 2\sqrt{2} \text{ ولی } S_1 S_2 = S_3 S_4 \geq 2$$

۳۶۶. e_1, e_2, e_3 را بردارهای واحد در جهت بردارهای \vec{OB}, \vec{OA}

\vec{OC} و $\widehat{BOC} = \alpha, \widehat{COA} = \beta, \widehat{AOB} = \gamma$ فرض می‌کنیم. کافی است ثابت کنیم:

$$e_1 \sin \alpha + e_2 \sin \beta + e_3 \sin \gamma = 0$$

برای این منظور، باید مثلث PQR را که ضلع‌هایی موازی با OB, OA و OC

دارد، در نظر گرفت و از برابری $\vec{PQ} + \vec{PR} + \vec{QP} = 0$ استفاده کرد.

۳۶۷. استقرا نسبت به m : برای $m=1$ حکم درست است. فرض می‌کنیم، حکم برای $m=k-1$ ($k \geq 2$) درست باشد. مجموعه دلخواه A را در نظر می‌گیریم که شامل $2k+1$ عدد باشد و قدرمطلق هر عدد از $2k-1$ بزرگتر نباشد. اگر در بین آن‌ها، $2k-1$ عدد وجود داشته باشد که از لحاظ قدرمطلق از $2k-3$ تجاوز نکنند، آن وقت همه چیز روشن است. در حالت عکس، می‌توان فرض کرد که، مجموعه A ، یا شامل عددهای $2k-1, 2k-2, 2k-1$ و $2k+1-2k$ است و یا شامل $2k-1, 2k-2$ و $2k+2-2k$. در حالت اول، باید زوج‌های $(2, 2k-2), (1, 2k-1), \dots, (k, k-1)$ و $(0, -2k+1)$ ، $(-1, -2k+2), \dots, (-k, -k+1)$ را در نظر گرفت، دست کم یکی از زوج‌ها شامل عضوهای مجموعه A است. در حالت دوم، به همین ترتیب، باید زوج‌های $(1, 2k-3), \dots, (k-2, k-2k)$ و $(0, -2k+1), (-1, -2k), \dots, (-k, -k+1)$ را در نظر گرفت.

۳۶۸. پاسخ: علامت برابری، تنها وقتی پیش می‌آید که مثلث‌های

ABC و DEF متساوی‌الاضلاع و، در ضمن، ضلع‌های متناظر آن‌ها، برهم عمود باشند. از نابرابری

$$d_0 < \frac{2}{\sqrt{3}} \min(d_1, d_2, d_3)$$

نتیجه می‌شود که همه زاویه‌های مثلث ABC ، باید از 60 درجه کمتر باشند که ممکن نیست.

۳۶۹. اگر پاره خط‌های راست و غیر متقاطع Δ_1 و Δ_2 را، با طول‌های α و β روی خط راستی داده باشند، آن وقت، مجموعه طول‌های پاره خط‌های راستی که دو انتهای آن‌ها متعلق به Δ_1 و Δ_2 باشند، پاره خط راستی به طول $\alpha + \beta$ را پرمی‌کنند. بنا بر این، اگر $\delta_1, \delta_2, \dots, \delta_k$ طول‌های پاره خط‌های مفروض باشند، آن وقت

$$\delta_1 + (\delta_1 + \delta_2) + (\delta_1 + \delta_2) + \dots + (\delta_1 + \delta_k) + \dots \\ \dots + (\delta_{k-1} + \delta_k) + \delta_k = k(\delta_1 + \delta_2 + \dots + \delta_k) \geq 1$$

۳۷۰. روشن است که $v_1 = 10$ و $v_n \leq v_{n-1}$ اگر برای مقداری از n ، داشته باشیم: $v_n = v_{n+1}$ ، آن وقت، کسر متناوب است. اگر $v_{n+1} > v_n$ (به ازای همه مقادیر n)، آن وقت

$$v_n \geq v_{n-1} + 1 \geq v_{n-2} + 2 \geq \dots \geq v_1 + n - 1 = \\ = n + 9 > n + 8$$

۳۷۱. (a) اگر n بر 4 بخش پذیر نباشد، به معنای آن است که بین عامل‌ها، تنها یک عدد زوج وجود دارد که، در نتیجه، مجموع آن‌ها برابر صفر نمی‌شود.

(b) پاسخ: $n = 4k$ می‌گیریم. وقتی k عددی زوج باشد:

$$n = 2 \times (-2k) \times 1^{2k-2} \times (-1)^k$$

و اگر k عددی فرد باشد:

$$n = (-2)(-2k) \times 1^{2k} \times (-1)^{k-2}$$

$$.a + b + \frac{1}{4} \geq \sqrt{a} + \sqrt{b} \text{ و } \frac{a+b}{4} \geq \sqrt{ab} \text{ .۳۷۲}$$

۳۷۳. بردار \vec{AB} از بردار \vec{AC} با دوران 60° درجه به دست می آید؛

$$\vec{AB} = -A_1B_1 + A_2B_2, \quad \vec{AC} = -A_1C_1 + A_2C_2$$

۳۷۴. پاسخ: وقتی که m و n ، هر دو زوج یا هر دو فرد باشند.

وقتی m و n عددهایی فرد باشند، باید نوار $1 \times n$ را ساخت و، به کمک m نوار از این گونه، مستطیل $m \times n$ را به دست آورد. وقتی m و n عددهایی زوج باشند، ابتدا مستطیل های $(m-1) \times (n-1)$ ، $1 \times (n-1)$ ، $1 \times (m-1)$ و 1×1 را می سازیم.

در حالتی که m و n ، یکی زوج و دیگری فرد باشد، اگر فرض را بر این بگیریم که می توان مستطیلی با شرط مساله ساخت، آن وقت به این نتیجه می رسیم که تعداد کل تخته های مربعی، عددی فرد است.

$$x \sin^2 \alpha + y \cos^2 \alpha \leq \max(x, y) < x + y. \quad 375$$

۳۷۶. پاسخ: درست نیست. کافی است دومی، سه یال دو بدو متناظر

را به رنگ سبز در آورد و، این عمل، همیشه برای او ممکن است.

۳۷۷. a_1, a_2, \dots, a_n را عددهای مفروض بگیرد و فرض کنید:

$$S_n = \frac{a_n + a_2}{a_1} + \frac{a_1 + a_2}{a_2} + \dots + \frac{a_{n-1} + a_1}{a_n}$$

(a) داریم:

$$S_n = \left(\frac{a_2}{a_1} + \frac{a_1}{a_2}\right) + \dots + \left(\frac{a_1}{a_n} + \frac{a_n}{a_1}\right) \geq 2n$$

(b) تا برای $S_n \leq 3n$ با استقرای ریاضی ثابت می شود. برای این

منظور، ابتدا باید حالت $n=3$ را بررسی کرد و، در ضمن، توجه داشت که بزرگترین عدد از بین عددهای a_1, a_2, \dots, a_n برابر است با مجموع دو عدد مجاور خود.

۳۷۸. A_1A_2, B_1B_2, C_1C_2 نیمسازهای زاویه های مثلث $A_1B_1C_1$

هستند.

۳۷۹. پاسخ: $m=n=0$.

اگر برای $(3+5\sqrt{2})^n = (5+3\sqrt{2})^m$ برقرار باشد، آن وقت باید برای $(3-5\sqrt{2})^n = (5-3\sqrt{2})^m$ هم درست باشد. ولی این، ممکن نیست، زیرا

$$0 < 5 - 3\sqrt{2} < 1 \text{ و } 5\sqrt{2} - 3 > 1$$

۳۸۰. عددهای سطر اول را

$$a_1 < a_2 < \dots < a_m < a_{m+1} < \dots < a_n$$

و عددهای سطر دوم را

$$a_{k_1}, a_{k_2}, \dots, a_{k_m}, a_{k_{m+1}}, \dots, a_{k_n}$$

فرض می کنیم. بنا بر این، عددهای سطر سوم، چنین اند:

$$a_1 + a_{k_1}, a_2 + a_{k_2}, \dots, a_m + a_{k_m}, \dots, a_n + a_{k_n}$$

$a_{k_1} \neq a_{k_2}$ می گیریم. در این صورت، به ازای مقداری از $m \geq 2$ داریم:

$a_1 = a_{k_m}$. بنا بر شرط مساله،

$$a_1 + a_{k_1} < a_m + a_{k_m}, a_2 + a_{k_2} < a_m + a_{k_2}, \dots$$

$$a_{m-1} + a_{k_{m-1}} < a_m + a_{k_m}$$

از آن جا به دست می آید:

$$a_{k_2} < a_m, a_{k_3} < a_m, \dots, a_{k_{m-1}} < a_m$$

به جز این $a_1 < a_m$ و $a_{k_1} < a_m$. به m عدد مختلف کوچکتر از a_m می رسیم.

تناقض حاصل، درستی حکم مساله را ثابت می کند.

۳۸۱. در این جا بهتر است از يك پیش قضیه استفاده کنیم: اگر وتر

AB از دایره ای ثابت باشد، ولی دو انتهای وتر A_1B_1 روی این دایره بلغزند، آن وقت، مکان هندسی نقطه برخورد خط های راست AA_1 و BB_1 ، دایره ای است که از نقطه های A و B می گذرد.

۳۸۲. پاسخ: $24\sqrt{3}$.

است برای حالت $AB = CD$ ثابت کنیم.

۳۸۹. پاسخ: $x_n = 0$ حـد.

(به ازای $n \geq 1$ داریم: $|x_{n+1}| \leq \left(\frac{5}{6}\right)^n$)

۳۹۰. جدول شطرنجی 1985×1986 را در نظر بگیرید که جدول 1984×1983 را دربر گرفته و با آن دارای یک مرکز باشد. خانه‌های سیاه مجاور خانه‌های سفیدی که در آن‌ها، عدد ۱ واقع باشد، روی مسیر بسته حرکت فیل شطرنج قرار دارند که، روی صفحه بزرگ از قطر بیش از یک بار نمی‌گذرد و مسیر حرکت خود را تنها روی مرکز این صفحه بزرگ عوض می‌کند. روی صفحه شطرنجی 1985×1984 ، چنین مسیری وجود ندارد.

۳۹۱. بعد از ۴ گام، همه عددهای جدول، برابر واحد می‌شود.

۳۹۲. پاسخ: $\ln 1/0.1 > \frac{2}{2.01}$

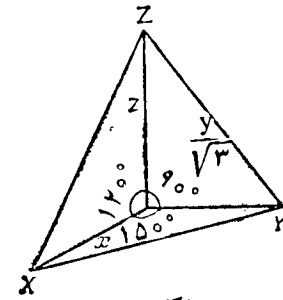
تابع $y = \ln(1+x) - \frac{2x}{x+2}$ برای $x > 0$ ، صعودی است.

۳۹۳. پاسخ: $r = \frac{r_1 r_2 r_3}{r_1 r_2 + r_2 r_3 + r_1 r_3}$

۳۹۴. چنین مقطعی یا متوازی‌الاضلاع است و با یک شش ضلعی که نسبت به مرکز متقارن است و محیط آن از $4a$ کمتر نیست (با بررسی گسترده مکعب، می‌توانید به این مطلب قانع شوید).

۳۹۵. A_1, B_1, C_1 را وسط ضلع‌ها و O را مرکز دایره محیطی مثلث ABC فرض کنید. پاره خط‌های راست OA_1, OB_1, OC_1 ، شش-ضلعی را به متوازی‌الاضلاع‌هایی تقسیم می‌کنند. بنابراین، مساحت شش-ضلعی، دو برابر مساحت مثلث $A_1 B_1 C_1$ است.

۳۹۶. پاسخ: وجود دارد.



شکل ۱۱۸

D را بر حسب مساحت مثلث XYZ بنویسید (شکل ۱۱۸).

۳۸۳. پاسخ: بله درست است.

درواقع، از آنجا که داریم: $f(-1) = 11$ و $g(-1) = -9$ بنابراین در لحظه‌ای، یکی از ریشه‌های سه جمله‌ای حاصل، برابر -1 بوده است.

۳۸۴. پاسخ: $\pi r^2 + 2pr - \frac{pr^2}{rR}$

۳۸۵. k را وزن سنگین‌ترین وزنه، و m را تعداد وزنه‌های به وزن ۱ بگیرد. در این صورت $m \geq k$. در هر لحظه، وزن وزنه‌های دوکفه، بیش از k با هم اختلاف ندارند. بنابراین، بعد از آن که همه وزنه‌های با وزن بیشتر از واحد را در ترازو گذاشتیم می‌توان کفه‌ها را با اضافه کردن وزنه با وزن واحد به حالت تعادل درآورد.

۳۸۶. در هر عدد اول مطلق، تنها رقم‌های ۱، ۳، ۷ و ۹ می‌توانند شرکت کنند. برای هر عدد M ، یکی از عددهای

$$M + 1379, M + 3179, M + 9137, M + 7913,$$

$$M + 1397, M + 3197, M + 7139$$

بر ۷ بخش پذیر است. تناقض.

۳۸۷. پاسخ: $x = 9$ و $y = 0$ یا $x = 4$ و $y = 2$.

۳۸۸. اگر نقطه M در درون یا روی محیط مثلث $(M \neq P)PQR$ باشد، آن وقت $MQ + MR < PQ + PR$. نابرابری مورد نظر را کافی

اثبات، با روش استقرا. n را عددی k رقمی می‌گیریم که شامل m رقم برابر واحد و چند رقم برابر صفر باشد و، در ضمن، داشته باشیم $S(n^2) = m^2$. در این صورت، برای عدد $10^{k+1}n + 1$ که، در آن، k تعداد رقم‌های عدد n است، خواهیم داشت

$$S(n_1) = m + 1, \quad S(n_1^2) = (m + 1)^2$$

(در مسأله ما، داشتیم $m = 1000$).

۳۹۷. پاسخ: ۱۶.

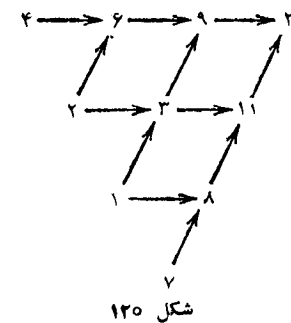
همه مهره‌های دام را باید در صفحه شطرنجی 6×6 ، که مرکزی منطبق بر مرکز صفحه 8×8 دارد، قرارداد.

۳۹۸. پاسخ: n رنگ.

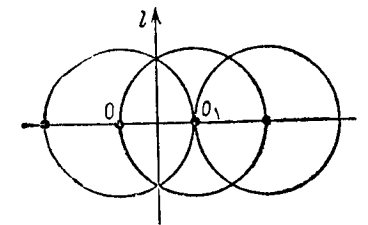
A, B و C را، سه راس متوالی می‌گیریم. هر دو پاره خط از n پاره خط راست BA, BC, AC و $(n-3)$ قطری که از B گذشته‌اند، دارای نقطه مشترک‌اند. سپس، باید همه ضلع‌ها و قطرهای را که با ضلع

AB ، زاویه‌ای برابر $\frac{k \cdot 180^\circ}{n}$ می‌سازند ($k = 1, 2, \dots, n-1$)، به یک رنگ درآورد.

۳۹۹. $S_1(O) = O_1$ فرض می‌کنیم. به کمک تقارن S_1 و دوران به مرکز O ، می‌توان نقطه O را به هر نقطه از محیط دایره ω به مرکز O_1 و شعاع $r = OO_1$ منتقل کرد. دایره ω را می‌توان به هر یک از دایره‌هایی که در شکل ۱۱۹ نشان داده شده است، منجر کرد. به کمک دوران دور نقطه O ، زنجیره دایره‌ها، از تمامی صفحه عبور می‌کند.



شکل ۱۲۰



شکل ۱۱۹

۴۰۰. پاسخ: در دو نقطه.

اگر سه نقطه سازگار با شرط مساله وجود داشته باشد، آن وقت دو

تا از آن‌ها، در یک طرف نقطه $x = -\frac{b}{2a}$ واقع می‌شوند. این باقی می‌ماند

که قدر مطلق تفاضل $y(x_1) - y(x_2)$ را ارزیابی کنیم.

۴۰۱. پاسخ: $d = 20$ (شکل ۱۲۰).

اگر $d < 20$ ، آن وقت

$$20 > d = 2(l+h) + a + l + h + k > 2(l+h) + 10$$

از آن جا $l+h \leq 4$. در ضمن، می‌توان فرض کرد $l < h$. از آن جا،

یا $l=1, h=2$ یا $l=1, h=1$ و هر دو حالت، منجر به تناقض می‌شوند.

۴۰۲. $S_k = \frac{a_1}{a_2} + \dots + \frac{a_k}{a_{k+1}}$ بگیریم. وقتی k به اندازه کافی

بزرگ باشد ($m < k$)، این نابرابری‌ها برقرارند:

$$S_k < k - \frac{1}{2}, \quad S_k - S_m < k - m - \frac{1}{2}$$

۴۰۳. پاسخ: $y = n\pi, x = m\pi$ ($m, n \in \mathbf{Z}$).

از شرط، نتیجه می‌شود: $|\sin x| + |\sin y| \leq |\sin x| \cdot |\sin y|$.

۴۰۴. O و X را دو نقطه از صفحه و $\vec{x} = OX$ فرض کنید. بنا بر

شرط داریم:

$$\mathbf{e} + \mathbf{e}_1 = 2\mathbf{a}, \quad \mathbf{a} + \mathbf{a}_1 = 2\mathbf{b}, \quad \mathbf{b} + \mathbf{b}_1 = 2\mathbf{c}, \quad \mathbf{c} + \mathbf{c}_1 = 2\mathbf{d},$$

$$\mathbf{d} + \mathbf{d}_1 = 2\mathbf{e}$$

با حل این دستگاه، بردارهای $\mathbf{a}, \mathbf{b}, \mathbf{c}, \mathbf{d}, \mathbf{e}$ به دست می‌آیند.

۴۰۵. اگر $T = 20q$ (عددی فرد) دوره تناوب این دنباله باشد،

آن وقت، به ازای $q = 4m + 3$ و $k \geq p + 2$ داریم:

$$1 = a_{\gamma k} = a_{\gamma k + r} = 0$$

که يك تناقض است. همچنین، به ازای $q = 4m + 1$:

$$1 = a_{\gamma k} = a_{\gamma k + 3r} = 0$$

که باز هم، يك تناقض است.

۴۰۶. اگر همه این خط‌های راست موازی باشند، درستی حکم

روشن است. m_1, \dots, m_k را، به ترتیب تعداد حوزہ‌های رنگ‌خورده‌ای می‌گیریم که دارای $1, 2, \dots, k$ ضلع‌اند. در این صورت $m_1 \leq n$. به جز این، هر خط راست، به وسیله بقیه خط‌های راست، به بیش از n بخش تقسیم نمی‌شود، به نحوی که، تعداد کل بخش‌های خط‌های راست، از n^2 تجاوز نمی‌کند. بنابراین

$$2m_2 + 3m_3 + \dots \leq n^2$$

و سرانجام

$$m_2 + m_3 + \dots + m_k + \dots \leq \frac{m_2}{3} + \frac{2m_3 + \dots + km_k}{3} \leq \frac{n(n+1)}{3}$$

۴۰۷. A و B را، رنگ‌های کف و سرپوش قوطی می‌گیریم. دو وجه

روبه‌روی مکعب را با دو رنگ دیگر C و D رنگ می‌کنیم. مکعب را طوری در قوطی قرار می‌دهیم که، وجه به رنگ D ، مجاور کف قوطی، و وجه به رنگ E از مکعب، مجاور وجه به رنگ F از قوطی باشد.

۴۰۸. مثلث‌های A_1MN ، A_1A_2N و NA_2O ، متساوی‌الساقین‌اند.

۴۰۹. اگر چهار عدد (a_n, b_n, c_n, d_n) ، از چهار عدد مفروض و بعد

از n گام به دست آمده باشند ($n \geq 1$)، آن وقت باید داشته باشیم:

$$a_n + b_n + c_n + d_n = 0$$

$$a_n^x + b_n^x + c_n^x + d_n^x \geq 2(a_{n-1}^x + b_{n-1}^x + c_{n-1}^x + d_{n-1}^x)$$

۴۱۰. هر جمله $|a_k - b_k|$ ($k = 1, 2, \dots, n$)، برابر است با تفاضل

دو عدد که یکی از n بزرگتر است و دیگری از n تجاوز نمی‌کند. بنابراین

$$|a_1 - b_1| + \dots + |a_n - b_n| = (n+1) + (n+2) + \dots + 2n - (1+2+\dots+n) = n^2$$

۴۱۱. تعداد مکعب‌های رنگ‌خورده، یکی از پنج عدد زیر است:

$$60, 72, 84, 90, 120.$$

مکعب مستطیل را $m \times n \times k$ فرض کنید ($k \leq n \leq m$). تعداد

وجه‌های رنگ‌نشده، برابر است با $(k-1)(n-1)(m-1)$. بنا بر شرط

$$mnk = 2(m-1)(n-1)(k-1)$$

از این جا نتیجه می‌شود: $2 < k < 5$ برای باقی‌مانده معادله را

برای $k=3$ و $k=4$ ، در مجموعه عددهای درست مثبت حل کنیم.

۴۱۲. اگر P را وسط وتر مشترک دودایره بگیریم، نقطه K ، قرینه

نقطه C نسبت به P ، روی محیط دایره‌ای قرار دارد که از رأس A می‌گذرد

و $AKMD$ يك متوازی‌الاضلاع است، به نحوی که مثلث‌های AKM و

AMD برابرند.

۴۱۳. فرض کنید، عددهای a و b ($a < b$) در دو گره مجاور A و B

از شبکه واقع باشند. وقتی که از A به سمت B حرکت می‌کنیم، پیکان

کوچکی به طرف چپ AB قرار می‌دهیم (شکل ۱۲۱).

اگر عددهای واقع در رأس‌های مثلث، در جهت حرکت عقربه‌های

ساعت، به ترتیب صعودی باشند، آن وقت در داخل مثلث ۲ پیکان ظاهر

می‌شود؛ و اگر این عددها، در خلاف جهت حرکت عقربه‌های ساعت، به

ترتیب صعودی باشند، در داخل مثلث، يك پیکان وجود خواهد داشت. n را

تعداد مثلث‌های نوع اول می‌گیریم. تعداد کل پیکان‌ها، در داخل شش‌ضلعی،

برابر است با

مکعب و کره محاط در آن. حداقل فاصله مورد نظر، برابر است با تفاضل شعاع‌های این دو کره.

۴۱۸. اگر x_1 و x_2 را ریشه‌های معادله بگیریم، داریم:

$$a^2 + b^2 = (x_1^2 + 1)(x_2^2 + 1)$$

۴۱۹. اگر مربع سبز را در طول یکی از ضلع‌های آن، انتقال موازی

بدهیم، مجموع ضلع‌های سبز هشت ضلعی تغییر نمی‌کند، و وقتی که مرکز مربع‌های سبز و قرمز، بر هم منطبق باشند، مجموع ضلع‌های سبز برابر مجموع ضلع‌های قرمز است.

۴۲۰. پاسخ: وقتی BM ارتفاع مثلث باشد.

۴۲۱. پاسخ: a می‌توان (شکل ۱۲۲) b نمی‌توان.

اگر چنین شبکه‌ای وجود داشته باشد، آن وقت، یکی از عددهای n یا $n-2$ مجذور کامل است.

شهری مثل A را انتخاب می‌کنیم و آن را «خوب» می‌نامیم. به شهری «خوب» گفته می‌شود که طول مسیر A و B زوج باشد و، در حالتی که طول این مسیر عددی فرد باشد، به آن «بد» می‌گویند. تعداد شهرهای «خوب» را x و تعداد شهرهای «بد» را y می‌گیریم ($x+y=n$). تمامی شبکه، دارای xy زوج شهر است که، در آن‌ها، یک شهر «خوب» و دیگری

«بد» است. توجه کنید: در بین عددهای $1, 2, \dots, \frac{n(n-1)}{2}$ عدد فرد

وجود دارد. اگر n عددی فرد باشد، آن وقت

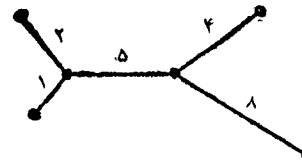
$$n = n^2 - 4xy = (x-y)^2$$

و اگر n عددی زوج باشد، آن وقت

$$n = (x-y)^2 + 2$$

۴۲۲. برابری $\vec{AC} \cdot \vec{BD} = BD^2 \sqrt{2}$ ممکن نیست (\vec{AC} ، \vec{BD})

و BD^2 ، عددهای درستی هستند).



شکل ۱۲۲



شکل ۱۲۱

$$N = 2n + 24 - n = n + 24$$

کافی است توجه کنیم که $N \geq 31$ (۳۰ پیکان از پاره خط‌های راست درونی و، دست کم یکی، از مرزها).

۴۱۴. پاسخ: ۳.

داریم: $\frac{x}{1+\sqrt{1+x}} = \sqrt{x+1} - 1$ بنابراین، برای

$x=1$ کسر مفروض، برابر $\sqrt{x+1} - 1$ می‌شود.

$$۴۱۵. پاسخ: \frac{5\sqrt{3}}{4} - \frac{\pi}{6}$$

۴۱۶. مستطیلی با شرط مساله سازگار است که، برای ضلع‌های آن

x و y ($x > y$) داشته باشیم:

$$xy > m \text{ و } x(y-1) < m$$

این دستگاه، برای $m > 12$ جواب دارد:

به ازای $m = k^2$: $x = k-1$ و $y = k+2$ ؛

به ازای $k^2 < m < k(k+1)$: $x = k$ و $y = k+1$ ؛

به ازای $m = k(k+1)$: $x = k-1$ و $y = k+3$ ؛

به ازای $k(k+1) < m < (k+1)^2$: $x = y = k+1$.

$$۴۱۷. پاسخ: \frac{1}{4}(\sqrt{3} - \sqrt{2})$$

دایره‌های مفروض، روی دو کره هم‌مرکز قرار دارند: کره محیط بر-

۴۲۳. فرض کنید: $a_1 < a_2 < \dots < a_{n-1}$ که در آن‌ها، $a_1 \geq 2$ عددی فرد و بقیه a_i ها ($i = 2, \dots, n-1$) زوج باشند. فرض کنید:

$$a_1^2 + a_2^2 + \dots + a_{n-1}^2 = 2k + 1 \quad \text{و} \quad a_n = k$$

در این صورت، خواهیم داشت:

$$a_1^2 + a_2^2 + \dots + a_n^2 = (k+1)^2$$

به همین ترتیب، عددهای $b_1 < b_2 < \dots < b_{m-1}$ را در نظر می‌گیریم که، در آن‌ها، $b_1 > 2a_n$ عددی فرد و بقیه عددهای b_2, \dots, b_{m-1} زوج باشند و در ضمن $b_m = S$ و $b_{i+1} > b_i a_n$ که، در آن

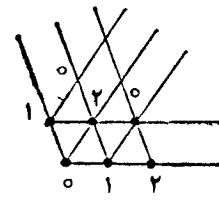
$$2S + 1 = b_1^2 + b_2^2 + \dots + b_{m-1}^2$$

جدول موردنظر، از این راه به دست می‌آید که در خانه محل برخورد زامین سطر و زامین ستون، عدد $a_i a_j$ را قرار دهیم.

۴۲۴. O_1 و O_2 را مرکزهای دو دایره مفروض بگیرد و O_3 را طوری انتخاب کنید که چهارضلعی $AO_1 O_2 O_3$ متوازی الاضلاع باشد. نقطه O_3 مرکز دایره محیطی مثلث ABC است.

(b) پاسخ: مکان مطلوب، عبارت است از محیط دایره به مرکز O_3 (از دایره دوم) و با شعاعی برابر با شعاع دایره اول، به جز دو نقطه P^* و O^* که با انتقالی که O_1 را به O_2 می‌رساند، از دو نقطه P و Q به دست آمده‌اند.

۴۲۵. گره‌های شبکه را با عددهای ۰ و ۱ و ۲ طوری شماره گذاری می‌کنیم که: الف) در رأس‌های هر مثلث کوچک، هر سه عدد باشند؛ ب) در



شکل ۱۲۳

رأس‌های شش ضلعی عددهای ۰ و ۱ قرار گرفته باشند (شکل ۱۲۳). مجموع همه عددهای واقع در گره‌های شبکه، در تقسیم به ۳، به باقی‌مانده ۲ می‌رسد. P ، Q ، R را رأس‌های هر مثلث متساوی-الاضلاعی می‌گیریم که در گره‌های شبکه واقع باشند. اگر در رأس‌های P و Q عددهای مساوی

با هم وجود داشته باشد، آن وقت، همین عدد، در رأس R هم خواهد بود. اگر در رأس‌های P و Q ، دو عدد مختلف واقع باشند، آن وقت، عدد سوم، در رأس R قرار می‌گیرد. در هر حالت، مجموع عددهای رأس‌های P ، Q و R بر ۳ بخش پذیر است. بنابراین در هر حال، مجموع عددهایی که رنگ نخورده‌اند، در تقسیم بر ۳ به باقی‌مانده ۲ می‌رسد.

۴۲۶. پاسخ: ۱ و ۹.

اگر عدد $n = m^2$ دارای $m > 1$ مقسوم علیه باشد، آن وقت m عددی فرد است ($m = 2k + 1$)، و n درست k مقسوم علیه کوچکتر از m دارد و، بنابراین، بر $2k - 1$ بخش پذیر است.

۴۲۷. می‌توان فرض کرد: $a_1 \leq a_2 \leq \dots \leq a_n$. نابرابری مطلوب،

نتیجه‌ای از ارزیابی‌های زیر است:

$$\frac{2}{a_1 + a_2} \leq \frac{1}{a_1}$$

$$\frac{2k-1}{a_1 + a_2 + \dots + a_{2k-1}} \leq \frac{2k-1}{a_k + \dots + a_{2k-1}} \leq$$

$$\frac{2k-1}{k \cdot a_{k-1}} < \frac{2}{a_k} \quad \left(2 \leq k \leq \frac{n+1}{2} \right);$$

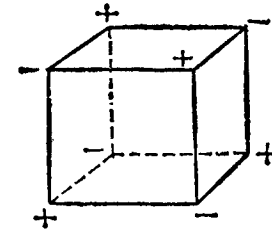
$$\frac{2k}{a_1 + a_2 + \dots + a_{2k}} < \frac{2k}{a_{k+1} + \dots + a_{2k}} < \frac{2}{a_k}$$

۴۲۸. پاسخ: AB ، AC ، نیمساز زاویه BAC ، مماس بر دایره

محیطی مثلث ABC در نقطه A ، مماس بر دایره محیطی مثلث $AB_1 C$ در نقطه A (B_1 ، قرینه B نسبت به A است).

۴۲۹. موقعیت موردنظر را می‌توان به این ترتیب به دست آورد

که، ابتدا، تنها عددهای صفر را قرار دهیم و، سپس، دو عمل زیر را مرتباً تکرار کنیم: الف) جای دو قشر از مکعب‌های واحد را، که با وجهی از مکعب موازی‌اند، عوض کنیم؛ ب) عددی را به عددهای واقع در رأس‌های مکعب اصلی اضافه کنیم و جلو آن‌ها، علامت «+» را قرار دهیم و، همراه با آن،



شکل ۱۲۴

علامت عدد را، از عددهای راس‌ها کم کنیم و با علامت «-» قرار دهیم (شکل ۱۲۴).

۴۳۰. پاسخ: $x=3, y=2, z=1, n \geq 2$; $x=6$

$n \geq 2, z=4, y=8, x=8$; $n=2, z=7, y=3$

۴۳۱. O و O' را دو نقطه مفروض می‌گیریم و، برای مشخص بودن وضع، فرض می‌کنیم، نقطه O' ، در درون یا روی ضلع‌های مثلث OA_1A_2 واقع باشد. در این صورت داریم:

$$O'A_1 + O'A_2 < OA_1 + OA_2 \quad \text{و} \quad O'A_1 - OA_2 \leq 1$$

$(i=3, 4, \dots, 12)$

۴۳۲. پاسخ: بله، می‌توان.

باید در یکی از لیوان‌ها ۲۰۰ گرم و در هر یک از لیوان‌های دیگر ۱۰۰ گرم شیر ریخت.

۴۳۳. پاسخ: (a) ؛ ۱ (b) $\frac{5000}{4999}$

(a) در تقارن نسبت به مرکز مستطیل، رنگ‌ها جای خود را عوض می‌کنند.

(b) باید تصویرهای پاره‌خط‌های راست سفید و سیاه را، روی یکی از ضلع‌های مستطیل، مورد بررسی قرار داد.

۴۳۴. (a) O را مرکز دایره محیطی چندضلعی می‌گیریم. در این صورت

$$\vec{MA}_i = \vec{MO} + \vec{OA}_i$$

و کافی است، در مجموع، علامت «+» را جلو جمله‌های با شماره زوج، و علامت «-» را جلو بقیه جمله‌ها قرار داد.

(b) فرض کنید، در مجموع مورد نظر مسا، $\vec{MA}_{i_1}, \vec{MA}_{i_2}, \dots$ ،

\vec{MA}_{i_k} با علامت «+» و $\vec{MA}_{j_1}, \vec{MA}_{j_2}, \dots, \vec{MA}_{j_{n-k}}$ با علامت «-»

آمده باشند. اگر مجموع برابر ۰ باشد، آن وقت

$$\vec{MO} = \frac{1}{n-2k} (\vec{OA}_{i_1} + \vec{OA}_{i_2} + \dots + \vec{OA}_{i_k} - \vec{OA}_{j_1} - \dots - \vec{OA}_{j_{n-k}})$$

و با این شرط، M به صورت یک ارزشی به دست می‌آید.

۴۳۵. پاسخ: (a) ۱ به ازای $n=3$ ؛ $1 - (n-1)^2$ به ازای $n \geq 4$

(b) $n-2$

۴۳۶. کافی است درستی این نابرابری را، برای هر مقدار x ثابت

کنیم:

$$|\sin x| + |\sin(x+1)| + |\sin(x+2)| > \frac{1}{5}$$

۴۳۷. بین عددهای از ۱ تا ۱۹۸۶، درست دو عدد بر ۳۶ بخش پذیرند:

$$۷۲۹ = 3^6 \quad \text{و} \quad ۱۴۵۸ = 2 \times 3^6$$

اگر مجموع همه کسرها، به جز $\frac{1}{۷۲۹ \times ۱۴۵۸}$ را به یک مخارج

تبدیل کنیم، به کسری به صورت $\frac{a}{311 \times b}$ می‌رسیم که، در آن b بر ۳ بخش-

پذیر نیست.

۴۳۸. هر مماسی مثلث قائم‌الزاویه با زاویه حاده φ و مساحت

$$1 - \frac{2}{\cos \varphi + \sin \varphi + 1} \leq (\sqrt{2} - 1)^2$$

را قطع می کند. مساحت S ، بخش مشترك مربع ومثلث، در این نابرابری صدق می کند:

$$S \geq 4 - 2(\sqrt{2} - 1)^2 > 3/4$$

۴۳۹. پاسخ: $\left[\frac{n}{2} \right] + 1$.

هر مقدار $m = 0, 1, 2, \dots$ را متناظر با $P_m(x) = \sum_{i=1}^n (a_i + 2b_i)x^i$ قرار می دهیم که، در آن، a_i و b_i به ترتیب، عبارتند از رقم های عدد های m و $n - 2m$ در عددنویسی به مبنای ۲. در این صورت، هر چند جمله ای $P_m(x)$ ، «مجاز» است و، برعکس، هر چند جمله ای «مجاز»، منطبق بر یکی از $P_m(x)$ هاست.

۴۴۰. A_1, B_1, X_1, Y_1 را، به ترتیب نقطه های تماس کره با وجه های ABX, YAB, XYA, BXY می گیریم. در این صورت مثلث های XA_1B و XY_1B همچنین مثلث های AY_1X و AB_1X و غیره، با هم برابرند. با استفاده از این برابری ها، می توان ثابت کرد که، مجموع زاویه های چهارضلعی فضایی $AXBY$ برابر است با

$$\widehat{AY_1B} + \widehat{AX_1B} = 2\widehat{AX_1B}$$

و نتیجه گرفت که $\widehat{AY_1B} + \widehat{AX_1B}$ ، به X و Y بستگی ندارد. ۴۴۱. داریم:

$$x_1 + y_1 = x_2 + y_2 = \dots = x_{10} + y_{10} = 9,$$

$$x_1 + x_2 + \dots + x_{10} = y_1 + y_2 + \dots + y_{10}.$$

به این ترتیب، خواهیم داشت:

$$x_1^2 + x_2^2 + \dots + x_{10}^2 - y_1^2 - y_2^2 - \dots - y_{10}^2 = 9(x_1 + x_2 + \dots + x_{10} - y_1 - y_2 - \dots - y_{10}) = 0$$

۴۴۲. پاسخ: ۱، ۲، ۴، ۸، ۱۶، ۳۲.

$x_1 \leq x_2 \leq \dots \leq x_p$ را وزن وزنه ها بگیرد. روشن است که $x_1 = 1, x_2 = 2, x_3 = 4$. اگر برای هر $k \leq m$ داشته باشیم $x_k = 2^{k-1}$ ، آن وقت، $x_{m+1} = 2^m$ ، زیرا بیشترین وزنی را که می توان با وزنه های $1, 2, \dots, 2^{m-1}$ وزن کرد، برابر است با $2^m - 1$.

۴۴۳. نقطه برخورد A_1A_2 و A_2A_3 را B بگیرد. مثلث BA_2A_3 متساوی الساقین است و دو مثلث A_2BA_3 و A_1BA_2 متشابه اند.

۴۴۴. پاسخ: (a) ۱۲ شلیک؛ (b) ۲۰ شلیک.

(a) در مربع 7×7 می توان ۱۲ مستطیل 1×4 را جا داد، بدون این که روی هم قرار گیرند؛ (b) باید به هر مستطیل 3×4 ، ۵ شلیک کرد. ۴۴۵. داریم:

$$2(1^{1987} + 2^{1987} + \dots + n^{1987}) = 2 + (n^{1987} + 2^{1987}) + \dots + (2^{1987} + n^{1987}) = 2 + (n+2)M$$

۴۴۶. (a) پاسخ: ۱۱ شکل. باید در هر جدول 2×2 ، دست کم دو خانه را پوشاند.

(b) حکم برای مربع 7×7 درست است. اگر حکم برای مربع $(6n+1)(6n+1)$ درست باشد، آن وقت، در یکی از گوشه های مربع $(6n+7)(6n+7)$ ، مربع $(6n+1)(6n+1)$ را قرار می دهیم و یک خانه آن را جدا می کنیم؛ سپس، بخش باقی مانده را به مستطیل های 2×3 تقسیم می کنیم.

۴۴۷. $A_1, A_2, B_1, B_2, C_1, C_2$ را نقطه های برخورد امتداد ضلع ها، با خط های راست موازی با آن ها فرض می کنیم. نقطه های B_1 و B_2 روی محیط دایره ای واقع اند که بر دوزنقه متساوی الساقین $A_1A_2C_1C_2$ محیط است.

۴۴۸. اگر حکم مساله درست نباشد، هر خط راستی که شامل ضلعی از یک خط شکسته است، ضلع های خط شکسته دیگر را، در نقطه های داخلی آن قطع می کند و تعداد چنین نقطه هایی، عددی زوج است.

۴۴۹. پاسخ: ۱۲۱، ۲۴۱، ۳۶۱، ۴۸۱، ۶۰۱.

شرط مساله، برای هر گروهی از n عدد $a_i = i.n! + 1$ ($i = 1, 2, \dots, n$) برقرار است. مجموع هر k عدد از این گروه، بر k بخش پذیر است.

۴۵۰. F را نقطه برخورد قطرهای BD و CE بگیرید. نقطه‌های E, D, F, A روی محیط يك دایره اند. نقطه‌های A, B, C, F هم روی محیط يك دایره قرار دارند.

۴۵۱. پاسخ: $(k \in \mathbf{Z})\alpha = 2k\pi \pm \frac{2\pi}{3}$.

اگر α با شرط مساله سازگار باشد، آنوقت $-\frac{1}{4} \leq \cos \alpha < \frac{1}{4}$ (در غیر این صورت $\cos 2\alpha > 0$). به همین ترتیب، برای هر عدد طبیعی n ، باید داشته باشیم: $\cos 2^n \alpha \leq -\frac{1}{4}$. از آنجا $|\cos 2^n \alpha - \frac{1}{4}| \geq \frac{3}{4}$ ولی در این صورت

$$|\cos 2^n \alpha + \frac{1}{4}| = 2|\cos 2^{n-1} \alpha - \frac{1}{4}| \cdot |\cos 2^{n-1} \alpha + \frac{1}{4}| \geq \frac{3}{4} |\cos 2^{n-1} \alpha + \frac{1}{4}|$$

و به این ترتیب، به ازای هر مقدار n :

$$|\cos \alpha + \frac{1}{4}| \leq \frac{2}{3} |\cos 2\alpha + \frac{1}{4}| \leq \dots \leq \left(\frac{2}{3}\right)^n |\cos 2^n \alpha + \frac{1}{4}| \leq \left(\frac{2}{3}\right)^{n-1}$$

که از آن جا نتیجه می‌شود: $\cos \alpha = -\frac{1}{4}$.

۴۵۲. داریم:

$$k^3 = (a+A)(b+B)(c+C) = abc + ABC + k(aB + bC + cA)$$

۴۵۳. خانه گوشه بالا و سمت چپ جدول را جدا می‌کنیم. سپس، این حوزه‌ها را در نظر می‌گیریم: مربع گوشه‌ای 3×3 بدون این خانه، مربع 5×5 بدون مربع 3×3 ، مربع 7×7 بدون مربع 5×5 و غیره. مجموع عددها، در هر يك از این حوزه‌ها، از ۲ بیشتر نیست.

۴۵۴. فرض کنید، نیمساز زاویه ABC و خط راست l - قرنیة نیمساز نسبت به مرکز دایره - خط راست PM را، به ترتیب، در نقطه‌های L و N قطع کنند. در این صورت

$$NP = KL = LM, \quad PM = LN$$

۴۵۵. پاسخ (a و b): آغازکننده بازی، برنده می‌شود. (a) مثلاً، اولی، در حرکت اول خود، عدد ۶ را می‌نویسد. نفر دوم، تنها می‌تواند یکی از شش عدد زیر را بنویسد، که مسا آن‌ها را به صورت زوج عددها نوشته ایم:

$$(9, 10), (7, 8), (4, 5)$$

اولی باید در پاسخ هر حرکت دومی، عدد دیگر همان زوج را بنویسد.

(b) بازی تازه‌ای در نظر می‌گیریم: قانون همان است، ولی واحد در بین عددها وجود ندارد. اگر در این بازی تازه، طرحی برای برد اولی وجود دارد، از همان طرح استفاده می‌کند؛ ولی اگر در بازی جدید می‌توان طرحی برای برد دومی ریخت، آنوقت، اولی در حرکت اول خود، عدد ۱ را می‌نویسد و، سپس، از همان طرح دومی استفاده می‌کند.

۴۵۶. پاسخ: بعد از ۷ روز.

k را تعداد روزها برای حالتی می‌گیریم که تعداد نگهبان‌ها ۹ نفر باشند و l را تعداد روزها، برای حالتی که تعداد نگهبان‌ها ۱۰ نفر باشند؛ در ضمن، هر کدام از آن‌ها m بار نگهبانی داده‌اند. به این ترتیب، باید داشته باشیم:

$$9k + 10l = 33m$$

به ازای $m = 1$ جوابی به دست نمی‌آید و به ازای $m = 2$ داریم:

$$k = 4 \quad \text{و} \quad l = 3$$

۴۵۷. اگر تعداد نقطه‌های علامت‌دار محدود باشد، آن وقت اگر از گره بالا و سمت راست، همه بردارها را قرار دهیم، معلوم می‌شود که بردارهای (x, y) با شرط $y > 0$ و $x > 0$ و $y = 0$ ، بیشتر از بقیه بردارها هستند. ولی اگر همه بردارها را از گره پایین و سمت چپ در نظر بگیریم، تعداد آنها، کمتر از تعداد بقیه درمی‌آید.

۴۵۸. راس‌های $A_0, A_1, A_2, A_3, A_4, \dots, A_{p-1}, A_p$ از p ضلعی مفروض را در نظر می‌گیریم. قطرهای $A_1A_2, A_2A_3, A_3A_4, \dots, A_{p-1}A_p$ را رسم می‌کنیم. B_1 و B_2 را نقطه برخورد قطر A_1A_2 با قطرهای A_1A_4 و A_2A_3 و همچنین، B_3 و B_4 را نقطه برخورد A_2A_3 با همان قطرهای فرض می‌کنیم. (اگر $p = 5$ ، آن وقت $B_5 = A_5$.)
از برابری مساحت‌ها، نتیجه می‌شود: $B_1B_2 = B_2B_3 = B_3A_4 = A_1A_2$ بنا بر این $A_1A_2 \parallel A_4A_{p-1}$. تناقض.

۴۵۹. $T_p(n)$ را مجموعه همه عددهایی از T_n که کوچکتر از (2^n) باشند، و $N_p(n)$ را تعداد عددهای آن می‌گیریم، هر عدد از $T_p(n)$ را می‌توان به این صورت نوشت:

$$\beta_0 + \beta_1(2^1) + \beta_2(2^2) + \dots + \beta_{n-1}(2^{n-1})!$$

و $A_p(n)$ را بزرگترین عدد از ضریب‌های $\beta_0, \beta_1, \dots, \beta_{n-1}$ بین همه عددهای $T_p(n)$ فرض می‌کنیم. برای هر $k (k = 0, 1, \dots, n-1)$ ، ضریب (2^k) ، بیش از $A_p(n)$ مقدار مختلف قبول نمی‌کند. بنا بر این

$$N_p(n) \leq (A_p(n))^n$$

دیگر کافی است، پیش قضیه‌های زیر را ثابت کنیم:

$$(1) \quad A_{p+1}(n) \leq A_p(n) \cdot N_p(n) \leq (A_p(n))^{n+1}$$

$$(2) \quad A_{1987}(n) \leq 2^{(n+1)1987}$$

$$(3) \quad 2^{(n+1)1987} < (2^n)!$$

$$(4) \quad (2^n)! > 2^{2^n} \quad (\text{به ازای } n \geq 2)$$

$$(5) \quad 2^n > (n+1)^{1987} \quad (\text{به ازای مقداری از } n).$$

۴۶۰. اگر $f(x) = a$ ، آن وقت $f(0) = -a$ و $f(-a) = 0$ ، به نحوی که $f(0) = 0$ ، برابری $f(x) = x$ ، برای $x \neq 0$ ، ممکن نیست. (b) پاسخ:

$$f(x) = \begin{cases} 0 & (x=0) \\ -\frac{x}{2} & (2^k \leq |x| < 2 \times 2^k) \\ 2x & (2 \times 2^{k-1} \leq |x| < 2^k) \end{cases}$$

۴۶۱. A را راس چند وجهی و AA_1, AA_2, \dots, AA_n را یال‌های خارج شده از راس A می‌گیریم. یال AA_1 را آبی و بقیه یال‌ها را قرمز می‌کنیم. سپس، همه ضلع‌های خط شکسته $A_1A_2 \dots A_n$ را به رنگ آبی درمی‌آوریم و یال AA_1 را به رنگ قرمز. پشت سرهم، وجه‌هایی را که به بخش‌های رنگ خورده چند وجهی متصل‌اند، اضافه می‌کنیم. اگر دو یال از وجه دارای رنگ باشند، یال سوم را به رنگ دلخواه درمی‌آوریم؛ ولی اگر تنها یک یال آن رنگ داشته باشد، آن وقت دو یال دیگر را به رنگ‌های مختلف رنگ می‌کنیم.

۴۶۲. دازیم:

$$\left(1 + \frac{1}{2n}\right)^n - \left(1 - \frac{1}{2n}\right)^n - 1 = \frac{a_2}{(2n)^2} + \frac{a_4}{(2n)^4} + \dots$$

که در آن a_2, a_4, \dots ، عددهایی مثبت‌اند.

سپس، «گام استقرائی» را به این ترتیب برداریم. اگر داشته باشیم:

$$1 + 3 + 5 + \dots + (2k - 1) = k^2$$

آن وقت

$$1 + 3 + \dots + (2k - 1) + (2k + 1) = k^2 + 2k + 1 = (k + 1)^2$$

درواقع، همین استدلال را می‌توان به صورت زیر ارائه کرد (n گام نخستین استقرا را با هم برداریم):

$$1 + 3 + 5 + \dots + (2n + 1) = \\ = 1 + (4 - 1) + (9 - 4) + \dots + [(n + 1)^2 - n^2] = (n + 1)^2$$

مسئله‌های ۵، ۱۵، ۲۶، ۳۶، ۴۹، ۵۲، ۷۲، ۷۶، ۷۷، ۹۰، ۹۷، ۱۰۵، ۱۰۲، ۱۱۰، ۱۱۳، ۱۲۰، ۱۳۷، ۱۴۲، ۱۴۴، ۱۴۸، ۱۶۴، ۱۷۶، ۱۷۹، ۱۸۱، ۱۸۳، ۱۹۳، ۲۰۳، ۲۱۰، ۲۱۸، ۲۲۳، ۲۲۹، ۲۳۱، ۲۴۰، ۲۴۶، ۲۴۸، ۲۶۰، ۲۶۷، ۲۶۴، ۳۶۷، ۳۹۶، ۴۴۶ (b).

همچنین مسئله‌های ۱۵۵، ۲۰۰، ۲۷۷ که اندیشه‌های خاصی در حل آن‌ها به کار رفته است.

۴. عددهای درست. بخش‌پذیری

در بسیاری از مسأله‌های مربوط به عددهای درست، از مفهومی که قضیه‌های بخش‌پذیری استفاده می‌شود. هر عدد درست a را می‌توان، ضمن تقسیم بر عدد طبیعی m ، به صورت $a = mq + r$ نوشت که، در آن، q و r عددهایی درست‌اند و $0 \leq r < m$.

بین هر m عدد درست متوالی، درست یک عدد پیدا می‌شود که بر m بخش‌پذیر است. اگر دو عدد a و b ، در تقسیم بر عدد m ، به یک باقی‌مانده برسند، می‌گویند a با b ، نسبت به مدول m ، هم‌نهشت است و به این صورت نشان می‌دهند:

$$a \equiv b \pmod{m}$$

ضمیمه

۱. روش استقرای ریاضی

روش استقرای ریاضی، که برای اثبات درستی یک گزاره به ازای هر عدد طبیعی n به کار می‌رود، بر نظام زیر استوار است: اگر گزاره‌ای برای $n = 1$ درست باشد و، در ضمن، از درستی آن برای $n = k$ ، بتوان درستی گزاره را برای $n = k + 1$ نتیجه گرفت، آن وقت، این گزاره، برای هر مقدار طبیعی n درست است. (اصل استقرای ریاضی). گاهی درستی گزاره n به کمک درستی گزاره یا گزاره‌هایی کوچکتر از n ثابت می‌شود؛ در این حالت، اصل استقرای ریاضی به این صورت است: اگر گزاره‌ای برای $n = 1$ و (به ازای $1 < n$) برای هر $k < n$ درست باشد، آن وقت برای $k = n$ هم درست است. گاهی بهترین راه استقرای ریاضی، به ازای $n = 0$ یا از عددی مثل $n = n_0$ آغاز کنیم. نظام استقرای ریاضی، بر این اصل موضوع تکیه دارد: در هر مجموعه‌ای از عددهای طبیعی، کوچکترین عضو وجود دارد (مسئله ۱۱ را ببینید).

گاهی روش استقرای ریاضی، به صورتی «نیمه پنهانی» در استدلال وجود دارد. مثلاً اثبات اتحاد

$$1 + 3 + 5 + \dots + (2n - 1) = n^2$$

منجر به این می‌شود که ابتدا آن را برای $n = 1$ مورد تحقیق قرار دهیم و،

اگر a و b عددهایی طبیعی و $a = bq + r$ ($0 \leq r < b$)، آن وقت بزرگترین مقسوم‌علیه مشترک دو عدد a و b با بزرگترین مقسوم‌علیه مشترک دو عدد b و r یکی است؛ اگر این بزرگترین مقسوم‌علیه مشترک را d بنامیم، می‌توان آن را با چندبار استفاده از گزاره بالا، و به عنوان آخرین باقی‌مانده غیرصفر، درزنجیره تقسیم‌های زیر به دست آورد:

$$a = bq + r, \quad b = rq_1 + r_1, \quad r = r_1q_2 + r_2, \quad r_1 = r_2q_3 + r_3, \dots$$

$$\dots, \quad r_{n-1} = r_nq_{n+1} + d, \quad r_n = dq_{n+2}$$

(روش تقسیم‌های متوالی: آल्گوریتم اقلیدس)؛ از این جا نتیجه می‌شود: عددهای درست x و y وجود دارند، به نحوی که داشته باشیم: $d = ax + by$. در حالت خاصی که a و b نسبت به هم اول باشند (یعنی، مقسوم‌علیه مشترک بزرگتر از واحد نداشته باشند)، آن وقت می‌توان عددهای درست x و y را طوری پیدا کرد که، برای آن‌ها، داشته باشیم:

$$ax + by = 1$$

(مسألة ۶۸ را ببینید).

هر عدد طبیعی را، تنها به یک طریق می‌توان به صورت ضرب عامل‌های اول نوشت (قضیه اصلی حساب). تعداد عددهای اول بی‌نهایت است. اثبات این گزاره، به وسیله اقلیدس، بر این اساس است که: اگر به حاصل ضرب چند عدد اول، یک واحد اضافه کنیم، عددی به دست می‌آید که مقسوم‌علیهی غیر از همه این عددهای اول ندارد.

اگر عددهای b_1, b_2, \dots, b_n دو به دو نسبت به هم اول باشند، آن وقت، برای هر باقی‌مانده r_1, r_2, \dots, r_n ($0 \leq r_i < b_i$) می‌توان عدد a را طوری پیدا کرد که ضمن تقسیم بر b_i به باقی‌مانده r_i برسد، یعنی

$$a \equiv r_i \pmod{b_i}, \quad i = 1, 2, \dots, n$$

(قضیه چینی درباره باقی‌مانده‌ها).

مسئله‌های ۳، ۹، ۱۶، ۳۰، ۳۶، ۴۲، ۴۶، ۴۸، ۵۱، ۵۹، ۶۸، ۷۴، ۸۵، ۸۸، ۸۹، ۹۳، ۱۰۲، ۱۰۷، ۱۰۷، ۱۲۲، ۱۳۷، ۱۴۱، ۱۶۲، ۱۶۵

۱۹۰، ۲۳۳، ۲۵۴، ۲۵۸، ۲۶۰، ۲۸۸، ۳۰۶، ۳۱۶، ۳۲۲، ۳۵۲، ۳۶۰، ۳۷۱، ۳۸۶، ۴۱۱، ۴۱۶، ۴۲۶، ۴۳۶، ۴۴۵، ۴۴۹، ۴۵۶.

۳. رقم‌ها و دستگاه‌های عددشماري

در مسأله‌هایی که صحبت بر سر رقم‌ها در عدد نویسی به مبنای ۱۰ باشد:

$$A = a_n \cdot 10^n + a_{n-1} \cdot 10^{n-1} + \dots + a_1 \cdot 10 + a_0$$

(A)، عددی طبیعی است؛ گاهی آن را به صورت $a_n a_{n-1} \dots a_1 a_0$ نشان می‌دهند، از موضوع‌های گوناگونی استفاده می‌شود: بخش‌پذیری عددهای درست، تبدیل‌های جبری، ارزیابی و تخمین رقم یا عدد. به خصوص، معیار بخش‌پذیری بر ۳ و بر ۹، کاربرد زیادی دارد: عدد $A = a_n a_{n-1} \dots a_1 a_0$ و عددی که از مجموع رقم‌های آن به دست می‌آید، در تقسیم بر ۹ (یا بر ۳)، بديك باقی‌مانده می‌رسند. روشن است که تفاضل

$$A - (a_n + a_{n-1} + \dots + a_1 + a_0) =$$

$$= a_n(10^n - 1) + a_{n-1}(10^{n-1} - 1) + \dots + a_1(10 - 1)$$

بر ۹ بخش‌پذیر است.

گاهی مفید است، عدد A را، در دستگاه عدد نویسی به مبنای q ، بنویسیم:

$$A = a_n q^n + a_{n-1} q^{n-1} + \dots + a_1 q + a_0$$

که در آن a_i ها، $0 \leq a_i < q$ ($i = 1, 2, \dots, n$)، «رقم‌ها» در این دستگاه عدد نویسی اند.

مسئله‌های ۳، ۲۱، ۴۳، ۵۴، ۸۵، ۸۸، ۹۳، ۱۲۲، ۱۳۹، ۱۴۱، ۱۴۲، ۱۴۴، ۱۴۸، ۱۶۸، ۱۷۵، ۱۹۷، ۲۰۱، ۲۴۴، ۲۹۱، ۲۹۴، ۲۹۷، ۳۲۹، ۳۵۴، ۳۹۶، ۴۳۰، ۴۳۹.

۴. عددهای گویا و عددهای گنگ

عدد گویای a را می‌توان به صورت $a = \frac{m}{n}$ نشان داد که، در آن

$n \in \mathbf{N}$ و $m \in \mathbf{Z}$ ؛ همچنین، هر عدد گویا را می‌توان، در دستگاه عددنویسی به‌مبنای ۱۰ (یا هر دستگاه عددنویسی دیگر)، به‌صورت کسردهدهی متناوبی نوشت. کسردهدهی معرف عددگنگ، متناوب نیست.

همراه با عددگنگ $a + b\sqrt{d}$ (a و b ، عددهای گویا و d عددی درست است که مجذور یک عدد طبیعی نیست)، اغلب بهتر است «مزدوج» آن، عدد $a - b\sqrt{d}$ را هم در نظر بگیریم؛ مجموع و حاصل ضرب دو عدد گنگ مزدوج، منجر به عددهایی گویایی می‌شود، به‌نحوی که $a \pm b\sqrt{d}$ ریشه‌های معادله‌ای درجه دوم با ضرایب‌های درست درمی‌آیند.

مسئله‌های ۹۴، ۱۱۴، ۲۵۷، ۲۶۸، ۳۰۳، ۳۵۶، ۳۷۰، ۳۷۹، ۴۲۲.

۵. سه‌جمله‌ای درجه دوم. تابع‌های پیوسته،

نمودارها و ریشه‌های معادله‌ها

در بسیاری از مساله‌هایی که منجر به استفاده از تابع درجه دوم

$$y = f(x) = ax^2 + bx + c$$

می‌شوند، بهتر است نمودار آن را در نظر بگیریم. اگر این نمودار، محور Ox را در دو نقطه x_1 و x_2 (ریشه‌های سه‌جمله‌ای) قطع کند، آن وقت مقدارهای تابع $y = f(x)$ ، در بین ریشه‌ها، علامتی مخالف علامت a و در بیرون بازه $[a, b]$ همان علامت a را دارند. در ضمن، راس سهمی $y = f(x)$ (که طول آن، برابر نصف مجموع ریشه‌هاست)، متناظر با نقطه اکسترمم تابع $y = f(x)$ است: می‌نیمم اگر $a > 0$ و ماکزیمم اگر $a < 0$.

در یک رشته از مساله‌ها، می‌توان از این حقیقت استفاده کرد؛ اگر تابع $y = f(x)$ ، که در بازه $[a, b]$ پیوسته است، در دو انتهای این بازه، برابر با مقدارهایی با علامت‌های مختلف باشد، آن وقت، بین دو نقطه a و b دست کم یکی از ریشه‌های معادله $f(x) = 0$ قرار دارد.

مسئله‌های ۳۲، ۱۱۹، ۱۴۹، ۱۵۷، ۱۷۸، ۱۸۰، ۲۰۶، ۲۲۸، ۲۴۲،

۲۵۹، ۲۶۴، ۲۶۹، ۲۷۸، ۲۹۹، ۳۰۸، ۳۳۹، ۳۵۹، ۳۸۳،

۴۰۰، ۴۰۸.

۶. جبر چندجمله‌ای‌ها

اگر a ریشه چندجمله‌ای $P(x)$ باشد، آن وقت $P(x)$ بر دو جمله‌ای $x - a$ بخش پذیر است و می‌توان آن را به‌صورت $P(x) = (x - a)Q(x)$ نوشت که، در آن، $Q(x)$ یک چندجمله‌ای است با درجه‌ای یک واحد کمتر از درجه $P(x)$ (در ضمن، اگر $P(x)$ ضرایب‌های درستی داشته باشد، ضرایب‌های $Q(x)$ هم، عددهایی درست‌اند). چندجمله‌ای درجه n ، بیش از n ریشه ندارد (حتی با در نظر گرفتن ریشه‌های تکراری). از این جامی‌توان نتیجه گرفت که: اگر دو چندجمله‌ای $P(x)$ و $Q(x)$ ، که درجه آن‌ها از n تجاوز نمی‌کند، در n نقطه، مقدارهای برابر را قبول کنند، آن وقت ضرایب‌های متناظر توان‌های برابر در دو چندجمله‌ای، با هم برابرند.

اغلب، از اتحاد‌های مربوط به تجزیه دو جمله‌ای‌های شامل دو متغیر،

استفاده می‌شود:

$$x^n - y^n = (x - y)(x^{n-1} + x^{n-2}y + \dots + xy^{n-2} + y^{n-1});$$

$$x^{2m+1} + y^{2m+1} =$$

$$(x + y)(x^{2m} - x^{2m-1}y + x^{2m-2}y^2 - \dots - xy^{2m-1} + y^{2m})$$

و همچنین، از دستور بسط دو جمله‌ای:

$$(x + y)^n = x^n + C_n^1 x^{n-1}y + C_n^2 x^{n-2}y^2 + \dots + C_n^{n-1} x y^{n-1} + y^n$$

که در آن، ضرایب‌های بسط، از این دستور به دست می‌آیند:

$$C_n^k = \frac{n(n-1)\dots(n-k+1)}{1 \times 2 \times \dots \times k}, \quad k = 1, 2, \dots, n$$

مسئله‌های ۱۶، ۲۴، ۳۸، ۵۱، ۱۲۵، ۱۴۲، ۱۶۲، ۲۱۷، ۲۴۲،

۲۵۱، ۲۵۸، ۳۲۵، ۳۴۷، ۴۳۹.

۷. اتحادها. معادله‌ها و دستگاه‌های معادله‌ها

برای حل و بررسی معادله‌ها، در کنار روش‌های رسمی و دبیرستانی،

گاهی می‌توان از مفهوم یکنوایی استفاده کرد: اگر تابع $y = f(t)$ ، اکیدا

صعودی یا اکیداً نزولی باشد، آن وقت معادله‌های $f(g_1) = f(g_2)$ و $g_1 = g_2$ هم ارزند. برای حل دستگاه‌های معادله‌ها، گاهی مفید است از تعبیر هندسی، مفهوم تقارن در عبارات‌های جبری و غیره استفاده کنیم.

یک رشته از مساله‌ها، به رابطه خطی بین چند متغیر مربوط می‌شوند. مساله‌های ۳۸، ۶۳، ۹۸، ۱۴۶، ۱۸۹، ۱۹۴، ۲۴۳، ۲۷۶، ۲۹۲، ۳۵۳، ۳۵۷، ۳۶۴، ۳۸۲، ۴۱۴، ۴۶۰.

۸. نابرابری‌ها

در بین نابرابری‌هایی که، در مساله‌ها، مورد استفاده قرار می‌گیرند، این‌ها را می‌توان آورد:

$$(1) \quad |x - y| \geq |x| - |y|, \quad |x + y| \leq |x| + |y|$$

$$(2) \quad \sqrt{ab} \leq \frac{a+b}{2} \quad (b \geq 0 \text{ و } a \geq 0)$$

(3) اگر a_1, a_2, \dots, a_n عددهایی غیر منفی باشند:

$$\sqrt[n]{a_1 a_2 \dots a_n} \leq \frac{a_1 + a_2 + \dots + a_n}{n}$$

(نابرابری کوشی، برای واسطه‌های هندسی و عددی)؛

$$(4) \quad (a_1 + a_2 + \dots + a_n)^2 \leq \frac{1}{n} (a_1^2 + a_2^2 + \dots + a_n^2)$$

برای هر a_1, a_2, \dots, a_n .

$$(5) \quad \text{برای هر دو عدد مثبت } a \text{ و } b, \text{ کسر } \frac{c+d}{a+b}, \text{ بین کسرهایی } \frac{c}{a}$$

و $\frac{d}{b}$ قرار دارد (مساله ۲۱۹ را ببینید).

$$(6) \quad \sin x < x \text{ برای هر } x > 0.$$

مساله‌های ۱۹، ۵۶، ۹۵، ۱۰۹، ۱۱۳، ۱۱۸، ۱۲۷، ۱۲۸، ۱۳۰، ۱۳۴، ۱۶۹، ۱۷۲، ۱۸۷، ۲۰۳، ۲۰۸، ۲۱۲، ۲۳۲، ۲۶۴.

۲۶۷، ۲۷۸، ۲۷۹، ۲۹۹، ۳۰۸، ۳۱۱، ۳۱۹، ۳۲۵، ۳۳۵، ۳۴۱، ۳۴۶، ۳۵۴، ۳۵۷، ۳۶۵، ۳۷۲، ۳۷۵، ۳۷۷، ۳۹۲، ۴۰۳، ۴۲۷، ۴۳۶، ۴۵۲، ۴۶۲.

۹. اصل دیریکله

اگر در k لانه، بیش از nk خرگوش باشند، آن وقت، دست کم در یک لانه، بیش از n خرگوش وجود دارد. این اصل در مساله‌های مختلفی مورد استفاده قرار می‌گیرد که، در آن‌ها، باید «وجود» عضو یا عددی را ثابت کرد.

چند گزاره شبیه «اصل دیریکله» را، که به همان اندازه روشن‌اند و در مساله‌های هندسی و جبری کاربرد دارند، می‌آوریم. اگر مجموع مساحت‌های چند شکل کمتر از S باشد، با آن‌ها نمی‌توان سطحی به مساحت S را پوشاند. اگر روی پاره‌خط راستی به طول واحد، چند پاره‌خط راست با مجموع طول‌های L قرار دهیم، آن وقت نقطه‌ای پیدا می‌شود که با بیش از $[L]$ عدد از این پاره‌خط‌ها پوشیده نشده است. اگر واسطه حسابی چند عدد، از a بزرگتر باشد، آن وقت، دست کم یکی از این عددها، از a بزرگتر است. مساله‌های ۳، ۴، ۱۲، ۳۷، ۶۷، ۷۲، ۷۸، ۸۷، ۹۱، ۱۱۰، ۱۶۶، ۲۲۰، ۳۴۲، ۳۶۷، ۴۴۴، ۴۴۶.

۱۰. آرایش‌ها

روش اصلی در حل مساله‌های مربوط به تعداد ترکیب‌های مختلف عضوهای یک مجموعه محدود، عبارت است از برقراری تناظر بین مجموعه‌هایی که با شرط‌های مختلف داده شده‌اند.

مثلاً، مجموعه همه گروه‌های مرتب شامل n واحد و صفر را (از این گروه‌ها به تعداد 2^n وجود دارد) می‌توان در تناظر با مجموعه همه زیرمجموعه‌های یک مجموعه n عضوی قرار داد. مجموعه این گروه‌ها، وقتی که شامل k واحد باشد، متناظر است با مجموعه همه زیرمجموعه‌های k عضوی از یک مجموعه n عضوی. تعداد همه این گروه‌ها، برابر است با

$$C_n^k = \frac{n!}{k!(n-k)!} = \frac{n(n-1)\dots(n-k+1)}{1 \times 2 \times \dots \times k}$$

که به ازای $k=2$ ، برابر با تعداد زوج عضوهای نامرتب از مجموعه مفروض

$$C_n^2 = \frac{1}{2}n(n-1)$$

تعداد تبدیل‌های (مرتب) در یک مجموعه n عضوی، برابر است با

$$n! = 1 \times 2 \times \dots \times n$$

مسئله‌های ۵۲، ۶۱، ۷۶، ۱۱۷، ۱۳۶، ۲۱۵، ۲۳۱، ۲۴۶، ۳۰۱،

$$۳۶۱، ۴۳۹، ۴۴۲.$$

۱۱. گراف‌ها. نگاشت‌ها

اگر عضوهای یک مجموعه را به کمک نقطه‌ها مشخص کنیم و برخی از زوج نقطه‌ها را به وسیله پاره‌خط‌هایی به هم وصل کنیم، تصویری برای یک شاخه از ریاضیات، که گراف نامیده می‌شود، به دست می‌آید: نقطه‌ها (یعنی عضوهای مجموعه) را راس‌ها و پاره‌خط‌های راست (یا کمان‌ها) را یال‌های گراف گویند. گرافی که از هر راس آن بتوان به هر مسیر دیگری، شامل یال‌ها، وارد شد، گراف مرتبط نامیده می‌شود. هر مسیر بسته در طول یال‌های گراف را، یک دور می‌نامند. در گراف مرتب‌تبی که بدون دور باشد (که در این حالت، آن را دخت می‌گویند)، تعداد راس‌ها، یکی بیشتر از تعداد یال‌هاست (مسئله ۸ را ببینید). اگر همه دورهای گراف، طولی زوج داشته باشند (یعنی از تعداد زوجی یال عبور کنند)، آن وقت راس‌های آن را می‌توان طوری به دور رنگ درآورد که راس‌های هم‌رنگ به وسیله یک یال به هم مربوط نباشند؛ چنین گرافی را، دوبخشی گویند.

وقتی که یال‌های گراف، دارای جهت باشند، با گراف توجیه شده یا گراف جهت‌دار سروکار داریم. هر نگاشت f از مجموعه متناهی A بر خودش، یک گراف توجیه شده می‌دهد که از هر راس $a \in A$ آن، پیکانی به سمت راس $f(a)$ وجود دارد (در ضمن، ممکن است گره‌هایی هم وجود داشته باشد: پیکان‌هایی که از a به a می‌روند؛ این‌ها، نقطه‌های بی‌حرکت نگاشت

f هستند). اگر f در تناظر یک به یک باشد، آن وقت گراف به دورها (گره‌ها) تجزیه می‌شود.

یکی از نمونه‌های یک گراف پیچیده، طرح شبکه تلفنی است (مسئله ۱۵۸ را ببینید).

گراف‌هایی هم مورد بررسی قرار می‌گیرند که یال‌ها یا راس‌های آن‌ها را رنگ کرده‌اند و یا با عددهایی مشخص شده‌اند.

مسئله‌های ۸، ۷۲، ۷۹، ۱۱۱، ۱۲۳، ۱۲۶، ۱۶۳، ۱۷۶، ۱۸۳، ۱۹۶، ۲۴۵، ۲۷۱، ۲۹۵، ۲۹۶، ۳۱۵، ۳۱۷، ۴۲۱، ۴۶۱.

۱۲. رنگ آمیزی. مسئله‌های مربوط به شبکه‌ها

در مسئله‌های مربوط به گراف‌ها، اغلب تصور زوج یا فرد بودن، اهمیت دارد. مثلاً تعداد راس‌هایی که تعداد فردی یال به آن‌ها متصل می‌شود، عددی زوج است (مسئله ۱ را هم ببینید). تصور مشابهی، برای مسئله‌های دیگر لازم است، مثلاً برای حل این مسئله معمول: آیا می‌توان صفحه شطرنجی 8×8 را، که دو خانه متقابل دو گوشه آن حذف شده‌است، با مستطیل‌های 1×2 پوشانند؟ برای حل این مسئله، کافی است توجه کنیم که، هر مستطیل 1×2 ، دو خانه با رنگ‌های مختلف را می‌پوشاند؛ در حالی که دو خانه روبرو در دو گوشه صفحه شطرنجی از یک رنگ‌اند. گاهی، برای حل مسئله، لازم می‌شود از تعداد رنگ‌های بیشتری استفاده کنیم:

مسئله‌های ۱، ۱۷، ۳۳، ۴۹، ۶۱، ۷۲، ۸۵، ۱۳۲، ۱۳۳، ۱۴۲، ۱۴۳، ۱۵۴، ۱۸۴، ۲۳۵، ۲۴۷، ۲۶۲، ۳۳۳، ۳۶۴، ۳۷۴، ۴۱۳.

به جز استفاده از زوج یا فرد بودن و رنگ کردن، در مسئله‌های مربوط به صفحه‌های شطرنجی و دیگر شبکه‌های مسطحه و فضایی، اغلب از تصاویر هندسی و روش مختصاتی هم می‌توان استفاده کرد. صفحه شطرنجی را می‌توان همچون یک صفحه عددی در نظر گرفت که، در آن، گره‌های شبکه، دارای مختصاتی درست‌اند و یا مربعی شامل p^2 گره را مورد توجه قرار داد که، مختصات آن‌ها، در تقسیم بر p ، به باقی‌مانده‌های $(x$ و $y)$ می‌رسند.

مساله‌های ۹۱، ۹۶، ۱۱۱، ۱۸۱، ۱۹۹، ۲۰۷، ۲۰۸، ۲۲۹، ۲۶۵،
 ۲۷۵، ۲۹۵، ۳۰۴، ۳۱۴، ۳۴۹، ۳۶۲، ۳۹۷، ۴۱۶، ۴۲۵،
 ۴۳۳، ۴۴۴، ۴۴۶، ۴۵۷.

۱۳. عمل‌ها و تغییر ناپذیرها

در مساله‌هایی که باید روشن کنیم: آیا می‌توان به کمک عمل‌های مفروضی، از یک موقعیت به موقعیت دیگری رسید، اغلب بهتر است «تغییر ناپذیرها» را پیدا کرد، یعنی عنصرهایی را که ضمن این عمل‌ها، تغییر نمی‌کنند. در ضمن، اگر تعداد «تغییر ناپذیرها» در دو مجموعه برابر نباشند، به معنای آن است که تبدیل یکی به دیگری ممکن نیست. در مساله‌های مربوط به عددهای درست یا دیگر «چیزهای» ناپیوسته، اغلب می‌توان باقی‌مانده تقسیم بر ۲ را، به عنوان «تغییر ناپذیر» در نظر گرفت (و یا باقی‌مانده تقسیم بر یک عدد طبیعی دیگر).

اگر همه عمل‌های انجام شده معکوس پذیر باشند، آن وقت می‌توان همه مجموعه عضوایی را، که عمل‌ها را در مورد آن‌ها انجام داده‌ایم، به صورت دودسته هم‌ارز در نظر گرفت (دو عضو را هم‌ارز گوئیم، وقتی که بتوان یکی از آن‌ها را، ضمن انجام عمل‌ها، از دیگری به دست آورد).

مساله‌های ۱۰۵، ۱۵۴، ۲۱۴، ۲۳۳، ۲۶۰، ۲۷۶، ۳۲۱، ۴۲۵، در مساله‌هایی که باید تعداد عمل‌ها را تخمین زد و یا ثابت کرد که این عمل‌ها را، نمی‌توان به صورت نامتناهی ادامه داد، اغلب بهتر است درباره تابعی بیندیشیم که، به ازای هر عمل، صعودی (یا نزولی) می‌شود.
 مساله‌های ۵، ۷، ۲۱، ۴۴، ۱۵۱، ۱۹۶، ۲۷۱، ۲۸۳، ۴۰۹.

۱۴. ترتیب رقم‌ها و عددهای درست،

تبدیل‌های آن‌ها. مسابقه‌ها.

برای حل مساله‌های مربوط به دنباله‌های متناهی از عددهای درست، حرف‌ها یا مهره‌ها، که آن‌ها را روی محیط دایره یا در یک جدول قرار داده‌ایم، می‌توان از شیوه‌های مختلف مربوط به بخش پذیری، آنالیز ترکیبی، ارزیابی یا نابرابری‌ها، و استقرای ریاضی استفاده کرد.

مساله‌های ۴، ۳۷، ۳۹، ۸۷، ۱۱۷، ۱۴۳، ۱۵۴، ۱۵۶، ۱۸۱، ۲۰۰،
 ۲۲۱، ۲۲۴، ۲۲۹، ۲۳۱، ۲۳۸، ۲۷۵، ۲۸۱، ۳۰۷،
 ۳۲۱، ۳۲۳، ۳۳۷، ۳۴۰، ۳۴۵، ۳۵۰، ۳۸۵، ۳۹۰، ۳۹۱،
 ۴۰۹، ۴۱۳، ۴۳۲، ۴۳۵، ۴۴۲، ۴۵۶.

درباره مسابقه‌ها، میزان امتیازها و مقام شرکت کنندگان:

مساله‌های ۲۸، ۱۰۸، ۱۲۶، ۱۷۹، ۲۱۸، ۳۱۷، ۴۴۱.

۱۵. هندسه مسطحه

تقریباً در هر المپیاد با مساله‌های هندسه مسطحه مواجه می‌شویم.

الف) درباره چندضلعی‌های منتظم:

مساله‌های ۲۰، ۹۹، ۱۰۳، ۱۲۷، ۲۲۶، ۳۹۸، ۴۰۸، ۴۳۴، ۴۴۳.

ب) درباره مفهوم «مکان هندسی»:

مساله‌های ۶، ۱۲، ۱۴، ۱۸، ۲۰، ۳۱، ۴۰، ۶۰، ۶۹، ۷۸، ۸۲.

۱۵۷، ۲۰۲، ۲۰۷، ۲۱۳، ۲۷۰، ۴۲۴.

ج) تبدیل‌های هندسی (دوران، انتقال موازی، تشابه و ترکیب‌های

آن‌ها):

مساله‌های ۶، ۲۲، ۴۵، ۴۷، ۷۳، ۱۰۱، ۱۱۲، ۱۴۰، ۱۴۷، ۱۶۵.

۱۸۲، ۱۹۸، ۲۰۵، ۲۲۲، ۲۵۳، ۲۵۹، ۲۹۸، ۳۰۹، ۳۱۵.

۳۷۳، ۳۹۹، ۴۱۴، ۴۶۰.

د) مساله‌هایی که در آن، صحبت بر سر مساحت شکل است (و یا از

مساحت، به عنوان یک ابزار کمکی استفاده می‌شود):

مساله‌های ۱۲، ۱۳، ۲۳، ۲۹، ۵۳، ۵۵، ۷۸، ۱۰۶، ۱۴۷، ۱۵۲.

۱۸۶، ۲۰۴، ۲۶۱، ۲۵۵، ۲۸۵، ۳۱۲، ۳۲۷، ۳۶۳، ۳۶۶.

۳۸۴، ۳۹۵، ۴۱۵، ۴۲۸، ۴۵۸.

۱۶. هندسه فضایی

در حل مساله‌ها، اغلب پیدا کردن تصویر شکل بر صفحه (یا خط راست)

مفید است. از قضیه‌ای هم که در کتاب‌های درسی وجود ندارد، یاد

می‌کنیم: در هر کنج سه وجهی، هر زاویه مسطحه از مجموع دو زاویه دیگر

کوچکتر است.

مسئله‌های ۵۳، ۷۰، ۸۰، ۸۲، ۱۰۴، ۱۲۱، ۱۵۰، ۱۸۸، ۲۳۴، ۲۴۱، ۲۵۵، ۲۶۶، ۲۹۹، ۳۲۶، ۳۴۸، ۳۵۸، ۳۹۴، ۴۱۷، ۴۶۱.

۱۷. هندسه ترکیبی

منظور ما، ارزیابی‌های مختلف نسبت به جابه‌جایی‌ها، پوشش‌ها و ترکیب‌های مختلف شکل‌هاست. در این جا، از کلی‌ترین ویژگی‌های مربوط به استقرار شکل در صفحه (یا در فضا) استفاده می‌شود.

از بین این ویژگی‌ها، قضیهٔ ژردان را می‌آوریم: هر خط شکسته بسته‌ای که با خودش متقاطع نباشد، صفحه را به دو بخش درونی و بیرونی تقسیم می‌کند؛ در ضمن، هر مسیری که از نقطه‌ای درونی به نقطه‌ای بیرونی برود، این خط شکسته را قطع می‌کند و دو نقطهٔ هر حوزة را می‌توان با مسیری بهم وصل کرد که خط شکسته را قطع نکند.

تعریف مجموعهٔ محدب را به یاد می‌آوریم: به مجموعه‌ای محدب گویند که، علاوه بر نقطه‌ها، شامل همهٔ پاره‌خط‌های راستی باشد که این نقطه‌ها را دوبه‌دو بهم وصل می‌کنند. بد کوچکترین مجموعهٔ محدبی که شامل یک شکل باشد، پوش محدب آن شکل گویند؛ پوش محدب یک مجموعهٔ متناهی، عبارت است از یک چندضلعی (و در فضا، یک چندوجهی) که راس‌های آن، در برخی نقطه‌های مفروض باشند.

همراه با شکل مفروض، خوب است همسایگی r آن را هم در نظر بگیریم: مجموعه‌ای از نقطه‌ها که کمترین فاصلهٔ از آن‌ها تا نقطه‌های شکل کمتر از r باشد؛ دو شکل (در حالت خاص، نقطه‌ها) تنها وقتی به فاصله‌ای که از $2r$ کمتر نیست قرار دارند که، همسایگی‌های r آن‌ها، متقاطع نباشند (مسئله‌های ۱۲، ۸۱).

مسئله‌های ۲۷، ۴۹، ۵۳، ۶۴، ۸۶، ۱۴۷، ۱۵۵، ۱۵۶، ۱۵۷، ۱۶۴، ۱۸۸، ۲۰۲، ۲۱۱، ۲۱۵، ۲۲۶، ۲۲۷، ۲۲۹، ۲۳۵، ۲۳۰، ۲۳۷، ۲۳۹، ۲۴۹، ۲۵۵، ۲۷۷، ۳۱۴، ۳۲۴، ۳۳۸، ۳۵۱، ۴۰۶، ۴۴۸، ۴۶۱.

۱۸. نابرابری‌های هندسی، ارزیابی‌ها، اکستره‌مها

از بین قضیه‌های زیادی که برای اثبات این نابرابری‌های هندسی به کار می‌روند، چند قضیه را که کاربرد گسترده‌تری دارند، می‌آوریم: در هر مثلث، هر ضلع از مجموع دو ضلع دیگر کوچکتر است (نابرابری مثلثی). یک زاویهٔ مثلث، کوچکتر، برابر و یا بزرگتر از 90° درجه است، وقتی که، مجذور ضلع روبه‌رو به آن، کوچکتر، برابر یا بزرگتر از مجموع مجذورهای دو ضلع مجاور به آن باشد. طول تصویر یک پاره‌خط راست بر صفحه یا خط راست، از طول خود پاره‌خط راست، بزرگتر نیست. مساحت تصویر یک چندضلعی بر صفحه، از مساحت خود چندضلعی بیشتر نیست.

مسئله‌های ۲۳، ۲۹، ۳۲، ۴۱، ۶۲، ۷۰، ۷۳، ۷۸، ۸۲، ۸۴، ۸۶، ۱۰۴، ۱۱۵، ۱۲۱، ۱۲۴، ۱۲۷، ۱۳۱، ۱۳۴، ۱۳۵، ۱۴۰، ۱۶۷، ۱۸۵، ۱۹۱، ۱۹۲، ۱۹۳، ۲۰۲، ۲۰۴، ۲۰۶، ۲۱۳، ۲۲۲، ۲۲۵، ۲۶۱، ۲۶۶، ۲۶۹، ۲۸۲، ۲۹۰، ۲۹۷، ۲۹۹، ۳۰۲، ۳۱۸، ۳۲۰، ۳۳۴، ۳۴۸، ۳۵۵، ۳۵۶، ۳۶۸، ۳۸۸، ۳۹۴، ۴۳۱، ۴۳۸.

۱۹. بردارها

به جز عمل‌های عادی روی بردارها (جمع، تفریق و ضرب در یک عدد)، گاهی مفید است از ضرب عددی (اسکالر) بردارها هم استفاده کنیم:

$$\mathbf{uv} = |\mathbf{u}||\mathbf{v}|\cos\alpha, \quad \alpha = (\widehat{\mathbf{u}, \mathbf{v}})$$

برای n نقطهٔ A_1, A_2, \dots, A_n از صفحه (یا فضا)، نقطهٔ منحصر به فرد O وجود دارد (مرکز ثقل)، به نحوی که

$$\vec{OA_1} + \vec{OA_2} + \dots + \vec{OA_n} = \mathbf{0}$$

مسئله‌های ۶، ۱۳، ۱۴۳، ۱۹۳، ۲۰۷، ۲۲۲، ۲۲۵، ۲۳۴، ۲۷۰، ۲۷۴، ۲۸۰، ۲۹۳، ۳۱۵، ۳۳۶، ۳۶۶، ۳۷۳، ۴۰۴، ۴۳۴، ۴۵۷.

۲۰. ارزیابی وجست وجوی حداقل و حداکثر

در مساله‌های مربوط به عددها و جدول‌ها

بسیاری از مساله‌های المپیادها، به مقایسه مقدار عددها از یک گروه محدود، نقطه‌های واقع بر خط راست، ارزیابی مجموع‌ها، تفاضل‌ها و دیگر تابع‌های مربوط به گروه عددها و یا جدول‌ها، مربوط می‌شوند.

مساله‌های ۵۶، ۷۷، ۱۲۷، ۲۳۲، ۲۵۲، ۲۸۳، ۳۴۴، ۳۵۴، ۳۶۹، ۳۷۷، ۴۵۳.

گاهی در چنین مساله‌هایی مفید است.

الف) کوچکترین یا بزرگترین عدد گروه را در نظر بگیریم:

مساله‌های ۲۶، ۴۴، ۷۲، ۱۰۹، ۱۲۶، ۱۲۸، ۱۵۶، ۱۶۰، ۱۶۳، ۲۰۲، ۲۱۹، ۲۴۳، ۲۴۶، ۲۴۸، ۲۸۳، ۳۳۷، ۳۴۳، ۳۸۰، ۴۰۱، ۴۰۹.

ب) عددهای گروه را بر حسب مقدار آن‌ها مرتب کنیم:

مساله‌های ۳۴، ۶۵، ۷۵، ۱۵۳، ۲۴۵، ۲۵۰، ۳۴۶، ۴۱۰.

۲۱. دنباله‌ها

دنباله x_n را متناوب گویند، وقتی که $x_{n+1} = x_n$ ، $n \in \mathbf{N}$ (عدد طبیعی n ، دوره تناوب دنباله است). در بسیاری از مساله‌ها، با دنباله‌های برگشتی روبرو می‌شویم؛ دنباله x_n وقتی برگشتی است که، برای آن، داشته باشیم؛ $x_{n+1} = f(x_n)$ ، در آن، f یک تابع است؛ گاهی هم جمله‌های دنباله (از جمله $(k+1)$) به کمک k جمله قبل از آن معین می‌شود. به عنوان نمونه، می‌توان از دنباله فیبوناچی نام برد.

۱، ۱، ۲، ۳، ۵، ۸، ۱۳، ۲۱، ۳۴، ۵۵، ...

که در آن، هر جمله برابر است با مجموع دو جمله قبل از آن. در ارزیابی دنباله‌ها، اغلب روش استقرای ریاضی به کار می‌آید.

مساله‌های ۱۱، ۱۵، ۲۵، ۳۶، ۹۰، ۱۰۰، ۱۱۳، ۱۲۳، ۲۵۱، ۲۵۵، ۲۵۷، ۲۶۷، ۲۷۳، ۳۰۳، ۳۱۳، ۳۲۸، ۳۵۶، ۴۰۲، ۴۰۵، ۴۵۹.

عدد a را حد دنباله x_n گویند، وقتی که برای هر $\epsilon > 0$ ، بتوان N

را طوری پیدا کرد که، برای هر $n > N$ ، نابرابری $|x_n - a| < \epsilon$ برقرار باشد.

مساله‌های ۲۳۹، ۲۶۸، ۳۰۰، ۳۸۹، ۴۵۱.

۲۲. بازی‌ها، تعقیب، برنامه‌ریزی

در حل مساله‌هایی که، در آن‌ها، صحبت بر سر رسیدن به هدفی، یا انجام حرکت‌های متوالی است (به خصوص، در مورد هایی که باید روشن کرد، چه کسی امکان برد بازی را دارد، باید برنامه قانونی برای حرکت‌ها تنظیم کرد که، با اجرای آن، رسیدن به هدف تضمین شود؛ در این گونه مساله‌ها، در ضمن، باید ثابت کرد که، هر حرکت دلخواهی که رقیب داشته باشد، موفقیت طرف مورد نظر ما، حتمی است.

مساله‌های ۱۰، ۵۷، ۶۰، ۷۱، ۸۳، ۹۱، ۱۱۰، ۱۱۶، ۱۲۵، ۱۶۸، ۱۷۴، ۱۹۹، ۲۰۶، ۲۴۲، ۲۵۰، ۲۵۶، ۲۶۲، ۲۸۳، ۳۳۰، ۳۷۶، ۴۵۵.

۲۳. مثال‌ها و ساختمان‌های جالب

در بسیاری از مساله‌ها، دشوارترین بخش حل، نه اثبات، بلکه ساختن نمونه‌ای غیر عادی است، که با شرط مساله سازگار باشد و یا آن را نقض کند. مساله‌های ۱۲۳، ۱۵۶، ۲۰۲، ۲۰۸، ۲۳۰، ۲۳۱، ۲۴۴، ۲۵۷، ۲۶۳، ۳۰۰، ۳۷۱، ۳۹۸، ۴۰۱، ۴۱۶، ۴۲۳، ۴۴۴، ۴۴۶، ۴۵۶، ۴۶۰.

مساله‌هایی هم که، در آن‌ها، پیدا کردن و بررسی مثال، با گام‌های زیادی به دست می‌آید، به همین مبحث مربوط اند (و اغلب، استفاده از روش استقرای ریاضی به کار می‌آید).

مساله‌های ۶۴، ۱۴۴، ۱۵۸، ۱۸۳، ۲۰۰، ۲۱۰، ۲۳۸، ۲۷۲، ۲۸۱، ۴۰۵.

فضا را به $1 + (n^2 + 5n) \frac{1}{6}$ بخش تقسیم می کنند.

۵. (a) صفحه، به وسیله چند دایره، به بخش هایی تقسیم شده است. ثابت کنید، هر بخش را می توان با یکی از دورنگ موجود، طوری رنگ کرد که، هر دو بخشی که با یک کمان از هم جدا شده اند، رنگ های مختلفی داشته باشند.

(b) چند «سه شاخه» روی صفحه ای قرار دارند (منظور از «سه شاخه»، شکلی است شامل سه نیم خط راست با راس مشترک). ثابت کنید، بخش هایی را که به وسیله این «سه شاخه ها» روی صفحه پدید می آیند، می توان با سه رنگ طوری رنگ کرد که، هر دو بخشی که در یک پاره خط راست یا یک نیم خط راست مشترک اند، رنگ های مختلفی داشته باشند.

۶. در جدولی که ۳ سطر و n ستون دارد، مهره هایی از سه رنگ را به ترتیب دلخواه قرار داده ایم: n مهره سفید، n مهره قرمز و n مهره آبی. ثابت کنید می توان مهره ها را در سطرها طوری قرارداد که، در هر ستون، از هر سه رنگ داشته باشیم.

۷. روی محیط دایره ای، n نقطه - سیاه و قرمز - قرار داده ایم. ثابت

کنید، حداکثر می توان $2 - \frac{3n}{2}$ وتر طوری در دایره رسم کرد که دو

انتهای هر یک از آن ها دو نقطه مفروض با رنگ های مختلف باشند و، در ضمن، هیچ دو وتری در دایره با هم برخورد نکنند.

۸. ثابت کنید، هر عدد درست غیر منفی را، تنها به یک طریق می توان

بسه صورت $x + \frac{1}{y}(y^2 + y)$ نوشت که، در آن، x و y عددهای درست و غیر منفی و $x \leq y$ است.

۹. ثابت کنید، اگر $\alpha + \frac{1}{\alpha}$ عددی درست باشد، آن وقت عدد

$\alpha^n + \frac{1}{\alpha^n}$ به ازای هر عدد طبیعی n عددی درست است.

۱۰. n نفر در مسابقه تنیس شرکت کرده اند. هر دو نفر یک بار با هم

مساله هایی برای تمرین

در این جا نزدیک به صد مساله، برای تمرین آورده ایم. این مساله ها را، در اساس به ردیف بحث های ضمیمه تنظیم کرده ایم. بعضی از این مساله ها، از بین مساله هایی انتخاب شده اند که برای المپیادها پیشنهاد شده بود. برخی دیگر از المپیادهای شهرها و یا جمهوری ها برداشته شده اند. مساله هایی هم از المپیادهای بلغارستان و لهستان در این جا آورده ایم.

۱. درستی این برابری را، برای هر عدد طبیعی n ، ثابت کنید:

$$1 \times 1! + 2 \times 2! + \dots + n \times n! = (n+1)!$$

۲. ثابت کنید، برای هر عدد طبیعی n ، داریم:

$$1^3 + 2^3 + \dots + n^3 = (1 + 2 + \dots + n)^2$$

۳. این نابرابری را، برای $n > 1$ ثابت کنید:

$$\frac{1}{2} + \frac{1}{3} + \frac{1}{4} + \dots + \frac{1}{2^n} > \frac{n}{2}$$

۴. (a) n خط راست روی یک صفحه اند، به نحوی که هیچ دو تایی

با هم موازی نیستند و هیچ سه تایی از یک نقطه نمی گذرند. این n خط راست صفحه را به چند بخش تقسیم می کنند؟

(b) ثابت کنید که، n صفحه در حالت کلی (وقتی که هیچ سه صفحه ای

موازی با یک خط راست نباشند و هیچ چهار صفحه ای از یک نقطه نگذرند)،

روبه‌رومی شوند. ثابت کنید، مسابقه می‌تواند طوری به پایان برسد که نفر k ام از نفر $(k+1)$ ام ($k=1, 2, \dots, n-1$) برده باشد.

۱۱. در شهری N نفر زندگی می‌کنند که، هر دو نفر آن‌ها، یا با هم دوست‌اند و یا دشمن یکدیگرند. در هر روز ممکن است، حداکثر برای یک نفر، «زندگی تازه‌ای» آغاز شود؛ با همهٔ دوستان خود دعوا کند و با همهٔ دشمنان خود دوست شود. می‌دانیم، هر سه نفر از مردم این شهر، می‌توانند دوست شوند، ثابت کنید، همهٔ مردم این شهر، می‌توانند با هم دوست شوند.

۱۲. (a) بزرگترین توان عدد ۳ را طوری پیدا کنید که، عدد $۲۳^n + ۱$ بر آن بخش‌پذیر باشد.

(b) ثابت کنید، عددی که در دستگاه دهدهی با ۳^n رقم برابر واحد نوشته شده است، بر ۳^n بخش‌پذیر و بر ۳^{n+1} بخش‌ناپذیر است.

۱۳. ثابت کنید، به کمک n وزنه با وزن‌های ۱، ۳، ۹، ...، ۳^{n-1} گرم، می‌توان هر جسم به وزن $M \leq \frac{1}{4}(3^n - 1)$ گرمی را با ترازو وزن کرد (M ، عددی درست است؛ از وزنه‌ها در هر دو کفهٔ ترازو می‌توان استفاده کرد).

۱۴. پاره‌خط راستی به طول ۳^k را به سه بخش برابر تقسیم کرده‌ایم. بخش‌های اول و سوم را در نظر می‌گیریم و، هر کدام از آن‌ها را، دوباره به سه بخش تقسیم می‌کنیم؛ باز هم بخش‌های اول و سوم را در هر کدام از آن‌ها در نظر می‌گیریم و، هر کدام را، به سه بخش تقسیم می‌کنیم و غیره، تا آن‌جا که پاره‌خط‌هایی به طول واحد به دست آید. نقطه‌های تقسیم را در روی پاره‌خط‌های راستی که مورد تقسیم قرار گرفته‌اند، نشان می‌گذاریم. ثابت کنید، برای هر d ، که از ۳^n کوچکتر باشد، می‌توان دو نقطهٔ نشان‌دار پیدا کرد که فاصلهٔ بین آن‌ها، برابر d باشد.

۱۵. (a) درستی این برابری را ثابت کنید:

$$(1+2)(1+2^2)(1+2^4)(1+2^8)\dots(1+2^{2^n}) = 2^{2^{n+1}} - 1$$

(b) ثابت کنید، هر دو عدد، از دنبالهٔ $۱، ۲^۲، \dots، ۱۷، ۵، ۳$ ، نسبت به هم اول‌اند.

۱۶. ۱۵ عدد اول، يك تصاعد حسابی ساخته‌اند. ثابت کنید، قدرنسبت تصاعد از ۳۰۰۰۰ بزرگتر است.

۱۷. عدد طبیعی x را پشت‌سرهم بر عددهای از ۲ تا $x-1$ تقسیم کرده‌ایم و باقی‌مانده‌های حاصل از تقسیم‌ها را نوشته‌ایم. x را طوری پیدا کنید که، مجموع همهٔ این باقی‌مانده‌ها، برابر x شود.

۱۸. ثابت کنید، حاصل ضرب رقم‌های هر عدد بزرگتر از ۱۰۰، از $\frac{۲۷}{۳۷}$ این عدد تجاوز نمی‌کند.

۱۹. ۹۹ رقم ۹ را به ردیف نوشته‌ایم. ثابت کنید، می‌توان درست ۱۰۰ رقم درست راست این عدد نوشت، به نحوی که عدد ۱۹۹ رقمی حاصل، مجذور کامل يك عدد درست باشد.

۲۰. ثابت کنید، عددهای گنگ α و β وجود دارند، به نحوی که α^β ، عددی گویا باشد.

۲۱. α و β عددهایی گنگ‌اند و می‌دانیم $\frac{1}{\alpha} + \frac{1}{\beta} = 1$. ثابت کنید، در بین عددهای $[n\alpha]$ و $[m\beta]$ (که در آن‌ها، n و m ، همه عددهای درست هستند)، به هر عدد درست، درست یکبار برخورد می‌کنیم.

۲۲. ثابت کنید، n رقم اول بعد از ممیز، در بسط دهدهی عدد $(\sqrt{۲۶} + ۵)^n$ یا همه برابر صفرند و یا همه برابر ۹.

۲۳. (a) ثابت کنید، اگر $\sin\varphi$ و $\cos\varphi$ عددهایی گویا باشند، آن وقت $\sin n\varphi$ و $\cos n\varphi$ هم، برای هر عدد طبیعی n ، گویا هستند.

(b) ثابت کنید، برای هر عدد طبیعی N ، می‌توان N نقطه را بر صفحه طوری پیدا کرد که، هیچ سه نقطه‌ای روی يك خط راست نباشد، در ضمن، فاصلهٔ بین هر دو تا از آن‌ها، برابر با عددی درست باشد.

۲۴. a و b را طوری پیدا کنید که هر يك از سه جمله‌ای‌های

$$x^2 - ax + b \quad \text{و} \quad x^2 - bx + a$$

دارای ریشه‌های مختلف مثبت باشند.

۲۵. ثابت کنید، اگر عدد سه رقمی \overline{abc} اول باشد، عدد $b^2 - 4ac$

نمی‌تواند مجذور کامل یک عدد درست باشد.

۲۶. ثابت کنید، اگر $a^2 + pa + q = 0$ و $b^2 - pb - q = 0$

آن وقت معادله $x^2 + 2px + q = 0$ ، دارای ریشه‌ای بین a و b است $(q \neq 0)$.

۲۷. ثابت کنید، برای هر دو عدد p و q ، مجموع طول‌های پاره‌خط -

هایی از محور Ox ، که روی آن‌ها نابرابری $|x^2 + 2px + 2q| \leq 2$ برقرار است، از ۴ تجاوز نمی‌کند.

۲۸. همهٔ عددهای درست n را پیدا کنید که، به ازای هر یک از آن‌ها:

(a) $n^2 + 1$ بر $n + 5$ ؛ (b) $n^5 + 3$ بر $n^2 + 1$ بخش پذیر باشد.

۲۹. همهٔ چند جمله‌ای‌های $F(x)$ را پیدا کنید که، برای آن‌ها، به

ازای هر x و y داشته باشیم:

$$F(x+y) = F(x) + F(y) + 3xy(x+y)$$

۳۰. همهٔ شرکت کنندگان در دو راه پیمایی با هم جمع شدند (بعضی‌ها

در هر دو راه پیمایی شرکت داشتند و برخی دیگر، تنها در یک راه پیمایی).

در راه پیمایی اول، ۶۰٪ افراد مرد بودند و در راه پیمایی دوم ۷۵٪ ثابت کنید، در اجتماع آن‌ها، تعداد مردها، کمتر از تعداد زن‌ها نیست.

۳۱. کدام یک بزرگتر است: $\sqrt{1001} + \sqrt{999}$ یا $2\sqrt{1000}$ ؟

۳۲. ثابت کنید، برای هر n ، داریم:

$$\left(1 + \frac{1}{3}\right) \left(1 + \frac{1}{8}\right) \left(1 + \frac{1}{15}\right) \dots \left(1 + \frac{1}{n^2 - 1}\right) < 2$$

۳۳. ثابت کنید:

$$\frac{1}{15} < \frac{1}{2} \cdot \frac{3}{4} \cdot \frac{5}{6} \dots \frac{99}{100} < \frac{1}{10}$$

۳۴. $x_1 + x_2 + \dots + x_k = 0$ ؛ کوچکترین m و بزرگترین M

عدد، از بین عددهای x_1, x_2, \dots, x_k است. ثابت کنید.

$$x_1^2 + x_2^2 + \dots + x_k^2 \leq -kmM$$

۳۵. مجموع عددهای غیر منفی a و b و c برابر واحد است. ثابت

کنید:

$$a^2b + b^2c + c^2a \leq \frac{4}{27}$$

۳۶. روی محیط دایره‌ای n عدد قرار داده‌ایم که، مجموع آن‌ها،

عددی مثبت است. ثابت کنید، می‌توان از بین آن‌ها عددی را انتخاب کرد

که مثبت باشد و، در ضمن، از مجموع آن با عدد بعدی، با دو عدد بعدی، ...،

با $n - 2$ عدد بعدی، عددهایی مثبت به دست آید (حرکت روی محیط دایره

را، در جهت عکس حرکت عقربه‌های ساعت بگیرد).

۳۷. ثابت کنید، برای هر عدد طبیعی n ، می‌توان عددی به صورت

$$111 \dots 100 \dots 0$$

پیدا کرد که بر n بخش پذیر باشد. (عددها در مبنای دهدهی نوشته شده‌اند).

۳۸. در گروهی ۳۰ نفر وجود دارند. به هر فرد، درست k نفر از

این گروه، علاقه‌مند است. کمترین مقدار k را پیدا کنید که، به ازای آن،

بتوان حکم کرد که: حتماً دو نفر پیدا می‌شوند که به یکدیگر علاقه‌مندند.

۳۹. عدد α مفروض است. ثابت کنید، برای هر عدد طبیعی N ،

می‌توان عدد درست n را طوری پیدا کرد که $0 \leq n \leq N$ و، در ضمن،

اختلاف $n\alpha$ با عدد درست، کمتر از $\frac{1}{N}$ باشد.

۴۰. روی زمین ۵ میلیارد انسان زندگی می‌کنند که کمتر از ۱٪ آن‌ها،

بیش از ۱۰۰ سال دارند. ثابت کنید، می‌توان ۱۰۰ نفر را پیدا کرد که با هم

و در جریان یک ثانیه به دنیا آمده‌اند.

۴۱. ۳۰ سکهٔ ۱، ۲، ۳ و ۵ کوپکی داریم. ثابت کنید از آن‌ها

می‌توان چند سکه به مجموع ۳۰ کوپک انتخاب کرد.

۴۲. روی يك نوار بلند کاغذی دنباله‌ای از ۳۶۰ رقم به صورت

۱۲۳ ۱۲۳ ۱۲۳ ... ۱۲۳ ۱۲۳

نوشته‌ایم. این نوار را حداکثر به چند بخش می‌توان تقسیم کرد؟ بد نحوی که، همه عددهای بخش‌های مختلف نوار، باهم فرق داشته باشند؟

۴۳. (a) ثابت کنید، از بین n عدد طبیعی کوچکتر از $1-2n$ ، می‌توان دو عدد پیدا کرد، به نحوی که یکی بردیگری بخش پذیر باشد.

(b) ثابت کنید، از بین n عدد طبیعی مختلف کوچکتر از $2-2n$ ، می‌توان سه عدد طوری انتخاب کرد که یکی از آنها، برابر با مجموع دو عدد دیگر باشد.

۴۴. حداکثر چند نقطه می‌توان روی پاره خط راست به طول واحد قرارداد تا روی هر پاره خط راست به طول l واقع بر پاره خط اصلی، بیش از $1+1000l$ نقطه وجود نداشته باشد؟

۴۵. (a) در دایره‌ای به قطر ۱، چند وتر رسم کرده‌ایم. ثابت کنید، اگر هر قطر در بیش از k نقطه و ترها را قطع نکند، آن وقت مجموع طول‌های همه وترها، از $3/15k$ کمتر است.

(b) در مکعبی با یال به طول a خط شکسته‌ای وجود دارد، که هر صفحه موازی با یکی از وجهها را، در بیش از k نقطه قطع نمی‌کند. ثابت کنید، طول خط شکسته، از $3ka$ تجاوز نمی‌کند.

۴۶. در سطحی يك کیلومتر در يك کیلومتر، بیشه‌ای از درختان کاج وجود دارد که از ۴۵۰۰ درخت تشکیل شده و قطر هر درخت ۵۰ سانتی‌متر است. ثابت کنید، روی این سطح مربعی، می‌توان ۵۰ قطعه مستطیلی ۱۰ متر در ۲۰ متر طوری جدا کرد که، در آنها، حتی يك درخت هم نروئیده باشد.

۴۷. ۱۰۰ نقطه A_1, A_2, \dots, A_{100} را روی محیط دایره‌ای علامت گذاشته‌ایم. کدام يك از چهار ضلعی‌های محدب بزرگترند: آن‌هایی که یکی از راس‌هایشان A_1 است، یا بقیه؟ چقدر؟

۴۸. از بین عددهای شش رقمی، کدام بزرگترند: آن‌هایی که سه قابل بیان به صورت حاصل ضرب دو عدد سه رقمی هستند یا بقیه؟

۴۹. (a) آیا می‌توان همه عددهای ده رقمی را که با رقم‌های ۱ و ۲

نوشته شده‌اند، طوری به دو گروه تقسیم کرد که، مجموع هر دو عدد از يك گروه، دست کم دورقم برابر ۳ داشته باشد؟

(b) ثابت کنید، بین عددهای n رقمی که تنها شامل رقم‌های ۱ و ۲

هستند، نمی‌توان بیش از $\frac{2^n}{2n+1}$ عدد طوری انتخاب کرد که، هر دو تا از

آنها، دست کم در رقم‌های سه مرتبه خود باهم فرق داشته باشند.

۵۰. به چند طریق می‌توان دایره‌ای که به p قطاع تقسیم شده است

(p ، عددی است اول) به وسیله n رنگ مختلف، رنگ کرد؟ (هر قطاع فقط

يك رنگ دارد؛ اجباری نیست از همه رنگ‌ها استفاده شود؛ اگر ضمن دوران دایره، دو روش رنگ آمیزی، برهم منطبق شوند، آنها را یکی به

حساب می‌آوریم.)

(b) ثابت کنید، برای هر عدد طبیعی n و هر عدد اول p ، عدد $n^p - n$

بر عدد p بخش پذیر است (قضیه کوچک فرما).

۵۱. در يك فستیوال، ۶ موسیقی‌دان شرکت دارند. در هر کنسرت،

بخشی از موسیقی‌دان‌ها شرکت می‌کنند و، بقیه، در سالن به آنها گوش

می‌دهند. حداقل چند کنسرت باید داده شود تا هر يك از ۶ موسیقی‌دان، به

اجرای هر يك از دیگران، از طریق سالن، گوش کرده باشند؟

۵۲. در شهر X ، هر خانواده در آپارتمان‌جداگانه‌ای زندگی می‌کند.

تصمیم گرفته می‌شود، هر دو خانواده، آپارتمان‌های خود را باهم عوض کنند

(دو خانواده‌ای که در يك روز آپارتمان‌های خود را با هم عوض کرده‌اند،

هیچ کدام در تعویض آپارتمان با يك خانواده دیگر، در آن روز شرکت

نمی‌کنند). ثابت کنید، هر گونه تعویض آپارتمان‌ها را، که مورد نظر ما باشد،

می‌توان در شهر X ، در دوروز انجام داد.

۵۳. ثابت کنید، از قطعه مفتول به طول ۱۲۰ سانتی‌متر، نمی‌توان

قالب مکعبی را با یال ۱۰ سانتی‌متر، بدون پاره کردن مفتول، درست کرد.

۵۴. ۳۰ اردک ماهی را در برکه‌ای رها کرده‌ایم که، به تدریج یکدیگر

را می‌خورند. اردک ماهی را وقتی سیر به حساب می‌آوریم که سه اردک ماهی

(سیر یا گرسنه) را خورده باشد. حداکثر چند اردک ماهی می تواند سیر بشود؟
۵۵. چگونه می توان ۵۰ شهر را با حداقل تعداد خط های هوایی به هم مربوط کرد تا این که بتوانیم از هر شهر به هر شهر دیگر پرواز کنیم، بدون این که بیش از حداکثر دو هواپیما، عوض کنیم؟

۵۶. هر يك از ۸ تیم فوتبال، يك بار با بقیه تیم ها بازی می کنند. در ضمن، در این بازی ها، «مساوی» نداریم. ثابت کنید، می توان چهار تیم A, B, C, D را طوری پیدا کرد که A از B, C و D و B از C, D و C از D و D برده باشند.

۵۷. روی ۲۰ کارت، رقم های ۱، ۰، ۹، ...، ۹ را نوشته ایم (هر رقم را روی دو کارت). ثابت کنید، این کارت ها را نمی توان طوری در ردیف هم جا داد که، بین دو کارت با رقم « k » درست k رقم دیگر قرار داشته باشد (برای هر $۱ \leq k \leq ۹$).

۵۸. عددی $(2m+1)$ رقمی نوشته ایم. ثابت کنید، می توان يك رقم آن را طوری حذف کرد که در عدد $2m$ رقمی حاصل، تعداد رقم های 7 در مرتبه های زوج، برابر با تعداد رقم های 7 در مرتبه های فرد باشد.

۵۹. آیا می توان ۱۰۰ عدد فرد a_1, a_2, \dots, a_{100} را طوری پیدا کرد که، برای آن ها، داشته باشیم:

$$\frac{1}{a_1} + \frac{1}{a_2} + \dots + \frac{1}{a_{100}} = 1$$

۶۰. ثابت کنید، يك صفحه شطرنجی 50×50 را نمی توان به شکل هایی شامل چهارخانه و به صورت T برید.

۶۱. ثابت کنید، برای هر عدد طبیعی n داریم:

$$[\sqrt{n}] + [\sqrt[3]{n}] + \dots + [\sqrt[n]{n}] = [\log_2 n] + [\log_3 n] + \dots + [\log_n n]$$

۶۲. اگر دو نقطه روی يك صفحه داده شده باشد، می توان نقطه سوم را از طریق پیدا کردن قرینه یکی از این نقطه ها نسبت به دیگری به دست آورد.

سه راس مربعی داده شده است، آیا از این طریق می توان راس چهارم این مربع را پیدا کرد؟

۶۳. قرینه یکی از راس های مثلث را نسبت به راس دیگر آن پیدا کرده ایم. آیا با تکرار عمل هایی از این گونه، می توان به سه راس يك مثلث قائم الزاویه یا متساوی الاضلاع رسید؟

۶۴. ثابت کنید، مساحت يك چندضلعی محدب که راس های آن در گره های يك صفحه شطرنجی باشد، برابر است با $1 - \frac{r}{p} + i$ که، در آن

i تعداد گره های واقع در درون این چندضلعی و r تعداد گره های واقع بر ضلع ها و راس های چندضلعی است؛ طول ضلع هر خانه از صفحه شطرنجی را واحد به حساب می آوریم (قضیه پیک).

۶۵. تعداد زیادی مثلث های متساوی الاضلاع برابر داریم که، در راس های هر کدام از آن ها، عددهای ۱، ۲، ۳ را (به ترتیب دلخواهی) گذاشته ایم. مثلث ها را در يك ستون روی هم قرار می دهیم و مجموع عددهای هر راس را می نویسیم، آیا ممکن است در هر راس a عدد ۲۵؛ b عدد ۶۰ به دست آید.

۶۶. يك چندضلعی غیر محدب مفروض است. با آن، این عمل را انجام می دهیم: دوراس غیر مجاور A و B از آن را انتخاب می کنیم، به نحوی که تمامی چندضلعی در يك طرف خط راست AB واقع باشد و قرینه بخشی از محیط چندضلعی را، که بین دو نقطه A و B قرار دارد، نسبت به وسط پاره خط راست AB پیدا می کنیم. اگر باز هم به يك چندضلعی غیر محدب برسیم، عمل را تکرار می کنیم. ثابت کنید، بعد از چند عمل، چندضلعی مفروض، به يك چندضلعی محدب تبدیل می شود.

۶۷. در راس های: a (۷ ضلعی منتظم؛ b ۸ ضلعی منتظم؛ c n ضلعی منتظم ($n \geq 9$)). کارت هایی با رنگ های سیاه یا سفید قرار داده ایم. آیا این درست است که، همیشه می توان سه کارت هم رنگ پیدا کرد، به نحوی که راس های يك مثلث متساوی الساقین را تشکیل دهند؟

۶۸. آیا می توان یال های يك مکعب را، با عددهای ۱، ۲، ۳، ...، ۱۲

طوری شماره گذاری کرد که، مجموع عددهای هر سه یالی که از يك راس می گذرد، با مجموع عددهای هر سه یال دیگری از این گونه، برابر باشد؟ آیا می توان یال های مکعب را با عددهای ۶-، ۵-، ۴-، ۳-، ۲-، ۱-، ۰، ...، ۶ طوری شماره گذاری کرد تا همان شرط برقرار باشد؟

۶۹. سه دایره برابر، از يك نقطه می گذرند. ثابت کنید، سه نقطه دیگر برخورد این دایره ها، روی دایره ای با همان شعاع قرار دارند.

۷۰. روی دو خط راستی که در نقطه P بهم رسیده اند، دو متحرك به طور یکنواخت و با سرعت های برابر حرکت می کنند؛ متحرك ها را، نقطه های M و N می نامیم. آن ها، در يك لحظه، از نقطه P عبور نکرده اند. ثابت کنید، دایره محیطی مثلث MNP ، همیشه از نقطه ثابت دیگری (به جز P) می گذرد.

۷۱. نقطه های D, C, B, A روی محیط دایره ای چنان قرار دارند که مماس های مرسوم از A و C بر دایره، روی خط راست BD بهم می رسند. ثابت کنید، مماس های مرسوم از B و D بر دایره هم، روی خط راست AC یکدیگر را قطع می کنند.

۷۲. روی ضلع های AB و BC از مثلث ABC ، مربع های $ABDK$ و $CBEL$ را، در بیرون مثلث ساخته ایم. ثابت کنید، امتداد ارتفاع BH از مثلث ABC ، بر میانه مثلث DBE منطبق می شود.

۷۳. ثابت کنید، در درون مثلثی که، زاویه هایی کمتر از ۱۲۰ درجه دارد، تنها يك نقطه T پیدا می شود که، از آن جا، هر سه ضلع مثلث به زاویه ۱۲۰ درجه دیده می شوند و، در ضمن، مجموع فاصله های نقطه T از سه راس مثلث، از مجموع فاصله های هر نقطه دیگری از صفحه تسا سه راس، کوچکتر است.

۷۴. a, b, c, d را طول ضلع های متوالی يك چهارضلعی می گیریم. ثابت کنید، مساحت چهارضلعی از: $(a)(\frac{1}{4}(ab+cd))$ ؛ $(b)(\frac{1}{4}(ac+bd))$ تجاوز نمی کند.

۷۵. روی هر ضلع متوازی الاضلاع، نقطه ای انتخاب کرده ایم. ثابت

کنید، اگر مساحت چهارضلعی با راس های در این نقطه ها، برابر نصف مساحت متوازی الاضلاع باشد، آن وقت، دست کم یکی از قطر های چهارضلعی، با یکی از ضلع های متوازی الاضلاع، موازی است.

۷۶. نقطه K روی قاعده ذوزنقه $ABCD$ داده شده است. نقطه M را روی قاعده دیگر CD در کجا انتخاب کنیم تا مساحت چهارضلعی که از برخورد مثلث های AMB و CKD به دست می آید، حداکثر مقدار ممکن باشد؟

۷۷. آیا γ نقطه را می توان روی صفحه طوری قرارداد، به نحوی که بین هر سه تا از آن ها، دو نقطه به فاصله واحد وجود داشته باشد؟

۷۸. تصویر يك شکل مسطحه، بر هر خط راستی که در صفحه شکل واقع باشد، از واحد تجاوز نمی کند. آیا درست است که، این شکل را، می توان در دایره ای به قطر a ؛ b ؛ $1/5$ جا داد؟

۷۹. متوازی السطوحی در فضا جا به جا می شود. ثابت کنید، «سایه» آن (یعنی تصویر قائم آن بر صفحه افقی)، در موقعیتی دارای حداکثر مساحت است که، سه راس دلخواه از متوازی السطوح، روی يك صفحه افقی واقع باشند.

۸۰. نقطه ای در روی سطح زمین در عرض جغرافیایی φ قرار دارد $(0 \leq \varphi \leq \frac{\pi}{4})$. چه رابطه ای بین زمان T کوتاه ترین روز این نقطه و φ وجود دارد؟ زمین را می توان کره ای به حساب آورد که، محور دوران آن، با صفحه حرکت زمین به دور خورشید، زاویه معلومی برابر α می سازد.

۸۱. ۳۰۰ نفر، يك مستطیل ۱۰×۳۰ تشکیل داده اند (۳۰ نفر در هر ردیف و ۱۰ نفر در هر ستون). از هر ردیف بلندترین را انتخاب می کنیم؛ معلوم شد در بین ۱۰ نفری که انتخاب کرده ایم، پتروف از همه کوتاه تر است. بعد، از هر ستون، کوتاه قدترین را انتخاب می کنیم؛ در بین این ۳۰ نفر، ایوانوف از همه بلندتر از آب درآمد. کدام بلندترند: پتروف یا ایوانوف؟

۸۲. عددهای ۲، ۱، ۰، ...، ۸۱ را در جدول ۹×۹ طوری قرار داده ایم

که، در هر سطر، عددها به ردیف صعودی اند. چه مجموع حداکثر و چه مجموع حداقل را می‌توان در ستون پنجم به دست آورد؟

۸۳. عددهای درست غیرمنفی را در جدول $n \times n$ قرار داده‌ایم. می‌دانیم، اگر در خانه محل برخورد یک سطر و یک ستون عدد صفر قرار گرفته باشد، آن وقت مجموع $2n - 1$ عدد واقع در این سطر و این ستون، از n کمتر نیست. ثابت کنید، مجموع همه n^2 عدد، از $\frac{1}{4}n^2$ کمتر نیست.

۸۴. این دستگاه معادله‌ها را حل کنید:

$$x_1 + \sqrt{x_2} = 1, \quad x_2 + \sqrt{x_3} = 1, \quad \dots$$

$$x_8 + \sqrt{x_9} = 1, \quad x_9 + \sqrt{x_1} = 1$$

۸۵. دو نفر باهم بازی می‌کنند. جلو آن‌ها، دو کوبه چوب کبریت وجود دارد. یکی از آن‌ها، یکی از کوبه‌های چوب کبریت را کنار می‌گذارد و کوبه باقی‌مانده را به دو بخش تقسیم می‌کند. بعد دومی، یکی از کوبه‌ها را کنار می‌زند و کوبه دیگر را به دو بخش تقسیم می‌کند و غیره. کسی می‌بازد که نتواند حرکت نوبتی خود را انجام دهد، یعنی در هر بخش، تنها یک چوب کبریت وجود داشته باشد. اگر در ابتدا، در یکی از کوبه‌ها ۱۶ چوب کبریت و در دیگری ۸۸ چوب کبریت باشد و بازی را آگاهانه انجام دهند، کدام یک برنده می‌شود: آن که بازی را آغاز می‌کند یا رقیب او؟

۸۶. چند کوبه سنگ ریزه داریم. دو نفر باهم بازی می‌کنند. هر بازی کن، در نوبت خود، هر کوبه‌ای را که بیش از یک سنگ ریزه دارد، به دو کوبه کوچکتر تقسیم می‌کند. بازی تا آنجا ادامه پیدا می‌کند که، همه کوبه‌ها، تنها از یک سنگ ریزه تشکیل شده باشند. کسی بازی را می‌برد که آخرین حرکت را انجام داده باشد. کسی که بازی را آغاز می‌کند، چگونه باید بازی کند، به شرطی که، در ابتدا، در هر کوبه از ۸۰ تا ۱۲۰ سنگ ریزه وجود داشته باشد؟

۸۷. بین n سکه، که در ظاهر خود هیچ فرقی باهم ندارند، احتمالاً یک یا دو سکه تقلبی وجود دارد که وزن آن‌ها با دیگران یکی نیست (ولی

ممکن است حتی یک سکه تقلبی هم وجود نداشته باشد؛ و اگر دو سکه تقلبی در بین آن‌ها باشد، این دو سکه دارای یک وزن هستند). می‌خواهیم با سه بار استفاده از ترازو (بدون استفاده از وزنه) روشن کنیم: آیا سکه‌های تقلبی در بین n سکه وجود دارد یا نه، و در صورت وجود، سکه تقلبی سنگین تر است یا سکه واقعی؟ چگونه می‌توان این عمل را انجام داد، اگر $n = 8$ ؛ (b) n برابر هر عدد درست بزرگتر از ۸ باشد؟

۸۸. N دوست در یک زمان، از N خبر تازه اطلاع پیدا کردند؛ در ضمن هر نفر درست از یک خبر تازه آگاه شد. آن‌ها با تلفن، خبرها را باهم مبادله کردند. هر تلفن یک ساعت طول کشید و، ضمن آن، هر خبر تازه ای ردوبدل شد. چند ساعت طول می‌کشد تا همه از همه خبرها آگاه شوند؟ جواب را در حالت‌های (a) $N = 64$ ؛ (b) $N = 55$ ؛ (c) $N = 100$ پیدا کنید.

که ترازو در تعادل بایستند. می دانیم در کفه سمت چپ، همه وزنه‌ها با هم فرق دارند. ثابت کنید، تعداد وزنه‌های کفه سمت راست، از تعداد وزنه‌های کفه سمت چپ کمتر نیست.

۵. آیا می‌توان صفحه را با دایره‌ها طوری پوشاند که، از هر نقطه، درست ۱۹۸۸ دایره بگذرد؟

۶. واژه‌های شامل دو حرف A و B را، پشت سر هم، در نظر می‌گیریم: واژه اول « A »، واژه دوم « B » و واژه k ام را به این ترتیب به دست می‌آوریم که $(k-1)$ امین واژه را در سمت راست واژه $(k-2)$ ام بنویسیم، چند واژه اول این دنباله، چنین می‌شود:

« $ABBAB$ »، « BAB »، « AB »، « B »، « A »

آیا ممکن است، در این دنباله، با واژه‌ای «متناوب» برخورد کنیم، یعنی واژه‌ای به صورت $PP...P$ که، در آن، P واژه‌ای باشد که، دست کم، دو بار تکرار شده باشد؟

۷. زاویه قائمه را به بی‌نهایت خانه مربعی تقسیم کرده‌ایم. ردیف خانه‌هایی را در نظر می‌گیریم که با یکی از ضلع‌های زاویه، موازی‌اند (ردیف‌های «قائم» و ردیف‌های «افقی»). آیا می‌توان در هر خانه یک عدد طبیعی نوشت، به نحوی که در هر ردیف، همه عددهای طبیعی و، از هر کدام یکبار آمده باشند؟

۸. دو قاعدهٔ دوزنقه چه نسبتی داشته باشند تا خط راستی وجود داشته باشد که از نقطهٔ برخورد آن با قطرها، ساق‌ها و امتدادهای دو قاعده، ۵ باره خط راست برابر به دست آید؟

۹. چند جمله‌ای با ضریب‌های درستی در اختیار داریم که ۱ و ۲ ریشه‌های آن هستند. ثابت کنید، می‌توان ضریبی از چند جمله‌ای را پیدا کرد که از ۱ — کوچکتر باشد.

۱۰. کارت‌هایی در اختیار داریم که، روی هر کدام از آنها، یکی از شماره‌های ۱ تا ۳۰ نوشته شده است (ممکن است شماره‌ای تکرار شده باشد). هردانش‌آموزی، یکی از کارت‌ها را برمی‌دارد. معلم می‌تواند از گروهی دانش‌آموزان، شمارهٔ کارت را بپرسد و از آنها بخواهد تا دست

مسئله‌های المپیاد دهم شهرها، دور بهاری

(مارس سال ۱۹۸۸)

مسئله‌های ۱ تا ۷ برای دانش‌آموزان کلاس‌های ۷ و ۸ و مسئله‌های ۸ تا ۱۲، برای کلاس‌های ۹ و ۱۰.

۱. a, b, c عددهایی درست‌اند. ثابت کنید، به شرط $a+b=c$ ، عدد $a^4 + b^4 + c^4$ برابر است با دو برابر مجذور یک عدد درست.

۲. مثلث ABC مفروض است. قرینه‌های خط راست AB و BC نسبت به AC ، یکدیگر را در نقطهٔ K قطع کرده‌اند. ثابت کنید، خط راست BK از مرکز دایرهٔ محیطی مثلث ABC می‌گذرد.

۳. این دستگاه را حل کنید:

$$\begin{cases} (x_2 + x_4 + x_5)^5 = 3x_1 \\ (x_4 + x_5 + x_1)^5 = 3x_2 \\ (x_5 + x_1 + x_2)^5 = 3x_3 \\ (x_1 + x_2 + x_3)^5 = 3x_4 \\ (x_2 + x_3 + x_4)^5 = 3x_5 \end{cases}$$

۴. وزنه‌هایی با وزن‌های ۱، ۲، ۴، ... در اختیار داریم (وزن هر وزنه، توانی از ۲ است)، در ضمن در بین آنها، ممکن است وزنه‌های برابر هم وجود داشته باشد. در دو کفهٔ ترازو، وزنه‌هایی را قرارداده‌ایم، به نحوی

خود را بلند کنند (ممکن است، این گروه شامل يك نفر باشد). معلم دست کم از چند گروه باید سؤال کند تا شماره کارت‌های همه دانش‌آموزان را بداند؟ (ضرورتی ندارد، تعداد دانش‌آموزان، ۳۰ باشد.)

۱۱. مکعبی $20 \times 20 \times 20$ از ۲۰۰۰ قوطی کبریت $1 \times 2 \times 2$ تشکیل شده است. ثابت کنید، می‌توان آن را با سوزن طوری سوراخ کرد که سوزن، از مکعب بگذرد، ولی به قوطی کبریت‌ها فرو نرود.

۱۲. واژه‌هایی را در نظر می‌گیریم که با دو حرف A و B درست شده‌اند. نخستین واژه در این دنباله «A» و k امین واژه از واژه $(k-1)$ ام با این قاعده به دست آمده است. هر حرف A به AAB و هر حرف B به A تبدیل می‌شود. به سادگی دیده می‌شود که، هر واژه، به صورت زیر آغاز می‌شود و، در ضمن، دنباله‌ای نامتناهی از حرف‌ها به دست می‌آید.

$AAB AAB A A A B A A B A A A B \dots$

(a) در کجا از این دنباله، به هزارمین حرف A برخورد می‌کنیم؟
(b) ثابت کنید، این دنباله نامتناوب است.

سیمانه نمادها

N : مجموعه عددهای طبیعی

Z : مجموعه عددهای درست

R : مجموعه عددهای حقیقی

$a \in A$: عضو a متعلق به مجموعه A است

$A \cap B$: اشتراك مجموعه‌های A و B

$A \cup B$: اجتماع دو مجموعه A و B

$\overline{a_1 a_2 \dots a_n}$: عدد n رقمی در دستگاه دهدهی

$a \equiv b \pmod{m}$: a نسبت به مدول m با b هم نهشت است

باقی مانده‌های تقسیم دو عدد درست a و b بر m یکی است: تفاضل $a-b$ بر m بخش پذیر است.

$n!$: (فاکتوریل n) حاصل ضرب $1 \times 2 \times \dots \times n$ ؛ $1! = 1 = 0!$

C_n^k : ضریب بسط دو جمله‌ای برابر با $\frac{n!}{k!(n-k)!}$

$[x]$: بخش درست عدد x (بزرگترین عدد درستی که از x تجاوز نمی‌کند).

$\max_i x_i = \max\{x_1, x_2, \dots, x_n\}$: بزرگترین عدد از بین عددهای

x_1, x_2, \dots, x_n

$\min_i x_i = \min\{x_1, x_2, \dots, x_n\}$: کوچکترین عدد از بین عددهای

۱. ریاضیات خالص
۱. روش‌های جبر (دو جلد تألیف)
 ۲. دوره اختصاصی جبر مقدماتی
 ۳. مثلثات مستقیم الخط و کروی
 ۴. هندسه غیر اقلیدسی
 ۵. انعکاس
 ۶. نامساوی‌ها
 ۷. ورودی به منطق ریاضی
 ۸. روش مختصاتی و هندسه چهار بعدی
 ۹. نظریه مجموعه‌ها
 ۱۰. استقراء ریاضی
 ۱۱. مثلثات
 ۱۲. جبر، از آغاز تا پایان
 ۱۳. ماکزیمم و می‌نیمم بدون استفاده از مشتق (با آقای عادل)
 ۱۴. جبر برداری (با آقای عادل)
 ۱۵. روش‌های مثلثات (با آقای فیروزنیا)
 ۱۶. عبارت‌های متقارن در جبر مقدماتی (تألیف)
 ۱۷. قدر مطلق در حوزه عددهای حقیقی (تألیف)
 ۱۸. بخش درست عدد (تألیف)
 ۱۹. تابع‌های متناوب (تألیف)
 ۲۰. روش استقرای ریاضی (تألیف)
 ۲۱. بسط دو جمله‌ای (تألیف)
 ۲۲. ورودی به آنالیز ترکیبی (تألیف)
 ۲۳. ورودی به نظریه احتمال (تألیف)
 ۲۴. تربیع دایره و غیرجبری بودن عدد پی
 ۲۵. هندسه پرگار
 ۲۶. بخش‌پذیری عددها و مفهوم آگوریتم
 ۲۷. نقطه‌های بی حرکت
 ۲۸. محاسبه برداری (تألیف)

x_1, x_2, \dots, x_n

$$\text{مجموع } x_1 + x_2 + \dots + x_n : \sum_{i=1}^n x_i = \sum_{1 \leq i \leq n} x_i$$

AB : پاره‌خط راست با دو انتهای A و B ؛ طول این پاره‌خط، نیم خط راست به مبداء A که از B می‌گذرد؛ خط راستی که از دو نقطه A و B می‌گذرد.

$$AB : CD = \frac{AB}{CD} \text{ : نسبت طول‌های دو پاره‌خط راست } AB \text{ و } CD$$

$$\vec{u} = \overrightarrow{AB} \text{ : بردار به مبداء } A \text{ و انتهای } B$$

$$\mathbf{u} \cdot \mathbf{v} = uv \text{ : حاصل ضرب اسکالر (عددی) دو بردار } \mathbf{u} \text{ و } \mathbf{v}$$

$\widehat{ABC} = (\widehat{\mathbf{u}, \mathbf{v}})$: زاویه ABC ، مقدار این زاویه (مقدار زاویه بین بردارهای \mathbf{u} و \mathbf{v})

$$\widehat{AB} (\widehat{AMB}) \text{ : کمانی بسا دو انتهای } A \text{ و } B \text{ (که از نقطه } M$$

می‌گذرد)

$$S_{ABC} (S_{ABCD}) \text{ : مساحت مثلث } ABC \text{ (مساحت چهارضلعی } ABCD).$$

۲۹. همه چیز دربارهٔ سه جمله‌ای درجه دوم (تألیف)
 ۳۰. مسیر ریاضات جدید
 ۳۱. نظریه اعداد (با آقای قوامزاده)
 ۳۲. تقارن در جبر
 ۳۳. نظریه ساختمان‌های هندسی
 ۳۴. آنالیز ریاضی (در سه جلد، با آقای امامی)
 ۳۵. ورودی به نظریه مجموعه‌ها
 ۳۶. درباره حد
 ۳۷. منحنی‌ها در فضا
 ۳۸. ریاضیات محدود

II. مساله‌ها

۳۹. مسائل مسابقات ریاضی
 ۴۰. مسائل کنکورهای شوروی
 ۴۱. گزیده‌ای از مساله‌های دشوار ریاضی
 ۴۲. مسائل و تمرینات آنالیز ریاضی
 ۴۳. ۲۵۰ مساله حساب
 ۴۴. آمادگی برای المپیادهای ریاضی
 ۴۵. المپیادهای ریاضی در کشورهای مختلف
 ۴۶. المپیادهای بین‌المللی (با آقای عادل)
 ۴۷. المپیادهای ریاضی در مجارستان (با آقای عادل)
 ۴۸. المپیادهای ریاضی در شوروی
 ۴۹. ۱۷۵ مساله منطقی
 ۵۰. مسائل تاریخی ریاضیات
 ۵۱. تصاعدها و لگاریتم در مساله‌های عملی
 ۵۲. مساله‌های ریاضی، آسان ولی...
 ۵۳. المپیادهای ریاضی در آمریکا (با آقای عادل)
 ۵۴. گزیده‌ای از مساله‌ها و قضیه‌های ریاضیات مقدماتی (با آقای عادل)

III. ریاضیات کاربردی

۵۵. آنالیز برداری و نظریه میدان‌ها
 ۵۶. ریاضیات کاربردی (تألیف و ترجمه)
 IV. ریاضیات به زبان ساده و سرگرمی‌های ریاضی

۵۷. داستان مجموعه‌ها
 ۵۸. داستان‌های ریاضی
 ۵۹. بازی با بی‌نهایت
 ۶۰. سرگرمی‌های جبر
 ۶۱. سرگرمی‌های هندسه
 ۶۲. سرگرمی‌های ریاضی
 ۶۳. در قلمرو ریاضیات
 ۶۴. اندیشه ریاضی
 ۶۵. در پی فیثاغورث
 ۶۶. سرگرمی‌های توبولوژی
 V. تاریخ ریاضیات، فلسفه ریاضی و آموزش ریاضی
 ۶۷. ریاضیات، محتوی، روش و اهمیت آن (تاکنون دو جلد)
 ۶۸. اواربست گالوا، ریاضی‌دان و انقلابی فرانسوی
 ۶۹. من ریاضی‌دانم
 ۷۰. پویایی ریاضیات
 ۷۱. لباچوسکی و هندسه نااقلیدسی
 ۷۲. آفرینندگان ریاضیات عالی
 ۷۳. خلاقیت ریاضی
 ۷۴. هندسه در گذشته و حال
 ۷۵. تاریخ حساب
 ۷۶. آنالیز ریاضی
 ۷۷. ریاضیات در شرق
 ۸۷. لگاریتم (تاریخ استدلالی لگاریتم)
 VI. برخی کتاب‌های دیگر
 ۷۹. سرگذشت حرکت
 ۸۰. نظریه نسبیت در مساله‌ها و تمرین‌ها
 ۸۱. علم، جامعه و انسان (در سه جلد)
 ۸۲. ژان هوس و جنبش هوسیسم (تألیف)
 ۸۳. جنبش مزدک و مزدکیان (تألیف)
 ۸۴. یک روز زندگی پسرک قبطی
 ۸۵. داستان‌های علمی
 ۸۶. اخلاق و انسان

نشر توسعه منتشر کرده است:

- ۱- روش‌های مثلثات
- تألیف: پرویز شهریاری- احمد فیروزنیا (با همکاری نشر فردوس)
- ۲- مسائل ریاضی المپیادهای اتحاد شوروی
- ترجمه: پرویز شهریاری
- ۳- تحول عصر (مسائل ایران و جهان معاصر)
- تألیف: موسوی خوزستانی
- ۴- مکانی به وسعت هیچ (داستان بلند)
- تألیف: فتح‌اله بی‌نیاز
- ۵- الگویی برای توسعه اقتصادی ایران
- تألیف: دکتر ابراهیم رزاقی (استاد اقتصاد دانشگاه تهران)
- ۶- ره آورد سرمایه‌داری تجاری ایران
- تألیف: موسوی خوزستانی
- ۷- حلقه نفوذناپذیر گرگ‌های خاکستری (داستان بلند)
- تألیف: فتح‌اله بی‌نیاز

کتاب‌های زیر چاپ:

- ۱- منشور توسعه (کتاب توسعه)
- مجموعه مقالات و نظریات در حوزه مسائل فرهنگی، اجتماعی و اقتصادی توسعه توسط جمعی از نویسندگان
- ۲- دردناک‌ترین داستان عالم (مجموعه داستان‌های کوتاه)
- تألیف: فتح‌اله بی‌نیاز
- ۳- اقتصاد توسعه
- تألیف: دکتر ابراهیم رزاقی
- ۴- در انتهای دراز دره‌ای بی‌نام و نشان (داستان بلند)
- تألیف: فتح‌اله بی‌نیاز