

$$dx = \frac{1}{2} \frac{1}{\sqrt{t}} dt$$

از آنجا که عملاً حد می‌گیریم، این نتیجه کامل است حال انتگرال اصلی را می‌توان بر حسب t به صورت زیر نوشت

$$\begin{aligned} \int_a^b x e^{x^2} dx &= \int_{t_1}^{t_2} \sqrt{t} e^t \left(\frac{1}{2} \frac{1}{\sqrt{t}} dt \right) = \frac{1}{2} \int_{t_1}^{t_2} e^t dt \\ &= \frac{1}{2} (e^{t_2} - e^{t_1}) \end{aligned}$$

که در آن $t_2 = b^2$ و $t_1 = a^2$ است.

مسائل

۱-۱ دو بردار $\mathbf{A} = (2\hat{i} - 3\hat{j} + 7\hat{k})$ و $\mathbf{B} = (5\hat{i} + \hat{j} + 2\hat{k})$ مفروض‌اند، پیدا کنید
(الف) $\mathbf{A} + \mathbf{B}$ ، (ب) $\mathbf{A} - \mathbf{B}$ ، (ج) $\mathbf{A} \cdot \mathbf{B}$ ، (د) $\mathbf{A} \times \mathbf{B}$.
جواب: (الف) $7\hat{i} - 2\hat{j}$ ، (ج) ۲۱.

۲-۱ کسینوس زاویه بین $\mathbf{A} = (3\hat{i} + \hat{j} + \hat{k})$ و $\mathbf{B} = (-2\hat{i} - 3\hat{j} - \hat{k})$ را به دست آورید.
جواب: $80.5^\circ -$.

۳-۱ کسینوسهای هادی یک بردار، کسینوس زوایایی هستند که آن بردار با محورهای مختصات می‌سازد، کسینوس زوایای بین یک بردار و محورهای x ، y و z را معمولاً با α ، β ، γ نشان می‌دهند. با استفاده از هندسه و یا جبر برداری ثابت کنید که $\alpha^2 + \beta^2 + \gamma^2 = 1$.

۴-۱ نشان دهید، اگر $|\mathbf{A} - \mathbf{B}| = |\mathbf{A} + \mathbf{B}|$ باشد، آنگاه \mathbf{A} عمود است بر \mathbf{B} .

۵-۱ ثابت کنید که قطرهای یک لوزی بر هم عمودند.

۶-۱ با استفاده از ضرب برداری، قانون سینوسها را در دو یاسه سطر ثابت کنید. (راهنمایی: مساحت

مثلثی را که از سه بردار \mathbf{A} ، \mathbf{B} ، \mathbf{C} تشکیل شده در نظر بگیرید که برای آن $\mathbf{A} + \mathbf{B} + \mathbf{C} = \mathbf{0}$).

۷-۱ فرض کنید $\hat{\mathbf{a}}$ و $\hat{\mathbf{b}}$ بردارهای یکه در صفحه xy باشند، و با محور x ها بترتیب زوایای θ و ϕ

بسازند. نشان دهید $\hat{\mathbf{a}} = \cos \theta \hat{\mathbf{i}} + \sin \theta \hat{\mathbf{j}}$ و $\hat{\mathbf{b}} = \cos \phi \hat{\mathbf{i}} + \sin \phi \hat{\mathbf{j}}$ و با استفاده از جبر برداری

ثابت کنید

$$\cos(\theta - \phi) = \cos \theta \cos \phi + \sin \theta \sin \phi$$

۸-۱ بردار یکه‌ای بیابید که بر بردارهای $\mathbf{A} = (\hat{i} + \hat{j} - \hat{k})$ و $\mathbf{B} = (2\hat{i} - \hat{j} + 3\hat{k})$ عمود باشد.

جواب: $\hat{n} = \pm(2\hat{i} - 5\hat{j} - 3\hat{k})/\sqrt{38}$

۹-۱ نشان دهید که حجم یک متوازی السطوح به ابعاد $\mathbf{A}, \mathbf{B}, \mathbf{C}$ از رابطه $\mathbf{A} \cdot (\mathbf{B} \times \mathbf{C})$ به دست می‌آید.

۱۰-۱ دو نقطه را که در \mathbf{r}_1 و \mathbf{r}_2 واقع شده و به فاصله $r = |\mathbf{r}_1 - \mathbf{r}_2|$ از یکدیگر واقع شده‌اند در نظر می‌گیریم. بردار \mathbf{A} را که از مبدأ به نقطه‌ای روی خط واصل \mathbf{r}_1 و \mathbf{r}_2 و به فاصله xr از \mathbf{r}_1 وصل می‌شود پیدا کنید، در صورتی که x یک عدد مشخص است.

۱۱-۱ فرض کنید \mathbf{A} برداری اختیاری و \hat{n} برداریکه در جهتی معین باشد، نشان دهید

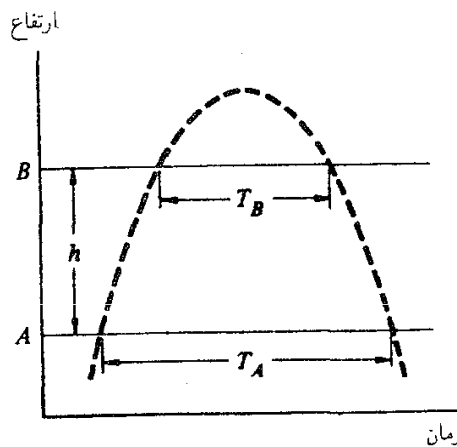
$$\mathbf{A} = (\mathbf{A} \cdot \hat{n})\hat{n} + (\hat{n} \times \mathbf{A}) \times \hat{n}$$

۱۲-۱ شتاب گرانشی را می‌توان با پرتاب یک جسم به طرف بالا و اندازه‌گیری زمان لازم برای عبور از دو نقطه معین مسیر در هر دو جهت اندازه گرفت.

اگر زمان لازم برای عبور جسم از یک خط افقی A در هر دو جهت برابر با T_A و برای خط دیگر B برابر T_B باشد، با فرض ثابت بودن شتاب نشان دهید که اندازه این شتاب برابر است با

$$g = \frac{4h}{T_A^2 - T_B^2}$$

که در آن h ارتفاع خط B نسبت به خط A است (شکل ۶۷-۱).



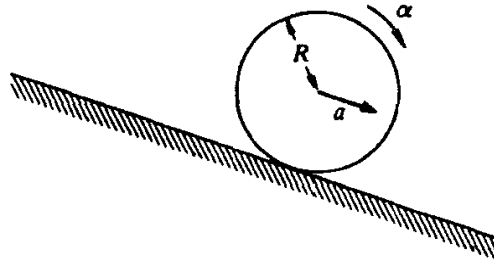
شکل ۶۷-۱

۱۳-۱ آسانسوری با سرعت یکنواخت از زمین به طرف بالا شروع به حرکت می‌کند در زمان T_1 یکی از سرنشینان سنگی را از کف آن رها می‌سازد. این سنگ با شتاب ثابت $g = 9.8 \text{ m/s}^2$

سقوط می‌کند و بعد از T_2 ثانیه به زمین می‌رسد. ارتفاع آسانسور از زمین را در لحظه T_1 پیدا کنید.

جواب: حالت خاص: اگر $T_1 = T_2 = 4$ s باشد، $h = 39.2$ m.

۱۴-۱ استوانه‌ای به شعاع R روی سطح شیب‌داری، بدون لغزش به طرف پایین می‌غلتد (شکل ۶۸-۱). محور آن دارای شتاب a موازی با سطح شیب‌دار است. α شتاب زاویه‌ای استوانه، چقدر



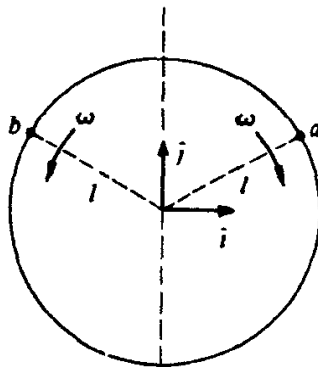
شکل ۶۸-۱

است؟

۱۵-۱ منظور از سرعت نسبی، سرعت نسبت به یک دستگاه مختصات مورد نظر است. (از زاویه سرعت، به تنهایی معنای سرعت نسبت به دستگاه مختصات ناظر استنباط می‌شود.) (الف) مشاهده شده است که نقطه‌ای دارای سرعت v_A نسبت به دستگاه مختصات A است. سرعت آن نسبت به دستگاه مختصات B که به اندازه R از دستگاه A فاصله دارد، چقدر است؟ (R نسبت به زمان می‌تواند تغییر کند.)

جواب: $v_B = v_A - dR/dt$.

(ب) ذرات a و b در دو جهت مخالف هم روی دایره‌ای با سرعت زاویه‌ای ω در حرکت‌اند (شکل ۶۹-۱). در $t = 0$ هر دوی آنها در نقطه \hat{j} قرار دارند، که l شعاع دایره است. سرعت a را نسبت



شکل ۶۹-۱

به b پیدا کنید.

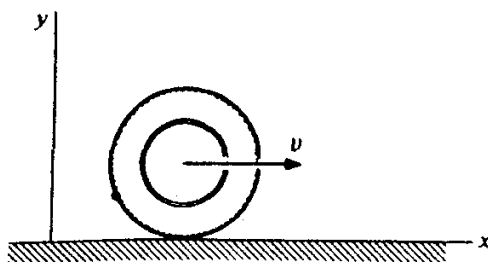
۱۶-۱ یک اتومبیل مخصوص مسابقه، در 30° ثانیه می‌تواند به‌طور یکنواخت شتاب بگیرد و به سرعت 200 کیلومتر بر ساعت برسد. بیشینه شتاب کندکننده ناشی از ترمز آن نمی‌تواند از $7g$ تجاوز کند. زمان کمینه لازم برای پیمودن نیم کیلومتر چقدر است؟ فرض می‌کنیم که اتومبیل در زمان شروع و پایان کار در حالت سکون است. (راهنمایی: نمودار سرعت بر حسب زمان می‌تواند مفید باشد.)

۱۷-۱ ذره‌ای با سرعت شعاعی ثابت $\dot{r} = 4 \text{ m/s}$ در صفحه حرکت می‌کند. سرعت زاویه‌ای آن ثابت و به مقدار $\theta = 2 \text{ rad/s}$ است. وقتی که ذره در فاصله 3 متر از مبدأ قرار دارد (الف) بزرگی سرعت و (ب) بزرگی شتاب آن را پیدا کنید.

جواب: (الف) $v = \sqrt{52} \text{ m/s}$.

۱۸-۱ آهنگ تغییر شتاب را گاهی اوقات "جرک" می‌گویند. اندازه و جهت جرک را برای ذره‌ای که روی دایره‌ای به شعاع R با سرعت زاویه‌ای ω حرکت می‌کند پیدا کنید. با رسم نمودار برداری، مکان، سرعت، شتاب و جرک لحظه‌ای را نشان دهید.

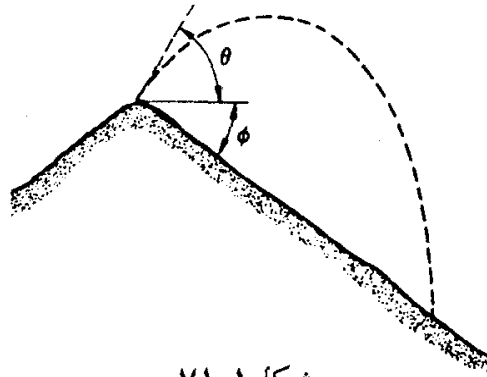
۱۹-۱ لاستیک اتومبیلی در امتداد خط راست و بدون لغزش می‌غلتد (شکل ۱-۷۰). مرکز آن با سرعت ثابت V حرکت می‌کند. ریگ کوچکی در شیار آن جا گرفته است که در $t = 0$ با زمین تماس پیدا می‌کند. مکان، سرعت، و شتاب ریگ را به صورت تابعی از زمان به دست آورید.



شکل ۱-۷۰

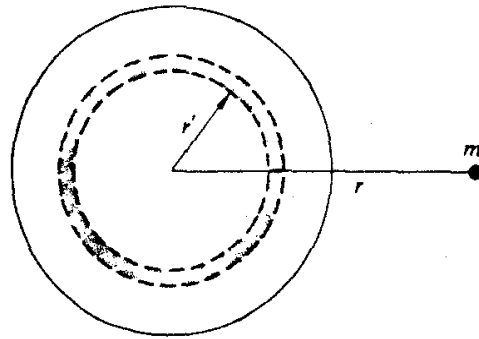
۲۰-۱ ذره‌ای در امتداد یک مارپیچ و به طرف خارج آن در حرکت است. مسیر آن به وسیله رابطه $r = A\theta$ مشخص شده است که در آن A مقدار ثابت و برابر است با $A = (1/\pi) \text{ m/rad}$. مقدار θ هم با زمان مطابق رابطه $\theta = \alpha t^2 / 2$ افزایش می‌یابد که در آن α مقداری ثابت است. (الف) شکل مسیر حرکت را رسم کنید، و سرعت و شتاب تقریبی را در چند نقطه نشان دهید. (ب) نشان دهید که شتاب شعاعی وقتی که $\theta = 1/\sqrt{2} \text{ rad}$ است، برابر صفر می‌شود. (ج) در چه زاویه‌ای شتاب مماسی و شعاعی با هم برابرند؟

۲۱-۱ پسر بچه‌ای در بالای تپه‌ای ایستاده است، این تپه دارای شیب یکنواخت (با زاویه ϕ) به طرف پایین است. با چه زاویه‌ای از خط افق (θ) باید سنگی را پرتاب کند تا بیشترین برد را داشته باشد (شکل ۲۱-۱)؟



شکل ۲۱-۱

جواب: حالت خاص: اگر $\phi = 60^\circ$ باشد، $\theta = 15^\circ$.



شکل ۲-۴۹

یک کره توپ را می توان به عنوان مجموعه ای از پوسته های کروی تصور کرد. تعمیم این نتیجه در حالتی که چگالی کره $\rho(r')$ فقط تابع شعاعی فاصله r' از مرکز کره است، کار مشکلی نیست. جرم پوسته کروی به شعاع r' و ضخامت dr' به صورت $\rho(r') 4\pi r'^2 dr'$ است. نیرویی که این پوسته بر جرم m اعمال می کند چنین است (شکل ۲-۴۹):

$$dF = \frac{GM}{r^2} \rho(r') 4\pi r'^2 dr'$$

از آنجا که نیروی اعمال شده از طرف هر لایه به طرف مرکز کره است، نیروی کل برابر است با

$$F = \frac{GM}{r^2} \int_0^R \rho(r') 4\pi r'^2 dr'$$

اما، این انتگرال همان جرم کل کره است. نتیجه می گیریم که در حالت $r > R$ نیروی بین m و کره با نیروی دو ذره ای که با فاصله r از هم جدا شده اند یکسان است.

مسائل

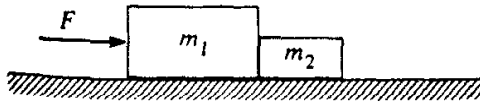
۱-۲ یک جرم ۵ کیلوگرمی تحت اثر نیروی $\mathbf{F} = (4t^2 \hat{i} - 3t \hat{j}) \text{ N}$ حرکت می کند که در آن t زمان بر حسب ثانیه است (۱ نیوتون = ۱ N). این جرم در لحظه $t = 0$ از مبدأ شروع به حرکت می کند. پیدا کنید: (الف) سرعت، (ب) مکان، (ج) $\mathbf{r} \times \mathbf{v}$ برای این جسم در زمانهای بعد.

جواب حالت خاص: (ج) اگر $t = 1 \text{ s}$ باشد، $\mathbf{r} \times \mathbf{v} = 67 \times 10^{-2} \hat{k} \text{ m}^2/\text{s}$.

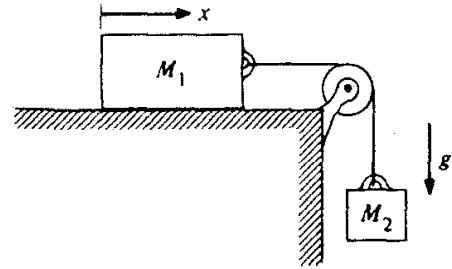
۲-۲ در مکعب مطابق شکل ۲-۵ به وسیله نخ با جرم قابل اغماض به هم متصل شده اند. اگر سیستم از حالت سکون رها شود، پیدا کنید مکعب M_1 در زمان t چقدر می لغزد. از اصطکاک صرف نظر کنید.

جواب حالت خاص: اگر $M_1 = M_2$ باشد، $x = gt^2/4$ است.

۳-۲ مطابق شکل ۲-۵ دو مکعب روی یک میز افقی در حال تماس با یکدیگرند. یک نیروی



شکل ۵۱-۲



شکل ۵۰-۲

افقی به یکی از این مکعبها وارد شده است. اگر $m_1 = 2\text{ kg}$ ، $m_2 = 1\text{ kg}$ و $F = 3\text{ N}$ باشد، نیروی تماس بین مکعبها را پیدا کنید.

۴-۲ دو ذره به جرمهای m و M که در فاصله R از یکدیگر قرار دارند تحت اثر نیروی جاذبه F با حرکت یکنواخت دایره‌ای به دور یکدیگر در گردش اند. سرعت زاویه‌ای ω رادیان در ثانیه است. نشان دهید که $R = (F/\omega^2)(1/m + 1/M)$.

۵-۲ مطابق شکل ۵۲-۲ ماشین آتوود دارای قرقره‌ای با جرم قابل اغماض است. کشش طناب و شتاب M را پیدا کنید.

جواب حالت خاص: اگر $M = 2m$ باشد، $A = 1/3g$ و $T = 2/3Mg$ است.

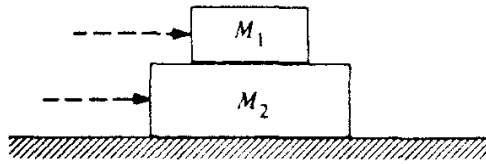
۶-۲ در یک مخلوطکن بتون، سیمان، شن، و آب از طریق غلتیدن در یک محفظه استوانه‌ای که به آرامی دوران می‌کند مخلوط شده‌اند. اگر این محفظه خیلی سریع بچرخد، ذرات شن به جای مخلوط شدن به دیواره طرف می‌چسبند.

فرض کنید که این محفظه مخلوطکن دارای شعاع R است و برمحوری افقی سوار شده باشد. بیشترین سرعتی که این محفظه می‌تواند با آن دوران کند، بدون اینکه ذرات به دیواره آن بچسبند، چقدر است؟ فرض کنید $g = 32\text{ ft/s}^2$ است.

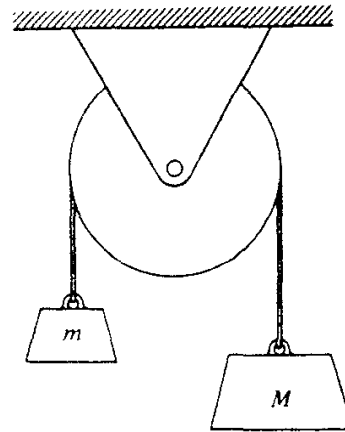
جواب حالت خاص: اگر $R = 1.1\text{ m}$ باشد، آنگاه دور در دقیقه ≈ 38 و $\omega_{\text{max}} = 3\text{ rad/s}$.

۷-۲ مکعبی به جرم M_1 مطابق شکل ۵۳-۲ روی مکعب دیگری به جرم M_2 واقع شده است و جرم اخیر نیز روی میز بدون اصطکاکی قرار گرفته است. ضریب اصطکاک بین مکعبها μ است. نیروی افقی بیشینه که می‌توان بر مکعبها وارد کرد تا آنها بدون لغزیدن روی یکدیگر شتاب بگیرند، در حالتی که (الف) نیرو بر مکعب ۱، (ب) نیرو بر مکعب ۲ وارد آید، چقدر است؟

۸-۲ یک مکعب ۴ کیلوگرمی مطابق شکل ۵۴-۲ روی یک مکعب ۵ کیلوگرمی که روی یک میز بدون اصطکاکی قرار گرفته، واقع شده است. ضریب اصطکاک بین دو مکعب چنان است که اگر نیروی افقی F برابر با ۲۷ نیوتون بر مکعب پایینی وارد شود، مکعبها شروع به لغزیدن می‌کنند. فرض کنید که این نیروی افقی اینک فقط به مکعب بالایی وارد شده است. مقدار نیروی بیشینه برای اینکه مکعبها بدون



شکل ۵۳-۲

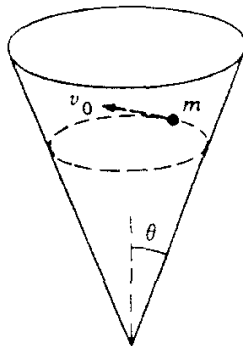


شکل ۵۲-۲

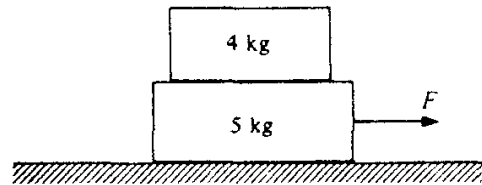
سر خوردن نسبت به همدیگر بلغزند چقدر است.

جواب: $F = 21/6 \text{ N}$.

۹-۲ ذره‌ای به جرم m در درون مخروطی بدون اصطکاک می‌لغزد (شکل ۵۵-۲). محور مخروط



شکل ۵۵-۲



شکل ۵۴-۲

قائم است، جهت نیروی گرانی به طرف پایین است. نیم زاویه رأس مخروط طبق شکل θ است.

مسیر ذره به صورت دایره و در یک صفحه افقی است. سرعت ذره v_0 است.

یک نمودار نیرو رسم کنید و شعاع مسیر دایره‌ای ذره را بر حسب v_0 و g پیدا کنید.

۱۰-۲ شعاع مدار یک ماهواره همگام با کره زمین را پیدا کنید (یک ماهواره همگام در هر ۲۴

ساعت یک بار به دور زمین می‌چرخد، به طوری که مکان آن نسبت به یک ایستگاه زمینی همواره ثابت

به نظر می‌آید). ساده‌ترین راه برای پیدا کردن جواب این است که مسافتها را بر حسب شعاع زمین بیان

کنید.

جواب: $66 R_e$.

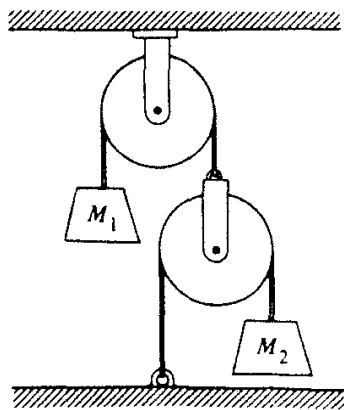
۱۱-۲ مطابق شکل ۵۶-۲، جرم m به وسیله دو نیم سیم به طول l ، به یک محور دوران کننده و

قائم متصل اند و با محور زاویه ۴۵ درجه می سازند. محور و جرم m هر دو با سرعت زاویه ای ω در حال دوران اند. جهت نیروی گرانی به طرف پایین است. (الف) یک نمودار نیروی واضح برای m بکشید. (ب) کشش سیمهای بالایی $T_{\text{بالا}}$ و پایینی $T_{\text{پایین}}$ را پیدا کنید.

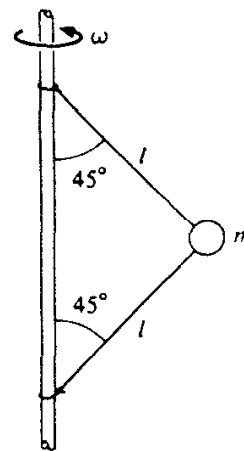
جواب حالت خاص: اگر $\omega^2 = \sqrt{2}g$ باشد، آنگاه $T_{\text{بالا}} = \sqrt{2}mg$.

۱۲-۲ اگر قوی و باجرات باشید، می توانید یک رومیزی را از زیر ظروف واقع بر آن به طور ناگهانی بکشید و خارج سازید. طولانیترین زمانی که طی آن رومیزی می تواند بیرون کشیده شود چقدر باید باشد تا لیوانی که در ۱۵ سانتیمتری لبه میز قرار دارد قبل از سقوط از میز به حالت سکون درآید. فرض کنید ضریب اصطکاک لیوان برای لغزیدن بر روی رومیزی یا روی میز برابر با ۰٫۵ باشد. (برای اینکه این عمل جالب توجه تر باشد باید پارچه چنان به سرعت کشیده شود که لیوان هیچ حرکت قابل ملاحظه ای نداشته باشد.)

۱۳-۲ جرمهای M_1 و M_2 مطابق شکل ۵۷-۲ به مجموعه ای از نخها و قرقره ها متصل شده اند.



شکل ۵۷-۲



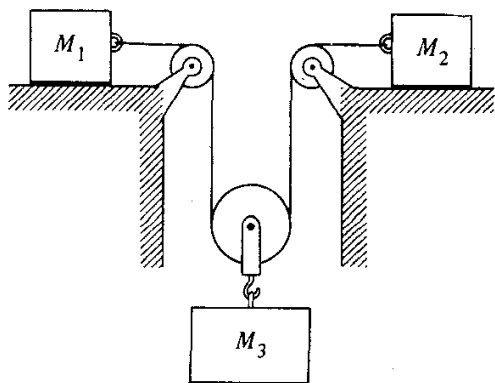
شکل ۵۶-۲

نخها بدون جرم و غیرقابل انبساط اند و قرقره ها بی جرم و بدون اصطکاک هستند. شتاب M_1 را پیدا کنید.

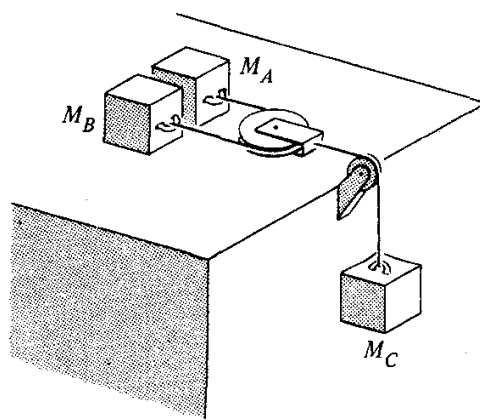
جواب حالت خاص: اگر $M_1 = M_2$ باشد، $\ddot{x} = g/5$ است.

۱۴-۲ دو جرم A و B روی یک میز بدون اصطکاکی قرار دارند (شکل ۵۸-۲). جرمها به دو سر طنابی سبک به طول l که از روی قرقره ای به جرم قابل اغماض عبور می کند، متصل اند. این قرقره به طنابی که جرم C به آن آویخته است متصل است. شتاب هریک از جرمها را پیدا کنید. (می توانید صحیح بودن جواب خود را با بررسی حالت خاص امتحان کنید. برای مثال حالتی که $M_A = 0$ یا $M_A = M_B = M_C$.)

۱۵-۲ در شکل ۵۹-۲ از قرقره و طناب بی جرم استفاده می شود. ضریب اصطکاک بین جرمها



شکل ۲-۵۹



شکل ۲-۵۸

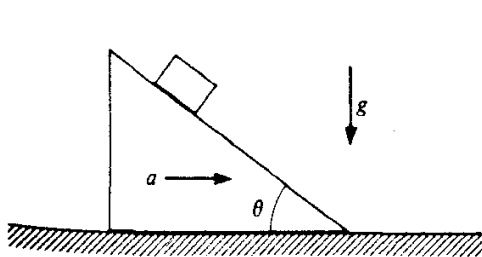
و سطوح افقی μ است. فرض کنید که M_1 و M_2 در حال لغزیدن است و جهت نیروی گرانی به طرف پایین است. (الف) بارسم یک نمودار نیرو تمام مؤلفه‌های مورد استفاده را نشان دهید. (ب) شتابها چگونه به هم مربوط اند؟ (ج) کشش طناب (T) را پیدا کنید.

جواب: $T = (\mu + 1)g / [2/M_3 + 1/(2M_1) + 1/(2M_2)]$

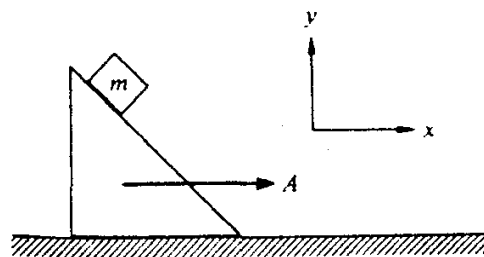
۲-۱۶ یک گوه 45° درجه‌ای در امتداد نیرو با شتاب ثابت A مطابق شکل ۲-۶۰ کشیده می‌شود. مکعبی به جرم m بدون اصطکاک روی گوه می‌لغزد. شتاب این مکعب را پیدا کنید. (جهت نیروی گرانی به طرف پایین است).

جواب حالت خاص: اگر $A = 3g$ باشد، آنگاه $\ddot{y} = g$.

۲-۱۷ مکعبی روی گوه‌ای با زاویه شیب θ قرار دارد (شکل ۲-۶۱). ضریب اصطکاک بین



شکل ۲-۶۱



شکل ۲-۶۰

مکعب و سطح μ است. (الف) پیدا کنید بیشینه مقدار θ را برای اینکه مکعب بدون حرکت روی گوه باقی بماند در صورتی که گوه در جای معینی ثابت است.

جواب: $\tan \theta = \mu$.

(ب) مطابق شکل، به گوه شتاب افقی a داده می‌شود. با فرض اینکه $\tan \theta < \mu$ باشد. پیدا کنید

کمینه شتاب را برای اینکه مکعب روی گوه بتواند بدون لغزش باقی بماند.

جواب حالت خاص: اگر $\theta = \pi/4$ باشد، آنگاه $a_{\min} = g(1 - \mu)/(1 + \mu)$.

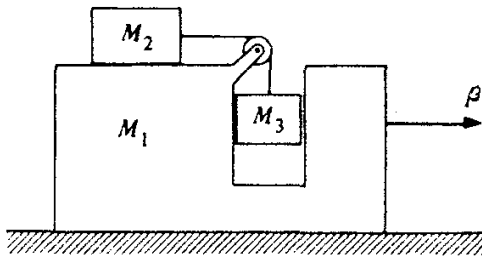
(ج) حالت ب را تکرار کنید ولی این بار بیشینه مقدار شتاب را پیدا کنید.

جواب حالت خاص: اگر $\theta = \pi/4$ باشد، آنگاه $a_{\max} = g(1 + \mu)/(1 - \mu)$.


۱۸-۲ نقاشی به جرم M روی سکویی به جرم m ایستاده و خود را توسط دو طنابی که مطابق شکل ۶۲-۲ از روی قرقره‌ها می‌گذرند بالا می‌کشد. او هر دو طناب را با نیروی F می‌کشد و با شتاب ثابت a به طرف بالا شتاب می‌گیرد. شتاب a را پیدا کنید و از این واقعیت که هیچ‌کس این عمل را برای مدت طولانی نمی‌تواند انجام دهد، صرف‌نظر کنید.

جواب حالت خاص: اگر $M = m$ و $F = Mg$ باشد، آنگاه $a = g$.

۱۹-۲ در دستگاه آموزشی شکل ۶۳-۲، همه سطوح بدون اصطکاک‌اند. نیروی F وارد بر M_1



شکل ۶۳-۲



شکل ۶۲-۲

چقدر باید باشد تا مانع سقوط یا صعود M_2 شود؟

جواب حالت خاص: برای جرم‌های مساوی، داریم $F = 3Mg$.

۲۰-۲ دستگاه آموزشی شکل ۶۳-۲ را در حالتی که F صفر است در نظر بگیرید. شتاب M_1 را

پیدا کنید.

جواب: $a_1 = -M_2 M_3 g / (M_1 M_2 + M_1 M_3 + 2M_2 M_3 + M_1^2)$.

۲۱-۲ طناب یکنواختی به جرم m و به طول l به مکعبی به جرم M متصل است. طناب با نیروی

F کشیده می‌شود. کشش را در فاصله x از انتهای طناب پیدا کنید. از گرانش صرف‌نظر کنید.

۲۲-۲ طناب یکنواختی به وزن W بین دو درخت مطابق شکل ۶۴-۲ آویخته شده است. دوسر

طناب ارتفاع یکسانی دارند و هرکدام از آنها با درختها زاویه θ می‌سازند. پیدا کنید: (الف) کشش را در

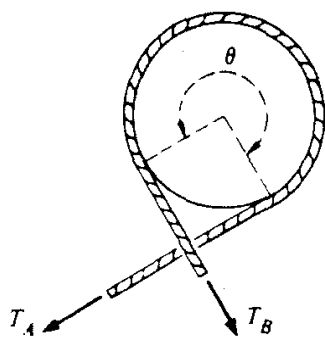
دو انتهای طناب. (ب) کشش را در وسط طناب.

جواب حالت خاص: اگر $\theta = 45^\circ$ باشد، آن گاه $T_{\text{وسط}} = W/2$ و $T_{\text{انتها}} = W/\sqrt{2}$.
 ۲۳-۲ قطعه سیمی به طول l و به جرم M به شکل حلقه دایره‌ای بسته شده است و با سرعت زاویه‌ای ثابت ω طول مرکز دایره دوران می‌کند. کشش سیم را پیدا کنید.

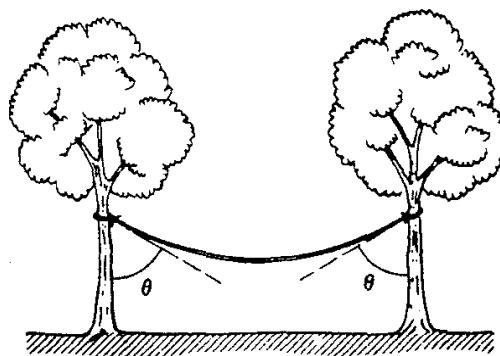
پیشنهاد: نمودار نیرو را برای قطعه کوچکی از حلقه که مقابل به زاویه $\Delta\theta$ است، رسم کنید.

جواب: $T = M\omega^2 l / (2\pi)^2$.

۲۴-۲ وسیله‌ای به نام چرخ تسمه در روی کشتی برای کنترل طناب تحت کشش زیاد به کار می‌رود. این طناب (معمولاً با چندین دور) حول استوانه ثابتی پیچیده می‌شود. (شکل ۶۵-۲ فقط سه چهارم



شکل ۶۵-۲



شکل ۶۴-۲

دور را نشان می‌دهد). بار روی طناب، آن را با نیروی T_A می‌کشد، ملوان آن را با نیروی کمتری مانند T_B نگه می‌دارد. آیا می‌توانید نشان دهید $T_B = T_A e^{-\mu\theta}$ ، که در آن μ ضریب اصطکاک و θ زاویه کل احاطه و تماس طناب و استوانه است.

۲۵-۲ کوتاهترین زمان تناوب ممکن برای دوران دو کره توپر همسان را که تحت جاذبه گرانشی در فضای تهی در مدار دایره‌ای حول نقطه‌ای در وسط خط واصل مراکز خود دوران می‌کنند، پیدا کنید. (کره‌ها را از هر جنسی که قابل دسترسی باشد می‌توانید در نظر بگیرید).

۲۶-۲ نیروی گرانشی وارد بر جسمی که به فاصله R از مرکز یک جرم کروی یکنواخت واقع است، صرفاً به خاطر جرمی است که در فاصله $r \leq R$ نسبت به مرکز کره، قرار دارد. نیرویی که این جرم وارد می‌کند درست مانند آن است که یک جرم نقطه‌ای واقع در مبدأ آن را اعمال کرده است.

با استفاده از نتیجه فوق نشان دهید که اگر حفره‌ای در زمین ایجاد کنید و سپس به داخل آن سقوط کنید، حرکت هماهنگ ساده‌ای نسبت به مرکز زمین انجام خواهید داد. پیدا کنید زمانی را که طول می‌کشد تا به نقطه شروع حرکت برگردید و نشان دهید که این مقدار برابر است با زمانی که یک ماهواره نیاز دارد تا زمین را در یک مدار سطح پایین $R_e \approx r$ دور بزند. برای رسیدن به این نتیجه، لازم است زمین را به عنوان یک کره با چگالی یکنواخت در نظر بگیرید، و نیز باید از همه اصطکاکها و اثرهای مربوط به

دوران زمین صرفنظر کنید.

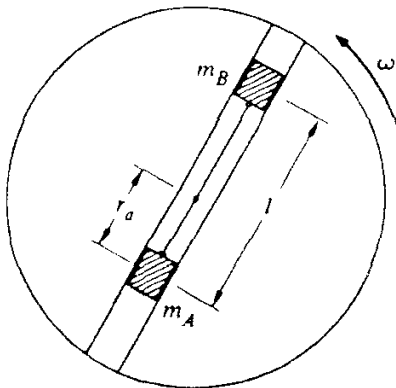
۲۷-۲ به عنوان شکل دیگری از مسئله قبل، نشان دهید که اگر این حفره خیلی دورتر از مرکز هم عبور کرده باشد، شما باز هم حرکت هماهنگ ساده‌ای با همان زمان تناوب انجام خواهید داد.

۲۸-۲ اتومبیلی مطابق شکل ۶۶-۲ وارد پیچی به شعاع R می‌شود. این جاده دارای زاویه θ است، و ضریب اصطکاک بین چرخها و جاده μ است. بیشینه و کمینه سرعتها را برای اینکه اتومبیل بدون سُرخوردن به اطراف روی جاده بماند پیدا کنید.

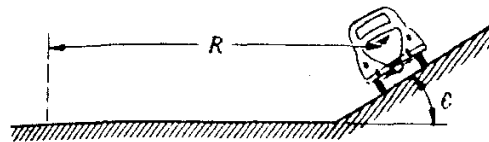
جواب حالت خاص: اگر $\mu = 1$ و $\theta = \pi/4$ باشد، هر سرعتی قابل قبول است.

۲۹-۲ اتومبیلی روی سکوی بزرگی که با سرعت زاویه‌ای ثابت ω دوران می‌کند، در حالت حرکت است. در $t = 0$ راننده مبدأ را ترک و در امتداد یکی از شعاعهای سکو به طرف خارج با سرعت ثابت V_0 حرکت می‌کند. وزن کل اتومبیل W و ضریب اصطکاک بین اتومبیل و سکو μ است. (الف) با استفاده از مختصات قطبی شتاب اتومبیل را بر حسب تابعی از زمان پیدا کنید. بارسم یک نمودار برداری، مؤلفه‌های شتاب را در زمانی که $t > 0$ است نشان دهید. (ب) زمانی را که در آن اتومبیل شروع به سرخوردن می‌کند پیدا کنید. (ج) جهت نیروی اصطکاک را نسبت به بردار لحظه‌ای مکان r درست قبل از سرخوردن اتومبیل پیدا کنید. نتایج خود را در یک نمودار به طور واضح نشان دهید.

۳۰-۲ صفحه‌ای مطابق شکل ۶۷-۲ با سرعت زاویه‌ای ثابت ω دوران می‌کند. دو جرم m_A



شکل ۶۷-۲



شکل ۶۶-۲

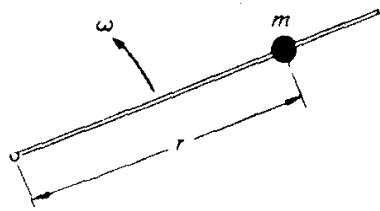
و m_B در شیاری که از مرکز صفحه می‌گذرد بدون اصطکاک می‌لغزد. در ابتدا جرمها به وسیله سیم سبکی به طول l به هم متصل‌اند و توسط گیره‌ای چنان قرار می‌گیرند که جرم m_A در فاصله r_A از مرکز باشد. در اینجا از گزارش صرفنظر کنید. در $t = 0$ گیره برداشته می‌شود و جرمها برای لغزیدن آماده می‌شوند.

\ddot{r}_A را بلافاصله بعد از اینکه گیره برداشته می‌شود بر حسب m_A, m_B, l, r_A, ω پیدا کنید.

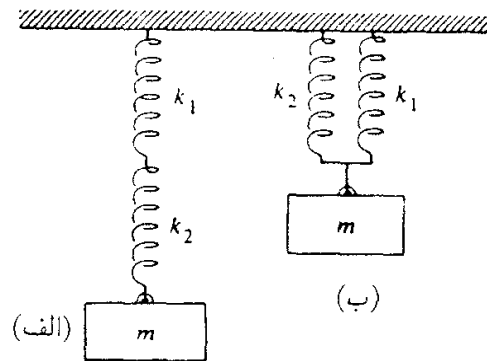
۳۱-۲ در هر یک از دو وضعیت نشان داده شده (شکل ۲-۶۸)، بسامد نوسان جرم m را که توسط دو فنر با ثابتهای k_1 و k_2 آویزان شده است، پیدا کنید.

جواب حالت خاص: اگر $k_1 = k_2 = k$ باشد، $\omega_a = \sqrt{k/2m}$ ، $\omega_b = \sqrt{2k/m}$.

۳۲-۲ چرخنی به شعاع R با سرعت V روی زمین می‌غلتد. سنگریزه‌ای را با احتیاط در بالای چرخ طوری روی آن رها کرده‌ایم که به طور لحظه‌ای در حال سکون است. (الف) نشان دهید که اگر $V > \sqrt{Rg}$ باشد این سنگریزه بلافاصله از چرخ جدا می‌شود. (ب) نشان دهید در حالتی که $V < \sqrt{Rg}$ و ضریب اصطکاک $\mu = 1$ است. سنگریزه وقتی شروع به لغزش می‌کند چرخ به اندازه زاویه $\theta = \arccos[(1/\sqrt{2})(V^2/Rg)] - \pi/4$ دوران کرده باشد.



شکل ۲-۶۹



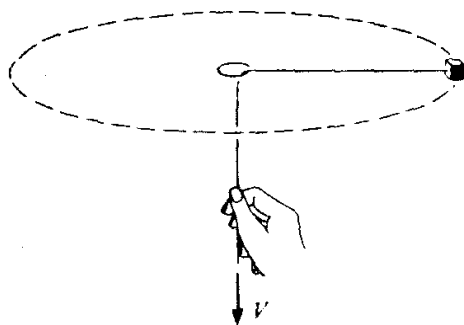
شکل ۲-۶۸

۳۳-۲ ذره‌ای به جرم m می‌تواند روی میله نازکی مطابق شکل ۲-۶۹ بلغزد. این میله حول یک انتهای خود با سرعت زاویه‌ای ثابت ω در یک صفحه دوران می‌کند. نشان دهید که حرکت به وسیله رابطه $r = Ae^{-\gamma t} + Be^{+\gamma t}$ معین می‌شود که در آن γ مقدار ثابتی است که باید پیدا شود و A و B ثابتهای اختیاری اند. از گرانش صرف نظر کنید.

نشان دهید با انتخاب شرایط اولیه بخصوص [یعنی، $r(t=0)$ و $v(t=0)$] امکان پیدا کردن جوابی که در آن r به طور بی‌بسته با زمان کاهش یابد وجود دارد، ولی با هر شرط دیگری r سرانجام افزایش خواهد یافت. (حالتی را که ذره با مبدأ برخورد می‌کند مستثنی کنید).

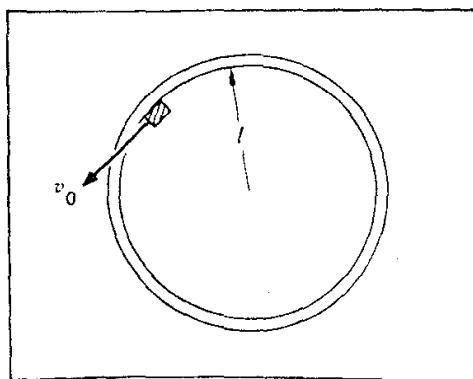
۳۴-۲ جرم m مطابق شکل ۲-۷۰ به وسیله تار که از میان حلقه‌ای عبور می‌کند می‌چرخد. از گرانش صرف نظر کنید. در ابتدا این جرم در فاصله r_0 از مرکز قرار دارد و با سرعت زاویه‌ای ω دوران می‌کند. نخ در $t=0$ با سرعت ثابت V کشیده می‌شود به طوری که فاصله شعاعی جرم کاهش می‌یابد. نمودار نیرو را رسم کنید و معادله دیفرانسیلی برای ω بیابید. این معادله خیلی ساده است و می‌توان آن را یا از راه تجسس و یا به وسیله انتگرال‌گیری معمولی حل کرد. موارد زیر را پیدا کنید. (الف) ωt .

جواب حالت خاص: برای $v t = r_0 / 2$ داریم $\omega = 4\omega_0$.
(ب) نیروی لازم برای کشیدن نخ.



شکل ۷۰-۲

۲-۳۵ این مسئله مستلزم حل یک معادله دیفرانسیل ساده‌ای است. مکعبی به جرم m بر روی میز بدون اصطکاک می‌لغزد (شکل ۲-۷۱). این مکعب مقید است که داخل حلقه‌ای به شعاع l که به



شکل ۷۱-۲

میز متصل است حرکت کند. در $t = 0$ ، مکعب در مسیر داخلی حلقه با سرعت v_0 در حرکت است. (یعنی، در امتداد مماس). ضریب اصطکاک بین مکعب و حلقه μ است. (الف) سرعت مکعب را در زمانهای بعدی پیدا کنید.

جواب: $v_0 / [1 + (\mu v_0 t / l)]$.

(ب) مکان مکعب را در زمانهای بعدی پیدا کنید.

۲-۳۶ این مسئله شامل یک معادله دیفرانسیل ساده‌ای است. باید بتوانید بعد از مختصر تغییراتی

از آن انتگرال بگیرید.

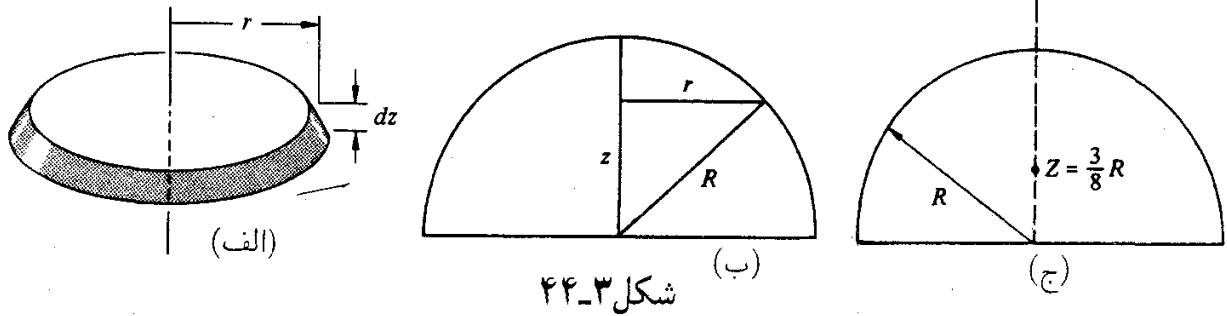
ذره‌ای به جرم m در امتداد خط راستی حرکت می‌کند، و نیروی بازدارنده $F = be^{\alpha v}$ بر آن وارد

می‌شود (که همواره در خلاف جهت حرکت است). b و α مقادیر ثابت و v سرعت است. در $t = 0$ ذره با سرعت v_0 حرکت می‌کند. سرعت را در زمانهای بعدی پیدا کنید.

$$v(t) = (v_0/\alpha) \ln[\alpha bt/m + e^{-\alpha v_0 t}]$$

جواب:

۲-۳۷ شرکتی به منظور تبلیغات تصمیم به برگزاری مسابقهٔ سرعت هاورکرافت می‌گیرد. هاورکرافت با دمیدن هوا به طرف پایین، خود را نگه می‌دارد و دارای پروانهٔ بزرگ ثابتی در بالای بدنه است که برای حرکت به جلو است. متأسفانه هاورکرافت وسیله‌ای به عنوان فرمان ندارد، و در نتیجه خلبان در چرخش با سرعت‌های زیاد دچار اشکال می‌شود. شرکت برای برطرف کردن این مشکل تصمیم گرفت یک سکوی پرواز کاسه شکلی طراحی کند به طوری که وقتی هاورکرافت با سرعت زیاد وارد آن می‌شود بدون احتیاج به فرمان بتواند در امتداد مسیری دایره‌ای قرار گیرد. برای طراحی و ساختن این سکو با مهندسی قرارداد بسته شد. مهندس مزبور پس از پایان کار با عجله کشور را ترک کرد. پس از برگزاری اولین مسابقه شرکت دریافت که دقیقاً یک زمان ثابت T برای هاورکرافت لازم است تا صرف نظر از سرعت بتواند این مسیر را دور بزند. معادله‌ای برای سطح مقطع این سکو بر حسب T پیدا کنید.



شکل ۳-۴۴

آن برابر $dM = \rho dV = (M/V)(dV)$ است که $V = \frac{2}{3}\pi R^3$ است. از این رو

$$\begin{aligned} Z &= \frac{1}{M} \int \frac{M}{V} z dV \\ &= \frac{1}{V} \int_{z=0}^R \pi r^2 z dz \end{aligned}$$

برای تعیین انتگرال باید r را بر حسب z پیدا کنیم (شکل ۳-۴۴ ب). از آنجا که $r^2 = R^2 - z^2$ است، داریم

$$\begin{aligned} Z &= \frac{\pi}{V} \int_0^R z(R^2 - z^2) dz \\ &= \frac{\pi}{V} \left(\frac{1}{2} z^2 R^2 - \frac{1}{4} z^4 \right) \Big|_0^R \\ &= \frac{\pi}{V} \left(\frac{1}{2} R^4 - \frac{1}{4} R^4 \right) \\ &= \frac{\frac{1}{4} \pi R^4}{\frac{2}{3} \pi R^3} \\ &= \frac{3}{8} R \end{aligned}$$

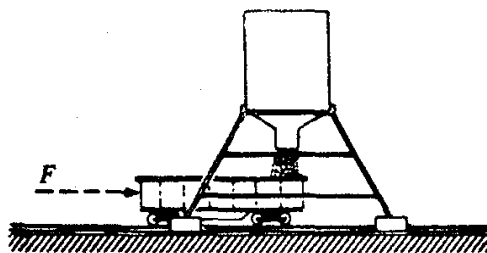
مسائل

۱-۳ چگالی میله نازکی به طول l بر حسب فاصله x از یک انتهای آن طبق رابطه $\rho = \rho_0 x^2/l^2$ تغییر می‌کند. مرکز جرم آن را پیدا کنید.

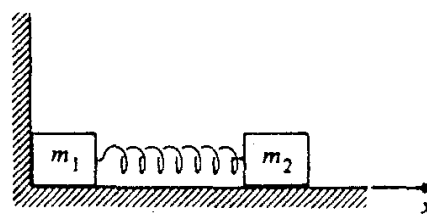
جواب: $X = 3l/4$.

۲-۳ مرکز جرم یک ورقه نازک یکنواخت به شکل مثلث متساوی الاضلاع به ضلع a را پیدا کنید.

۳-۳ فرض کنید سیستمی از چندین جسم تشکیل شده است، و مرکز جرم هر کدام از اجسام معلوم است. ثابت کنید که مرکز جرم سیستم را با در نظر گرفتن هر جسم به عنوان ذره‌ای که در مرکز جرم خود متمرکز شده می‌توان پیدا کرد.



شکل ۳-۴۶



شکل ۳-۴۵

۳-۴ یک پرتابه حامل وسایل سنجش به طور اتفاقی در بالای مسیر خود منفجر می شود. مسافت افقی بین نقطه پرتاب و نقطه انفجار L است. پرتابه به دو تکه تقسیم می شود که به طور افقی از هم دور می شوند. تکه بزرگتر دارای جرمی به اندازه سه برابر جرم تکه کوچکتر است. در مقابل تعجب دانشمندان دست اندرکار این مسئله، تکه کوچکتر در ایستگاه پرتاب به زمین برمی گردد. تکه بزرگتر چقدر دورتر از آن به زمین می نشیند؟ از مقاومت هوا و اثر انحنای زمین صرف نظر کنید.

۳-۵ یک بازیگر آکروبات سیرک به جرم M با سرعت اولیه v از روی تور مخصوص آکروبات مستقیماً به طرف بالا پرش می کند. هنگام پریدن به طرف بالا، در ارتفاع h بالای تور میمون تربیت شده ای را از جایگاهش برمی دارد و با خود همراه می برد.

حداکثر ارتفاعی که این دو کسب می کنند چقدر است؟

۳-۶ یک هواپیمای کوچک به وزن 1000 کیلوگرم در یک باند کوتاه فرود اضطراری می کند، و با موتور خاموش با سرعت 40 m/s روی باند می نشیند. قلبی روی این هواپیما قرار دارد که به وسیله کابلی به کیسه شنی به وزن 100 کیلوگرم متصل است و آن را در امتداد حرکت بر روی زمین می کشد. اگر ضریب اصطکاک بین کیسه شن و باند هواپیما 0.4 باشد، و ترمزهای هواپیما هم نیروی کاهنده اضافی 150 کیلوگرم نیرو ایجاد کنند. این هواپیما تا توقف کامل چقدر راه خواهد رفت؟

۳-۷ سیستمی مطابق شکل ۳-۴۵ تشکیل شده از دو مکعب به جرم m_1 و m_2 که توسط فنر بدون جرمی با ثابت فنری k به هم متصل اند. این مکعبها روی صفحه بدون اصطکاک می لغزند. طول فنر کشیده شده l است. در آغاز m_2 طوری نگهداشته شده که فنر تا طول $l/2$ فشرده می شود و m_1 مطابق شکل به مانعی تکیه دارد. m_2 در لحظه $t = 0$ رها می شود.

حرکت مرکز جرم سیستم را برحسب تابعی از زمان پیدا کنید.

۳-۸ شخصی به جرم 50 کیلوگرم به طور مستقیم به هوا می پرد، و 8 متر از کف زمین بالا می رود.

برای رسیدن به این ارتفاع، این شخص از طرف زمین چه ضربه ای دریافت می کند؟

۳-۹ یک واگن باری به جرم M محتوی مقداری شن به جرم m است. در لحظه $t = 0$ نیروی ثابت افقی F در جهت غلتش بر آن وارد می شود و همزمان با آن در یچه ای در ته آن باز می شود که شن با آهنگ ثابت dm/dt از آن خارج می شود. سرعت واگن باری را وقتی که تمام شن خارج شده است

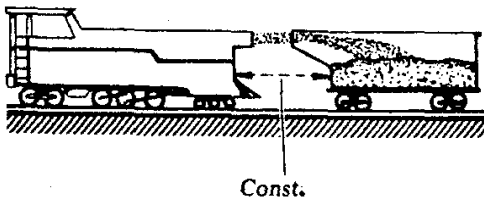
پیدا کنید. فرض کنید در لحظه $t = 0$ واگن باری در حال سکون است.

۳-۱۰ یک واگن باری خالی به جرم M از حالت سکون تحت اثر نیروی F شروع به حرکت می‌کند (شکل ۳-۴۶). در همین زمان، از قیف مخصوصی که در امتداد مسیر در حالت سکون قرار دارد، شن با آهنگ ثابت b به داخل واگن شروع به ریزش می‌کند.

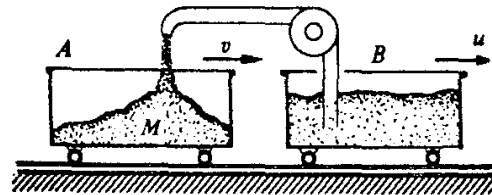
سرعت را پس از انتقال جرم m شن پیدا کنید. (راهنمایی: این مسئله را می‌توان به سادگی در یکی دو سطر حل کرد.)

جواب حالت خاص: اگر $M = 500 \text{ kg}$ ، $b = 20 \text{ kg/s}$ ، و $F = 100 \text{ N}$ باشد، آنگاه در زمان $t = 10 \text{ s}$ ، $v = 1.4 \text{ m/s}$ است.

۳-۱۱ از ارابه B موادی با آهنگ b کیلوگرم در ثانیه مطابق شکل ۳-۴۷ به داخل ارابه ریخته



شکل ۳-۴۸



شکل ۳-۴۷

می‌شود. این مواد دهانه مسیر را به صورت قائم و به طرف پایین ترک می‌کنند، به طوری که سرعتشان همان سرعت افقی ارابه B یعنی u است. مطابق شکل، در لحظه مورد نظر ارابه A دارای جرم M و سرعت v است. شتاب لحظه‌ای A یعنی dv/dt را پیدا کنید.

۳-۱۲ یک لوکوموتیو شن‌پاش، مطابق شکل ۳-۴۸ شن را به صورت افقی به داخل یک واگن باری می‌پاشد. لوکوموتیو و واگن باری به هم متصل نیستند. راننده لوکوموتیو سرعت خود را چنان نگه می‌دارد که فاصله آن تا واگن باری ثابت بماند. شن با آهنگ $dm/dt = 10 \text{ kg/s}$ و سرعت 5 m/s نسبت به لوکوموتیو انتقال می‌یابد. واگن از حالت سکون با جرم 2000 kg شروع به کار می‌کند. سرعت واگن را بعد از 100 ثانیه پیدا کنید.

۳-۱۳ یک بالابر اسکی متشکل از یک تسمه بلند است که حول دو قرقره که یکی در پایین و دیگری در بالای شیب قرار دارد می‌چرخد. قرقره‌ها توسط یک موتور الکتریکی قوی به حرکت درمی‌آیند به طوری که تسمه با سرعت ثابت 1.5 متر بر ثانیه حرکت می‌کند. قرقره‌ها به فاصله 100 متر از یکدیگر قرار دارند، و زاویه شیب 20 درجه است.

اسکی‌بازها با گرفتن تسمه به بالا کشیده می‌شوند، و در آنجا با رها کردن طناب به پایین سُر می‌خورند.

اگر در هر ۵ ثانیه یک بار اسکی بازی به جرم 70 کیلوگرم از بالا بر استفاده کند، نیروی متوسط مورد نیاز برای کشیدن تسمه چقدر است؟ از اصطکاک بین برف و اسکی صرف نظر می‌کنیم.


۱۴-۳ N نفر هر یک به جرم m روی واگن تخت راه آهن به جرم M ایستاده‌اند. این افراد از یک انتهای این واگن با سرعت u نسبت به واگن به خارج می‌پرند. در نتیجه، واگن بدون اصطکاک در جهت مخالف به حرکت درمی‌آید. (الف) اگر همه افراد در یک زمان به خارج بپرند، سرعت نهایی واگن چقدر است؟ (ب) اگر این افراد هر کدام به دنبال دیگری به خارج بپرند، سرعت نهایی واگن چقدر خواهد بود؟ (جواب را می‌توانید به صورت مجموع جملات بنویسید). (ج) در کدامیک از حالت‌های (الف) یا (ب)، بزرگترین سرعت نهایی برای واگن حاصل می‌شود؟ آیا می‌توانید توضیح فیزیکی ساده‌ای برای جواب خود ارائه دهید؟

۱۵-۳ طنابی به جرم M و به طول l روی میز بدون اصطکاک قرار دارد، قسمت کوچک l_0 آن از میان سوراخی آویزان است. ابتدا طناب در حالت سکون است. (الف) جواب کلی $x(t)$ را برای طولی از طناب که از سوراخ می‌گذرد به دست آورید.

جواب: $x = Ae^{\gamma t} + Be^{-\gamma t}$ که در آن $\gamma^2 = g/l$.

(ب) مقادیر ثابت A و B را طوری پیدا کنید که شرایط اولیه صادق باشد.

۱۶-۳ از یک شیر آتش‌نشانی که قطر دهانه آن D است مطابق شکل ۴۹-۳ آب با سرعت V_0



شکل ۴۹-۳

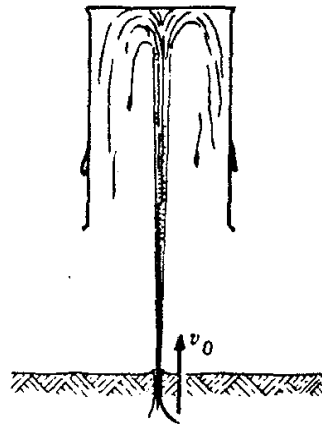
خارج می‌شود. نیروی واکنش وارد بر شیر آتش‌نشانی چقدر است؟

۱۷-۳ یک ظرف زباله وارونه به وزن W توسط آب حاصل از یک آبفشان مطابق شکل ۵۰-۳ به صورت معلق در هوا قرار دارد. آب با سرعت v_0 از زمین با آهنگ ثابت dm/dt فوران می‌کند. حداکثر ارتفاعی که این ظرف زباله کسب می‌کند چقدر است؟ برای رسیدن به حداکثر ارتفاع چه فرضی باید پذیرفته شود؟

جواب حالت خاص: اگر $v_0 = 20 \text{ m/s}$ و $W = 10 \text{ kg}$ و $dm/dt = 5 \text{ kg/s}$ باشد،

$h_{\max} \approx 17 \text{ m}$ است.

۱۸-۳ یک قطره باران به جرم اولیه M_0 از حالت سکون تحت اثر گرانش شروع به سقوط می‌کند.



شکل ۳-۵۰

فرض می‌کنیم که جرم این قطره با آهنگی متناسب، حاصلضرب جرم لحظه‌ای و سرعت لحظه‌ای آن در ابرافزایش می‌یابد

$$\frac{dM}{dt} = kMV$$

که در آن k مقدار ثابتی است.

نشان دهید که سرعت قطره سرانجام عملاً به صورت ثابت در می‌آید، و رابطه‌ای برای سرعت نهایی به دست آورید. از مقاومت هوا صرف‌نظر کنید.

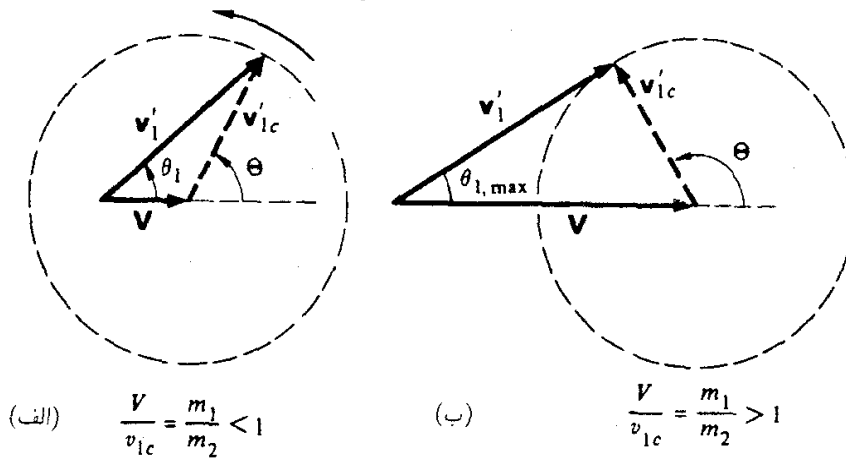
۱۹-۳ کاسه‌ی پراز آبی در معرض ریزش باران قرار دارد. مساحت سطح آن 500 سانتیمتر مربع است. باران با سرعت 5 متر بر ثانیه با آهنگ $10^{-3} \text{ g/cm}^2 \text{ s}$ مستقیماً به طرف پایین می‌آید. اگر آبهای اضافی با سرعتی قابل اغماض از کاسه خارج شود، نیروی وارد بر کاسه را بر اثر ریزش باران پیدا کنید.

اگر کاسه با سرعت یکنواخت 2 متر بر ثانیه به طرف بالا حرکت کند، این نیرو چقدر است؟

۲۰-۳ موشکی در یک میدان یکنواخت گرانشی با خارج ساختن گاز با سرعت ثابت u از حالت سکون صعود می‌کند. فرض کنید آهنگ خروج جرم از موشک با رابطه $dm/dt = \gamma m$ داده می‌شود، که در آن m جرم لحظه‌ای موشک و γ مقدار ثابتی است. موشک توسط مقاومت هوا با نیروی mbv کند می‌شود که در آن b مقدار ثابتی است. سرعت موشک را بر حسب تابعی از زمان پیدا کنید.

جواب حالت خاص: سرعت نهایی عبارت است از $(\gamma u - g)/b$.

افزایش θ



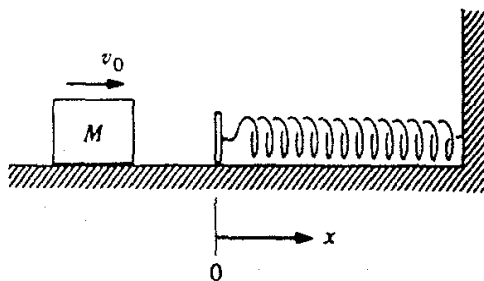
شکل ۴-۴۸

منحرف کند. ذره فرودی می‌کوشد در جهت خود به پیشروی ادامه دهد، بدون توجه به اینکه ذره سبک چگونه عمل می‌کند.

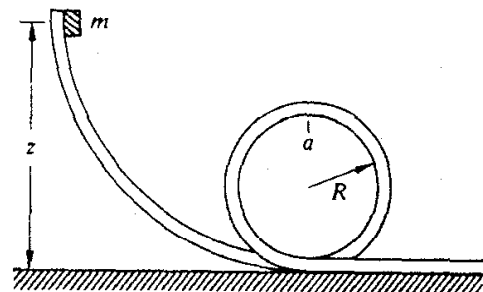
مسائل

۱-۴ قطعه کوچکی به جرم m از حالت سکون روی مسیر حلقوی بدون اصطکاکی مطابق شکل ۴-۴۹ شروع به لغزیدن می‌کند. ارتفاع اولیه آن (z) چقدر باید باشد تا اینکه m در بالای مسیر (در نقطه a) با نیرویی برابر با وزن خود به طرف خارج فشار وارد کند.
جواب: $z = 3R$.

۲-۴ قطعه مکعبی به جرم M روی یک میز افقی با سرعت v_0 می‌لغزد. در $x = 0$ این قطعه با فنری که ثابت آن k است برخورد می‌کند و در این لحظه مطابق شکل ۴-۵۰ اعمال نیروی اصطکاکی



شکل ۴-۵۰



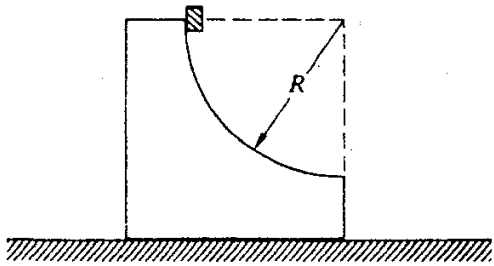
شکل ۴-۴۹

شروع می‌شود. ضریب اصطکاکی متغیر است و از رابطه $\mu = bx$ به دست می‌آید، که در آن b مقدار ثابتی است. انرژی مکانیکی از دست رفته را در زمانی که قطعه برای اولین بار به طور آنی به حالت سکون می‌رسد، تعیین کنید.

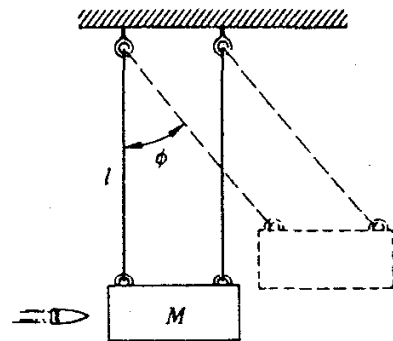
۳-۴ ساده‌ترین راه اندازه‌گیری سرعت یک گلوله، استفاده از آونگ بالیستیک است. طبق شکل ۵۱-۴، این آونگ از یک قطعه مکعب چوبی به جرم M تشکیل شده است که گلوله به داخل آن شلیک می‌شود. این قطعه توسط کابل‌هایی به طول l به صورت معلق درآمده است و برخورد گلوله باعث می‌شود که این قطعه چوب با یک زاویه بیشینه ϕ مطابق شکل به نوسان درآید. سرعت اولیه گلوله v و جرم آن m است. (الف) بلافاصله بعد از اینکه این گلوله به حالت سکون درآمد، قطعه با چه سرعتی حرکت می‌کند؟ (فرض کنید این عمل خیلی سریع اتفاق می‌افتد.) (ب) نشان دهید که با اندازه‌گیری l ، M ، m و ϕ می‌توانیم سرعت گلوله را پیدا کنیم.

$$v = [(m + M)/m] \sqrt{2gl(1 - \cos \phi)}$$

۴-۴ مکعب کوچکی به جرم m در مسیر دایره‌شکلی به شعاع R که از قطعه بزرگی به جرم M بریده شده مطابق شکل ۵۲-۴ به طرف پایین می‌لغزد. قطعه M روی میزی قرار دارد و هر دو قطعه بدون



شکل ۵۲-۴



شکل ۵۱-۴

اصطکاک حرکت می‌کنند. این قطعات ابتدا در حالت سکون اند و m از بالای مسیر شروع به حرکت می‌کند. سرعت v مکعب را وقتی که از قطعه جدا می‌شود پیدا کنید.

$$v = \sqrt{gR}$$

جواب حالت خاص: اگر $m = M$ باشد، آنگاه $v = \sqrt{gR}$.

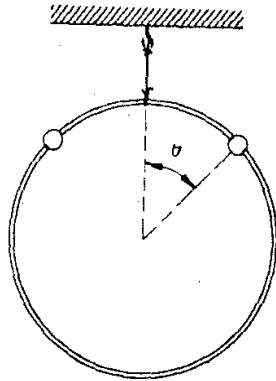
۵-۴ جرم m روی میز بدون اصطکاک می‌چرخد، این جرم به وسیله سیمی که از سوراخی در سطح یک میز عبور می‌کند در حال حرکت دایره‌ای نگهداشته می‌شود. سیم به آرامی از سوراخ کشیده می‌شود به طوری که شعاع دایره از l_1 به l_2 تغییر می‌کند. نشان دهید کار انجام شده در فرایند کشیدن سیم با افزایش انرژی جنبشی جرم برابر است.

۶-۴ قطعه مکعب کوچکی از حالت سکون از بالای کره بدون اصطکاک به شعاع R مطابق شکل ۵۳-۴ به پایین می‌لغزد. با توجه به شکل، این قطعه چقدر، x پایینتر از رأس کره، تماس خود را با کره از دست می‌دهد. فرض کنید که کره حرکت نمی‌کند.

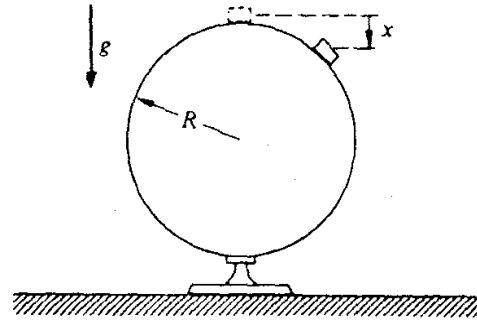
$$x = R/3$$

جواب: $R/3$.

۷-۴ حلقه‌ای به جرم M توسط نخ‌ی آویزان است، و دو مهره به جرم m روی آن بدون اصطکاک می‌لغزند (شکل ۵۴-۴). مهره‌ها از بالای حلقه و به‌طور همزمان رها شده‌اند، و به‌طرف پایین در دو جهت



شکل ۵۴-۴

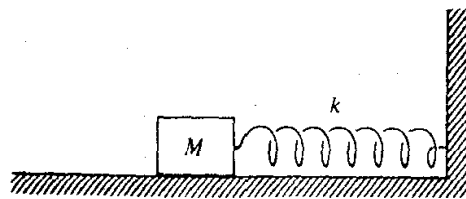


شکل ۵۳-۴

مخالف می‌لغزند. نشان دهید اگر $m > 3M/2$ باشد حلقه شروع به بالا رفتن می‌کند، و زاویه‌ای که در آن این عمل اتفاق می‌افتد چقدر است؟

جواب حالت خاص: اگر $M = 0$ ، آنگاه $\theta = \arccos 2/3$.

۸-۴ قطعه مکعبی مطابق شکل ۵۵-۴ تحت اثر فنری با ثابت k و نیروی اصطکاک ضعیفی با



شکل ۵۵-۴

ضریب ثابت f قرار دارد. این قطعه را به اندازه فاصله x از حالت تعادل کشیده و سپس رها می‌کنند. قطعه چندین بار نوسان می‌کند و سرانجام به حالت سکون درمی‌آید. (الف) نشان دهید کاهش دامنه برای هر چرخه نوسان یکسان است. (ب) پیدا کنید تعداد نوسانهای کامل (n) این جرم را قبل از اینکه به حالت سکون درآید.

جواب: $n = \frac{1}{4}[(kx_0/f) - 1] \approx kx_0/4f$

۹-۴ یک واکنش شیمیایی ساده و خیلی سریع عبارت است از $H + H \rightarrow H_2 + 5 \text{ eV}$

($1 \text{ eV} = 1.6 \times 10^{-19} \text{ J}$) یکای انرژی در مقیاس اتمی است). اما، وقتی که اتمهای هیدروژن در فضای آزاد با هم برخورد می‌کنند به سادگی از هم جدا می‌شوند. دلیل این است که در یک برخورد ساده دو جسمی که انرژی آزاد می‌شود، برقراری قوانین پایستگی تکانه و انرژی ممکن نیست. آیا می‌توانید این

مسئله را ثابت کنید؟ شما می‌توانید با نوشتن عباراتی برای پایستگی تکانه و انرژی این کار را آغاز کنید. (دقت کنید که انرژی واکنش را در معادله انرژی دخالت دهید و علامت آن را هم درست انتخاب کنید.) با حذف تکانه نهایی مولکولها از دو معادله، می‌توانید نشان دهید که تکانه اولیه باید شرط غیرممکنی داشته باشد.

۱۰-۴. قطعه مکعبی به جرم M روی یک میز افقی بدون اصطکاک به فنری با ثابت k متصل است. حرکت این قطعه طوری است که حول نقطه تعادل خود با دامنه A نوسان می‌کند و دوره تناوب حرکت برابر $T_0 = 2\pi\sqrt{M/k}$ است. (الف) مقداری از بتونه چسبان به جرم m را روی قطعه می‌اندازیم، به طوری که بدون برگشت به قطعه می‌چسبد. بتونه لحظه‌ای به M برخورد می‌کند که سرعت M برابر صفر است. پیدا کنید:


۱. دوره تناوب جدید

۲. دامنه جدید

۳. تغییر انرژی مکانیکی سیستم را.

(ب) قسمت (الف) را با این شرط تکرار کنید که بتونه چسبان در لحظه‌ای که M دارای سرعت بیشینه است با آن برخورد کند.

۱۱-۴. زنجیری به جرم M و به طول l مطابق شکل ۴-۵۶ به طور قائم معلق است به نحوی که انتهای



شکل ۴-۵۶

پایینی آن با کفه یک ترازو در تماس است. زنجیر را رها می‌کنیم تا بر روی ترازو بیفتد. وقتی که طول x زنجیر روی ترازو می‌افتد درجه ترازو چه عددی را نشان می‌دهد. (از اندازه حلقه‌های اتصال صرف نظر کنید.)

جواب حالت خاص: بیشینه درجه ترازو $3Mg$ است.

۱۲-۴ در جنگ جهانی دوم روسها که برای انجام عملیات هوابرد دچار کمبود چترنجات بودند، گاهیگاهی سربازان را در کیسه‌ای از علف خشک از هواپیما به روی برف سقوط می‌دادند. بدن انسان به طور متوسط می‌تواند یک فشار برخورد $10^6 \text{ N/m}^2 \times 7$ را تحمل کند.

فرض کنید هواپیمای راهنمای یک محموله ساختگی را که از نظر وزن برابر با یک محموله واقعی است از ارتفاع ۴۵ متری رها کند. خلبان می‌بیند این محموله به اندازه 6 متر در برف فرو می‌رود. اگر جرم متوسط سربازها برابر 65 کیلوگرم و سطح مؤثر آنها 5 متر مربع باشد، آیا چنین سقوطی برای انسان بی‌خطر خواهد بود؟

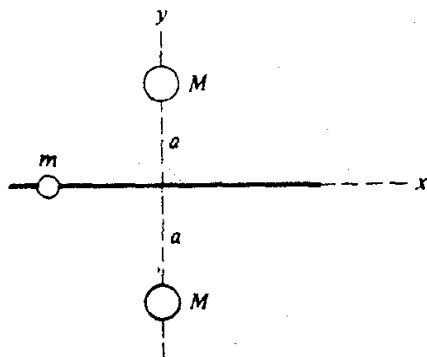
۱۳-۴ تابع انرژی پتانسیلی که معمولاً برای توصیف برهم‌کنش بین دو اتم به کار می‌رود عبارت است از پتانسیل ۶ و ۱۲ لِنارد-جونز (شکل ۴-۵۷)

$$U = \epsilon \left[\left(\frac{r_0}{r} \right)^{12} - 2 \left(\frac{r_0}{r} \right)^6 \right]$$

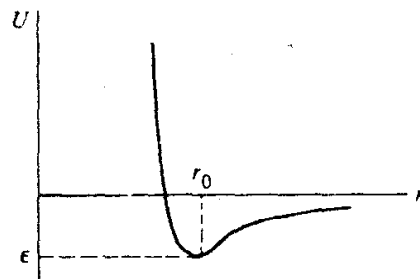
(الف) نشان دهید که شعاع مربوط به پتانسیل کمینه برابر r_0 و عمق چاه پتانسیل برابر ϵ است. (ب) بسامد نوسانهای کوچک حول نقطه تعادل دو اتم یکسان به جرمهای m را که از طریق برهم‌کنش لِنارد-جونز باهم ارتباط دارند پیدا کنید.

جواب: $\omega = 12 \sqrt{\epsilon / r_0^2 m}$

۱۴-۴ مهره‌ای به جرم m بدون اصطکاک روی میله صافی در جهت x می‌لغزد. این میله بین دو کره به جرمهای M و به فاصله مساوی از آنها قرار دارد. کره‌ها مطابق شکل ۴-۵۸ در $x = 0$ و $y = \pm a$



شکل ۴-۵۸



شکل ۴-۵۷

قرار دارند و مهره را به صورت گرانشی جذب می‌کنند. (الف) انرژی پتانسیل مهره را پیدا کنید. (ب) مهره در $x = 3a$ با سرعت v به طرف مبدأ رها می‌شود. سرعت آن را وقتی که از مبدأ عبور می‌کند پیدا کنید. (ج) بسامد نوسانهای کوچک مهره را حول مبدأ پیدا کنید.

۱۵-۴ ذره‌ای به جرم m در جهت مثبت x در یک بعد حرکت می‌کند. این ذره تحت تأثیر نیروی ثابتی که بزرگی آن B و جهت آن به طرف مبدأست، و یک نیروی دافعه تابع عکس مجذور فاصله به بزرگی A/x^2 قرار می‌گیرد. (الف) تابع انرژی پتانسیل $U(x)$ را پیدا کنید. (ب) نمودار انرژی سیستم را وقتی که بیشینه انرژی جنبشی آن $K_0 = 1/2 m v_0^2$ است رسم کنید. (ج) مکان تعادل x_0 را پیدا کنید. (د) بسامد نوسان کوچک حول x_0 چقدر است؟

۱۶-۴ یک ماشین مسابقه 1800 پوندی در 8 ثانیه تا 60 mile/h سرعت می‌گیرد. توان متوسطی که موتور آن در طی زمان حرکت ماشین مصرف می‌کند چقدر است؟

۱۷-۴ یک سورتمه برفی با سرعت 15 mile/h از تپه‌ای بالا می‌رود. این تپه دارای شیبی است که هر 40 فوت به اندازه یک فوت ارتفاع پیدا می‌کند. نیروی مقاومت مربوط به برف برابر با 5 درصد وزن سورتمه است. این سورتمه با چه سرعتی به طرف پایین حرکت می‌کند، با فرض اینکه موتور آن در این حالت هم همان قدر توان مصرف کند.

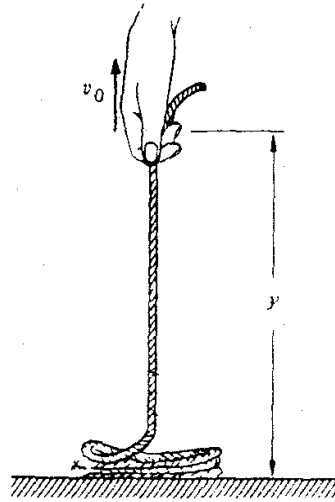
جواب: 45 mile/h .

۱۸-۴ یک مرد 160 پوندی به حالت دولا به هوا می‌پرد. گرانیگاه او قبل از اینکه زمین را ترک کند 1.5 ft بالاتر از سطح زمین قرار دارد. سپس این گرانیگاه در انتهای پرش تا 3 ft بالا می‌رود. با فرض اینکه مرد با نیروی ثابتی به زمین فشار وارد کند، چه توانی به وجود می‌آورد؟
جواب حالت خاص: بیشتر از 1 اسب بخار و کمتر از 10 اسب بخار.

۱۹-۴ همان شخص مسئله قبل به هوا می‌پرد، اما این دفعه نیرویی که اعمال می‌کند از یک بیشینه در آغاز پرش شروع شده و در لحظه‌ای که زمین را ترک می‌کند به صفر می‌رسد. به عنوان تقریب قابل قبول نیرو را به صورت $F = F_0 \cos \omega t$ در نظر بگیرید که در آن F_0 نیروی بیشینه است، و تماس با زمین وقتی از بین می‌رود که $\omega t = \pi/2$ شود. بالاترین توانی را که این شخص در این پرش تولید می‌کند پیدا کنید.

۲۰-۴ از قیفی با آهنگ dm/dt روی یک تسمه انتقال افقی که توسط موتوری با سرعت ثابت V به حرکت درآمده است، شن ریخته می‌شود. (الف) توان لازم برای به حرکت درآوردن تسمه را پیدا کنید. (ب) جواب را با آهنگ تغییر انرژی جنبشی شن مقایسه کنید، آیا دلیل اختلاف را می‌توانید بیان کنید؟

۲۱-۴ طناب یکنواختی با جرم واحد طول λ روی میز افقی صافی مطابق شکل ۵۹-۴ حلقه شده است. یک سر آن را با سرعت ثابت v مستقیماً به طرف بالا می‌کشیم. (الف) نیروی وارد بر انتهای طناب بر حسب تابعی از ارتفاع y پیدا کنید. (ب) توان داده شده به طناب را با آهنگ تغییر انرژی مکانیکی کل طناب مقایسه کنید.



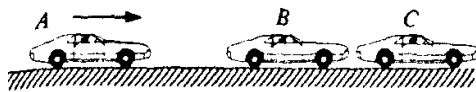
شکل ۴-۵۹

۲۲-۴ تویی را به کف اتاق می‌اندازیم این توپ پس از جهشهای متوالی سرانجام به حالت سکون درمی‌آید. برخورد بین توپ و کف اتاق ناکشسان است، سرعت پس از هر برخورد برابر است با سرعت قبل از برخورد ضربدر e ، که در آن $e < 1$ است (e را ضریب بازگشت می‌نامند). اگر سرعت لحظه‌ای قبل از اولین جهش v_0 باشد، زمان لازم برای ساکن شدن توپ را پیدا کنید.

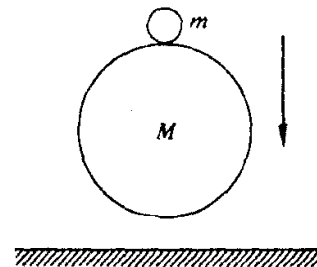
جواب حالت خاص: اگر $v_0 = 5 \text{ m/s}$ و $e = 0.5$ باشد، آنگاه $T \approx 1 \text{ s}$ است.

۲۳-۴ گلوله کوچکی به جرم m مطابق شکل ۴-۶۰ روی یک "توپ بزرگ" به جرم M قرار دارد. این دو را از ارتفاع h به کف اتاق می‌اندازیم. گلوله کوچک بعد از برخورد چقدر بالا می‌رود؟ فرض کنید برخورد توپ بزرگ کشسان، و $m \ll M$ باشد. به منظور کمک به تجسم مسئله، فرض کنید وقتی که توپ بزرگ با کف اتاق برخورد می‌کند گلوله کمی از آن فاصله دارد. (اگر از جواب خیلی تعجب می‌کنید، سعی کنید مسئله را با یک ساچمه و توپ بزرگ امتحان کنید.)

۲۴-۴ مطابق شکل ۴-۶۱ اتومبیلهای B و C در حالت خلاص و در حال سکون هستند. اتومبیل



شکل ۴-۶۱



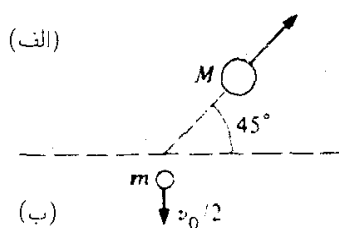

شکل ۴-۶۰

A با سرعت زیاد با اتومبیل B برخورد می‌کند و B را به طرف C می‌فشارد. اگر برخوردها کاملاً ناکشسان باشند، چه کسری از انرژی اولیه در اتومبیل C از بین می‌رود؟ در ابتدا هر سه اتومبیل مشابه یکدیگرند.

۲۵-۴ پروتونی با یک ذره مجهول در حال سکون برخورد رودررو انجام می‌دهد. پروتون با $4/9$ انرژی جنبشی اولیه خود مستقیماً به عقب برمی‌گردد.

نسبت جرم ذره مجهول به جرم پروتون را با فرض اینکه برخورد کشسان باشد، پیدا کنید.

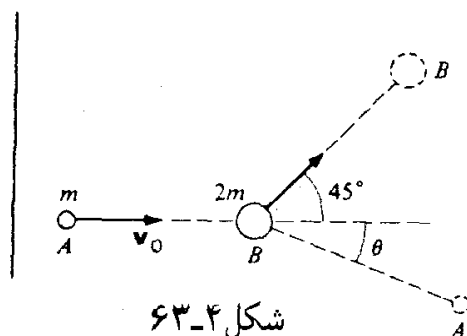
۲۶-۴ ذره‌ای به جرم m و سرعت اولیه v_0 با ذره دیگری به جرم مجهول M که از جهت مقابل، مطابق شکل ۶۲-۴ (الف) در حرکت است برخوردی کشسان انجام می‌دهد. بعد از برخورد، m با سرعت



شکل ۶۲-۴

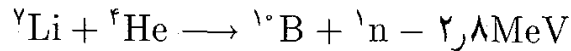
$v_0/2$ و زاویه قائم نسبت به جهت فرودی به حرکت درمی‌آید، و M در جهت نشان داده شده در شکل ۶۲-۴ (ب) حرکت می‌کند. نسبت M/m را پیدا کنید.

۲۷-۴ ذره A به جرم m دارای سرعت اولیه v_0 است. این ذره بعد از برخورد با ذره B به جرم $2m$ که در ابتدا در حالت سکون است، مسیری مطابق شکل ۶۳-۴ را طی می‌کند. θ را پیدا کنید.



۲۸-۴ هدف نازکی از لیتیم توسط هسته‌های هلیم با انرژی E_0 بمباران می‌شود. هسته‌های لیتیم در ابتدا در حالت سکون اند ولی اساساً مقید نیستند. وقتی که هسته هلیم وارد هسته لیتیم می‌شود، یک واکنش هسته‌ای می‌تواند رخ دهد و هسته مرکب حاصل به صورت یک هسته بور و یک

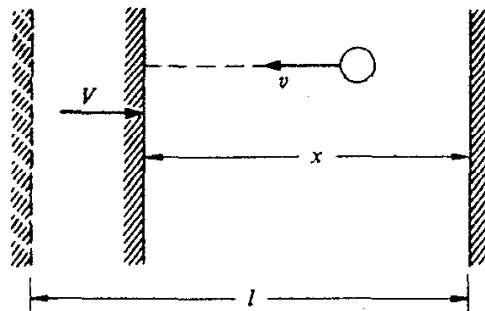
نوترون تجزیه شود. برخورد ناکشسان است، و انرژی جنبشی نهایی به اندازه ۲۸MeV از E_0 کمتر است $(۱\text{MeV} = ۱۰^6\text{eV} = ۱.۶ \times ۱۰^{-۱۳}\text{J})$. جرمهای نسبی ذرات عبارتند از: جرم هلیم ۴؛ جرم لیتیم ۷؛ جرم بور ۱۰، جرم نوترون ۱. واکنش هسته‌ای را می‌توان به طریق زیر خلاصه کرد



الف) انرژی آستانه E_0 ، یا مقدار کمینه E_0 برای اینکه نوترون تولید شود چقدر است؟ انرژی نوترون در این حالت آستانه‌ای چقدر است؟

جواب: ۱۵MeV = انرژی نوترون.

ب) نشان دهید که اگر انرژی فرودی در فاصله ۲۷MeV + E_0 آستانه، $E_0 < E < E_0 + ۲۷\text{MeV}$ باشد، نوترونهایی که روبه جلو بیرون رانده می‌شوند همگی انرژی یکسانی ندارند بلکه باید یکی از دوانرژی ممکن را دارا باشند. (با مطالعه واکنش در دستگاه مرکز جرم می‌توانید منشأ این دو گروه را درک کنید). $۲۹-۴$ یک "توپ مخصوص" به جرم m مطابق شکل $۴-۶۴$ با سرعت v بین دیواره به جلو



شکل ۴-۶۴

و عقب می‌جهد. از گرانش صرف نظر می‌کنیم و برخوردها را کاملاً کشسان در نظر می‌گیریم.

الف) نیروی متوسط وارد بر هر دیواره را پیدا کنید.

جواب: $F = mv^2/l$.

ب) اگر یکی از دیواره‌ها به آرامی و با سرعت $V \ll v$ به طرف دیگری حرکت کند، به دلیل فاصله کوتاه بین برخوردها و به علت اینکه سرعت توپ هنگام جهش از دیواره متحرک افزایش می‌یابد آهنگ جهش تندتر خواهد شد. F را بر حسب فاصله بین دیواره‌ها، x ، پیدا کنید. (راهنمایی: آهنگ متوسط افزایش سرعت توپ را با حرکت دیواره پیدا کنید).

جواب: $F = (mv^2/l)(l/x)^2$.

ج) نشان دهید که کار لازم برای حرکت دادن دیواره از l تا x برابر است با افزایش انرژی جنبشی

توپ. (این مسئله سازوکار گرم شدن گاز را بر اثر تراکم نشان می‌دهد.)

۳-۴ ذره‌ای به جرم m و سرعت v_0 به طور کشسان با ذره‌ای به جرم M که در ابتدا به حالت سکون است برخورد می‌کند، و با زاویه Θ در دستگاه مرکز جرم پراکنده می‌شود.

الف) سرعت نهایی m را در دستگاه آزمایشگاه پیدا کنید.

جواب: $v_f = [v_0 / (m + M)] (m^2 + M^2 + 2mM \cos \Theta)^{1/2}$

ب) کسری از انرژی جنبشی m را که تلف می‌شود، پیدا کنید.

جواب حالت خاص: اگر $m = M$ باشد، آنگاه

$$(K_0 - K_f) / K_0 = (1 - \cos \Theta) / 2$$