

# آزمون هفت‌بیت زنده‌بلی

پیرایش نامه

# الف


آزمون‌های تمرینی - تستی

پایه سوم (۳)

لطفاً با لبخند آزمون را شروع کنید

زمان پاسخ‌گویی: ۴۰ دقیقه

تعداد سوال: ۴۰



کتاب  
گروه  
آهنگ



ریاضی

علوم تجربی

ادبیات

فارسی

۳

مرحله سوم

یکشنبه ۱۰ اردیبهشت ۱۳۹۷



یاد بگیریم و یاد بدهیم

با سلام و درودی فراوان به دانش آموزان عزیز

آزمون‌های پیش‌رو جهت مرور مطالب درسی و آشنایی با تست‌زنی و طبق برنامه‌ریزی انجام شده‌ی روزهای آزمون‌ی ساغر، در سایت و کانال آموزشی ساغر قرار داده خواهند شد. از این‌که همراه با گروه آموزشی ساغر هستید، سپاسگزاریم.

برای هر کاری هدفی وجود دارد و هدف ما پیشرفت و موفقیت شماست...

**تهیه و تنظیم سوالات:**

**مدیریت گروه و وبسایت آموزشی ساغر – احمد فرقان**

**[www.Sagharedu.ir](http://www.Sagharedu.ir)**

ترتیب سوالات آزمون مرحله‌ی سوم پایه سوم

ردیف	نام درس	صفحات کتاب	تعداد سوالات	از شماره	تا شماره	زمان پاسخگویی
۱	فارسی	کل کتاب	۱۰	۱	۱۰	۴۰ دقیقه
۲	علوم تجربی	کل کتاب	۱۰	۱۱	۲۰	
۳	ریاضی	کل کتاب	۲۰	۲۱	۴۰	
	جمع کل		۴۰			

Telegram: @sagharedu  
@sagharedu

مدیریت: احمد فرقان

۰۹۱۲۰۹۴۰۲۶۵

## فارسی

۱- رابطه‌ی گرسنه به سیر، مانند رابطه‌ی عادل است به ...

(۱) عدالت (۲) ظلم (۳) امین (۴) ظالم

۲- کدام جمله نوشتاری است؟

(۱) شما طبیعت را دوست دارید؟  
(۲) خداوند همه‌ی انسان‌ها را دوس دارد.  
(۳) انسان خودش رو تمیز می‌کنه.  
(۴) خوب گوش کنین، صدای خدا را می‌شنوین.

۳- قیصر امین‌پور شاعر کدام شعر است؟

(۱) مثل باران (۲) لحظه‌ی سبز دعا (۳) خداوند رنگین‌کمان (۴) هم‌بازی

۴- داستان کوتاهی که محتوایش پند و اندرز است و از روزگار قدیم به جای مانده است، چه نامیده می‌شود؟

(۱) نمایش (۲) مقاله (۳) حکایت (۴) داستان

۵- در کدام گزینه، فعل به درستی استفاده نشده است؟

(۱) خواهرم دیشب به خانه‌ی ما آمد.  
(۲) ما دیروز به مسجد می‌رویم.  
(۳) پرینسا دانش‌آموز بسیار خوبی می‌باشد.  
(۴) دوست من دیروز از سفر برگشت.

۶- کدام گزینه نادرست است؟

(۱) شمعدان یعنی جای شمع  
(۲) خندان یعنی جای خندیدن  
(۳) قندان یعنی جای قند  
(۴) گلدان یعنی جای گل

۷- در کدام گزینه، صفت به کار نرفته است؟

(۱) گنجینه‌ی باارزش (۲) احمد کشوری (۳) پدر شجاع (۴) دوست صمیمی

۸- در کدام گزینه، چیزی به چیز دیگر تشبیه شده است؟

(۱) آسمان آبی و دریا آرام است.  
(۲) من دارم از خوشحالی بال درمی‌آورم.  
(۳) زندگی مانند لبخند تو زیباست.  
(۴) من همیشه از داشتن دوست خوب خوشحال می‌شوم.

۹- در جمله‌ی «مجید کتاب‌هایش را جمع کرد.»، بر روی کدام کلمه کاری انجام شده است؟

(۱) جمع کرد (۲) مجید (۳) را (۴) کتاب‌هایش

۱۰- در کدام جمله، غلط املایی وجود ندارد؟

(۱) از تماشای آسمان پرستاره لذت می‌برم.  
(۲) چه پرواز حیجان‌انگیز و جالبی بود.  
(۳) تو خورشید را می‌بینی و می‌توانی با او احوال‌پرسی کنی.  
(۴) آسمان چه قدر گسترده و وسیع بود.



www.sagharedu.ir

کانال تلگرام:

Telegram.me/sagharedu  
@sagharedu

مدیریت: احمد فرقان

۰۹۱۲۰۹۴۰۲۶۵

علوم تجربی

۱۱- کدام یک از مراحل زیر، بعد از آزمایش صورت می‌گیرد؟

- (۱) مشاهده (۲) فرضیه‌سازی (۳) نتیجه‌گیری (۴) مطالعه

۱۲- سه هفته طول می‌کشد تا یک جوجه‌ی مرغ از تخم بیرون بیاید. در این سه هفته، جوجه غذایی خود را از کجا به دست می‌آورد؟

- (۱) مادرش به او غذا می‌دهد. (۲) از پوست تخم تغذیه می‌کند.

- (۳) از غذای ذخیره‌شده در تخم استفاده می‌کند. (۴) به غذا احتیاج ندارد.

۱۳- اگر ماده‌ای سرد شده و از حالت گاز به مایع تبدیل شود، به این حالت چه می‌گوییم؟

- (۱) تبخیر (۲) انجماد (۳) میعان (۴) ذوب شدن حجم

۱۴- یک میوه‌فروش به کدام یک از وسایل زیر، نیاز ضروری دارد؟

- (۱) دماسنج (۲) ترازو (۳) متر (۴) خط‌کش

۱۵- کدام یک از مراحل زیر، جزو تصفیه‌ی آب آشامیدنی نیست؟

- (۱) کشیدن آب از چاه‌ها و مصرف آن (۲) گرفتن گل‌ولای آب با عبور از شن و ماسه

- (۳) زدن کلر به آب در تصفیه‌خانه‌ها (۴) جمع کردن آب‌ها در پشت سدها یا استخرهای بزرگ

۱۶- اگر بخواهیم با کمک دو آینه‌ی تخت، تصاویر زیادی از یک پروانه ایجاد کنیم، دو آینه را چگونه باید قرار دهیم؟

- (۱) عمود بر هم (۲) با زاویه‌ی باز (۳) با زاویه‌ی تند (۴) موازی یکدیگر و روبروی هم

۱۷- نیرویی که یک آهن‌ربا بر آهن‌ربای دیگر وارد می‌کند، چه نامیده می‌شود؟

- (۱) نیروی گرانشی (۲) نیروی مغناطیسی (۳) نیروی الکتریکی (۴) نیروی جاذبه

۱۸- درختان معمولاً چه نوع ساقه‌هایی دارند؟

- (۱) محکم و بلند (۲) افشان و ریز (۳) نازک و بلند (۴) پیچی و بلند

۱۹- رشد جنین کدام جانور با بقیه فرق دارد؟

- (۱) گوسفند (۲) پنگوئن (۳) میمون (۴) فیل

۲۰- بهترین روش برای نگهداری گوشت چیست؟

- (۱) کنسرو کردن (۲) خشک کردن (۳) شیرین کردن (۴) منجمد کردن

ریاضی

۲۱- ۵ ساعت و ۳۰ دقیقه، چند دقیقه است؟

کانال تلگرام:

Telegram.me/sagharedu

@sagharedu

۲۸۰ (۴)

۱۵۰ (۳)

۳۰۰ (۲)

۳۳۰ (۱)

مدیریت: احمد فرقان

۰۹۱۲۰۹۴۰۲۶۵

۲۲- حداقل با چند چوب کبریت می‌توان ۴ مربع کنار هم ساخت؟

- (۱) ۱۲ (۲) ۱۶ (۳) ۱۰ (۴) ۱۳

۲۳- فاصله‌ی تهران تا قم ۱۲۰ کیلومتر و فاصله‌ی قم تا اصفهان ۴۳۰ کیلومتر است. اگر بخواهیم از تهران به

اصفهان برویم و دوباره به تهران برگردیم، باید چند کیلومتر راه را طی کنیم؟

- (۱) ۷۲۰ (۲) ۶۳۰ (۳) ۵۵۰ (۴) ۱۱۰۰

۲۴- کدام کسر از بقیه بزرگ‌تر است؟

- (۱)  $\frac{3}{7}$  (۲)  $\frac{5}{7}$  (۳)  $\frac{4}{7}$  (۴)  $\frac{2}{7}$

۲۵- کدام ساعت زاویه‌ی راست تشکیل می‌دهد؟

- (۱) سه و ربع (۲) نه و ربع (۳) نه (۴) یک ربع مانده به نه

۲۶- عددی را ۵ برابر و سپس با ۱۲ جمع کردیم، عدد ۳۷ به دست آمد. آن عدد کدام است؟

- (۱) ۵ (۲) ۴ (۳) ۳ (۴) ۱

۲۷- برای آستین هر کت ۲ دکمه و برای جلوی کت ۳ دکمه لازم داریم. برای دوختن ۷ کت، در کل چند دکمه

لازم داریم؟

- (۱) ۳۵ (۲) ۱۲ (۳) ۴۹ (۴) ۴۲

۲۸- با ۵۶ تومان ۷ مداد خریدیم. با ۷۲ تومان چند مداد می‌توانیم بخریم؟

- (۱) ۱۰ (۲) ۹ (۳) ۸ (۴) ۶

۲۹- حاصل عبارت روبه‌رو کدام است؟  $27 - 12 \div 4 \times 2 + 7 \times 2 = ?$

- (۱) ۴۵ (۲) ۲۰ (۳) ۳۵ (۴) ۱۸

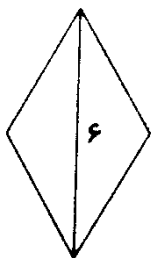
۳۰- در شکل مقابل، اگر محیط لوزی ۱۶ سانتی‌متر باشد، محیط هر مثلث چند سانتی‌متر است؟

- (۱) ۱۲

- (۲) ۱۴

- (۳) ۹

- (۴) ۸



www.sagharedu.ir

محل انجام محاسبات:

کانال تلگرام:

Telegram.me/sagharedu

@sagharedu

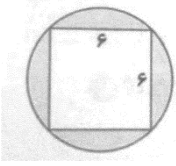
مدیریت: احمد فرقان

۰۹۱۲۰۹۴۰۲۶۵

۳۱- اندازه‌ی ضلع مربعی ۷ سانتی‌متر است. مجموع مساحت و محیط آن چقدر است؟

- (۱) ۴۹ (۲) ۲۸ (۳) ۷۷ (۴) ۲۱

۳۲- اگر مساحت دایره ۶۰ سانتی‌متر مربع باشد، مساحت قسمت رنگ‌شده چند سانتی‌متر مربع است؟



- (۱) ۲۴ (۲) ۳۶

- (۳) ۳۱ (۴) ۲۱

۳۳- حاصل جمع دو عدد ۱۰۰۰ می‌باشد. اگر یکی از آن‌ها بزرگ‌ترین عدد سه‌رقمی باشد، عدد دیگر کدام است؟

- (۱) ۱۸۱ (۲) ۷۹ (۳) ۲۱ (۴) ۲۳

۳۴- یک تاس را پرتاب می‌کنیم. احتمال آمدن عدد ۳ چقدر است؟

- (۱)  $\frac{1}{6}$  (۲)  $\frac{1}{5}$  (۳)  $\frac{1}{3}$  (۴)  $\frac{3}{6}$

۳۵- برای نشان دادن تغییرات قیمت یک کالا، کدام نمودار بهتر است؟

- (۱) خط شکسته (۲) میله‌ای (۳) دایره‌ای (۴) تصویری

۳۶- احتمال وقوع کدام حادثه صفر است؟

- (۱) طلوع خورشید از مشرق (۲) آمدن برف در پاییز

- (۳) باریدن باران در یک روز تابستانی (۴) آمدن دوشنبه بعد از سه‌شنبه

۳۷- مساحت مستطیلی به طول ۱۰۰ و عرض ۷۰ سانتی‌متر، چند سانتی‌متر مربع است؟

- (۱) ۱۷۰ (۲) ۳۴۰ (۳) ۷۰۰ (۴) ۷۰۰۰

۳۸- قلب هر انسان در دقیقه تقریباً ۷۲ بار می‌زند. قلب انسان در هر ساعت، تقریباً چند بار می‌زند؟

- (۱) ۱۳۲ (۲) ۴۳۲۰ (۳) ۴۳۲ (۴) ۱۳۲۰

۳۹- تعداد ۳۰ دستگاه تانکر نفتکش ۱۸ چرخ، برای بارگیری در صف نفت ایستاده‌اند. تعداد کل چرخ‌ها چندتاست؟

- (۱) ۵۴۰ (۲) ۴۵۰ (۳) ۱۲۰ (۴) ۳۶۰

۴۰- باقی‌مانده‌ی تقسیم ۷۹ بر ۸ کدام است؟

- (۱) ۷ (۲) ۸ (۳) ۶ (۴) ۵



[www.sagharedu.ir](http://www.sagharedu.ir)

محل انجام محاسبات:

کانال تلگرام:

[Telegram.me/sagharedu](https://t.me/sagharedu)

@sagharedu

مدیریت: احمد فرقان

۰۹۱۲۰۹۴۰۲۶۵

# روزهای آزمون ساغر

برنامه‌ی قرارگیری آزمون‌های تمرینی - تستی در کانال و سایت آموزشی ساغر

(سوالات شبیه‌ساز آزمون‌های تیزهوشان و نمونه‌دولتی)

ویژه‌ی پایه‌های مختلف تحصیلی (از پایه سوم تا نهم)

پایه تحصیلی							زمان آزمون	
نهم	هشتم	هفتم	ششم	پنجم	چهارم	سوم	تاریخ	روز
			مرحله ۱			مرحله ۱	۹۶ / ۲ / ۲	شنبه
مرحله ۱				مرحله ۱	مرحله ۱		۹۶ / ۲ / ۳	یکشنبه
		مرحله ۱	مرحله ۲				۹۶ / ۲ / ۴	دوشنبه
	مرحله ۱			مرحله ۲			۹۶ / ۲ / ۵	سه‌شنبه
مرحله ۲			مرحله ۳			مرحله ۲	۹۶ / ۲ / ۶	چهارشنبه
				مرحله ۳	مرحله ۲		۹۶ / ۲ / ۷	پنجشنبه
		مرحله ۲	مرحله ۴				۹۶ / ۲ / ۸	جمعه
مرحله ۳			مرحله ۵	مرحله ۴			۹۶ / ۲ / ۹	شنبه
	مرحله ۲		مرحله ۶			مرحله ۳	۹۶ / ۲ / ۱۰	یکشنبه
			مرحله ۷	مرحله ۵	مرحله ۳		۹۶ / ۲ / ۱۱	دوشنبه
مرحله ۴		مرحله ۳	مرحله ۸				۹۶ / ۲ / ۱۲	سه‌شنبه
							۹۶ / ۲ / ۱۳	چهارشنبه
آزمون تیزهوشان ششم به هفتم							۹۶ / ۲ / ۱۴	پنجشنبه
آزمون تیزهوشان نهم به دهم							۹۶ / ۲ / ۱۵	جمعه

- طبق برنامه‌ریزی انجام شده فایل PDF دفترچه سوالات همراه با پاسخنامه به صورت روزانه در سایت و کانال آموزشی ساغر قرار داده خواهد شد.

مدیریت گروه آموزشی ساغر - احمد فرقدان

[www.sagharedu.ir](http://www.sagharedu.ir)

کانال تلگرام: [telegram.me/sagharedu](https://t.me/sagharedu)

## پاسخنامه‌ی آزمون تمرینی – تستی ساغر (مرحله‌ی دوم پایه سوم)

پاسخ‌های خود را با پاسخ‌های صحیح مطابقت داده و اشکالات خود را با مطالعه بیشتر، رفع نمایید.

### پاسخنامه کلیدی

ردیف	۱	۲	۳	۴	ردیف	۱	۲	۳	۴
۱				*	۲۱	*			
۲	*				۲۲				*
۳		*			۲۳				*
۴			*		۲۴		*		
۵		*			۲۵			*	
۶		*			۲۶			*	
۷		*			۲۷			*	
۸			*		۲۸		*		
۹				*	۲۹			*	
۱۰			*		۳۰		*		
۱۱			*		۳۱			*	
۱۲			*		۳۲	*			
۱۳			*		۳۳			*	
۱۴		*			۳۴	*			
۱۵	*				۳۵	*			
۱۶				*	۳۶				*
۱۷		*			۳۷				*
۱۸	*				۳۸		*		
۱۹		*			۳۹	*			
۲۰				*	۴۰	*			



[www.sagharedu.ir](http://www.sagharedu.ir)

کانال تلگرام:

Telegram.me/sagharedu  
@sagharedu

مدیریت: احمد فرقان

۰۹۱۲۰۹۴۰۲۶۵



وب سایت آموزشی  
**ساغر**

کمک آموزشی معلمان

نمونه سوالات امتحانی

آزمون های آنلاین

آزمون های ساغر

کانون معلمان ساغر

روان شناسی و مشاوره

فروشگاه آموزشی ساغر

دستان شاهد پیران

وب سایت آموزشی ساغر

[www.sagharedu.ir](http://www.sagharedu.ir)

ارائه مطالب کمک آموزشی ( ویژه دانش آموزان و دبیران گرامی )

تهیه و تنظیم نمونه سوالات امتحانی ( به صورت ماهانه )

ارائه جزوه و سوالات درس به درس آموزشی

طراحی پیک های آدینه و بسته های عیدانه

برگزاری آزمون های برنامه ریزی شده

برگزاری آزمون های آنلاین

مدیریت گروه آموزشی ساغر - احمد فرقدان

0265-094-0912-@info@sagharedu.ir

@sagharedu

@sagharedu.ir

در تمامی امور تحصیلی همراه شما هستیم ...

کاری از  
گروه آموزشی



مدیریت گروه آموزشی ساحر - احمد فرقدان

0912 094 0265

به روش ساحر

۳۳۳  
برنامه ریزی + تمرین تست

[www.sagharedu.ir]

خرای تهیه کتاب نه سایت آموزشی ساحر مراجعه نمایید.



قابل استفاده برای دانش آموزان تمامی مقاطع تحصیلی  
کمک به مطالعه و تست زنی منظم و مدیریت زمان  
امکان ثبت برنامه ها به صورت روزانه و هفتگی  
ارزیابی عملکرد به صورت روزانه و هفتگی

مؤلف: احمد فرقدان



منتشر شد!

قابل استفاده برای دانش آموزان تمامی مقاطع تحصیلی  
کمک به مطالعه و تست زنی منظم و مدیریت زمان  
امکان ثبت برنامه ها به صورت روزانه و هفتگی  
ارزیابی عملکرد به صورت روزانه و هفتگی

5000 5410 9350 @ info@sagharedu.ir @sagharedu.ir @sagharedu



# فروتنگاه آموزشي ساغر



امكان خريد آنلاين و ارسال به سراسر کشور

[[www.sagharedu.ir](http://www.sagharedu.ir)]

مدیریت گروه آموزشی ساغر – احمد فرقدان