





تمرین خانگی ریاضی ششم - اعداد زوج و فرد

ردیف	سوال	نمره															
۱	<p>جدول زیر را کامل کنید .</p> <table border="1"> <tr> <td>تعداد دانش آموزان</td> <td>۱</td> <td>۲</td> <td>۵</td> <td>۷</td> </tr> <tr> <td>تعداد میز و نیمکت</td> <td>۴</td> <td>۸</td> <td></td> <td></td> </tr> <tr> <td>رابطه بین تعداد خودروها و تعداد چرخ ها</td> <td><math>۱ \times ۴</math></td> <td><math>۲ \times ۴</math></td> <td></td> <td></td> </tr> </table> <p>چه رابطه ای بین تعداد خودروها و تعداد چرخ ها وجود دارد ؟</p> <p>اگر تعداد خودروها را با  و تعداد چرخ ها را با  نمایش دهید، رابطه بالا را چگونه می توان نوشت ؟</p>	تعداد دانش آموزان	۱	۲	۵	۷	تعداد میز و نیمکت	۴	۸			رابطه بین تعداد خودروها و تعداد چرخ ها	$۱ \times ۴$	$۲ \times ۴$			
تعداد دانش آموزان	۱	۲	۵	۷													
تعداد میز و نیمکت	۴	۸															
رابطه بین تعداد خودروها و تعداد چرخ ها	$۱ \times ۴$	$۲ \times ۴$															
۲	<p>به چه اعدادی زوج می گویند ؟ توضیح دهید و مثال بزنید .</p>																
۳	<p>جدول زیر را کامل کنید .</p> <table border="1"> <tr> <td>شماره شکل</td> <td>۱</td> <td>۲</td> <td>۴</td> <td>۸</td> </tr> <tr> <td>تعداد دایره ها</td> <td>۱</td> <td>۳</td> <td></td> <td></td> </tr> <tr> <td>رابطه بین تعداد دایره ها و شماره شکل</td> <td><math>(۱ \times ۲) - ۱</math></td> <td><math>(۲ \times ۲) - ۱</math></td> <td></td> <td></td> </tr> </table> <p>چندمین شکل با ۲۵ دایره ساخته می شود ؟</p> <p>چه رابطه ای بین شماره شکل و تعداد دایره ها وجود دارد ؟</p> <p>در رابطه ای که نوشته اید به جای تعداد دایره ها  و به جای شماره شکل  قرار دهید و رابطه را بنویسید ؟</p>	شماره شکل	۱	۲	۴	۸	تعداد دایره ها	۱	۳			رابطه بین تعداد دایره ها و شماره شکل	$(۱ \times ۲) - ۱$	$(۲ \times ۲) - ۱$			
شماره شکل	۱	۲	۴	۸													
تعداد دایره ها	۱	۳															
رابطه بین تعداد دایره ها و شماره شکل	$(۱ \times ۲) - ۱$	$(۲ \times ۲) - ۱$															
۴	<p>به چه اعدادی فرد می گویند ؟ توضیح دهید و مثال بزنید .</p>																
۵	<p>زیر اعداد زوج خط و دور اعداد فرد دایره بکشید .</p> <p>۲۵    ۱۷    ۸۹۲    ۱۲۳۸    ۸۸۸۹    ۵۵۵۶    ۵۸۷۹    ۲۵۴۱</p>																