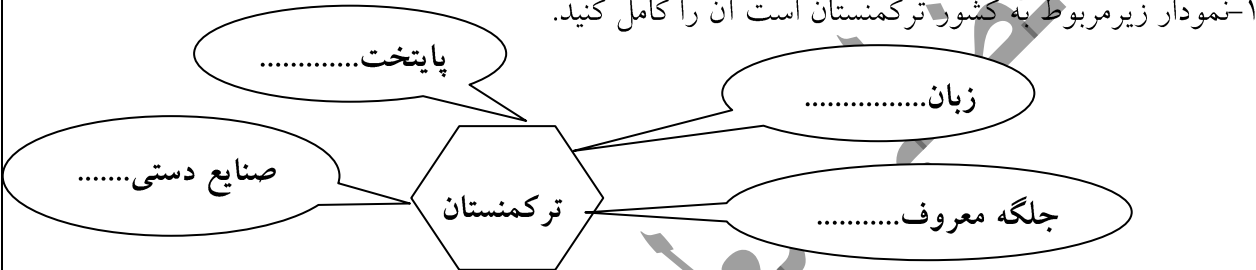
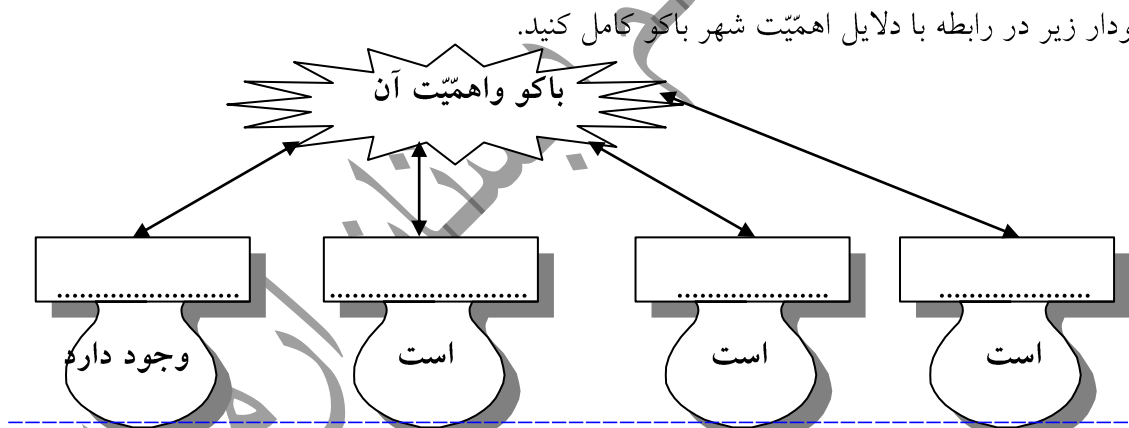
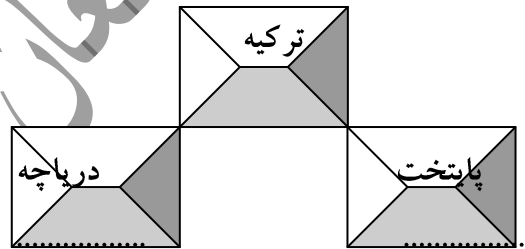


بارم	نام و نام خانوادگی:	(به نام او که ما را آفرید)	تاریخ:
	پایه: پنجم میان نوبت اول	آزمون: جغرافیا	دبستان ارمغان علم مدت: ۶۰ دقیقه
الف	پاسخ صحیح را با علامت (x) مشخص کنید.		
۰/۵	۱- شهر خرم آباد مرکز کدام یک از استان های زیر است؟ الف) سیستان و بلوچستان ب) خوزستان ج) کردستان د) لرستان		
۰/۵	۲- کدام دسته از محصولات زیر از ایران به کشورهای دیگر جهان صادر می شود؟ الف) انگور و خرما ب) گندم و جو ج) پسته و خرما د) چای و خرما		
۰/۵	۳- مهم ترین منابع گاز استان خراسان رضوی چیست؟ الف) پارس جنوبی ب) آغا جاری ج) خانگیران د) کنگان		
۰/۵	۴- از محصولات کدام صنایع، برای تولید رنگ، چسب و مواد شوینده استفاده می شود؟ الف) پتروشیمی ب) ذوب آهن ج) ماشین سازی د) تولید فولاد		
۰/۵	۵- در شرق کشور ایران، کدام یک از کشورهای زیر قرار دارد؟ الف) ترکمنستان ب) افغانستان ج) عراق د) جمهوری آذربایجان		
۰/۵	۶- کدام کشور همسایه ایران از نظر تولید پنبه در جهان معروف است؟ الف) ترکمنستان ب) ترکیه ج) عراق د) جمهوری آذربایجان		
ب)	جاهای خالی را با کلمات مناسب پر کنید.		
۰/۵	۱- عشایر برای یافتن چراگاه مناسب در فصل تابستان به کوچ می کنند.		
۰/۵	۲- پالایشگاه از پالایشگاه های مهم کشور ما است.		
۰/۵	۳- تبدیل مواد اولیه با استفاده از ماشین به کالاهای قابل استفاده را می گویند.		
۰/۵	۴- پایتخت کشور ارمنستان می باشد.		
۰/۵	۵- رودی که تمام مسیرش در داخل ترکیه است نام دارد.		
ج)	جمله های درست و نادرست را با علامت (x) مشخص کنید.		
۰/۵	نادرست	درست	۱- تهران یکی از پر جمعیت ترین شهرهای ایران در قسمت کوهپایه ای است
۰/۵	○	○	۲- بیشتر برنج ایران در استان گلستان کشت می شود.
۰/۵	○	○	

۰/۵	<p>۳- شهر معروف جمهوری آذربایجان مرو است.</p> <p>۴- در شمال ترکیه دریای مدیترانه قرار دارد.</p>	
<p>۰/۵</p> <p>۰/۵</p> <p>۰/۵</p> <p>۰/۵</p> <p>۰/۵</p> <p>۰/۵</p> <p>۰/۵</p>	<p>(د) به سؤالات زیر پاسخ کوتاه بدهید.</p> <p>۱- به کشتی که وابسته به آب باران است چه می گویند؟</p> <p>۲- اولین کارخانه ذوب آهن ایران در نزدیکی کدام شهر ساخته شده است؟</p> <p>۳- مهم ترین استان نفت خیز ایران کدام است؟</p> <p>۴- بزرگترین دریاچه ارمنستان نام ببرید.</p> <p>۵- کدام فعالیت اقتصادی در آمد زیادی نصیب کشور ترکیه می کند؟</p> <p>۶- بزرگترین و مهم ترین مرکز پتروشیمی ایران در کدام بندر قرار دارد؟</p>	
<p>۲</p> <p>۲</p> <p>۱</p>	<p>۱- نمودار زیر مربوط به کشور ترکمنستان است آن را کامل کنید.</p>  <hr/> <p>۲- نمودار زیر در رابطه با دلایل اهمیت شهر باکو کامل کنید.</p>  <hr/> <p>۳- نمودار مربوط به کشور ترکیه را کامل کنید.</p> 	

<p>۱/۵</p> <p>انمره</p> <p>انمره</p> <p>انمره</p>	<p>و) به سوالات زیر پاسخ دهید.</p> <p>۱- چرا در ناحیه ی کنار دریای خزر با وسعت کمی که دارد، جمعیت زیادی را در خود جای داده است؟ (۳ مورد)</p> <p>۲- دو شکل رایج دامپروری در کشور ایران را نام ببرید.</p> <p>۳- منابع معدنی کشور جمهوری آذربایجان را نام ببرید.</p> <p>۴- چرا کشور ارمنستان را به این نام می خوانند؟</p> <p>موفق باشید</p>
---	--

مطرح افطالی معلم دبستان ارمغان علم