

«بسمه تعالی»

تاریخ آزمون: ۱۳۹۰/۰۳/۰۹

درس علوم - نوبت دوم

اداره کل آموزش و پرورش استان اردبیل

مدت امتحان: ۵۰ دقیقه

پایه: چهارم دبستان


مدیریت آموزش و پرورش شهرستان پارس آباد

نام و نام خانوادگی: .....

مجتمع آموزشی و پرورشی شهید جعفری


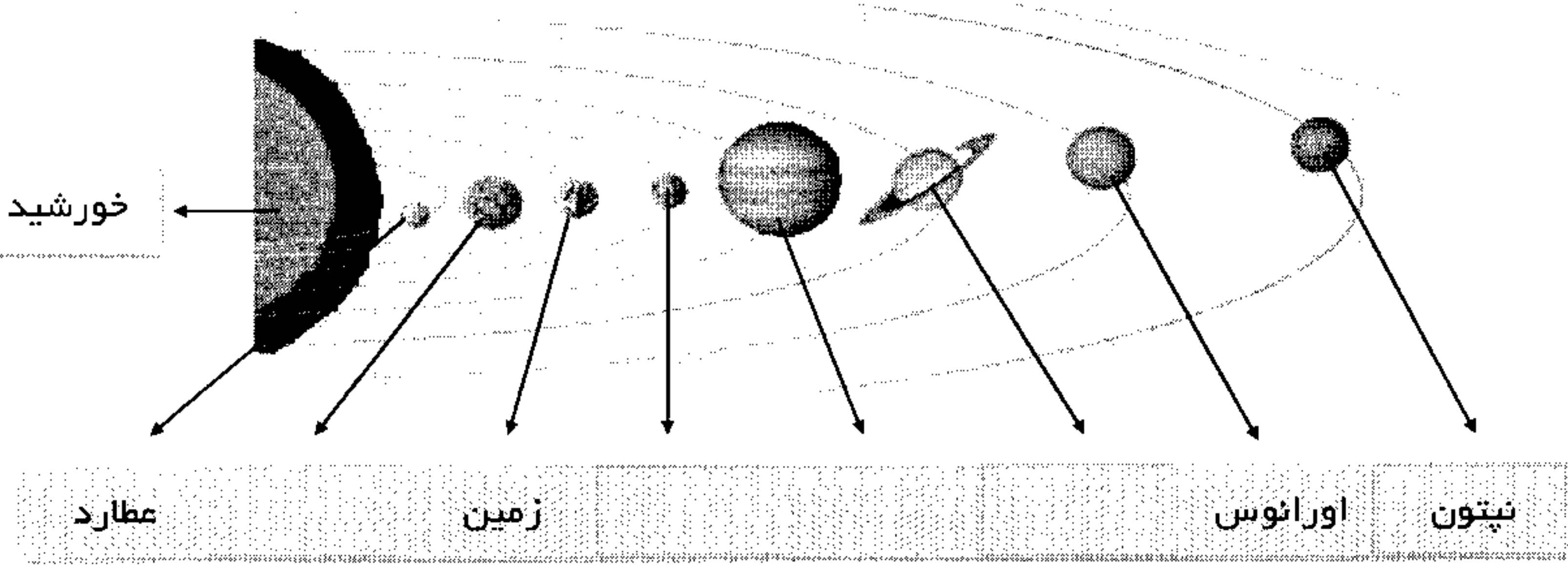


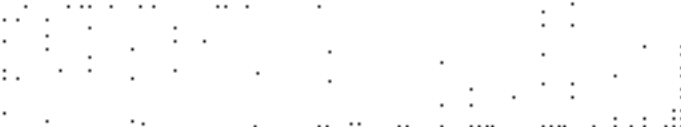






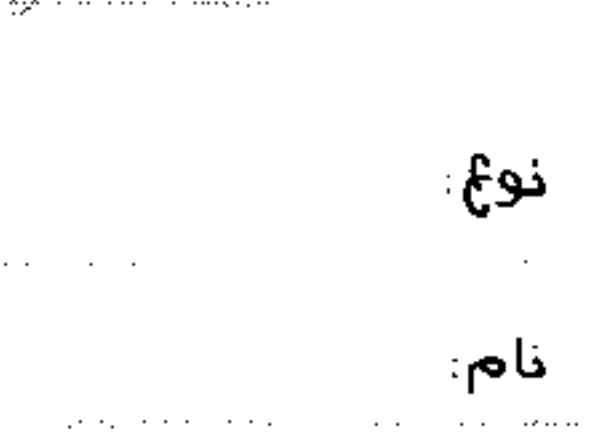


دبستان ابتدایی یادآور اسلام آباد جدید

۲	<p>۱- گزینه ی صحیح را انتخاب کنید.</p> <p>کدام یک نور را بهتر بازتابش می کند؟</p> <p>مقوای معمولی <input type="checkbox"/> مقوای براق <input type="checkbox"/> آینه <input type="checkbox"/></p> <p>سیاره عطارد هر چند روز یک بار به دور خورشید می چرخد؟</p> <p>۸۸ روز <input type="checkbox"/> ۱۸۸ روز <input type="checkbox"/> ۲۸۸ روز <input type="checkbox"/></p> <p>دستگاه گردش خون با کدام دستگاه ارتباط بیشتری دارد؟</p> <p>گوارش <input type="checkbox"/> ماهیچه ها <input type="checkbox"/> تنفس <input type="checkbox"/></p> <p>یک ماده ی سمی است که اگر زیاد در بدن بماند ما را مسموم می کند. احرار <input type="checkbox"/> اوره <input type="checkbox"/> نمک محلول <input type="checkbox"/></p>
۳	<p>۲- جاهای خالی را پر کنید.</p> <p>سبزی رنگ برگ به سبب وجود ماده ای به نام ..... است.</p> <p>به چیزهایی مثل میخ آهنی و سیم مسی که الکتریسیته را از خود عبور می دهد، ..... می گویند.</p> <p>هر آهنربا دو سر دارد. به هر یک از دو سر آهن ربا ..... می گویند.</p> <p>سنگ هایی که در نتیجه ی ته نشین شدن مواد داخل آب بوجود می آیند، ..... نام دارند.</p> <p>همه ی سنگ ها از یک یا چند ..... بوجود آمده اند.</p> <p>وظیفه ی تصفیه کردن خون را ..... بر عهده دارند.</p>
۱	<p>۳- شخم زدن چه فایده ای دارد؟</p>
۱	<p>۴- همانطور که می دانید آب دریا نوعی محلول است. حلال و حل شونده را در این محلول تعیین کنید.</p> <p>حلال: <input type="text"/></p> <p>حل شونده: <input type="text"/></p>
۱	<p>۵- در استفاده از الکتریسیته باید چه نکاتی را رعایت کنیم؟</p>
۱	<p>۶- آهنربای الکتریکی چیست؟</p>
۱	<p>۷- چرا هنرمندان سنگ را برای کار خود انتخاب می کنند؟</p>
۱	<p>۸- چرا درها و پنجره های کلاس نباید مدت زیادی بسته بمانند؟</p>
۱	<p>۹- وظیفه ی دستگاه گردش خون چیست؟</p>



بقیه سوالات پشت ورقه



۱	<p>۱۰- اگر مسافر فضا باشید با خود چه چیزهایی بر می دارید؟</p> 
۲	<p>۱۱- نام سیاره های مشخص شده را بنویسید.</p> 
۱/۵	<p>۱۲- نام هر يك از سنگهای زیر را بنویسید.</p> 
۲	<p>۱۳- در این محل ها از چه نوع آینه ای استفاده می شود؟</p> <p>آرایشگاه : </p> <p>سر بیچ جاده ها : </p> <p>اتومبیل : </p> <p>دستشویی : </p>
۱/۵	<p>۱۴- نوع و نام بی مهرگان زیر را بنویسید.</p>  <p>نوع :  نام : </p> <p>نوع :  نام : </p> <p>نوع :  نام : </p>

