

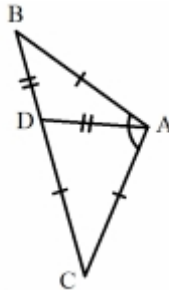
خودسنجی ۷۰ اش

زهرا جوکار: مدرس، مشاور و برنامه ریز کنکور هنر

۱- در معماری حمام های سنتی کدام قسمت به سر بینه تعبیه شده است؟

- ۱- راهرویی باریک و پیچ دار با سقفی کوتاه که کارکرد اصلی آن جلوگیری از هدر رفت گرما بود.
- ۲- محوطه ای که خزینه آب گرم و فضای شستشو در آن قرار داشت و سقف آن مزین به نورگیر بود.
- ۳- فضای متمرکز معمولاً به شکل چهار یا هشت گوشه که سکوی نشیمن و رخت کن اطراف آن بود.
- ۴- بخشی که با اختلاف سطح از سایر فضاها، میان در و گرم خانه قرار داشت و مخصوص دولتمردان بود.

۲- در شکل زیر مثلث متساوی الساقین ABC به ۲ مثلث متساوی الساقین تبدیل شده است.



زاویه A در مثلث ABC چند درجه است؟

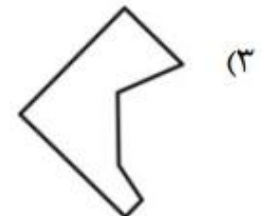


۱۲۰-۴

۱۱۵-۳

۱۰۸-۲

۱۰۵-۱

۳- از تقارن محوری شکل مقابل کدام گزینه حاصل نمی شود؟



۴- متزوتینت کدامیک از انواع چاپ است؟

۱- چاپ گود مستقیم

۲- چاپ گود غیر مستقیم

۳- چاپ برجسته زمینه تیره

۴- چاپ برجسته زمینه روشن

۵- کدام مورد در نامگذاری روش چاپ مهم تر است؟

۱- نوع مرکب ۲- زمینه زیر چاپ ۳- جنس کلیشه ۴- ابزار حکاکی

۶- کدام نمایش عروسکی همواره زمینه ای مناسب جهت تفسیر مسائل فلسفی بوده است؟

۱- خم بازی ۲- پهلوان کچل ۳- قی ننه ۴- سایه



۷- تصویر مقابل معرف کدام نوع عروسک است؟

۱- ماریونت ۲- مروسک ۳- میله ای ۴- ماروت

۸- سویت "دن کیشوت" اثر کدام آهنگ ساز است؟

۱- هنری پورسل ۲- آنتونیو ویوالدی ۳- فریدریش هندل ۴- گیورگ فلیپ تلمان

۹- به هنگام فولاد ریزی درون قالب به چه دلیل قالب ها از هر طرف $1/5$ تا 2 در صد بزرگ تر ساخته می شوند؟

۱- کشیدن فولاد و پرس آن ۲- پس از سرد شدن فولاد ریخته شده اندازه مورد نظر پیدا شود.

۳- حرارت و خمیری نشدن فولاد ۴- جلوگیری از ترک فولاد

۱۰- اصطلاحات R.C یا P.E در چه زمینه ای از هنر عکاسی کاربرد دارند؟

۱- مشخص کردن انواع نورسنگ ۲- مشخص کردن کاغذ های پلاستیکی

۳- مشخص کردن فیلم ها ۴- کدهایی مربوط به لنز دوربین