

به نام ایزد دانا

فصل اول

مدرسه:

سال تحصیلی ۹۷-۹۸

آموزگار: مریم عباسی

نام:

نام خانوادگی:

کلاس:

۱- با کوچکترین و بزرگترین عدد یک رقمی یک عدد دو رقمی بنویس.


۲- با توجه به جدول زیر شکل مناسب بکش.



ده تایی	یکی
۴	۷

۳- علی ۱۹ تومان پول دارد فاطمه ۷ تومان کمتر از او پول دارد. فاطمه چند تومان پول دارد؟


۴- ۹ گل را رنگ کن.



..... را رنگ نزده ام.

حالا بنویس چند گل را رنگ نزده ای.

۵- برای شکل روبرو یک جمع بنویس.



.....+.....=.....

حالا روی هر چند تا از اون ها که دلت می خواهد، خط بزن و سپس برای آن یک تفریق بنویس.

.....-.....=.....

۶- ساعت چند است؟

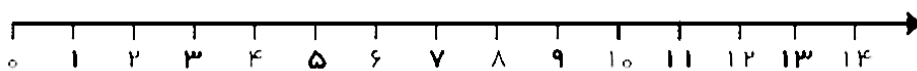


ساعت :



ساعت :

۷- حاصل جمع و تفریق زیر را روی محور نشان بده.



۸- علامت > < = بگذارید.


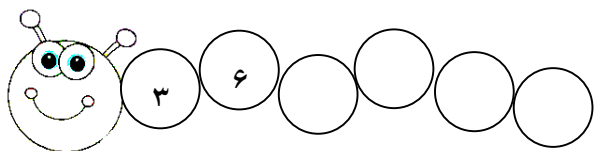
$9 - 0 \square 12 + 2$

$6 + 6 \square 12$

$15 \square 7 + 2$

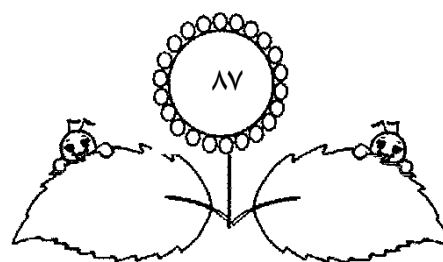
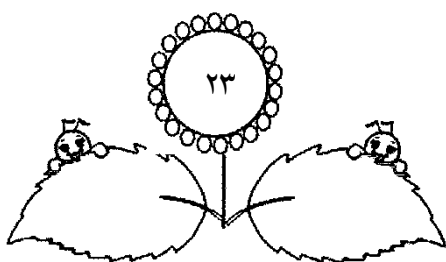
$5 + 5 \square 7 + 3$

۹- الگوی عددی زیر را ادامه بده.



۱۰- فراز ۹ گچ سفید و ۳ گچ آبی دارد. فراز روی هم چند گچ دارد؟

۱۱- قبل و بعد اعداد را بنویسید. (به عدد و حروف)



۱۲- جاهای خالی را پر کنید.

پنجاه برابر است با بسته ده تایی است.

۴۰ برابر است با ده تایی و یکی.

نیاز به تلاش بیشتر

قابل قبول

خوب

خیلی خوب