

نام و نام خانوادگی:

کلاس سوم

امتحان ریاضی

مدرسری هلالی

تاریخ ۲۷، ۱۰، ۹۳

نوبت اول

حفظی

۱- یک ساختمان ۴ طبقه دارد. بالاترین طبقه ۳ واحد دارد. و هر واحد ۱۲ اتاق خواب دارد. حرکت طبقه که پایین می رویم، ۲ واحد به تعداد واحدهای طبقه ی بالا اضافه می شود.

- بالاترین طبقه چند اتاق خواب دارد؟

- پایین ترین طبقه چند اتاق خواب دارد؟

- چه الگویی بین تعداد واحدها در طبقات وجود دارد؟

- چه الگویی بین تعداد اتاق خواب های طبقات وجود دارد؟

۲- الگوهای زیر را ادامه بدهید.

۰ - ۹ - ۱۸ - ...

۱۴۵۰ - ۱۵۵۰ - ۱۶۵۰ - ...

۰ - ۱ - ۴ - ۹ - ...

۳- یک دلار شکرستان ۱۲۰۰ تومان شده است. ۴ دلار این کشور چند تومان می شود؟

۴- جاهای خالی را پر کنید.

★ ۶۷۹۰ گرم چند کیلوگرم و چند لیلوگرم است؟

★ ۸۷۴ سانتی متر ... متر ... قتر است.

★ ۵۵۰ تایی و ۱۸ یکی ۲ صد تایی و ۶ هزار تایی می شود ...

$(9 \times 5) = (\dots \times 5) + (2 \times \dots) = \dots + \dots = \dots$

$\dots \times 4 = 20$

$3 \times 2 = \dots \times 3$

$4 \times 8 = \dots$

$5 \times 8 = \dots$

$3 \times 8 = \dots$

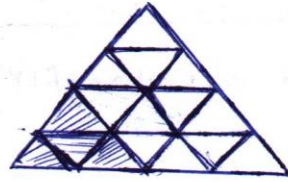


★ ۵۹۰۰ ریال ... تومان می شود.

★ ساعت ۱۷:۳۰ یعنی ... بعد از ظهر.

$(7+1) \times (3-2) = \dots \times \dots =$

$(3 \times 5) + (2 \times 6) = \dots + \dots =$

۵- کسر مربوط به هر شکل را بنویس؟



۶- قطر ۶ سانتی متر شعاع چند میلی متر است؟


۷- هر یک از مواد خواصه شده را روی محور نشان دهید.

$2 \times 4 = 4 \times 2$  \_\_\_\_\_

$7 - 2 =$  \_\_\_\_\_

$3 + 2 =$  \_\_\_\_\_

۸- داخل یک جعبه ۵ بسته ی ۶ تایی قاشق غذاخوری بود یک بسته ی ۶ تایی دیگر به آنجا اضافه می کنیم؟  
تعداد قاشق ها چند تا است.



۹- کدام زاویه زاویه راست است؟

کدام زاویه باز است؟

کدام زاویه تند است؟

۱۰- خط تقارن شکل های زیر را بکشید؟

