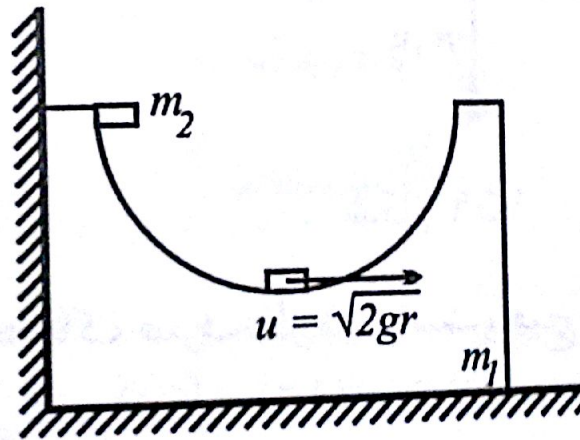


۵۵) تا هنگامی که واشر به پایین‌ترین نقطه‌ی مسیر برسد، بلوک در تماس با دیوار قرار خواهد داشت. در این لحظه، سرعت واشر (v) را می‌توان به کمک قانون بقای انرژی محاسبه نمود: $v^2 = 2gr$. در ادامه‌ی حرکت سیستم واشر از قسمت سمت راست بلوک شروع به بالا رفتن می‌کند که در طی بالا رفتن واشر، بلوک به سمت راست شتاب می‌گیرد. (شکل ۱۶۱)



شکل ۱۶۱

پس از برابر شدن سرعت واشر و بلوک، واشر شروع به پایین آمدن می‌کند و بلوک تا هنگامی که واشر به پایین‌ترین نقطه‌ی مسیر برسد، دارای شتاب مثبت خواهد بود. پس سرعت بلوک در لحظه‌ای مقدار بیشینه می‌رسد که واشر در حال عبور از

پایین‌ترین نقطه‌ی مسیر و در حال حرکت به سمت عقب نسبت به بلوک است. برای محاسبه‌ی سرعت بیشینه، بلوک، قانون بقای اندازه حرکت را برای لحظه‌ی جدا شدن بلوک از دیوار می‌نویسیم:

$$m_2 \sqrt{2gr} = m_1 v_1 + m_2 v_2$$

و قانون بقای انرژی را برای لحظه‌ای که واشر از پایین‌ترین نقطه‌ی مسیر عبور می‌کند، می‌نویسیم:

$$m_2 gr = \frac{m_1 v_1^2}{2} + \frac{m_2 v_2^2}{2}$$

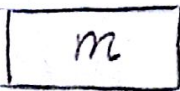
این دستگاه معادلات دو جواب دارد:

$$۱) \quad v_1 = 0, v_2 = \sqrt{2gr}$$

$$۲) \quad v_1 = \frac{2m_2}{m_1 + m_2} \sqrt{2gr}, \quad v_2 = \frac{m_2 - m_1}{m_1 + m_2} \sqrt{2gr}$$

حل (۱) مربوط به حالتی است که واشر حرکت می‌کند و بلوک ساکن است. ولی جواب موردنظر ما جواب (۲) است که سرعت ماکزیمم بلوک را می‌دهد.

$$v_{\max} = \frac{2m_2 \sqrt{2gr}}{m_1 + m_2}$$



$$K(x-y) + C(\dot{x}-\dot{y}) = F_{net}$$

$$\Rightarrow m\ddot{x} = -K(x-y) - C(\dot{x}-\dot{y})$$

$$\Rightarrow m\ddot{x} + C\dot{x} + Kx = Ky + C\dot{y}$$

$$y = y_0 \sin \omega t \Rightarrow m\ddot{x} + C\dot{x} + Kx = y_0 \{ K \sin \omega t + \omega C \cos \omega t \}$$

جواب معالجه در فرکانس بالا (بافتی) $\left(\frac{C}{2m} > \sqrt{\frac{K}{m}}\right)$

$$x(t) = A e^{\left[-\frac{C}{2m} + \sqrt{\left(\frac{C}{2m}\right)^2 - \frac{K}{m}}\right] t} + B e^{\left[-\frac{C}{2m} - \sqrt{\left(\frac{C}{2m}\right)^2 - \frac{K}{m}}\right] t}$$

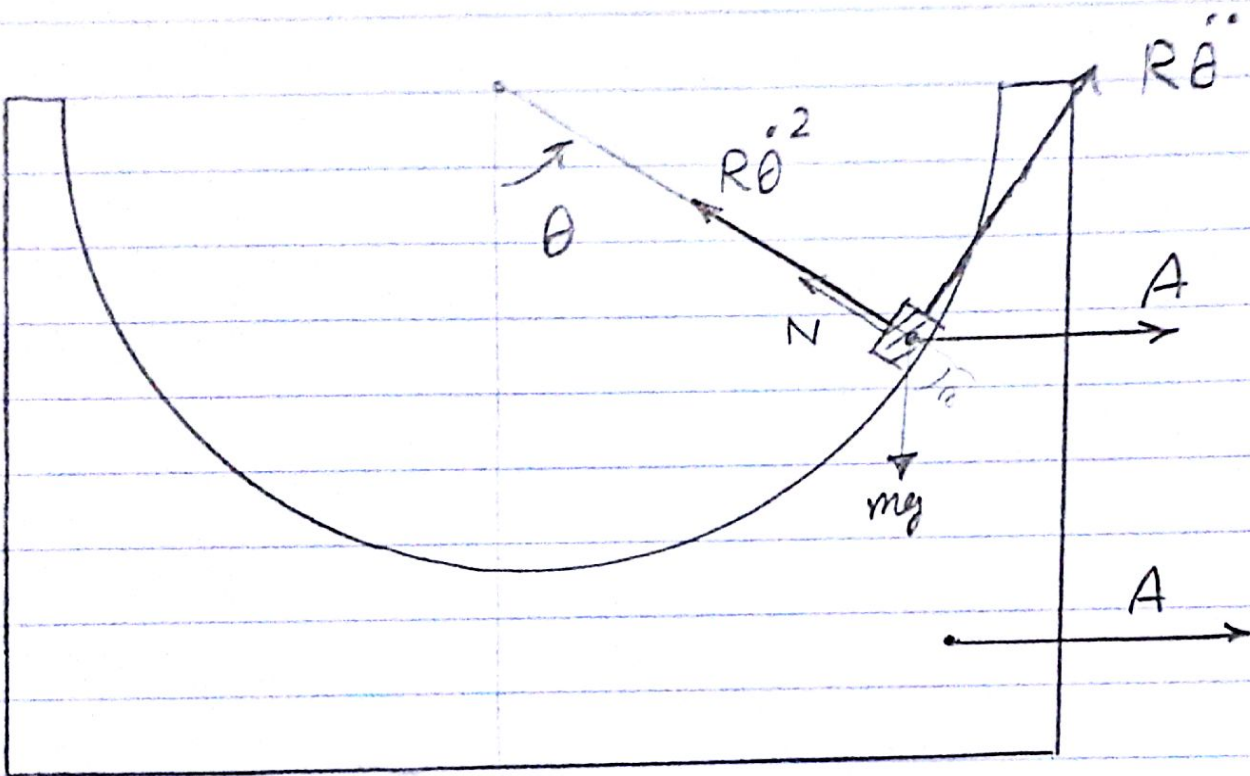
$$+ C_1 \sin \omega t + C_2 \cos \omega t$$

که ابتدا با جاگذاری جواب در معادله و برابر قرار دادن ضرایب \sin و \cos

$$C_1, C_2 \text{ را می‌توانیم با شرایط اولیه } \dot{x}(0) = 0 \text{ و } x(0) = 0$$

. B, A

30.



$$N - mg \cos \theta = m(R\dot{\theta}^2 - A \sin \theta)$$

$$-mg \sin \theta = m(R\ddot{\theta} + A \cos \theta)$$

$$N \sin \theta = M \ddot{A}$$

با حذف N و A معادله برای $\ddot{\theta}$ می آید که شامل θ ، $\dot{\theta}$ و $\ddot{\theta}$

است و با حل آن (۱) می توان θ را درست آورد