








من ..... دانش آموز پایه سوم دبستان ..... هستم.

من همراه همکلاسی هایم و با کمک آموزگارم توانستم فصل سوم کتاب ریاضی را که در مورد ..... بود تمام کنم. حالا که این فصل دوست داشتی از ریاضی را تمام کرده ایم ، می خواهم به آموزگار پرتلاشم نشان دهم که درس هایم را به خوبی یاد گرفته ام.


امیدوارم که موفق باشم.




امتیاز	متن سئوالات	ردیف
<input type="checkbox"/> خ <input type="checkbox"/> خ <input type="checkbox"/> ق <input type="checkbox"/> ن	<p>دانش آموزان کلاس سوم تصمیم گرفتند حیاط مدرسه را با استفاده از رنگ های زیبا رنگ آمیزی کنند. نیمی از آن را رنگ آبی زدند. نیم دیگر را نیز به ۴ قسمت مساوی تقسیم کردند. یک قسمت آن را قرمز و دو قسمت آن را زرد کردند. حالا جاهای خالی را کامل کنید.</p> <p>..... قسمت از ..... مساوی رنگ <b>قرمز</b> است.</p> <p>..... قسمت از ..... مساوی رنگ <b>آبی</b> است.</p> <p>..... قسمت از ..... مساوی رنگ <b>زرد</b> است.</p> <p>..... قسمت از ..... مساوی <u>باقی مانده</u> است.</p>	۱
<input type="checkbox"/> خ <input type="checkbox"/> خ <input type="checkbox"/> ق <input type="checkbox"/> ن	<p>با توجه به هر کسر شکل را به قسمت های مساوی و سپس رنگ کن.</p> <div style="display: flex; justify-content: space-around; align-items: center;"> <div style="text-align: center;">  <p><math>\frac{1}{2}</math></p> </div> <div style="text-align: center;">  <p><math>\frac{4}{8}</math></p> </div> <div style="text-align: center;">  <p><math>\frac{2}{4}</math></p> </div> </div>	۲
<input type="checkbox"/> خ <input type="checkbox"/> خ <input type="checkbox"/> ق <input type="checkbox"/> ن	<p>برای هر شکل یک کسر مناسب بنویس.</p> <div style="display: flex; justify-content: space-around; align-items: center;"> <div style="text-align: center;">  </div> <div style="text-align: center;">  </div> <div style="text-align: center;">  </div> </div>	۳

<input type="checkbox"/> خ <input type="checkbox"/> خ <input type="checkbox"/> ق <input type="checkbox"/> ن	<p>تساوی زیر را با استفاده از شکل نشان دهید.</p> $\frac{1}{2} = \frac{2}{4} = \frac{4}{8}$	۴
<input type="checkbox"/> خ <input type="checkbox"/> خ <input type="checkbox"/> ق <input type="checkbox"/> ن	<p>دایره‌ای را به شعاع ۲ سانتیمتر رسم کنید. مرکز دایره و قطر آن را مشخص کنید.</p>	۵
<input type="checkbox"/> خ <input type="checkbox"/> خ <input type="checkbox"/> ق <input type="checkbox"/> ن	<p>شکل مقابل چند زاویه دارد؟ زاویه راست آن را مشخص کنید.</p> 	۶
<input type="checkbox"/> خ <input type="checkbox"/> خ <input type="checkbox"/> ق <input type="checkbox"/> ن	<p>کسرهای زیر را مقایسه کنید.</p> <div style="display: flex; justify-content: space-around; align-items: center;"> <div style="border: 1px solid black; padding: 5px; text-align: center;"> <math>\frac{4}{6} \bigcirc \frac{2}{6}</math> </div> <div style="border: 1px solid black; padding: 5px; text-align: center;"> <math>\frac{5}{7} \bigcirc \frac{5}{9}</math> </div> <div style="border: 1px solid black; padding: 5px; text-align: center;"> <math>\frac{6}{8} \bigcirc \frac{6}{9}</math> </div> <div style="border: 1px solid black; padding: 5px; text-align: center;"> <math>\frac{5}{5} \bigcirc ۱</math> </div> <div style="border: 1px solid black; padding: 5px; text-align: center;"> <math>\frac{2}{3} \bigcirc ۱</math> </div> </div>	۷


وریا نوروژی  
سرگروه پایه سوم زیویه




خوب:



خیلی خوب:



نیاز به تلاش و آموزش بیشتر:



قابل قبول:

خود ارزیابی:

---

نظر اولیا:

---

نظر معلم:

---